





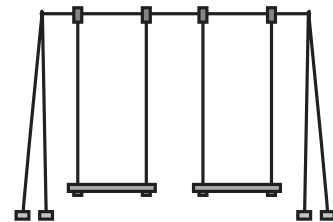

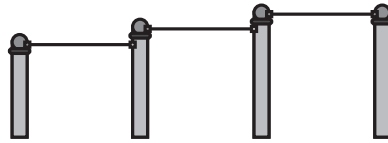
# おうちで、やろう。

Study at home. 小学校受験の家庭学習教材

## 指示の聞き取り 15

お話を聞いてキツネが公園で行った場所を順番通りに線で結びます。結ぶときはキツネからスタートしましょう。  
また、お話を聞くとときは素敵な姿勢ですべて聞いたあとに問題に答えます。

今日、キツネはひまわり公園で遊ぶことにしました。最初にシーソーをしました。1人だとつまらないのでブランコをすることにしました。ブランコの次は鉄棒をしました。たくさん遊んで疲れたので家に帰ることにしました。



※1. このプリントは、しながわ・目黒こどもスクールのウェブサイトでダウンロードができます。無断複写・引用はご遠慮ください。  
※2. このプリントを活用したオンライン授業のスケジュールは、しながわ・目黒こどもスクールのウェブサイトでご確認ください。







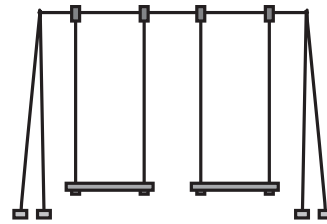

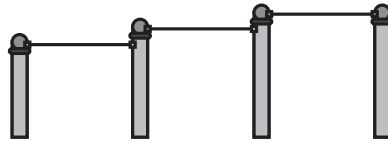
# おうちで、やろう。

Study at home. 小学校受験の家庭学習教材

## 指示の聞き取り 16

お話を聞いてキツネが公園で行った場所を順番通りに線で結びます。結ぶときはキツネからスタートしましょう。  
また、お話を聞くとときは素敵な姿勢ですべて聞いたあとに問題に答えます。

今日、キツネはひまわり公園で遊ぶことにしました。最初にブランコをしました。ブランコをしていると目の前にすべり台が見えたのですべり台をすることにしました。すべり台をしていたらお腹がすいたのでベンチで休むことにしました。



※1. このプリントは、しながわ・目黒こどもスクールのウェブサイトでダウンロードができます。無断複写・引用はご遠慮ください。  
※2. このプリントを活用したオンライン授業のスケジュールは、しながわ・目黒こどもスクールのウェブサイトでご確認ください。

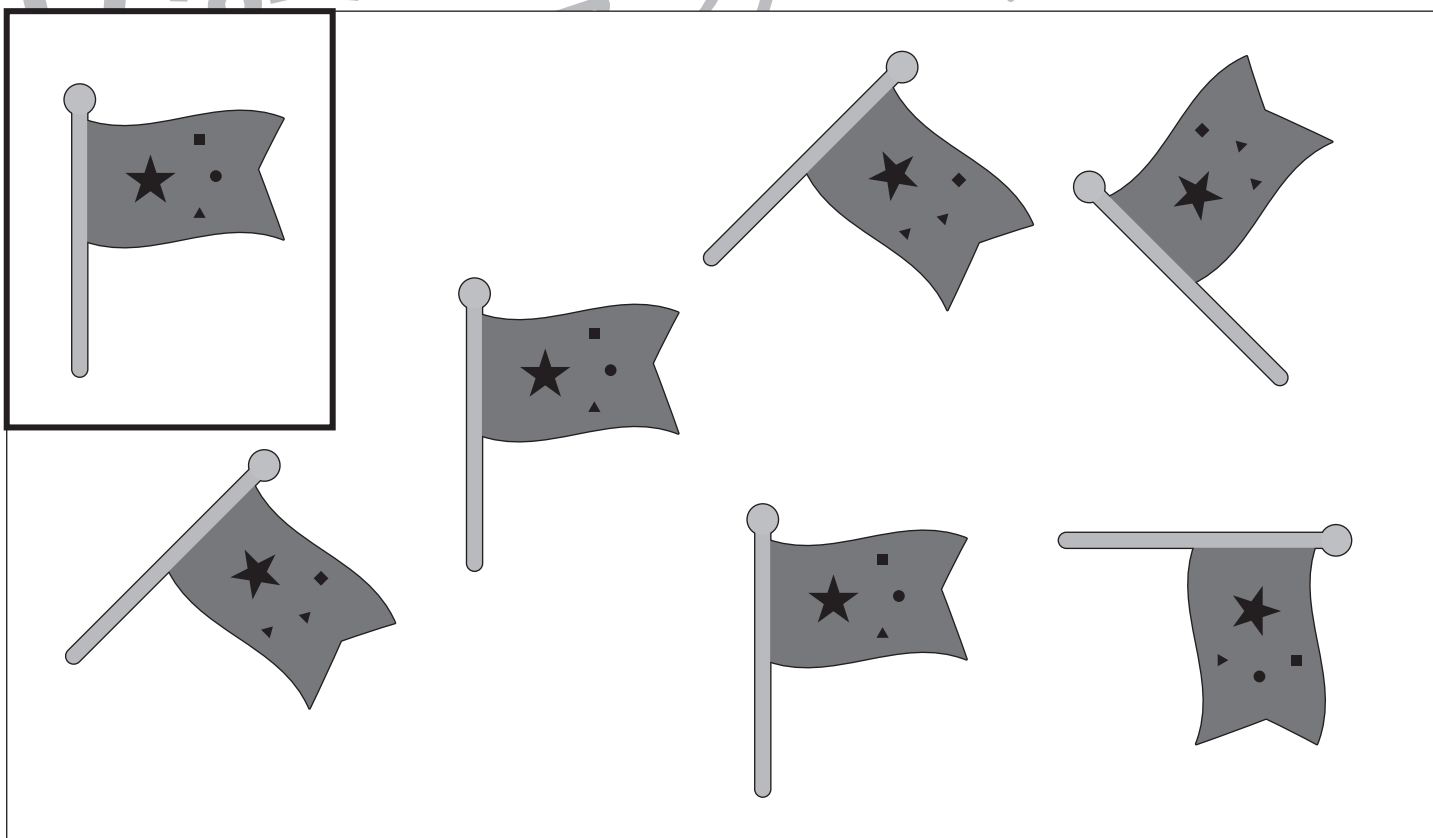



# おうちで、やろう。

Study at home. 小学校受験の家庭学習教材

図形：同図形8

左上の太い四角の中がお手本です。このお手本と同じ形を四角の中から見つけて○をつけます。  
四角の中の形は回転をさせても良いですが裏返してはいけません。



※1. このプリントは、しながわ・目黒こどもスクールのウェブサイトでダウンロードができます。無断複写・引用はご遠慮ください。  
 ※2. このプリントを活用したオンライン授業のスケジュールは、しながわ・目黒こどもスクールのウェブサイトでご確認ください。


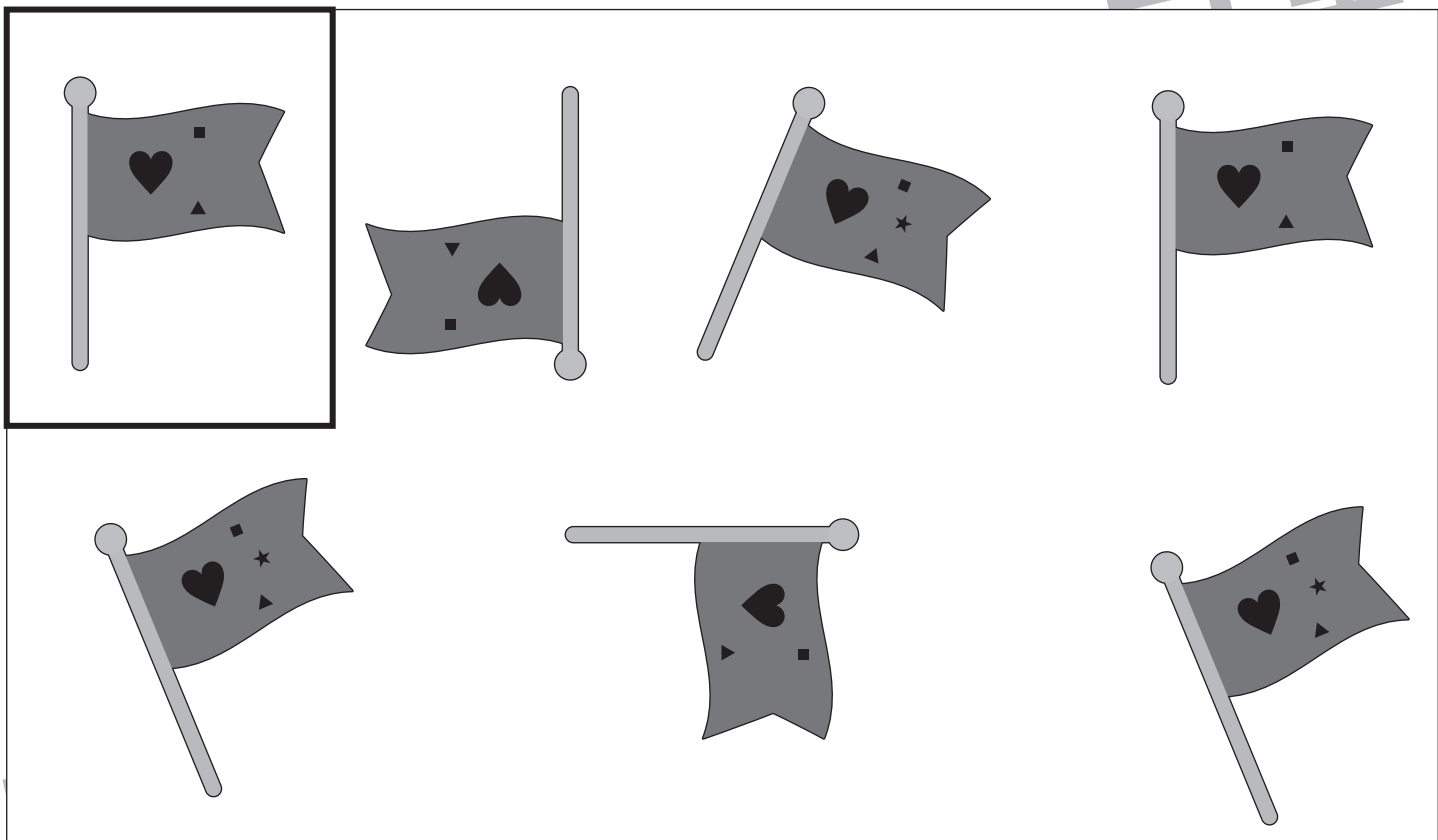


# おうちで、やろう。

Study at home. 小学校受験の家庭学習教材

図形：同図形9

左 上の太い四角の中がお手本です。このお手本と同じ形を四角の中から見つけて○をつけます。  
四角の中の形は回転をさせても良いですが裏返してはいけません。



※1. このプリントは、しながわ・目黒こどもスクールのウェブサイトでダウンロードができます。無断複写・引用はご遠慮ください。  
 ※2. このプリントを活用したオンライン授業のスケジュールは、しながわ・目黒こどもスクールのウェブサイトでご確認ください。



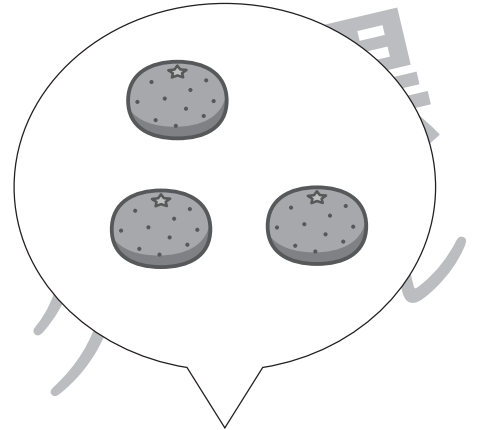




# おうちで、やろう。

Study at home. 小学校受験の家庭学習教材

数量：加減 14

動物が吹きだしの中の果物の数だけ、太い四角の中の果物を食べたら、太い四角の中の果物はそれぞれいくつずつになりますか。その数だけ下のそれぞれの果物の四角に○をかきます。







※1. このプリントは、しながわ・目黒こどもスクールのウェブサイトからダウンロードができます。無断複写・引用はご遠慮ください。  
※2. このプリントを活用したオンライン授業のスケジュールは、しながわ・目黒こどもスクールのウェブサイトでご確認ください。







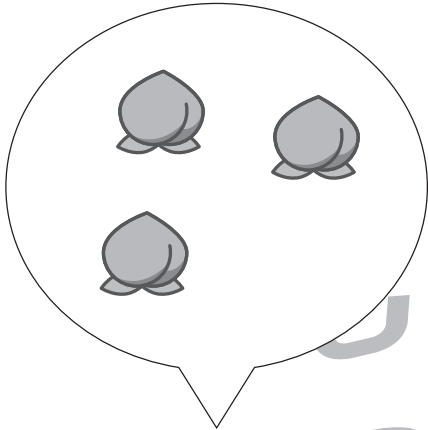





# おうちで、やろう。

Study at home. 小学校受験の家庭学習教材

数量：計数 15

動物が吹きだしの中の果物の数だけ、太い四角の中の果物を食べたら、太い四角の中の果物はそれぞれいくつずつになりますか。その数だけ下のそれぞれの果物の四角に○をかきます。



※1. このプリントは、しながわ・目黒こどもスクールのウェブサイトでダウンロードができます。無断複写・引用はご遠慮ください。  
※2. このプリントを活用したオンライン授業のスケジュールは、しながわ・目黒こどもスクールのウェブサイトでご確認ください。




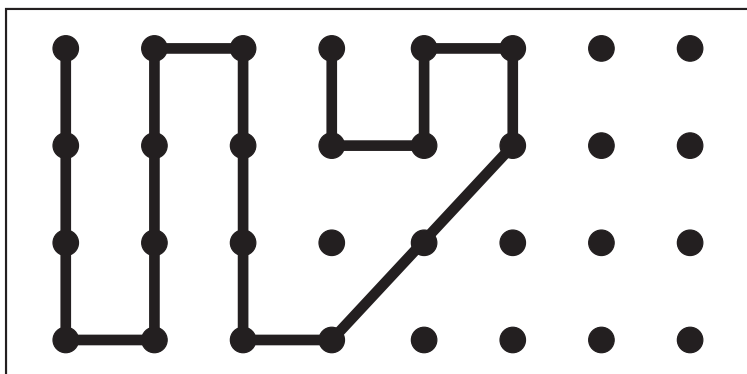

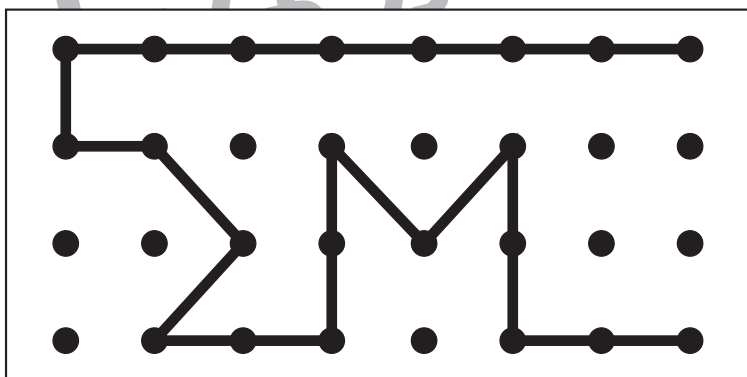

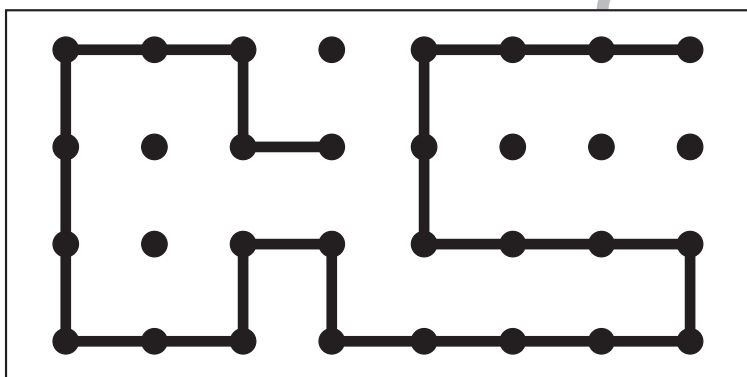

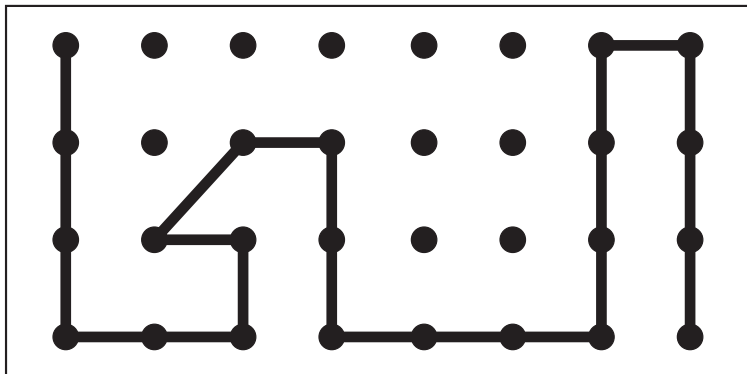


# おうちで、よろう。

Study at home. 小学校受験の家庭学習教材

## 図形：点図形 16

左のお手本と同じになるように右の四角に線をかきます。 ※このプリントに解答はありません。



※1. このプリントは、しながわ・目黒こどもスクールのウェブサイトでダウンロードができます。無断複写・引用はご遠慮ください。  
※2. このプリントを活用したオンライン授業のスケジュールは、しながわ・目黒こどもスクールのウェブサイトでご確認ください。


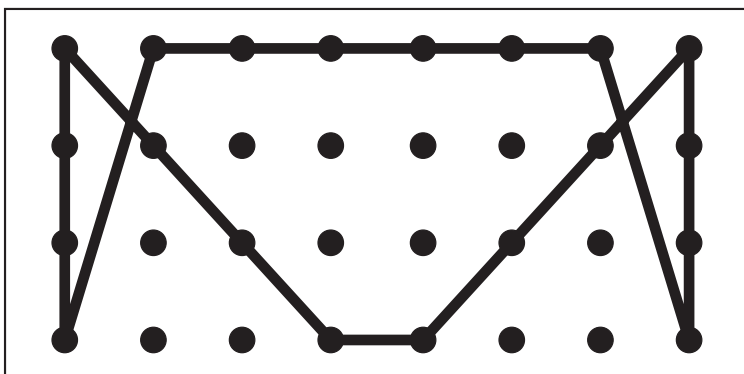

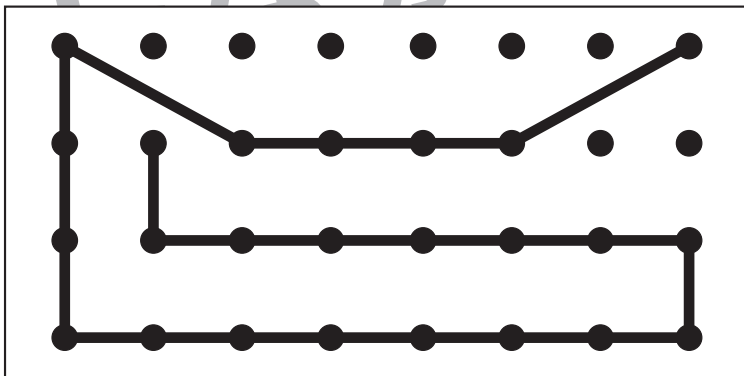

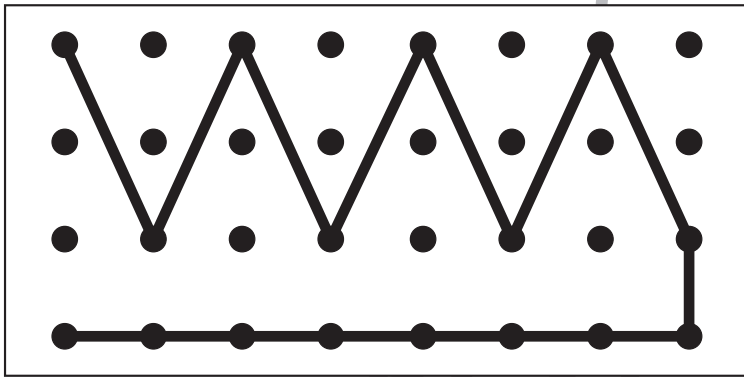

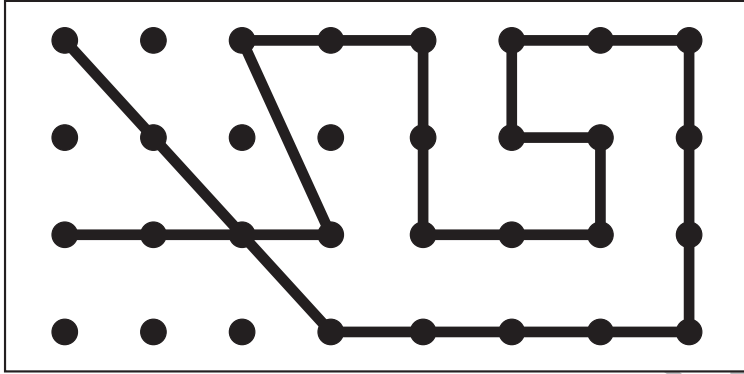


# おうちで、やろう。

Study at home. 小学校受験の家庭学習教材

## 図形：点図形 17

左のお手本と同じになるように右の四角に線をかきます。 ※このプリントに解答はありません。



※1. このプリントは、しながわ・目黒こどもスクールのウェブサイトでダウンロードができます。無断複写・引用はご遠慮ください。  
※2. このプリントを活用したオンライン授業のスケジュールは、しながわ・目黒こどもスクールのウェブサイトでご確認ください。







# おうちで、やろう。

Study at home. 小学校受験の家庭学習教材

絵画：条件画9

公園で友だちと遊んでいる絵をかきます。

描いたあとはどんな絵なのか、お家の人に話してみましょう。(どんな遊びをしているのか、誰を描いたのか、場所など)

※用紙の向きは縦向きでも横向きでもかまいません。※このプリントに解答はありません。

※1. このプリントは、しながわ・目黒こどもスクールのウェブサイトダウンロードができます。無断複写・引用はご遠慮ください。

※2. このプリントを活用したオンライン授業のスケジュールは、しながわ・目黒こどもスクールのウェブサイトでご確認ください。



# おうちで、やろう。

Study at home. 小学校受験の家庭学習教材

絵画：条件画 10

家でお手伝いをしている絵をかきます。

描いたあとはどんな絵なのか、お家の人に話してみましょう。(どんなお手伝いをしているのか、誰を描いたのか、場所など)

※用紙の向きは縦向きでも横向きでもかまいません。※このプリントに解答はありません。

※1. このプリントは、しながわ・目黒こどもスクールのウェブサイトダウンロードができます。無断複写・引用はご遠慮ください。

※2. このプリントを活用したオンライン授業のスケジュールは、しながわ・目黒こどもスクールのウェブサイトでご確認ください。