





おうちで、やろう。

Study at home. 小学校受験の家庭学習教材

言語：数え方5

太い四角の絵と同じ数え方をするものを、四角の中から選んで○をつけます。



※1. このプリントは、しながわ・目黒こどもスクールのウェブサイトでダウンロードができます。無断複写・引用はご遠慮ください。
※2. このプリントを活用したオンライン授業のスケジュールは、しながわ・目黒こどもスクールのウェブサイトでご確認ください。



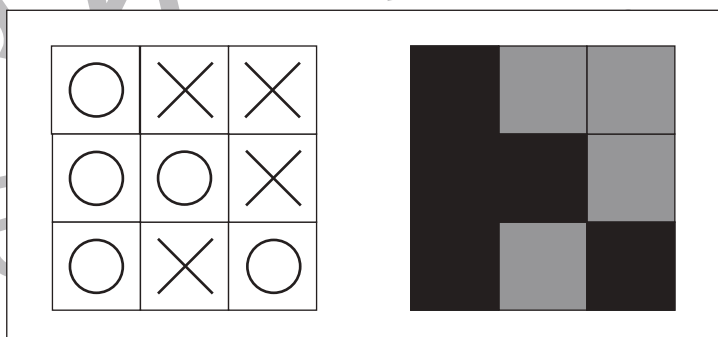
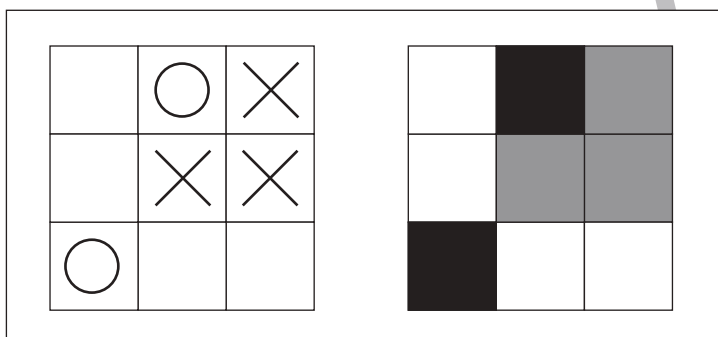
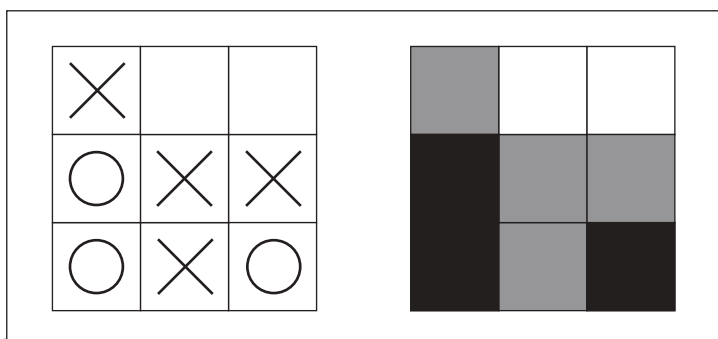
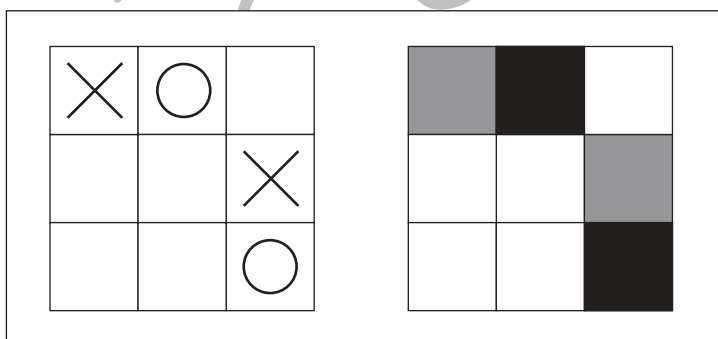
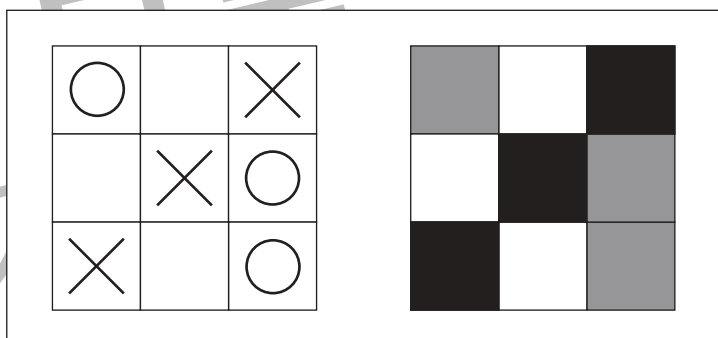
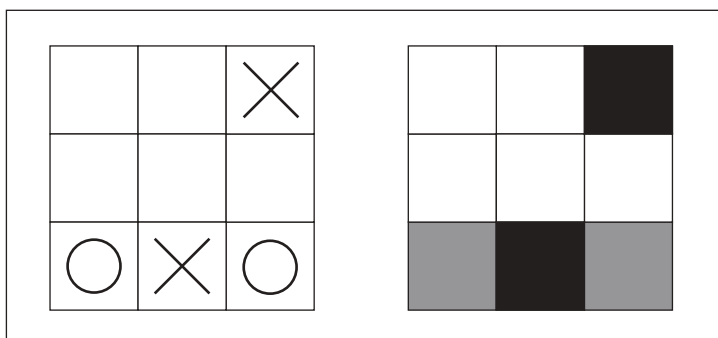
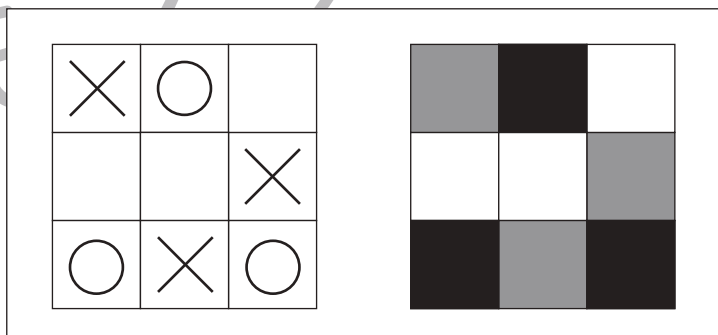
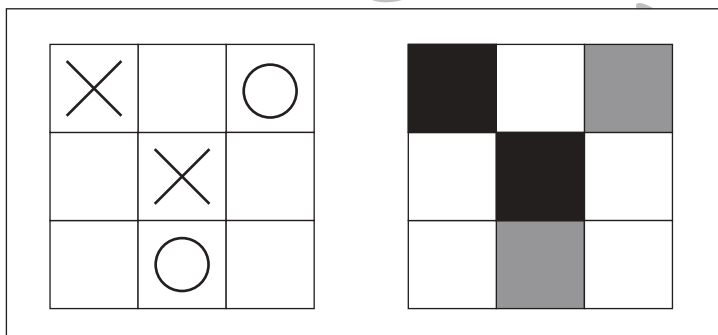
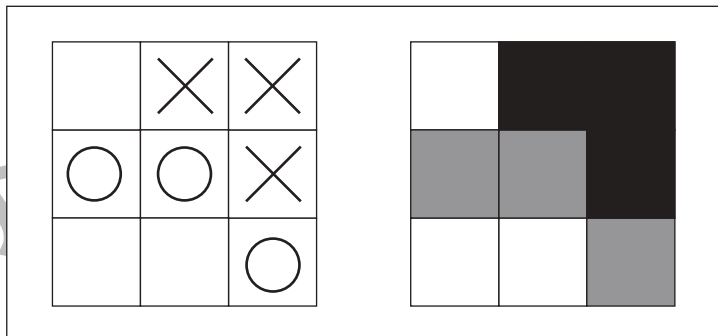
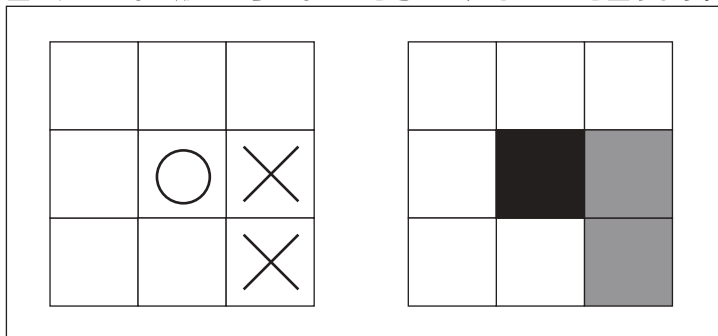


おうちで、やろう。

Study at home. 小学校受験の家庭学習教材

図形：置き換え 4

左の四角がお手本です。右の四角はお手本の○か×のどちらかの場所を灰色に塗っています。塗られていない形がどちらなのかを考えて、そのマス塗ります。



※1. このプリントは、しながわ・目黒こどもスクールのウェブサイトからダウンロードできます。無断複写・引用はご遠慮ください。
※2. このプリントを活用したオンライン授業のスケジュールは、しながわ・目黒こどもスクールのウェブサイトでご確認ください。

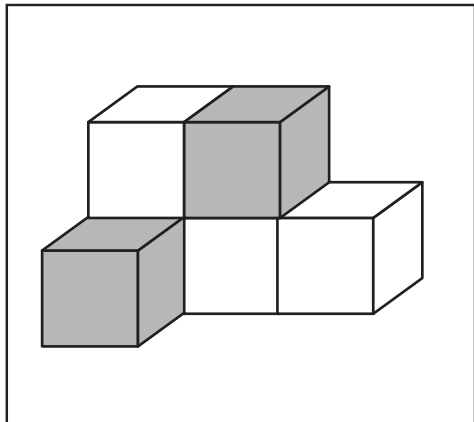


おうちで、やろう。

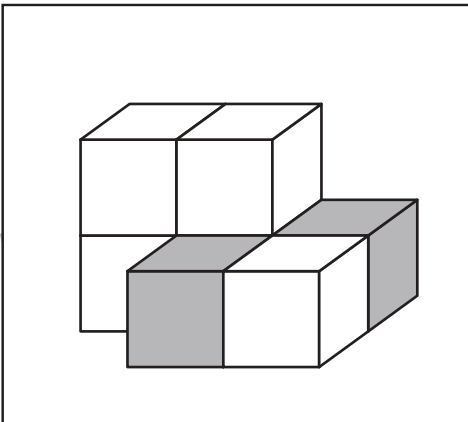
Study at home. 小学校受験の家庭学習教材

推理：積み木 13

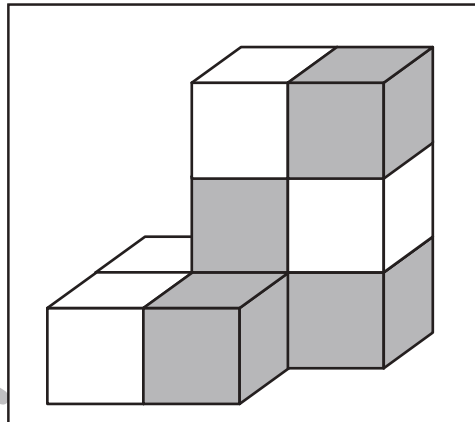
白い積み木の数だけ、すぐ下の四角に○をかきます。
見えていない積み木は全て白色です。



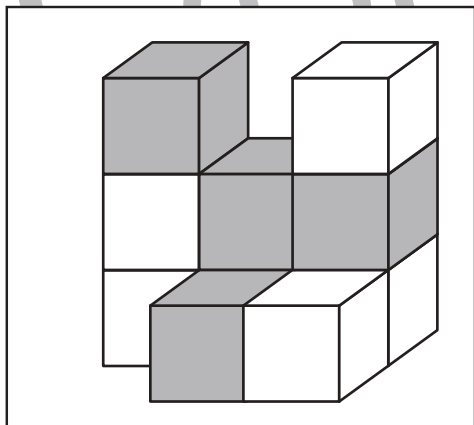
○ × 4



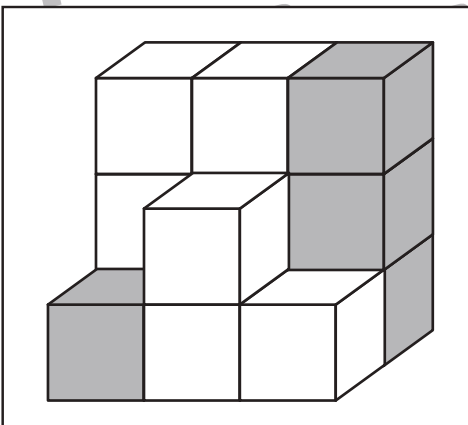
○ × 5



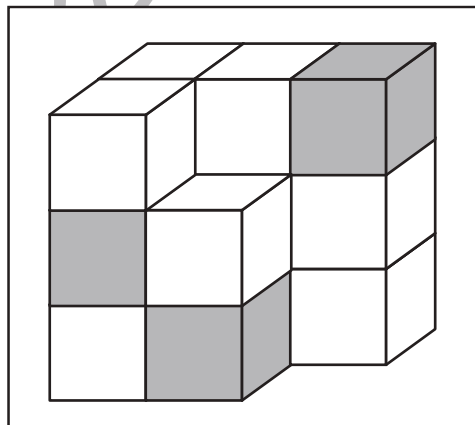
○ × 5



○ × 6



○ × 9



○ × 11

※1. このプリントは、しながわ・目黒こどもスクールのウェブサイトでダウンロードができます。無断複写・引用はご遠慮ください。
※2. このプリントを活用したオンライン授業のスケジュールは、しながわ・目黒こどもスクールのウェブサイトでご確認ください。



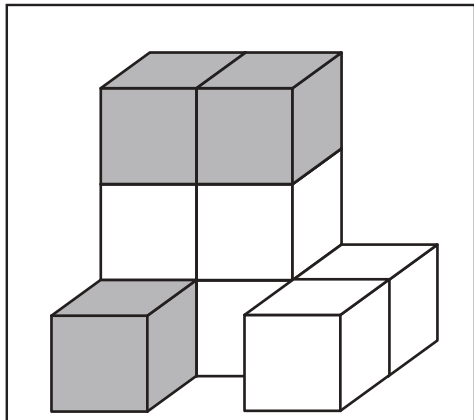


おうちで、やろう。

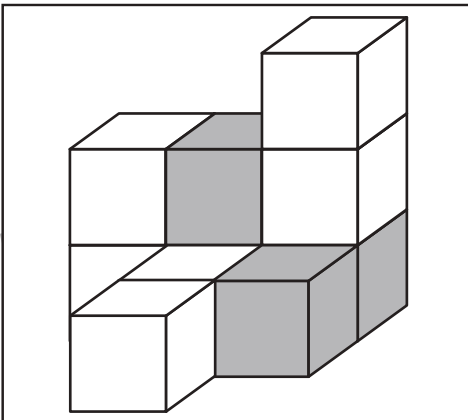
Study at home. 小学校受験の家庭学習教材

推理：積み木 14

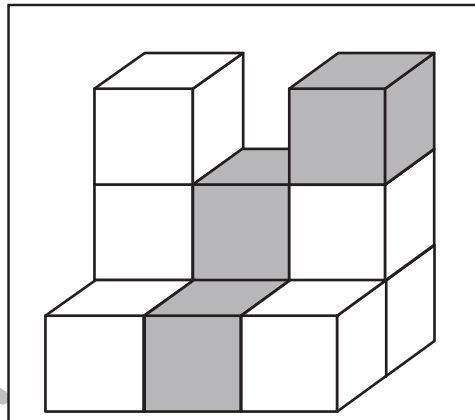
白い積み木の数だけ、すぐ下の四角に○をかきます。
見えていない積み木は全て白色です。



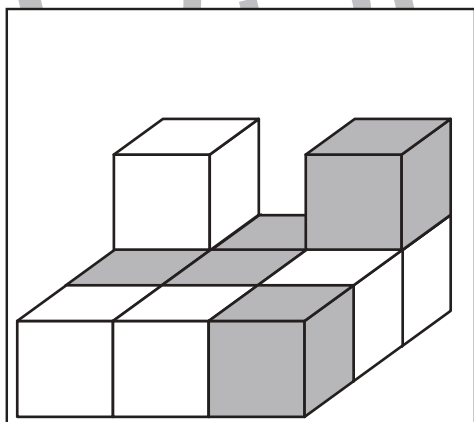
○ × 6



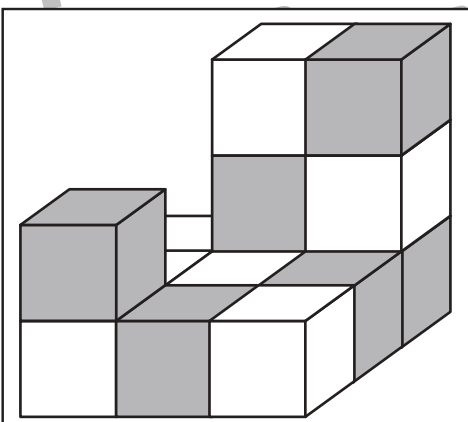
○ × 7



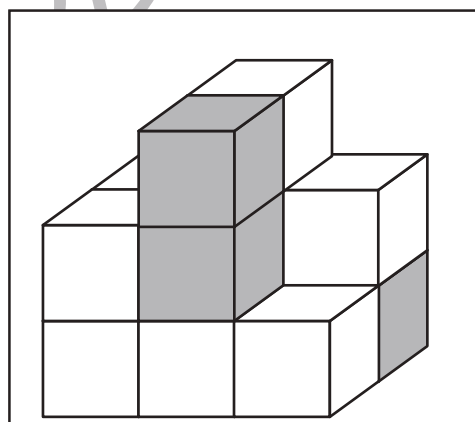
○ × 8



○ × 6



○ × 8



○ × 10

※1. このプリントは、しながわ・目黒こどもスクールのウェブサイトでダウンロードができます。無断複写・引用はご遠慮ください。
※2. このプリントを活用したオンライン授業のスケジュールは、しながわ・目黒こどもスクールのウェブサイトでご確認ください。

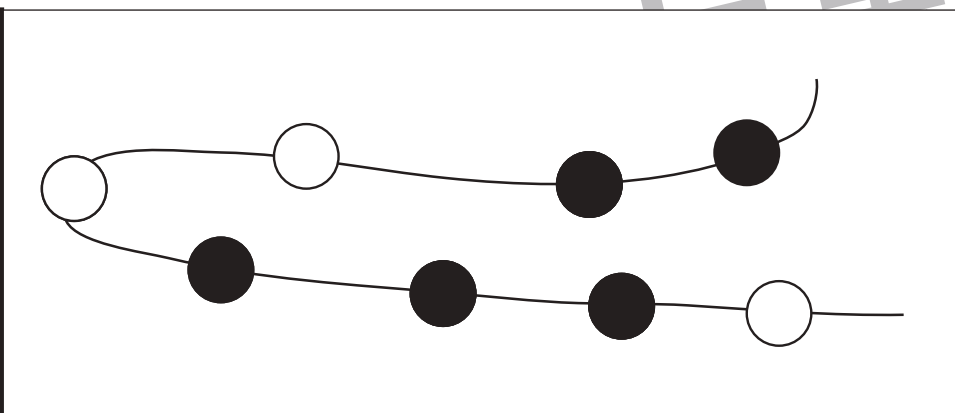
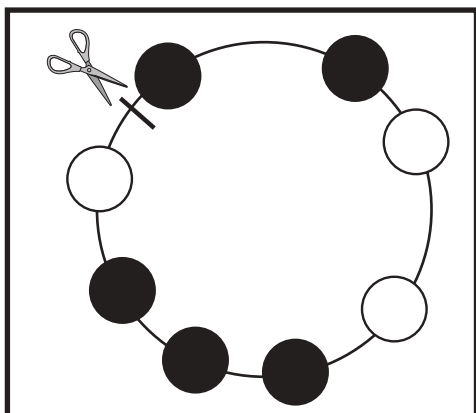
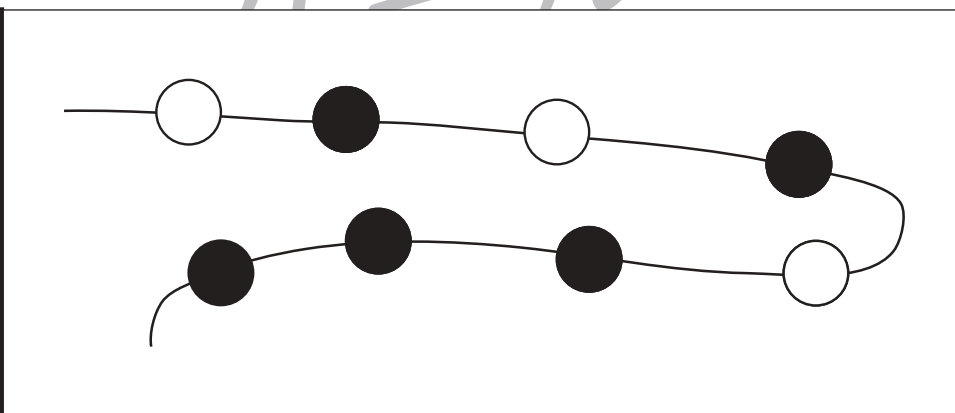

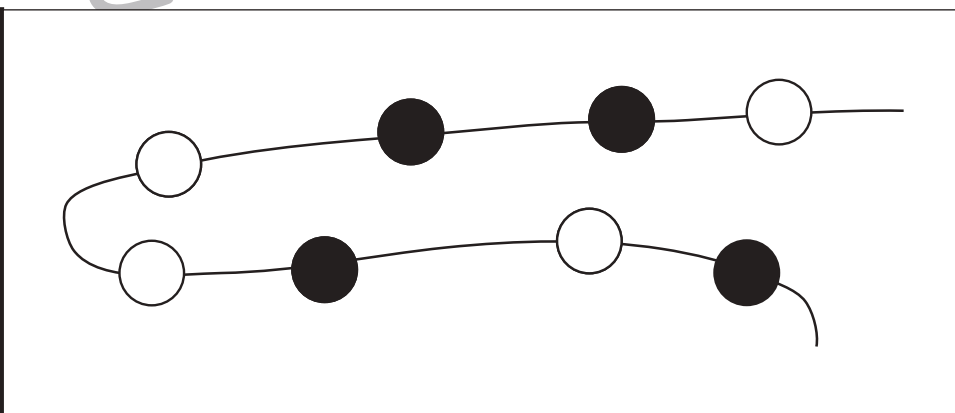
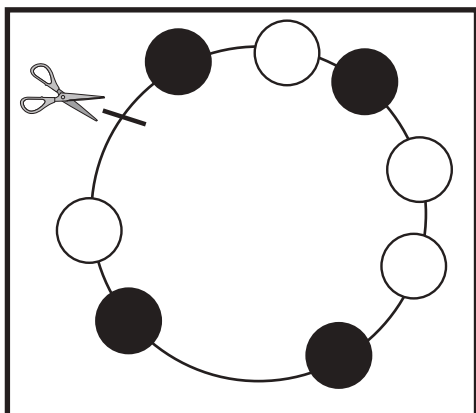
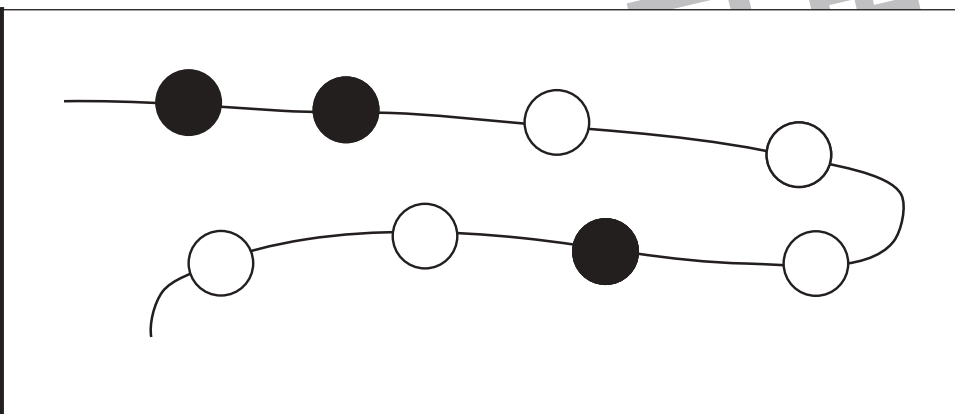
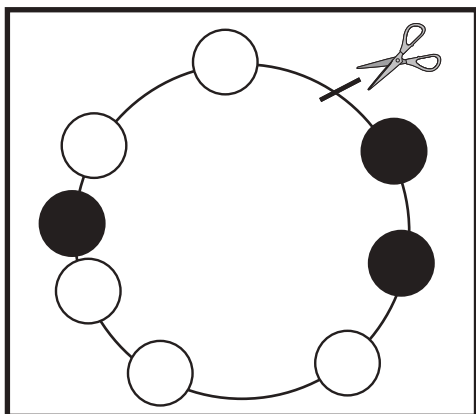


おうちで、やろう。

Study at home. 小学校受験の家庭学習教材

推理：輪つなぎ4

左の四角の中は白と黒のビーズでできたプレスレットです。このプレスレットを線の場所ではさみで切りました。切ったあと、右のように並べたとき、黒いビーズはどこになりますか。黒いビーズの場所を塗ります。



※1. このプリントは、しながわ・目黒こどもスクールのウェブサイトでダウンロードができます。無断複写・引用はご遠慮ください。

※2. このプリントを活用したオンライン授業のスケジュールは、しながわ・目黒こどもスクールのウェブサイトでご確認ください。



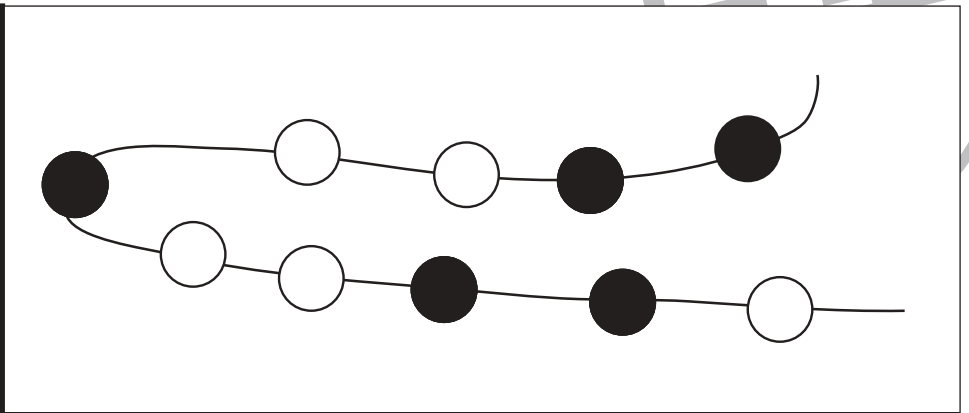
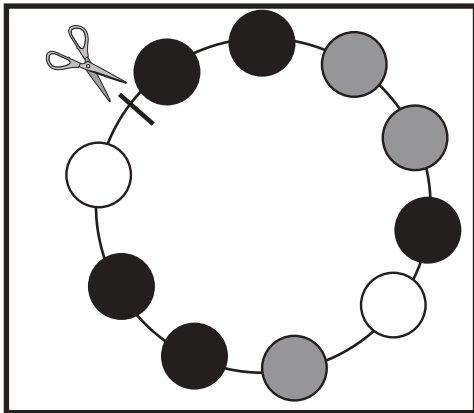
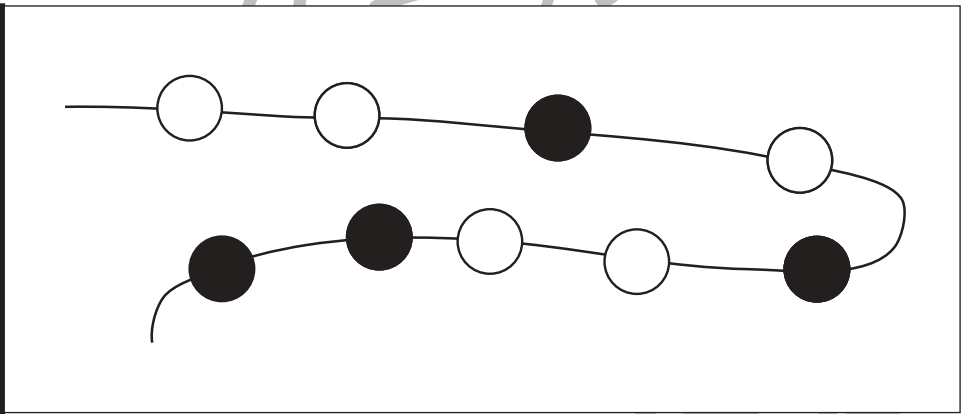
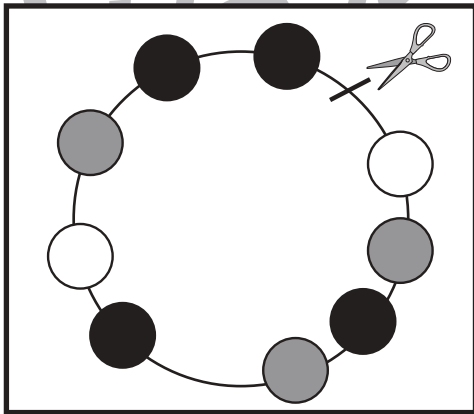
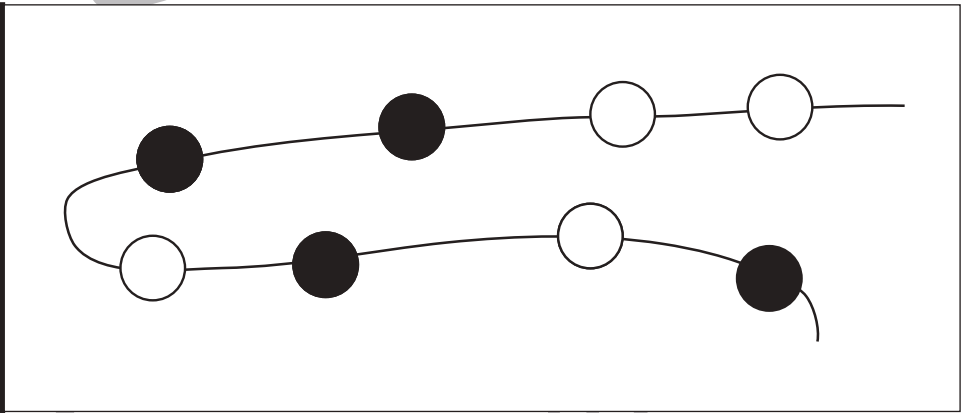
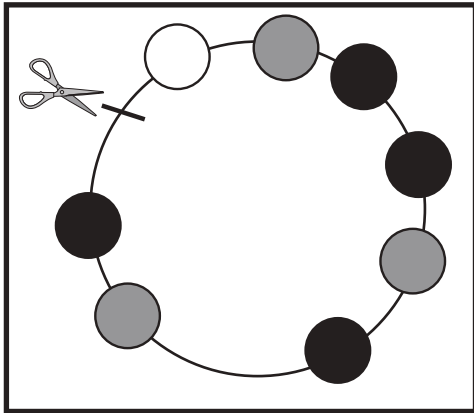
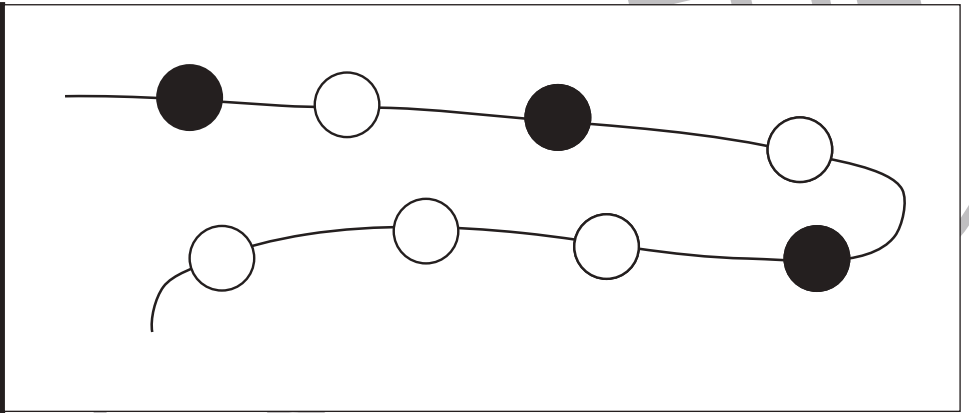
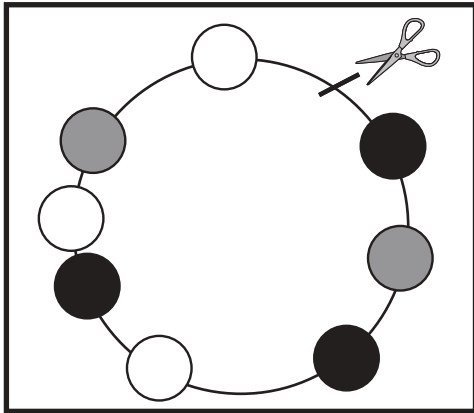


おうちで、やろう。

Study at home. 小学校受験の家庭学習教材

推理：輪つなぎ5

左の四角の中は白と黒のビーズでできたプレスレットです。このプレスレットを線の場所ではさみで切りました。切ったあと、右のように並べたとき、黒いビーズはどこになりますか。黒いビーズの場所を塗ります。灰色のビーズの場所は塗りません。



※1. このプリントは、しながわ・目黒こどもスクールのウェブサイトでダウンロードができます。無断複写・引用はご遠慮ください。

※2. このプリントを活用したオンライン授業のスケジュールは、しながわ・目黒こどもスクールのウェブサイトでご確認ください。





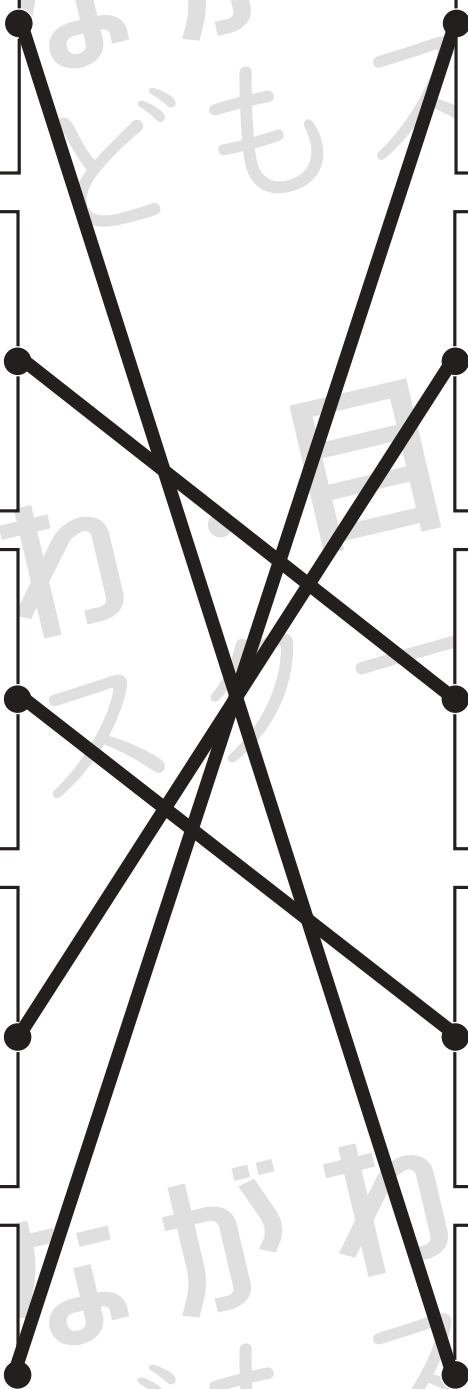










おうちで、やろう。

Study at home. 小学校受験の家庭学習教材

数量：合わせた数 10

上の黒い星の数がお手本の数です。

左の白い星と右の灰色の星を合わせると黒い星の数になる組み合わせを考えて点を点を結びます。



※1. このプリントは、しながわ・目黒こどもスクールのウェブサイトでダウンロードができます。無断複写・引用はご遠慮ください。

※2. このプリントを活用したオンライン授業のスケジュールは、しながわ・目黒こどもスクールのウェブサイトでご確認ください。





おうちで、やろう。

Study at home. 小学校受験の家庭学習教材

数量：合わせた数 11

上の黒い星の数がお手本の数です。

左の白い星と右の灰色の星を合わせると黒い星の数になる組み合わせを考えて点を点を結びます。



The matching exercise consists of 10 boxes arranged in two columns of five. The left column contains boxes with the following number of white stars: 3, 2, 8, 6, and 5. The right column contains boxes with the following number of grey stars: 10, 5, 3, 7, and 4. Lines connect the boxes to match the total number of stars to 11. The connections are: 3 white stars + 8 grey stars = 11; 2 white stars + 9 grey stars = 11; 8 white stars + 3 grey stars = 11; 6 white stars + 5 grey stars = 11; 5 white stars + 6 grey stars = 11.

※1. このプリントは、しながわ・目黒こどもスクールのウェブサイトでダウンロードができます。無断複写・引用はご遠慮ください。

※2. このプリントを活用したオンライン授業のスケジュールは、しながわ・目黒こどもスクールのウェブサイトでご確認ください。