



おうちで、やろう。

Study at home. 小学校受験の家庭学習教材

図形：回転 22

左の四角がお手本です。矢印の方向に一回倒したときの見え方を考えて、右の四角の絵に○をつけます。

この練習は、お花とお虫のイラストを回転させて、正しい向きを選ばせるものです。左の四角はお手本のイラスト、右の四角は回転させたイラストのセットです。矢印は回転の方向を示しています。

お花の練習:

- お手本: 花が上向き、葉が左右にある。
- 練習1: 花が左向き、葉が上下にある。
- 練習2: 花が右向き、葉が上下にある。

お虫の練習:

- お手本: 虫が上向き、脚が左右にある。
- 練習1: 虫が左向き、脚が上下にある。
- 練習2: 虫が右向き、脚が上下にある。

※1. このプリントは、しながわ・目黒こどもスクールのウェブサイトでダウンロードができます。無断複写・引用はご遠慮ください。
 ※2. このプリントを活用したオンライン授業のスケジュールは、しながわ・目黒こどもスクールのウェブサイトでご確認ください。





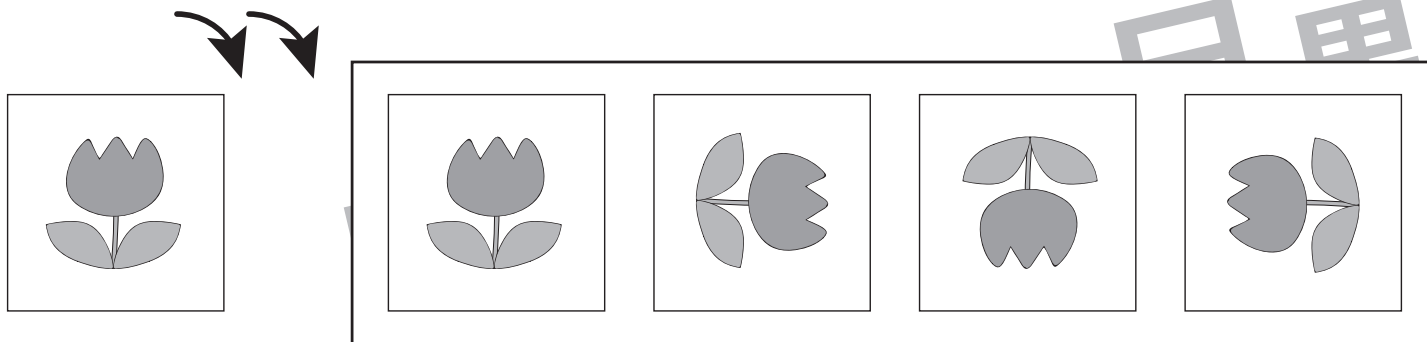


おうちで、やろう。

Study at home. 小学校受験の家庭学習教材

図形：回転23

左の四角がお手本です。矢印の方向に2回倒したときの見え方を考えて、右の四角の絵に○をつけます。



※1. このプリントは、しながわ・目黒こどもスクールのウェブサイトでダウンロードができます。無断複写・引用はご遠慮ください。
 ※2. このプリントを活用したオンライン授業のスケジュールは、しながわ・目黒こどもスクールのウェブサイトでご確認ください。



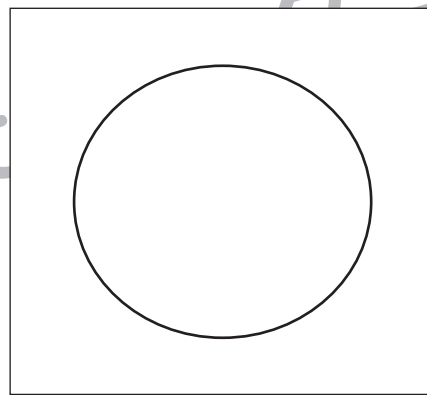
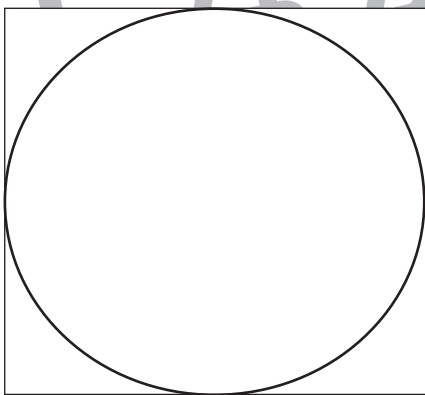






おうちで、やろう。

Study at home. 小学校受験の家庭学習教材

図形：重ね 20

左の透明な 2 枚の板を重ねた時の見え方を考えて、右の四角にかきます。



※1. このプリントは、しながわ・目黒こどもスクールのウェブサイトからダウンロードできます。無断複写・引用はご遠慮ください。
※2. このプリントを活用したオンライン授業のスケジュールは、しながわ・目黒こどもスクールのウェブサイトでご確認ください。

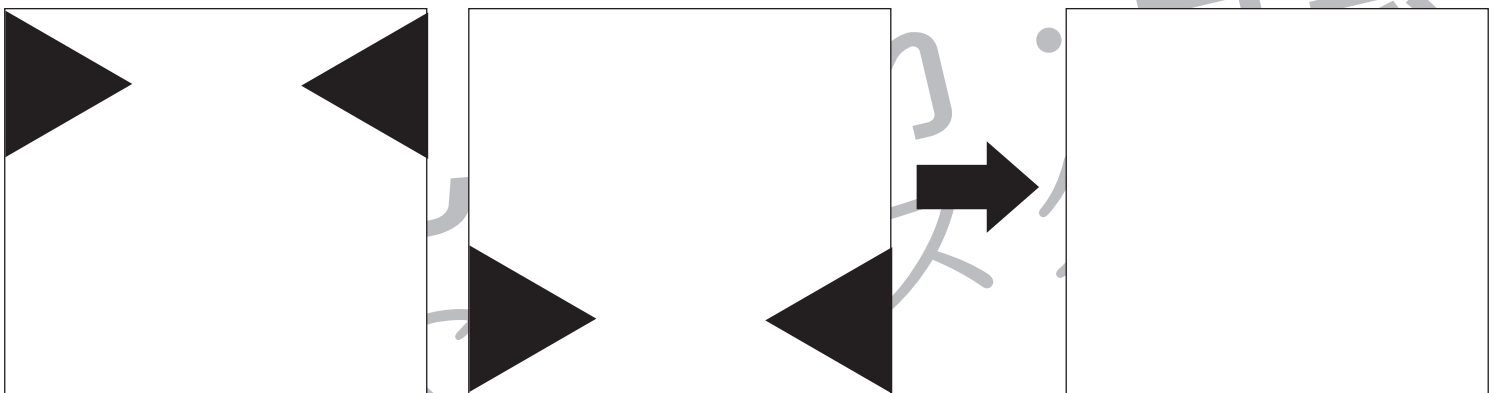


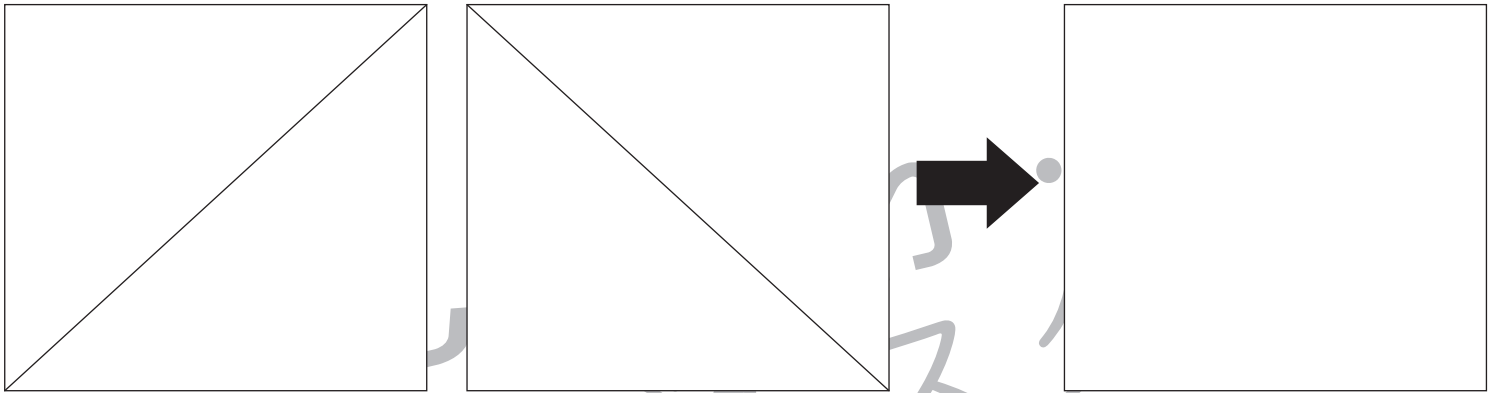


おうちで、やろう。

Study at home. 小学校受験の家庭学習教材

図形：重ね 21

左の透明な 2 枚の板を重ねた時の見え方を考えて、右の四角にかきます。



※1. このプリントは、しながわ・目黒こどもスクールのウェブサイトからダウンロードできます。無断複写・引用はご遠慮ください。
 ※2. このプリントを活用したオンライン授業のスケジュールは、しながわ・目黒こどもスクールのウェブサイトでご確認ください。



おうちで、やろう。

Study at home. 小学校受験の家庭学習教材

推理：じゃんけん 11

お友だちとあなたがじゃんけんをして、あなたが吹き出しの中の手を出して勝ちました。
このとき、お友だちが出した手を考えて点線の中の手に○をつけます。

Illustration of a girl with a speech bubble showing an open hand. To her right is a dashed box containing three hand gestures: a rock, a paper, and a scissors.

Illustration of a boy with a speech bubble showing a rock. To his right is a dashed box containing three hand gestures: a rock, a paper, and a scissors.

Illustration of a girl with a speech bubble showing a paper. To her right is a dashed box containing three hand gestures: a rock, a paper, and a scissors.

Illustration of a boy with a speech bubble showing an open hand. To his right is a dashed box containing three hand gestures: a rock, a paper, and a scissors.

Illustration of a girl with a speech bubble showing a scissors. To her right is a dashed box containing three hand gestures: a rock, a paper, and a scissors.

Illustration of a boy with a speech bubble showing a paper. To his right is a dashed box containing three hand gestures: a rock, a paper, and a scissors.

Illustration of a boy with a speech bubble showing a rock. To his right is a dashed box containing three hand gestures: a rock, a paper, and a scissors.

Illustration of a girl with a speech bubble showing a rock. To her right is a dashed box containing three hand gestures: a rock, a paper, and a scissors.

※1. このプリントは、しながわ・目黒こどもスクールのウェブサイトでダウンロードができます。無断複写・引用はご遠慮ください。
 ※2. このプリントを活用したオンライン授業のスケジュールは、しながわ・目黒こどもスクールのウェブサイトでご確認ください。



おうちで、やろう。

Study at home. 小学校受験の家庭学習教材

推理：じゃんけん 12

左のお友だち 2 人とあなたがじゃんけんをして勝ちました。
このとき、あなたが出した手を考えて点線の中の手に○をつけます。

Illustration of a boy and a girl. Above them are speech bubbles showing a rock hand (1) and a rock hand (1). To the right, a dashed box contains three hand options: rock (1), paper (2), and scissors (3).

Illustration of a girl and a boy. Above them are speech bubbles showing a paper hand (2) and a rock hand (1). To the right, a dashed box contains three hand options: rock (1), paper (2), and scissors (3).

Illustration of a girl and a girl. Above them are speech bubbles showing a scissors hand (3) and a scissors hand (3). To the right, a dashed box contains three hand options: rock (1), paper (2), and scissors (3).

Illustration of a girl and a boy. Above them are speech bubbles showing a scissors hand (3) and a paper hand (2). To the right, a dashed box contains three hand options: rock (1), paper (2), and scissors (3).

※1. このプリントは、しながわ・目黒こどもスクールのウェブサイトでダウンロードができます。無断複写・引用はご遠慮ください。
 ※2. このプリントを活用したオンライン授業のスケジュールは、しながわ・目黒こどもスクールのウェブサイトでご確認ください。


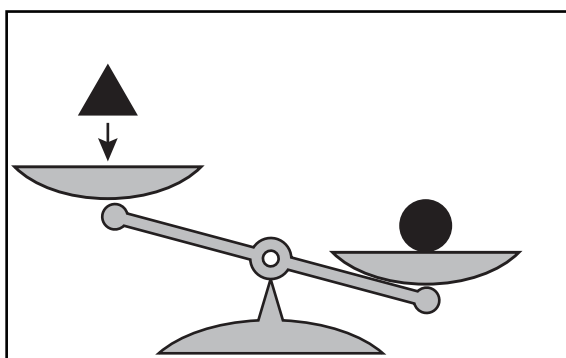



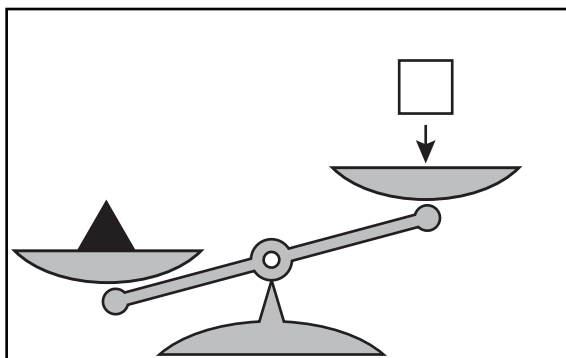

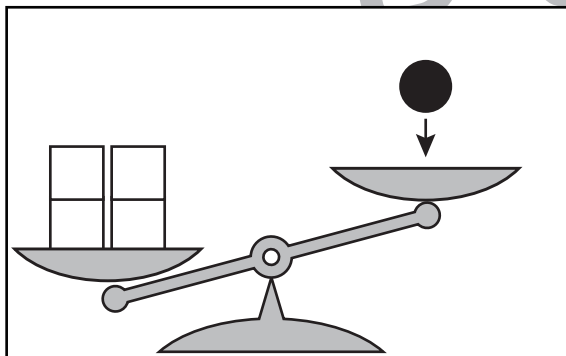
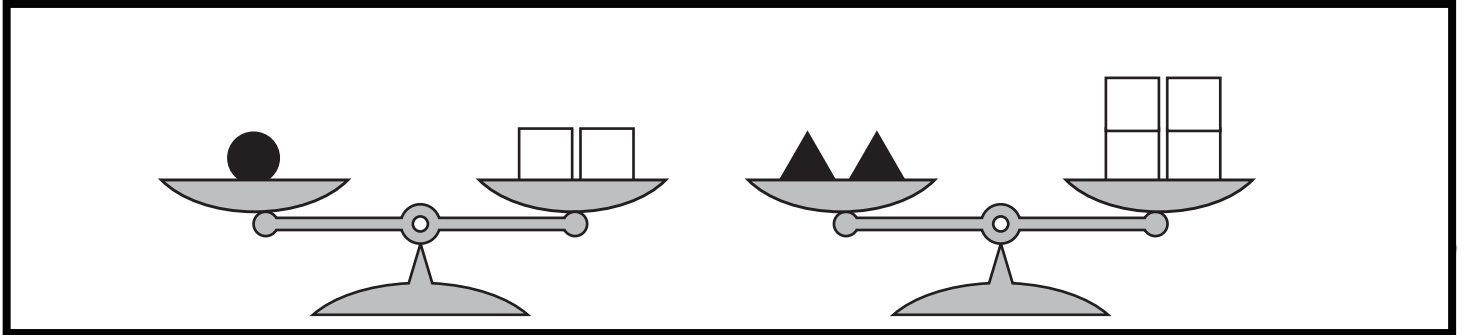


おうちで、やろう。

Study at home. 小学校受験の家庭学習教材

推理：重さの置き換え3

太線の天秤はつり合っています。下の四角の中の天秤が釣り合うには矢印の上の積み木をいくつ置けばよいですか。その数だけ、右の四角の中に○をかきます。



※1. このプリントは、しながわ・目黒こどもスクールのウェブサイトでダウンロードができます。無断複写・引用はご遠慮ください。
※2. このプリントを活用したオンライン授業のスケジュールは、しながわ・目黒こどもスクールのウェブサイトでご確認ください。


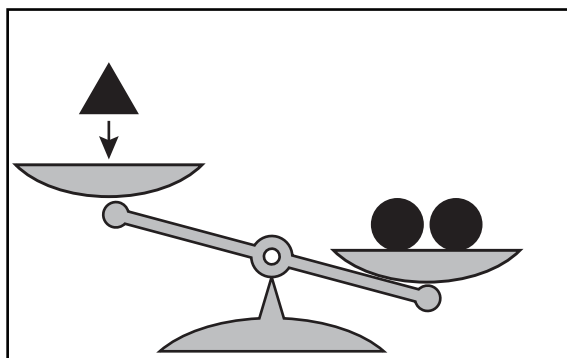



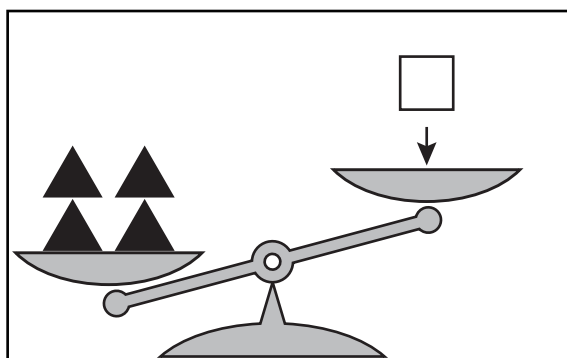

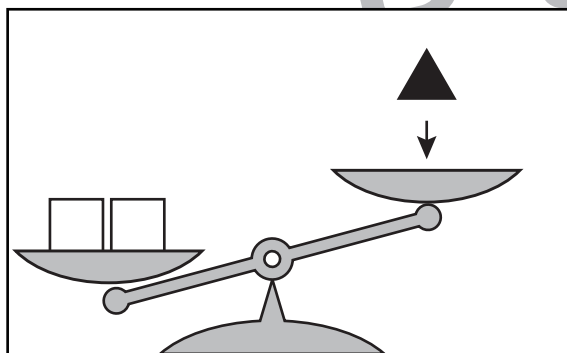
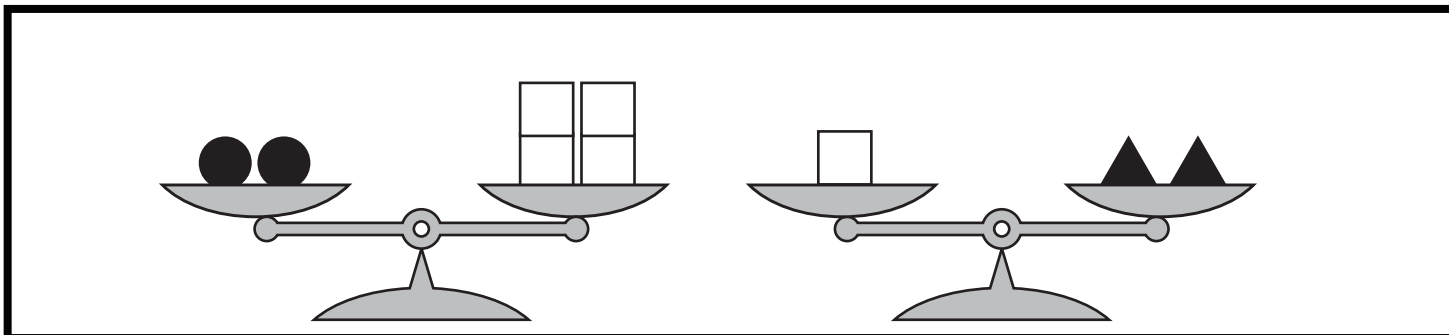


おうちで、やろう。

Study at home. 小学校受験の家庭学習教材

推理：重さの置き換え4

太線の天秤はつり合っています。下の四角の中の天秤が釣り合うには矢印の上の積み木をいくつ置けばよいですか。その数だけ、右の四角の中に○をかきます。



※1. このプリントは、しながわ・目黒こどもスクールのウェブサイトでダウンロードができます。無断複写・引用はご遠慮ください。
※2. このプリントを活用したオンライン授業のスケジュールは、しながわ・目黒こどもスクールのウェブサイトでご確認ください。



おうちで、やろう。

Study at home. 小学校受験の家庭学習教材

数量：対応3

左の太い四角の中が一人分のセットです。右の四角の中には何人分あるかを考えて、その数だけ下の四角に○をかきます。

Row 1: A thick-bordered square on the left contains 2 circles (1 grey, 1 black). To its right is a large rectangle containing 10 circles (5 grey, 5 black). Below the large rectangle is a blank space for marking.

Row 2: A thick-bordered square on the left contains 2 shapes (1 triangle, 1 square). To its right is a large rectangle containing 10 shapes (5 triangles, 4 squares, 1 grey circle). Below the large rectangle is a blank space for marking.

Row 3: A thick-bordered square on the left contains 3 shapes (1 square, 1 circle, 1 triangle). To its right is a large rectangle containing 10 shapes (3 circles, 4 squares, 3 triangles). Below the large rectangle is a blank space for marking.

※1. このプリントは、しながわ・目黒こどもスクールのウェブサイトでダウンロードができます。無断複写・引用はご遠慮ください。
 ※2. このプリントを活用したオンライン授業のスケジュールは、しながわ・目黒こどもスクールのウェブサイトでご確認ください。



おうちで、やろう。

Study at home. 小学校受験の家庭学習教材

数量：対応4

左の太い四角の中が一人分のセットです。右の四角の中には何人分あるかを考えて、その数だけ下の四角に○をかきます。

※1. このプリントは、しながわ・目黒こどもスクールのウェブサイトでダウンロードができます。無断複写・引用はご遠慮ください。
 ※2. このプリントを活用したオンライン授業のスケジュールは、しながわ・目黒こどもスクールのウェブサイトでご確認ください。