



# おうちで、やろう。

Study at home. 小学校受験の家庭学習教材

図形：回転 22

左の四角がお手本です。矢印の方向に一回倒したときの見え方を考えて、右の四角の絵に○をつけます。

Activity 1: Flower rotation

Handbook:

Options:

Handbook:

Options:

Activity 2: Bee rotation

Handbook:

Options:

Handbook:

Options:

Handbook:

Options:

※1. このプリントは、しながわ・目黒こどもスクールのウェブサイトでダウンロードができます。無断複写・引用はご遠慮ください。  
 ※2. このプリントを活用したオンライン授業のスケジュールは、しながわ・目黒こどもスクールのウェブサイトでご確認ください。




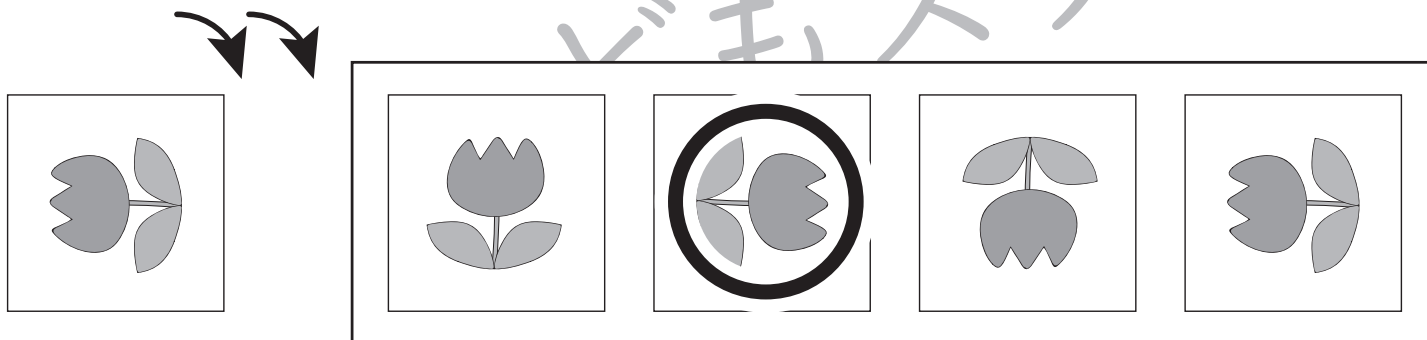
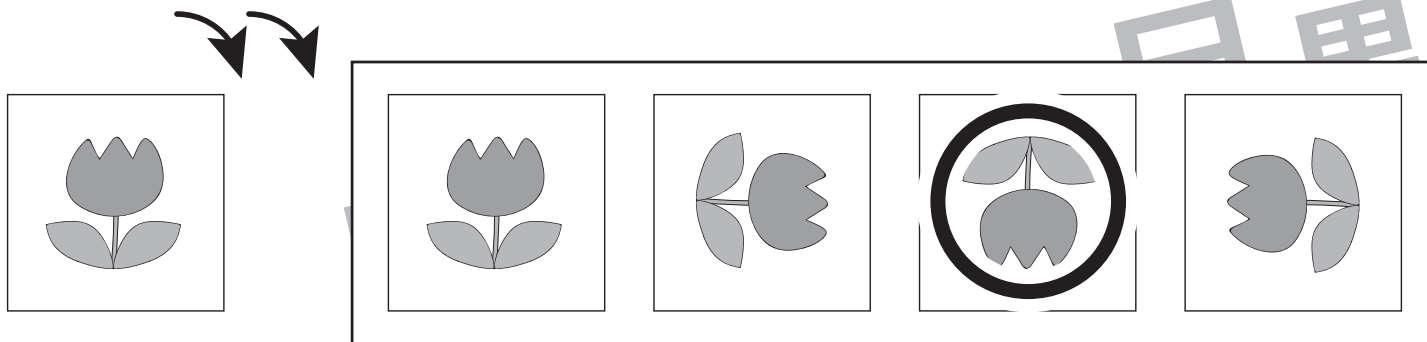


# おうちで、やろう。

Study at home. 小学校受験の家庭学習教材

図形：回転23

左の四角がお手本です。矢印の方向に2回倒したときの見え方を考えて、右の四角の絵に○をつけます。



※1. このプリントは、しながわ・目黒こどもスクールのウェブサイトでダウンロードができます。無断複写・引用はご遠慮ください。  
 ※2. このプリントを活用したオンライン授業のスケジュールは、しながわ・目黒こどもスクールのウェブサイトでご確認ください。

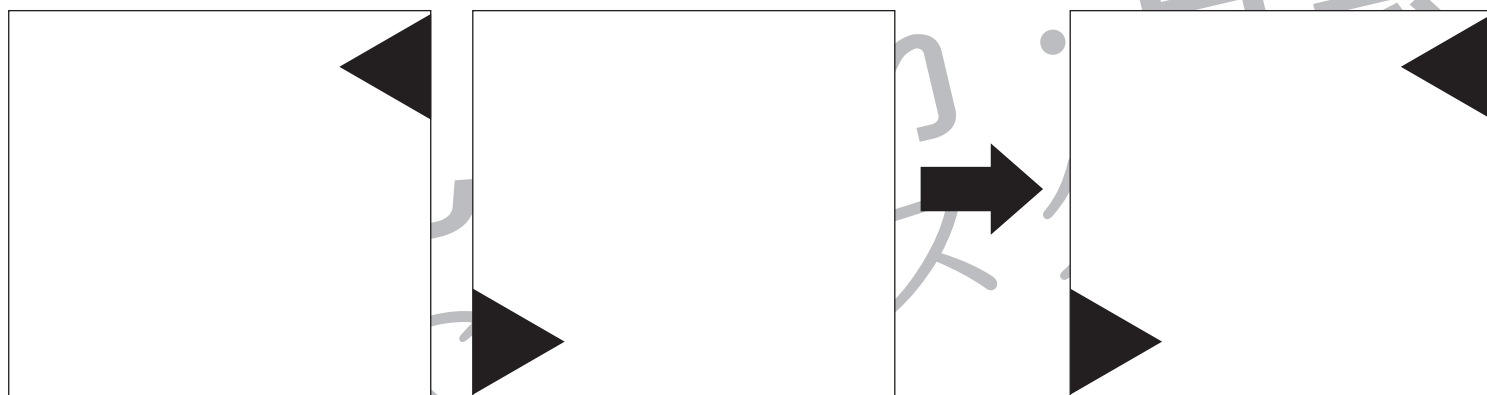
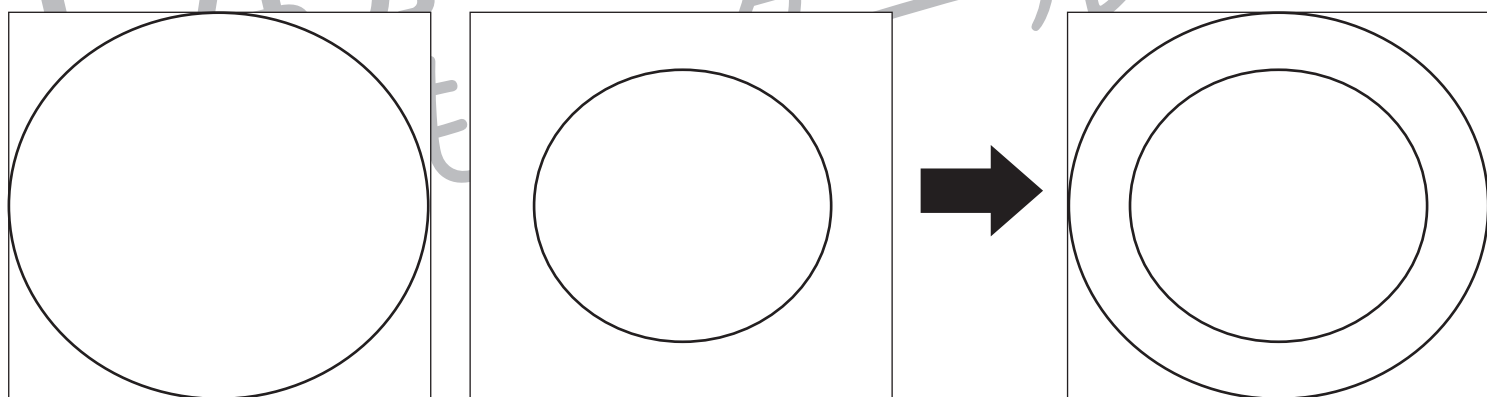



# おうちで、やろう。

Study at home. 小学校受験の家庭学習教材

図形：重ね 20

左の透明な 2 枚の板を重ねた時の見え方を考えて、右の四角にかきます。



※1. このプリントは、しながわ・目黒こどもスクールのウェブサイトからダウンロードできます。無断複写・引用はご遠慮ください。  
 ※2. このプリントを活用したオンライン授業のスケジュールは、しながわ・目黒こどもスクールのウェブサイトでご確認ください。

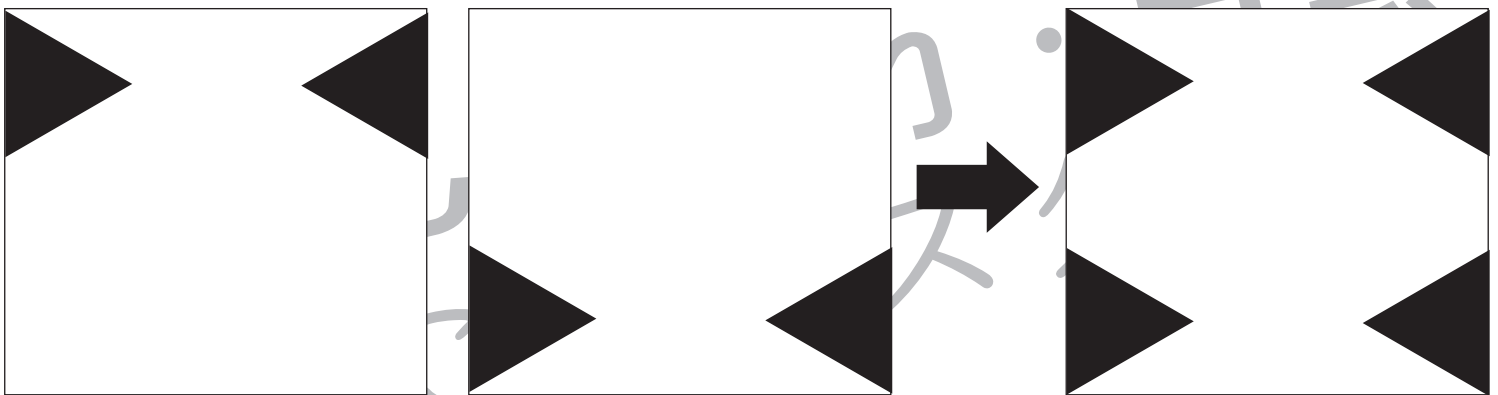


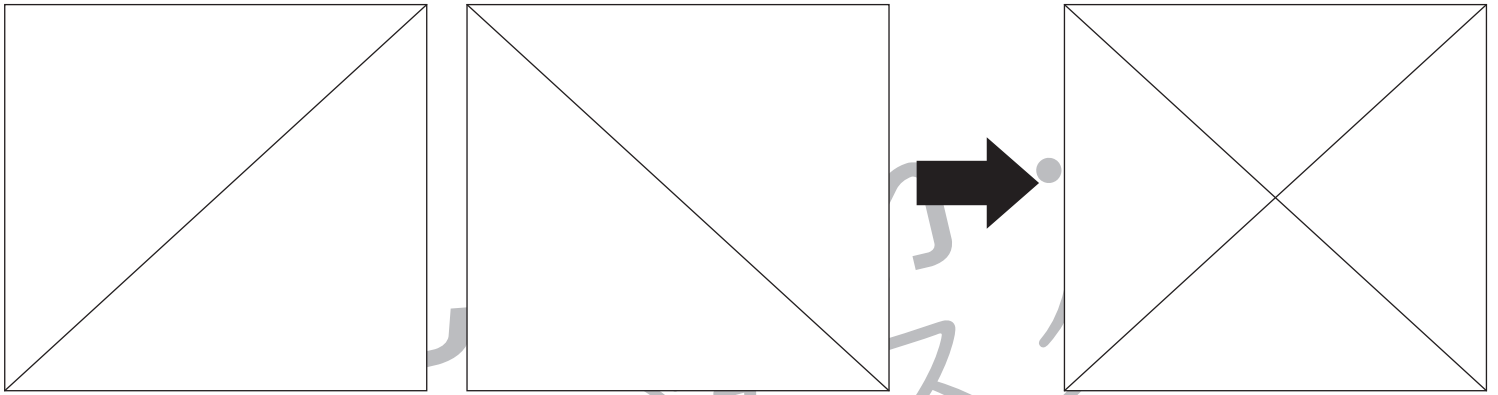


# おうちで、やろう。

Study at home. 小学校受験の家庭学習教材

## 図形：重ね 21

左の透明な 2 枚の板を重ねた時の見え方を考えて、右の四角にかきます。



※ 1. このプリントは、しながわ・目黒こどもスクールのウェブサイトからダウンロードできます。無断複写・引用はご遠慮ください。  
 ※ 2. このプリントを活用したオンライン授業のスケジュールは、しながわ・目黒こどもスクールのウェブサイトでご確認ください。



# おうちで、やろう。

Study at home. 小学校受験の家庭学習教材

## 推理：じゃんけん 11

お友だちとあなたがじゃんけんをして、あなたが吹き出しの中の手を出して勝ちました。  
このとき、お友だちが出した手を考えて点線の中の手に○をつけます。

Illustration of a girl with a speech bubble showing an open hand. A dashed box contains three options: a rock (circled), a paper, and an open hand.

Illustration of a boy with a speech bubble showing a rock. A dashed box contains three options: a rock, a paper (circled), and an open hand.

Illustration of a girl with a speech bubble showing a paper. A dashed box contains three options: a rock, a paper, and an open hand (circled).

Illustration of a boy with a speech bubble showing an open hand. A dashed box contains three options: a rock (circled), a paper, and an open hand.

Illustration of a girl with a speech bubble showing a paper. A dashed box contains three options: a rock, a paper, and an open hand (circled).

Illustration of a boy with a speech bubble showing a paper. A dashed box contains three options: a rock, a paper, and an open hand (circled).

Illustration of a boy with a speech bubble showing a rock. A dashed box contains three options: a rock, a paper (circled), and an open hand.

Illustration of a girl with a speech bubble showing a rock. A dashed box contains three options: a rock, a paper (circled), and an open hand.

※1. このプリントは、しながわ・目黒こどもスクールのウェブサイトでダウンロードができます。無断複写・引用はご遠慮ください。  
 ※2. このプリントを活用したオンライン授業のスケジュールは、しながわ・目黒こどもスクールのウェブサイトでご確認ください。



# おうちで、やろう。

Study at home. 小学校受験の家庭学習教材

## 推理：じゃんけん 12

左のお友だち 2 人とあなたがじゃんけんをして勝ちました。  
このとき、あなたが出した手を考えて点線の中の手に○をつけます。

Two children are shown. The boy on the left has a speech bubble with a rock hand (1 finger). The girl on the right has a speech bubble with a rock hand (1 finger). To the right, a dashed box contains three hand options: a rock hand (1 finger), a paper hand (5 fingers), and a scissors hand (2 fingers).

Two children are shown. The girl on the left has a speech bubble with a paper hand (5 fingers). The boy on the right has a speech bubble with a rock hand (1 finger). To the right, a dashed box contains three hand options: a rock hand (1 finger), a paper hand (5 fingers), and a scissors hand (2 fingers).

Two children are shown. The girl on the left has a speech bubble with a scissors hand (2 fingers). The girl on the right has a speech bubble with a scissors hand (2 fingers). To the right, a dashed box contains three hand options: a rock hand (1 finger), a paper hand (5 fingers), and a scissors hand (2 fingers).

Two children are shown. The girl on the left has a speech bubble with a scissors hand (2 fingers). The boy on the right has a speech bubble with a paper hand (5 fingers). To the right, a dashed box contains three hand options: a rock hand (1 finger), a paper hand (5 fingers), and a scissors hand (2 fingers).

※1. このプリントは、しながわ・目黒こどもスクールのウェブサイトでダウンロードができます。無断複写・引用はご遠慮ください。  
 ※2. このプリントを活用したオンライン授業のスケジュールは、しながわ・目黒こどもスクールのウェブサイトでご確認ください。

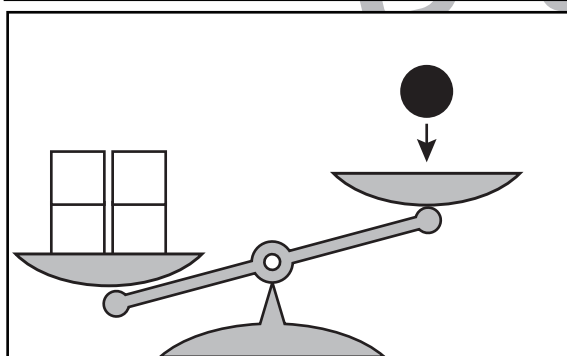
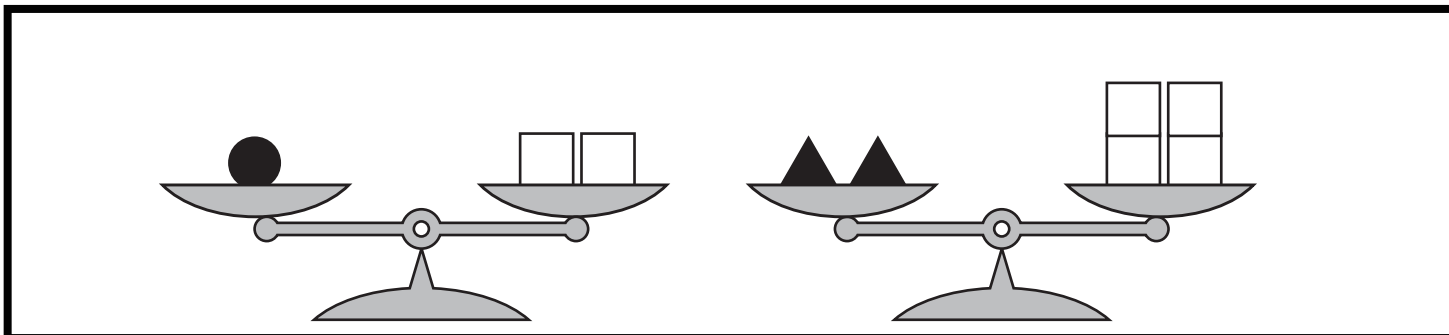


# おうちで、やろう。

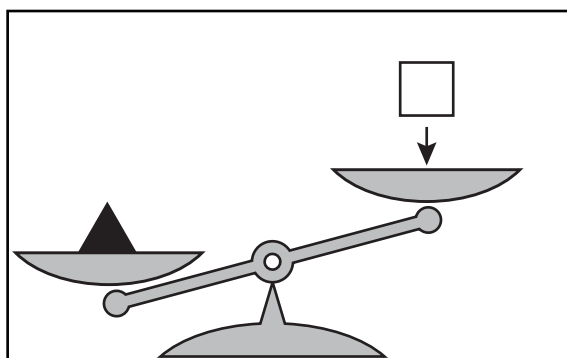
Study at home. 小学校受験の家庭学習教材

## 推理：重さの置き換え3


太線の天秤はつり合っています。下の四角の中の天秤がつり合うには矢印の上の積み木をいくつ置けばよいですか。その数だけ、右の四角の中に○をかきます。



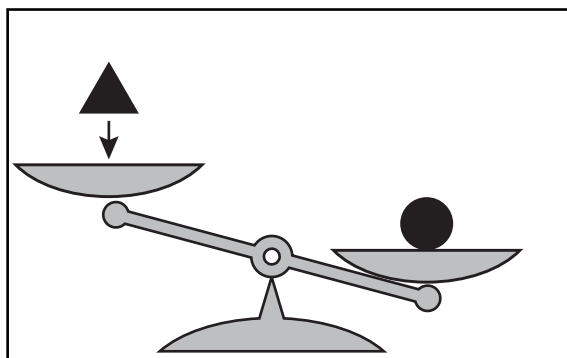
$$\bigcirc \times 2$$



$$\bigcirc \times 2$$



$$\bigcirc \times 4$$



$$\bigcirc \times 1$$

※1. このプリントは、しながわ・目黒こどもスクールのウェブサイトからダウンロードできます。無断複写・引用はご遠慮ください。  
※2. このプリントを活用したオンライン授業のスケジュールは、しながわ・目黒こどもスクールのウェブサイトでご確認ください。



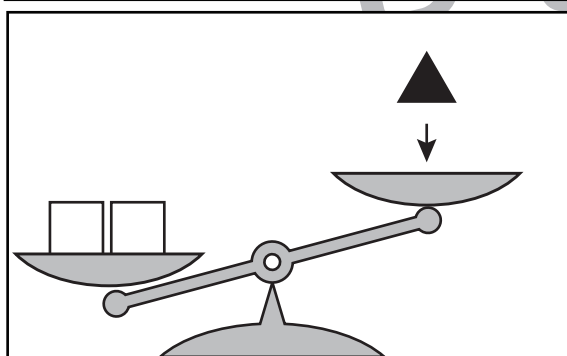
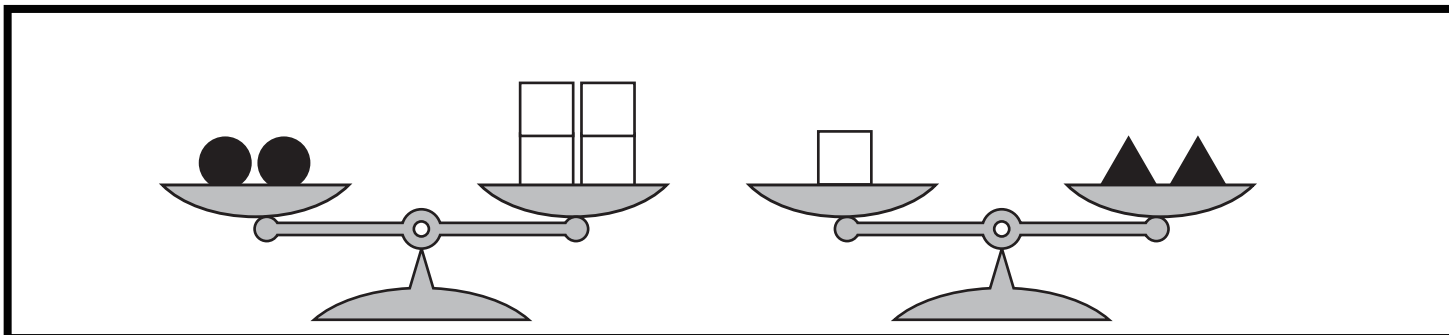


# おうちで、やろう。

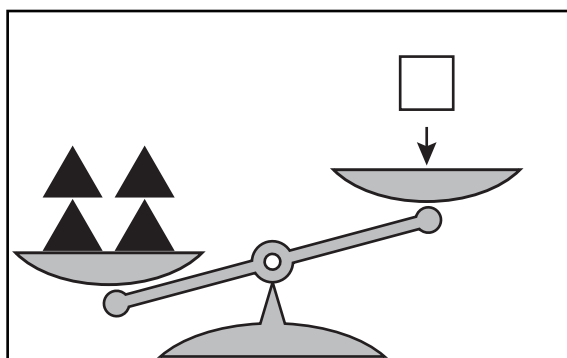
Study at home. 小学校受験の家庭学習教材

## 推理：重さの置き換え4


太線の天秤はつり合っています。下の四角の中の天秤がつり合うには矢印の上の積み木をいくつ置けばよいですか。その数だけ、右の四角の中に○をかきます。



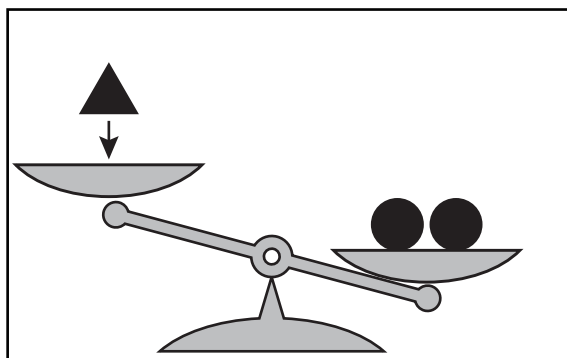
$$\bigcirc \times 4$$



$$\bigcirc \times 2$$



$$\bigcirc \times 4$$



$$\bigcirc \times 8$$

※1. このプリントは、しながわ・目黒こどもスクールのウェブサイトでダウンロードができます。無断複写・引用はご遠慮ください。

※2. このプリントを活用したオンライン授業のスケジュールは、しながわ・目黒こどもスクールのウェブサイトでご確認ください。







# おうちで、やろう。

Study at home. 小学校受験の家庭学習教材

数量：対応3

左の太い四角の中が一人分のセットです。右の四角の中には何人分あるかを考えて、その数だけ下の四角に○をかきます。

$\bigcirc \times 4$

$\bigcirc \times 3$

$\bigcirc \times 2$

※1. このプリントは、しながわ・目黒こどもスクールのウェブサイトでダウンロードができます。無断複写・引用はご遠慮ください。  
※2. このプリントを活用したオンライン授業のスケジュールは、しながわ・目黒こどもスクールのウェブサイトでご確認ください。



# おうちで、やろう。

Study at home. 小学校受験の家庭学習教材

数量：対応4

左の太い四角の中が一人分のセットです。右の四角の中には何人分あるかを考えて、その数だけ下の四角に○をかきます。

$\bigcirc \times 2$	

$\bigcirc \times 3$	

$\bigcirc \times 4$	

※1. このプリントは、しながわ・目黒こどもスクールのウェブサイトでダウンロードができます。無断複写・引用はご遠慮ください。  
※2. このプリントを活用したオンライン授業のスケジュールは、しながわ・目黒こどもスクールのウェブサイトでご確認ください。