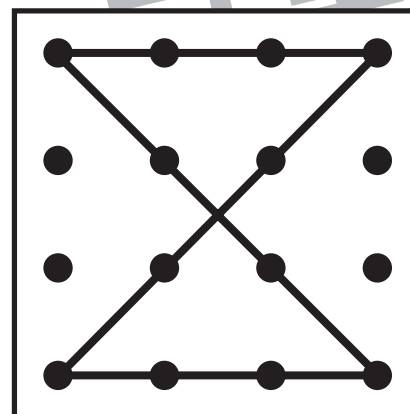
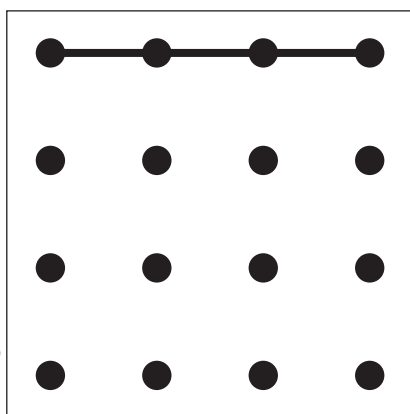
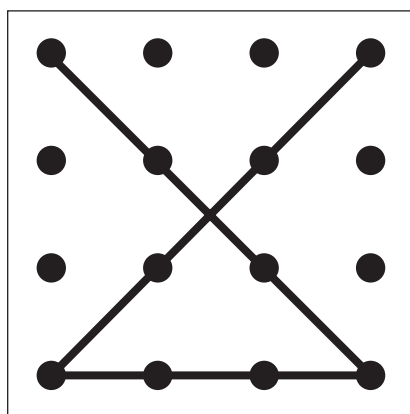
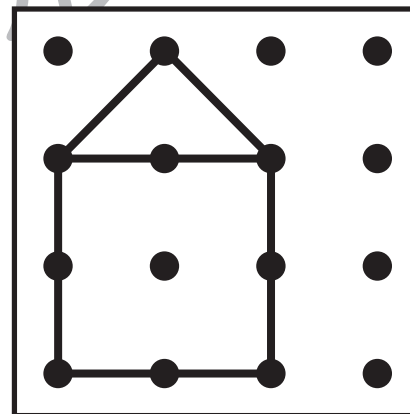
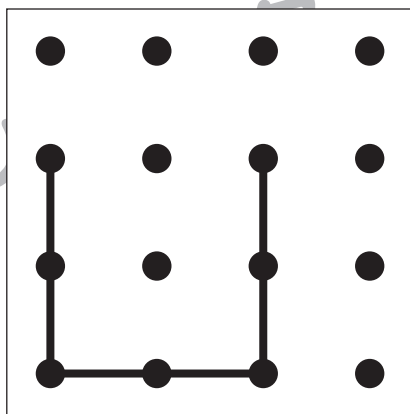
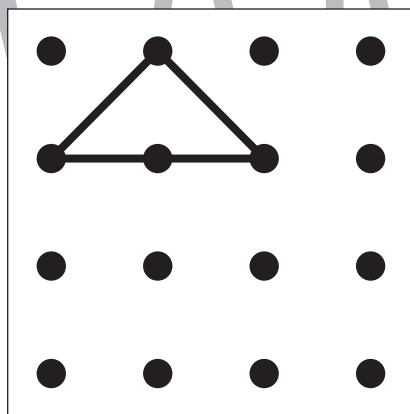
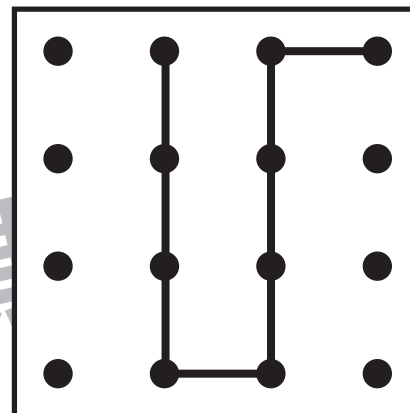
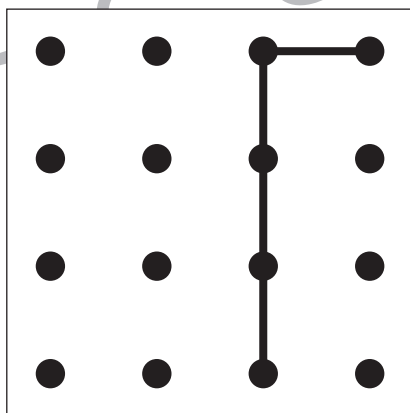
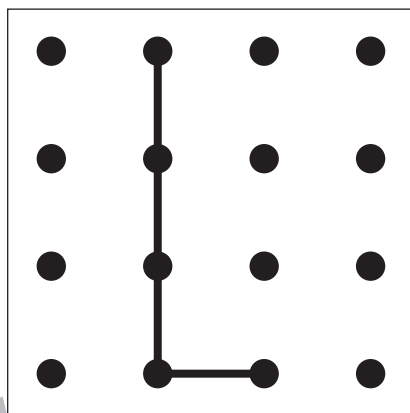
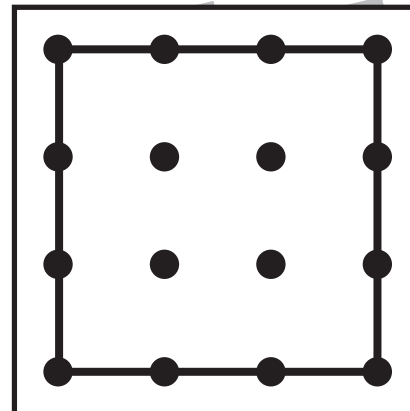
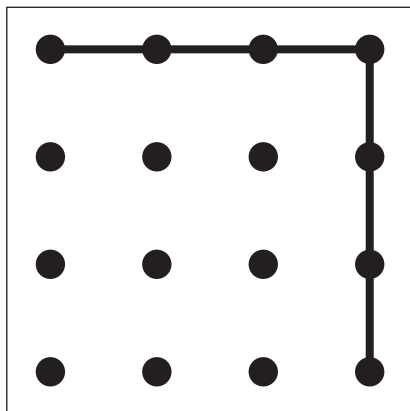
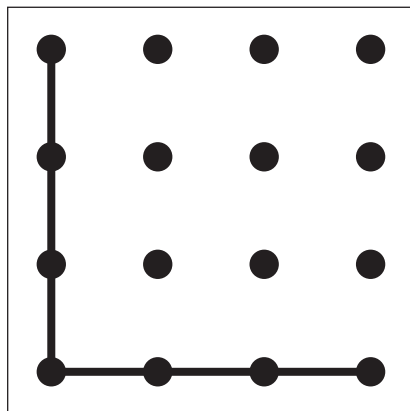




左にある2枚の透明の板にかかれた点図形を重ねた形を考えて、矢印の右の四角にかきます。



※1. このプリントは、しながわ・目黒こどもスクールのウェブサイトでダウンロードができます。無断複写・引用はご遠慮ください。

※2. このプリントを活用したオンライン授業のスケジュールは、しながわ・目黒こどもスクールのウェブサイトでご確認ください。





左にある2枚の透明の板にかかれた点図形を重ねた形を考えて、矢印の右の四角にかきます。

※1. このプリントは、しながわ・目黒こどもスクールのウェブサイトでダウンロードができます。無断複写・引用はご遠慮ください。

※2. このプリントを活用したオンライン授業のスケジュールは、しながわ・目黒こどもスクールのウェブサイトでご確認ください。





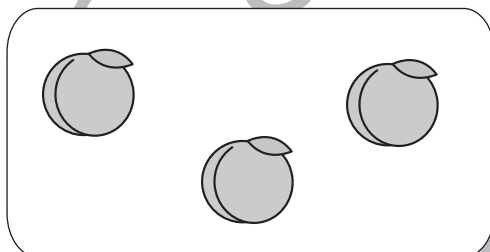
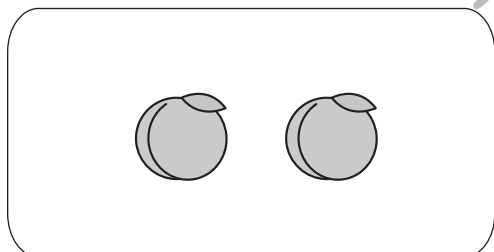




おうちで、やろう。 年中児版

Study at home. 小学校受験の家庭学習教材

数量：加減 10

ウサギの持っている果物の数だけ隣にいる動物の果物を食べたら、隣の動物の果物はいくつ残りますか。
その数だけ右の四角に○をかきます。



※1. このプリントは、しながわ・目黒こどもスクールのウェブサイトでダウンロードができます。無断複写・引用はご遠慮ください。

※2. このプリントを活用したオンライン授業のスケジュールは、しながわ・目黒こどもスクールのウェブサイトでご確認ください。




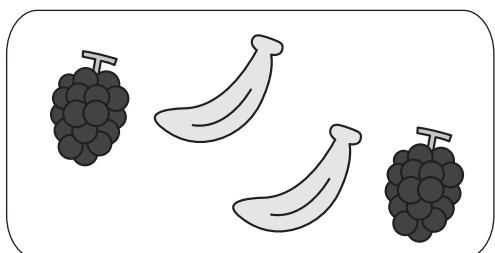








おうちで、やろう。 年中児版

Study at home. 小学校受験の家庭学習教材

数量：加減 11

ウサギの持っている果物と隣にいる動物が持っている果物を合わせたら、果物は全部でいくつになりますか。
その数だけ右の四角に〇をかきます。



※1. このプリントは、しながわ・目黒こどもスクールのウェブサイトでダウンロードができます。無断複写・引用はご遠慮ください。
※2. このプリントを活用したオンライン授業のスケジュールは、しながわ・目黒こどもスクールのウェブサイトでご確認ください。






おうちで、やろう。 年中児版

Study at home. 小学校受験の家庭学習教材

数量：置き換え 13

太い四角の中はお約束です。イチゴ1つでジュースを3つ作ることができます。
このお約束のとき下の四角の中のイチゴでいくつジュースを作れるか考えて、その数だけコップの絵に○をつけます。



※1. このプリントは、しながわ・目黒こどもスクールのウェブサイトからダウンロードができます。無断複写・引用はご遠慮ください。

※2. このプリントを活用したオンライン授業のスケジュールは、しながわ・目黒こどもスクールのウェブサイトでご確認ください。







おうちで、やろう。 年中児版

Study at home. 小学校受験の家庭学習教材

数量：置き換え 14

太い四角の中はお約束です。イチゴ1つでジュースを4つ作ることができます。
このお約束のとき下の四角の中のイチゴでいくつジュースを作れるか考えて、その数だけコップの絵に○をつけます。



※1. このプリントは、しながわ・目黒こどもスクールのウェブサイトからダウンロードができます。無断複写・引用はご遠慮ください。

※2. このプリントを活用したオンライン授業のスケジュールは、しながわ・目黒こどもスクールのウェブサイトでご確認ください。

