



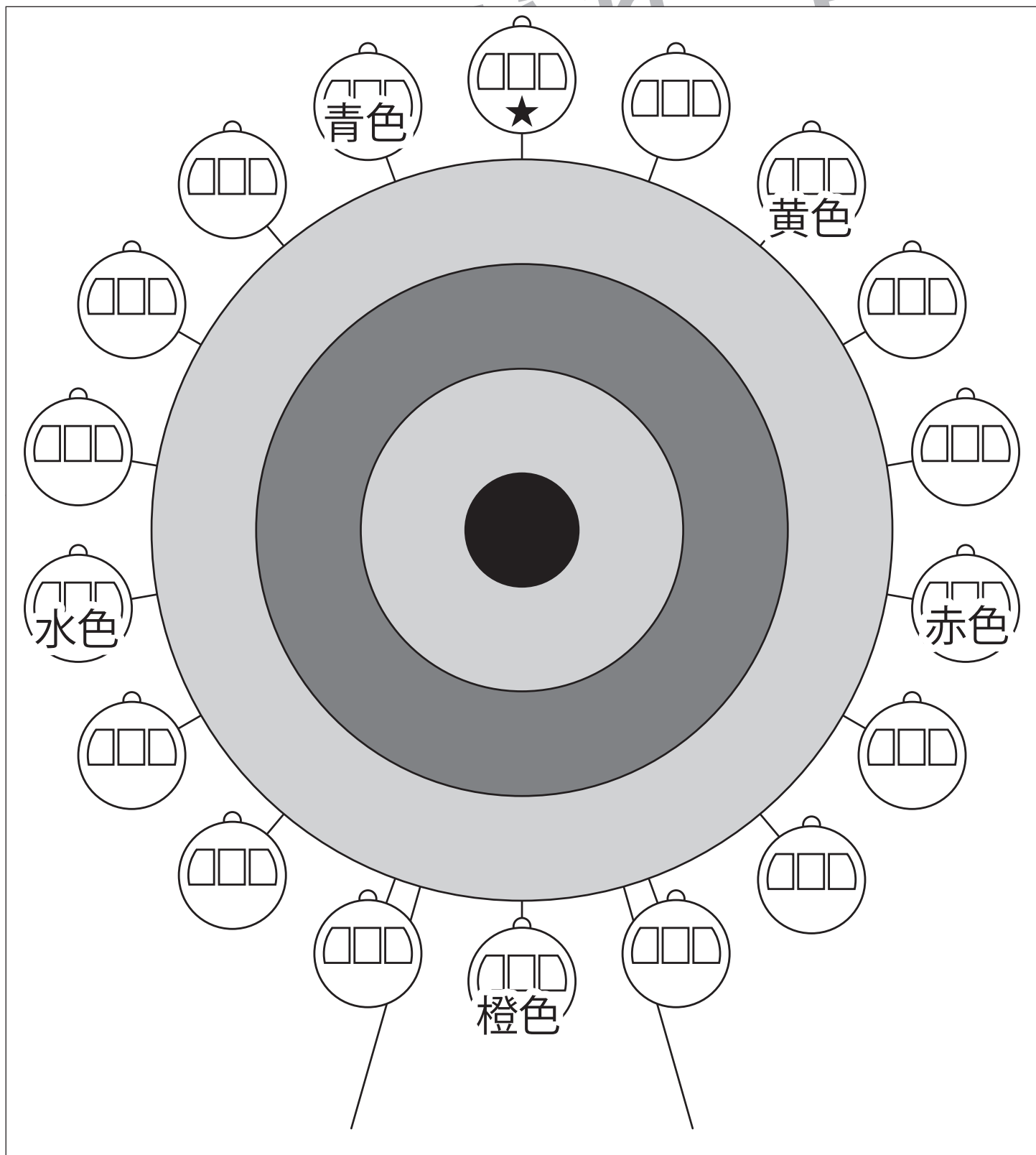
おうちで、やろう。

Study at home. 小学校受験の家庭学習教材

運筆：塗り9

★のマークが描かれた観覧車が1号車です。1号車から時計回りに数えると18号車まであります。
下の①～⑤の話を聞いて観覧車を塗ります。 ※塗るときは線からはみ出ないようにしましょう。

- ①3号車を黄色のクーピーで塗ります。
- ②6号車を赤色のクーピーで塗ります。
- ③10号車を橙色のクーピーで塗ります。
- ④14号車を水色のクーピーで塗ります。
- ⑤18号車を青色のクーピーで塗ります。



※1. このプリントは、しながわ・目黒こどもスクールのウェブサイトでダウンロードができます。無断複写・引用はご遠慮ください。
 ※2. このプリントを活用したオンライン授業のスケジュールは、しながわ・目黒こどもスクールのウェブサイトでご確認ください。



おうちで、やろう。

Study at home. 小学校受験の家庭学習教材

言語：音の数 23

①最初の音が「あ」から始まるものを5つ考えて言います。話した言葉はお家の人に書いてもらいましょう。

あり、アイクリーム、あんこ、杏仁豆腐、足、赤、青など

①最初の音が「い」から始まるものを5つ考えて言います。話した言葉はお家の人に書いてもらいましょう。

イルカ、いちご、イス、稲、犬、インコ、いか、伊勢海老など

①最初の音が「う」から始まるものを5つ考えて言います。話した言葉はお家の人に書いてもらいましょう。

うさぎ、運動会、うちわ、うがい、ウリ、うぐいす、海など

①最初の音が「え」から始まるものを5つ考えて言います。話した言葉はお家の人に書いてもらいましょう。

エビ、駅、エイ、恵方巻、絵の具、枝豆、絵馬、煙突など

①最初の音が「お」から始まるものを5つ考えて言います。話した言葉はお家の人に書いてもらいましょう。

おにぎり、鬼、音符、オオカミ、オクラ、沖縄、オスなど



おうちで、やろう。

Study at home. 小学校受験の家庭学習教材

言語：音の数 24

①最初の音が「か」から始まるものを5つ考えて言います。話した言葉はお家の人に書いてもらいましょう。

蚊、柿、貝、カマキリ、雷、カメ、カエル、貨物列車など

①最初の音が「き」から始まるものを5つ考えて言います。話した言葉はお家の人に書いてもらいましょう。

木苺、きくらげ、木、キノコ、キリギリス、機関車、着物など

①最初の音が「く」から始まるものを5つ考えて言います。話した言葉はお家の人に書いてもらいましょう。

くま、靴、蜘蛛、薬、クワガタ、茎、クラゲ、釘、くり、など

①最初の音が「け」から始まるものを5つ考えて言います。話した言葉はお家の人に書いてもらいましょう。

毛虫、毛糸、消しゴム、ケーキ、研究、携帯電話、など

①最初の音が「こ」から始まるものを5つ考えて言います。話した言葉はお家の人に書いてもらいましょう。

コアラ、鯉、昆布、コンピューター、米、小人、米俵など



おうちで、やろう。

Study at home. 小学校受験の家庭学習教材

図形：重ね点図形 20

左の3枚の点図形を重ねた形を考えて、矢印の右の四角にかきます。

			▶	
			▶	
			▶	
			▶	
			▶	

※1. このプリントは、しながわ・目黒こどもスクールのウェブサイトでダウンロードができます。無断複写・引用はご遠慮ください。
 ※2. このプリントを活用したオンライン授業のスケジュールは、しながわ・目黒こどもスクールのウェブサイトでご確認ください。



おうちで、やろう。

Study at home. 小学校受験の家庭学習教材

図形：重ね点図形 21

左の3枚の点図形を重ねた形を考えて、矢印の右の四角にかきます。

			▶	
			▶	
			▶	
			▶	
			▶	

※1. このプリントは、しながわ・目黒こどもスクールのウェブサイトでダウンロードができます。無断複写・引用はご遠慮ください。
 ※2. このプリントを活用したオンライン授業のスケジュールは、しながわ・目黒こどもスクールのウェブサイトでご確認ください。

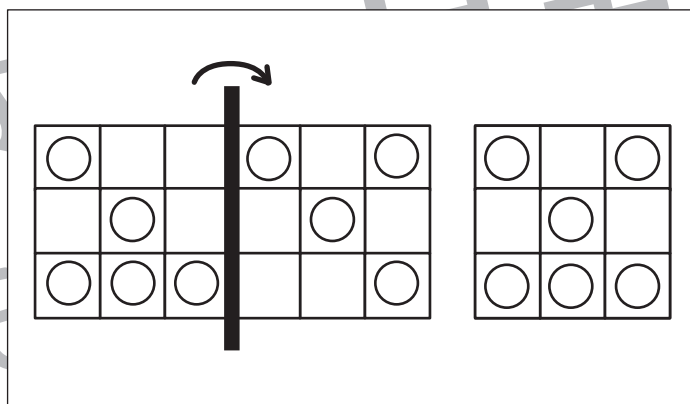
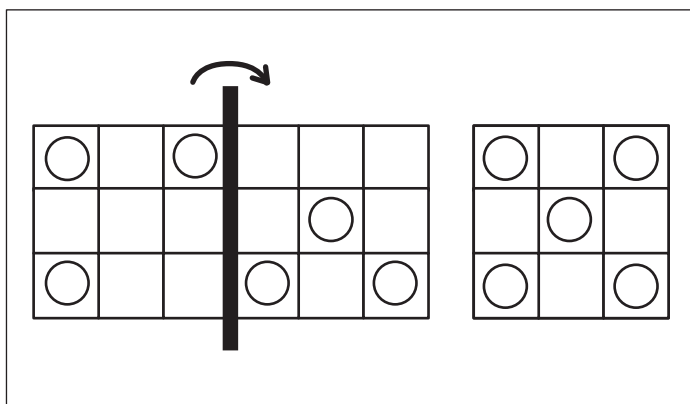
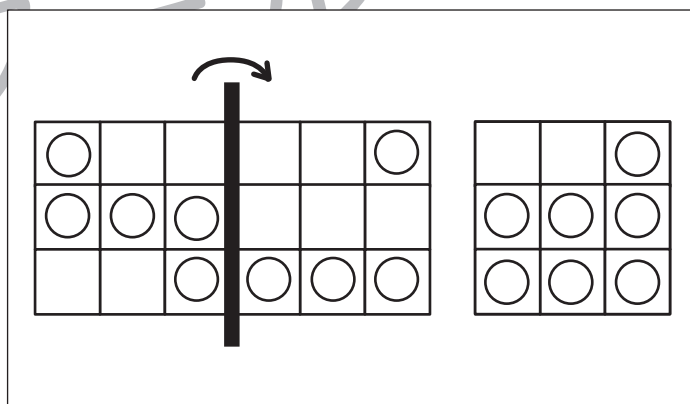
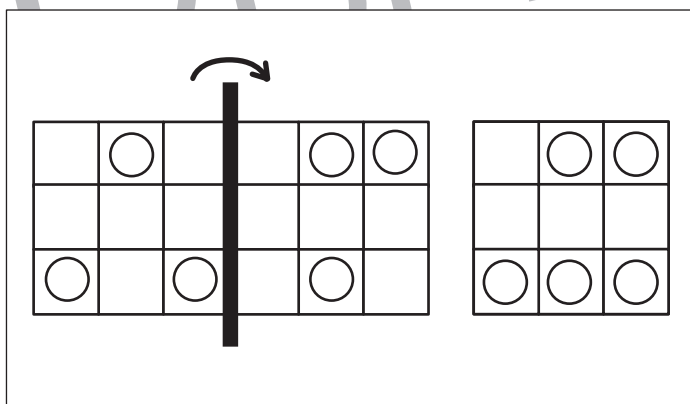
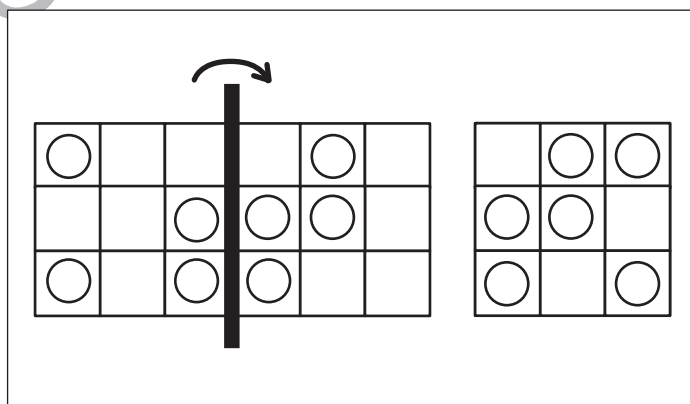
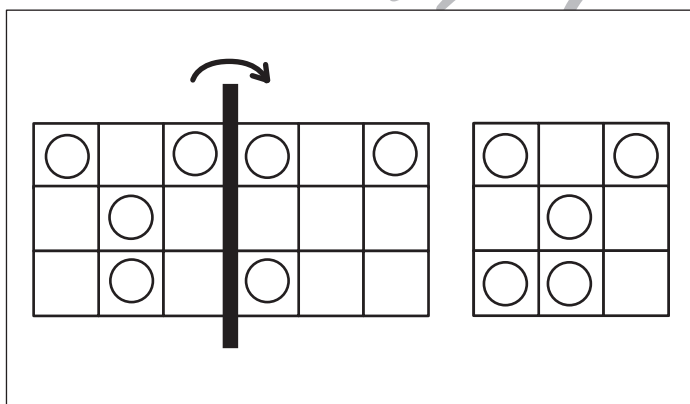
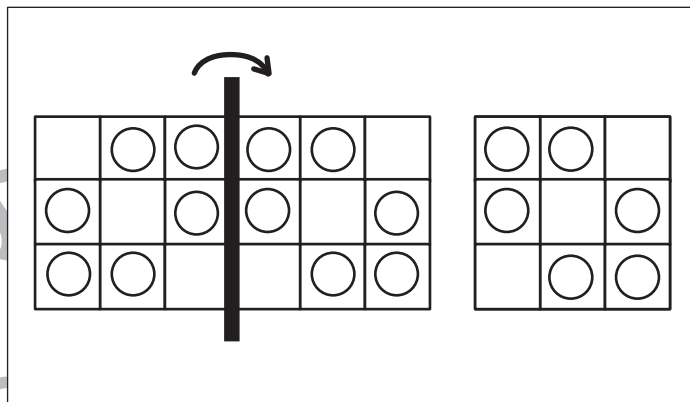
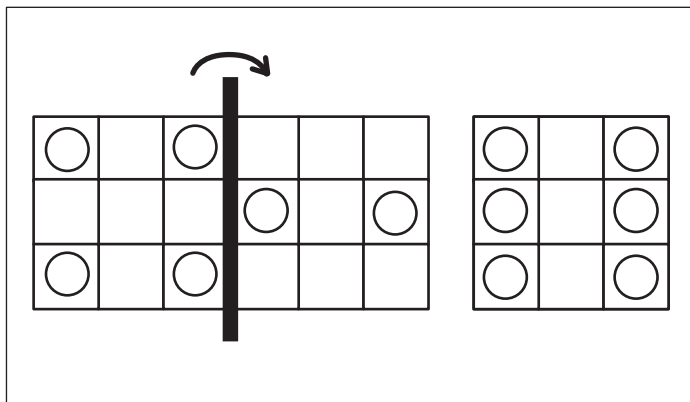


おうちで、よろう。

Study at home. 小学校受験の家庭学習教材

図形：折り重ね23

左の四角を真ん中の太い線で矢印の方向へ折り重ねた時の○の見え方を考えて、一番右の四角に○をかきます。



※1. このプリントは、しながわ・目黒こどもスクールのウェブサイトでダウンロードができます。無断複写・引用はご遠慮ください。
 ※2. このプリントを活用したオンライン授業のスケジュールは、しながわ・目黒こどもスクールのウェブサイトでご確認ください。

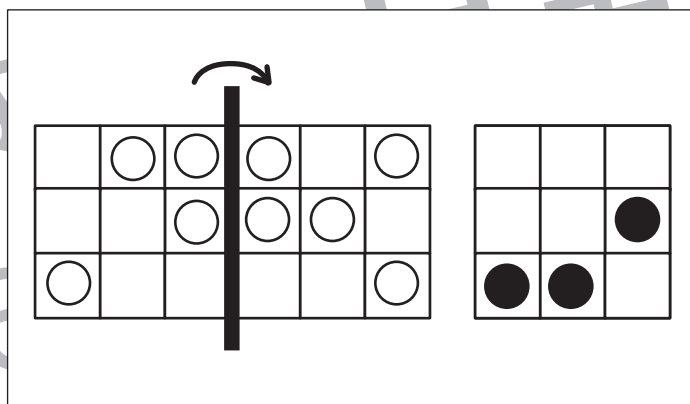
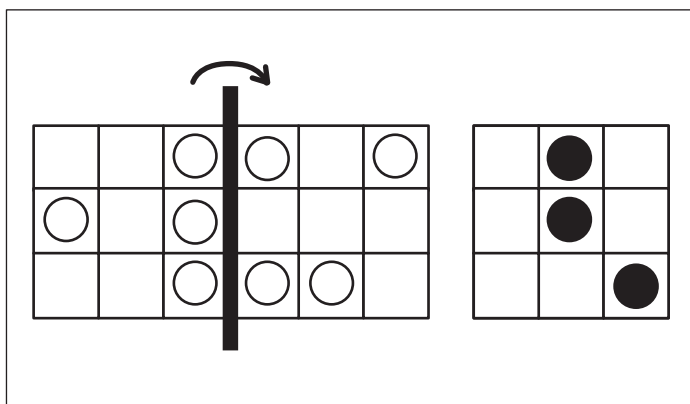
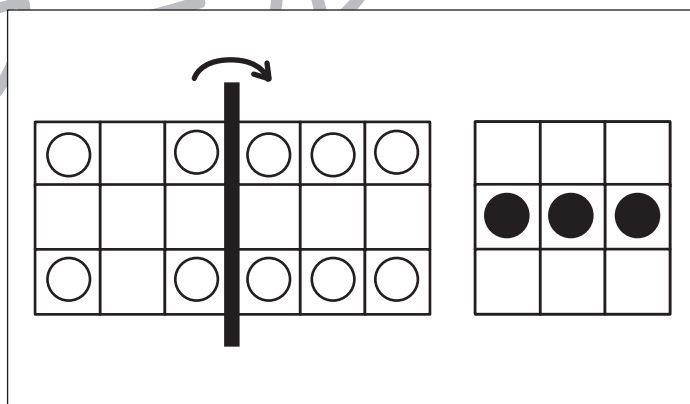
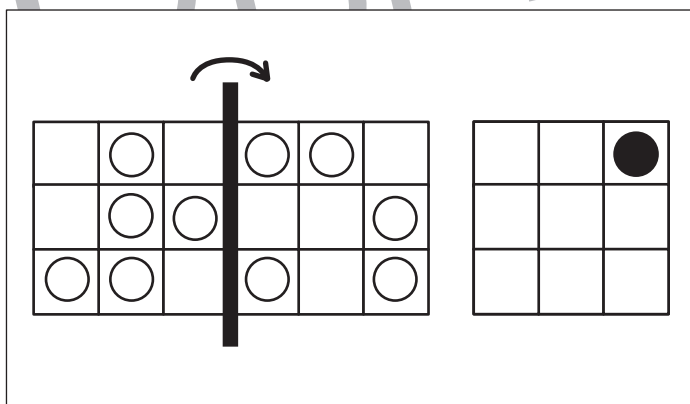
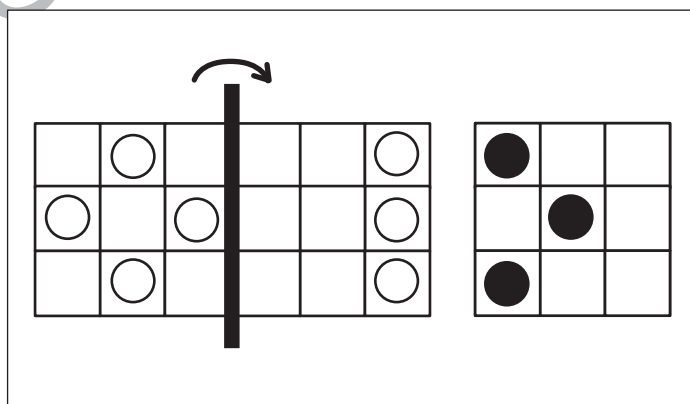
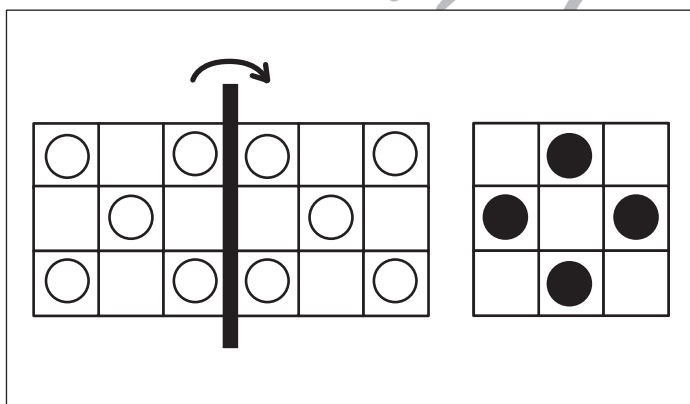
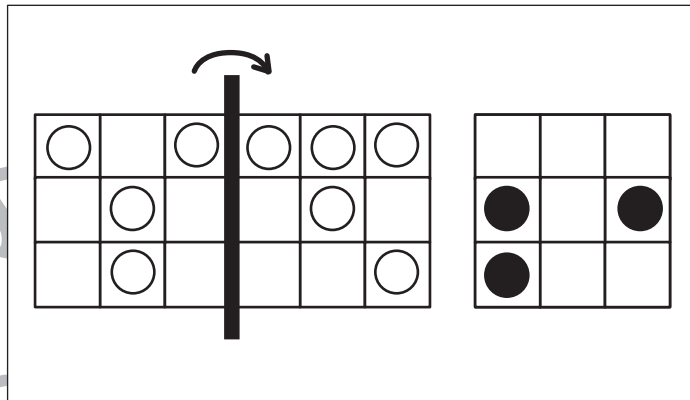
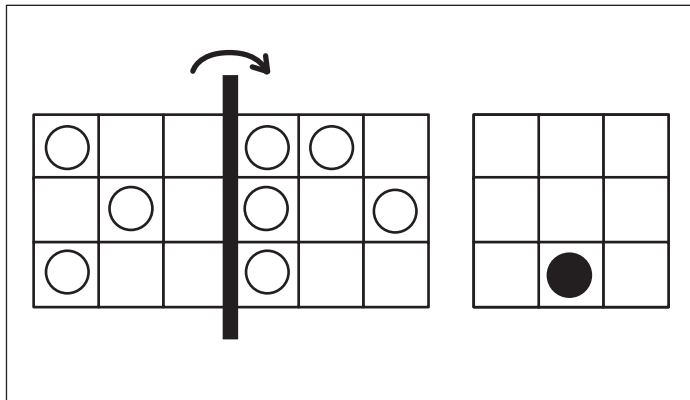


おうちで、やろう。

Study at home. 小学校受験の家庭学習教材

図形：折り重ね 24

左の四角を真ん中の太い線で矢印の方向へ折り重ねます。
このとき、○がない場所を考えて一番右の四角に●をかきます。



※1. このプリントは、しながわ・目黒こどもスクールのウェブサイトでダウンロードができます。無断複写・引用はご遠慮ください。
 ※2. このプリントを活用したオンライン授業のスケジュールは、しながわ・目黒こどもスクールのウェブサイトでご確認ください。

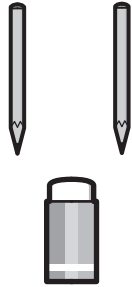
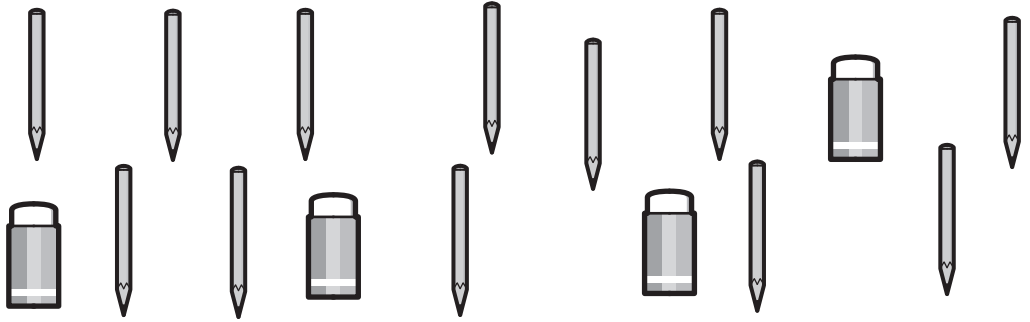






おうちで、やろう。




Study at home. 小学校受験の家庭学習教材

数量：足りない数5

左の太い四角の中が一人分のセットです。全てセットにするには下の四角の中のものはいくつ足りないか考えてその数だけ〇をかきます。

	
	$\bigcirc \times 2$

	
	$\bigcirc \times 3$

	
	$\bigcirc \times 4$

※1. このプリントは、しながわ・目黒こどもスクールのウェブサイトからダウンロードできます。無断複写・引用はご遠慮ください。
 ※2. このプリントを活用したオンライン授業のスケジュールは、しながわ・目黒こどもスクールのウェブサイトでご確認ください。



おうちで、やろう。

Study at home. 小学校受験の家庭学習教材

数量：余る数 10

左の四角の中が一人分です。大きい四角の中のものを4人で分けたあと、何人分余るかを考えて下の四角に○をかきます。

$\bigcirc \times 1$	

$\bigcirc \times 2$	

$\bigcirc \times 2$	

※1. このプリントは、しながわ・目黒こどもスクールのウェブサイトでダウンロードができます。無断複写・引用はご遠慮ください。
 ※2. このプリントを活用したオンライン授業のスケジュールは、しながわ・目黒こどもスクールのウェブサイトでご確認ください。