





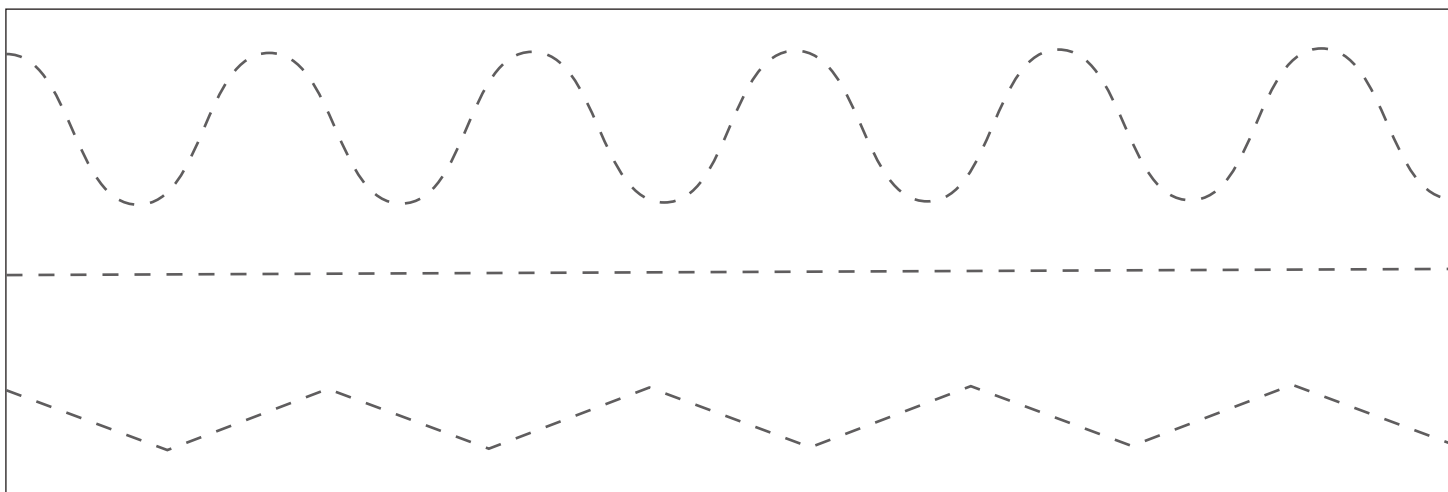
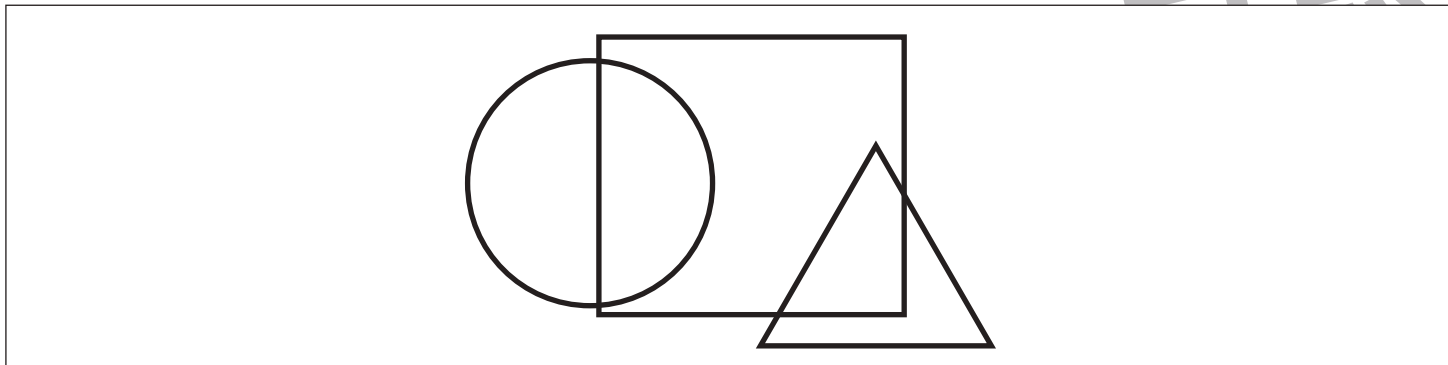
おうちで、やろう。

Study at home. 小学校受験の家庭学習教材

指示の聞き取り 17

お話を聞いて問題に答えます。またこのプリントは全て青のクーピーで取り組みます。

- ①重なっている形のうち、○と□が重なっている場所に色を塗ります。
- ②点線があります。このうちまっすぐの線とギザギザの線をなぞります。はみ出さないように丁寧になぞりましょう。
- ③左の口には横に並べて○を2つ、右の口には縦に並べて△を2つかきます。
- ④お友達が手をつないでいます。髪を結んでいる女の子の左手と、手をつないでいる子に○をつけます。



※1. このプリントは、しながわ・目黒こどもスクールのウェブサイトでダウンロードができます。無断複写・引用はご遠慮ください。
 ※2. このプリントを活用したオンライン授業のスケジュールは、しながわ・目黒こどもスクールのウェブサイトでご確認ください。


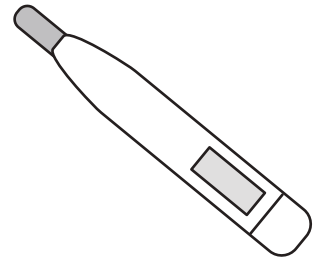




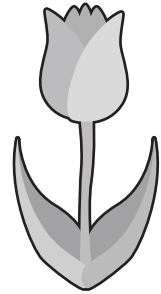




おうちで、やろう。

Study at home. 小学校受験の家庭学習教材

言語：おわりの音 10

大きな四角の中の絵でおわりの音が「い」のものには○、「し」のものには△をつけます。



※1. このプリントは、しながわ・目黒こどもスクールのウェブサイトでダウンロードができます。無断複写・引用はご遠慮ください。
※2. このプリントを活用したオンライン授業のスケジュールは、しながわ・目黒こどもスクールのウェブサイトでご確認ください。



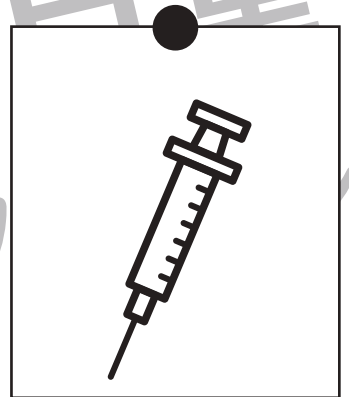


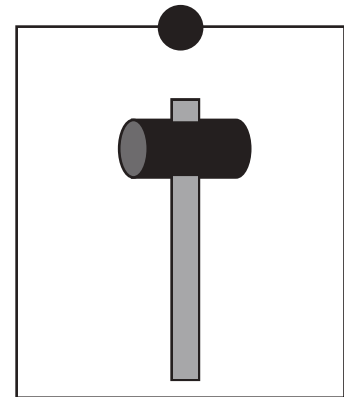






おうちで、やろう。

Study at home. 小学校受験の家庭学習教材

常識：仕事 1

上の四角の中のお仕事をしている人が使うものを下の四角の中から見つけて点と点を線で結びます。



※1. このプリントは、しながわ・目黒こどもスクールのウェブサイトでダウンロードができます。無断複写・引用はご遠慮ください。
※2. このプリントを活用したオンライン授業のスケジュールは、しながわ・目黒こどもスクールのウェブサイトでご確認ください。




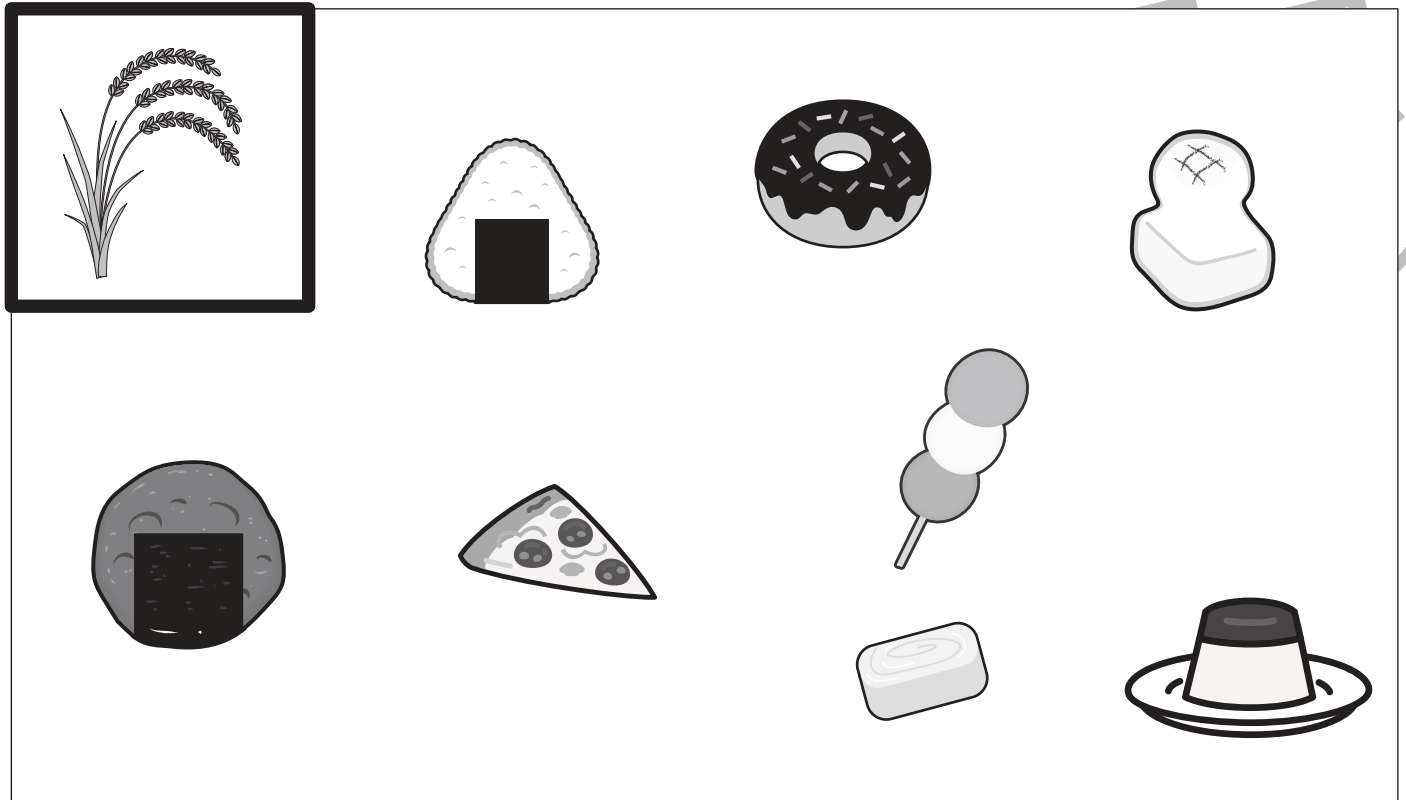


おうちで、やろう。

Study at home. 小学校受験の家庭学習教材

常識：生活1

左上の太い四角の中の絵からできるものを下の四角の中から見つけて○をつけます。



※1. このプリントは、しながわ・目黒こどもスクールのウェブサイトでダウンロードができます。無断複写・引用はご遠慮ください。
 ※2. このプリントを活用したオンライン授業のスケジュールは、しながわ・目黒こどもスクールのウェブサイトでご確認ください。




おうちで、やろう。

Study at home. 小学校受験の家庭学習教材

図形：移動 21

動物たちが家に向かって進みます。着いた家にそれぞれ印をつけます。

- ①パンダはまっすぐ進んで2つ目の交差点で右に曲がり、そのまままっすぐ進んだ先の家に入りました。その家に○をつけます。
- ②クマは1つ目の交差点を左に曲がった後、2つ目の交差点で右に曲がり、そのまままっすぐ進んだ先の家に入りました。その家に×をつけます。
- ③サルはまっすぐ進んで3つ目の交差点を左に曲がり、3つ目の交差点を右に曲がった先の家に入りました。その家に△をつけます。



※1. このプリントは、しながわ・目黒こどもスクールのウェブサイトでダウンロードができます。無断複写・引用はご遠慮ください。

※2. このプリントを活用したオンライン授業のスケジュールは、しながわ・目黒こどもスクールのウェブサイトでご確認ください。

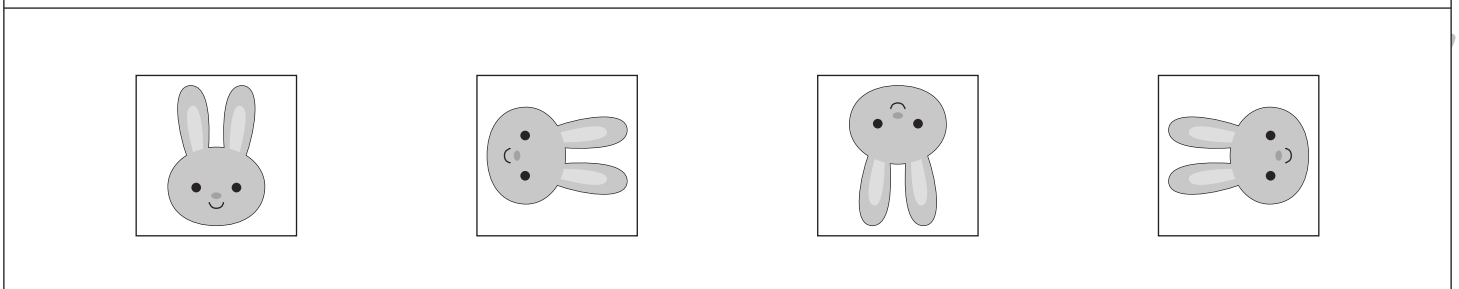

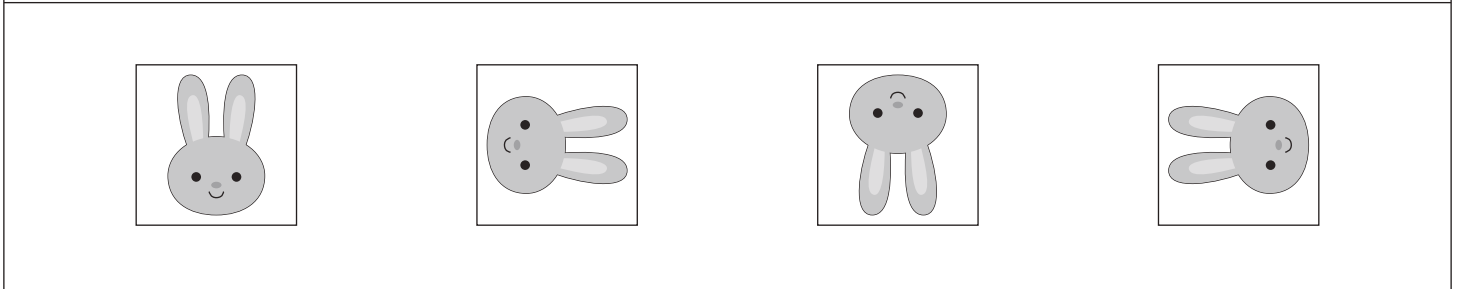
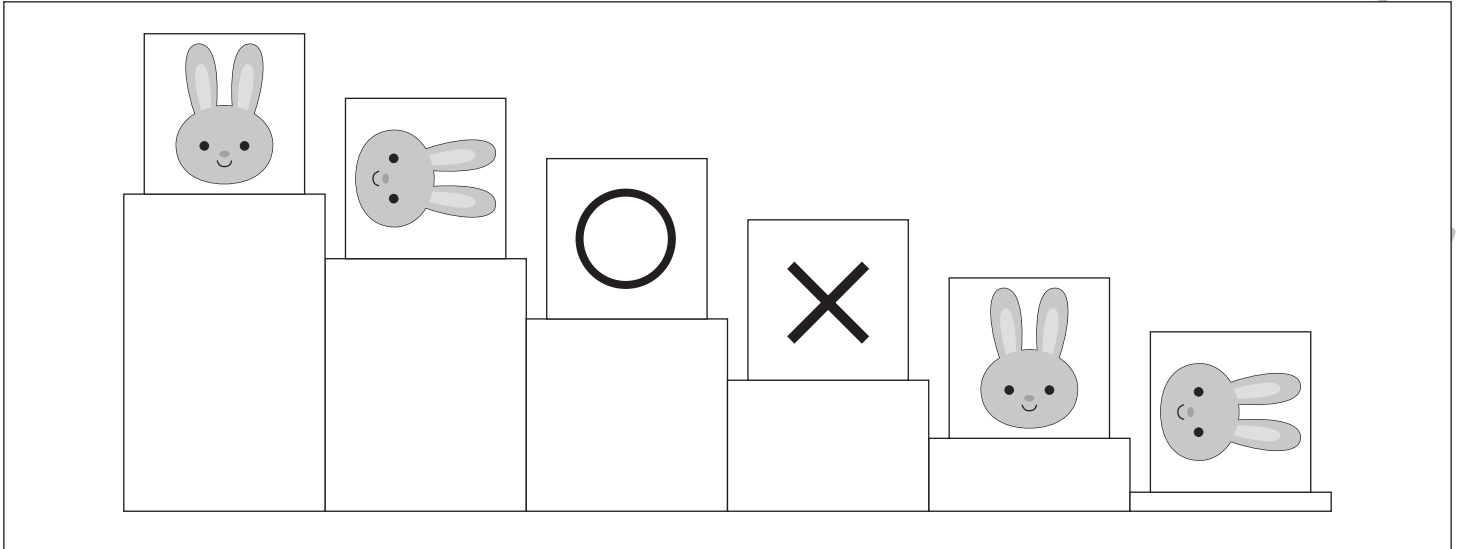


おうちで、やろう。

Study at home. 小学校受験の家庭学習教材

図形：回転 17

ウサギがかいてある箱が階段の上から下まで転がるとき、印がかいてある箱に当てはまる絵を下の四角の中から選んでそれぞれの印をつけます。



※1. このプリントは、しながわ・目黒こどもスクールのウェブサイトでダウンロードができます。無断複写・引用はご遠慮ください。
 ※2. このプリントを活用したオンライン授業のスケジュールは、しながわ・目黒こどもスクールのウェブサイトでご確認ください。







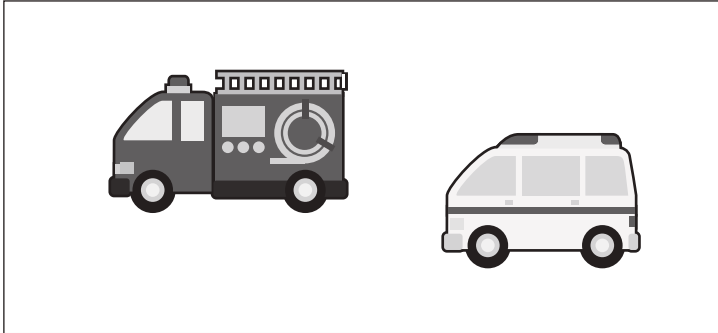


おうちで、やろう。

Study at home. 小学校受験の家庭学習教材

数量：タイヤの数3

左の四角の中の乗り物のタイヤの数を合わせるといくつになりますか。その数だけ右の四角の中に○をかきます。



※1. このプリントは、しながわ・目黒こどもスクールのウェブサイトでダウンロードができます。無断複写・引用はご遠慮ください。
※2. このプリントを活用したオンライン授業のスケジュールは、しながわ・目黒こどもスクールのウェブサイトでご確認ください。



おうちで、やろう。

Study at home. 小学校受験の家庭学習教材

数量：余る数6

左の四角の中にある動物が真ん中の大きな四角の中の果物をそれぞれ仲良く同じ数になるように分けます。余る果物の四角に余った数だけ〇をかきます。

| | | |
|--|--|--|
| | | |
| | | |
| | | |
| | | |
| | | |

※1. このプリントは、しながわ・目黒こどもスクールのウェブサイトからダウンロードできます。無断複写・引用はご遠慮ください。

※2. このプリントを活用したオンライン授業のスケジュールは、しながわ・目黒こどもスクールのウェブサイトでご確認ください。














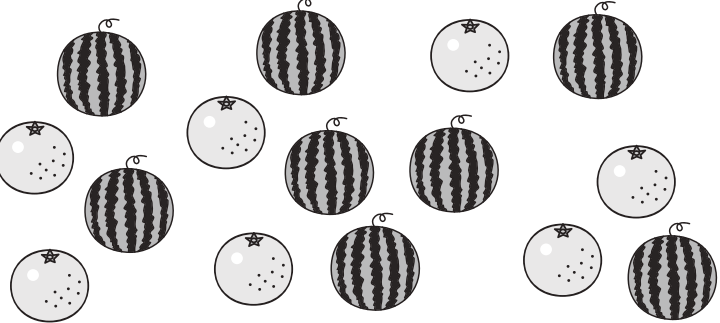








おうちで、やろう。

Study at home. 小学校受験の家庭学習教材

数量：余る数7

左の四角の中にある動物が真ん中の大きな四角の中の果物をそれぞれ仲良く同じ数になるように分けます。余る果物の四角に余った数だけ〇をかきます。

| | | |
|---|--|--|
|  |  |   |
|  |  |   |
|  |  |   |
|  |  |   |
|  |  |   |

※1. このプリントは、しながわ・目黒こどもスクールのウェブサイトからダウンロードできます。無断複写・引用はご遠慮ください。

※2. このプリントを活用したオンライン授業のスケジュールは、しながわ・目黒こどもスクールのウェブサイトでご確認ください。

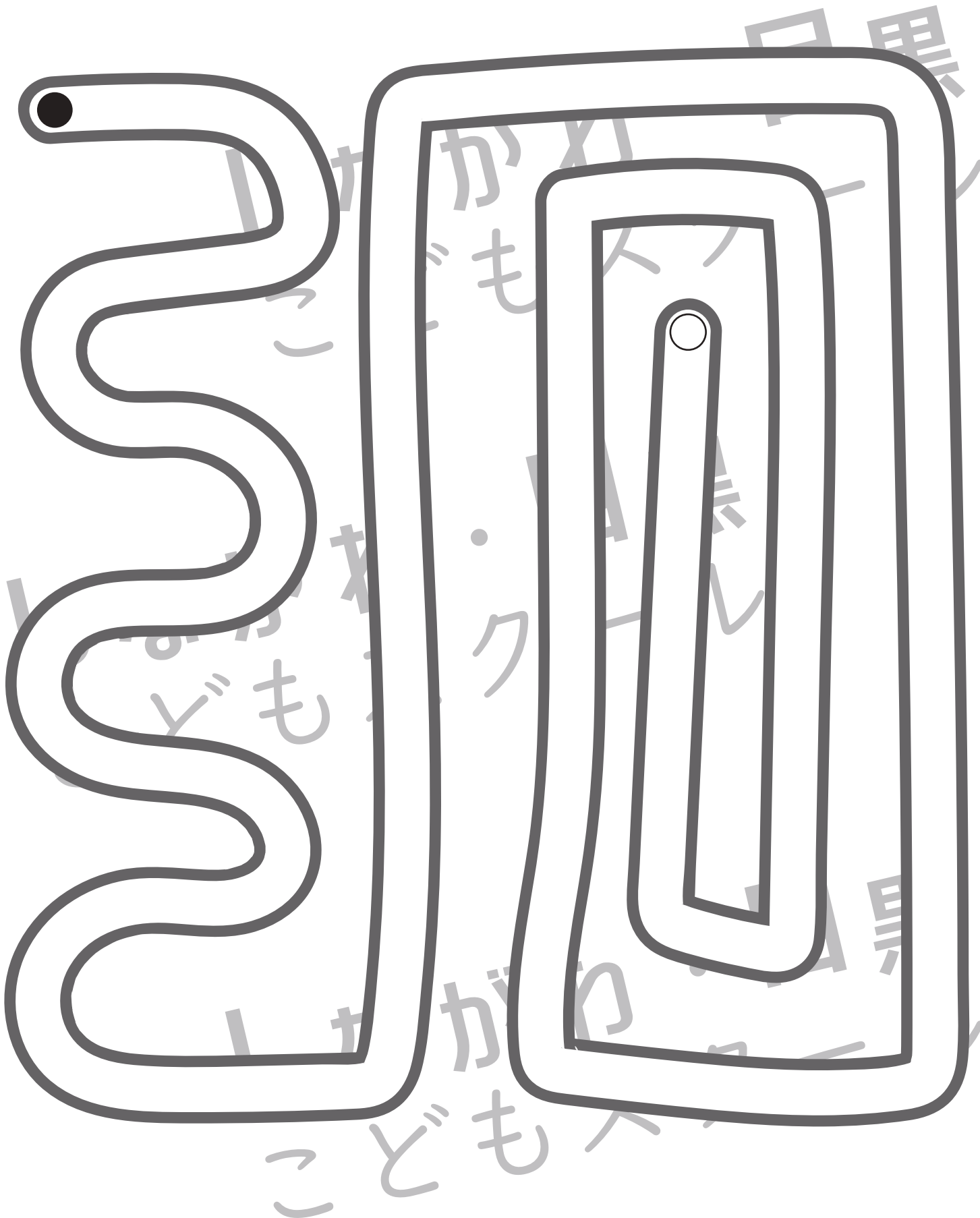


おうちで、やろう。

Study at home. 小学校受験の家庭学習教材

処理：運筆9

●から○まで一本の線をかきます。この時、壁にぶつからないようにきれいに素早く線をかきます。(1分～1分30秒)
※この問題に解答はありません。



※1. このプリントは、しながわ・目黒こどもスクールのウェブサイトからダウンロードできます。無断複写・引用はご遠慮ください。
※2. このプリントを活用したオンライン授業のスケジュールは、しながわ・目黒こどもスクールのウェブサイトでご確認ください。