



おうちで、やろう。

Study at home. 小学校受験の家庭学習教材

図形：回転 18

左の四角を矢印の方向に1回倒したとき、てんとう虫がどのマスに移動するか考えて右の四角に黒丸をかきます。

The puzzle consists of four rows. Each row shows a 2x2 grid with a ladybug in a specific position, followed by an arrow pointing to an empty 2x2 grid. The ladybug positions are as follows:

- Row 1: Ladybug in the top-left corner.
- Row 2: Ladybug in the top-right corner.
- Row 3: Ladybug in the bottom-left corner.
- Row 4: Ladybug in the bottom-right corner.

※1. このプリントは、しながわ・目黒こどもスクールのウェブサイトでダウンロードができます。無断複写・引用はご遠慮ください。
 ※2. このプリントを活用したオンライン授業のスケジュールは、しながわ・目黒こどもスクールのウェブサイトでご確認ください。

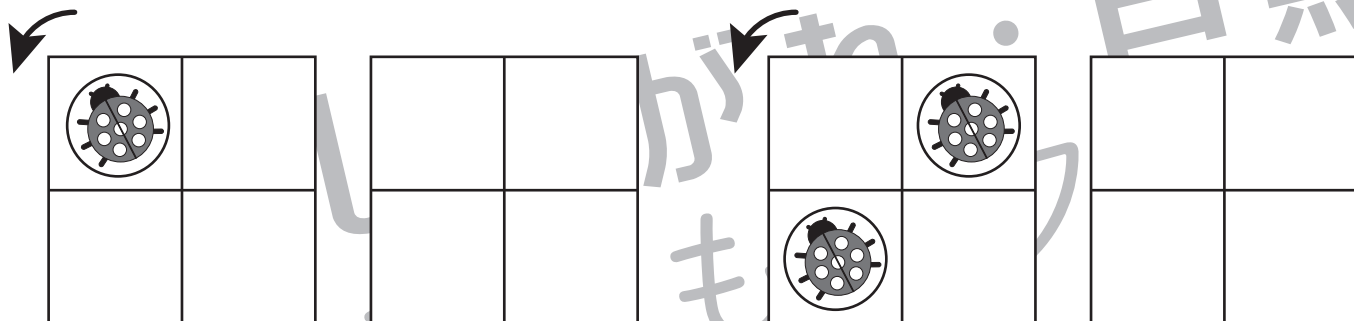
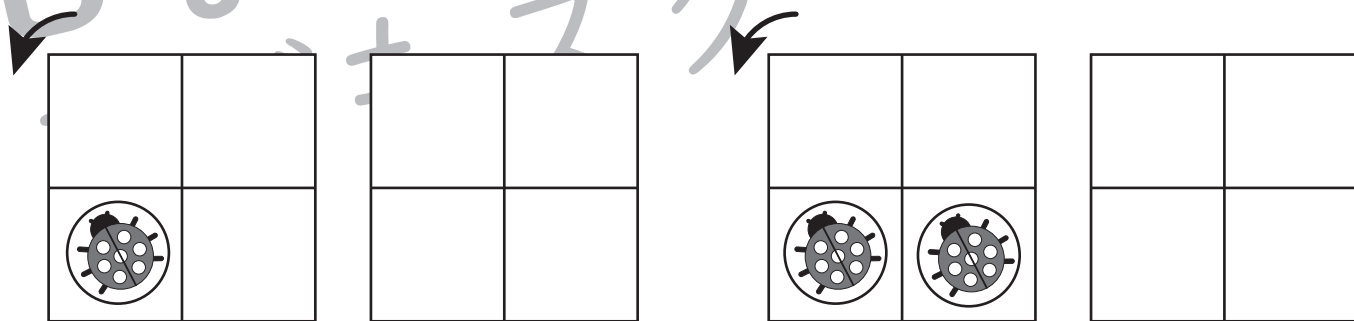
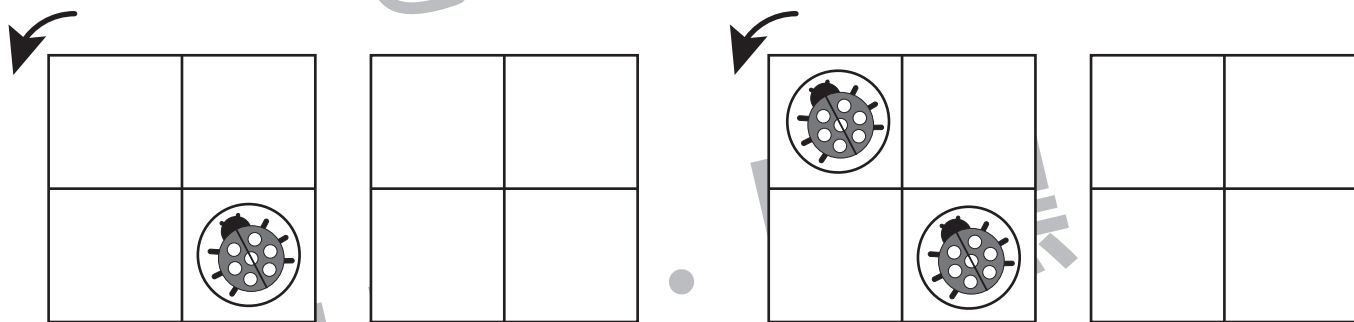
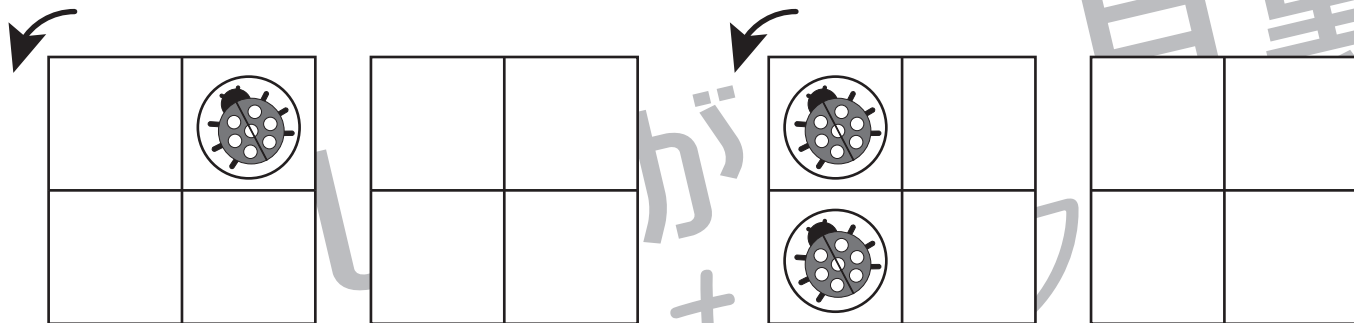


おうちで、やろう。

Study at home. 小学校受験の家庭学習教材

図形：回転 19

左の四角を矢印の方向に1回倒したとき、てんとう虫がどのマスに移動するか考えて右の四角に黒丸をかきます。



※1. このプリントは、しながわ・目黒こどもスクールのウェブサイトでダウンロードができます。無断複写・引用はご遠慮ください。
 ※2. このプリントを活用したオンライン授業のスケジュールは、しながわ・目黒こどもスクールのウェブサイトでご確認ください。

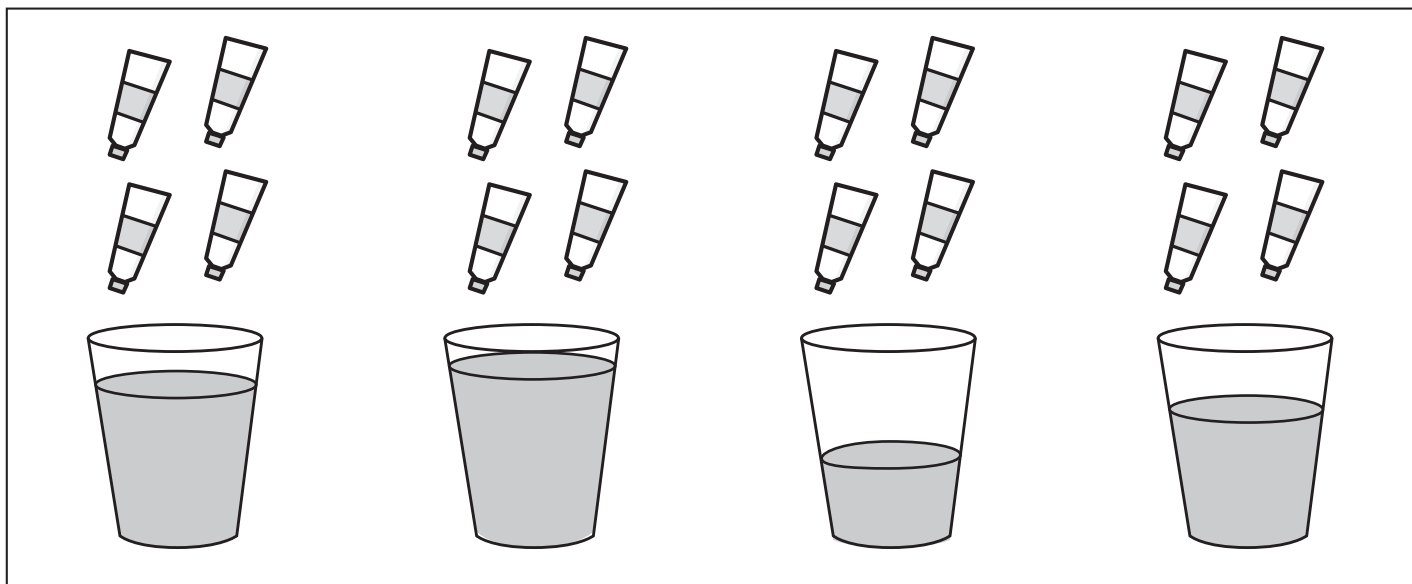

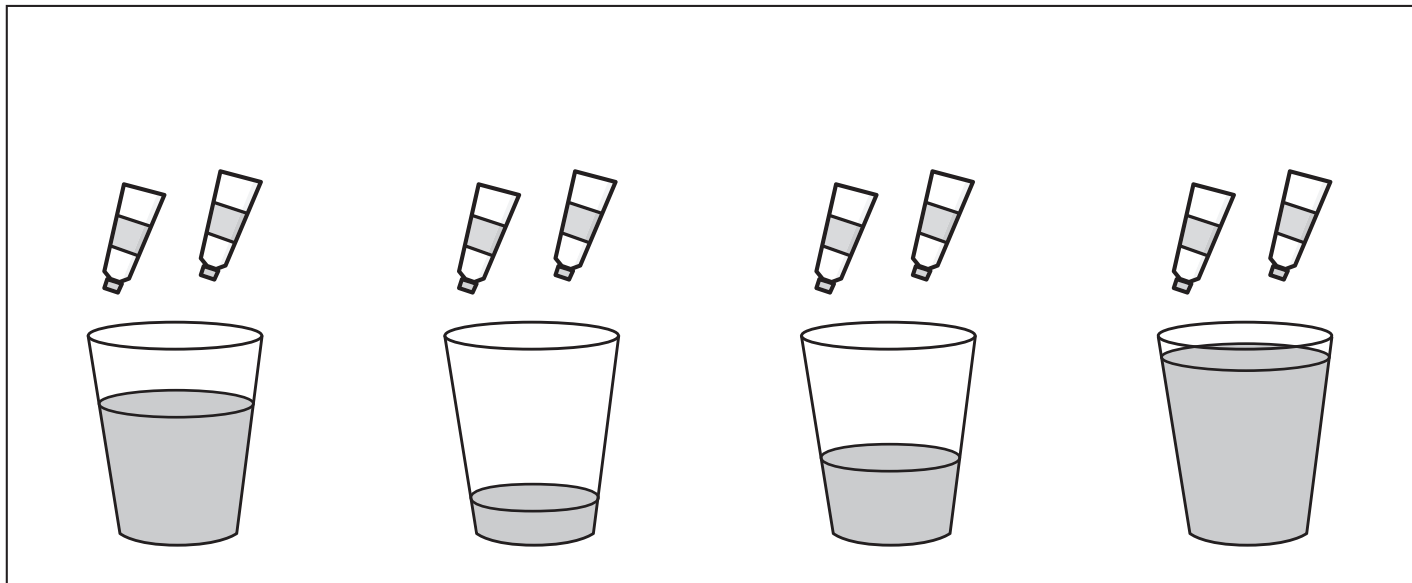


おうちで、やろう。

Study at home. 小学校受験の家庭学習教材

推理：濃度3

それぞれのコップの中に、コップの上にあるだけ絵の具を入れたとき、色が一番濃くなるコップに○をつけます。



※1. このプリントは、しながわ・目黒こどもスクールのウェブサイトでダウンロードができます。無断複写・引用はご遠慮ください。
※2. このプリントを活用したオンライン授業のスケジュールは、しながわ・目黒こどもスクールのウェブサイトでご確認ください。








おうちで、やろう。

Study at home. 小学校受験の家庭学習教材

推理：濃度4

それぞれのコップの中に、コップの上にあるだけ絵の具を入れたとき、色が一番濃くなるコップに○をつけます。



※1. このプリントは、しながわ・目黒こどもスクールのウェブサイトからダウンロードができます。無断複写・引用はご遠慮ください。
※2. このプリントを活用したオンライン授業のスケジュールは、しながわ・目黒こどもスクールのウェブサイトでご確認ください。




おうちで、やろう。



Study at home. 小学校受験の家庭学習教材

数量：置き換え 11



上の四角が約束です。クローバーを2つ買うのにコインが1枚必要です。太い四角の中のクローバーを買うのにコインは何枚必要なのか考えてその数だけ1番右の四角に○をかきます。





①





②



③



④



※1. このプリントは、しながわ・目黒こどもスクールのウェブサイトでダウンロードができます。無断複写・引用はご遠慮ください。

※2. このプリントを活用したオンライン授業のスケジュールは、しながわ・目黒こどもスクールのウェブサイトでご確認ください。






おうちで、やろう。



Study at home. 小学校受験の家庭学習教材

数量：置き換え 12



上の四角が約束です。クローバーを4つ買うのにコインが1枚必要です。太い四角の中のクローバーを買うのにコインは何枚必要なのか考えてその数だけ1番右の四角に○をかきます。





①





②



③



④



※1. このプリントは、しながわ・目黒こどもスクールのウェブサイトでダウンロードができます。無断複写・引用はご遠慮ください。

※2. このプリントを活用したオンライン授業のスケジュールは、しながわ・目黒こどもスクールのウェブサイトでご確認ください。



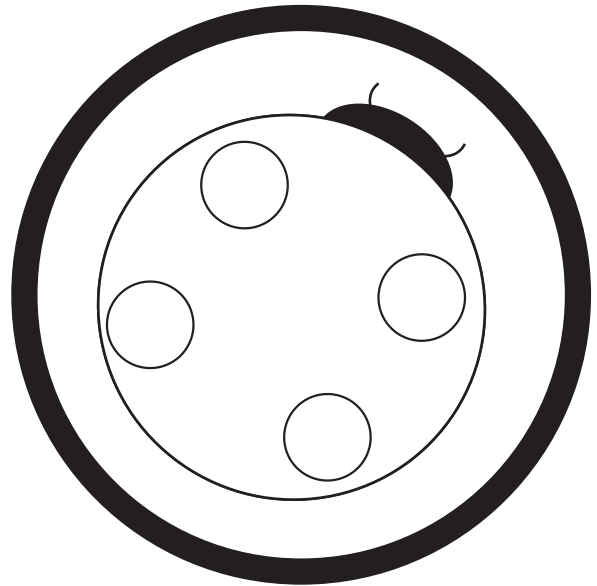
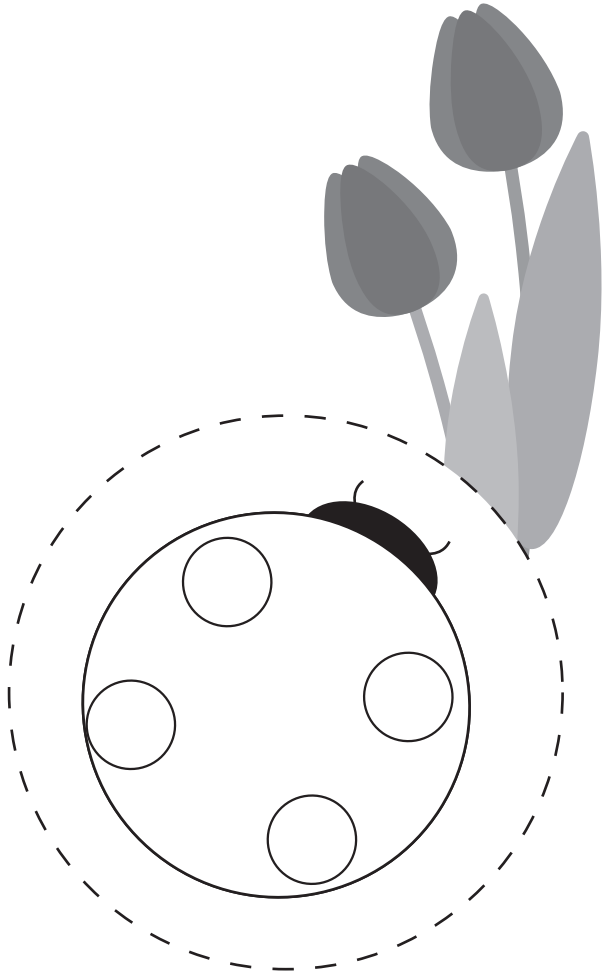




おうちで、やろう。

Study at home. 小学校受験の家庭学習教材

巧緻性：ちぎり 10

- ①右の四角の中の太陽をオレンジのクーピーで塗り、てんとう虫は大きいOを赤色のクーピーで、小さいOを黒色のクーピーで塗ります。
- ②右の太い四角の線の上をはさみで切ります。太い丸の線の上をちぎり、左の四角の点線の上のにりで貼ります。



※1. このプリントは、しながわ・目黒こどもスクールのウェブサイトでダウンロードができます。無断複写・引用はご遠慮ください。
 ※2. このプリントを活用したオンライン授業のスケジュールは、しながわ・目黒こどもスクールのウェブサイトでご確認ください。





おうちで、やろう。

Study at home. 小学校受験の家庭学習教材

巧緻性：ちぎり 11

- ①右の四角の中の蝶の羽を桃色のクーピーで塗り、タンポポは黄色のクーピーで塗ります。
- ②右の太い四角の線の上をはさみで切ります。太い丸の線の上をちぎり、左の四角の点線の上のにりで貼ります。



※1. このプリントは、しながわ・目黒こどもスクールのウェブサイトからダウンロードができます。無断複写・引用はご遠慮ください。
※2. このプリントを活用したオンライン授業のスケジュールは、しながわ・目黒こどもスクールのウェブサイトでご確認ください。





おうちで、やろう。

Study at home. 小学校受験の家庭学習教材

処理：運筆 10

●から○まで一本の線をかきます。この時、壁にぶつからないようにきれいに素早く線をかきます。(1分～1分30秒)

※この問題に解答はありません。



※1. このプリントは、しながわ・目黒こどもスクールのウェブサイトでダウンロードができます。無断複写・引用はご遠慮ください。

※2. このプリントを活用したオンライン授業のスケジュールは、しながわ・目黒こどもスクールのウェブサイトでご確認ください。

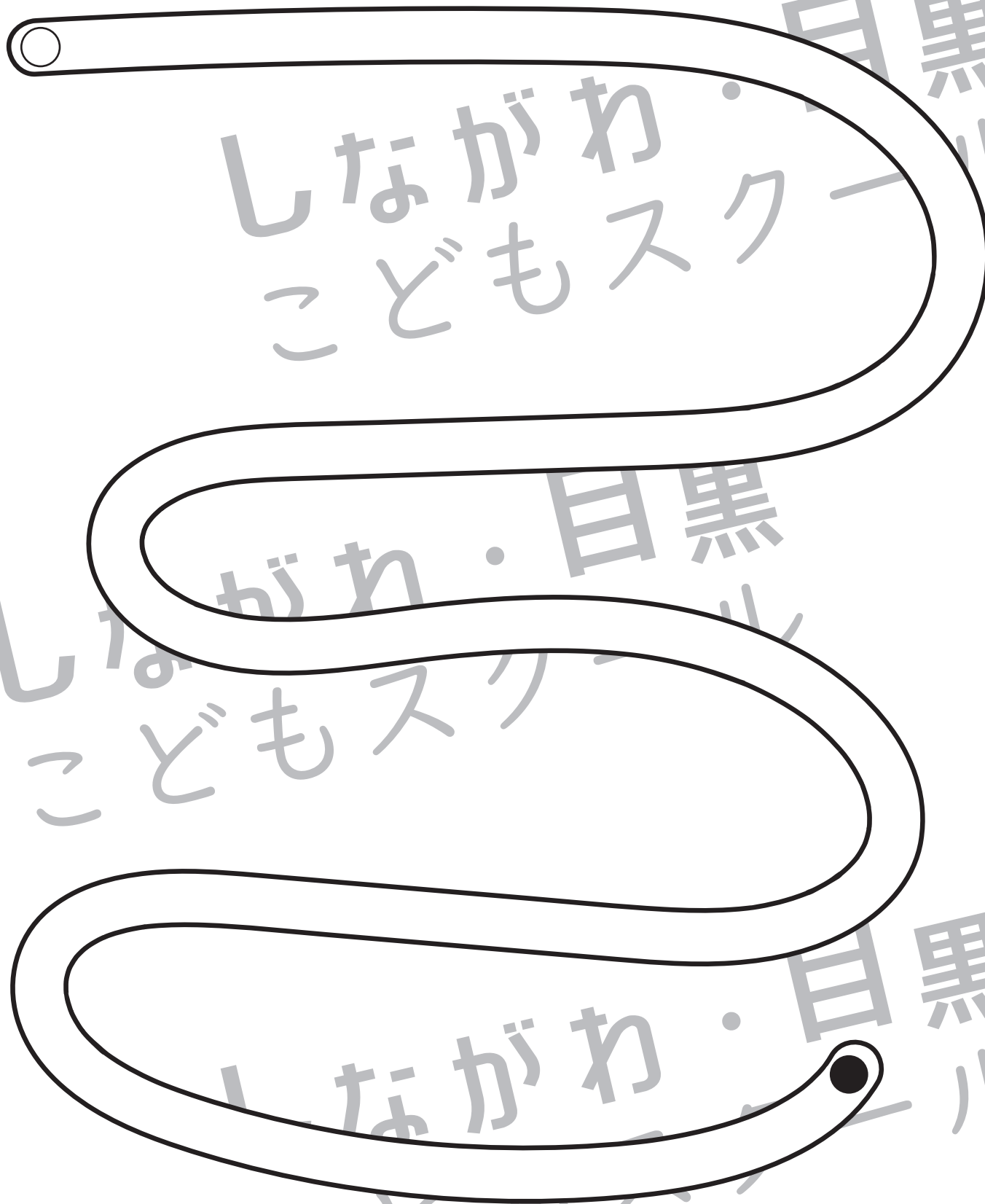


おうちで、やろう。

Study at home. 小学校受験の家庭学習教材

処理：運筆 11

●から○まで一本の線をかきます。この時、壁にぶつからないようにきれいに素早く線をかきます。(1分～1分30秒)
※この問題に解答はありません。



※1. このプリントは、しながわ・目黒こどもスクールのウェブサイトでダウンロードができます。無断複写・引用はご遠慮ください。
※2. このプリントを活用したオンライン授業のスケジュールは、しながわ・目黒こどもスクールのウェブサイトでご確認ください。