



# おうちで、やろう。

Study at home. 小学校受験の家庭学習教材

図形：回転 18

左の四角を矢印の方向に1回倒したとき、てんとう虫がどのマスに移動するか考えて右の四角に黒丸をかきます。

The grid consists of four rows and two columns of 2x2 squares. Each square is divided into four quadrants. An arrow points from the top-left corner of the left square to the top-right corner of the right square. The grid contains ladybugs and black circles in various positions across the squares.

- Row 1: Left square has a ladybug in the top-left quadrant. Right square has a black circle in the top-right quadrant.
- Row 2: Left square has a ladybug in the top-right quadrant. Right square has a black circle in the bottom-right quadrant.
- Row 3: Left square has a ladybug in the bottom-right quadrant. Right square has a black circle in the bottom-left quadrant.
- Row 4: Left square has a ladybug in the bottom-left quadrant. Right square has a black circle in the top-left quadrant.

※1. このプリントは、しながわ・目黒こどもスクールのウェブサイトでダウンロードができます。無断複写・引用はご遠慮ください。  
 ※2. このプリントを活用したオンライン授業のスケジュールは、しながわ・目黒こどもスクールのウェブサイトでご確認ください。

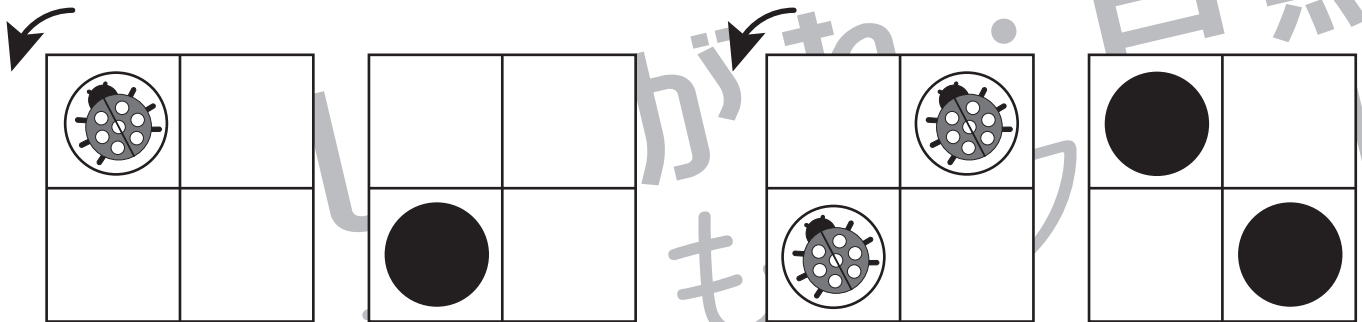
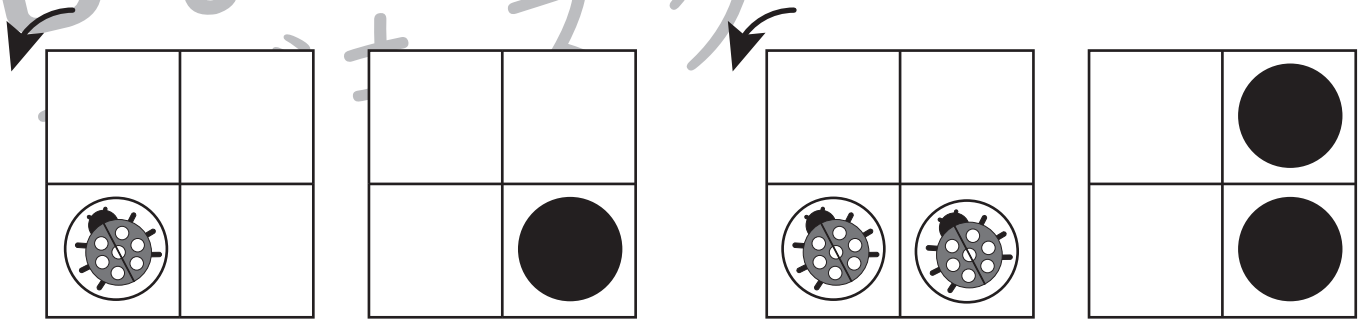
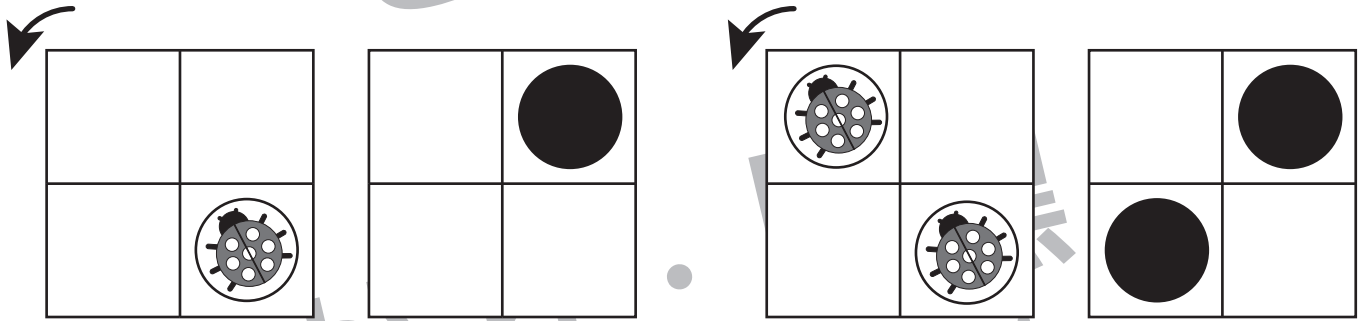
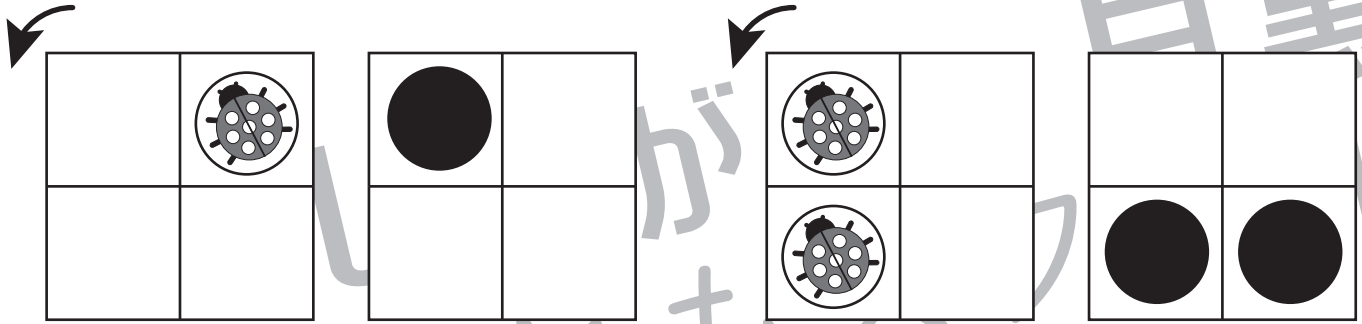


# おうちで、やろう。

Study at home. 小学校受験の家庭学習教材

## 図形：回転 19

左の四角を矢印の方向に1回倒したとき、てんとう虫がどのマスに移動するか考えて右の四角に黒丸をかきます。



※1. このプリントは、しながわ・目黒こどもスクールのウェブサイトでダウンロードができます。無断複写・引用はご遠慮ください。  
 ※2. このプリントを活用したオンライン授業のスケジュールは、しながわ・目黒こどもスクールのウェブサイトでご確認ください。






# おうちで、やろう。

Study at home. 小学校受験の家庭学習教材

推理：濃度3

それぞれのコップの中に、コップの上にあるだけ絵の具を入れたとき、色が一番濃くなるコップに○をつけます。



※1. このプリントは、しながわ・目黒こどもスクールのウェブサイトダウンロードができます。無断複写・引用はご遠慮ください。  
※2. このプリントを活用したオンライン授業のスケジュールは、しながわ・目黒こどもスクールのウェブサイトでご確認ください。








# おうちで、やろう。

Study at home. 小学校受験の家庭学習教材

推理：濃度4

それぞれのコップの中に、コップの上にあるだけ絵の具を入れたとき、色が一番濃くなるコップに○をつけます。



※1. このプリントは、しながわ・目黒こどもスクールのウェブサイトからダウンロードできます。無断複写・引用はご遠慮ください。

※2. このプリントを活用したオンライン授業のスケジュールは、しながわ・目黒こどもスクールのウェブサイトでご確認ください。






# おうちで、やろう。


Study at home. 小学校受験の家庭学習教材

数量：置き換え 11


上の四角が約束です。クローバーを2つ買うのにコインが1枚必要です。太い四角の中のクローバーを買うのにコインは何枚必要なのか考えてその数だけ1番右の四角に〇をかきます。




①




②



③



④



※1. このプリントは、しながわ・目黒こどもスクールのウェブサイトでダウンロードができます。無断複写・引用はご遠慮ください。

※2. このプリントを活用したオンライン授業のスケジュールは、しながわ・目黒こどもスクールのウェブサイトでご確認ください。




# おうちで、やろう。


Study at home. 小学校受験の家庭学習教材

数量：置き換え 12


上の四角が約束です。クローバーを4つ買うのにコインが1枚必要です。太い四角の中のクローバーを買うのにコインは何枚必要なのか考えてその数だけ1番右の四角に○をかきます。




①




②



③



④



※1. このプリントは、しながわ・目黒こどもスクールのウェブサイトでダウンロードができます。無断複写・引用はご遠慮ください。

※2. このプリントを活用したオンライン授業のスケジュールは、しながわ・目黒こどもスクールのウェブサイトでご確認ください。

