



# おうちで、やろう。

Study at home. 小学校受験の家庭学習教材

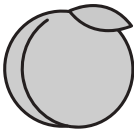
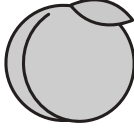


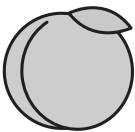




## 記憶：絵の記憶 12 記憶用紙

別紙『記憶 - 絵の記憶 12』を行う際に使用します。記憶用紙は点線で折って(切って)、①、②の問題の際にそれぞれ 20 秒間ずつ記憶させてください。記憶する際は問題用紙は裏返しにします。記憶後①、②それぞれの問題に答えましょう。








①動物がいたマスに青のクーピーで塗ります。

②一番多い果物のマスを赤のクーピーで塗ります。

①

②

※1. このプリントは、しながわ・目黒こどもスクールのウェブサイトダウンロードができます。無断複写・引用はご遠慮ください。

※2. このプリントを活用したオンライン授業のスケジュールは、しながわ・目黒こどもスクールのウェブサイトでご確認ください。



# おうちで、やろう。

Study at home. 小学校受験の家庭学習教材

## 記憶：絵の記憶 12

別紙『記憶 - 絵の記憶 12 記憶用紙』を使用します。記憶用紙の形を見た後に①、②の問題に取り組みましょう。  
※このプリントの解答は記憶用紙で確認してください。

①


②


※1. このプリントは、しながわ・目黒こどもスクールのウェブサイトからダウンロードできます。無断複写・引用はご遠慮ください。  
※2. このプリントを活用したオンライン授業のスケジュールは、しながわ・目黒こどもスクールのウェブサイトでご確認ください。







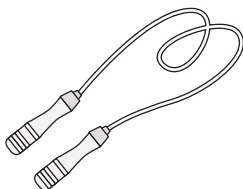





# おうちで、やろう。

Study at home. 小学校受験の家庭学習教材

## 言語：音の理解 15

絵の右にある○は絵の名前の音を表します。○の数は音の数、並び方は左端がはじめの音、右端が終りの音です。このとき左の四角の中の絵の●の場所の音を考えます。右の四角の絵で左の四角の●と同じ音の場所を探して○を塗ります。

	● ○ ○		○ ○ ○
	○ ○ ○ ●		○ ○ ○ ○
	○ ○ ○ ●		○ ○ ○
	○ ○ ● ○		○ ○ ○
	○ ○ ●		○ ○ ○ ○ ○

※1. このプリントは、しながわ・目黒こどもスクールのウェブサイトからダウンロードできます。無断複写・引用はご遠慮ください。

※2. このプリントを活用したオンライン授業のスケジュールは、しながわ・目黒こどもスクールのウェブサイトでご確認ください。



# おうちで、やろう。

Study at home. 小学校受験の家庭学習教材

## 図形：鏡 13

左の太い四角の中の形を鏡に映したときの見え方を考えます。正しいものを右の四角の中から選んで○をつけます。

--	--	--	--	--

--	--	--	--	--

--	--	--	--	--

--	--	--	--	--

--	--	--	--	--

※1. このプリントは、しながわ・目黒こどもスクールのウェブサイトからダウンロードができます。無断複写・引用はご遠慮ください。  
 ※2. このプリントを活用したオンライン授業のスケジュールは、しながわ・目黒こどもスクールのウェブサイトでご確認ください。



# おうちで、やろう。

Study at home. 小学校受験の家庭学習教材

左の太い四角の中の形を鏡に映したときの見え方を考えます。正しいものを右の四角の中から選んで○をつけます。

--	--	--	--	--

--	--	--	--	--

--	--	--	--	--

--	--	--	--	--

--	--	--	--	--

※1. このプリントは、しながわ・目黒こどもスクールのウェブサイトからダウンロードができます。無断複写・引用はご遠慮ください。  
 ※2. このプリントを活用したオンライン授業のスケジュールは、しながわ・目黒こどもスクールのウェブサイトでご確認ください。





# おうちで、やろう。

Study at home. 小学校受験の家庭学習教材

## 図形：重ね 18

左の透明な 2 枚の板を重ねた時の見え方を考えます。このとき、隠れないで見えている印だけを右の四角にかきます。


※1. このプリントは、しながわ・目黒こどもスクールのウェブサイトでダウンロードができます。無断複写・引用はご遠慮ください。  
 ※2. このプリントを活用したオンライン授業のスケジュールは、しながわ・目黒こどもスクールのウェブサイトでご確認ください。



# おうちで、やろう。

Study at home. 小学校受験の家庭学習教材

## 図形：重ね 19

左の透明な2枚の板を重ねた時の見え方を考えます。このとき、隠れないで見えている印だけを右の四角にかきます。


※1. このプリントは、しながわ・目黒こどもスクールのウェブサイトでダウンロードができます。無断複写・引用はご遠慮ください。  
 ※2. このプリントを活用したオンライン授業のスケジュールは、しながわ・目黒こどもスクールのウェブサイトでご確認ください。





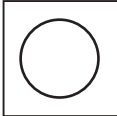
















# おうちで、やろう。








Study at home. 小学校受験の家庭学習教材









## 推理：ブラックボックス6









上の太い四角が約束です。○の箱に左の四角が入ると右に1回倒れて出てきます。●の箱に左の四角が入ると左に1回倒れて出てきます。この約束のとき、それぞれ左の四角が箱に入って出てきた見え方を考えて右の太い四角の中から選んで○をつけます。










 →  → 	 →  → 
 →  → 	 →  → 

 →  →  →				
---	--	---	---	---

 →  →  →				
---	--	---	---	---

 →  →  →  →				
---	--	---	---	---

 →  →  →  →				
---	--	---	---	---

 →  →  →  →  →				
---	--	---	---	---

※1. このプリントは、しながわ・目黒こどもスクールのウェブサイトでダウンロードができます。無断複写・引用はご遠慮ください。

※2. このプリントを活用したオンライン授業のスケジュールは、しながわ・目黒こどもスクールのウェブサイトでご確認ください。







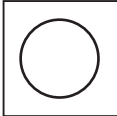












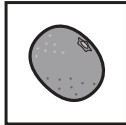
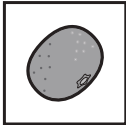

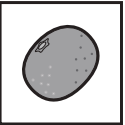
# おうちで、やろう。








Study at home. 小学校受験の家庭学習教材









## 推理：ブラックボックス7

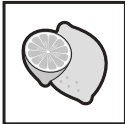



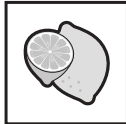
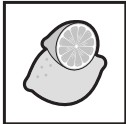


上の太い四角が約束です。○の箱に左の四角が入ると右に1回倒れて出てきます。●の箱に左の四角が入ると左に1回倒れて出てきます。この約束のとき、それぞれ左の四角が箱に入って出てきた見え方を考えて右の太い四角の中から選んで○をつけます。










 →  → 	 →  → 
 →  → 	 →  → 

 →  →  →				
---	--	---	---	---

 →  →  →				
---	--	---	---	---

 →  →  →  →				
---	--	---	---	---

 →  →  →  →				
---	--	---	---	---

 →  →  →  →  →				
---	--	---	---	---

※1. このプリントは、しながわ・目黒こどもスクールのウェブサイトでダウンロードができます。無断複写・引用はご遠慮ください。

※2. このプリントを活用したオンライン授業のスケジュールは、しながわ・目黒こどもスクールのウェブサイトでご確認ください。




# おうちで、やろう。

Study at home. 小学校受験の家庭学習教材

運筆：濃淡4

左のお手本と同じ濃さになるように右の形を塗ります。この問題は鉛筆でやりましょう。  
※この問題に解答はありません。



※1. このプリントは、しながわ・目黒こどもスクールのウェブサイトからダウンロードできます。無断複写・引用はご遠慮ください。

※2. このプリントを活用したオンライン授業のスケジュールは、しながわ・目黒こどもスクールのウェブサイトでご確認ください。




# おうちで、やろう。

Study at home. 小学校受験の家庭学習教材

処理：計数 11

大きな四角の中の野菜を数えます。その数だけ下の四角に○をかきます。








※1. このプリントは、しながわ・目黒こどもスクールのウェブサイトでダウンロードができます。無断複写・引用はご遠慮ください。  
※2. このプリントを活用したオンライン授業のスケジュールは、しながわ・目黒こどもスクールのウェブサイトでご確認ください。