







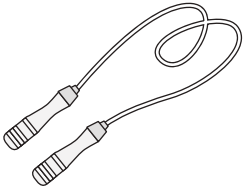





おうちで、やろう。

Study at home. 小学校受験の家庭学習教材

言語：音の理解 15

絵の右にある○は絵の名前の音を表します。○の数は音の数、並び方は左端がはじめの音、右端が終りの音です。このとき左の四角の中の絵の●の場所の音を考えます。右の四角の絵で左の四角の●と同じ音の場所を探して○を塗ります。

	● ○ ○		● ○ ○
	○ ○ ○ ●		○ ○ ○ ●
	○ ○ ○ ●		● ○ ○
	○ ○ ● ○		● ○ ●
	○ ○ ●		○ ○ ○ ○ ●

※1. このプリントは、しながわ・目黒こどもスクールのウェブサイトからダウンロードできます。無断複写・引用はご遠慮ください。

※2. このプリントを活用したオンライン授業のスケジュールは、しながわ・目黒こどもスクールのウェブサイトでご確認ください。



おうちで、やろう。

Study at home. 小学校受験の家庭学習教材

図形：鏡 13

左の太い四角の中の形を鏡に映したときの見え方を考えます。正しいものを右の四角の中から選んで○をつけます。

--	--	--	--	--

--	--	--	--	--

--	--	--	--	--

--	--	--	--	--

--	--	--	--	--

※1. このプリントは、しながわ・目黒こどもスクールのウェブサイトからダウンロードができます。無断複写・引用はご遠慮ください。
 ※2. このプリントを活用したオンライン授業のスケジュールは、しながわ・目黒こどもスクールのウェブサイトでご確認ください。



おうちで、よろう。

Study at home. 小学校受験の家庭学習教材

左の太い四角の中の形を鏡に映したときの見え方を考えます。正しいものを右の四角の中から選んで○をつけます。

--	--	--	--	--

--	--	--	--	--

--	--	--	--	--

--	--	--	--	--

--	--	--	--	--

※1. このプリントは、しながわ・目黒こどもスクールのウェブサイトからダウンロードができます。無断複写・引用はご遠慮ください。
 ※2. このプリントを活用したオンライン授業のスケジュールは、しながわ・目黒こどもスクールのウェブサイトでご確認ください。





おうちで、やろう。

Study at home. 小学校受験の家庭学習教材

図形：重ね 18

左の透明な 2 枚の板を重ねた時の見え方を考えます。このとき、隠れないで見えている印だけを右の四角にかきます。

※1. このプリントは、しながわ・目黒こどもスクールのウェブサイトでダウンロードができます。無断複写・引用はご遠慮ください。

※2. このプリントを活用したオンライン授業のスケジュールは、しながわ・目黒こどもスクールのウェブサイトでご確認ください。



おうちで、よろう。

Study at home. 小学校受験の家庭学習教材

図形：重ね 19

左の透明な 2 枚の板を重ねた時の見え方を考えます。このとき、隠れないで見えている印だけを右の四角にかきます。

※1. このプリントは、しながわ・目黒こどもスクールのウェブサイトでダウンロードができます。無断複写・引用はご遠慮ください。
 ※2. このプリントを活用したオンライン授業のスケジュールは、しながわ・目黒こどもスクールのウェブサイトでご確認ください。





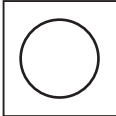






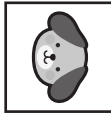









おうちで、よろう。








Study at home. 小学校受験の家庭学習教材









推理：ブラックボックス6









上の太い四角が約束です。○の箱に左の四角が入ると右に1回倒れて出てきます。●の箱に左の四角が入ると左に1回倒れて出てきます。この約束のとき、それぞれ左の四角が箱に入って出てきた見え方を考えて右の太い四角の中から選んで○をつけます。










 →  → 	 →  → 
 →  → 	 →  → 

 →  →  →				
---	--	---	---	---

 →  →  →				
---	--	---	---	---

 →  →  →  →				
---	--	---	---	---

 →  →  →  →				
---	--	---	---	---

 →  →  →  →  →				
---	--	---	---	---

※1. このプリントは、しながわ・目黒こどもスクールのウェブサイトでダウンロードができます。無断複写・引用はご遠慮ください。
 ※2. このプリントを活用したオンライン授業のスケジュールは、しながわ・目黒こどもスクールのウェブサイトでご確認ください。





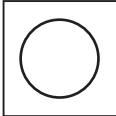












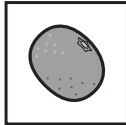
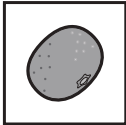

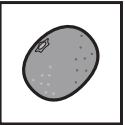
おうちで、やろう。








Study at home. 小学校受験の家庭学習教材









推理：ブラックボックス7

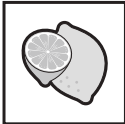



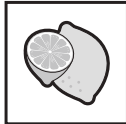



上の太い四角が約束です。○の箱に左の四角が入ると右に1回倒れて出てきます。●の箱に左の四角が入ると左に1回倒れて出てきます。この約束のとき、それぞれ左の四角が箱に入って出てきた見え方を考えて右の太い四角の中から選んで○をつけます。










 →  → 	 →  → 
 →  → 	 →  → 

 →  →  →				
---	--	---	---	---

 →  →  →				
---	--	---	---	---

 →  →  →  →				
---	--	---	---	---

 →  →  →  →				
---	--	---	---	---

 →  →  →  →  →				
---	--	---	---	---

※1. このプリントは、しながわ・目黒こどもスクールのウェブサイトでダウンロードができます。無断複写・引用はご遠慮ください。

※2. このプリントを活用したオンライン授業のスケジュールは、しながわ・目黒こどもスクールのウェブサイトでご確認ください。




おうちで、やろう。

Study at home. 小学校受験の家庭学習教材

処理：計数 11

大きな四角の中の野菜を数えます。その数だけ下の四角に○をかきます。



○ × 6



○ × 5



○ × 8



○ × 10