



おうちで、やろう。 年中児版

Study at home. 小学校受験の家庭学習教材

記憶：お話の記憶 1

①～④のお話を聞いて、下の①～③の四角に答えをかきます。

▼お話①

今日、ウサギさんはおつかいでスーパーに行きました。ウサギさんが買ったのはにんじん5本、だいこん1本、なす2本でした。

▼お話②

今日、キリンさんは魚釣りをするために川へ出かけました。川に着くとサルさん、トラさん、キツネさんがいました。キリンさんは魚を2匹、トラさんは魚を1匹、キツネさんは魚を4匹釣っていました。

▼お話③


金曜日の朝、クマさんが目を覚ましてカーテンを開けると外は晴れていました。ところが、お昼過ぎにリビングでテレビを見ているとゴロゴロと音がして、窓から外を見てみると雷が鳴っていました。クマくんは夜一人で眠れるか心配でしたが、その日の夜は雷が鳴りやんで曇り空になっていました。

▼お話①の設問

ウサギさんがスーパーで買った、にんじんとなすは合わせていくつですか。その数だけ下の四角に○をかきます。


▼お話②の設問

このお話に出てこなかった動物に○をつけます。



▼お話③の設問

朝、昼、夜の天気の変化で正しいものに○をつけます。



※1. このプリントは、しながわ・目黒こどもスクールのウェブサイトでダウンロードができます。無断複写・引用はご遠慮ください。
※2. このプリントを活用したオンライン授業のスケジュールは、しながわ・目黒こどもスクールのウェブサイトでご確認ください。



おうちで、やろう。 年中児版

Study at home. 小学校受験の家庭学習教材

推理：系列完成8

① ☆から★まで○→○→□→□の順番に記号を鉛筆でかきます。

② ☆から★まで▷→△→○→○の順番に記号を鉛筆でかきます。

※点線はなぞります。また、この問題に解答はありません。

①

☆	○	○	□	□		
★						

①

☆	▷	△	○	○		
						★

※1. このプリントは、しながわ・目黒こどもスクールのウェブサイトでダウンロードができます。無断複写・引用はご遠慮ください。
 ※2. このプリントを活用したオンライン授業のスケジュールは、しながわ・目黒こどもスクールのウェブサイトでご確認ください。



おうちで、やろう。 年中児版

Study at home. 小学校受験の家庭学習教材

推理：系列完成9

① ☆から★まで○→×→□→△の順番に記号を鉛筆でかきます。

② ☆から★まで△→×→△→○の順番に記号を鉛筆でかきます。

※点線はなぞります。また、この問題に解答はありません。

①

☆	○	×	□	△			
★							

①

☆	△	×	△	○			
							★

※1. このプリントは、しながわ・目黒こどもスクールのウェブサイトからダウンロードができます。無断複写・引用はご遠慮ください。
 ※2. このプリントを活用したオンライン授業のスケジュールは、しながわ・目黒こどもスクールのウェブサイトでご確認ください。

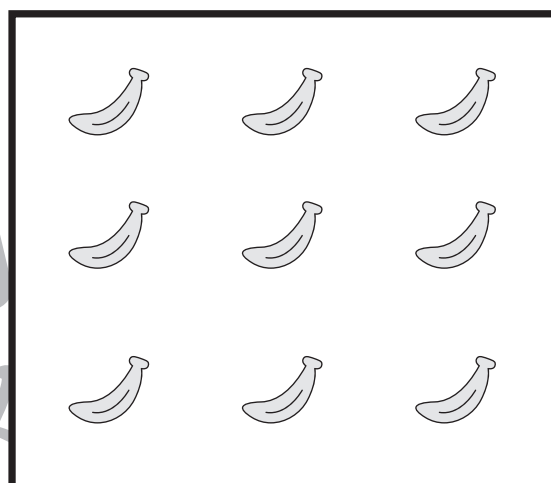

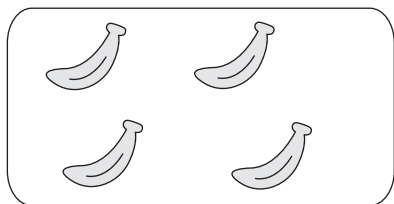
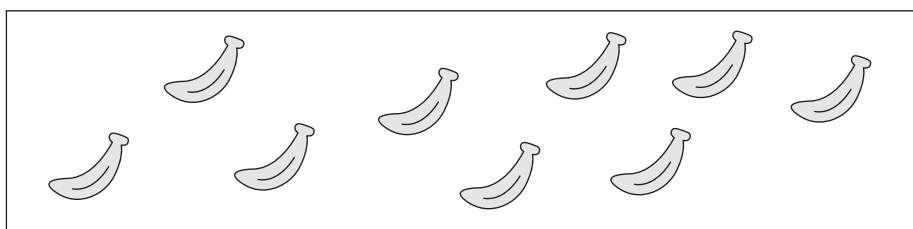
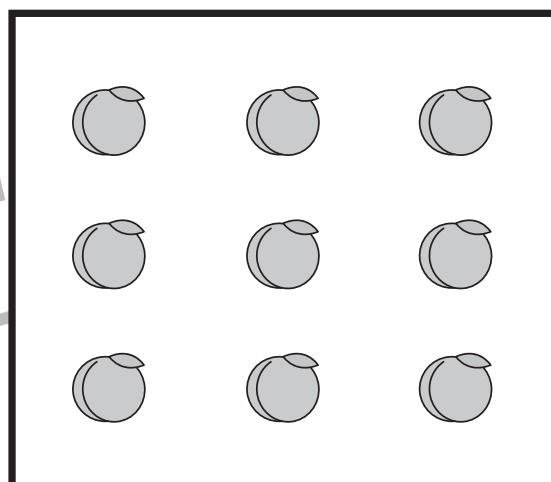

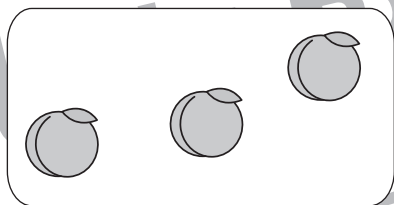
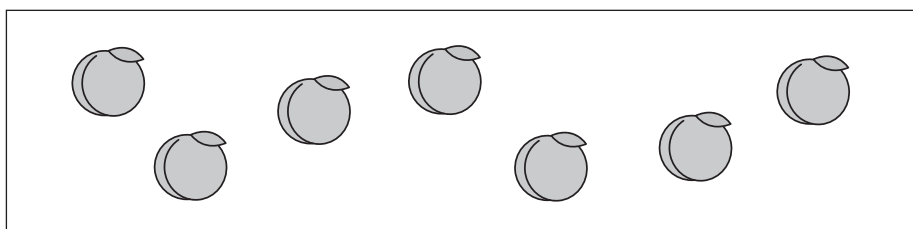





おうちで、やろう。 年中児版

Study at home. 小学校受験の家庭学習教材

数量：加減 12

上の四角の中の果物をウサギが上にある吹き出しの中の数だけ先に取りました。
このとき、隣の動物の分はいくつになりますか。その数だけ太い四角の中の果物に○をつけます。



※1. このプリントは、しながわ・目黒こどもスクールのウェブサイトでダウンロードができます。無断複写・引用はご遠慮ください。
※2. このプリントを活用したオンライン授業のスケジュールは、しながわ・目黒こどもスクールのウェブサイトでご確認ください。

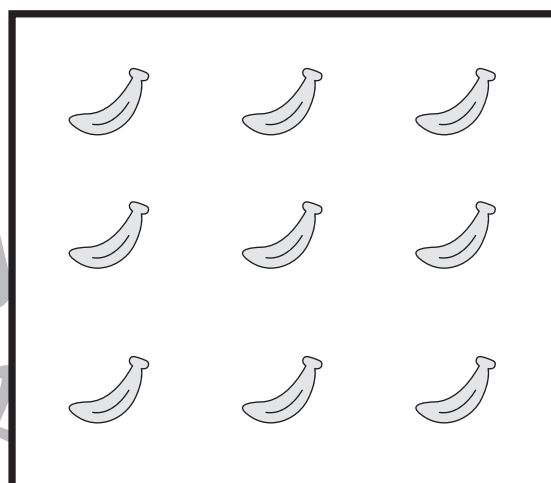

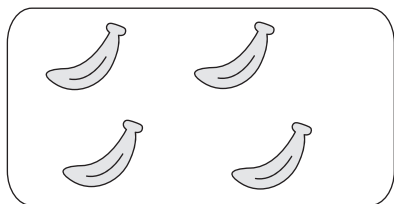
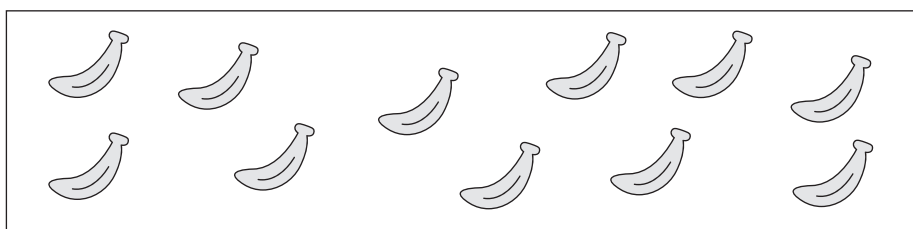
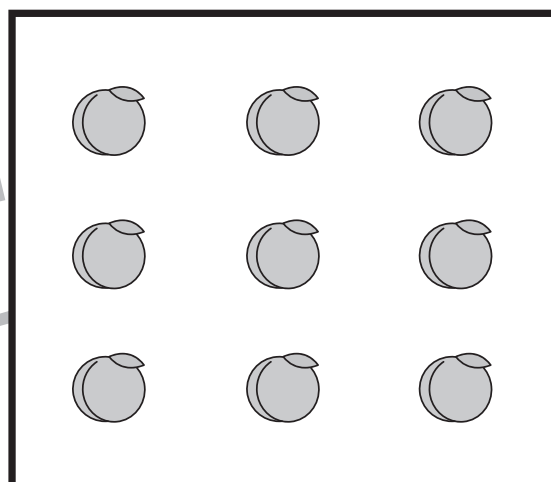

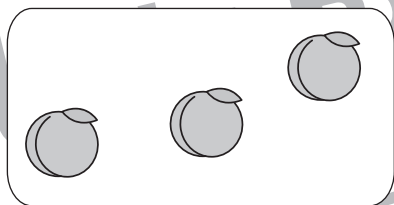
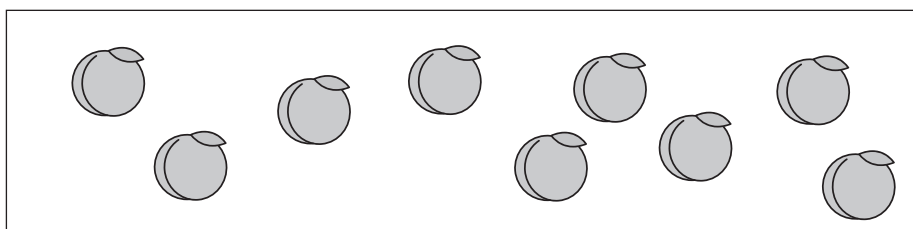






おうちで、やろう。 年中児版

Study at home. 小学校受験の家庭学習教材

数量：加減 13

上の四角の中の果物をウサギが上にある吹き出しの中の数だけ先に取りました。
このとき、隣の動物の分はいくつになりますか。その数だけ太い四角の中の果物に○をつけます。



※1. このプリントは、しながわ・目黒こどもスクールのウェブサイトでダウンロードができます。無断複写・引用はご遠慮ください。
※2. このプリントを活用したオンライン授業のスケジュールは、しながわ・目黒こどもスクールのウェブサイトでご確認ください。



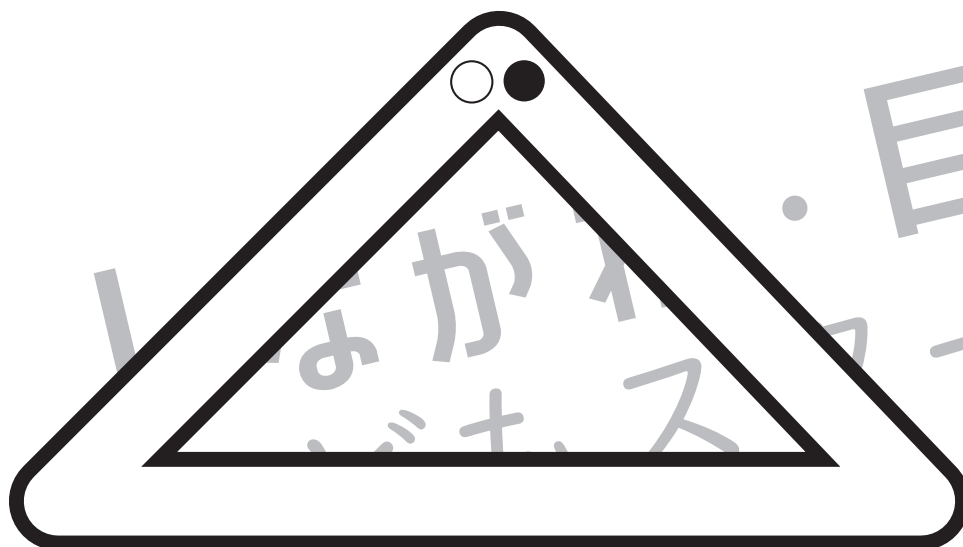

おうちで、やろう。年中児版

Study at home. 小学校受験の家庭学習教材

処理：運筆1

●から○まで一本の線をかきます。この時、壁にぶつからないようにきれいに素早く線をかきます。(1分～1分30秒)

※この問題に解答はありません。



※1. このプリントは、しながわ・目黒こどもスクールのウェブサイトでダウンロードができます。無断複写・引用はご遠慮ください。

※2. このプリントを活用したオンライン授業のスケジュールは、しながわ・目黒こどもスクールのウェブサイトでご確認ください。




おうちで、やろう。年中児版

Study at home. 小学校受験の家庭学習教材

処理：運筆2

●から○まで一本の線をかきます。この時、壁にぶつからないようにきれいに素早く線をかきます。(1分～1分30秒)
※この問題に解答はありません。



※1. このプリントは、しながわ・目黒こどもスクールのウェブサイトでダウンロードができます。無断複写・引用はご遠慮ください。
※2. このプリントを活用したオンライン授業のスケジュールは、しながわ・目黒こどもスクールのウェブサイトでご確認ください。



おうちで、やろう。 年中児版

Study at home. 小学校受験の家庭学習教材

まちがいさがし2

上下の絵を見比べて、変わっているところを4つ探します。見つけたら、下の絵の変わっている部分に○をつけます。

