



おうちで、やろう。






Study at home. 小学校受験の家庭学習教材

記憶：絵の記憶 13 記憶用紙




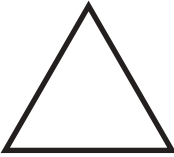


別紙『記憶 - 絵の記憶 13』を行う際に使用します。記憶用紙は点線で折って(切って)、①、②の問題の際にそれぞれ 20 秒間ずつ記憶させてください。記憶する際は問題用紙は裏返しにします。記憶後①、②それぞれの問題に答えましょう。

①②〇がかかれていたマス青色、△がかかれていたマスを緑色のクーピーで塗ります。

①

②

※ 1. このプリントは、しながわ・目黒こどもスクールのウェブサイトからダウンロードできます。無断複写・引用はご遠慮ください。

※ 2. このプリントを活用したオンライン授業のスケジュールは、しながわ・目黒こどもスクールのウェブサイトでご確認ください。



おうちで、やろう。

Study at home. 小学校受験の家庭学習教材

記憶：絵の記憶 13

別紙『記憶 - 絵の記憶 13 記憶用紙』を使用します。記憶用紙の形を見た後に①、②の問題に取り組みましょう。
※このプリントの解答は記憶用紙で確認してください。

①

②

※1. このプリントは、しながわ・目黒こどもスクールのウェブサイトからダウンロードができます。無断複写・引用はご遠慮ください。
※2. このプリントを活用したオンライン授業のスケジュールは、しながわ・目黒こどもスクールのウェブサイトでご確認ください。




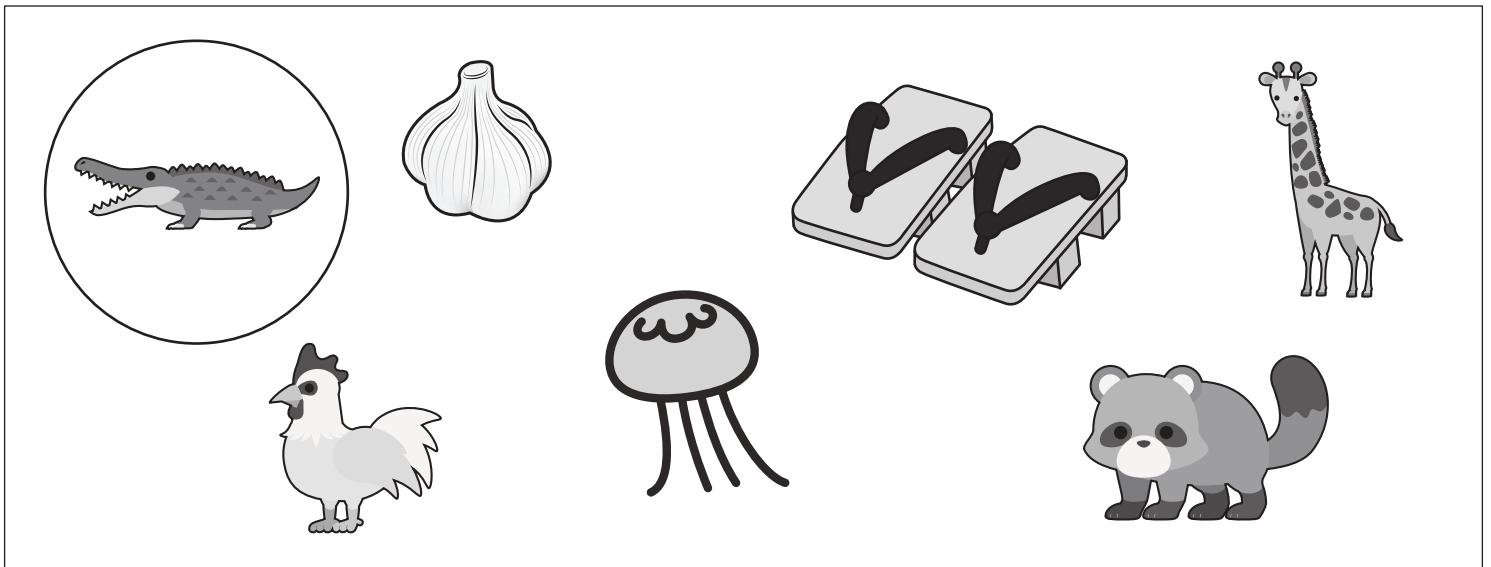



おうちで、やろう。

Study at home. 小学校受験の家庭学習教材

言語：しりとり 15

○の中の絵から順番にしりとりをします。四角の中の絵をすべて使ってしりとりをするとき、使わない絵を見つけて×をつけます。



※1. このプリントは、しながわ・目黒こどもスクールのウェブサイトダウンロードができます。無断複写・引用はご遠慮ください。

※2. このプリントを活用したオンライン授業のスケジュールは、しながわ・目黒こどもスクールのウェブサイトでご確認ください。

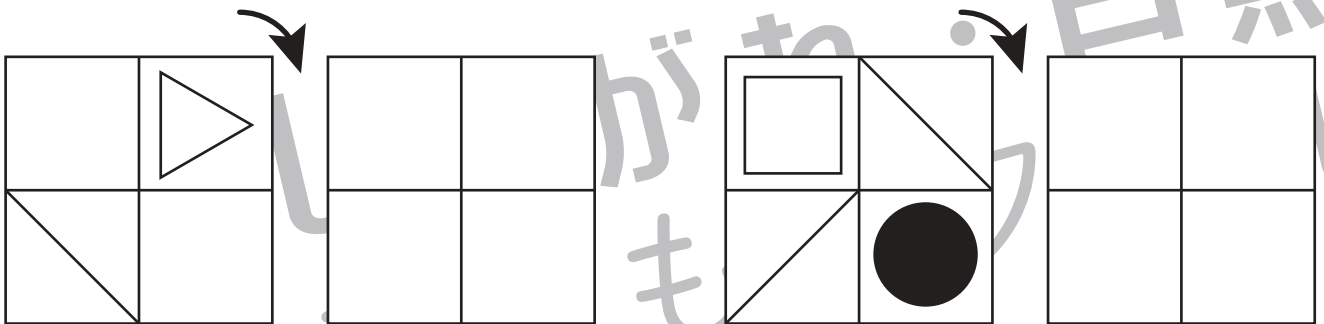

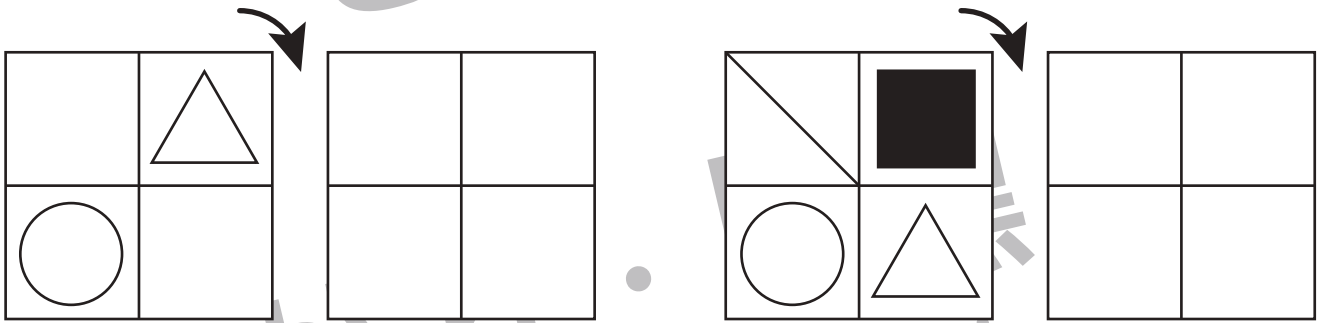
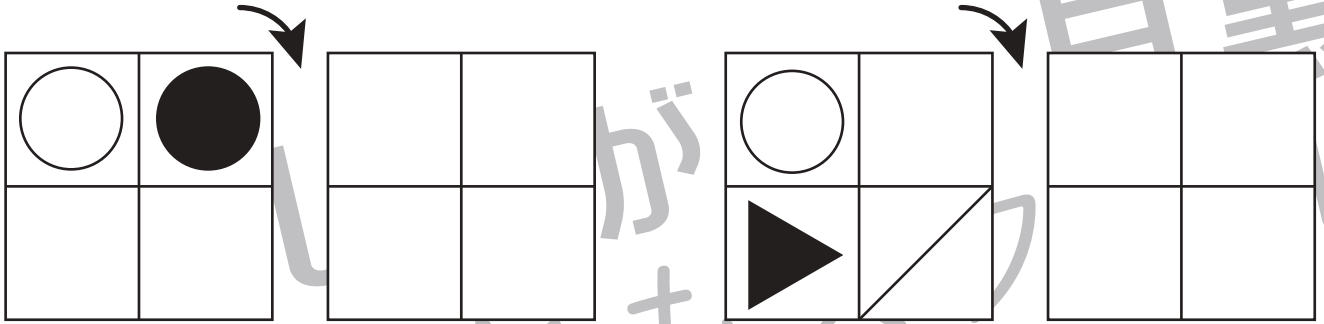


おうちで、やろう。

Study at home. 小学校受験の家庭学習教材

図形：回転 20

左の四角がお手本です。矢印の方向に一回倒したときの見え方を考えて、右の四角にかきます。



※1. このプリントは、しながわ・目黒こどもスクールのウェブサイトでダウンロードができます。無断複写・引用はご遠慮ください。
 ※2. このプリントを活用したオンライン授業のスケジュールは、しながわ・目黒こどもスクールのウェブサイトでご確認ください。

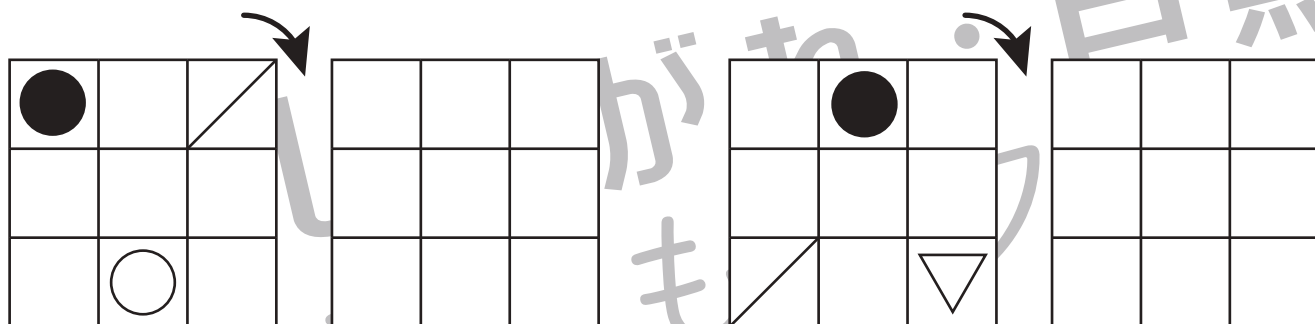

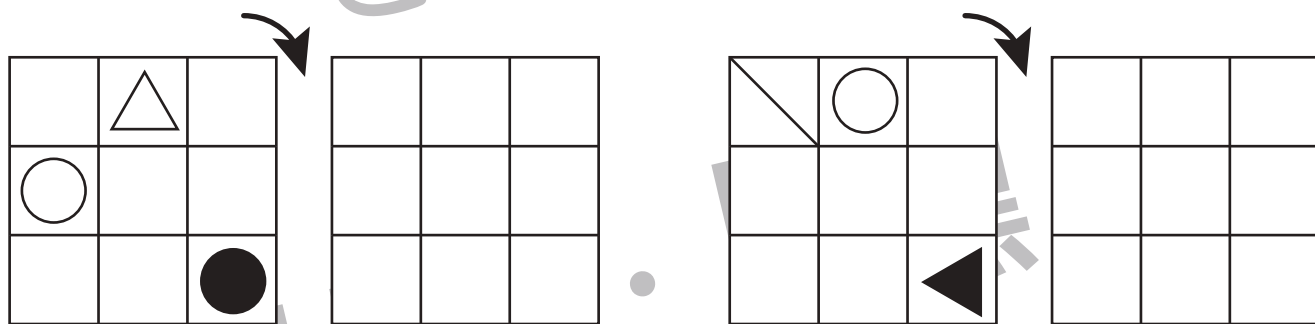
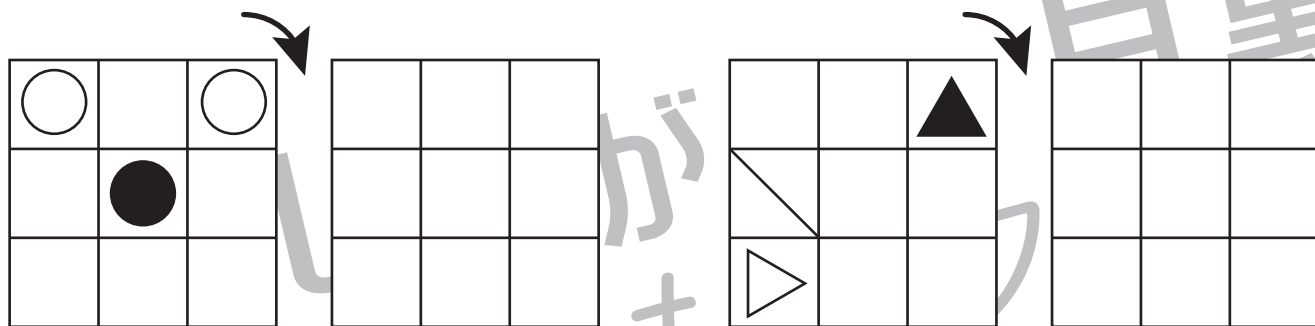


おうちで、やろう。

Study at home. 小学校受験の家庭学習教材

図形：回転 21

左の四角がお手本です。矢印の方向に一回倒したときの見え方を考えて、右の四角にかきます。



※1. このプリントは、しながわ・目黒こどもスクールのウェブサイトでダウンロードができます。無断複写・引用はご遠慮ください。
 ※2. このプリントを活用したオンライン授業のスケジュールは、しながわ・目黒こどもスクールのウェブサイトでご確認ください。

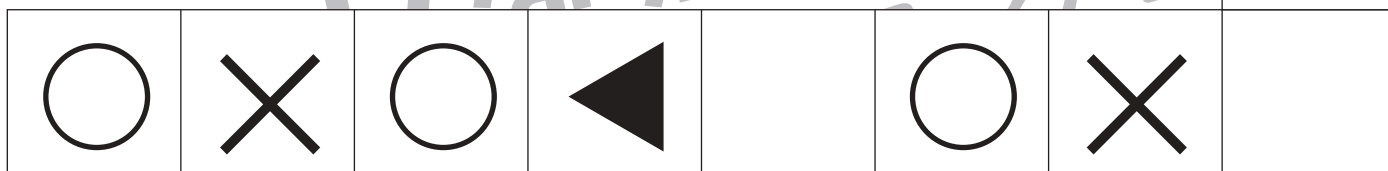
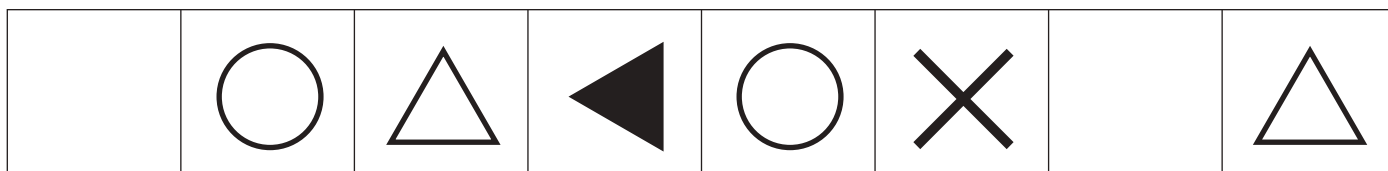
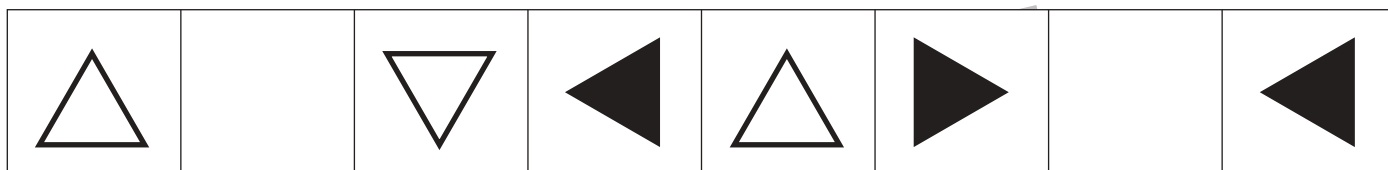
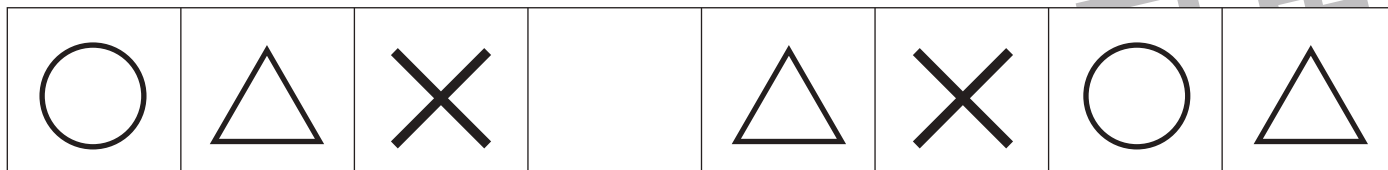


おうちで、やろう。

Study at home. 小学校受験の家庭学習教材

推理：系列完成 10

それぞれの印がある順番通りに並んでいます。空いている四角には何の印が入るか考えてかきます。



※1. このプリントは、しながわ・目黒こどもスクールのウェブサイトでダウンロードができます。無断複写・引用はご遠慮ください。
 ※2. このプリントを活用したオンライン授業のスケジュールは、しながわ・目黒こどもスクールのウェブサイトでご確認ください。



おうちで、やろう。

Study at home. 小学校受験の家庭学習教材

推理：系列完成 11

それぞれの印がある順番通りに並んでいます。空いている四角には何の印が入るか考えてかきます。

○			◀	×	○	○	△
							◀
○	○	×	◀	△	○	○	
△							
◀	×		○	△		×	○
/	▽	○	▶			/	▽
							○
○		○	▽		▶	○	▶
▶							
/			▶	○	▶	/	▽

※1. このプリントは、しながわ・目黒こどもスクールのウェブサイトでダウンロードができます。無断複写・引用はご遠慮ください。
 ※2. このプリントを活用したオンライン授業のスケジュールは、しながわ・目黒こどもスクールのウェブサイトでご確認ください。



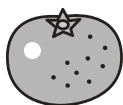





おうちで、やろう。




Study at home. 小学校受験の家庭学習教材

数量：足りない数1

左の太い四角の中が一人分のセットです。全てセットにするには下の四角の中の果物はいくつ足りないか考えてその数だけ〇をかきます。

※1. このプリントは、しながわ・目黒こどもスクールのウェブサイトでダウンロードができます。無断複写・引用はご遠慮ください。
 ※2. このプリントを活用したオンライン授業のスケジュールは、しながわ・目黒こどもスクールのウェブサイトでご確認ください。



おうちで、やろう。

Study at home. 小学校受験の家庭学習教材

数量：足りない数2

左の太い四角の中が一人分のセットです。全てセットにするには下の四角の中の野菜はいくつ足りないか考えてその数だけ〇をかきます。

※1. このプリントは、しながわ・目黒こどもスクールのウェブサイトでダウンロードができます。無断複写・引用はご遠慮ください。
 ※2. このプリントを活用したオンライン授業のスケジュールは、しながわ・目黒こどもスクールのウェブサイトでご確認ください。





おうちで、やろう。

Study at home. 小学校受験の家庭学習教材

運筆：塗り5

- ①桃の葉っぱを黄緑色のクーピーで塗ります。
 - ②桃の実を桃色のクーピーで塗ります。
 - ③パイナップルの葉っぱを緑色のクーピーで塗ります。
 - ④パイナップルの実を茶色のクーピーで塗ります。
- ※塗るときは線からはみ出ないようにしましょう。
※この問題に答えはありません。



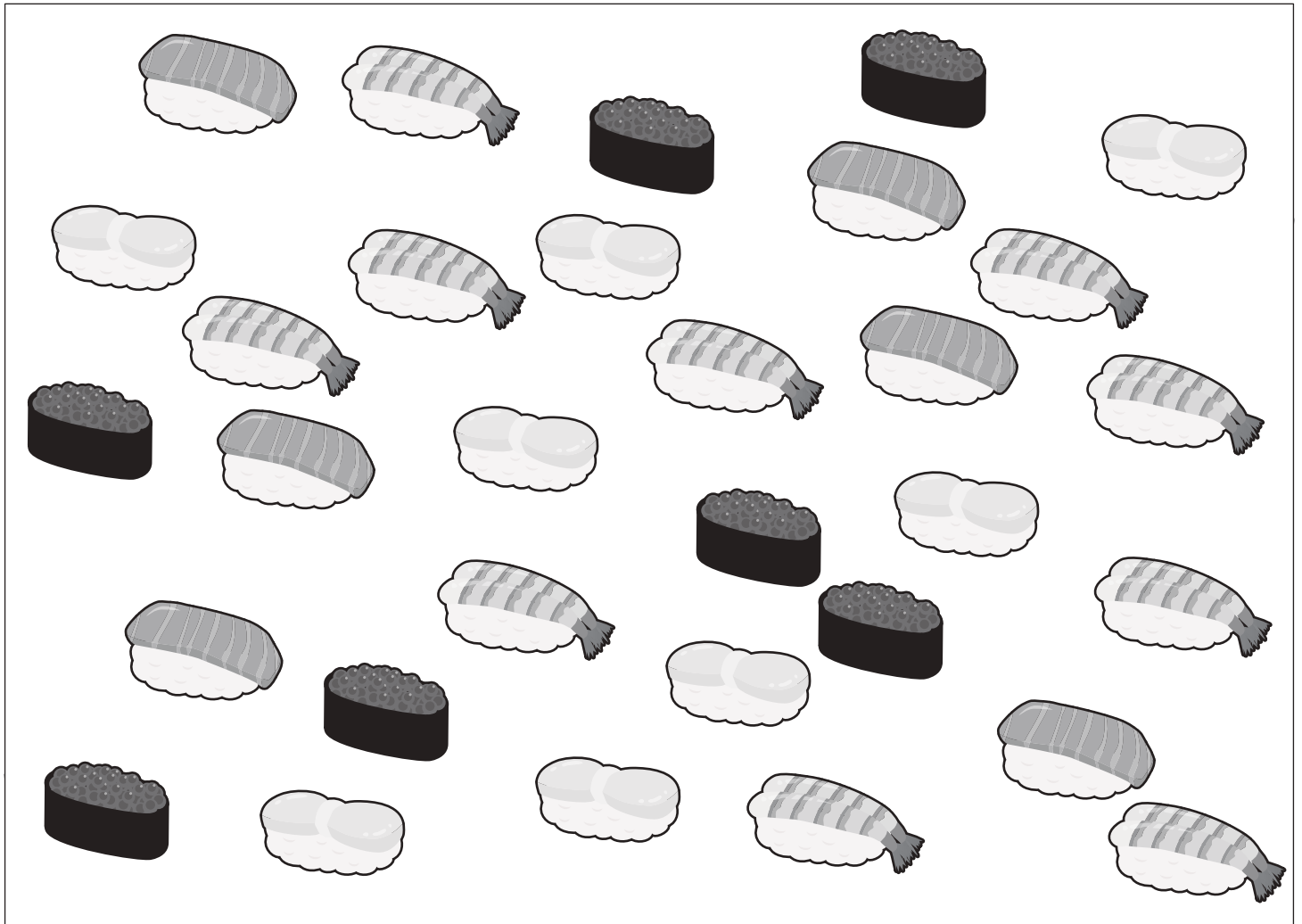


おうちで、やろう。

Study at home. 小学校受験の家庭学習教材

処理：計数 12

大きな四角の中の寿司の絵を数えます。その数だけ下の四角に○をかきます。








※1. このプリントは、しながわ・目黒こどもスクールのウェブサイトでダウンロードができます。無断複写・引用はご遠慮ください。
※2. このプリントを活用したオンライン授業のスケジュールは、しながわ・目黒こどもスクールのウェブサイトでご確認ください。