



# おうちで、やろう。


Study at home. 小学校受験の家庭学習教材

常識：生活2

①右手をあげている絵を見つけて○をつけます。

②左手をあげている絵を見つけて○をつけます。

①



②



※1. このプリントは、しながわ・目黒こどもスクールのウェブサイトでダウンロードができます。無断複写・引用はご遠慮ください。

※2. このプリントを活用したオンライン授業のスケジュールは、しながわ・目黒こどもスクールのウェブサイトでご確認ください。





# おうちで、やろう。

Study at home. 小学校受験の家庭学習教材

## 常識：生き物 6


大きな四角の中には色々な生き物がいます。

①冬の間は冬眠、または冬ごもりをする生き物に○をつけます。

②飛ぶことができる生き物に△をつけます。

③卵で生まれる生き物に□をつけます。

目黒



※1. このプリントは、しながわ・目黒こどもスクールのウェブサイトでダウンロードができます。無断複写・引用はご遠慮ください。

※2. このプリントを活用したオンライン授業のスケジュールは、しながわ・目黒こどもスクールのウェブサイトでご確認ください。





# おうちで、やろう。

Study at home. 小学校受験の家庭学習教材

## 推理：じゃんけん9

女の子と男の子が5回じゃんけんをします。じゃんけんに勝った時だけ飴を1つもらうことができます。負け、あいこの時は飴をもらうことができません。この約束でじゃんけんをして、勝った手に○をつけ、最後に持っている飴の数だけ右の太い枠に○をかきます。

	①	②	③	④	⑤	
						<input type="text"/>
						<input type="text"/>

	①	②	③	④	⑤	
						<input type="text"/>
						<input type="text"/>

	①	②	③	④	⑤	
						<input type="text"/>
						<input type="text"/>

	①	②	③	④	⑤	
						<input type="text"/>
						<input type="text"/>

※1. このプリントは、しながわ・目黒こどもスクールのウェブサイトでダウンロードができます。無断複写・引用はご遠慮ください。  
 ※2. このプリントを活用したオンライン授業のスケジュールは、しながわ・目黒こどもスクールのウェブサイトでご確認ください。



# おうちで、やろう。

Study at home. 小学校受験の家庭学習教材

## 推理：じゃんけん 10

女の子と男の子が5回じゃんけんをします。じゃんけんに勝った時だけ飴を2つもらうことができます。負け、あいこの時は飴をもらうことができません。この約束でじゃんけんをして、勝った手に○をつけ、最後に持っている飴の数だけ右の太い枠に○をかきます。

	①	②	③	④	⑤	
						<input type="text"/>
						<input type="text"/>

	①	②	③	④	⑤	
						<input type="text"/>
						<input type="text"/>

	①	②	③	④	⑤	
						<input type="text"/>
						<input type="text"/>

	①	②	③	④	⑤	
						<input type="text"/>
						<input type="text"/>

※1. このプリントは、しながわ・目黒こどもスクールのウェブサイトでダウンロードができます。無断複写・引用はご遠慮ください。

※2. このプリントを活用したオンライン授業のスケジュールは、しながわ・目黒こどもスクールのウェブサイトでご確認ください。








# おうちで、やろう。

Study at home. 小学校受験の家庭学習教材

図形：重なり 16

左の太い四角の中には、いろいろな形が影になって重なっています。左の四角の中にない形を見つけて○をつけます。



※1. このプリントは、しながわ・目黒こどもスクールのウェブサイトでダウンロードができます。無断複写・引用はご遠慮ください。  
※2. このプリントを活用したオンライン授業のスケジュールは、しながわ・目黒こどもスクールのウェブサイトでご確認ください。



# おうちで、やろう。

Study at home. 小学校受験の家庭学習教材





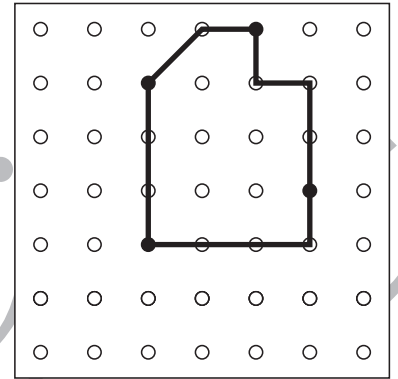
## 図形：島作り3

黒丸と白丸を通して1本の線をつないだとき、出来た形の中に白丸が5つになるようにします。

お手本

ルール

- ①黒丸は全て通ります。
- ②縦・横・斜めに進むことができます。
- ③丸を飛ばして線を引いてはいけません。



※1. このプリントは、しながわ・目黒こどもスクールのウェブサイトでダウンロードができます。無断複写・引用はご遠慮ください。  
 ※2. このプリントを活用したオンライン授業のスケジュールは、しながわ・目黒こどもスクールのウェブサイトでご確認ください。



# おうちで、よろう。

Study at home. 小学校受験の家庭学習教材





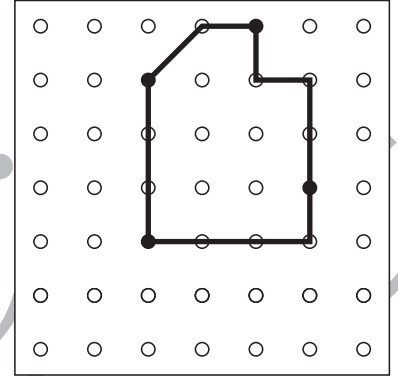
## 図形：島作り 4

黒丸と白丸を通して1本の線をつないだとき、出来た形の中に白丸が8つになるようにします。

お手本

ルール

- ①黒丸は全て通ります。
- ②線は縦、横、斜めに引きことができます。
- ③丸を飛ばして線を引いてはいけません。



※1. このプリントは、しながわ・目黒こどもスクールのウェブサイトでダウンロードができます。無断複写・引用はご遠慮ください。  
 ※2. このプリントを活用したオンライン授業のスケジュールは、しながわ・目黒こどもスクールのウェブサイトでご確認ください。

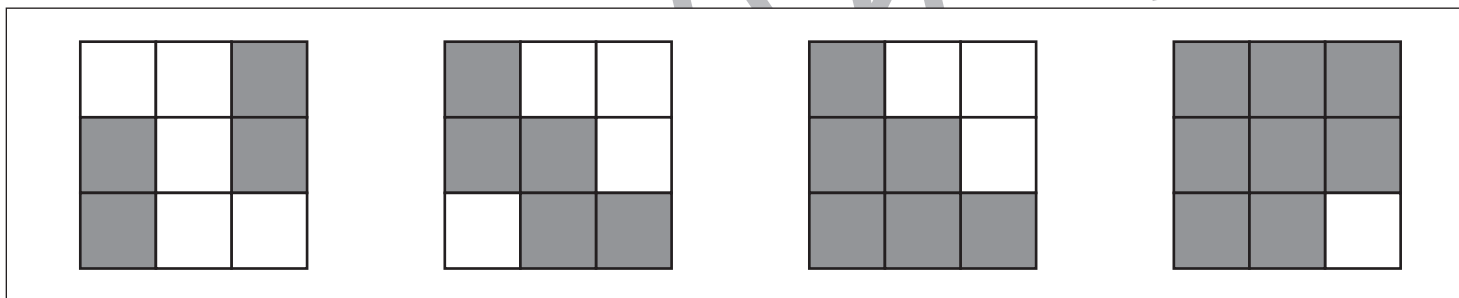
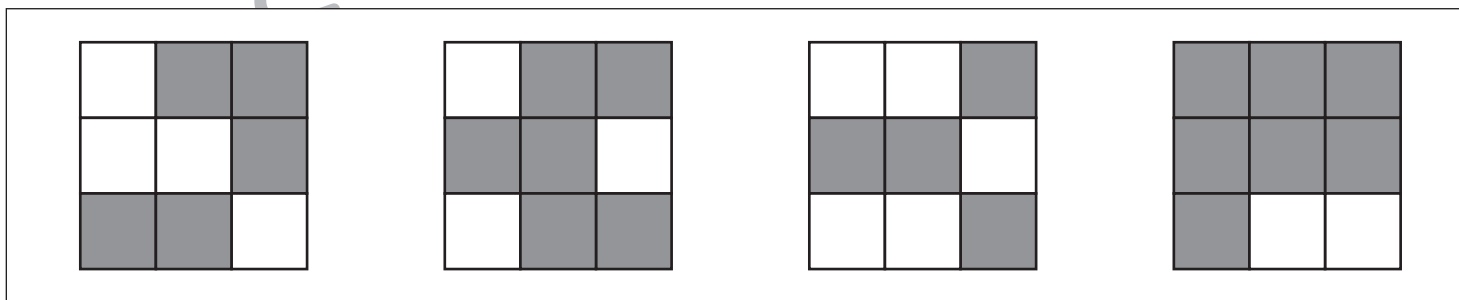
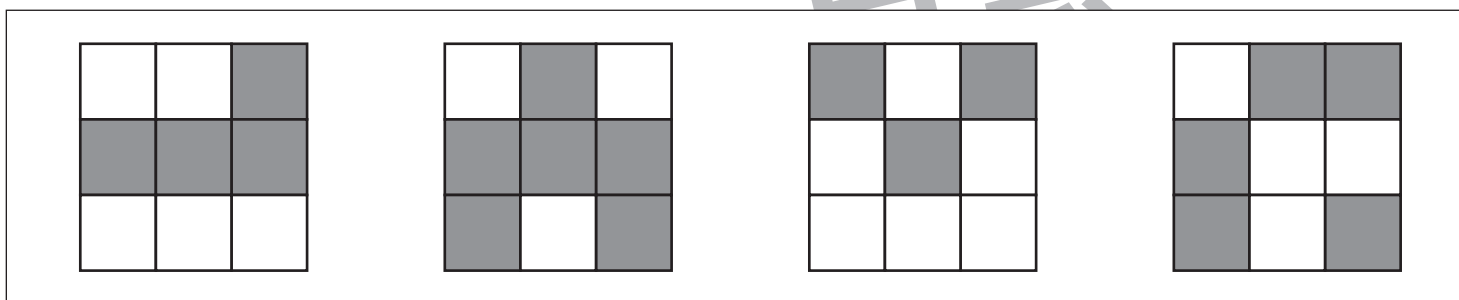
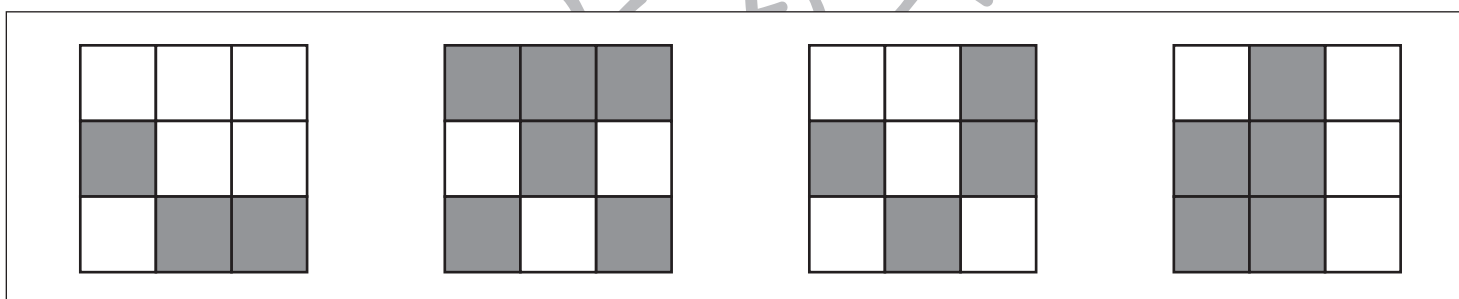
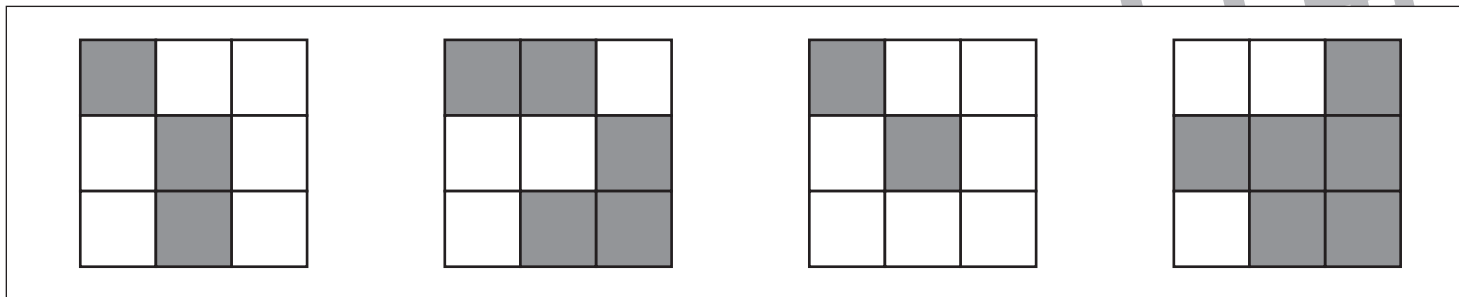


# おうちで、よろう。

Study at home. 小学校受験の家庭学習教材

数量：広さ9

四角の中の灰色のマスが一番広いものには○、一番狭いものには×をつけます。



※1. このプリントは、しながわ・目黒こどもスクールのウェブサイトでダウンロードができます。無断複写・引用はご遠慮ください。  
 ※2. このプリントを活用したオンライン授業のスケジュールは、しながわ・目黒こどもスクールのウェブサイトでご確認ください。



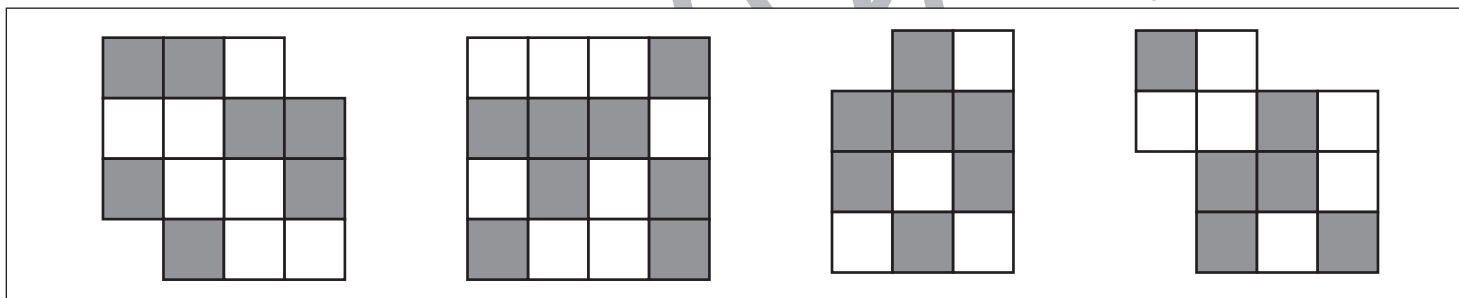
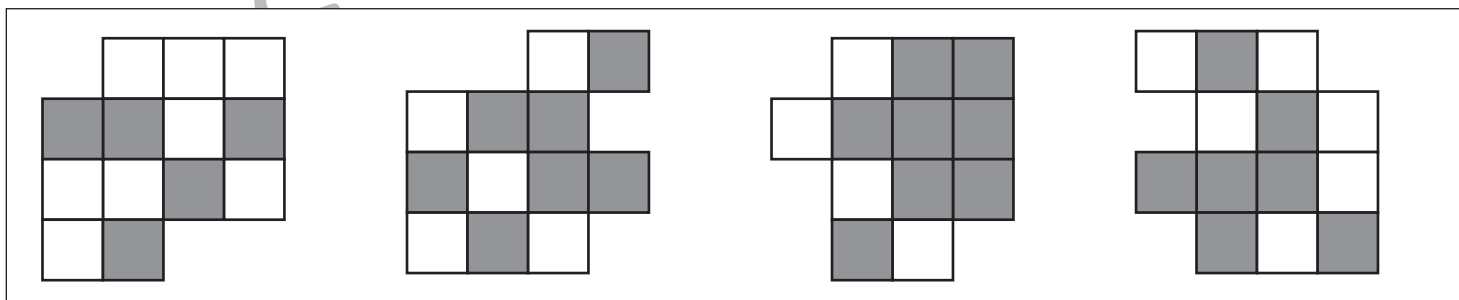
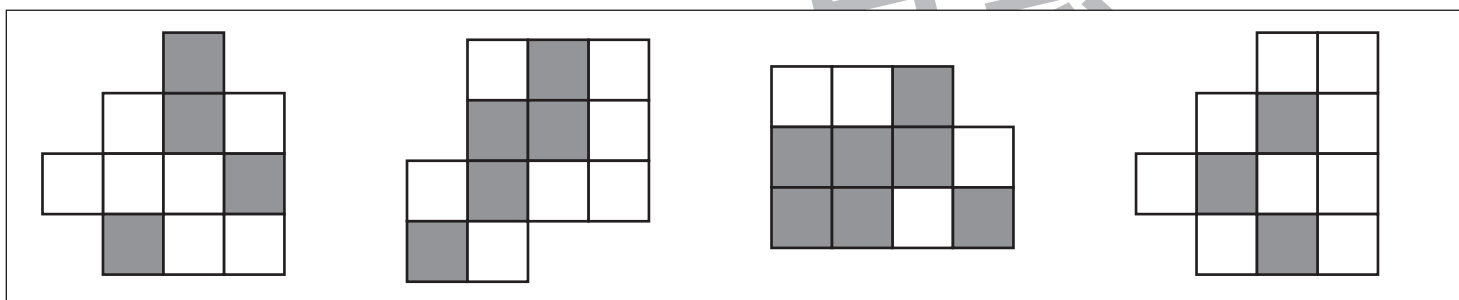
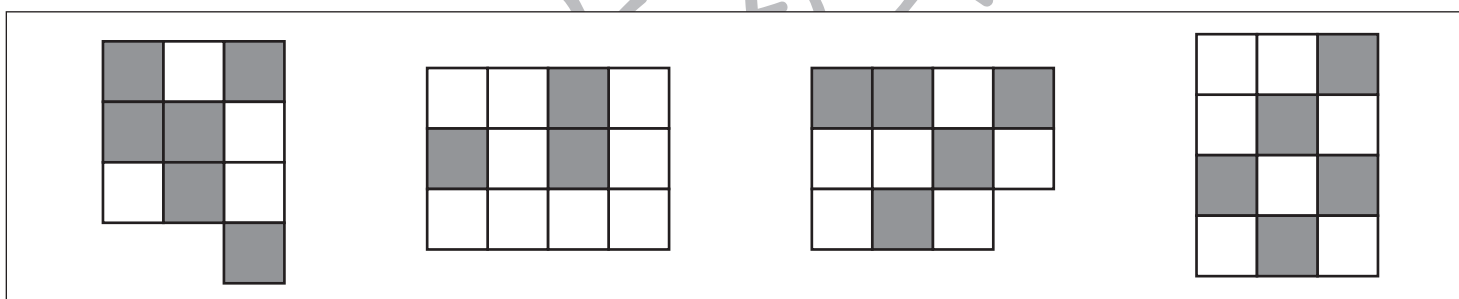
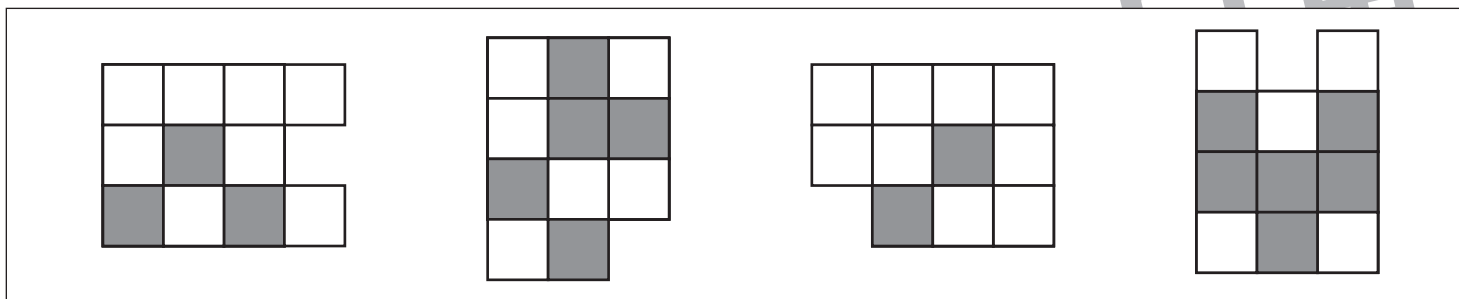


# おうちで、やろう。

Study at home. 小学校受験の家庭学習教材

数量：広さ 10

四角の中の灰色のマスが一番広いものには○、一番狭いものには×をつけます。



※1. このプリントは、しながわ・目黒こどもスクールのウェブサイトでダウンロードができます。無断複写・引用はご遠慮ください。  
 ※2. このプリントを活用したオンライン授業のスケジュールは、しながわ・目黒こどもスクールのウェブサイトでご確認ください。



# おうちで、やろう。

Study at home. 小学校受験の家庭学習教材

運筆：なぞり6

点線をはみださないようにきれいなぞります。  
クーピー、鉛筆、水性ペンなどを使い取り組みましょう。  
※この問題に解答はありません

