



おうちで、やろう。

Study at home. 小学校受験の家庭学習教材

指示の聞き取り 18

それぞれの設問に答えましょう。指示は1度ですべて読み上げます。しっかり聞いて取り組みましょう。

- ①鉛筆で左から右へ向かって○→○→△の順番で3回かきます。枠の中に入るように大きさにも注意しましょう。
- ②鉛筆で左から右へ向かって○→×→□の順番で3回かきます。枠の中に入るように大きさにも注意しましょう。
- ③鉛筆で左から右へ向かって△→○→×の順番で3回かきます。枠の中に入るように大きさにも注意しましょう。
- ④鉛筆で左から右へ向かって×→△→○→□の順番で3回かきます。枠の中に入るように大きさにも注意しましょう。

①

②

③

④



おうちで、やろう。

Study at home. 小学校受験の家庭学習教材

言語：音の理解 16

下の四角の中の絵の名前を考えます。①、②の問題に答えます。

①名前の中に「さ」の音があるものに○をつけます。

②名前の中に「う」の音があるものに×をつけます。



※1. このプリントは、しながわ・目黒こどもスクールのウェブサイトからダウンロードできます。無断複写・引用はご遠慮ください。

※2. このプリントを活用したオンライン授業のスケジュールは、しながわ・目黒こどもスクールのウェブサイトでご確認ください。





おうちで、やろう。

Study at home. 小学校受験の家庭学習教材

図形：マッチ 1

四角の中の形をそれぞれの下にあるマッチで作ります。
全部で何本あれば上の形ができるのかを考えてその数だけ下の四角に○をかきます。

A square shape is shown inside a larger square frame. Below the square is one matchstick, consisting of a horizontal line and a small grey oval at the right end.

A horizontal rectangle shape is shown inside a larger square frame. Below the rectangle are two matchsticks, each consisting of a horizontal line and a small grey oval at the right end.

A triangle shape is shown inside a larger square frame. Below the triangle is one matchstick, consisting of a horizontal line and a small grey oval at the right end.

A regular hexagon shape is shown inside a larger square frame. Below the hexagon is one matchstick, consisting of a horizontal line and a small grey oval at the right end.

A square shape is shown inside a larger square frame. Below the square is one matchstick, consisting of a horizontal line and a small grey oval at the right end.

A square shape is shown inside a larger square frame. Below the square are three matchsticks, each consisting of a horizontal line and a small grey oval at the right end.

※1. このプリントは、しながわ・目黒こどもスクールのウェブサイトでダウンロードができます。無断複写・引用はご遠慮ください。
※2. このプリントを活用したオンライン授業のスケジュールは、しながわ・目黒こどもスクールのウェブサイトでご確認ください。



おうちで、やろう。

Study at home. 小学校受験の家庭学習教材

図形：マッチ2

四角の中の形をそれぞれの下にあるマッチで作ります。
全部で何本あれば上の形ができるのかを考えてその数だけ下の四角に○をかきます。

A house-shaped polygon (pentagon with a pointed top) is shown in the top half of a square box. Below it is one matchstick. The bottom half of the box is empty for the student to draw circles.

An L-shaped polygon is shown in the top half of a square box. Below it are two matchsticks. The bottom half of the box is empty for the student to draw circles.

A diamond-shaped polygon (rhombus) is shown in the top half of a square box. Below it is one matchstick. The bottom half of the box is empty for the student to draw circles.

A five-pointed star is shown in the top half of a square box. Below it is one matchstick. The bottom half of the box is empty for the student to draw circles.

A bow-tie shaped polygon (concave hexagon) is shown in the top half of a square box. Below it are two matchsticks. The bottom half of the box is empty for the student to draw circles.

A horizontal hexagon is shown in the top half of a square box. Below it are two matchsticks. The bottom half of the box is empty for the student to draw circles.

※1. このプリントは、しながわ・目黒こどもスクールのウェブサイトでダウンロードができます。無断複写・引用はご遠慮ください。
※2. このプリントを活用したオンライン授業のスケジュールは、しながわ・目黒こどもスクールのウェブサイトでご確認ください。










おうちで、やろう。

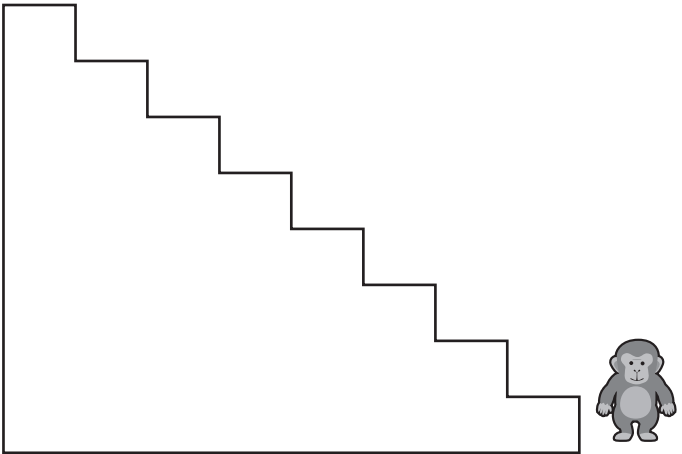
Study at home. 小学校受験の家庭学習教材







推理：条件推理 3

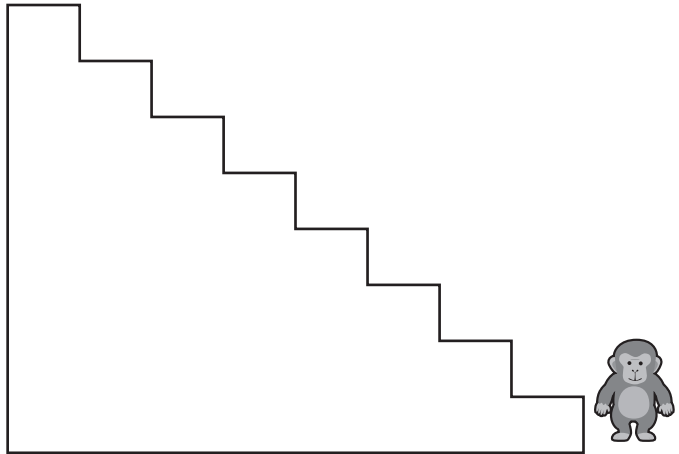
サルが階段を上ったり、下りたりします。この約束は上の太い四角の中にあります。上向き矢印はその数だけ階段を上がり、下向き矢印はその数だけ下がります。サルが果物を左から順番に見て約束通りに上ったり、下がりたりしたとき最後にいる場所に○をかきます。






 ↑	 ↑ ↑	 ↓	 ↓ ↓
---	---	---	---

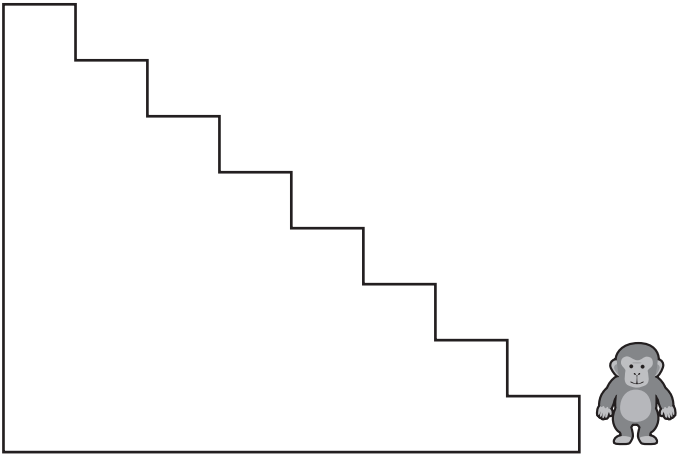
Row of fruits:     









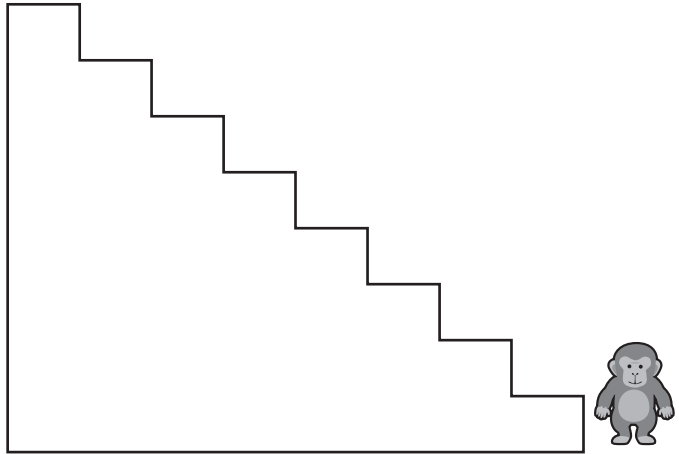
Row of fruits:      



Row of fruits:     



Row of fruits:      



※1. このプリントは、しながわ・目黒こどもスクールのウェブサイトでダウンロードができます。無断複写・引用はご遠慮ください。
※2. このプリントを活用したオンライン授業のスケジュールは、しながわ・目黒こどもスクールのウェブサイトでご確認ください。









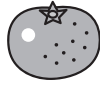


おうちで、やろう。

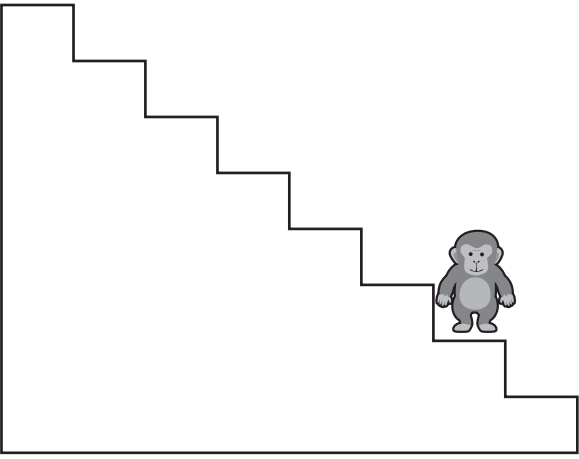
Study at home. 小学校受験の家庭学習教材







推理：条件推理 4

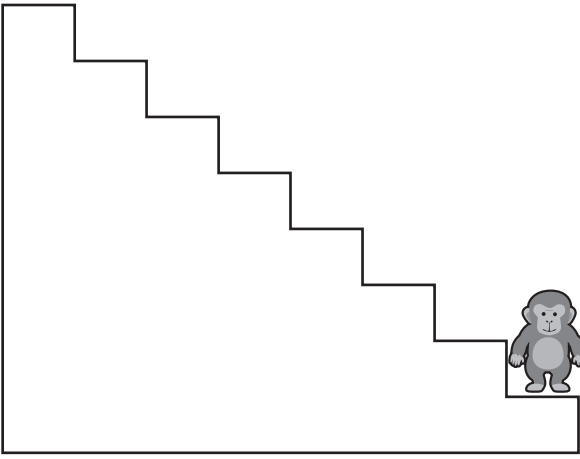
サルが階段を上ったり、下りたりします。この約束は上の太い四角の中にあります。上向き矢印はその数だけ階段を上がり、下向き矢印はその数だけ下がります。サルが果物を左から順番に見て約束通りに上ったり、下がりたりしたとき最後にいる場所に○をかきます。




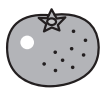

 ↑	 ↑ ↑	 ↓	 ↓ ↓
---	---	---	---

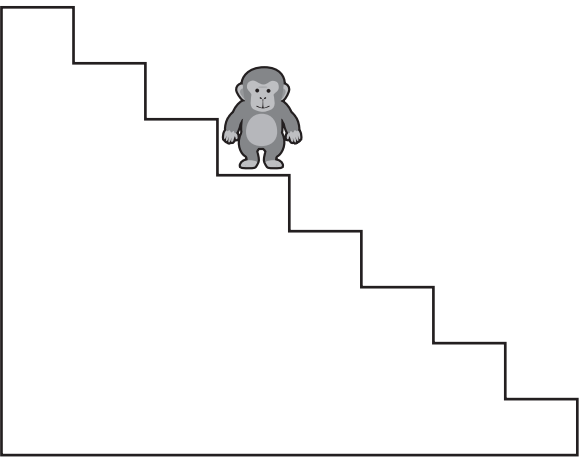
    

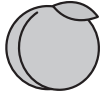







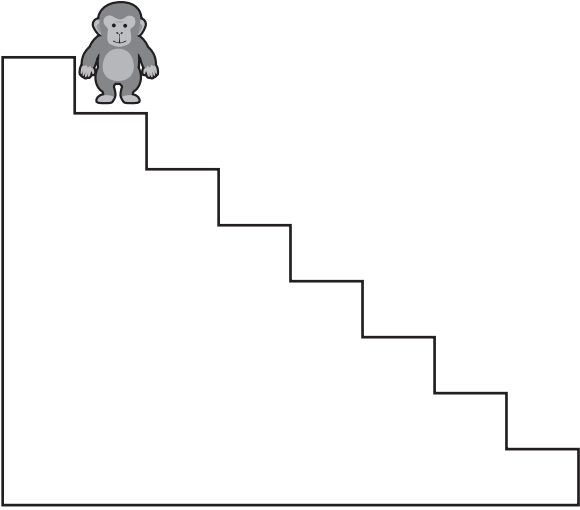
     







※1. このプリントは、しながわ・目黒こどもスクールのウェブサイトでダウンロードができます。無断複写・引用はご遠慮ください。
※2. このプリントを活用したオンライン授業のスケジュールは、しながわ・目黒こどもスクールのウェブサイトでご確認ください。






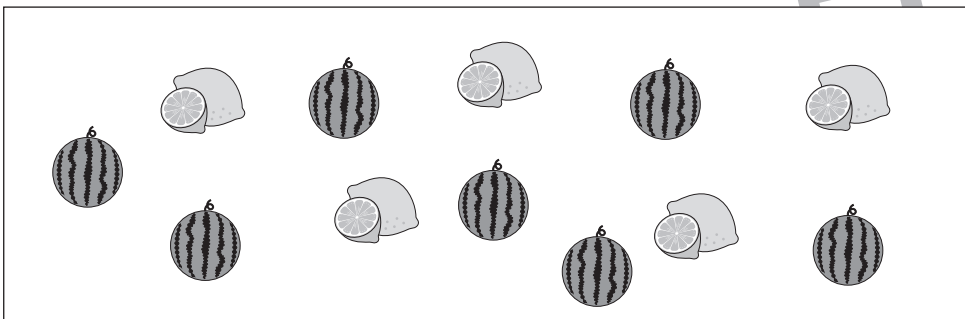
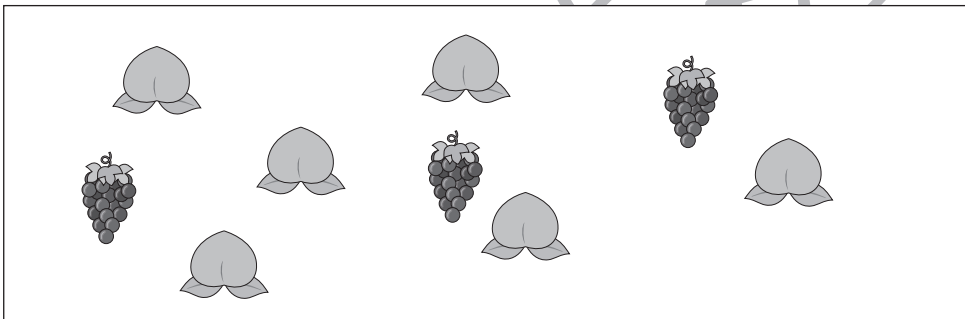



おうちで、やろう。

Study at home. 小学校受験の家庭学習教材

数量：同数 9

左の四角の中には 2 種類の果物がありますが、数が違います。この 2 つの果物の数を同じにするにはどちらの果物を増やせばよいですか。右の四角の増やす果物の四角にその数だけ〇をかきます。



※ 1. このプリントは、しながわ・目黒こどもスクールのウェブサイトでダウンロードができます。無断複写・引用はご遠慮ください。
※ 2. このプリントを活用したオンライン授業のスケジュールは、しながわ・目黒こどもスクールのウェブサイトでご確認ください。





おうちで、やろう。

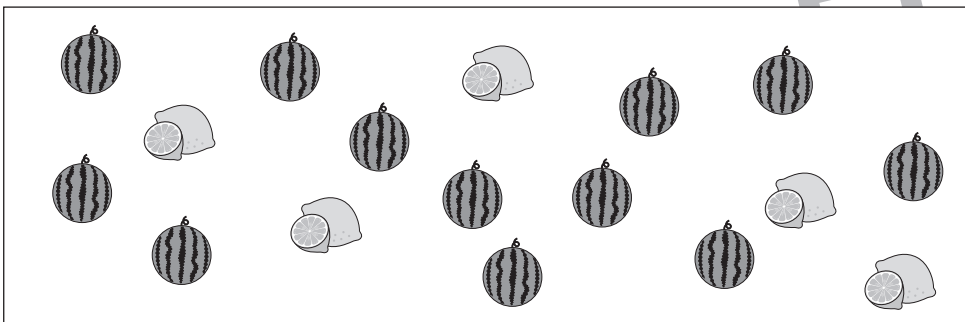
Study at home. 小学校受験の家庭学習教材


数量：同数 10

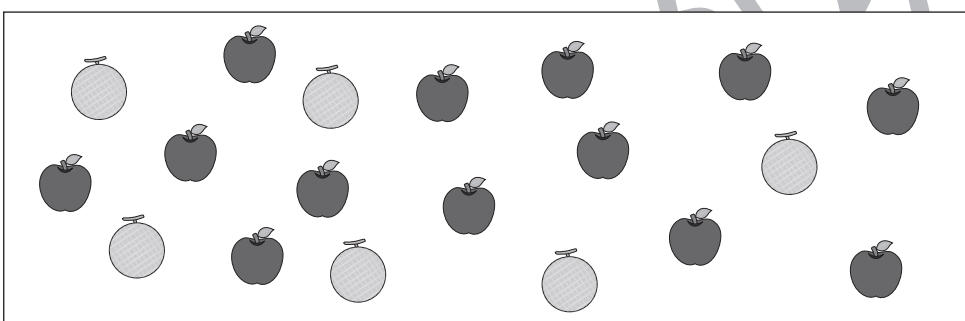
左の四角の中には 2 種類の果物がありますが、数が違います。この 2 つの果物の数を同じにするにはどちらの果物を増やせばよいですか。右の四角の増やす果物の四角にその数だけ〇をかきます。











※ 1. このプリントは、しながわ・目黒こどもスクールのウェブサイトでダウンロードができます。無断複写・引用はご遠慮ください。
 ※ 2. このプリントを活用したオンライン授業のスケジュールは、しながわ・目黒こどもスクールのウェブサイトでご確認ください。



おうちで、やろう。

Study at home. 小学校受験の家庭学習教材

数量：分割 8

一番左の箱の中に入っている○を点線でつながれているマスに分けていきます。このとき、太いマスに分ける○はいくつですか。その数だけマスの中に○をかきます。

※1. このプリントは、しながわ・目黒こどもスクールのウェブサイトでダウンロードができます。無断複写・引用はご遠慮ください。
 ※2. このプリントを活用したオンライン授業のスケジュールは、しながわ・目黒こどもスクールのウェブサイトでご確認ください。

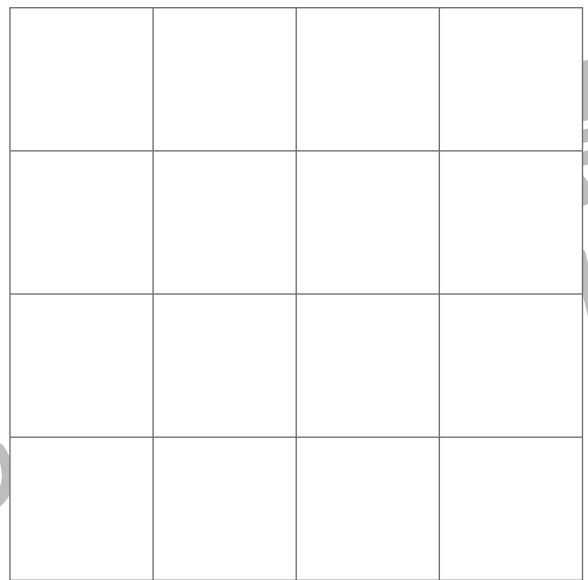
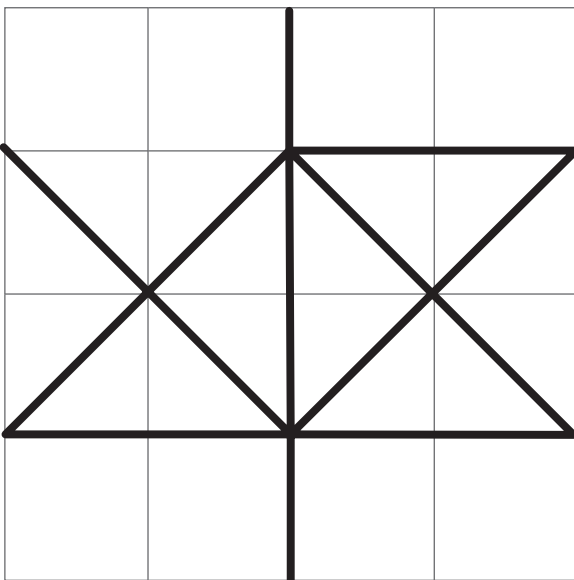

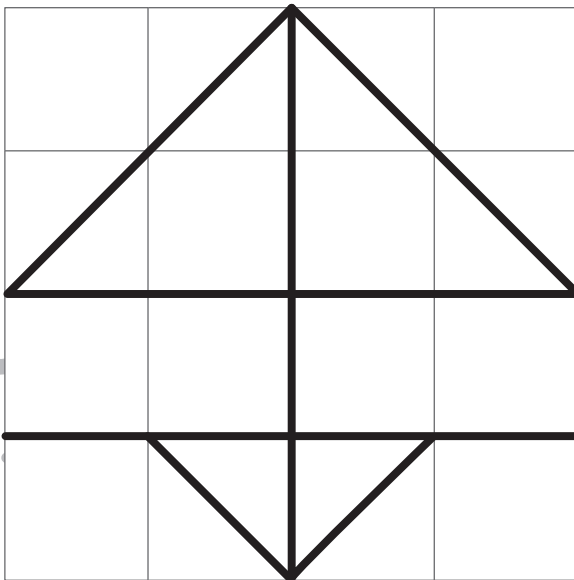
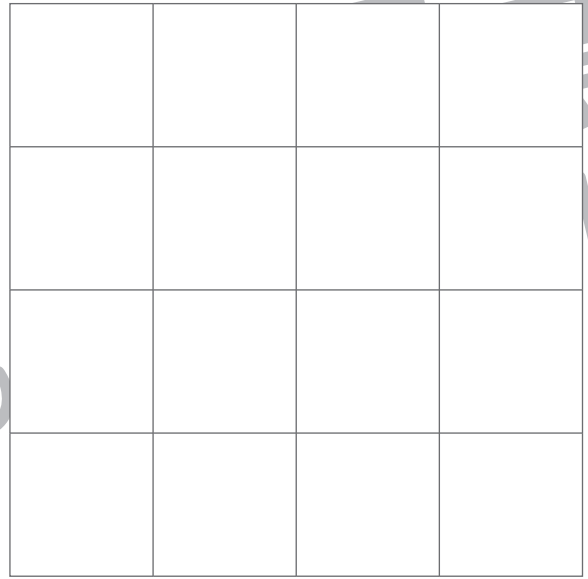
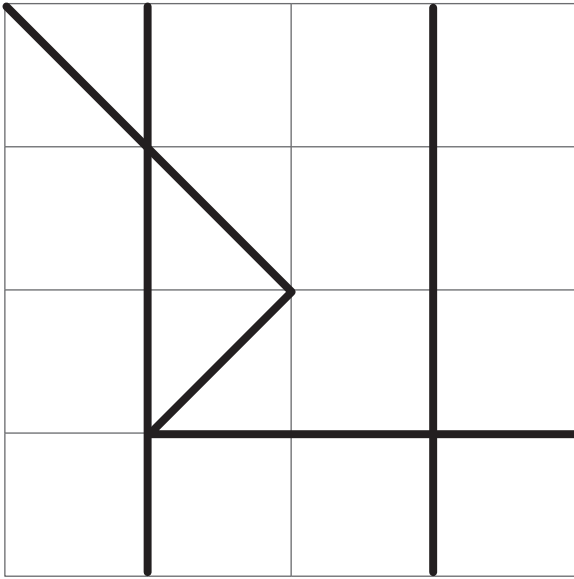


おうちで、やろう。

Study at home. 小学校受験の家庭学習教材

運筆：模写8

左がお手本です。お手本と同じ線を右の四角にかきます。スピードを意識して、きれいな線をひきましょう。
※この問題に解答はありません。



※1. このプリントは、しながわ・目黒こどもスクールのウェブサイトでダウンロードができます。無断複写・引用はご遠慮ください。
※2. このプリントを活用したオンライン授業のスケジュールは、しながわ・目黒こどもスクールのウェブサイトでご確認ください。