






おうちで、やろう。

Study at home. 小学校受験の家庭学習教材

言語：しりとり 16

○の中の絵から順番にしりとりをします。使わない絵を1つ見つけて×をつけます。



※1. このプリントは、しながわ・目黒こどもスクールのウェブサイトからダウンロードできます。無断複写・引用はご遠慮ください。

※2. このプリントを活用したオンライン授業のスケジュールは、しながわ・目黒こどもスクールのウェブサイトでご確認ください。







おうちで、やろう。


Study at home. 小学校受験の家庭学習教材


言語：音の理解 17


○は四角の中の絵の音の数を表しています。上の絵から下の絵まで順番に●の場所の音をつなげてできるものの絵を下の太い四角の中から見つけて、それぞれの四角の左上の記号をつけます。


□	 ● ○ ○ ○ ○ ↓ ○ ● ↓ ○ ○ ●	△	 ● ○ ↓ ○ ● ○ ○ ↓ ● ○ ○ ↓ ○ ○ ●	×	 ● ○ ○ ○ ○ ↓ ● ○ ○ ○ ↓ ○ ● ○ ○ ↓ ○ ○ ● ○ ○ ↓ ○ ○ ●
---	--	---	--	---	--




















※1. このプリントは、しながわ・目黒こどもスクールのウェブサイトでダウンロードができます。無断複写・引用はご遠慮ください。
※2. このプリントを活用したオンライン授業のスケジュールは、しながわ・目黒こどもスクールのウェブサイトでご確認ください。


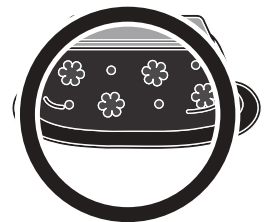



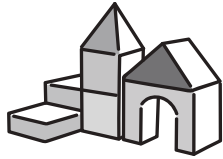


おうちで、やろう。

Study at home. 小学校受験の家庭学習教材

言語：おわりの音 11

おわりの音が「つ」のものには○、「こ」のものには△をつけます。



※1. このプリントは、しながわ・目黒こどもスクールのウェブサイトでダウンロードができます。無断複写・引用はご遠慮ください。
※2. このプリントを活用したオンライン授業のスケジュールは、しながわ・目黒こどもスクールのウェブサイトでご確認ください。











おうちで、やろう。

Study at home. 小学校受験の家庭学習教材

お友だちが外で立っています。太陽がそれぞれの場所にあるときの影の様子で正しいものには○、間違えているものには×をつけます。

※1. このプリントは、しながわ・目黒こどもスクールのウェブサイトからダウンロードできます。無断複写・引用はご遠慮ください。

※2. このプリントを活用したオンライン授業のスケジュールは、しながわ・目黒こどもスクールのウェブサイトでご確認ください。

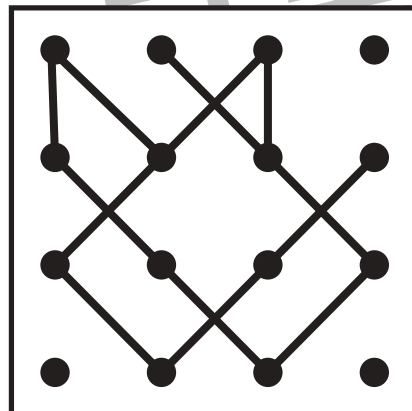
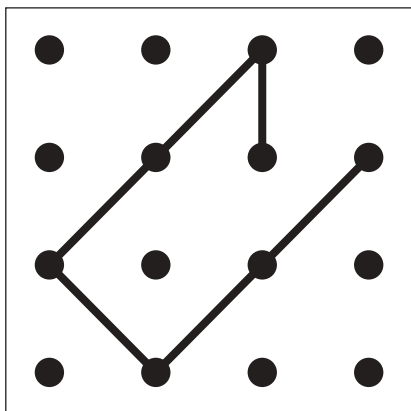
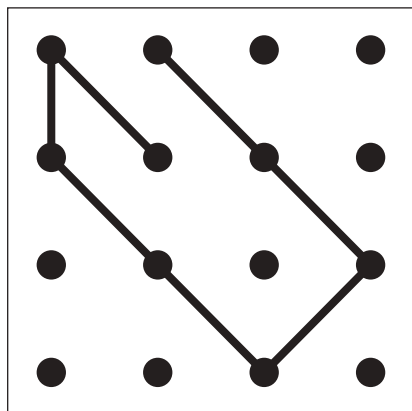
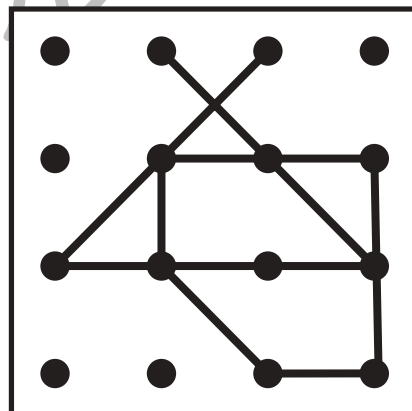
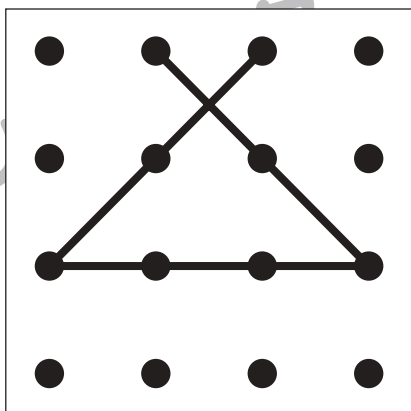
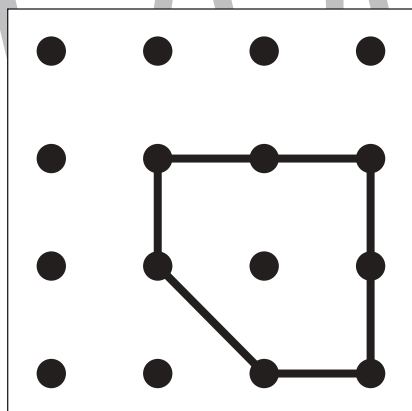
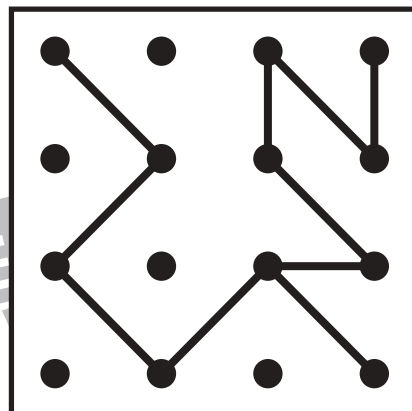
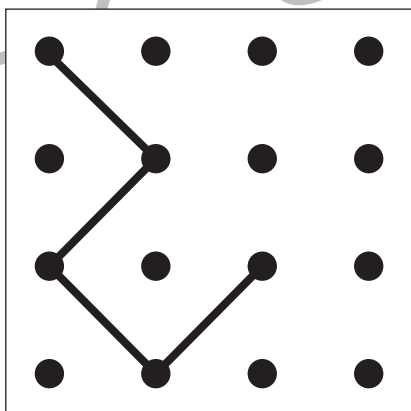
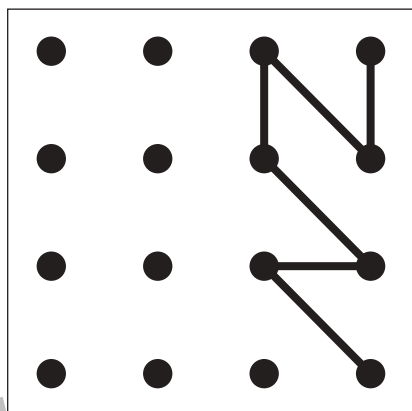
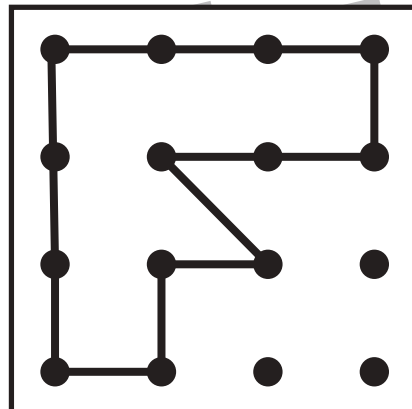
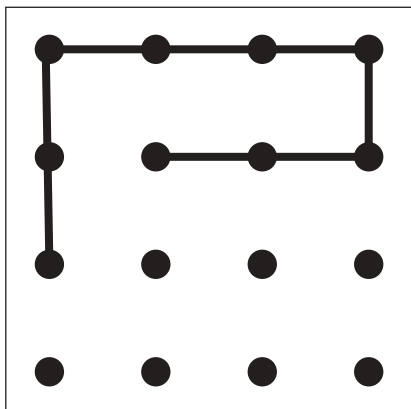
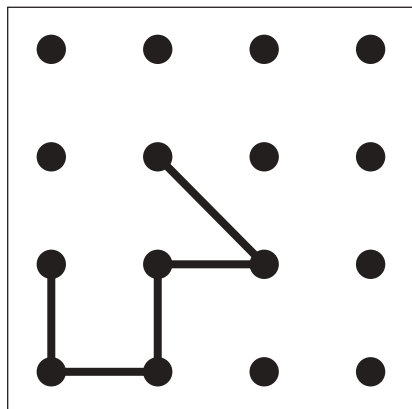


おうちで、よろう。

Study at home. 小学校受験の家庭学習教材

図形：重ね点図形 17

左の2枚の点図形を重ねた形を考えて、矢印の右の四角にかきます。



※1. このプリントは、しながわ・目黒こどもスクールのウェブサイトからダウンロードできます。無断複写・引用はご遠慮ください。

※2. このプリントを活用したオンライン授業のスケジュールは、しながわ・目黒こどもスクールのウェブサイトでご確認ください。



おうちで、やろう。

Study at home. 小学校受験の家庭学習教材

数量：合わせた数 13

左の四角の中の積み木を合わせた数だけ右の四角に○をかきます。

	$\bigcirc \times 11$
--	----------------------

	$\bigcirc \times 12$
--	----------------------

	$\bigcirc \times 17$
--	----------------------

※1. このプリントは、しながわ・目黒こどもスクールのウェブサイトからダウンロードできます。無断複写・引用はご遠慮ください。
※2. このプリントを活用したオンライン授業のスケジュールは、しながわ・目黒こどもスクールのウェブサイトでご確認ください。

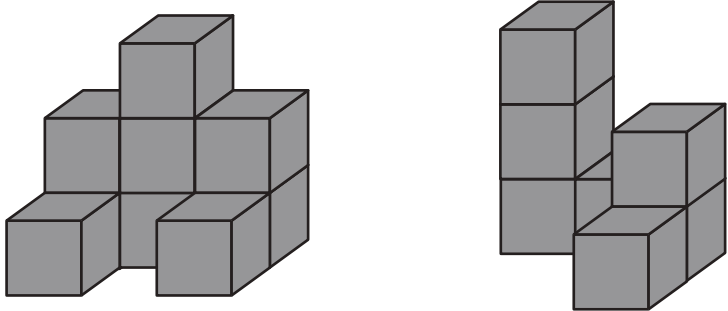


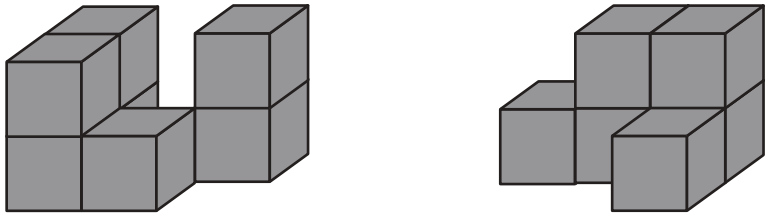
おうちで、よろう。

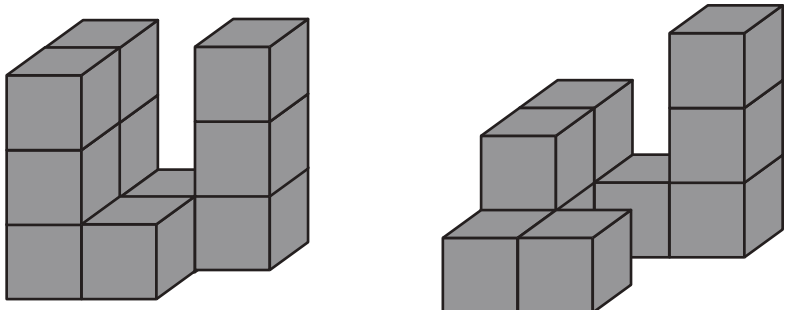
Study at home. 小学校受験の家庭学習教材

数量：合わせた数 14

左の四角の中の積み木を合わせた数だけ右の四角に○をかきます。

	$\bigcirc \times 16$
---	----------------------

	$\bigcirc \times 13$
---	----------------------

	$\bigcirc \times 21$
---	----------------------

※1. このプリントは、しながわ・目黒こどもスクールのウェブサイトからダウンロードできます。無断複写・引用はご遠慮ください。
※2. このプリントを活用したオンライン授業のスケジュールは、しながわ・目黒こどもスクールのウェブサイトでご確認ください。