



おうちで、やろう。

Study at home. 小学校受験の家庭学習教材



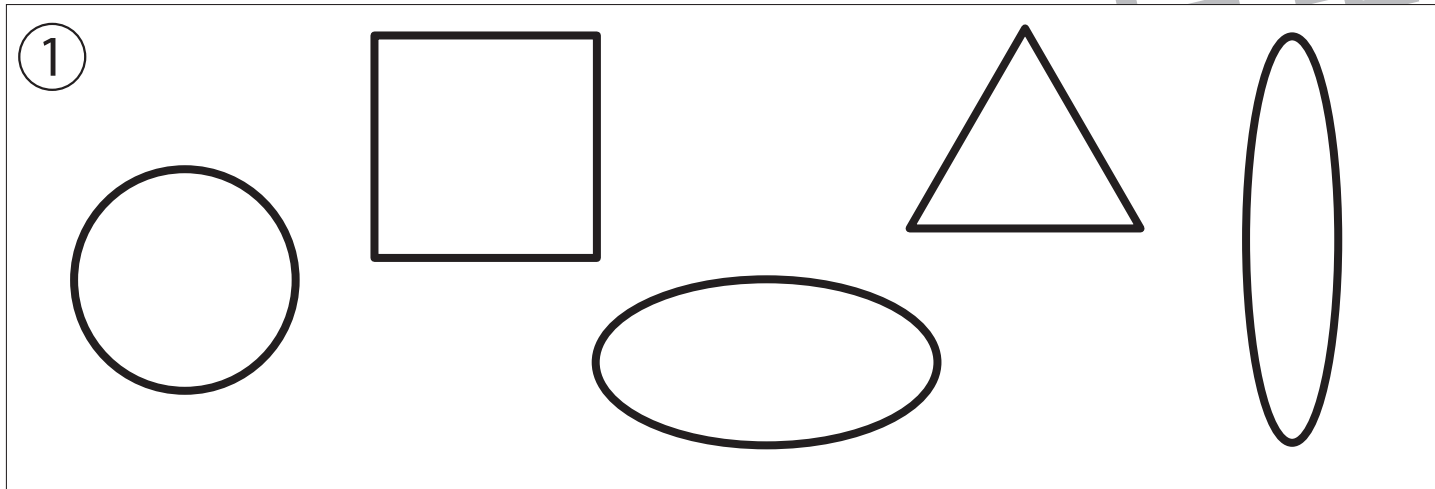
指示の聞き取り 19

それぞれのお話通りになるように色を塗ったり、記号をかきます。問題は1度しか読みませんのでしっかり聞きましょう。

①5つの形の中から「丸い形」をすべて探して、赤のクーピーで塗ります。

②鉛筆で四角を4つ横に並べてかき、右端の四角を緑、左から二番目の四角に青のクーピーで塗ります。

③左の黒色の丸から右の白色の丸まで鉛筆でよろよろの線をかきます。



※1. このプリントは、しながわ・目黒こどもスクールのウェブサイトでダウンロードができます。無断複写・引用はご遠慮ください。

※2. このプリントを活用したオンライン授業のスケジュールは、しながわ・目黒こどもスクールのウェブサイトでご確認ください。


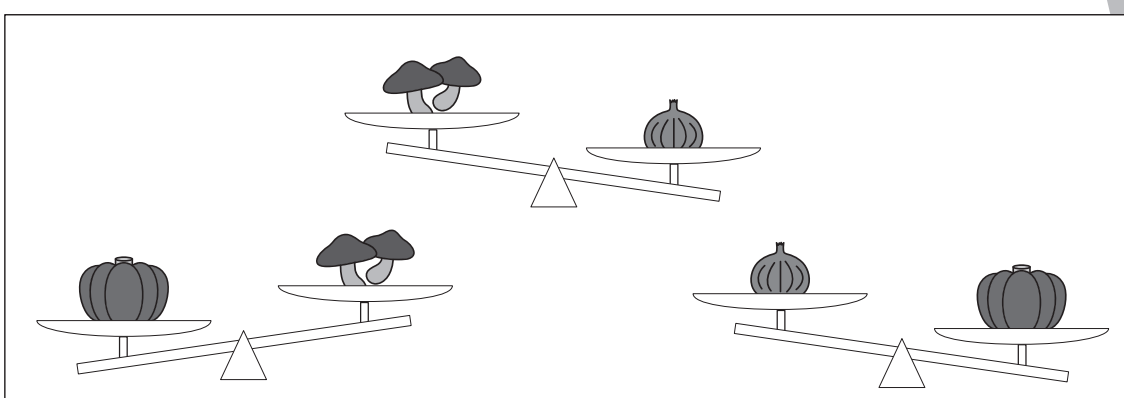

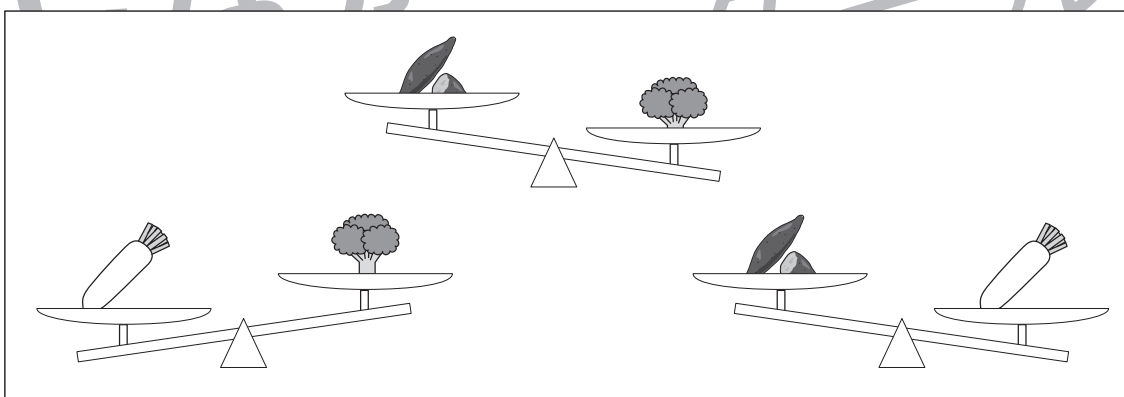


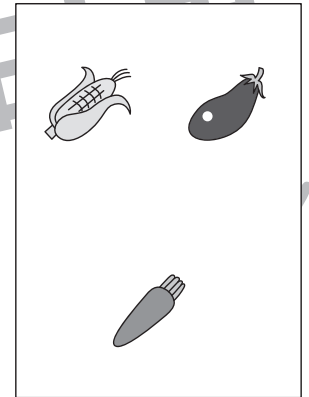



おうちで、やろう。

Study at home. 小学校受験の家庭学習教材

推理：重さ9

天秤に野菜をのせて重さ比べをしました。一番軽いものに○をつけます。印は右の四角の中の野菜につけます。



※1. このプリントは、しながわ・目黒こどもスクールのウェブサイトでダウンロードができます。無断複写・引用はご遠慮ください。
 ※2. このプリントを活用したオンライン授業のスケジュールは、しながわ・目黒こどもスクールのウェブサイトでご確認ください。


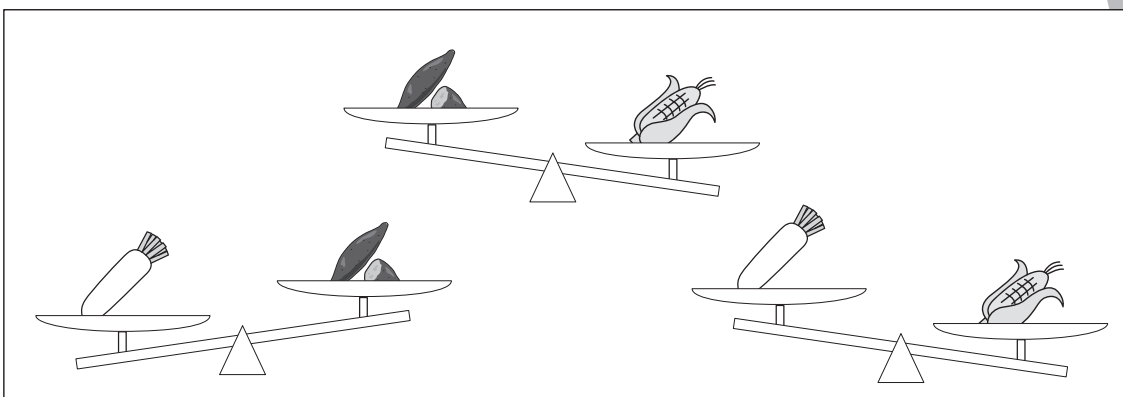

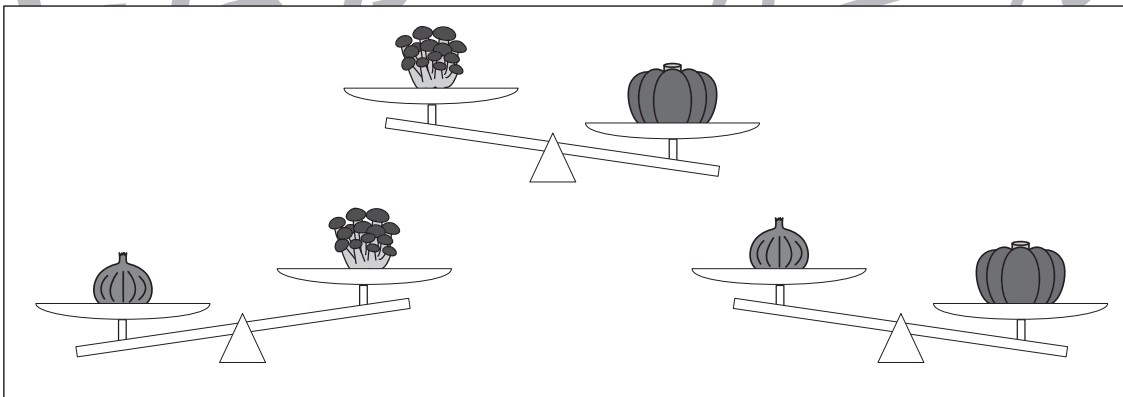


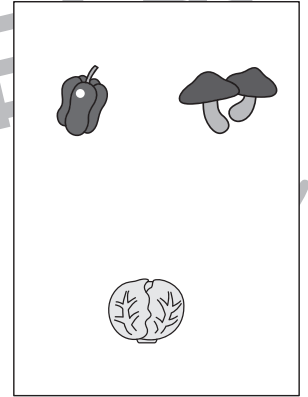
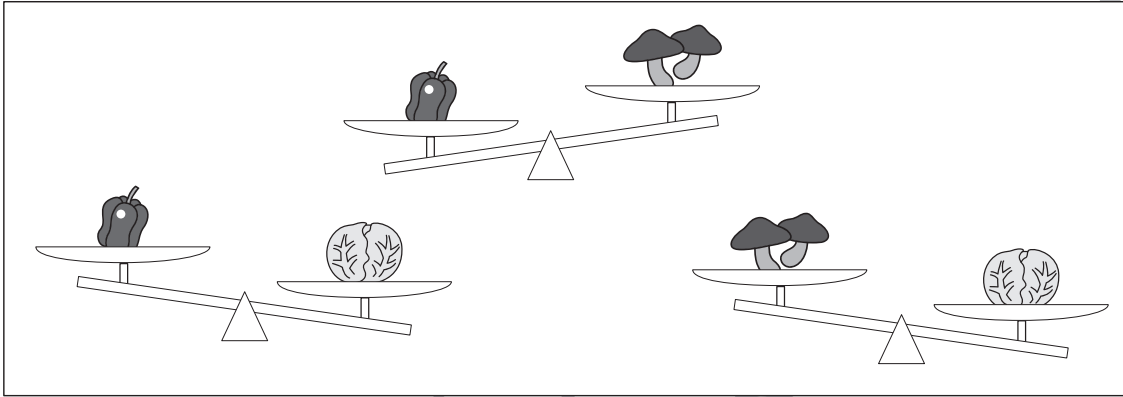


おうちで、やろう。

Study at home. 小学校受験の家庭学習教材

推理：重さ 10

天秤に野菜をのせて重さ比べをしました。一番重いものに○、一番軽いものに×をつけます。印は右の四角の中の野菜につけます。



※1. このプリントは、しながわ・目黒こどもスクールのウェブサイトでダウンロードができます。無断複写・引用はご遠慮ください。
※2. このプリントを活用したオンライン授業のスケジュールは、しながわ・目黒こどもスクールのウェブサイトでご確認ください。




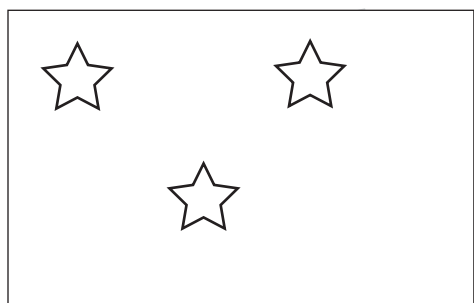






おうちで、やろう。

Study at home. 小学校受験の家庭学習教材

数量：足りない数 3

上の黒い星がお手本の数です。

左の白い星と右の灰色の星を合わせるとお手本の星の数になります。？がある四角にあといくつあればお手本の星の数になるかを考えて足りない数だけ右の四角に○をかきます。



※1. このプリントは、しながわ・目黒こどもスクールのウェブサイトでダウンロードができます。無断複写・引用はご遠慮ください。

※2. このプリントを活用したオンライン授業のスケジュールは、しながわ・目黒こどもスクールのウェブサイトでご確認ください。










おうちで、やろう。

Study at home. 小学校受験の家庭学習教材

数量：足りない数 4

上の黒い星がお手本の数です。

左の白い星と右の灰色の星を合わせるとお手本の星の数になります。？がある四角にあといくつあればお手本の星の数になるかを考えて足りない数だけ右の四角に○をかきます。



※1. このプリントは、しながわ・目黒こどもスクールのウェブサイトでダウンロードができます。無断複写・引用はご遠慮ください。
※2. このプリントを活用したオンライン授業のスケジュールは、しながわ・目黒こどもスクールのウェブサイトでご確認ください。



おうちで、よろう。

Study at home. 小学校受験の家庭学習教材

数量：多少 13

左のサイコロの目の数より2つ多いものを選んで○をつけます。

※1. このプリントは、しながわ・目黒こどもスクールのウェブサイトからダウンロードできます。無断複写・引用はご遠慮ください。

※2. このプリントを活用したオンライン授業のスケジュールは、しながわ・目黒こどもスクールのウェブサイトでご確認ください。



おうちで、やろう。

Study at home. 小学校受験の家庭学習教材

数量：多少 14

左のサイコロの目の数より3つ多いものを選んで○をつけます。

※1. このプリントは、しながわ・目黒こどもスクールのウェブサイトからダウンロードできます。無断複写・引用はご遠慮ください。

※2. このプリントを活用したオンライン授業のスケジュールは、しながわ・目黒こどもスクールのウェブサイトでご確認ください。



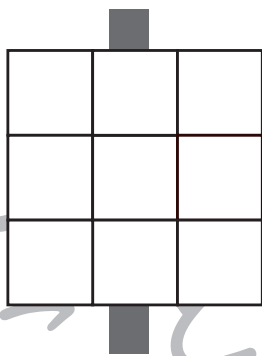
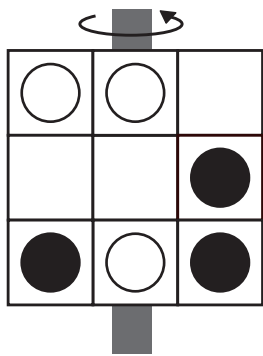

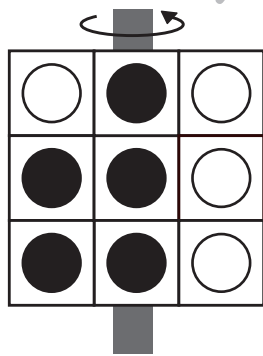
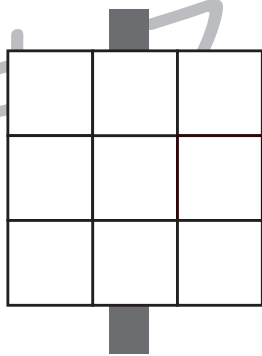
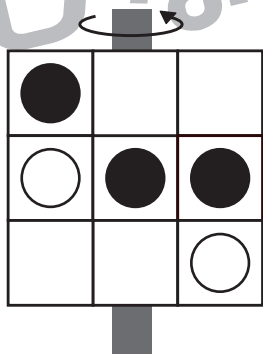

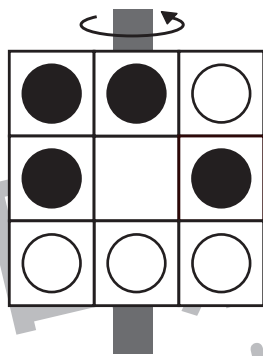
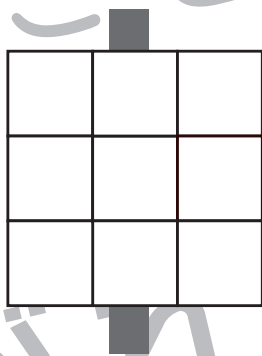
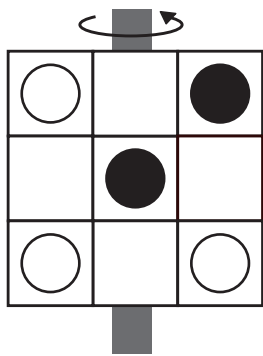

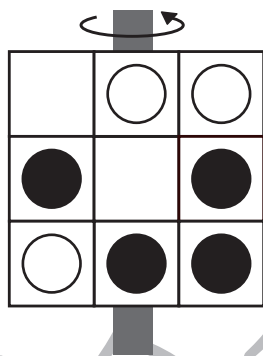
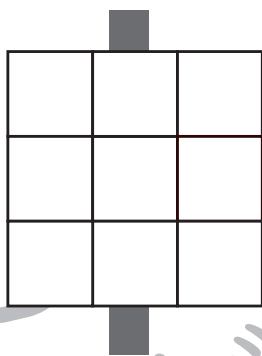
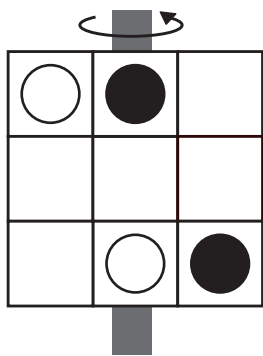


おうちで、やろう。

Study at home. 小学校受験の家庭学習教材

図形：反転 9

左の四角は透明な板です。この板を矢印の方向へくると裏返しにした時の見え方を考えて、右の四角にかきます。
白丸は黒のクーピー、黒丸は赤のクーピーで○をかきます。(黒丸の中も赤のクーピーで塗ります。)
※色の指示は保護者の方が確認してください。



※1. このプリントは、しながわ・目黒こどもスクールのウェブサイトでダウンロードができます。無断複写・引用はご遠慮ください。
※2. このプリントを活用したオンライン授業のスケジュールは、しながわ・目黒こどもスクールのウェブサイトでご確認ください。




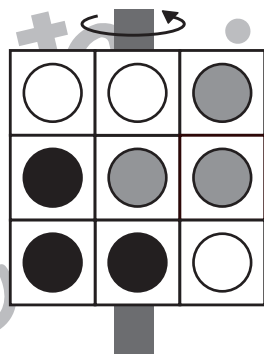
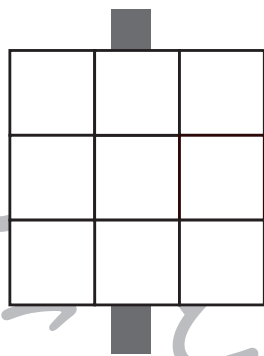
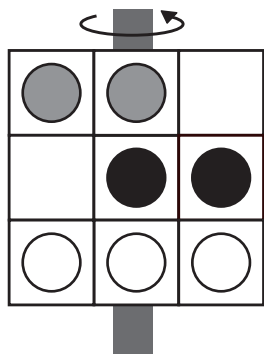

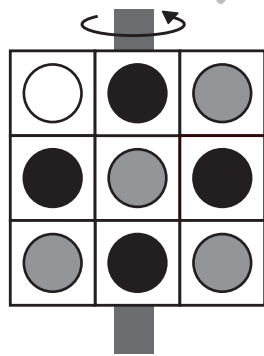

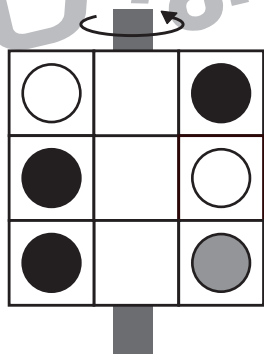

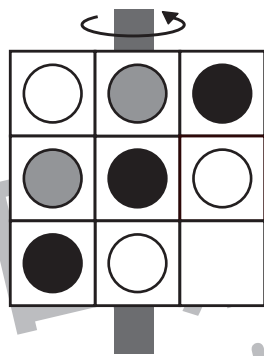
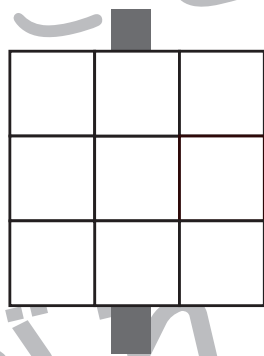
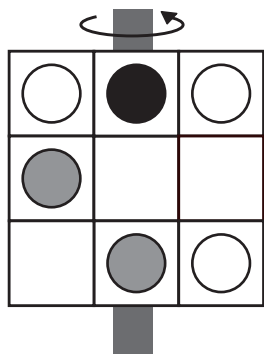

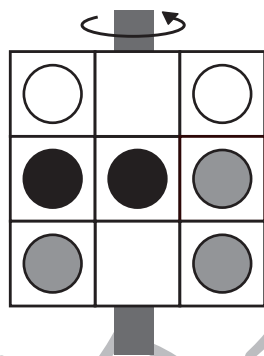
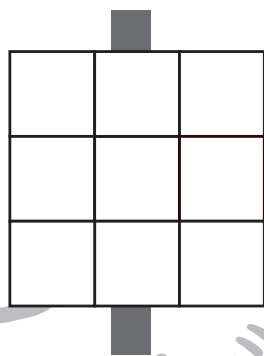
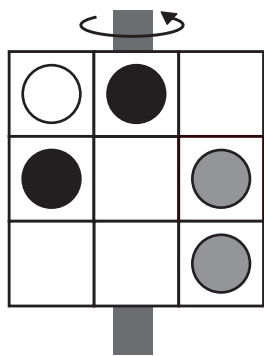


おうちで、やろう。

Study at home. 小学校受験の家庭学習教材

図形：反転 10

左の四角は透明な板です。この板を矢印の方向へくると裏返しにした時の見え方を考えて、右の四角にかきます。白丸と黒丸は黒のクーピー、灰色の丸は青のクーピーで○をかきます。(黒丸と灰色の丸の中はかいた色と同じ色のクーピーで塗ります。)※色の指示は保護者の方が確認してください。



※1. このプリントは、しながわ・目黒こどもスクールのウェブサイトでダウンロードができます。無断複写・引用はご遠慮ください。
※2. このプリントを活用したオンライン授業のスケジュールは、しながわ・目黒こどもスクールのウェブサイトでご確認ください。




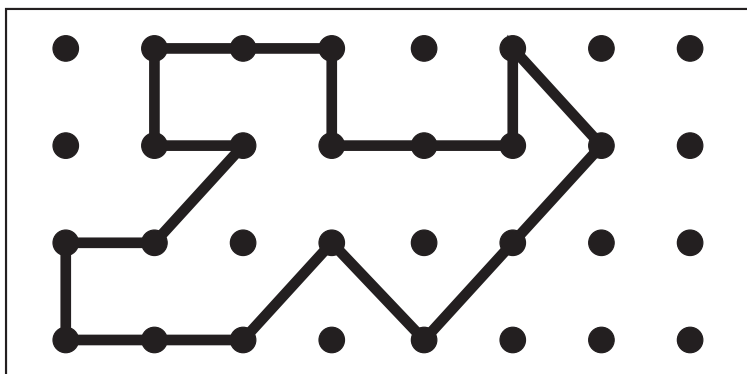

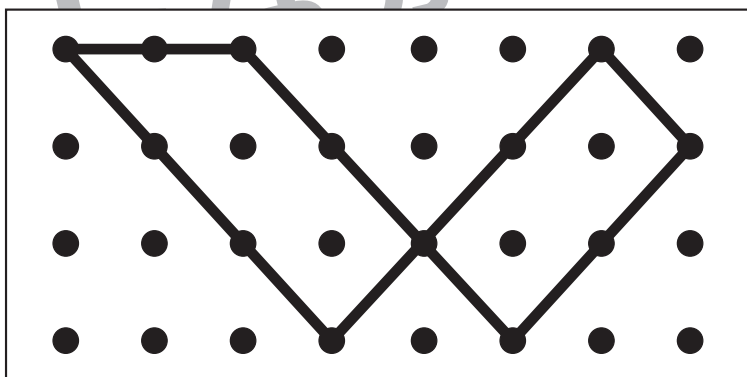

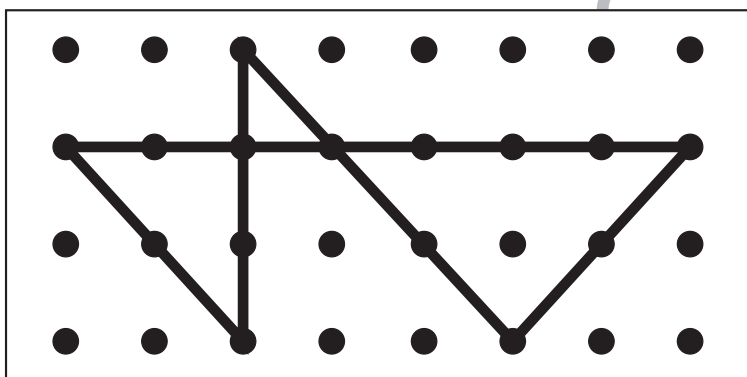

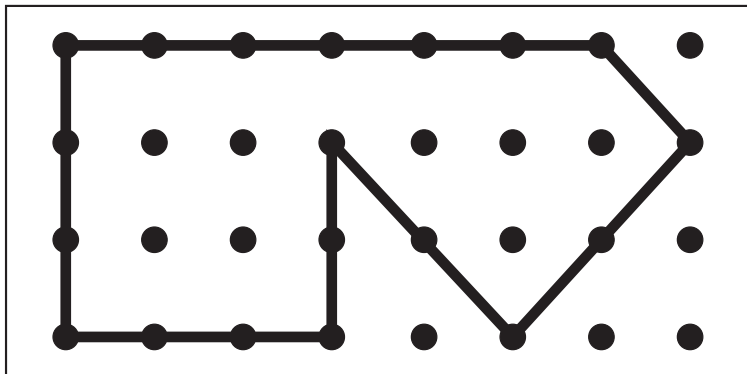


おうちで、よろう。

Study at home. 小学校受験の家庭学習教材

図形：点図形 18

左のお手本と同じになるように右の四角に線をかきます。 ※このプリントに解答はありません。



※1. このプリントは、しながわ・目黒こどもスクールのウェブサイトでダウンロードができます。無断複写・引用はご遠慮ください。
※2. このプリントを活用したオンライン授業のスケジュールは、しながわ・目黒こどもスクールのウェブサイトでご確認ください。

