



# おうちで、やろう。

Study at home. 小学校受験の家庭学習教材

言語：音の数 22

- ①四角の中の動物の音の数が4になるものに○をつけます。
- ②四角の中の動物の音の数が2になるものに△をつけます。
- ③四角の中の動物の音の数が5になるものに□をつけます。
- ④四角の中の動物の音の数が3になるものに◎をつけます。



※1. このプリントは、しながわ・目黒こどもスクールのウェブサイトでダウンロードができます。無断複写・引用はご遠慮ください。  
 ※2. このプリントを活用したオンライン授業のスケジュールは、しながわ・目黒こどもスクールのウェブサイトでご確認ください。

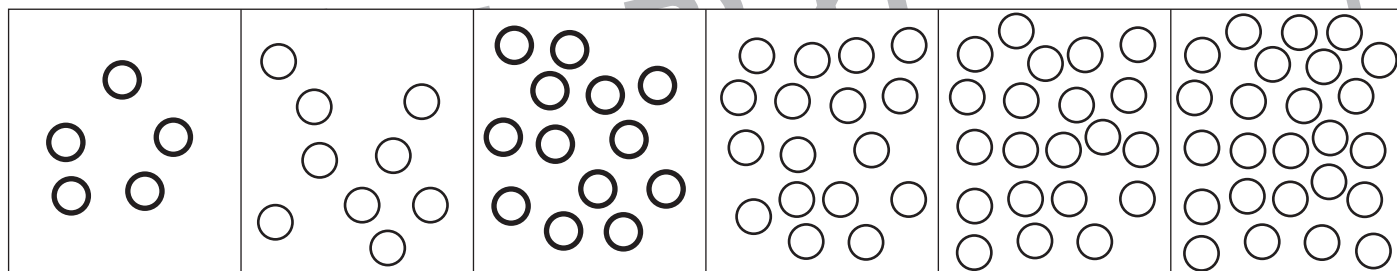
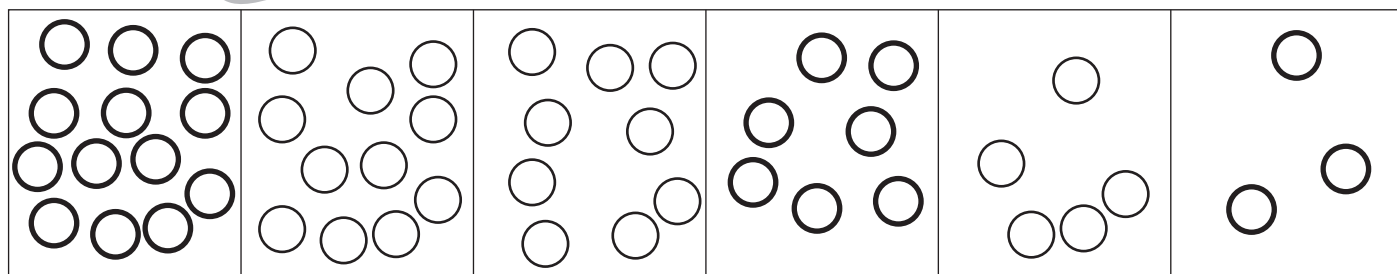
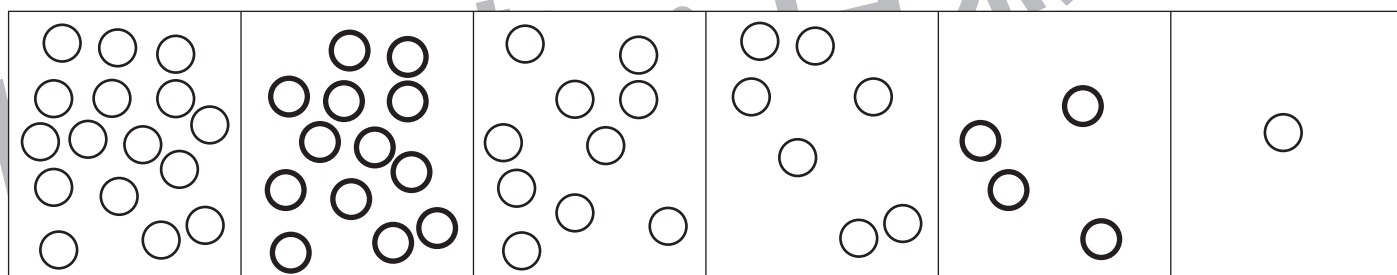
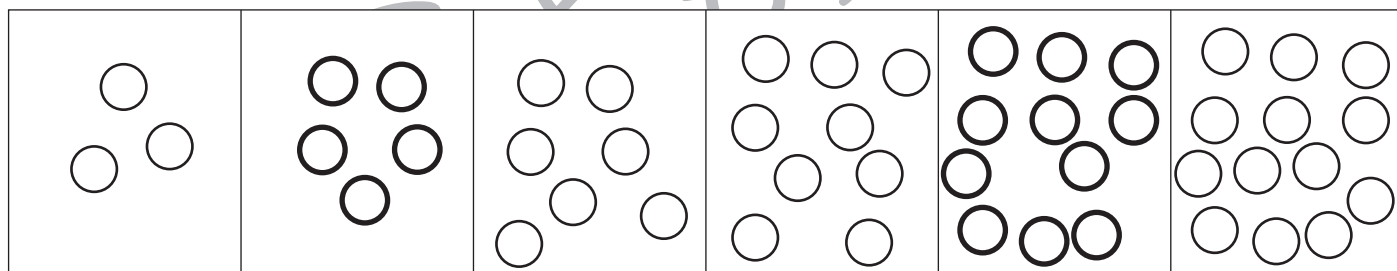
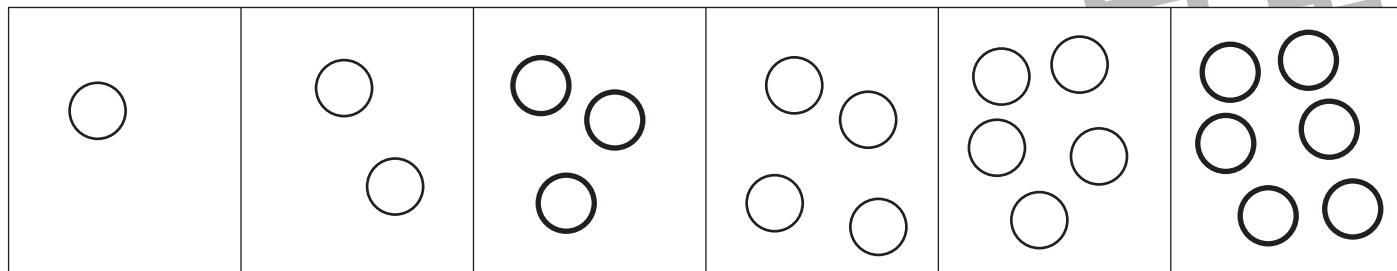


# おうちで、やろう。

Study at home. 小学校受験の家庭学習教材

## 推理：系列完成 12

四角の中の○はある順番通りに並んでいます。空いている四角には○がいくつ入るか考えて、その数だけ○をかきます。○の大きさにも注意しましょう。



※1. このプリントは、しながわ・目黒こどもスクールのウェブサイトでダウンロードができます。無断複写・引用はご遠慮ください。  
 ※2. このプリントを活用したオンライン授業のスケジュールは、しながわ・目黒こどもスクールのウェブサイトでご確認ください。

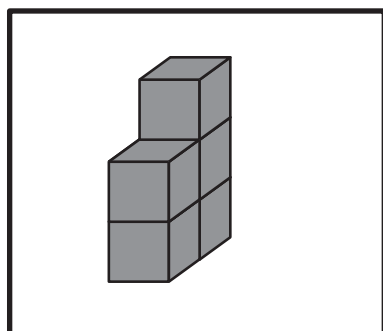


# おうちで、やろう。

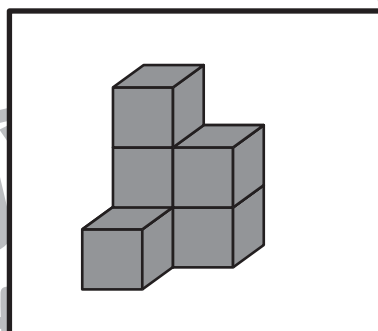
Study at home. 小学校受験の家庭学習教材

## 推理：積み木 15

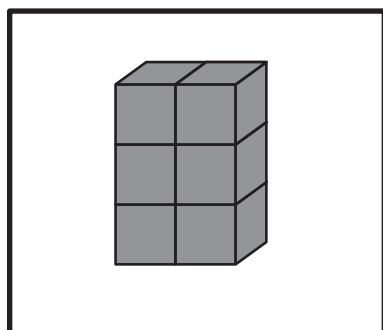
太い四角の中には積み木があります。積み木がいくつあるかを数えて全部で 10 になるようにします。  
あといくつ必要かを考えて、その数だけ右の四角に○をかきます。



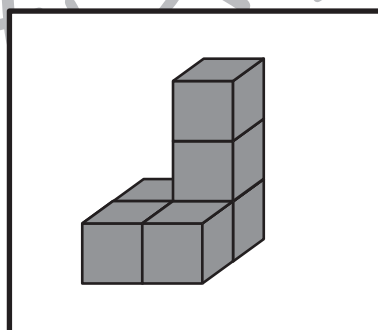
$$\bigcirc \times 5$$



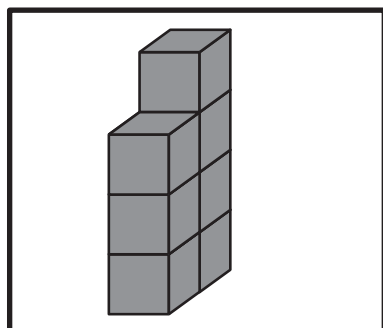
$$\bigcirc \times 4$$



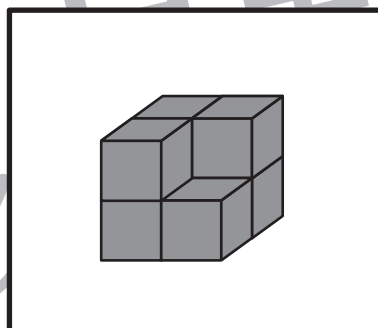
$$\bigcirc \times 4$$



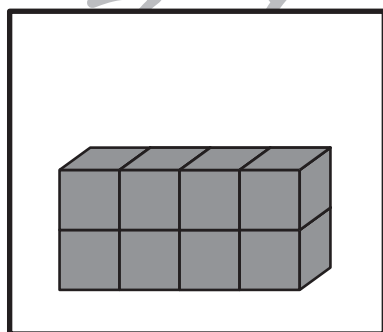
$$\bigcirc \times 4$$



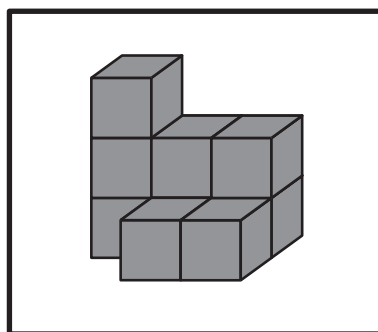
$$\bigcirc \times 3$$



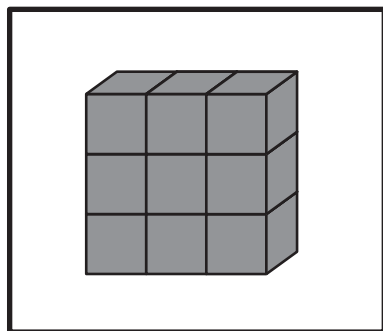
$$\bigcirc \times 3$$



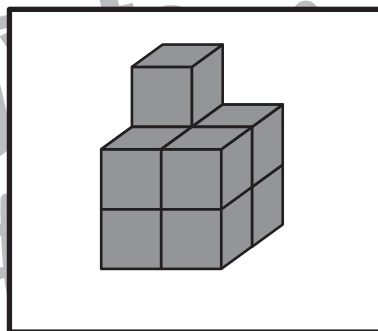
$$\bigcirc \times 2$$



$$\bigcirc \times 1$$



$$\bigcirc \times 1$$



$$\bigcirc \times 1$$

※1. このプリントは、しながわ・目黒こどもスクールのウェブサイトでダウンロードができます。無断複写・引用はご遠慮ください。  
※2. このプリントを活用したオンライン授業のスケジュールは、しながわ・目黒こどもスクールのウェブサイトでご確認ください。

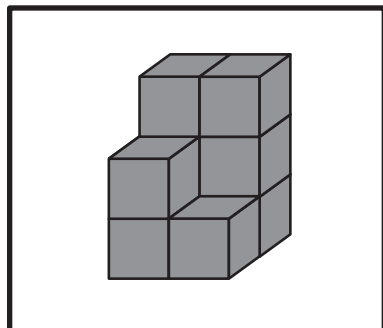


# おうちで、やろう。

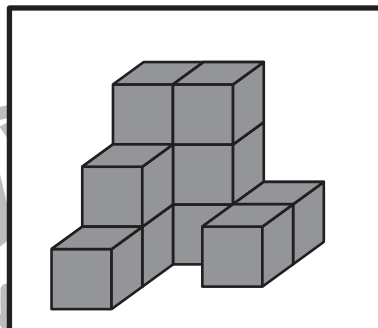
Study at home. 小学校受験の家庭学習教材

## 推理：積み木 16

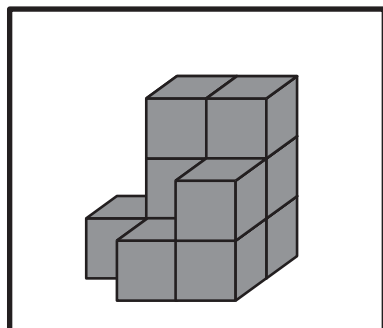
太い四角の中には積み木があります。積み木がいくつあるかを数えて全部で 15 になるようにします。  
あといくつ必要かを考えて、その数だけ右の四角に○をかきます。



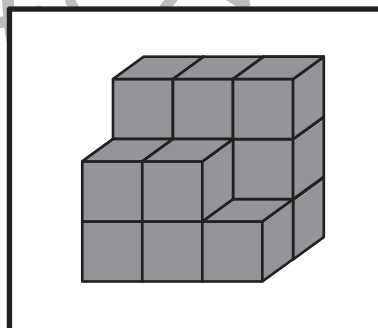
$$\bigcirc \times 6$$



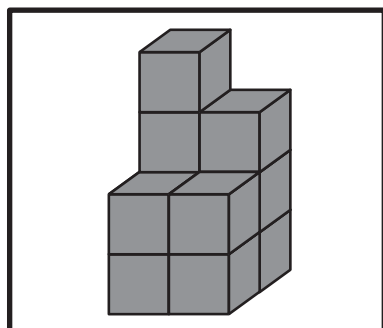
$$\bigcirc \times 4$$



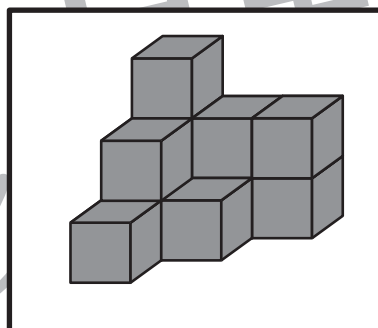
$$\bigcirc \times 5$$



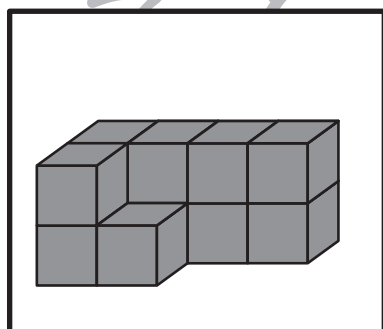
$$\bigcirc \times 1$$



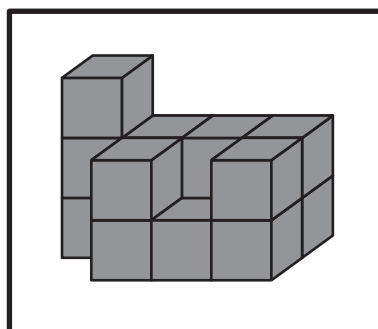
$$\bigcirc \times 4$$



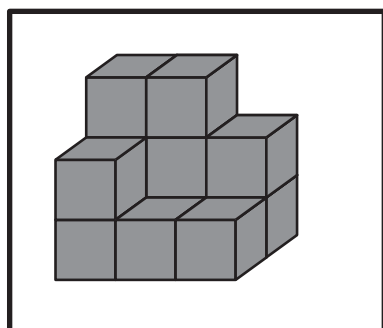
$$\bigcirc \times 4$$



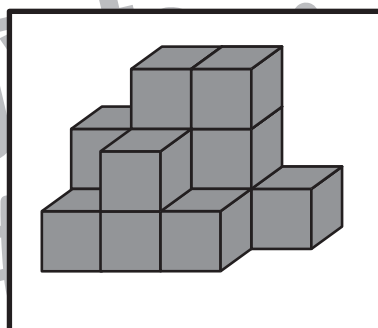
$$\bigcirc \times 4$$



$$\bigcirc \times 1$$



$$\bigcirc \times 3$$



$$\bigcirc \times 2$$

※1. このプリントは、しながわ・目黒こどもスクールのウェブサイトでダウンロードができます。無断複写・引用はご遠慮ください。  
※2. このプリントを活用したオンライン授業のスケジュールは、しながわ・目黒こどもスクールのウェブサイトでご確認ください。

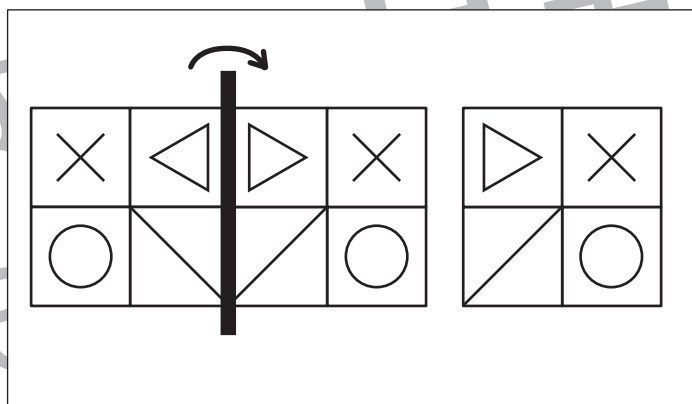
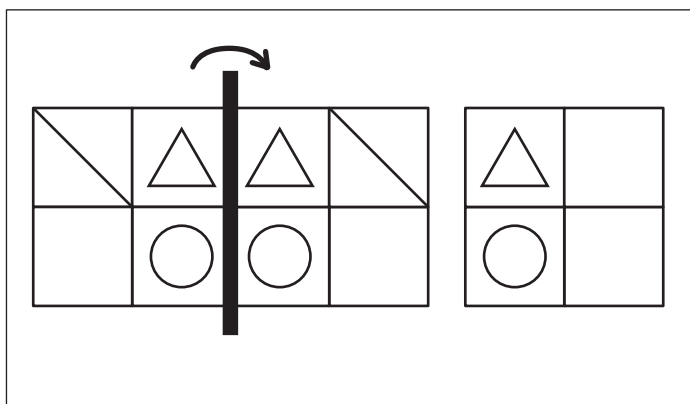
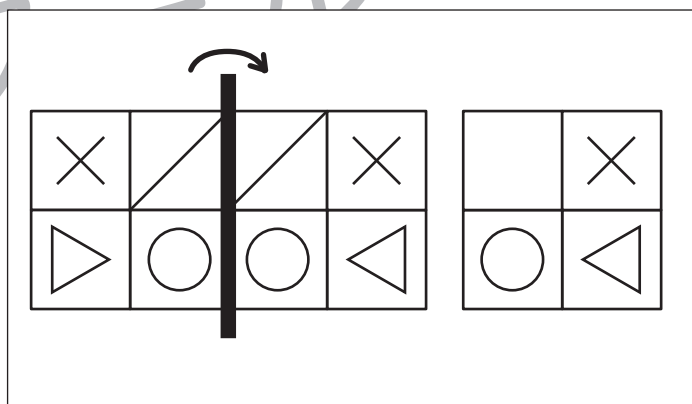
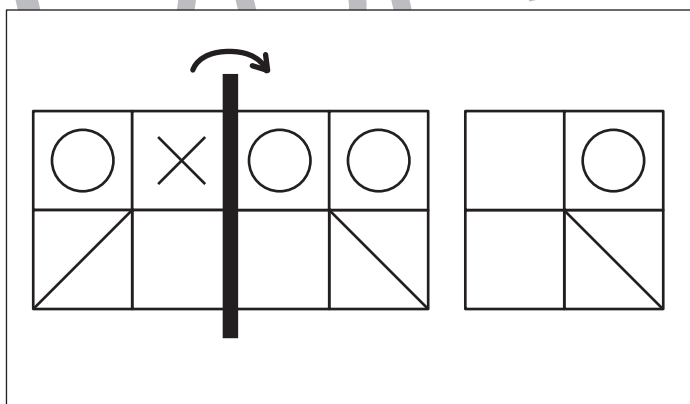
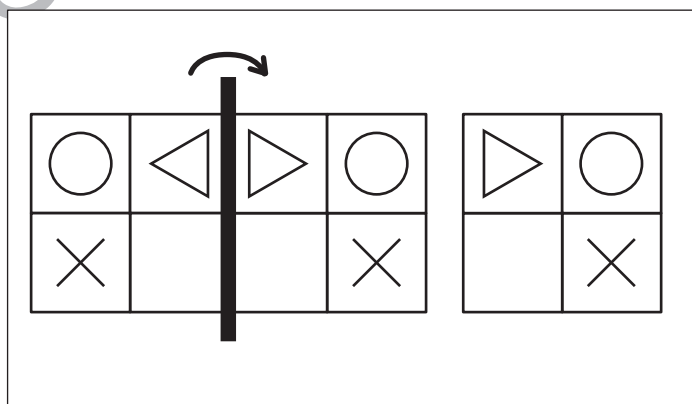
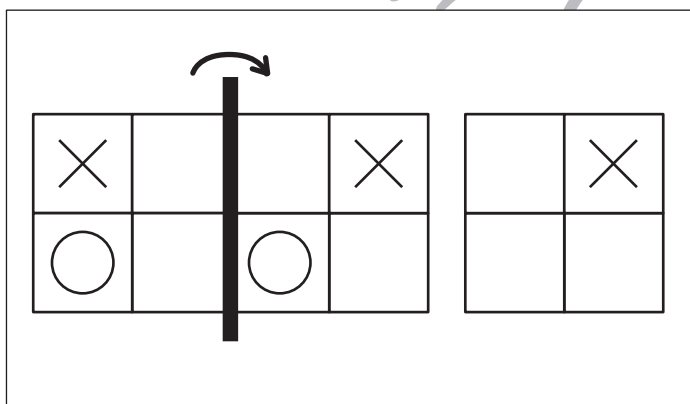
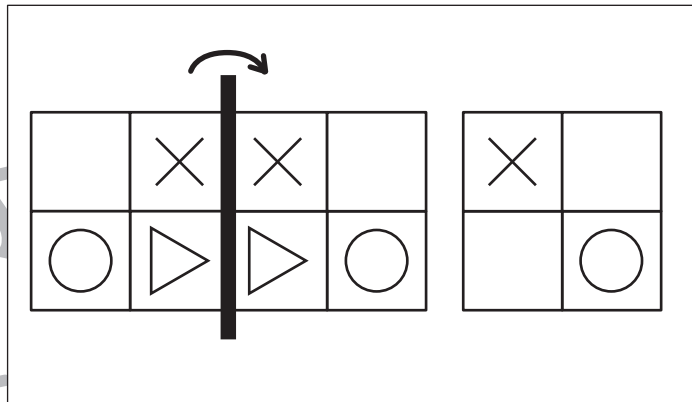
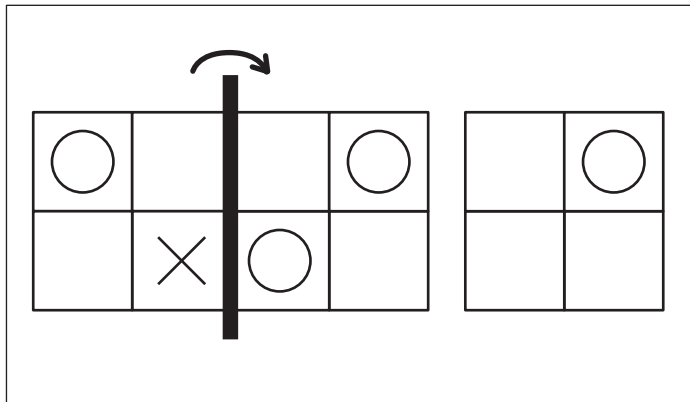


# おうちで、やろう。

Study at home. 小学校受験の家庭学習教材

## 図形：折り重ね 21

左の四角を真ん中の太い線で矢印の方向へ折り重ねた時の見え方を考えます。  
折り重ねた時に同じ形同士で重なるものを考えて、一番右の四角にその形をかきます。



※1. このプリントは、しながわ・目黒こどもスクールのウェブサイトでダウンロードができます。無断複写・引用はご遠慮ください。  
 ※2. このプリントを活用したオンライン授業のスケジュールは、しながわ・目黒こどもスクールのウェブサイトでご確認ください。

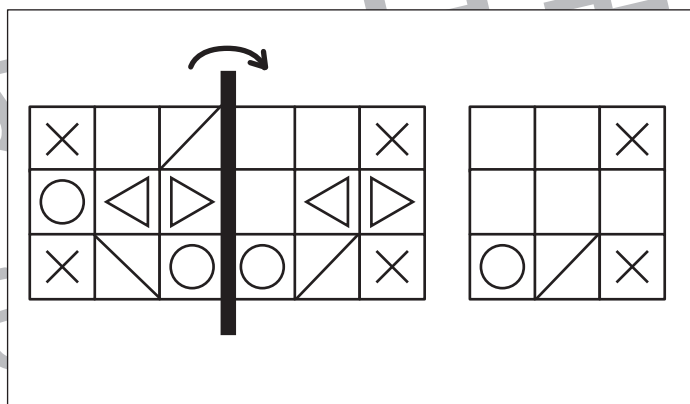
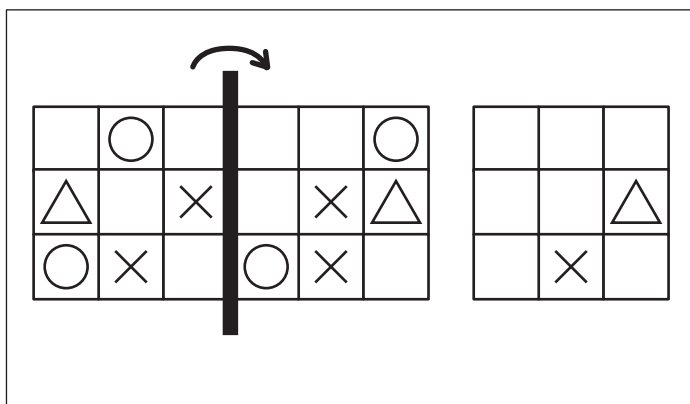
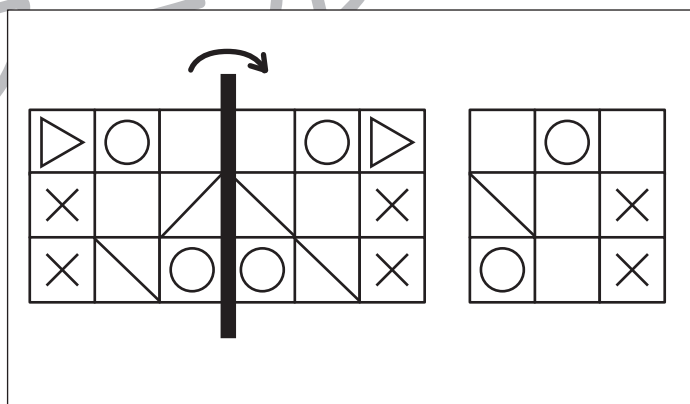
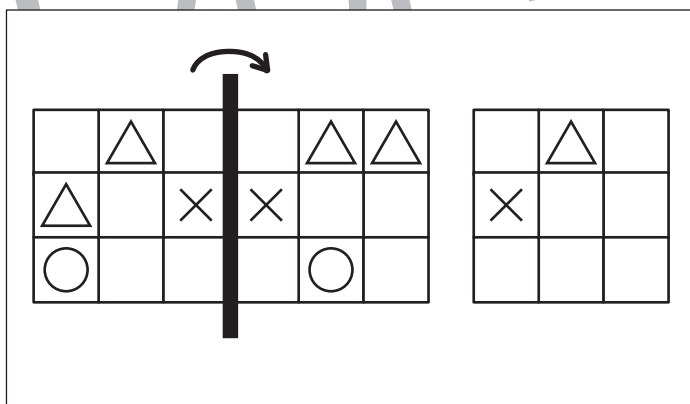
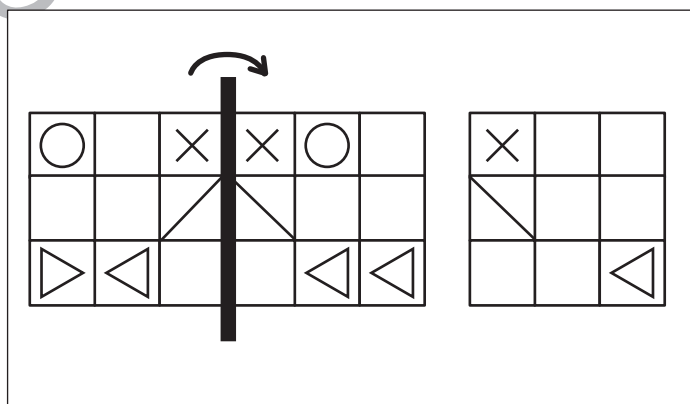
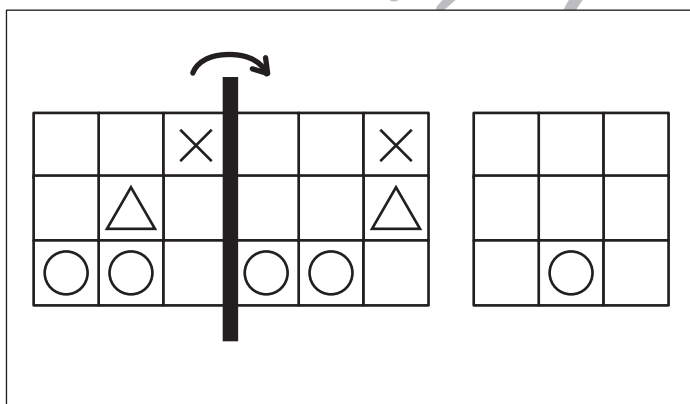
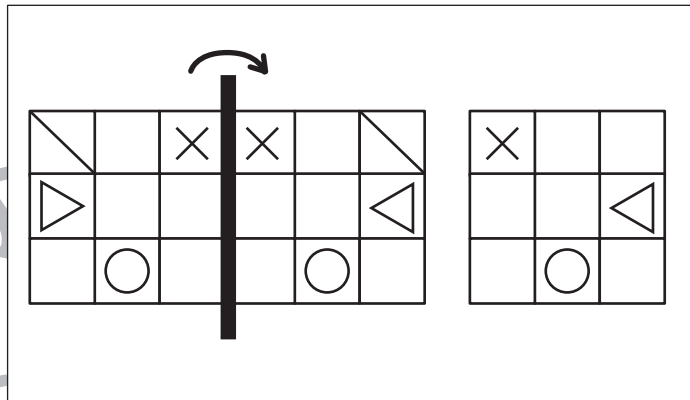
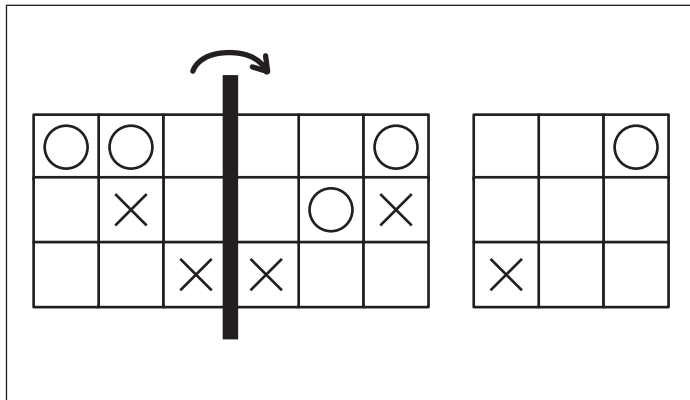


# おうちで、やろう。

Study at home. 小学校受験の家庭学習教材

## 図形：折り重ね 22

左の四角を真ん中の太い線で矢印の方向へ折り重ねた時の見え方を考えます。  
折り重ねた時に同じ形同士で重なるものを考えて、一番右の四角にその形をかきます。



※1. このプリントは、しながわ・目黒こどもスクールのウェブサイトでダウンロードができます。無断複写・引用はご遠慮ください。  
※2. このプリントを活用したオンライン授業のスケジュールは、しながわ・目黒こどもスクールのウェブサイトでご確認ください。



# おうちで、やろう。

Study at home. 小学校受験の家庭学習教材

## 図形：重ね点図形 18

左の3枚の点図形を重ねた形を考えて、矢印の右の四角にかきます。

			▶	
			▶	
			▶	
			▶	
			▶	

※1. このプリントは、しながわ・目黒こどもスクールのウェブサイトでダウンロードができます。無断複写・引用はご遠慮ください。  
 ※2. このプリントを活用したオンライン授業のスケジュールは、しながわ・目黒こどもスクールのウェブサイトでご確認ください。



# おうちで、やろう。

Study at home. 小学校受験の家庭学習教材

## 図形：重ね点図形 19

左の3枚の点図形を重ねた形を考えて、矢印の右の四角にかきます。

			▶	
			▶	
			▶	
			▶	
			▶	

※1. このプリントは、しながわ・目黒こどもスクールのウェブサイトでダウンロードができます。無断複写・引用はご遠慮ください。

※2. このプリントを活用したオンライン授業のスケジュールは、しながわ・目黒こどもスクールのウェブサイトでご確認ください。