



おうちで、やろう。

Study at home. 小学校受験の家庭学習教材

言語：おわりの音 12

- ①おわりの音に「あ・い・う・え・お」のどれかがつくものに○をつけます。
- ②おわりの音に「ま・み・む・め・も」のどれかがつくものに△をつけます。
- ③おわりの音に「ら・り・る・れ・ろ」のどれかがつくものに□をつけます。
- ④おわりの音に「が・ぎ・ぐ・げ・ご」のどれかがつくものに×をつけます。

目黒



※1. このプリントは、しながわ・目黒こどもスクールのウェブサイトからダウンロードできます。無断複写・引用はご遠慮ください。
※2. このプリントを活用したオンライン授業のスケジュールは、しながわ・目黒こどもスクールのウェブサイトでご確認ください。



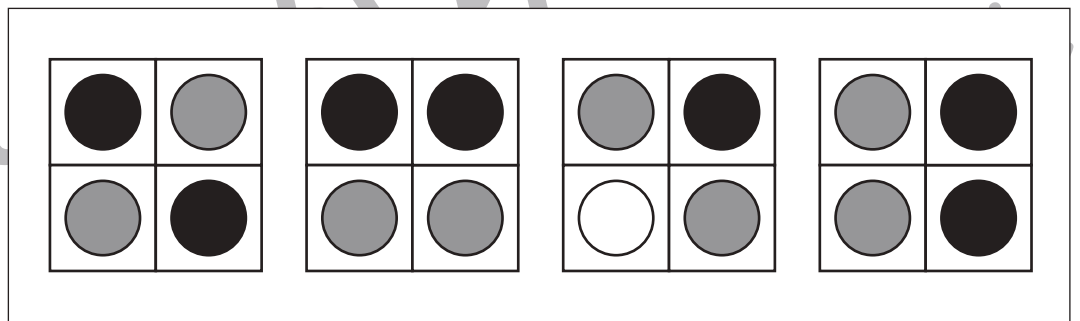
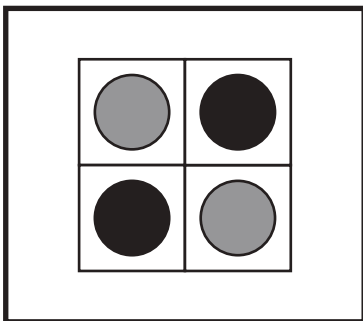
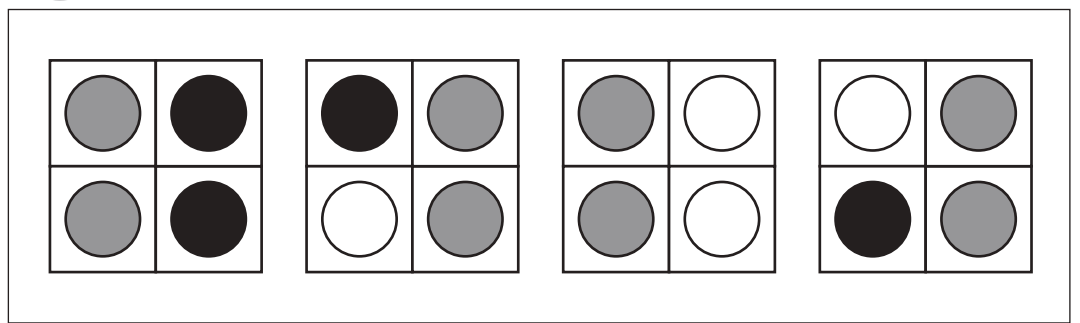
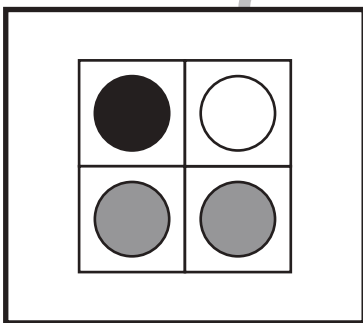
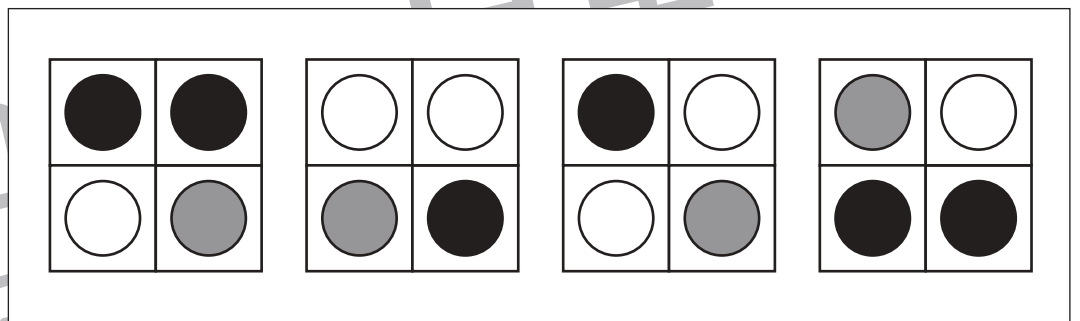
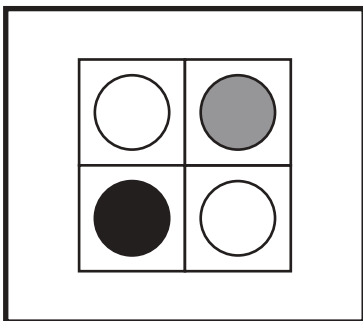
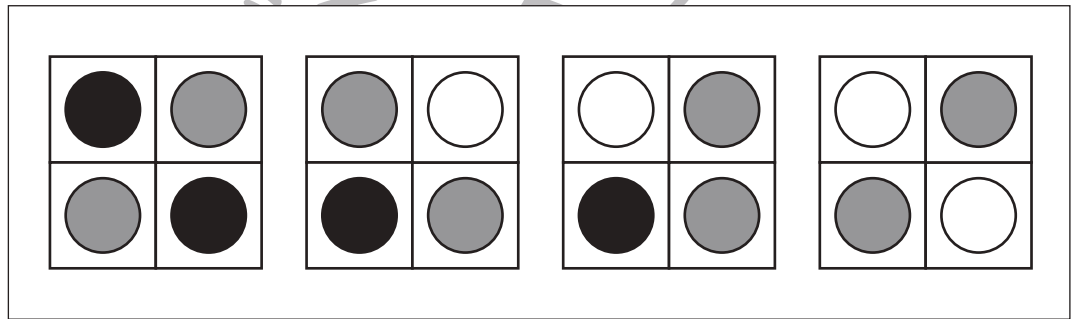
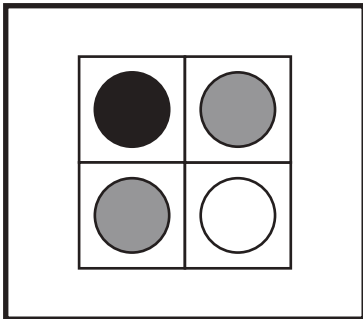
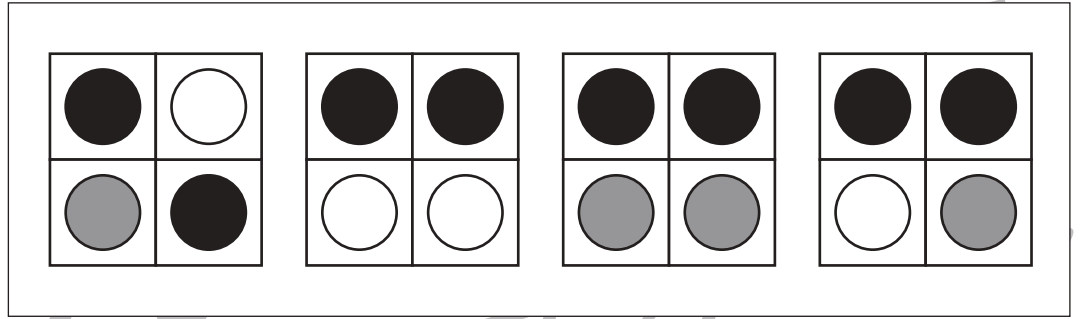
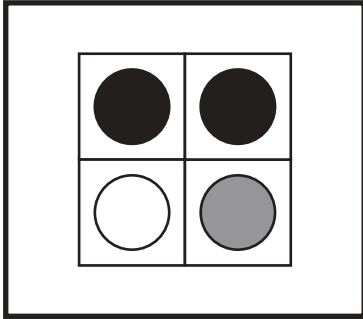


おうちで、やろう。

Study at home. 小学校受験の家庭学習教材

図形：同図形 10

左の太い四角の中がお手本です。このお手本と同じ形を右の4つの中から見つけて○をつけます。
右の形は回転しているものもあります。



※1. このプリントは、しながわ・目黒こどもスクールのウェブサイトでダウンロードができます。無断複写・引用はご遠慮ください。
※2. このプリントを活用したオンライン授業のスケジュールは、しながわ・目黒こどもスクールのウェブサイトでご確認ください。

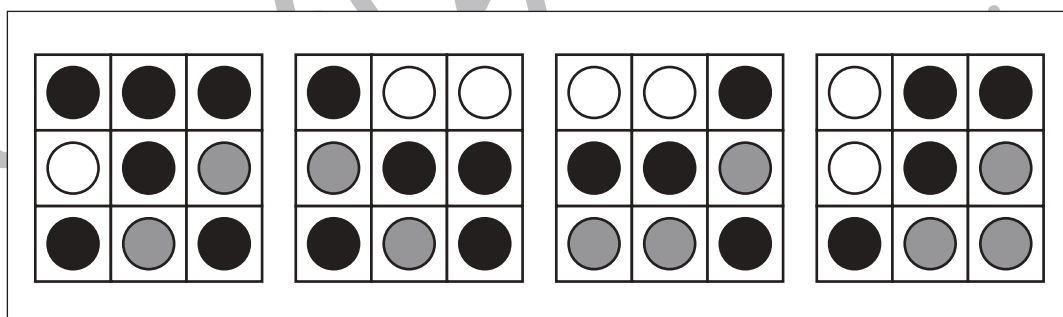
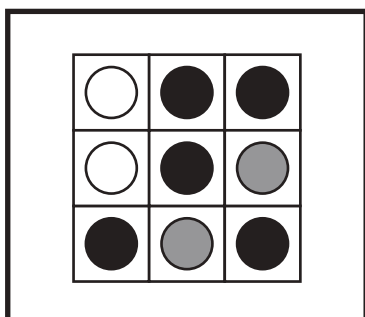
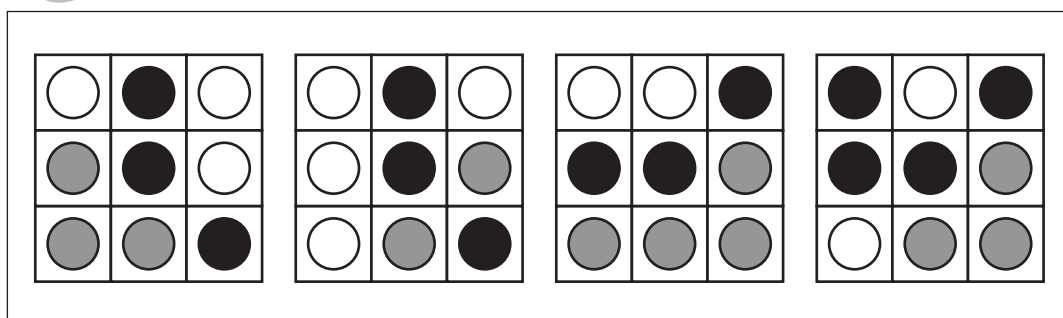
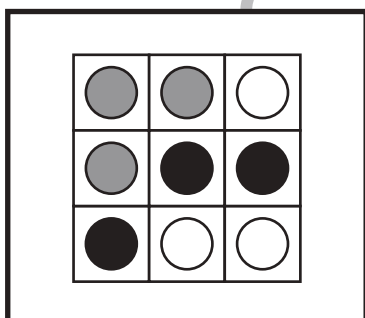
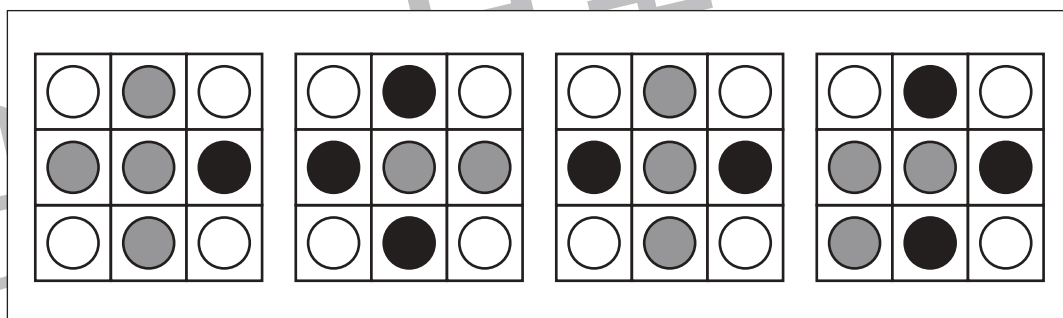
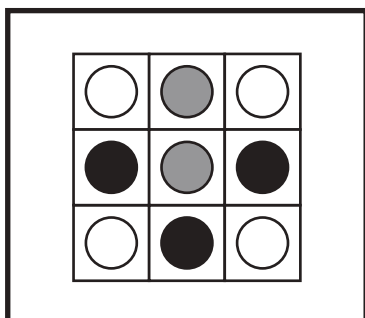
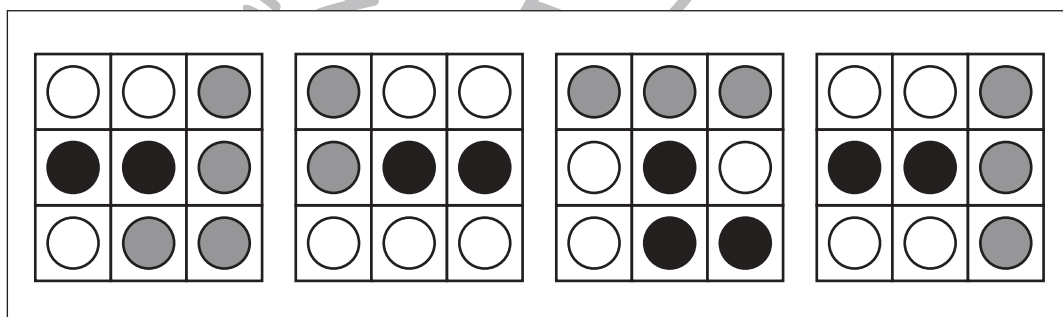
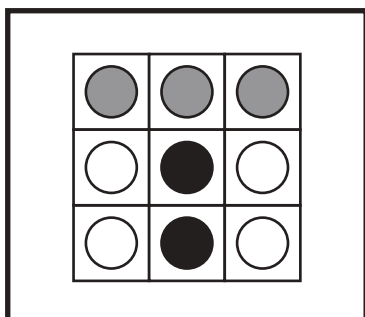
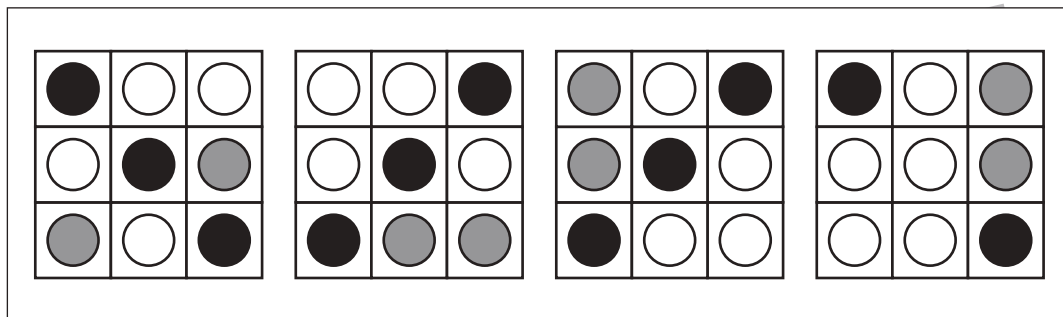
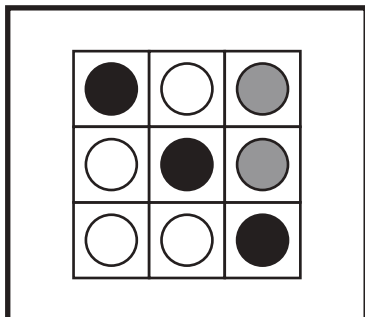


おうちで、やろう。

Study at home. 小学校受験の家庭学習教材

図形：同図形 11

左の太い四角の中がお手本です。このお手本と同じ形を右の4つの中から見つけて○をつけます。
右の形は回転しているものもあります。



※1. このプリントは、しながわ・目黒こどもスクールのウェブサイトでダウンロードができます。無断複写・引用はご遠慮ください。
※2. このプリントを活用したオンライン授業のスケジュールは、しながわ・目黒こどもスクールのウェブサイトでご確認ください。



おうちで、やろう。

Study at home. 小学校受験の家庭学習教材

推理：あみだくじ5

ライオンがいるところからあみだくじをします。☆のついた四角につくためには線が1本足りません。

その場所を考えて1本だけ線を引きます。

※あみだくじのルール：①上から下へ進みます。道は戻ってはいけません。②途中で曲がり角があったら必ず曲がります。

A maze puzzle grid with a lion icon at the top left and a star in a square at the bottom second column. The grid consists of vertical lines and horizontal lines forming a path from the lion to the star.

A maze puzzle grid with a lion icon at the top center and a star in a square at the bottom fourth column. The grid consists of vertical lines and horizontal lines forming a path from the lion to the star.

※1. このプリントは、しながわ・目黒こどもスクールのウェブサイトでダウンロードができます。無断複写・引用はご遠慮ください。

※2. このプリントを活用したオンライン授業のスケジュールは、しながわ・目黒こどもスクールのウェブサイトでご確認ください。



おうちで、やろう。

Study at home. 小学校受験の家庭学習教材

推理：あみだくじ6

ライオンがいるところからあみだくじをします。☆のついた四角につくためには線が1本足りません。

その場所を考えて1本だけ線を引きます。

※あみだくじのルール：①上から下へ進みます。道は戻ってはいけません。②途中で曲がり角があったら必ず曲がります。

A maze puzzle grid with 5 vertical lines and 5 horizontal lines. A lion is at the top right. A star is in the bottom left square. The path starts from the lion and ends at the star.

A maze puzzle grid with 5 vertical lines and 5 horizontal lines. A lion is at the top left. A star is in the bottom right square. The path starts from the lion and ends at the star.

※1. このプリントは、しながわ・目黒こどもスクールのウェブサイトでダウンロードができます。無断複写・引用はご遠慮ください。

※2. このプリントを活用したオンライン授業のスケジュールは、しながわ・目黒こどもスクールのウェブサイトでご確認ください。


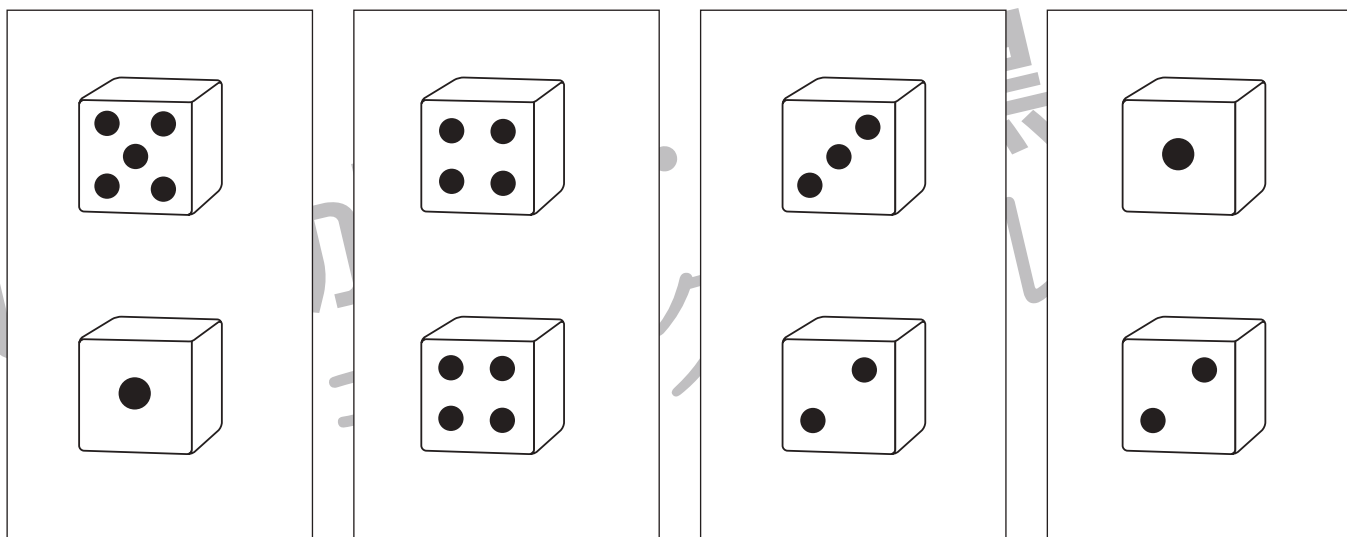



おうちで、やろう。

Study at home. 小学校受験の家庭学習教材

数量：サイコロ3

サイコロの目の数をあわせて6になるものには○、8になるものには△をつけます。



※1. このプリントは、しながわ・目黒こどもスクールのウェブサイトでダウンロードができます。無断複写・引用はご遠慮ください。
 ※2. このプリントを活用したオンライン授業のスケジュールは、しながわ・目黒こどもスクールのウェブサイトでご確認ください。


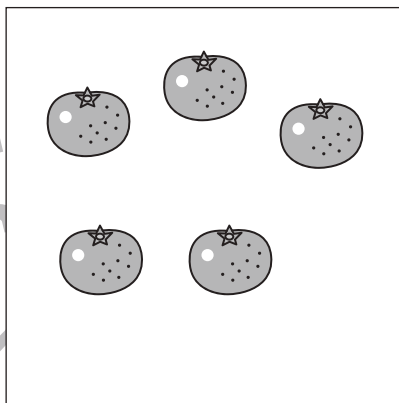
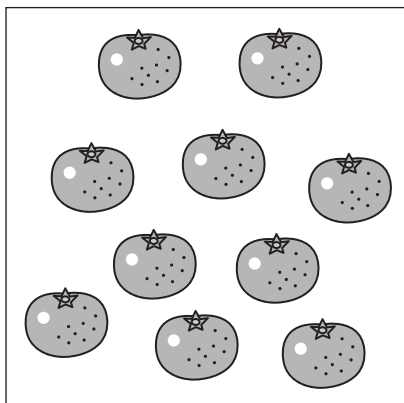




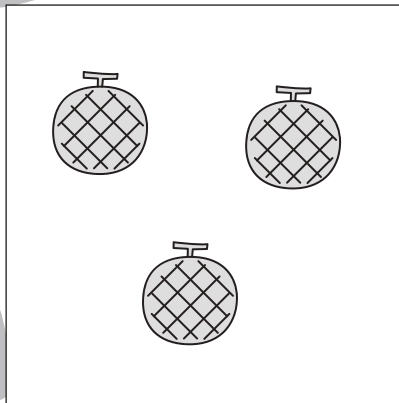
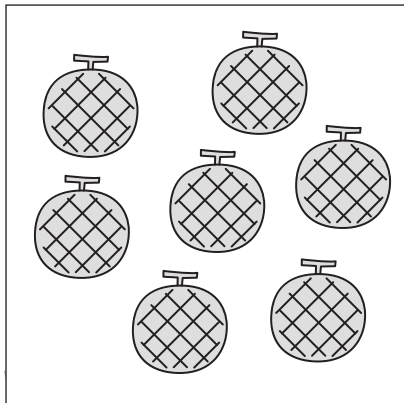

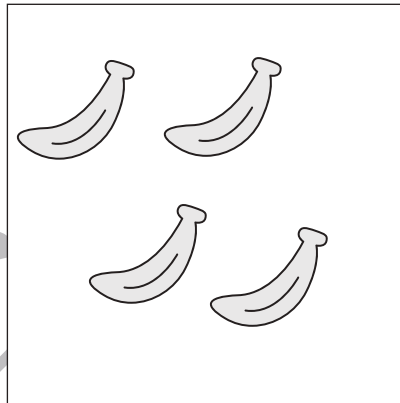



おうちで、やろう。

Study at home. 小学校受験の家庭学習教材

数量：加減 16

左の四角の中に果物があります。動物が四角の中の果物をいくつかもっていってしまいました。持っていった後に残ったのが真ん中の四角の中の果物です。動物が持っていった果物の数だけ、右の四角に○をかきます。



※1. このプリントは、しながわ・目黒こどもスクールのウェブサイトでダウンロードができます。無断複写・引用はご遠慮ください。
※2. このプリントを活用したオンライン授業のスケジュールは、しながわ・目黒こどもスクールのウェブサイトでご確認ください。


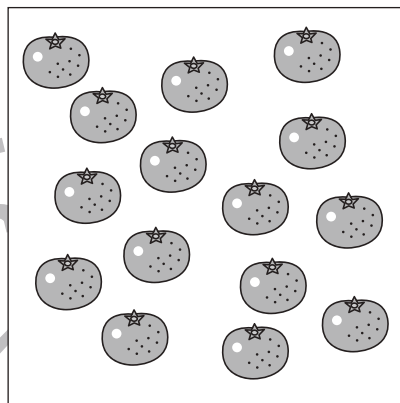
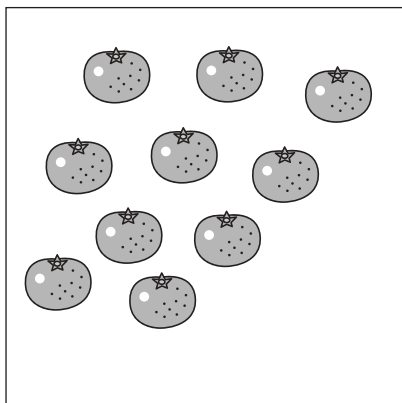




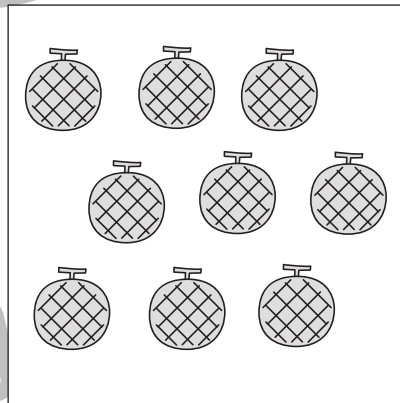
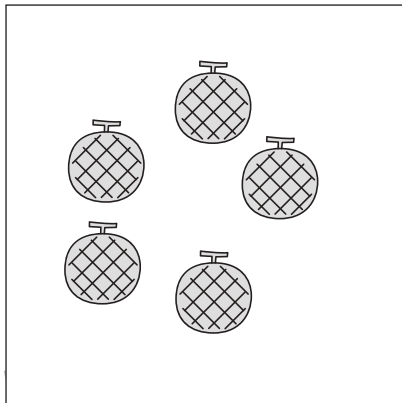

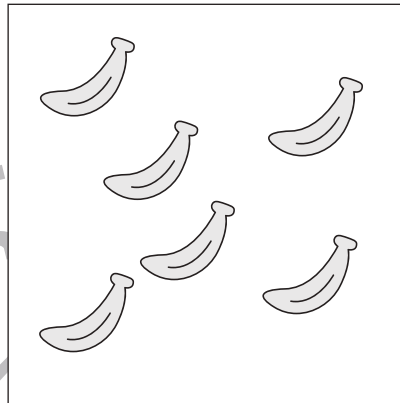
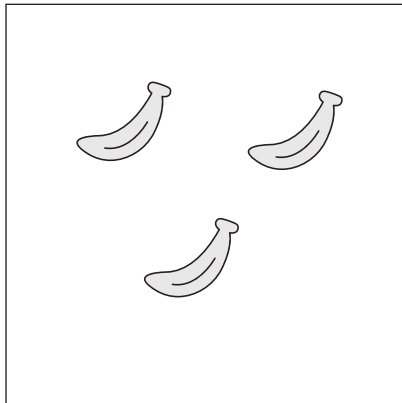


おうちで、やろう。

Study at home. 小学校受験の家庭学習教材

数量：加減 17

左の四角の中に果物があります。動物がきて、果物を集めると数が増えて真ん中の四角の中の果物の数になりました。果物が増えた数だけ右の四角に○をかきます。



※1. このプリントは、しながわ・目黒こどもスクールのウェブサイトでダウンロードができます。無断複写・引用はご遠慮ください。
※2. このプリントを活用したオンライン授業のスケジュールは、しながわ・目黒こどもスクールのウェブサイトでご確認ください。




おうちで、やろう。

Study at home. 小学校受験の家庭学習教材

処理：計数 13

大きな四角の中の絵を数えます。その数だけ下の四角に○をかきます。








※1. このプリントは、しながわ・目黒こどもスクールのウェブサイトでダウンロードができます。無断複写・引用はご遠慮ください。
※2. このプリントを活用したオンライン授業のスケジュールは、しながわ・目黒こどもスクールのウェブサイトでご確認ください。