



おうちで、やろう。

Study at home. 小学校受験の家庭学習教材

指示の聞き取り 20

それぞれの設問に答えましょう。指示は1度しか読みません。しっかり聞いて取り組みましょう。

- ①右端の上から3段目に青のクーピーで○をかきます。
- ②左から3番目の下から2段目に黄色のクーピーで△をかきます。
- ③左から5番目の上から4段目に赤のクーピーで□をかきます。
- ④左端の下から5段目に紫のクーピーで◎をかきます。
- ⑤右から3番目の下から6段目に茶色のクーピーで×をかきます。

		茶色		
◎				
				青
				赤
		黄色		

※1. このプリントは、しながわ・目黒こどもスクールのウェブサイトでダウンロードができます。無断複写・引用はご遠慮ください。
 ※2. このプリントを活用したオンライン授業のスケジュールは、しながわ・目黒こどもスクールのウェブサイトでご確認ください。




おうちで、やろう。

Study at home. 小学校受験の家庭学習教材

言語：おわりの音 12

- ①おわりの音に「あ・い・う・え・お」のどれかがつくものに○をつけます。
- ②おわりの音に「ま・み・む・め・も」のどれかがつくものに△をつけます。
- ③おわりの音に「ら・り・る・れ・ろ」のどれかがつくものに□をつけます。
- ④おわりの音に「が・ぎ・ぐ・げ・ご」のどれかがつくものに×をつけます。

目黒



※1. このプリントは、しながわ・目黒こどもスクールのウェブサイトでダウンロードができます。無断複写・引用はご遠慮ください。
 ※2. このプリントを活用したオンライン授業のスケジュールは、しながわ・目黒こどもスクールのウェブサイトでご確認ください。

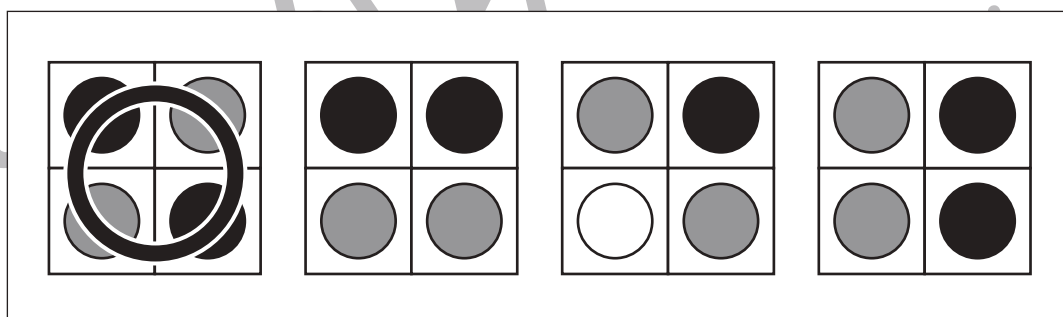
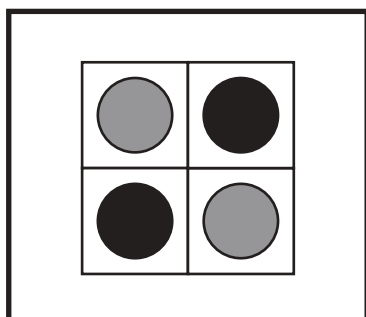
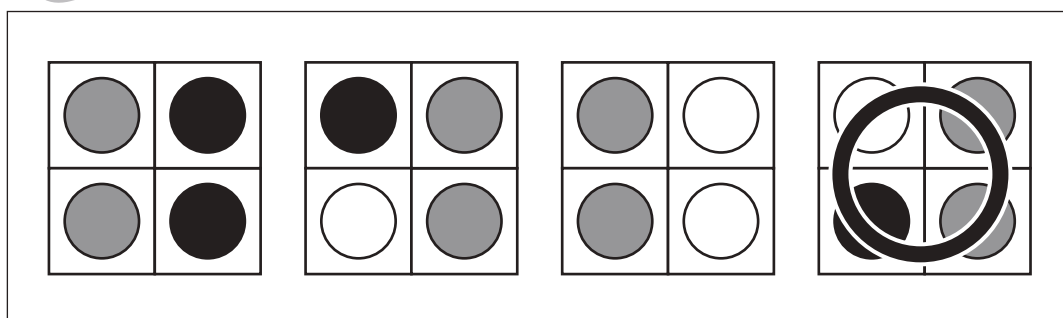
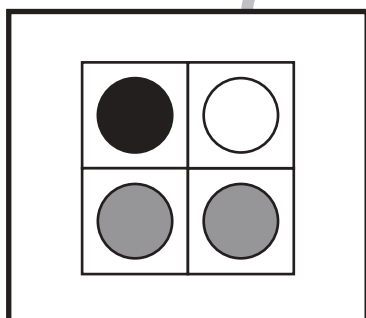

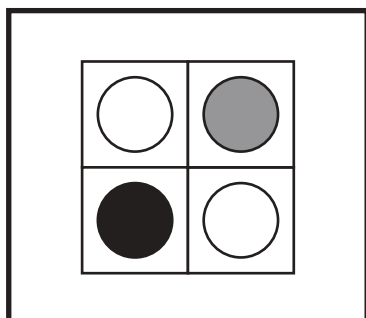
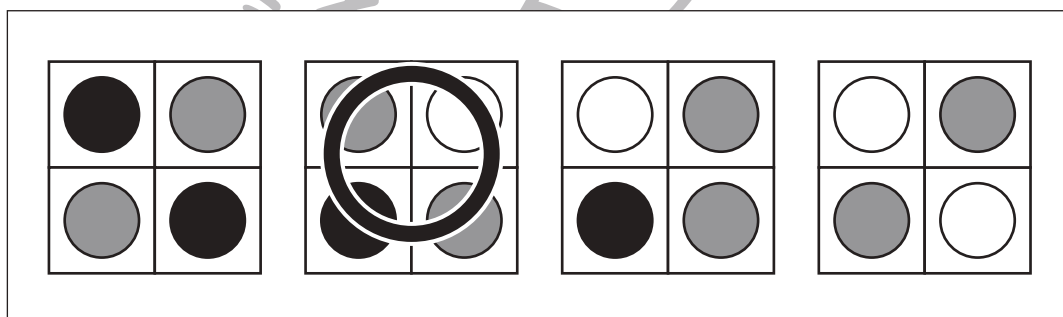
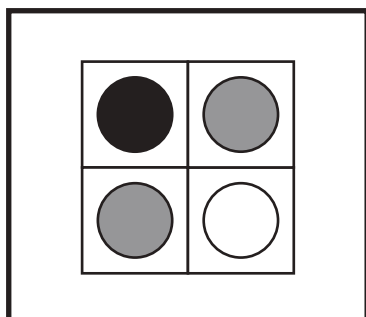
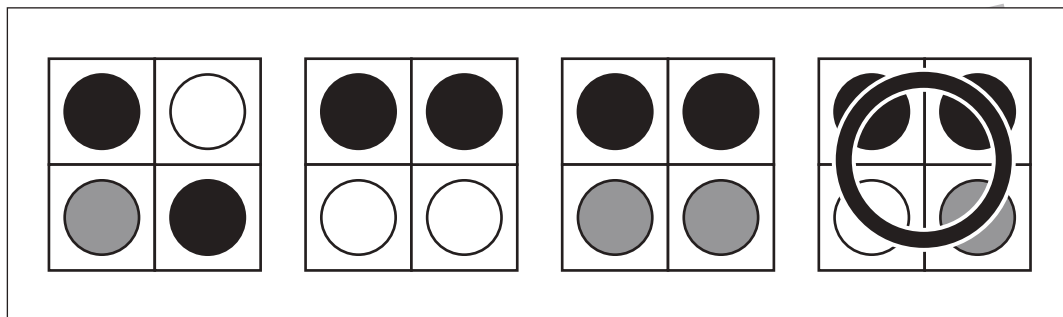
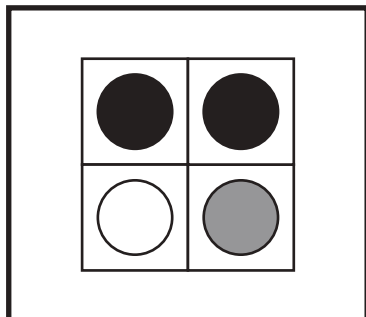


おうちで、やろう。

Study at home. 小学校受験の家庭学習教材

図形：同図形 10

左の太い四角の中がお手本です。このお手本と同じ形を右の4つの中から見つけて○をつけます。
右の形は回転しているものもあります。



※1. このプリントは、しながわ・目黒こどもスクールのウェブサイトでダウンロードができます。無断複写・引用はご遠慮ください。
※2. このプリントを活用したオンライン授業のスケジュールは、しながわ・目黒こどもスクールのウェブサイトでご確認ください。




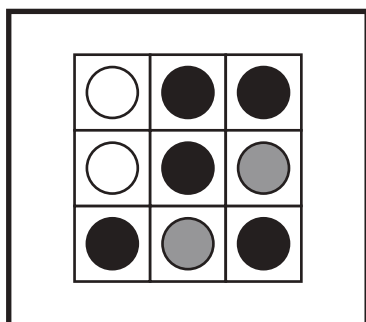
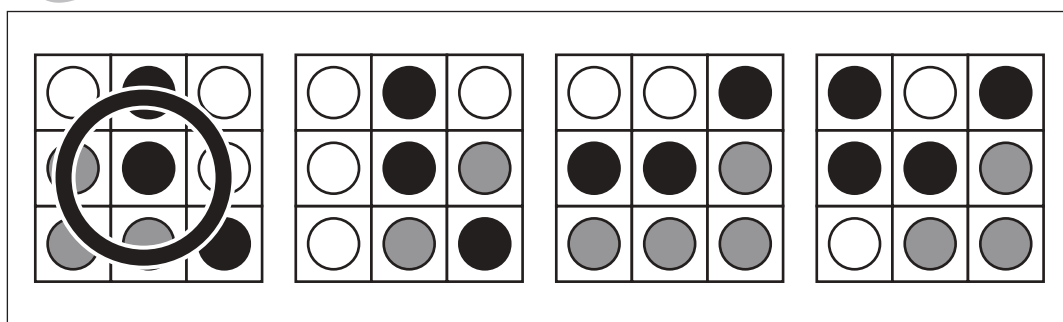
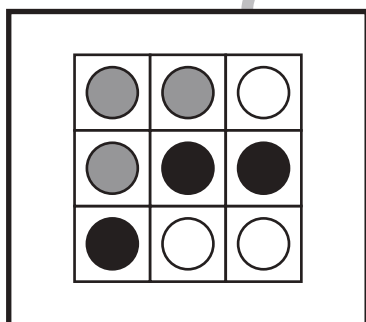
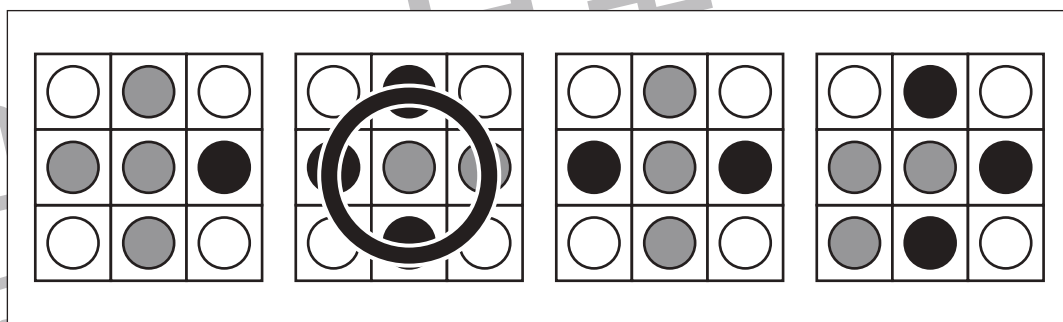
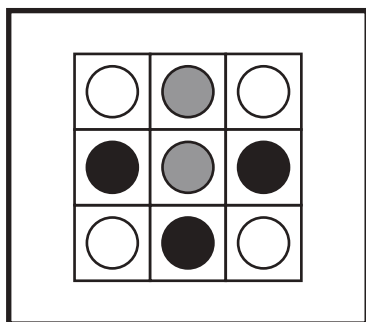
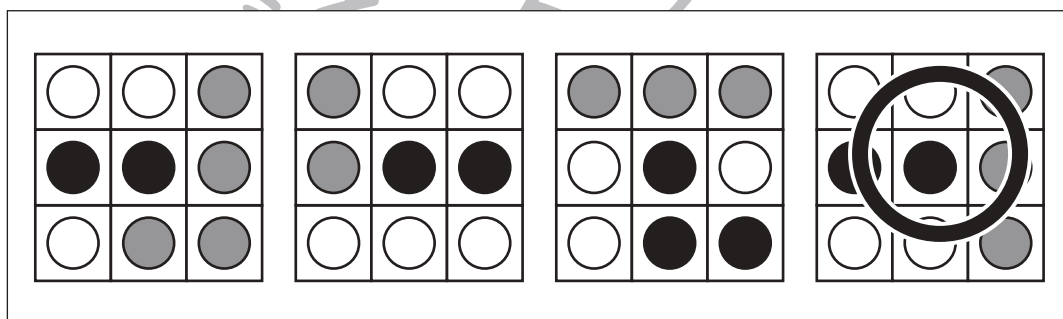
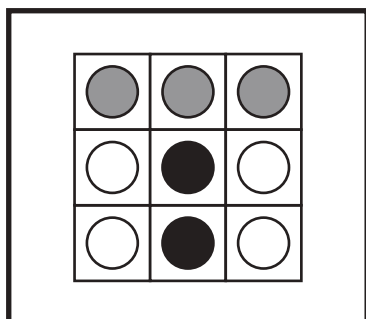
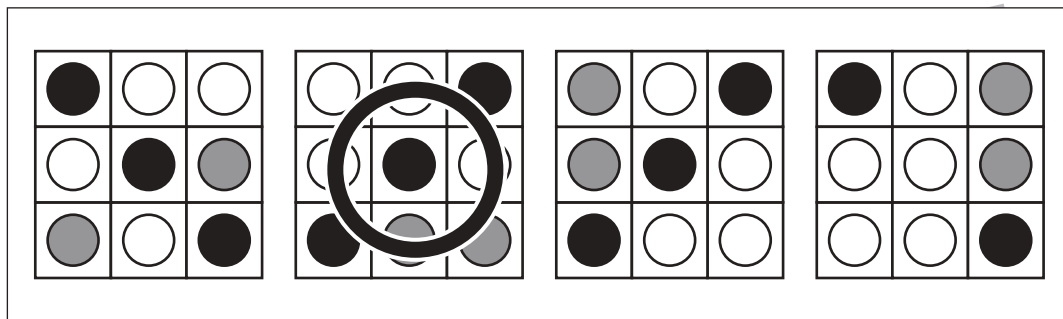
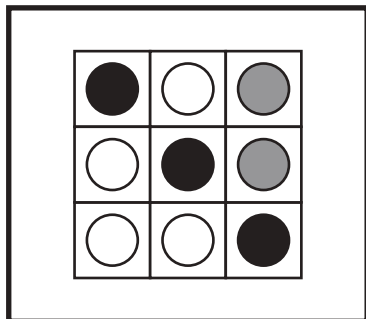


おうちで、やろう。

Study at home. 小学校受験の家庭学習教材

図形：同図形 11

左の太い四角の中がお手本です。このお手本と同じ形を右の4つの中から見つけて○をつけます。
右の形は回転しているものもあります。



※1. このプリントは、しながわ・目黒こどもスクールのウェブサイトでダウンロードができます。無断複写・引用はご遠慮ください。
 ※2. このプリントを活用したオンライン授業のスケジュールは、しながわ・目黒こどもスクールのウェブサイトでご確認ください。



おうちで、やろう。

Study at home. 小学校受験の家庭学習教材

推理：あみだくじ5

ライオンがいるところからあみだくじをします。☆のついた四角につくためには線が1本足りません。
その場所を考えて1本だけ線を引きます。

※あみだくじのルール：①上から下へ進みます。道は戻ってはいけません。②途中で曲がり角があったら必ず曲がります。

A 5-story ladder maze puzzle. A lion is at the top left. The goal is to reach a star at the bottom second column. The current path is highlighted in thick black lines, showing a path from the lion down to the first column, across to the second column, and down to the star.

A 5-story ladder maze puzzle. A lion is at the top center. The goal is to reach a star at the bottom fourth column. The current path is highlighted in thick black lines, showing a path from the lion down to the fourth column, across to the fifth column, and down to the star.

※1. このプリントは、しながわ・目黒こどもスクールのウェブサイトでダウンロードができます。無断複写・引用はご遠慮ください。
※2. このプリントを活用したオンライン授業のスケジュールは、しながわ・目黒こどもスクールのウェブサイトでご確認ください。



おうちで、やろう。

Study at home. 小学校受験の家庭学習教材

推理：あみだくじ6

ライオンがいるところからあみだくじをします。☆のついた四角につくためには線が1本足りません。

その場所を考えて1本だけ線を引きます。

※あみだくじのルール：①上から下へ進みます。道は戻ってはいけません。②途中で曲がり角があったら必ず曲がります。

A 5x5 grid for a logic puzzle. The lion is in the top-right cell. The star is in the bottom-left cell. A thick line connects the bottom of the second column to the bottom of the third column.

A 5x5 grid for a logic puzzle. The lion is in the top-middle cell. The star is in the bottom-right cell. A thick line connects the bottom of the third column to the bottom of the fourth column.

※1. このプリントは、しながわ・目黒こどもスクールのウェブサイトでダウンロードができます。無断複写・引用はご遠慮ください。

※2. このプリントを活用したオンライン授業のスケジュールは、しながわ・目黒こどもスクールのウェブサイトでご確認ください。



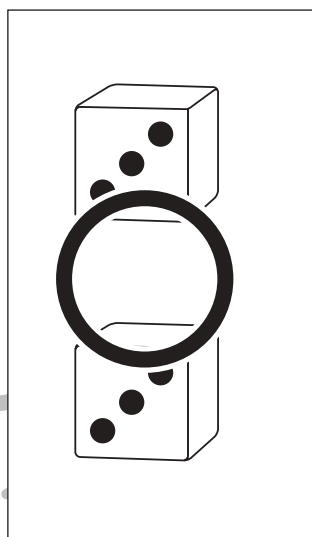

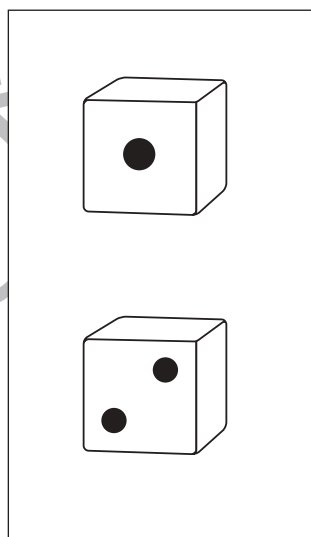


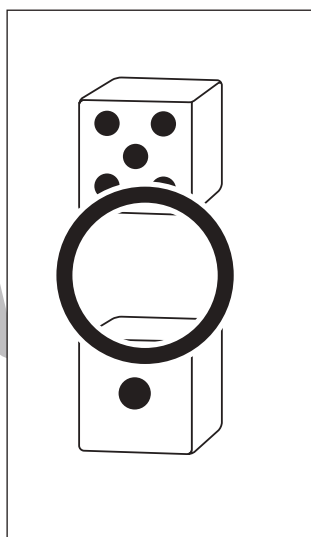

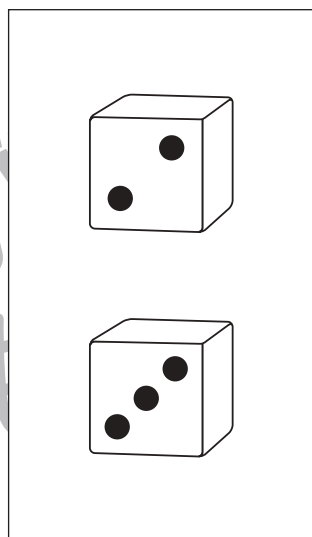
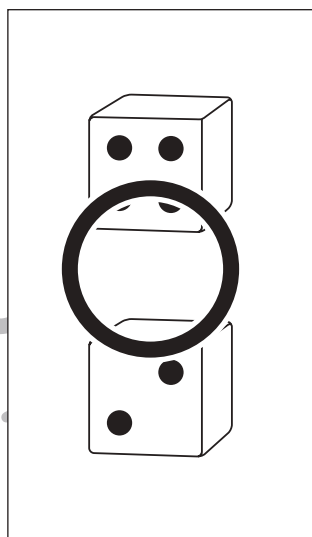



おうちで、やろう。

Study at home. 小学校受験の家庭学習教材

数量：サイコロ3

サイコロの目の数をあわせて6になるものには○、8になるものには△をつけます。



※1. このプリントは、しながわ・目黒こどもスクールのウェブサイトからダウンロードできます。無断複写・引用はご遠慮ください。
※2. このプリントを活用したオンライン授業のスケジュールは、しながわ・目黒こどもスクールのウェブサイトでご確認ください。



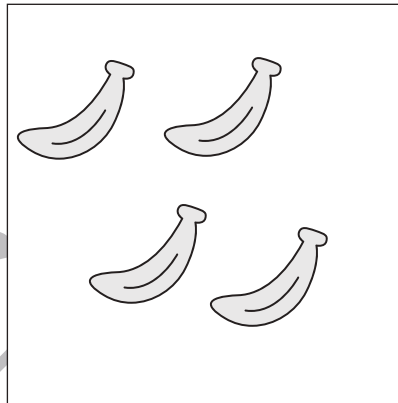



おうちで、やろう。

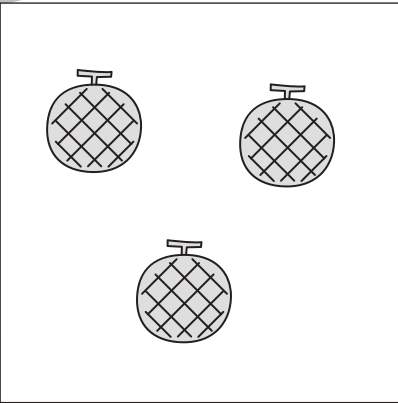
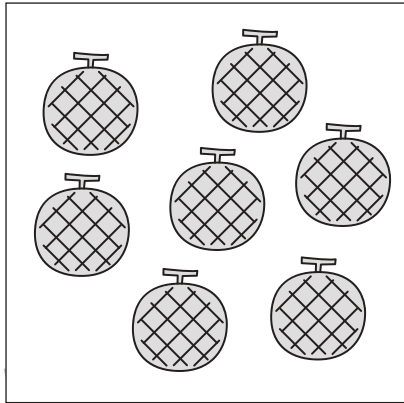
Study at home. 小学校受験の家庭学習教材

数量：加減 16



左の四角の中に果物があります。動物が四角の中の果物をいくつかもっていってしまいました。持っていった後に残ったのが真ん中の四角の中の果物です。動物が持っていった果物の数だけ、右の四角に○をかきます。



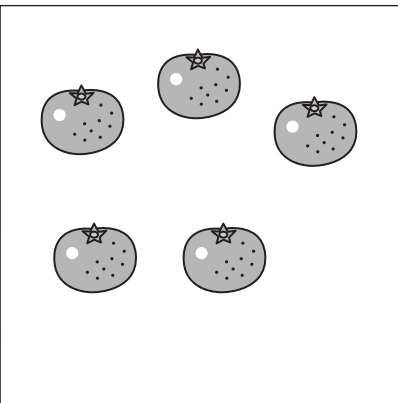
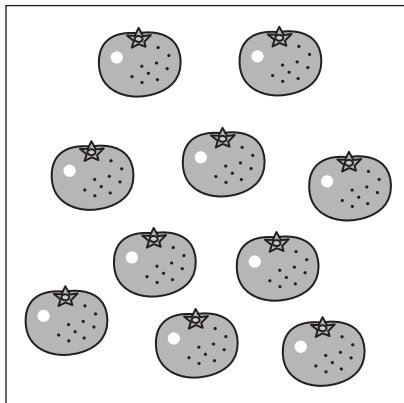
$$\bigcirc \times 2$$



$$\bigcirc \times 4$$



$$\bigcirc \times 3$$



$$\bigcirc \times 5$$

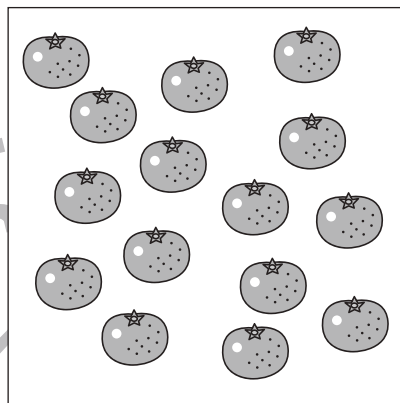
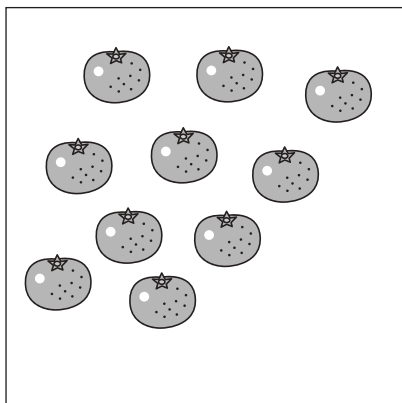


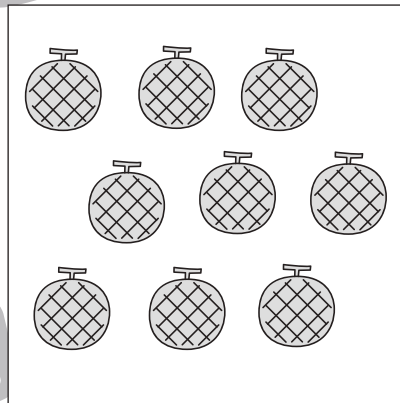
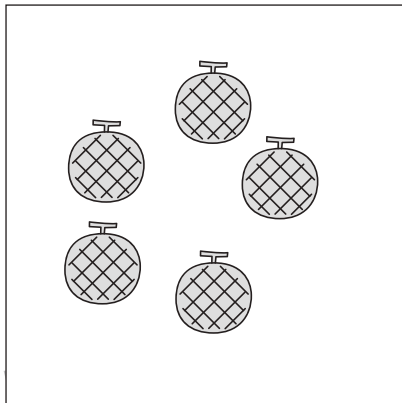

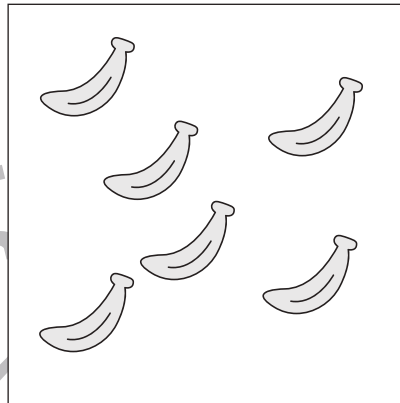
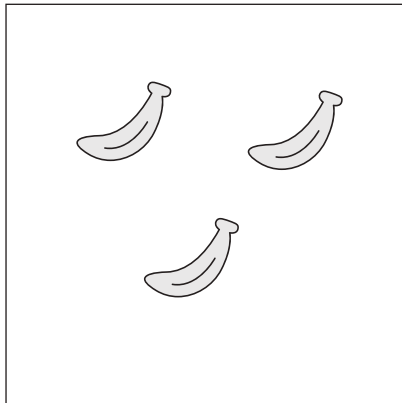


おうちで、やろう。

Study at home. 小学校受験の家庭学習教材

数量：加減 17

左の四角の中に果物があります。動物がきて、果物を集めると数が増えて真ん中の四角の中の果物の数になりました。果物が増えた数だけ右の四角に○をかきます。



※ 1. このプリントは、しながわ・目黒こどもスクールのウェブサイトでダウンロードができます。無断複写・引用はご遠慮ください。
※ 2. このプリントを活用したオンライン授業のスケジュールは、しながわ・目黒こどもスクールのウェブサイトでご確認ください。








おうちで、やろう。

Study at home. 小学校受験の家庭学習教材

処理：計数 13

大きな四角の中の絵を数えます。その数だけ下の四角に○をかきます。



	$\bigcirc \times 9$
	$\bigcirc \times 8$
	$\bigcirc \times 6$
	$\bigcirc \times 8$