




# おうちで、やろう。

Study at home. 小学校受験の家庭学習教材

## 常識：スポーツ 3

- ①野球で使う道具に○をつけます。
- ②テニス、バドミントンなどで玉を打ち返すときに使う、ラケットと呼ばれる道具に×をつけます。
- ③スポーツをしているときに使わない道具に△をつけます。





# おうちで、やろう。

Study at home. 小学校受験の家庭学習教材

## 推理：四方観察 8

上の四角の中の積み木を矢印の方向（上）から見ます。このとき、見える積み木はいくつですか。その数だけ下の四角に○をかきます。

↓


↓


↓


↓


↓


↓


※1. このプリントは、しながわ・目黒こどもスクールのウェブサイトでダウンロードができます。無断複写・引用はご遠慮ください。  
 ※2. このプリントを活用したオンライン授業のスケジュールは、しながわ・目黒こどもスクールのウェブサイトでご確認ください。



# おうちで、やろう。

Study at home. 小学校受験の家庭学習教材

## 推理：四方観察 9

上の四角の中の積み木を矢印の方向（上）から見ます。このとき、見える積み木はいくつですか。その数だけ下の四角に○をかきます。







※1. このプリントは、しながわ・目黒こどもスクールのウェブサイトでダウンロードができます。無断複写・引用はご遠慮ください。  
 ※2. このプリントを活用したオンライン授業のスケジュールは、しながわ・目黒こどもスクールのウェブサイトでご確認ください。



# おうちで、やろう。


Study at home. 小学校受験の家庭学習教材


数量：あといくつ4

2匹の動物がのびのびあてをしています。下のルールをよく読んで、全員を同じ得点にするにはどうすればいいか考えましょう。


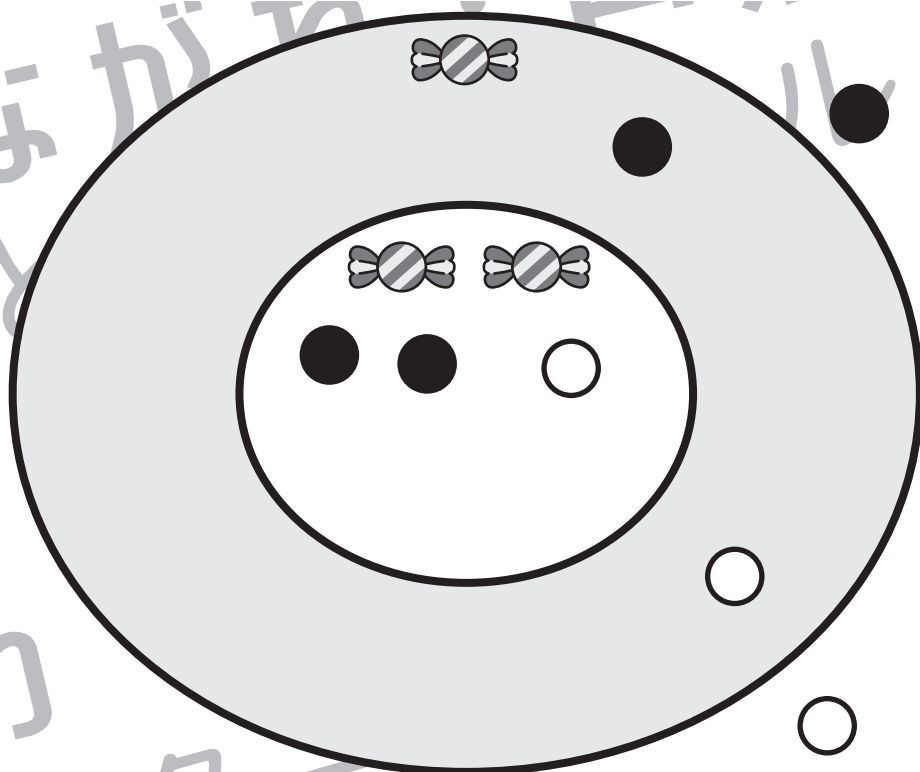
1. ボールを投げて当たった場所のお菓子がもらえます。当たった場所によってもらえるお菓子の数は違います。
2. 動物が持っているボールは、模様がそれぞれ違います。×印がついているボールは、もう投げ終わったボールです。
3. いまのくっついていてるボールは、何回かのあてをした後の様子です。

問題① ウサギが残っているボールを投げます。残りのボールをすべて使って、投げ終わっているイヌと同じ数のお菓子をもらえるようにします。的のどの場所に当てればいいのか考えて、ウサギの持っているボールと同じ模様を的の中に描きましょう。







▼ゲットしたお菓子


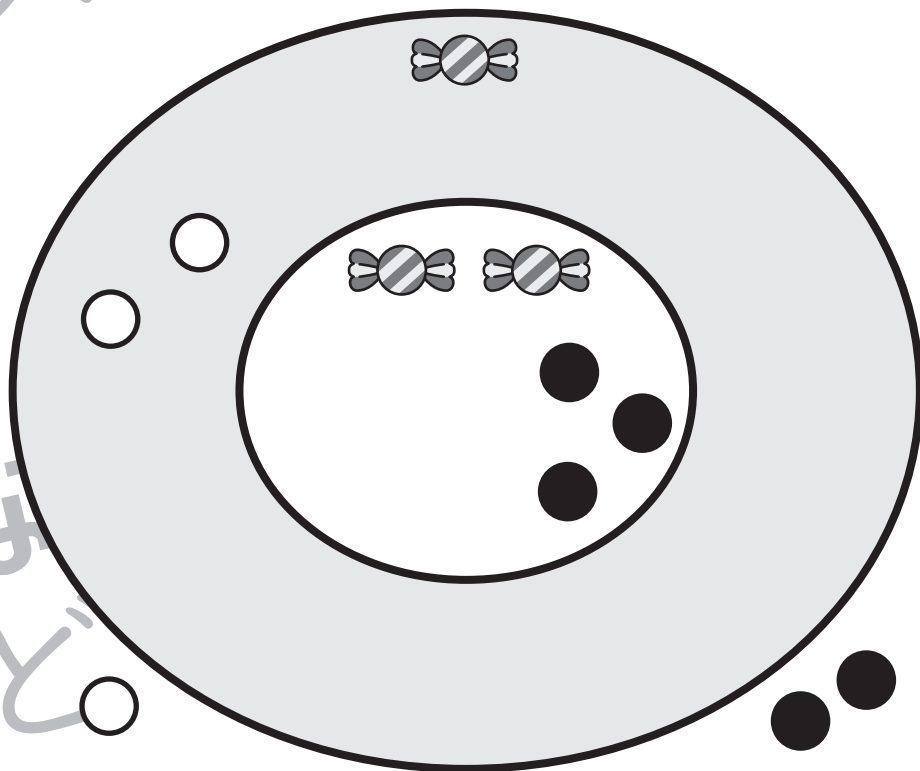



問題② パンダが残っているボールを投げます。残りのボールをすべて使って、投げ終わっているサルと同じ数のお菓子をもらえるようにします。的のどの場所に当てればいいのか考えて、パンダの持っているボールと同じ模様を的の中に描きましょう。





▼ゲットしたお菓子

※1. このプリントは、しながわ・目黒こどもスクールのウェブサイトからダウンロードできます。無断複写・引用はご遠慮ください。  
 ※2. このプリントを活用したオンライン授業のスケジュールは、しながわ・目黒こどもスクールのウェブサイトでご確認ください。



# おうちで、やろう。

Study at home. 小学校受験の家庭学習教材

数量：あといくつ5

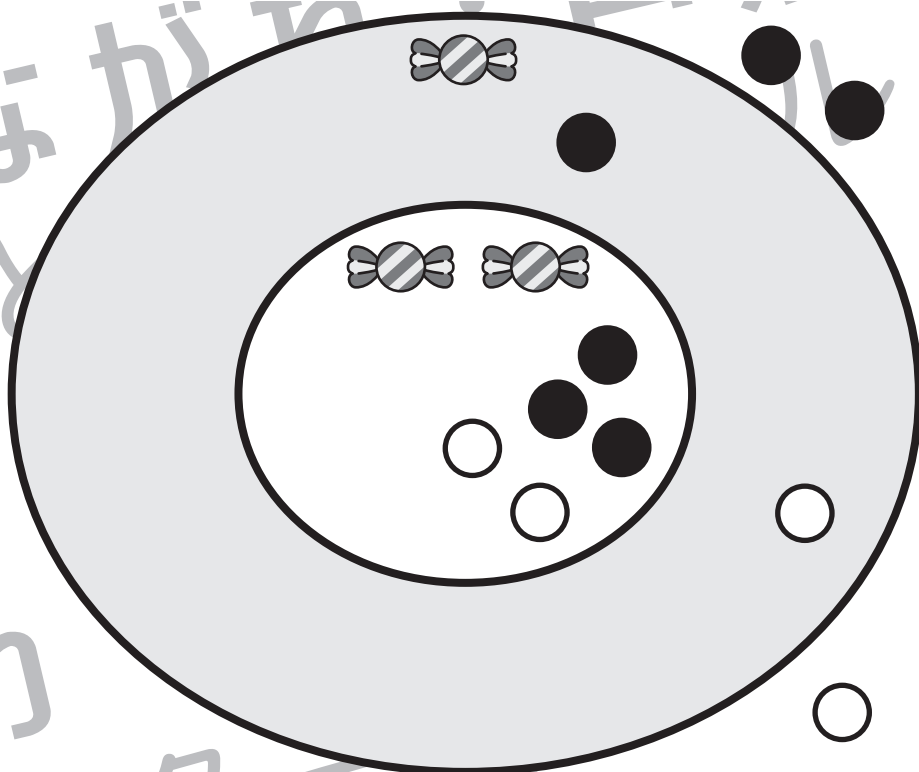
2匹の動物が的をあてをしています。下のルールをよく読んで、全員を同じ得点にするにはどうすればいいか考えましょう。

1. ボールを投げて当たった場所のお菓子がもらえます。当たった場所によってもらえるお菓子の数は違います。
2. 動物が持っているボールは、模様がそれぞれ違います。×印がついているボールは、もう投げ終わったボールです。
3. いまのくっついているボールは、何回かのあてをした後の様子です。

問題① ウサギが残っているボールを投げます。残りのボールをすべて使って、投げ終わっているイヌと同じ数のお菓子をもらえるようにします。的のどの場所に当てればいいのか考えて、ウサギの持っているボールと同じ模様を的の中に描きましょう。

▼ゲットしたお菓子

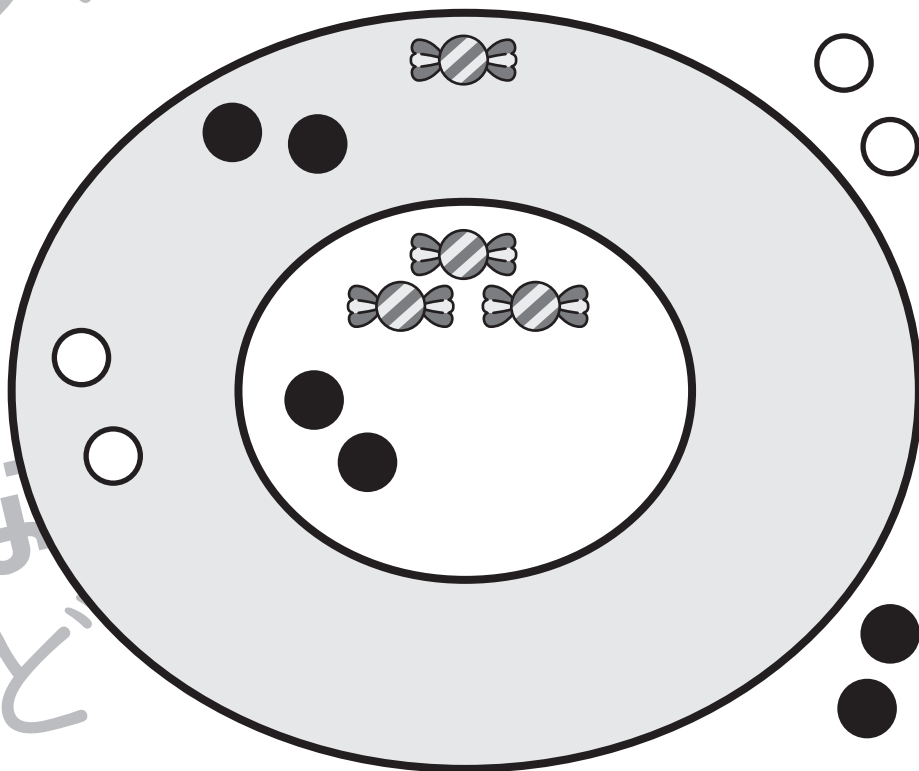
---



問題② パンダが残っているボールを投げます。残りのボールをすべて使って、投げ終わっているサルと同じ数のお菓子をもらえるようにします。的のどの場所に当てればいいのか考えて、パンダの持っているボールと同じ模様を的の中に描きましょう。

▼ゲットしたお菓子

---



※1. このプリントは、しながわ・目黒こどもスクールのウェブサイトでダウンロードができます。無断複写・引用はご遠慮ください。  
 ※2. このプリントを活用したオンライン授業のスケジュールは、しながわ・目黒こどもスクールのウェブサイトでご確認ください。



# おうちで、やろう。

Study at home. 小学校受験の家庭学習教材

数量：あといくつ6

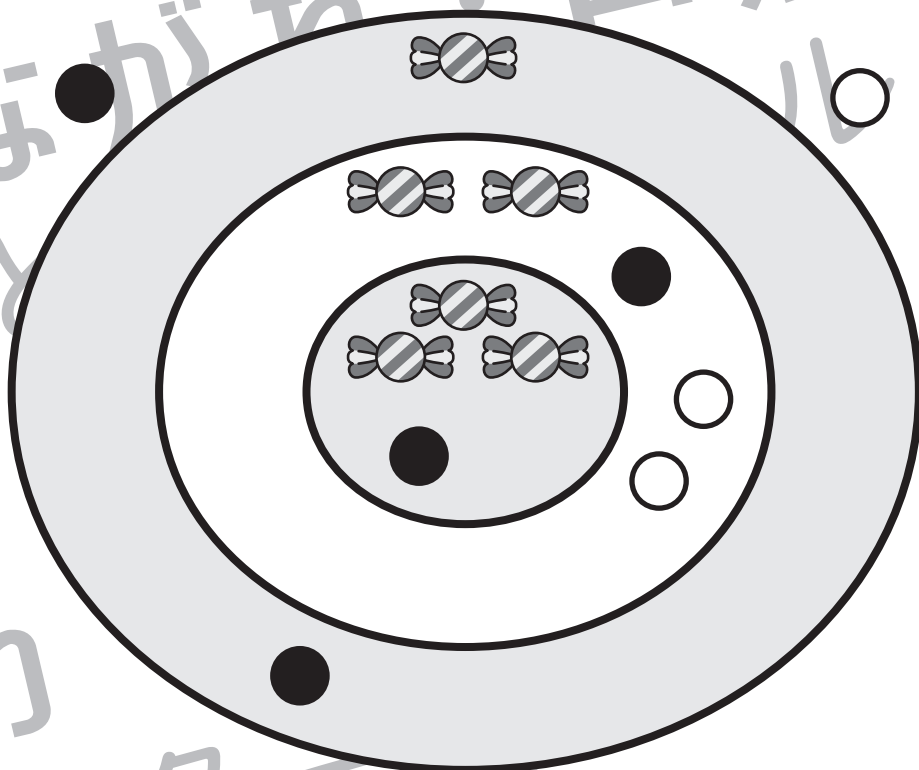
2匹の動物がのびのびあてをしています。下のルールをよく読んで、全員を同じ得点にするにはどうすればいいか考えましょう。

1. ボールを投げて当たった場所のお菓子がもらえます。当たった場所によってもらえるお菓子の数は違います。
2. 動物が持っているボールは、模様がそれぞれ違います。×印がついているボールは、もう投げ終わったボールです。
3. いまのくっついてあるボールは、何回かのあてをした後の様子です。

問題① ウサギが残っているボールを投げます。残りのボールをすべて使って、投げ終わっているイヌと同じ数のお菓子をもらえるようにします。的のどの場所に当てればいいのか考えて、ウサギの持っているボールと同じ模様を的の中に描きましょう。

▼ゲットしたお菓子

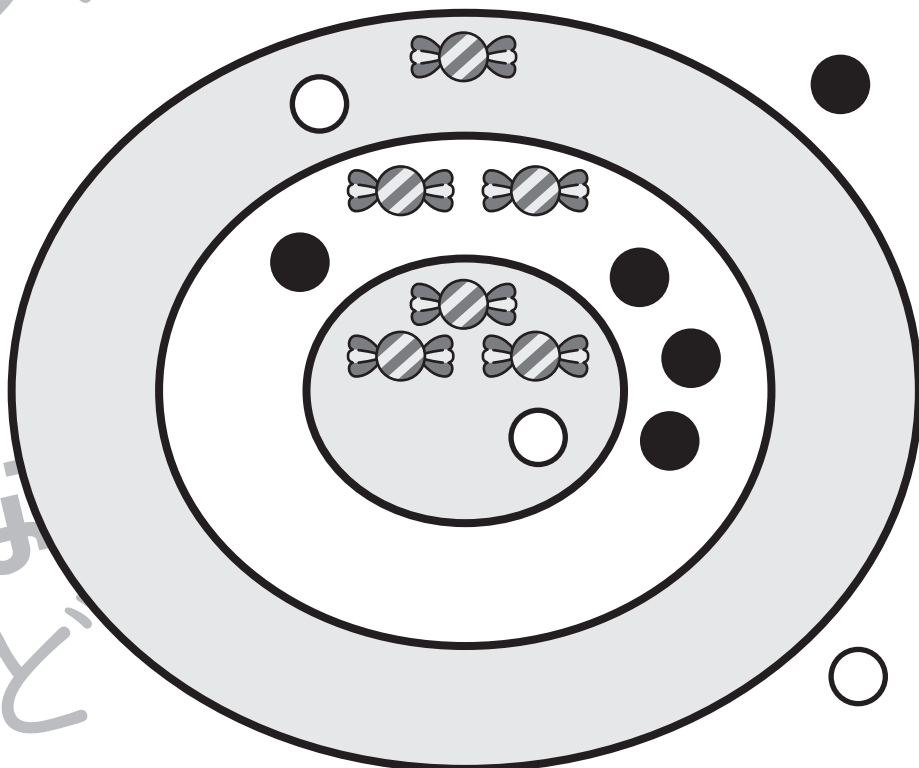
---



問題② パンダが残っているボールを投げます。残りのボールをすべて使って、投げ終わっているサルと同じ数のお菓子をもらえるようにします。的のどの場所に当てればいいのか考えて、パンダの持っているボールと同じ模様を的の中に描きましょう。

▼ゲットしたお菓子

---



※1. このプリントは、しながわ・目黒こどもスクールのウェブサイトでダウンロードができます。無断複写・引用はご遠慮ください。  
 ※2. このプリントを活用したオンライン授業のスケジュールは、しながわ・目黒こどもスクールのウェブサイトでご確認ください。



# おうちで、やろう。

Study at home. 小学校受験の家庭学習教材

数量：違う数7

横に並んだ4つの四角の中の果物のうち、数が一番多いものと一番少ないものの数の違いはいくつですか。  
違う数だけ右の四角の中に○をかきます。

--	--	--	--	--

--	--	--	--	--

--	--	--	--	--

--	--	--	--	--

※1. このプリントは、しながわ・目黒こどもスクールのウェブサイトからダウンロードができます。無断複写・引用はご遠慮ください。  
 ※2. このプリントを活用したオンライン授業のスケジュールは、しながわ・目黒こどもスクールのウェブサイトでご確認ください。





# おうちで、やろう。

Study at home. 小学校受験の家庭学習教材

数量：違う数 8

横に並んだ4つの四角の中の動物のうち、数が一番多いものと一番少ないものの数の違いはいくつですか。  
違う数だけ右の四角の中に○をかきます。

--	--	--	--	--

--	--	--	--	--

--	--	--	--	--

--	--	--	--	--

※1. このプリントは、しながわ・目黒こどもスクールのウェブサイトでダウンロードができます。無断複写・引用はご遠慮ください。  
 ※2. このプリントを活用したオンライン授業のスケジュールは、しながわ・目黒こどもスクールのウェブサイトでご確認ください。







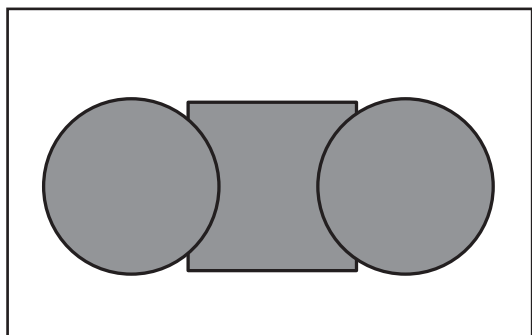


# おうちで、やろう。

Study at home. 小学校受験の家庭学習教材

巧緻性：はさみ 1

- ①点線のところをはさみで切ります。 ②切った下の部分にある灰色の○、△、□をはさみで切ります。
  - ③切った上の部分にある形の中に左上のお手本と同じになるようにのりで貼ります。
- ※この問題に解答はありません。



※1. このプリントは、しながわ・目黒こどもスクールのウェブサイトでダウンロードができます。無断複写・引用はご遠慮ください。  
 ※2. このプリントを活用したオンライン授業のスケジュールは、しながわ・目黒こどもスクールのウェブサイトでご確認ください。



# おうちで、やろう。

Study at home. 小学校受験の家庭学習教材

巧緻性：はさみ 2

- ①点線のところをはさみで切ります。
  - ②切った下の部分にある灰色の○、△、□をはさみで切ります。
  - ③切った上の部分にある形の中に左上のお手本と同じになるようにのりで貼ります。
- ※この問題に解答はありません。

