





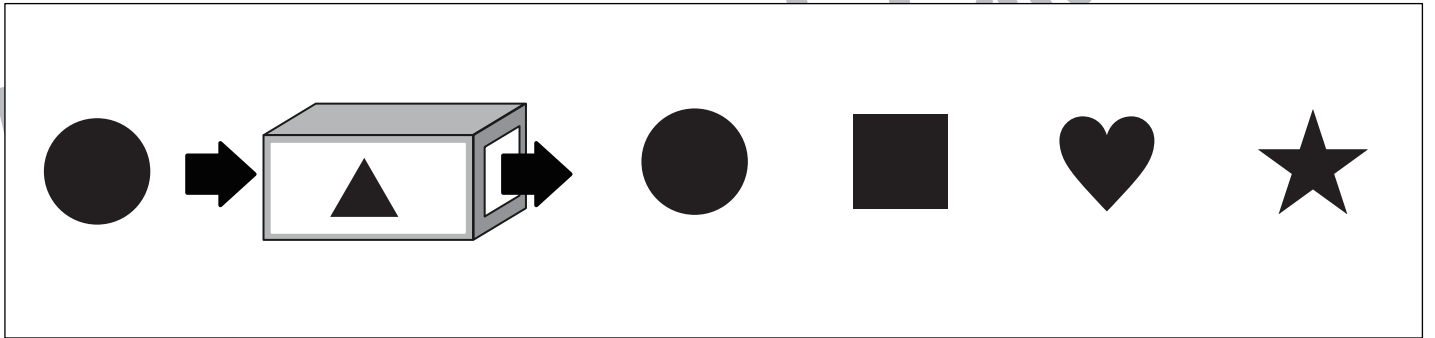

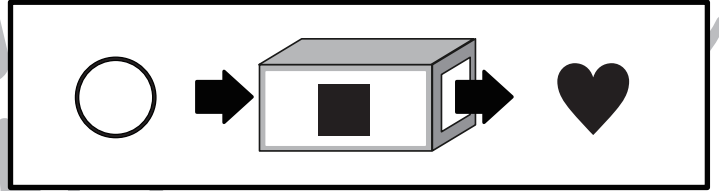
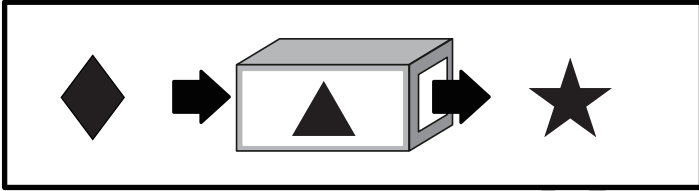
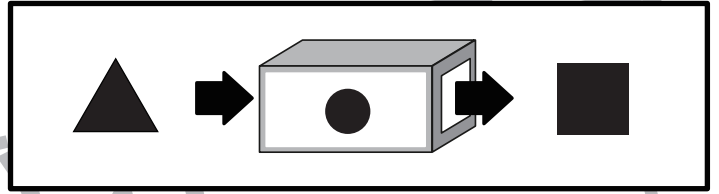
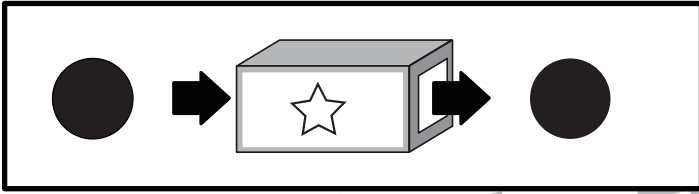
# おうちで、やろう。年中児版 推理：ブラックボックス1

Study at home. 小学校受験の家庭学習教材

一番上の四角の中が約束です。左の形が箱の中を通ると、右の形に変わります。

また、箱に入る形はどんな形でも約束通りに変わります。

このとき、形がそれぞれの箱の中を通ると、どんな形になるかを考えて矢印の先の形に丸をつけます。



※1. このプリントは、しながわ・目黒こどもスクールのウェブサイトでダウンロードができます。無断複写・引用はご遠慮ください。

※2. このプリントを活用したオンライン授業のスケジュールは、しながわ・目黒こどもスクールのウェブサイトでご確認ください。



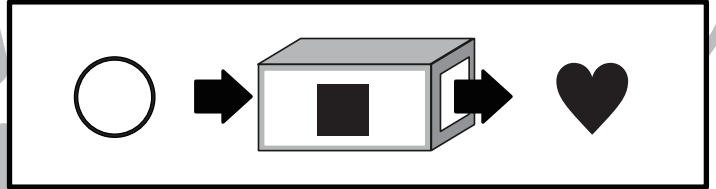
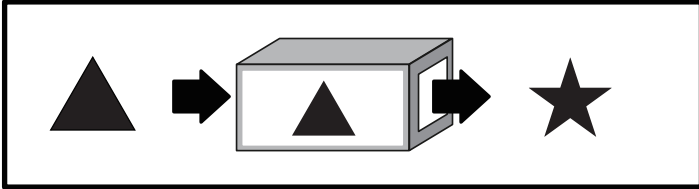
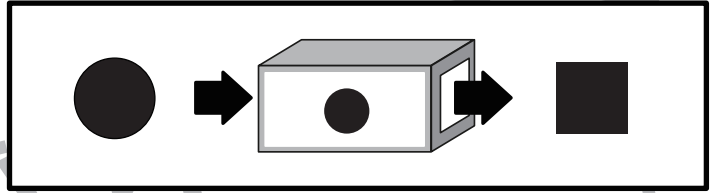
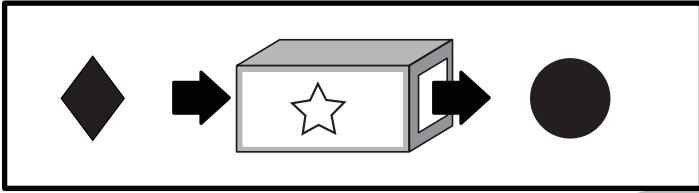
# おうちで、やろう。年中児版 推理：ブラックボックス2

Study at home. 小学校受験の家庭学習教材

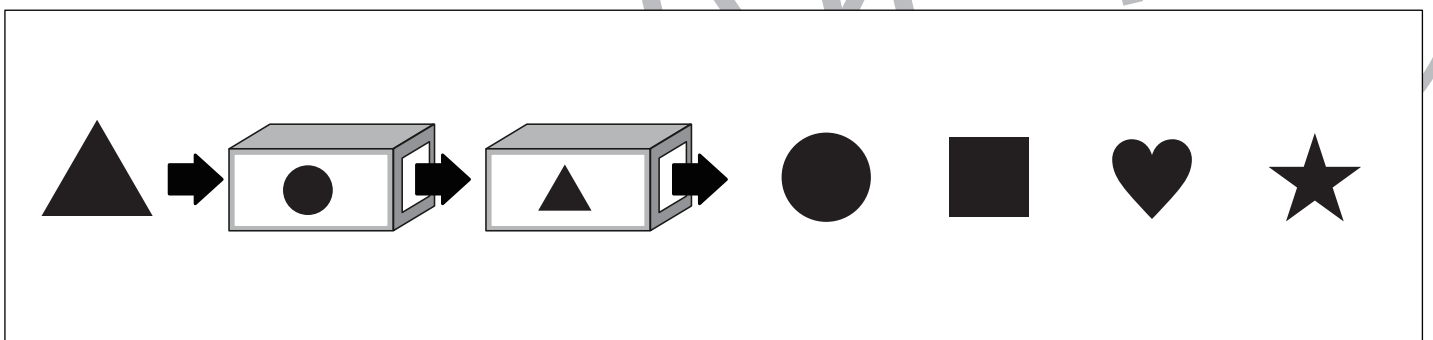
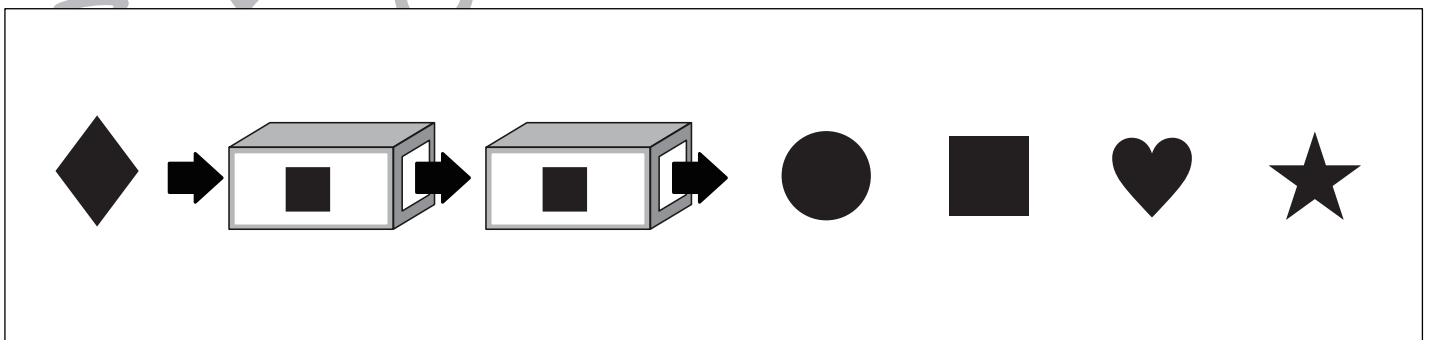
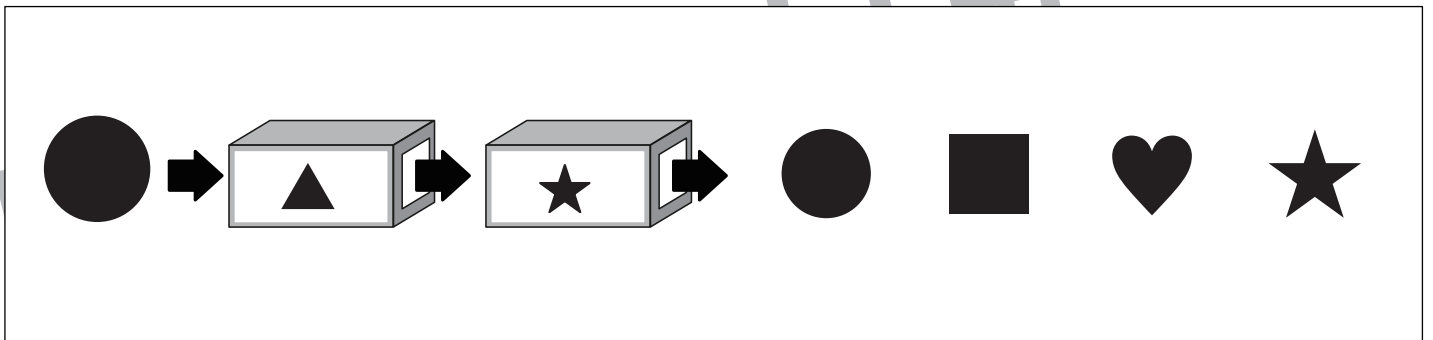

一番上の四角の中が約束です。左の形が箱の中を通ると、右の形に変わります。

また、箱に入る形はどんな形でも約束通りに変わります。

このとき、形がそれぞれの箱の中を通ると、どんな形になるかを考えて矢印の先の形に丸をつけます。



【例】



※1. このプリントは、しながわ・目黒こどもスクールのウェブサイトでダウンロードができます。無断複写・引用はご遠慮ください。  
※2. このプリントを活用したオンライン授業のスケジュールは、しながわ・目黒こどもスクールのウェブサイトでご確認ください。

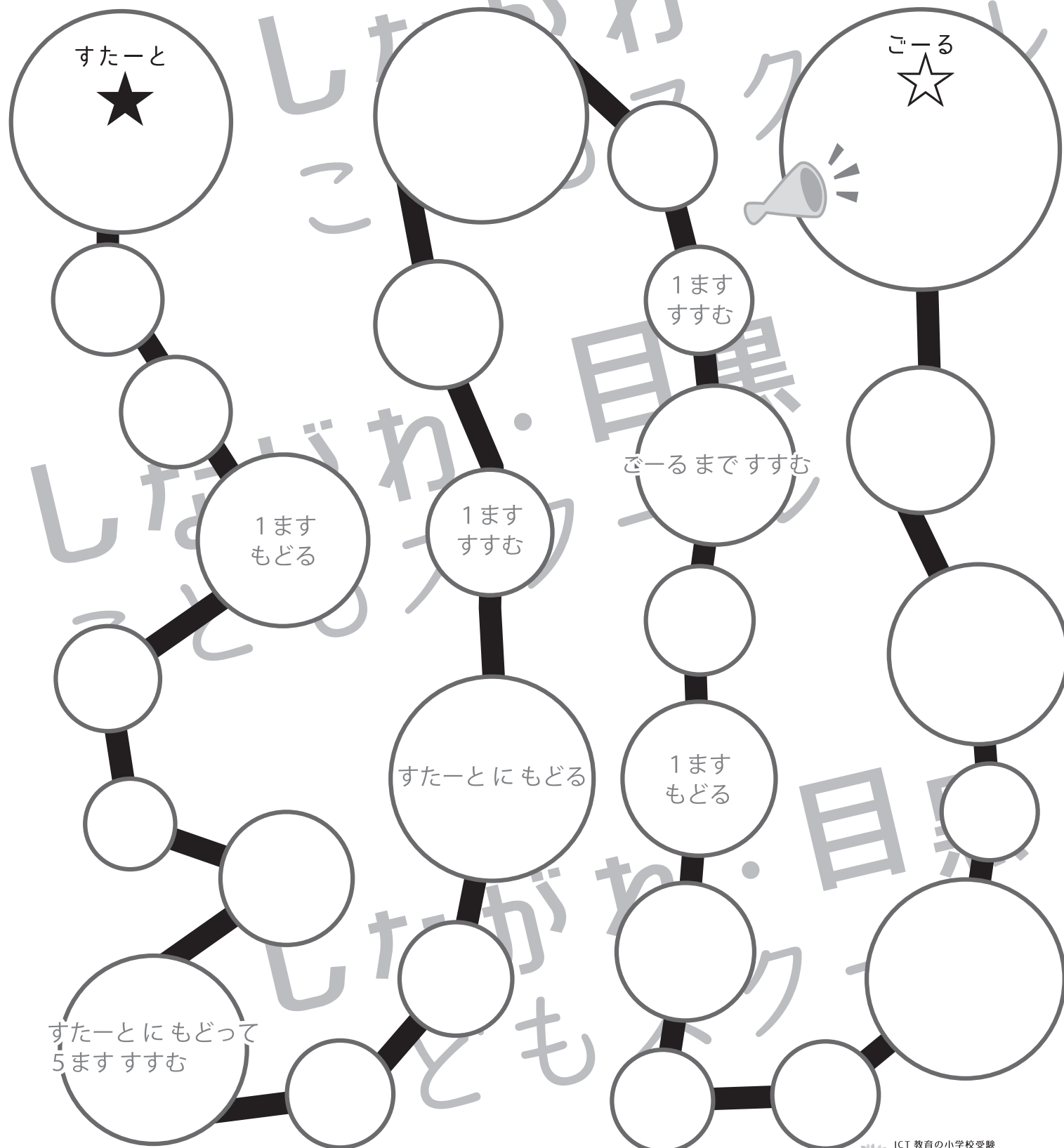
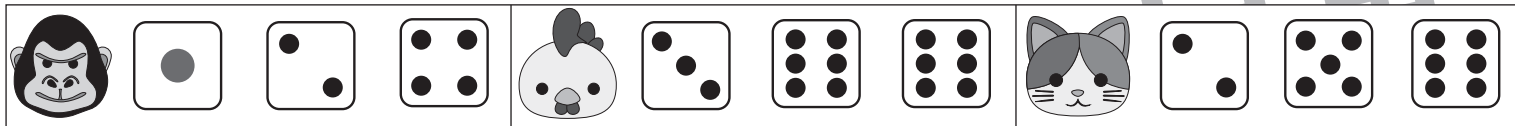


# おうちで、やろう。 年中児版

Study at home. 小学校受験の家庭学習教材

数量：すごろく3

動物たちが★（すたーと）から☆（ごーる）まですごろくゲームをしています。  
動物たちが出した目の数を合わせたとき、それぞれの動物たちがどのマスになるのか考えてゴリラが着いた場所には○、  
ニワトリが着いた場所には△、ネコが着いた場所には×をマスの中にかきます。  
※マスにかかれた約束は保護者の方が読み、その通りに進みます。



※1. このプリントは、しながわ・目黒こどもスクールのウェブサイトでダウンロードができます。無断複写・引用はご遠慮ください。  
※2. このプリントを活用したオンライン授業のスケジュールは、しながわ・目黒こどもスクールのウェブサイトでご確認ください。







# おうちで、やろう。年中児版

Study at home. 小学校受験の家庭学習教材

推理：影 1

左の四角の中は、右の四角の絵が影になってできた絵です。  
どの絵が影になって重なっているかを考えて、右の四角の中から選んで○をつけます。


※1. このプリントは、しながわ・目黒こどもスクールのウェブサイトでダウンロードができます。無断複写・引用はご遠慮ください。

※2. このプリントを活用したオンライン授業のスケジュールは、しながわ・目黒こどもスクールのウェブサイトでご確認ください。



# おうちで、やろう。 年中児版

Study at home. 小学校受験の家庭学習教材

推理：影 2

左の四角の中は、右の四角の絵が影になってできた絵です。  
どの絵が影になって重なっているかを考えて、右の四角の中から選んで○をつけます。


※1. このプリントは、しながわ・目黒こどもスクールのウェブサイトからダウンロードできます。無断複写・引用はご遠慮ください。

※2. このプリントを活用したオンライン授業のスケジュールは、しながわ・目黒こどもスクールのウェブサイトでご確認ください。





# おうちで、やろう。 年中児版


Study at home. 小学校受験の家庭学習教材


## 数量 - 分割1

木に実っているリンゴの数を数えて、それぞれの四角の中にあるサルに同じ数ずつ分けると一匹のサルはいくつリンゴをもらえますか。  
正しいリンゴの数を下の四角に○をつけます。




※1. このプリントは、しながわ・目黒こどもスクールのウェブサイトからダウンロードできます。無断複写・引用はご遠慮ください。  
※2. このプリントを活用したオンライン授業のスケジュールは、しながわ・目黒こどもスクールのウェブサイトでご確認ください。





# おうちで、やろう。 年中児版


Study at home. 小学校受験の家庭学習教材


## 数量 - 分割2

木に実っているリンゴの数を数えて、それぞれの四角の中にあるサルに同じ数ずつ分けると一匹のサルはいくつリンゴをもらえますか。  
正しいリンゴの数を下の四角に○をつけます。




※1. このプリントは、しながわ・目黒こどもスクールのウェブサイトでダウンロードができます。無断複写・引用はご遠慮ください。

※2. このプリントを活用したオンライン授業のスケジュールは、しながわ・目黒こどもスクールのウェブサイトでご確認ください。