



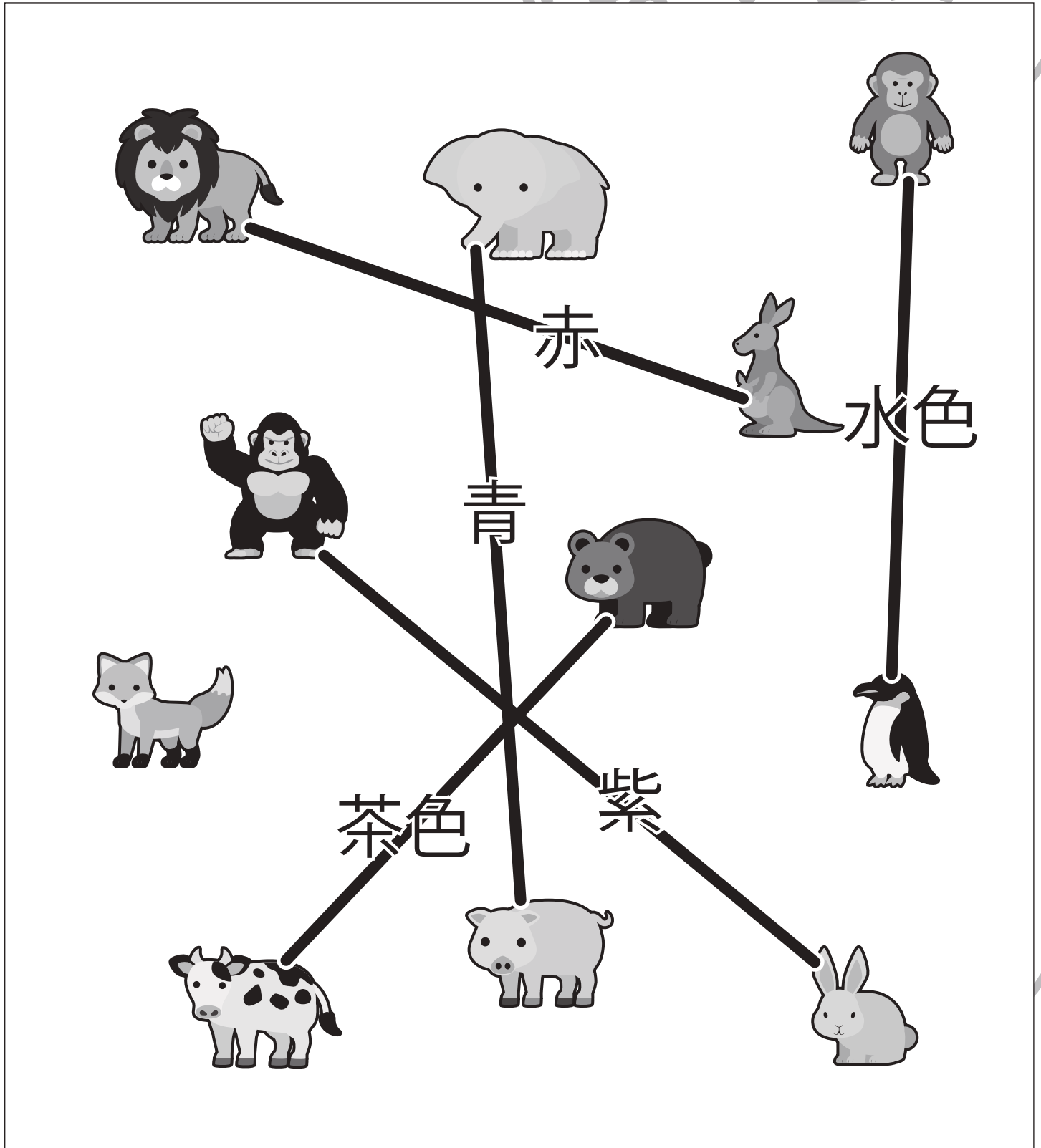
おうちで、やろう。

Study at home. 小学校受験の家庭学習教材

指示の聞き取り 21

それぞれの設問に答えましょう。

- ①ゾウとブタを青のクーピー線で結びます。
- ②ライオンとカンガルーを赤のクーピー線の線で結びます。
- ③ペンギンとサルを水色のクーピー線の線で結びます。
- ④ウシとクマを茶色のクーピー線の線で結びます。
- ⑤ゴリラとウサギを紫のクーピー線の線で結びます。



※1. このプリントは、しながわ・目黒こどもスクールのウェブサイトでダウンロードができます。無断複写・引用はご遠慮ください。
 ※2. このプリントを活用したオンライン授業のスケジュールは、しながわ・目黒こどもスクールのウェブサイトでご確認ください。



おうちで、やろう。

Study at home. 小学校受験の家庭学習教材

言語：言葉5

- ①「チョキチョキ」に合う絵を下のマスの中から見つけて○をつけます。
- ②「ケラケラ」に合う絵を下のマスの中から見つけて△をつけます。
- ③「ガシャン」に合う絵を下のマスの中から見つけて□をつけます。
- ④「パチパチ」に合う絵を下のマスの中から見つけて◎をつけます。

※1. このプリントは、しながわ・目黒こどもスクールのウェブサイトでダウンロードができます。無断複写・引用はご遠慮ください。

※2. このプリントを活用したオンライン授業のスケジュールは、しながわ・目黒こどもスクールのウェブサイトでご確認ください。

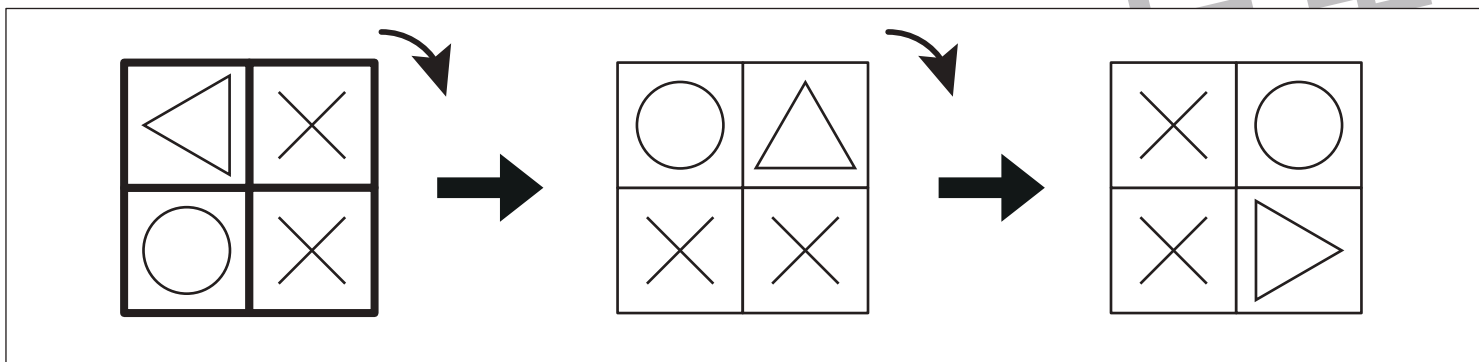
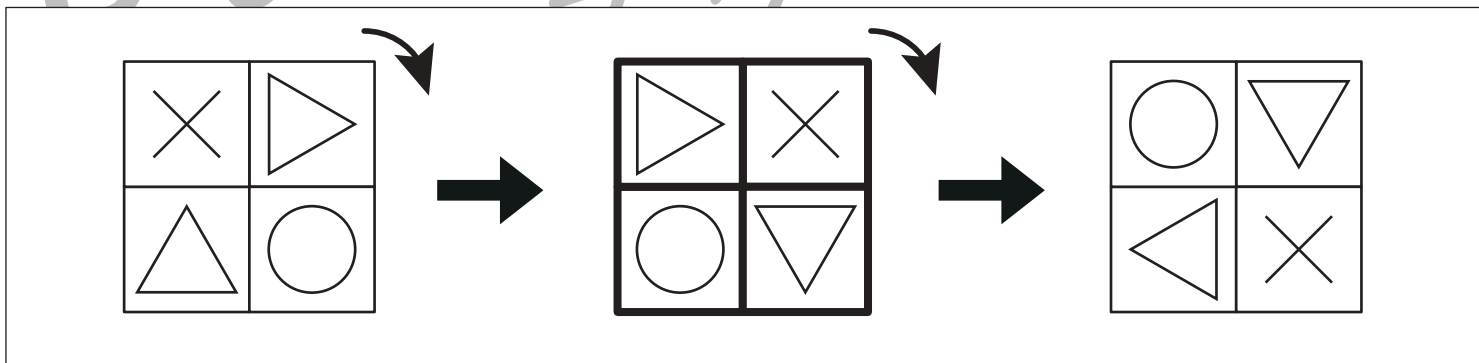
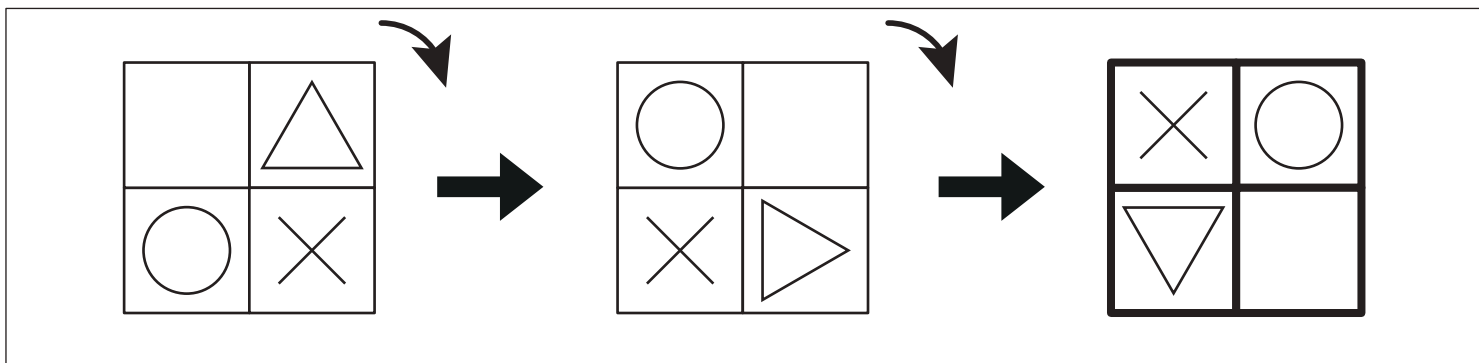
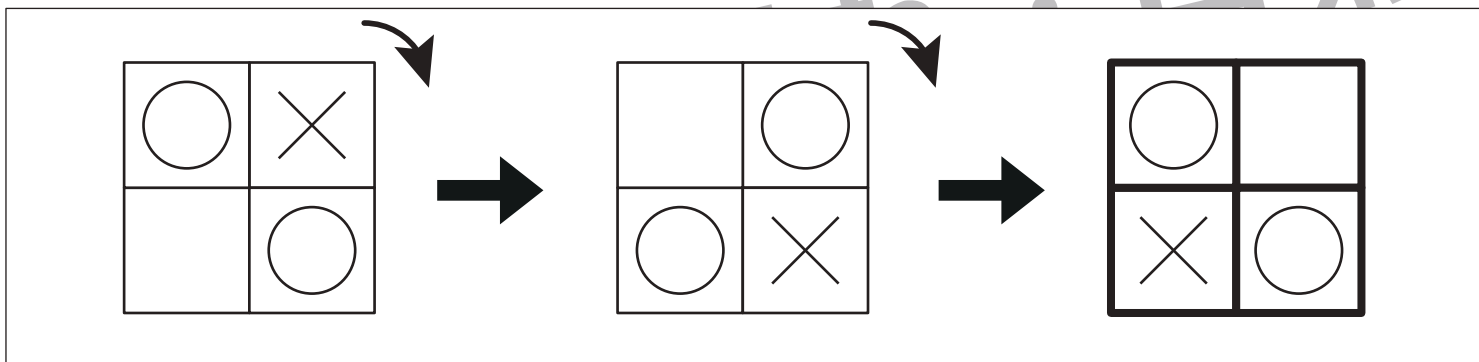


おうちで、やろう。

Study at home. 小学校受験の家庭学習教材

図形：回転 24

一番左の四角から右に一回ずつ倒していきます。倒していった時、太い四角に何が入るかを考えてその記号をかきます。



※1. このプリントは、しながわ・目黒こどもスクールのウェブサイトでダウンロードができます。無断複写・引用はご遠慮ください。
 ※2. このプリントを活用したオンライン授業のスケジュールは、しながわ・目黒こどもスクールのウェブサイトでご確認ください。

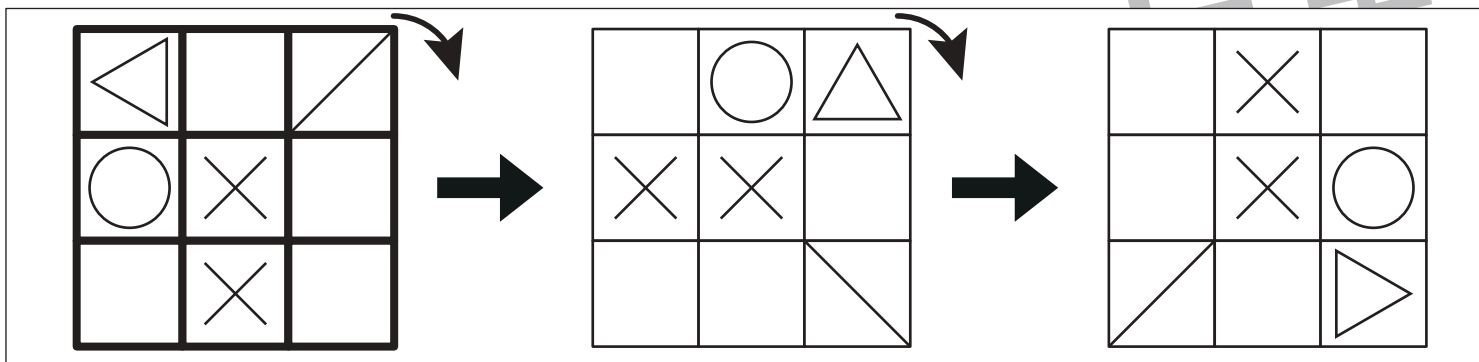
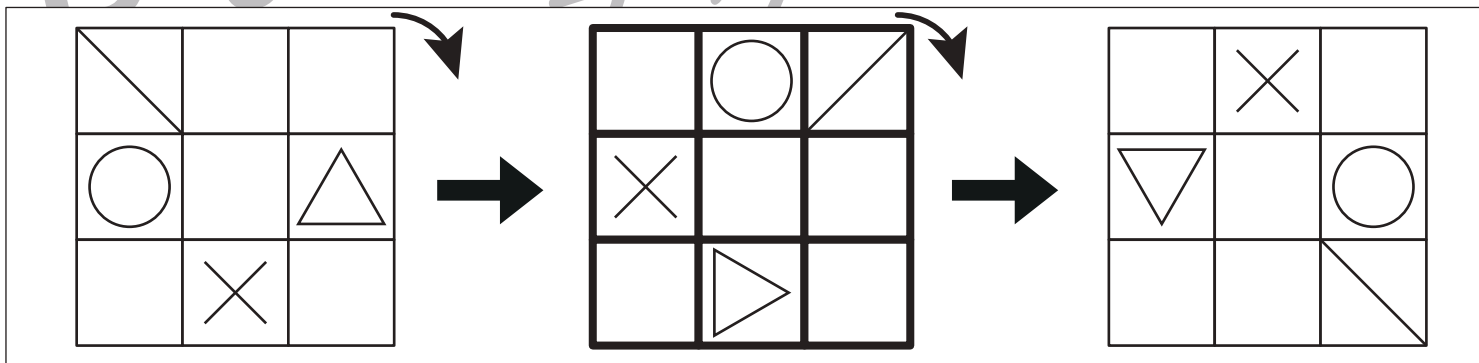
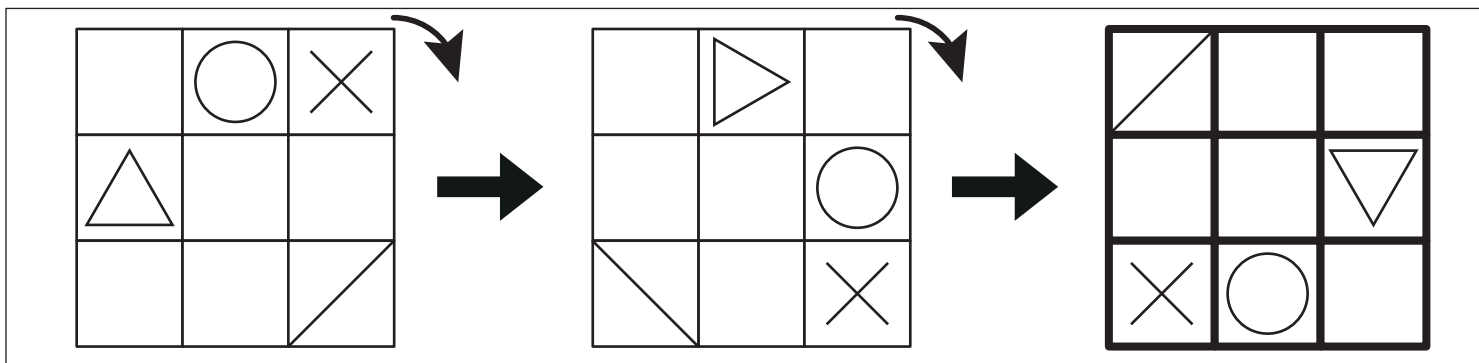
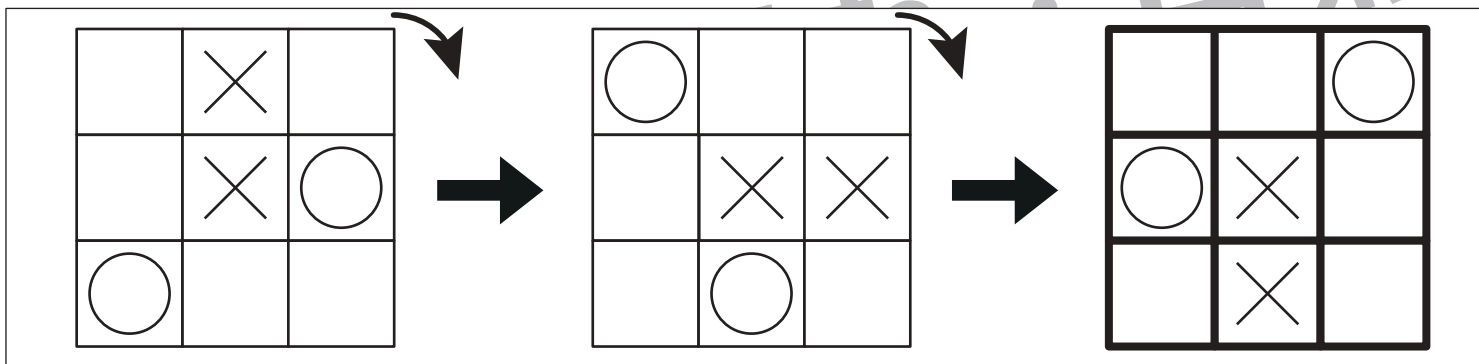


おうちで、やろう。

Study at home. 小学校受験の家庭学習教材

図形：回転 25

一番左の四角から右に一回ずつ倒していきます。倒していった時、太い四角に何が入るかを考えてその記号をかきます。



※1. このプリントは、しながわ・目黒こどもスクールのウェブサイトでダウンロードができます。無断複写・引用はご遠慮ください。
 ※2. このプリントを活用したオンライン授業のスケジュールは、しながわ・目黒こどもスクールのウェブサイトでご確認ください。










おうちで、やろう。

Study at home. 小学校受験の家庭学習教材

推理：影 4

左の四角の中には絵が影になって重なっています。影になっていない絵を右の四角の中から見つけて○をつけます。



※1. このプリントは、しながわ・目黒こどもスクールのウェブサイトでダウンロードができます。無断複写・引用はご遠慮ください。
※2. このプリントを活用したオンライン授業のスケジュールは、しながわ・目黒こどもスクールのウェブサイトでご確認ください。





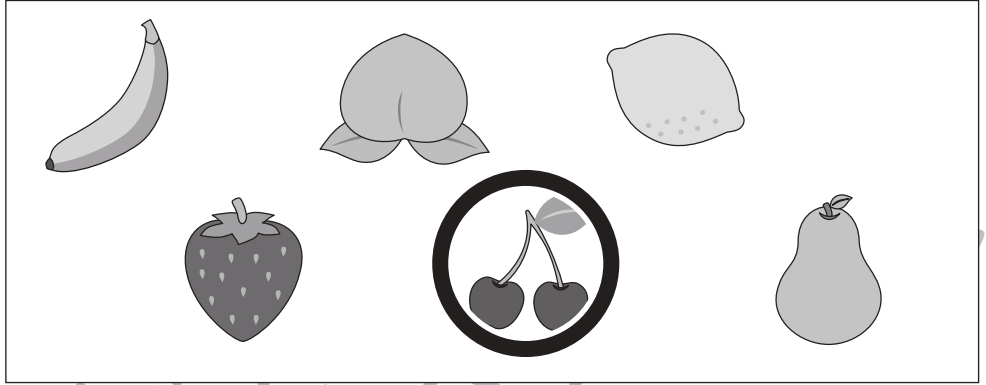



おうちで、やろう。

Study at home. 小学校受験の家庭学習教材

推理：影5

左の四角の中には絵が影になって重なっています。影になっていない絵を右の四角の中から見つけて○をつけます。



※1. このプリントは、しながわ・目黒こどもスクールのウェブサイトでダウンロードができます。無断複写・引用はご遠慮ください。
※2. このプリントを活用したオンライン授業のスケジュールは、しながわ・目黒こどもスクールのウェブサイトでご確認ください。




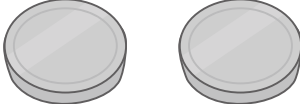



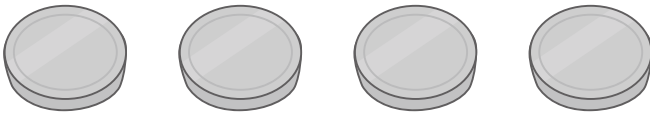


おうちで、やろう。

Study at home. 小学校受験の家庭学習教材

数量：数の置き換え 13


とうもろこし、かぼちゃ、だいこんはそれぞれの絵の右の四角の中にあるコインの枚数で買うことができます。
下の太い四角の中の野菜を買うのに必要なコインの枚数だけ右の四角に〇をかきます。

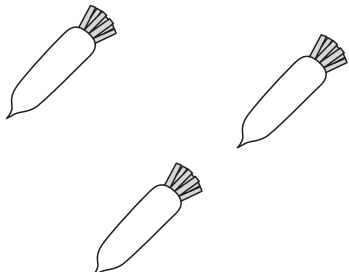
①

	$\bigcirc \times 6$
--	---------------------

②

	$\bigcirc \times 6$
---	---------------------

③

	$\bigcirc \times 12$
---	----------------------

※1. このプリントは、しながわ・目黒こどもスクールのウェブサイトでダウンロードができます。無断複写・引用はご遠慮ください。
 ※2. このプリントを活用したオンライン授業のスケジュールは、しながわ・目黒こどもスクールのウェブサイトでご確認ください。









おうちで、やろう。

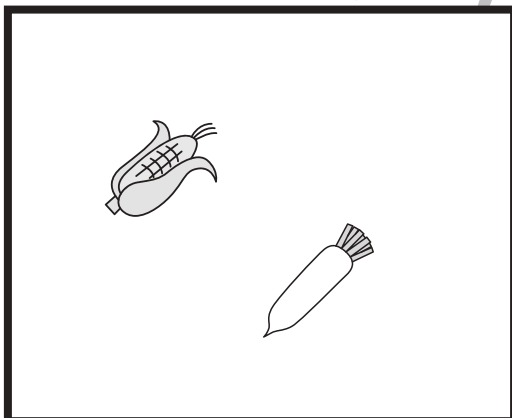
Study at home. 小学校受験の家庭学習教材

数量：数の置き換え 14

とうもろこし、かぼちゃ、だいこんはそれぞれの絵の右の四角の中にあるコインの枚数で買うことができます。
下の太い四角の中の野菜を買うのに必要なコインの枚数だけ右の四角に○をかきます。


	
	
	

①




$$○ \times 6$$

②



$$○ \times 5$$

③



$$○ \times 9$$

※1. このプリントは、しながわ・目黒こどもスクールのウェブサイトでダウンロードができます。無断複写・引用はご遠慮ください。
※2. このプリントを活用したオンライン授業のスケジュールは、しながわ・目黒こどもスクールのウェブサイトでご確認ください。



おうちで、やろう。

Study at home. 小学校受験の家庭学習教材

数量：同数 11

左の四角の中の果物の数と右の四角の中のマスが同じものを探して○をつけます。

※1. このプリントは、しながわ・目黒こどもスクールのウェブサイトでダウンロードができます。無断複写・引用はご遠慮ください。
 ※2. このプリントを活用したオンライン授業のスケジュールは、しながわ・目黒こどもスクールのウェブサイトでご確認ください。