



おうちで、やろう。

Study at home. 小学校受験の家庭学習教材

言語：言葉6

- ①「ガオー」に合う絵を下のマスのの中から見つけて◎をつけます。
- ②「ザーザー」に合う絵を下のマスのの中から見つけて○をつけます。
- ③「ブーン」に合う絵を下のマスのの中から見つけて△をつけます。
- ④「シクシク」に合う絵を下のマスのの中から見つけて□をつけます。

※1. このプリントは、しながわ・目黒こどもスクールのウェブサイトからダウンロードできます。無断複写・引用はご遠慮ください。

※2. このプリントを活用したオンライン授業のスケジュールは、しながわ・目黒こどもスクールのウェブサイトでご確認ください。

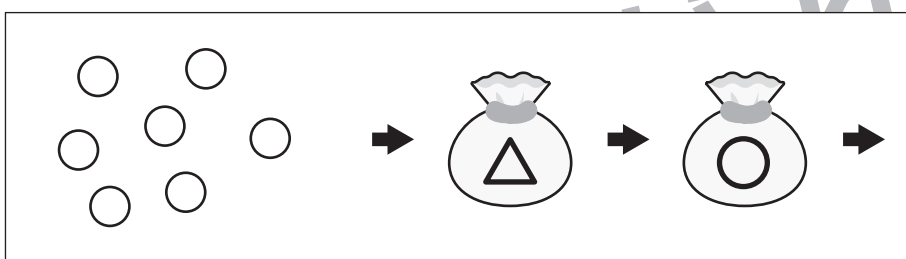
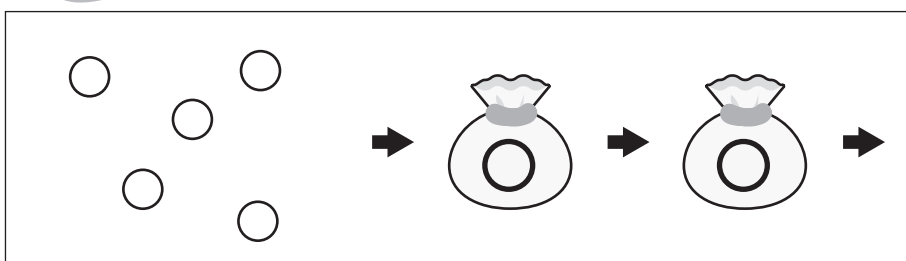
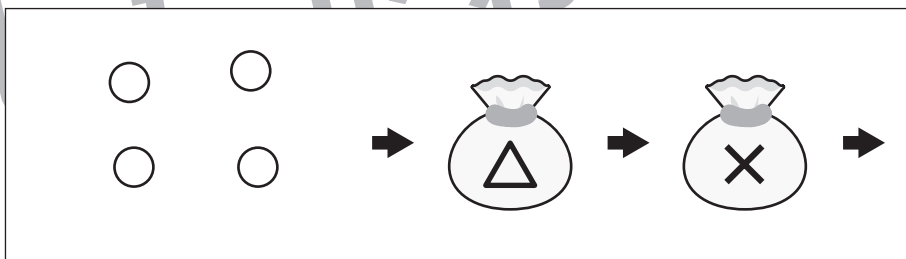
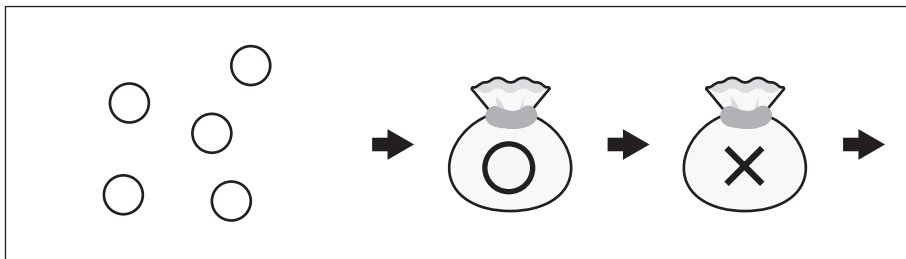
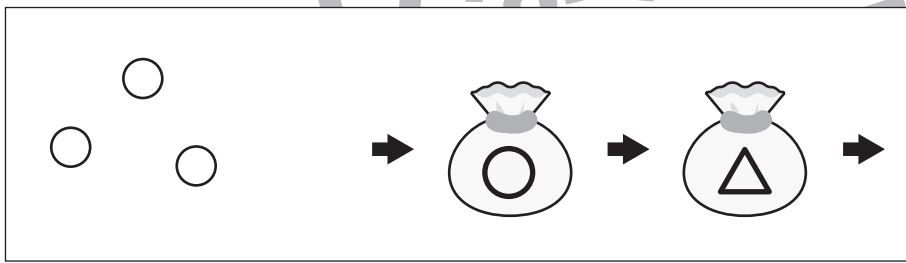
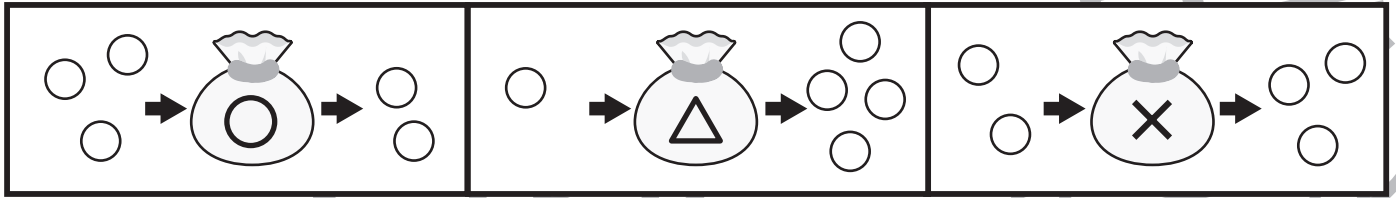


おうちで、やろう。

Study at home. 小学校受験の家庭学習教材

推理：ブラックボックス8

太い四角がお約束です。丸の袋を通ると白丸は1つ減ります。三角の袋を通ると白丸は3つ増えます。ハツの袋を通ると白丸は1つ増えます。この約束の時、下のそれぞれの四角の中の白丸が袋を通ると、いくつになって出てきますか。その数だけ、右の四角に○をかきます。



※1. このプリントは、しながわ・目黒こどもスクールのウェブサイトでダウンロードができます。無断複写・引用はご遠慮ください。
※2. このプリントを活用したオンライン授業のスケジュールは、しながわ・目黒こどもスクールのウェブサイトでご確認ください。

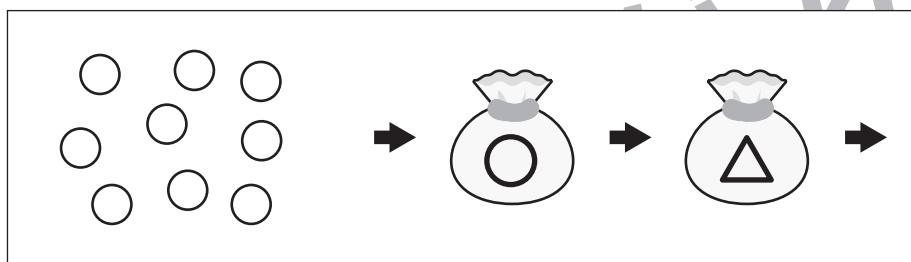
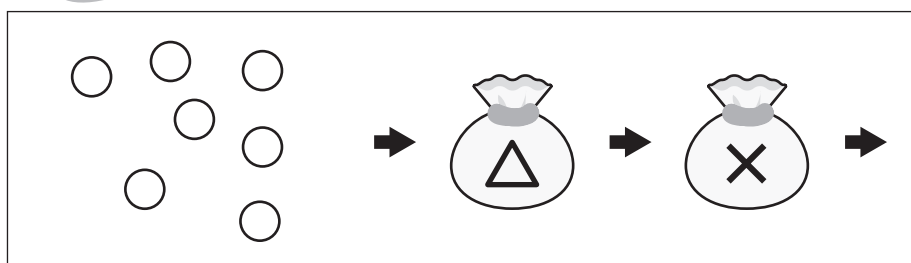
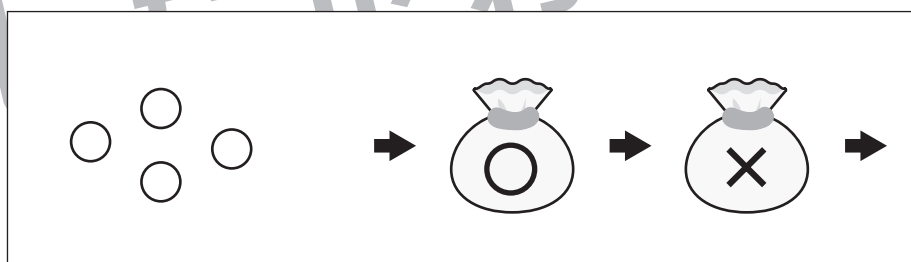
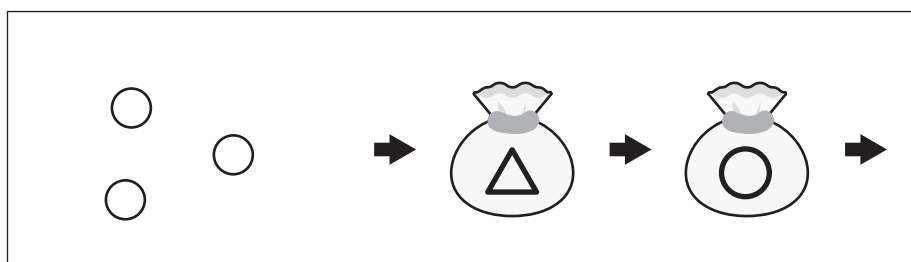
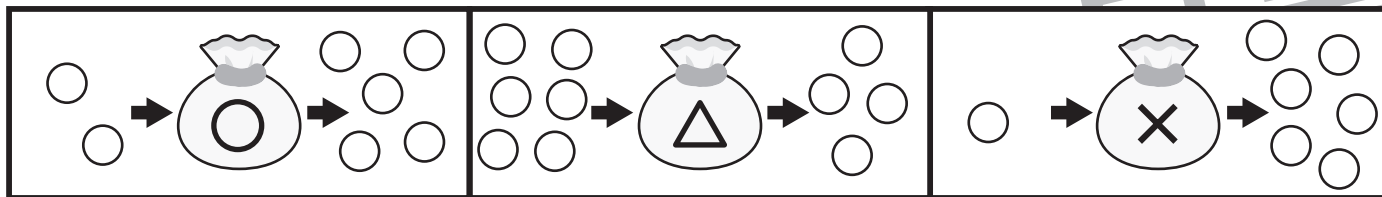


おうちで、やろう。

Study at home. 小学校受験の家庭学習教材

推理：ブラックボックス9

太い四角がお約束です。丸の袋を通ると白丸は3つ増えます。三角の袋を通ると白丸は2つ減ります。ハツの袋を通ると白丸は5つ増えます。この約束の時、下のそれぞれの四角の中の白丸が袋を通ると、いくつになって出てきますか。その数だけ、右の四角に○をかきます。



※1. このプリントは、しながわ・目黒こどもスクールのウェブサイトでダウンロードができます。無断複写・引用はご遠慮ください。
※2. このプリントを活用したオンライン授業のスケジュールは、しながわ・目黒こどもスクールのウェブサイトでご確認ください。



おうちで、よろう。

Study at home. 小学校受験の家庭学習教材

図形：重ね 22

左の透明な 2 枚の板を重ねた時の見え方を考えます。このとき、灰色同士が重なると黒になります。黒になるマスを考えて、右の四角を塗ります。

A 5x3 grid of 3x3 squares. Each square contains two 3x3 grids. The left grid is a 3x3 grid with some squares shaded gray. The right grid is a 3x3 grid with some squares shaded black, representing the result of overlapping the gray squares from the left grid. The black squares are located at the intersections of the gray squares from the left grid.

※1. このプリントは、しながわ・目黒こどもスクールのウェブサイトでダウンロードができます。無断複写・引用はご遠慮ください。
※2. このプリントを活用したオンライン授業のスケジュールは、しながわ・目黒こどもスクールのウェブサイトでご確認ください。



おうちで、やろう。

Study at home. 小学校受験の家庭学習教材

図形：重ね 23

左の透明な 2 枚の板を重ねた時の見え方を考えます。このとき、灰色同士が重なると黒になります。黒になるマスを考えて、右の四角を塗ります。

※1. このプリントは、しながわ・目黒こどもスクールのウェブサイトでダウンロードができます。無断複写・引用はご遠慮ください。
※2. このプリントを活用したオンライン授業のスケジュールは、しながわ・目黒こどもスクールのウェブサイトでご確認ください。

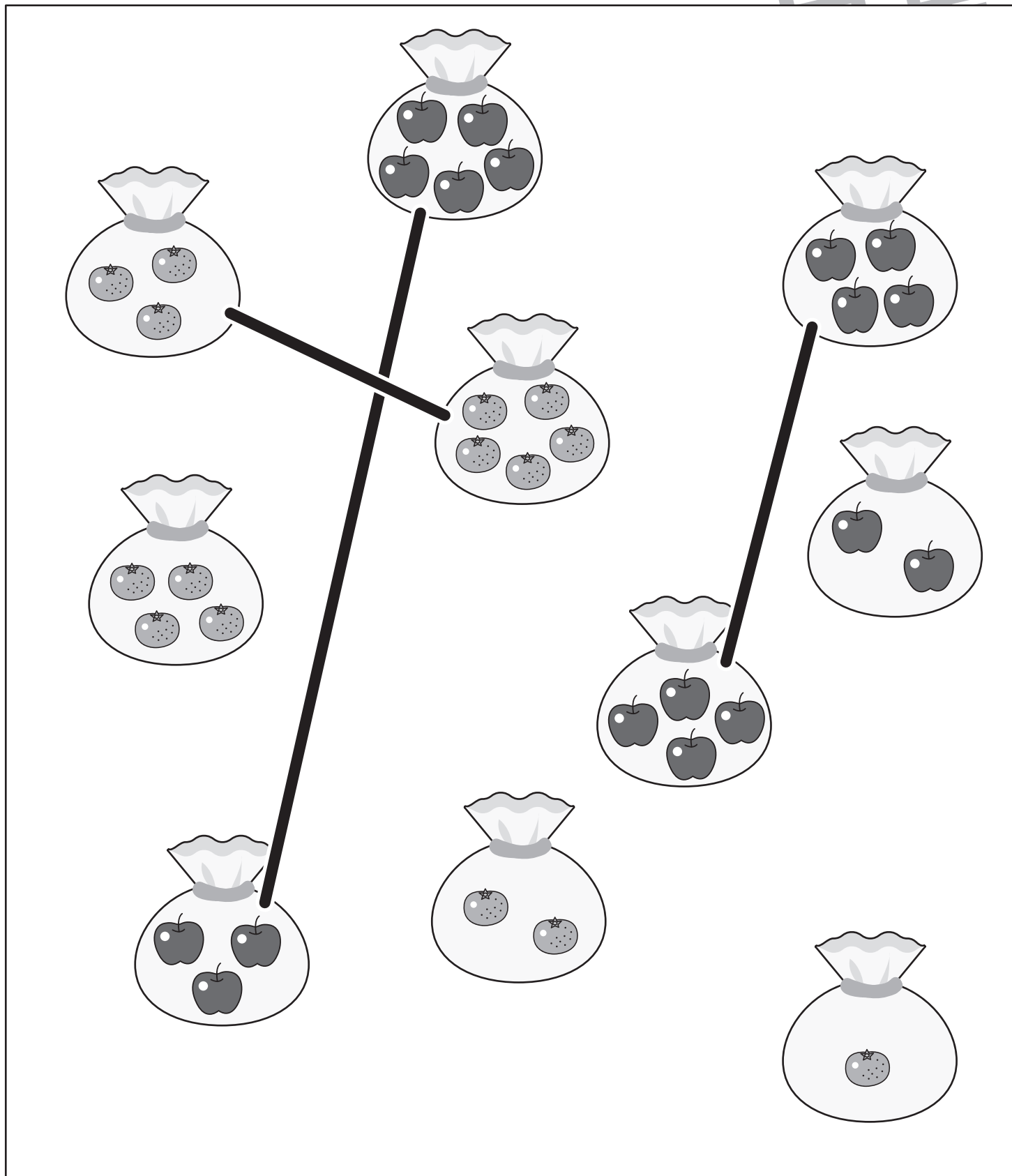


おうちで、やろう。

Study at home. 小学校受験の家庭学習教材

数量：合わせた数 15

四角の中の袋に入った果物を数えます。同じ果物の袋を2つ合わせて8になるように袋同士を線で結びます。



※1. このプリントは、しながわ・目黒こどもスクールのウェブサイトでダウンロードができます。無断複写・引用はご遠慮ください。
※2. このプリントを活用したオンライン授業のスケジュールは、しながわ・目黒こどもスクールのウェブサイトでご確認ください。








おうちで、やろう。

Study at home. 小学校受験の家庭学習教材

処理：計数 14

大きな四角の中の虫を数えます。その数だけ下の四角に○をかきます。



	○ × 1 0
	○ × 6
	○ × 5
	○ × 4

