





おうちで、やろう。

Study at home. 小学校受験の家庭学習教材

言語：おわりの音 13

左上の太い四角の中の絵のおわりの音と同じおわりの音の絵を、大きい四角の中から探して○をつけます。



※1. このプリントは、しながわ・目黒こどもスクールのウェブサイトからダウンロードができます。無断複写・引用はご遠慮ください。

※2. このプリントを活用したオンライン授業のスケジュールは、しながわ・目黒こどもスクールのウェブサイトでご確認ください。





おうちで、やろう。

Study at home. 小学校受験の家庭学習教材

指示理解 1

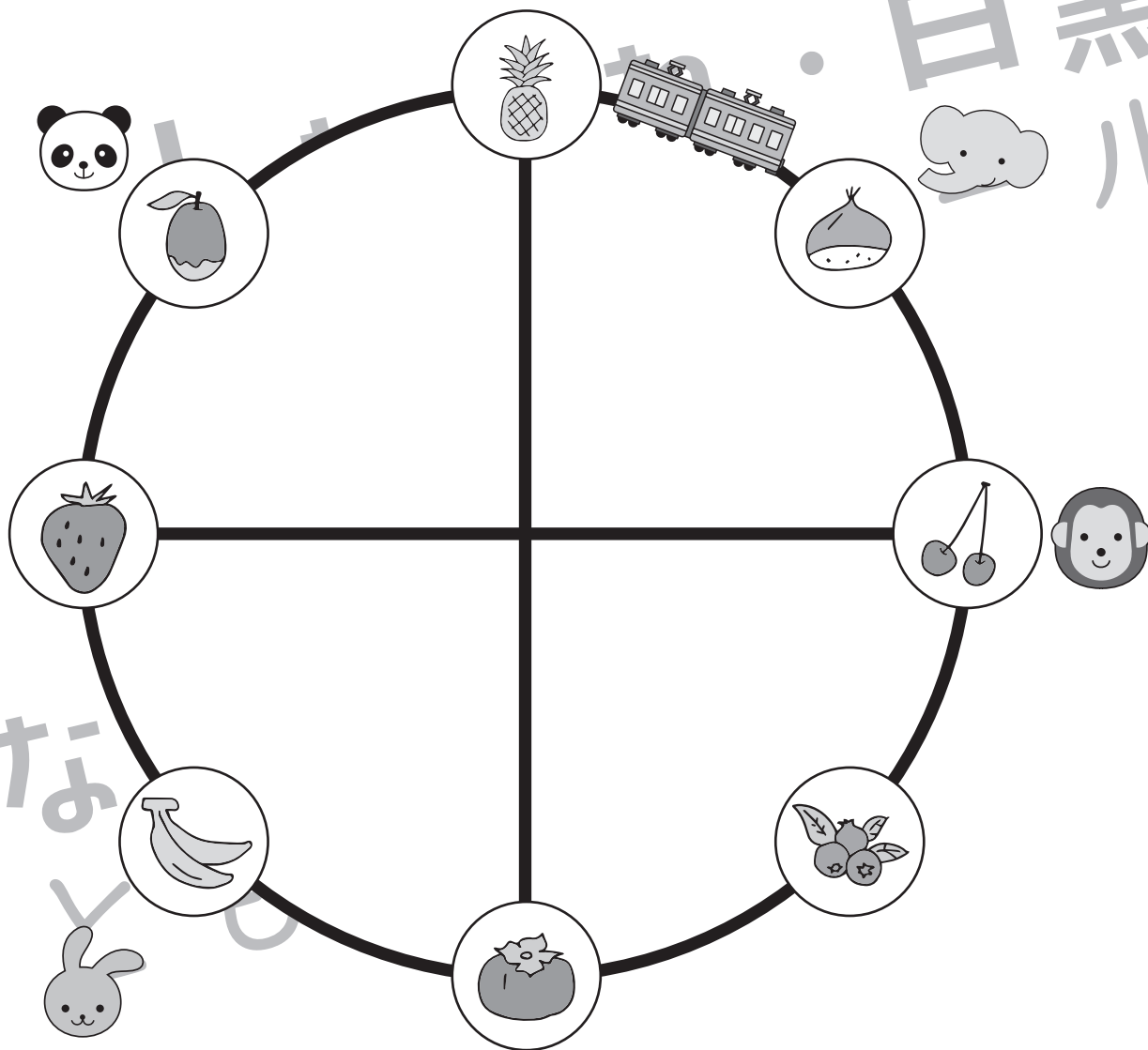
下の絵は路線図です。食べ物の絵は駅で、それぞれの動物たちは友だちと待ち合わせをしています。

①～③の問題を聞いて、それぞれの動物がどの駅で待ち合わせしているのかを考えて、下の四角の中の➡の先にある食べものに○をつけます。

①ゾウはパンダとウサギの間にある駅で友だちと待ち合わせをしています。その駅に○をつけます。

②サルはゾウとパンダの間にある駅で友だちと待ち合わせをしています。その駅に○をつけます。

③パンダはウサギがいる駅で友だちと待ち合わせをしています。その駅に○をつけます。



	➡								
	➡								
	➡								

※1. このプリントは、しながわ・目黒こどもスクールのウェブサイトからダウンロードできます。無断複写・引用はご遠慮ください。

※2. このプリントを活用したオンライン授業のスケジュールは、しながわ・目黒こどもスクールのウェブサイトでご確認ください。



おうちで、やろう。

Study at home. 小学校受験の家庭学習教材

指示理解2

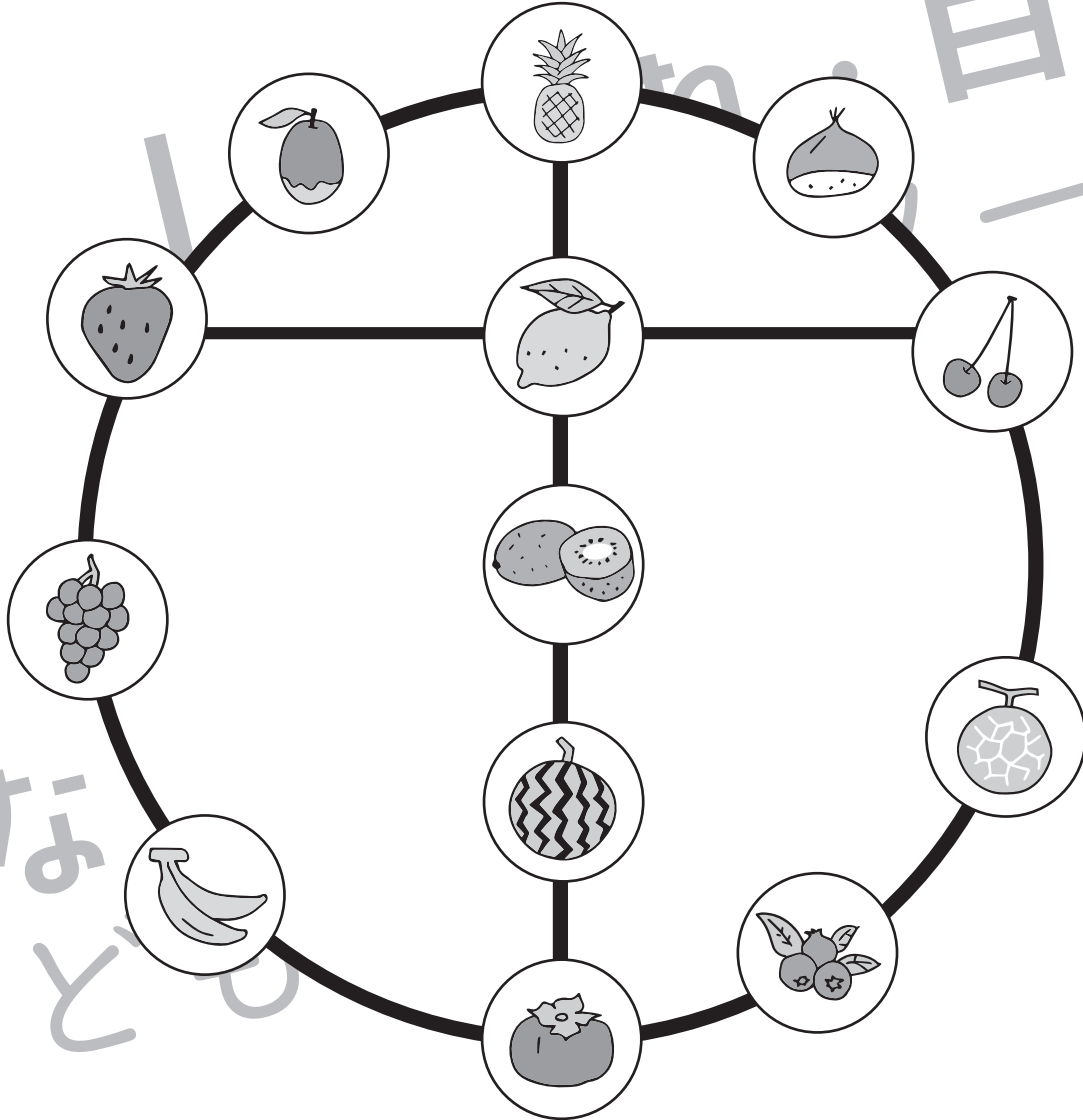
下の絵は路線図です。食べ物の絵は駅で、それぞれの動物たちは友だちと待ち合わせをしています。

①～③の問題を聞いて、それぞれの動物がどの駅で待ち合わせしているのかを考えて、四角の中の➡の先にある食べものに○をつけます。

①パンダはレモン駅の左隣にある駅で友だちと待ち合わせをしています。その駅に○をつけます。

②サルはパイナップル駅を下に真っ直ぐ進んだ3つ目の駅で友だちと待ち合わせをしています。その駅に○をつけます。

③ゾウはメロン駅から時計周りに1つ進んだ先の駅で友だちと待ち合わせをしています。その駅に○をつけます。



	➡								
	➡								
	➡								

※1. このプリントは、しながわ・目黒こどもスクールのウェブサイトからダウンロードできます。無断複写・引用はご遠慮ください。

※2. このプリントを活用したオンライン授業のスケジュールは、しながわ・目黒こどもスクールのウェブサイトでご確認ください。



おうちで、やろう。

Study at home. 小学校受験の家庭学習教材

指示理解 3

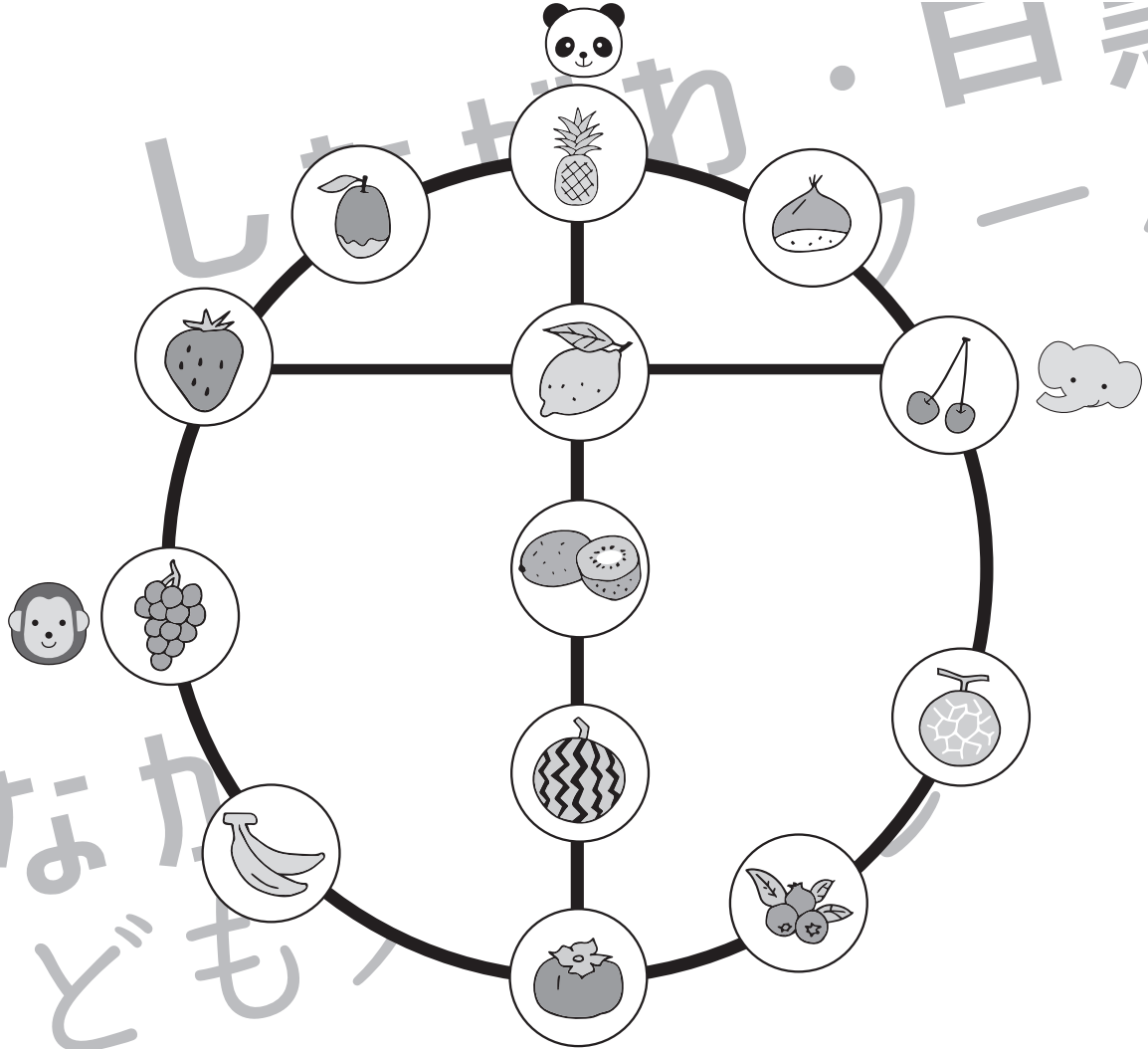
下の絵は路線図です。食べ物の絵は駅で、それぞれの動物たちは友だちと待ち合わせをしています。

①～③の問題を聞いて、それぞれの動物がどの駅で待ち合わせしているのかを考えて、四角の中の➡の先にある食べものに○をつけます。

①ネコはパンダがいる駅から時計と反対回りに6つ進んだ駅で友だちと待ち合わせをしています。その駅に○をつけます。

②ウシはバナナ駅から時計回りに3つ目の駅で友だちと待ち合わせをしています。その駅に○をつけます。

③クマはネコが待ち合わせをしている駅から時計と反対回りに8つ進んだ駅で友だちと待ち合わせをしています。その駅に○をつけます。



	➡								
	➡								
	➡								

※1. このプリントは、しながわ・目黒こどもスクールのウェブサイトでダウンロードができます。無断複写・引用はご遠慮ください。

※2. このプリントを活用したオンライン授業のスケジュールは、しながわ・目黒こどもスクールのウェブサイトでご確認ください。



おうちで、やろう。

Study at home. 小学校受験の家庭学習教材

推理：じゃんけん 15

動物たちはそれぞれキャンディーを3つずつ持っています。4匹でじゃんけんをして勝ったら2つ増え、負けると1つ減り、あいこのときは変わりません。この約束で左から順番にじゃんけんをしたとき、最後にいくつずつキャンディーを持っているか考えて、その数だけ下の四角に○をかきます。

	1	2	3	4	5

※1. このプリントは、しながわ・目黒こどもスクールのウェブサイトでダウンロードができます。無断複写・引用はご遠慮ください。
 ※2. このプリントを活用したオンライン授業のスケジュールは、しながわ・目黒こどもスクールのウェブサイトでご確認ください。



おうちで、やろう。

Study at home. 小学校受験の家庭学習教材

数量：サイコロ 4

サイコロを転がして、出た目でアメの数を決めます。

白のサイコロは出た目の数だけアメをもらえ、黒のサイコロは出た目の数だけアメをあげなければいけません。

この約束で、絵のようにサイコロの目が出たとき、もらえるアメはいくつになりますか。その数だけ右の四角に○をかきます。

5 → 2

6 → 4

2 → 4 → 1

※1. このプリントは、しながわ・目黒こどもスクールのウェブサイトでダウンロードができます。無断複写・引用はご遠慮ください。

※2. このプリントを活用したオンライン授業のスケジュールは、しながわ・目黒こどもスクールのウェブサイトでご確認ください。



おうちで、やろう。

Study at home. 小学校受験の家庭学習教材

数量：サイコロ5

サイコロを転がして、出た目でアメの数を決めます。

白のサイコロは出た目の数だけアメをもらえ、黒のサイコロは出た目の数だけアメをあげなければいけません。

この約束で、絵のようにサイコロの目が出たとき、もらえるアメはいくつになりますか。その数だけ右の四角に○をかきます。

2 → 3 → 2

1 → 3 → 4 → 5

3 → 3 → 5 → 4

※1. このプリントは、しながわ・目黒こどもスクールのウェブサイトダウンロードできます。無断複写・引用はご遠慮ください。

※2. このプリントを活用したオンライン授業のスケジュールは、しながわ・目黒こどもスクールのウェブサイトでご確認ください。

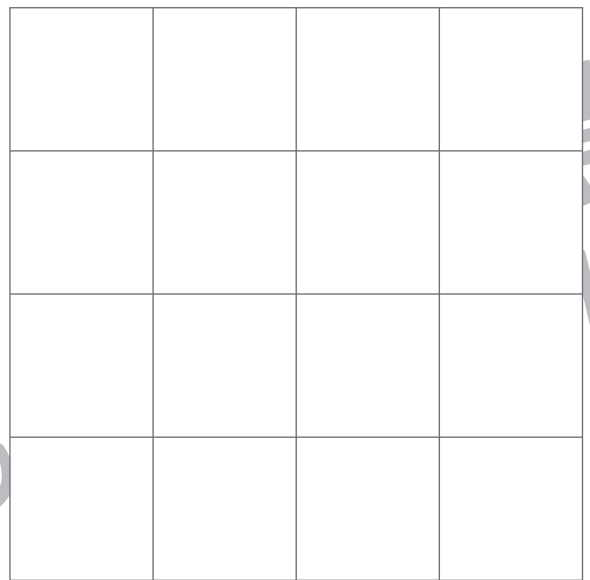

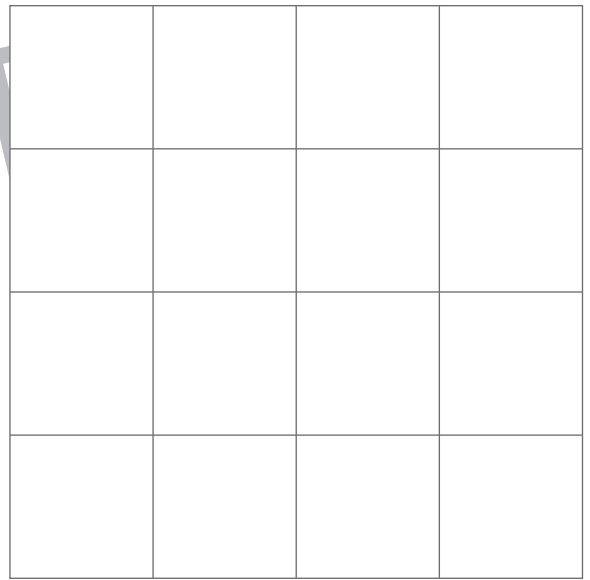
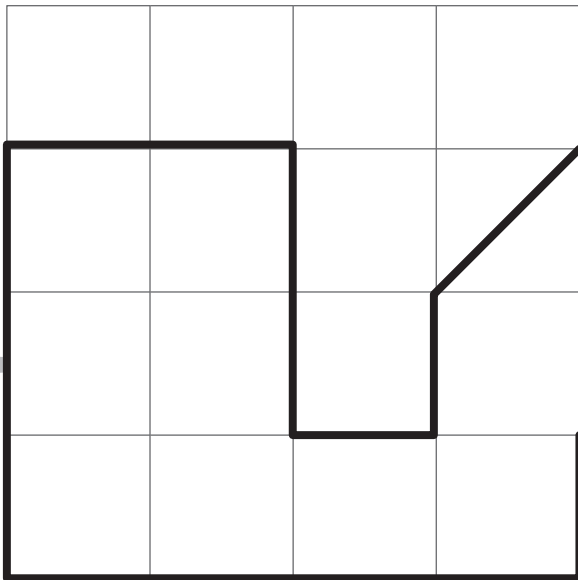
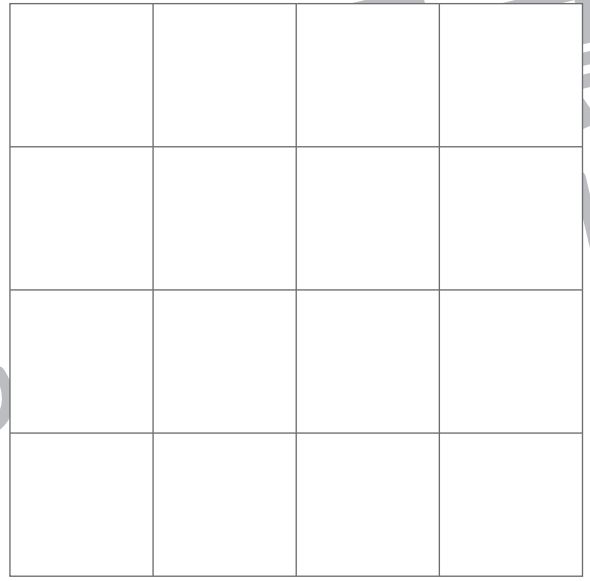
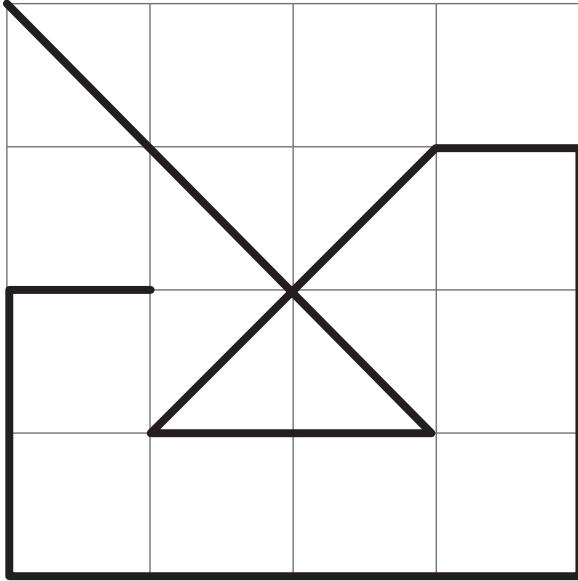


おうちで、やろう。

Study at home. 小学校受験の家庭学習教材

運筆：模写 10

左がお手本です。お手本と同じ線を右の四角にかきます。スピードを意識して、きれいな線をひきます。
※この問題に解答はありません。



※1. このプリントは、しながわ・目黒こどもスクールのウェブサイトでダウンロードができます。無断複写・引用はご遠慮ください。
※2. このプリントを活用したオンライン授業のスケジュールは、しながわ・目黒こどもスクールのウェブサイトでご確認ください。

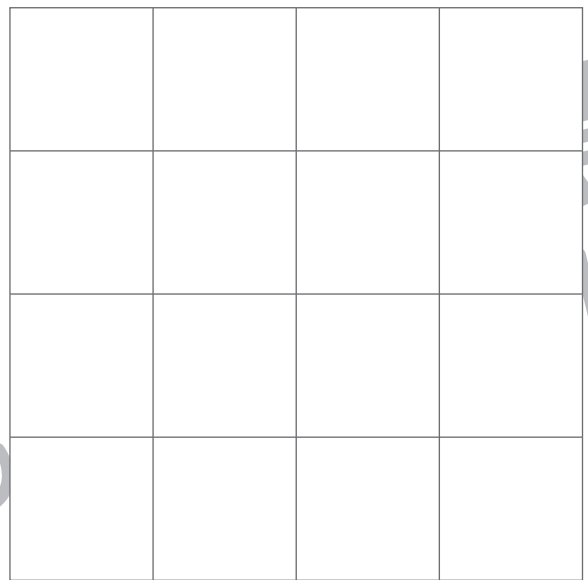
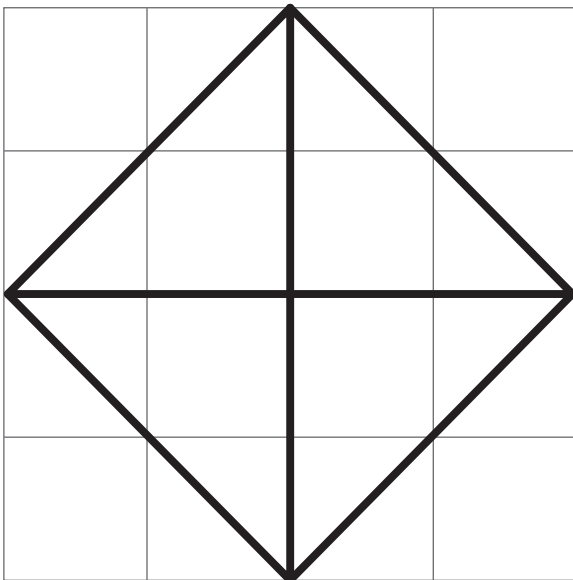
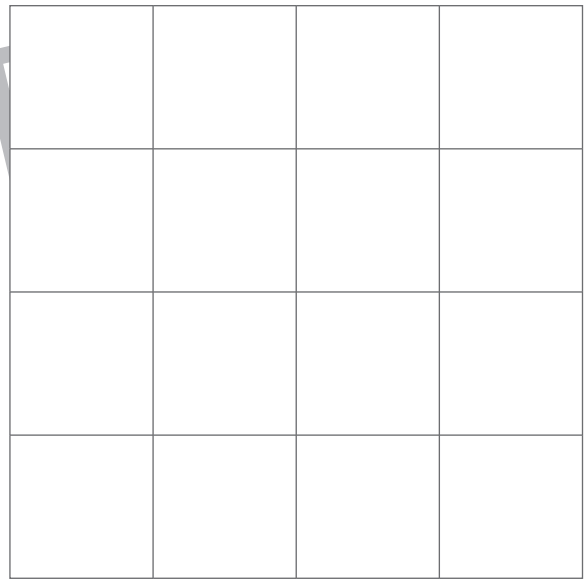
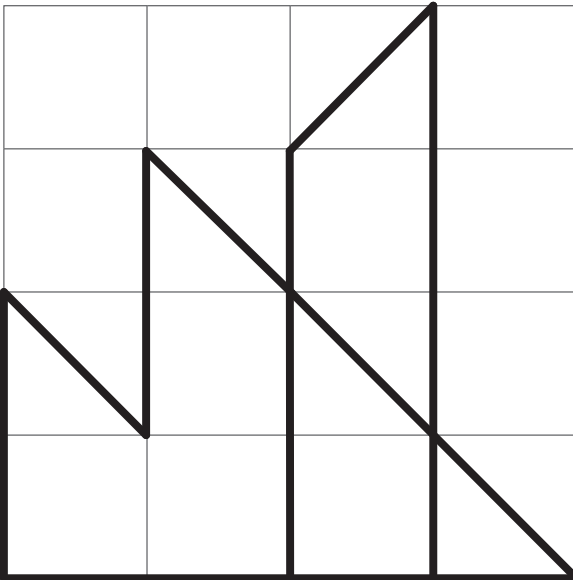
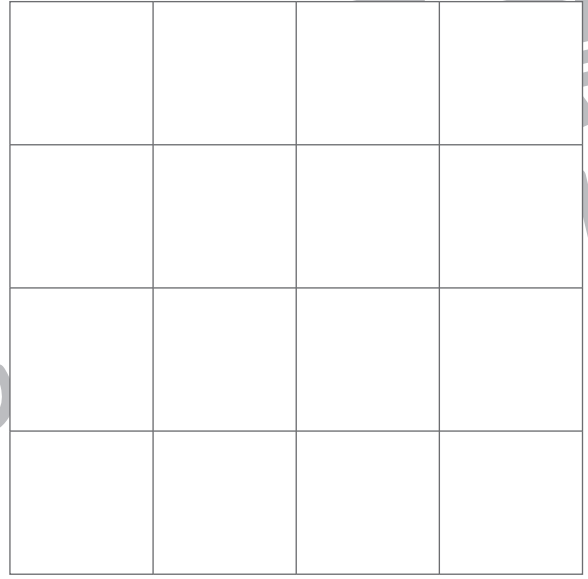
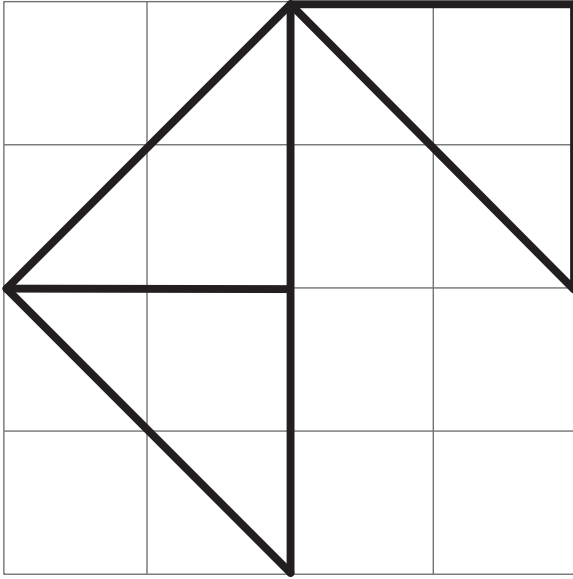


おうちで、やろう。

Study at home. 小学校受験の家庭学習教材

運筆：模写 11

左がお手本です。お手本と同じ線を右の四角にかきます。スピードを意識して、きれいな線をひきます。
※この問題に解答はありません。



※1. このプリントは、しながわ・目黒こどもスクールのウェブサイトからダウンロードができます。無断複写・引用はご遠慮ください。
※2. このプリントを活用したオンライン授業のスケジュールは、しながわ・目黒こどもスクールのウェブサイトでご確認ください。

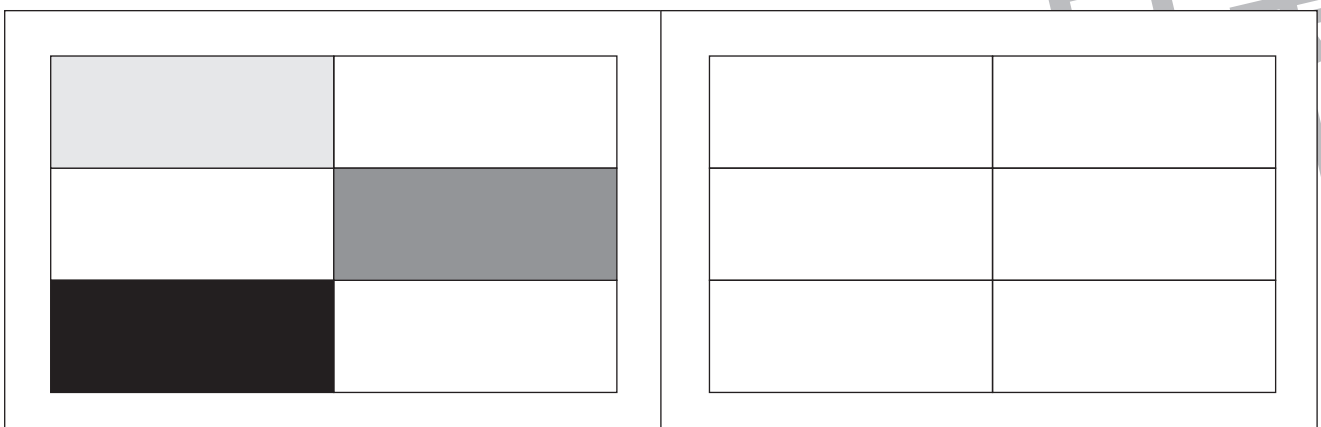

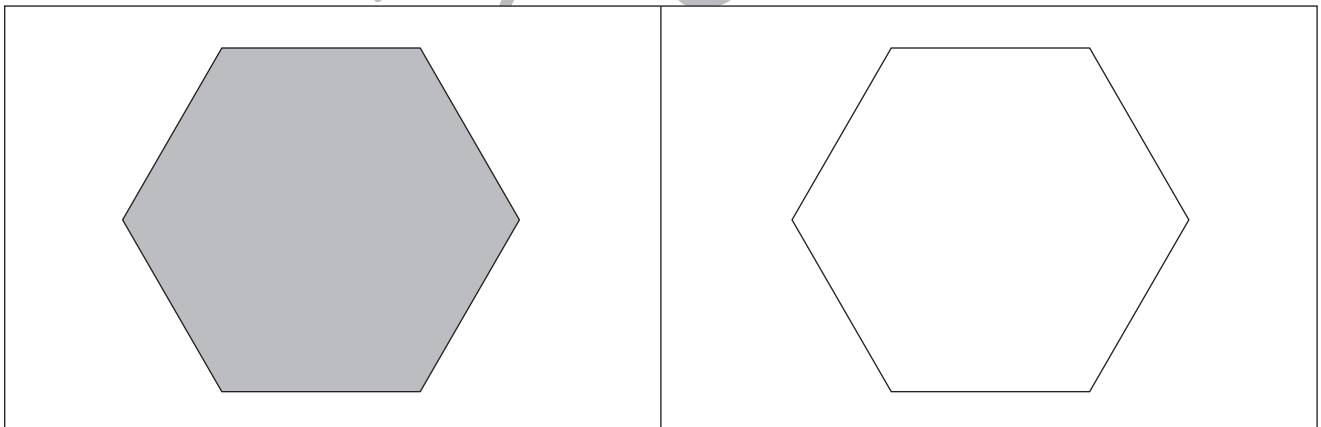
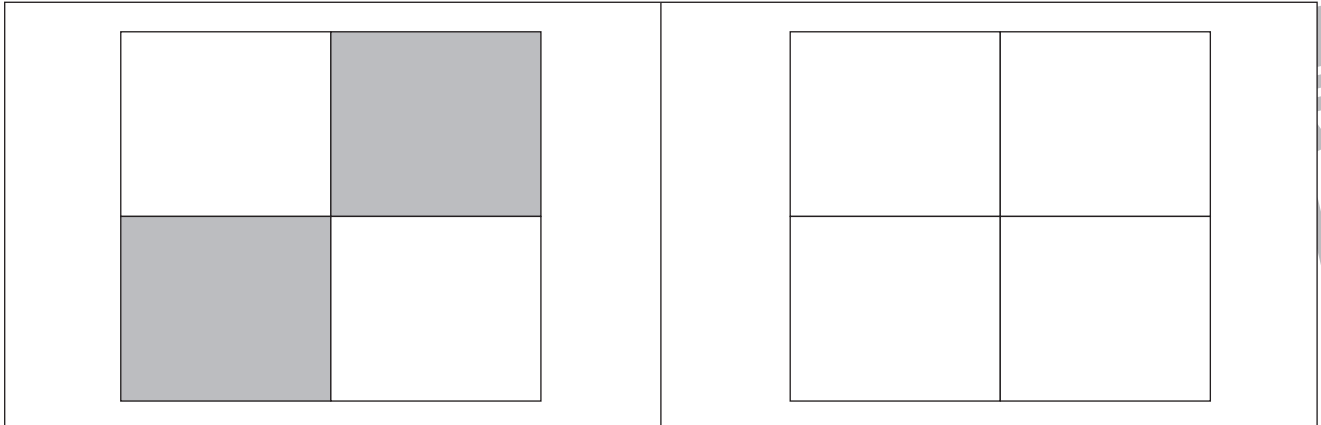


おうちで、やろう。

Study at home. 小学校受験の家庭学習教材

運筆：濃淡 10

左のお手本と同じ濃さになるように鉛筆で右の形を塗ります。
※この問題に解答はありません。



※1. このプリントは、しながわ・目黒こどもスクールのウェブサイトでダウンロードができます。無断複写・引用はご遠慮ください。
 ※2. このプリントを活用したオンライン授業のスケジュールは、しながわ・目黒こどもスクールのウェブサイトでご確認ください。