



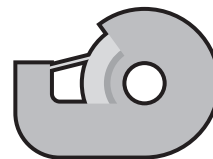




# おうちで、やろう。

Study at home. 小学校受験の家庭学習教材

## 言語：おわりの音 14

おわりの音が「な・に・ぬ・ね・の」のものには○を、おわりの音が「ま・み・む・め・も」のものには△をつけましょう。



※1. このプリントは、しながわ・目黒こどもスクールのウェブサイトからダウンロードができます。無断複写・引用はご遠慮ください。

※2. このプリントを活用したオンライン授業のスケジュールは、しながわ・目黒こどもスクールのウェブサイトでご確認ください。











# おうちで、やろう。

Study at home. 小学校受験の家庭学習教材

## 常識：影 2

動物たちが外で立っています。太陽がそれぞれの場所にあるときの影の様子で正しいものには○、間違えているものには×をつけます。

※1. このプリントは、しながわ・目黒こどもスクールのウェブサイトでダウンロードができます。無断複写・引用はご遠慮ください。

※2. このプリントを活用したオンライン授業のスケジュールは、しながわ・目黒こどもスクールのウェブサイトでご確認ください。


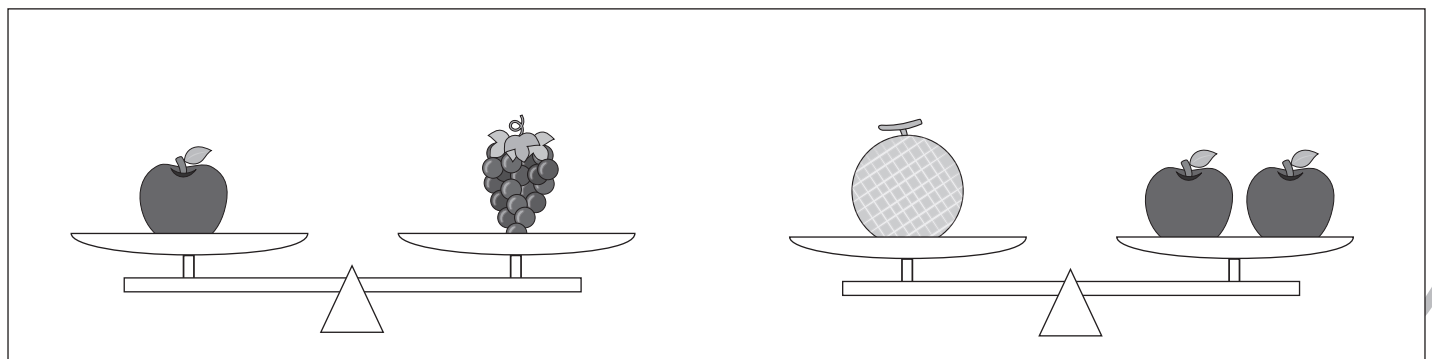


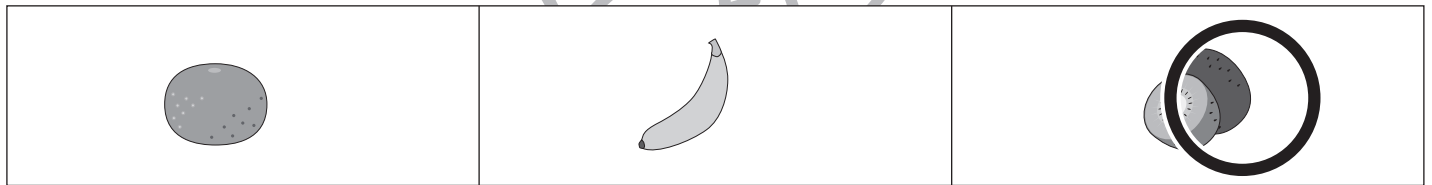
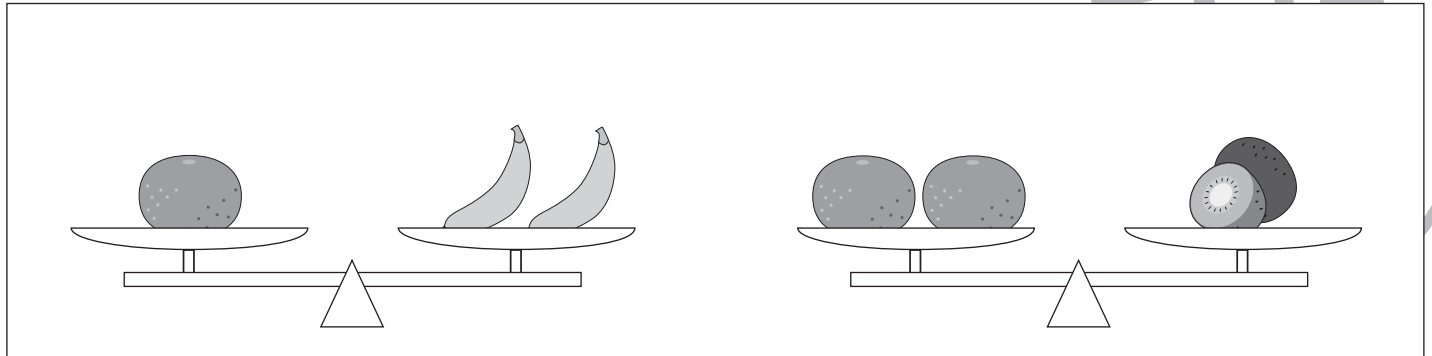


# おうちで、やろう。

Study at home. 小学校受験の家庭学習教材

推理：重さ 11

三種類の果物をシーソーにのせて重さ比べをします。  
一番重い果物には○をつけます。



※1. このプリントは、しながわ・目黒こどもスクールのウェブサイトでダウンロードができます。無断複写・引用はご遠慮ください。  
※2. このプリントを活用したオンライン授業のスケジュールは、しながわ・目黒こどもスクールのウェブサイトでご確認ください。

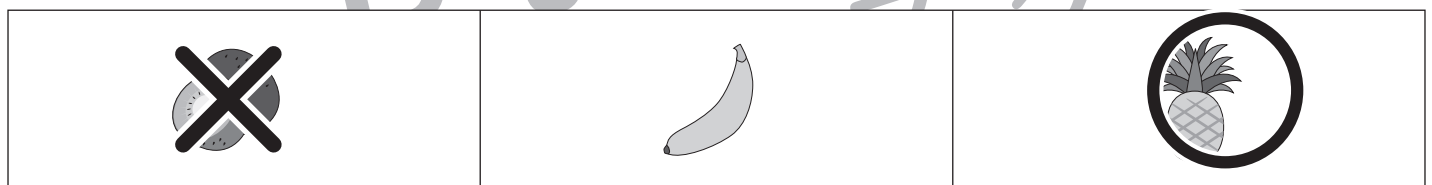
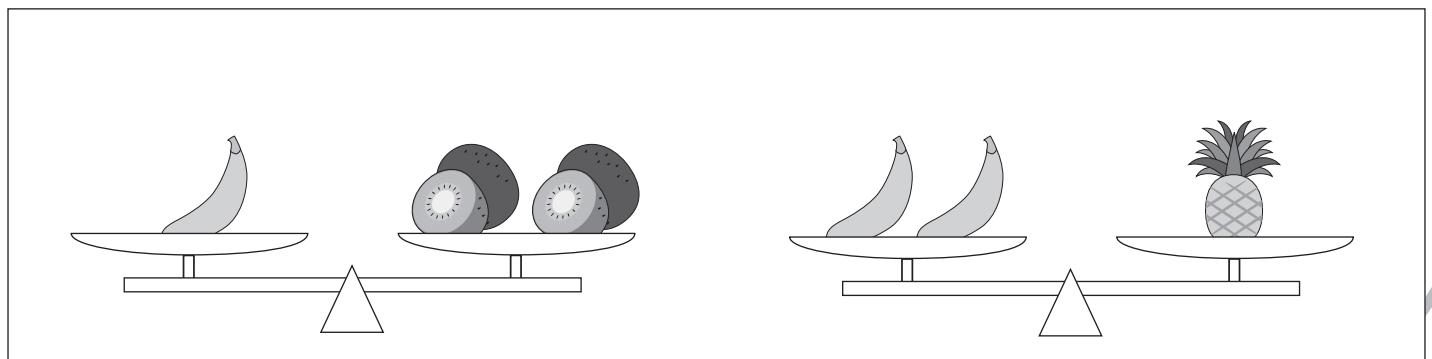


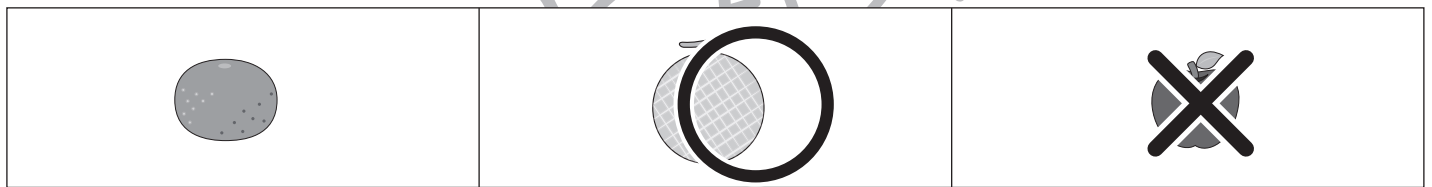
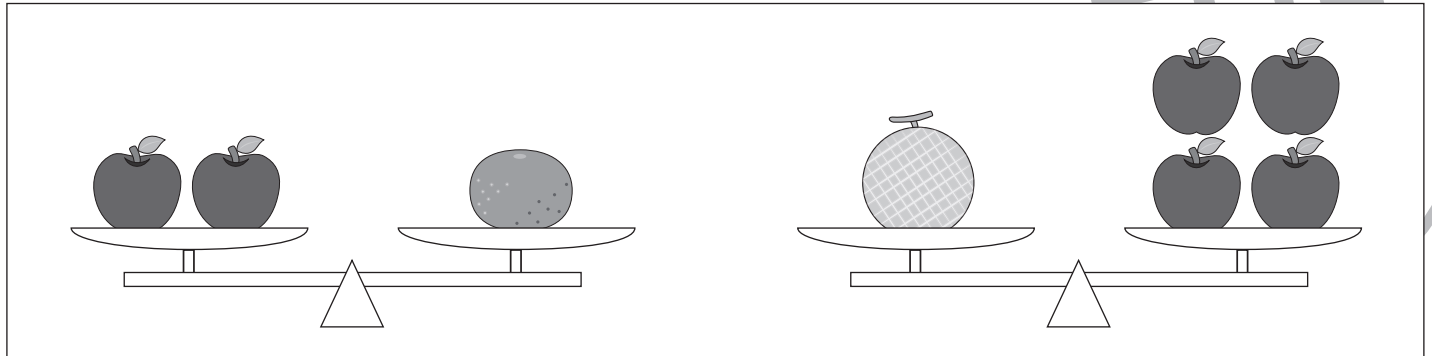


# おうちで、やろう。

Study at home. 小学校受験の家庭学習教材

推理：重さ 12

三種類の果物をシーソーにのせて重さ比べをします。  
一番重い果物には○を一番軽い果物には×をつけます。



※1. このプリントは、しながわ・目黒こどもスクールのウェブサイトでダウンロードができます。無断複写・引用はご遠慮ください。  
※2. このプリントを活用したオンライン授業のスケジュールは、しながわ・目黒こどもスクールのウェブサイトでご確認ください。





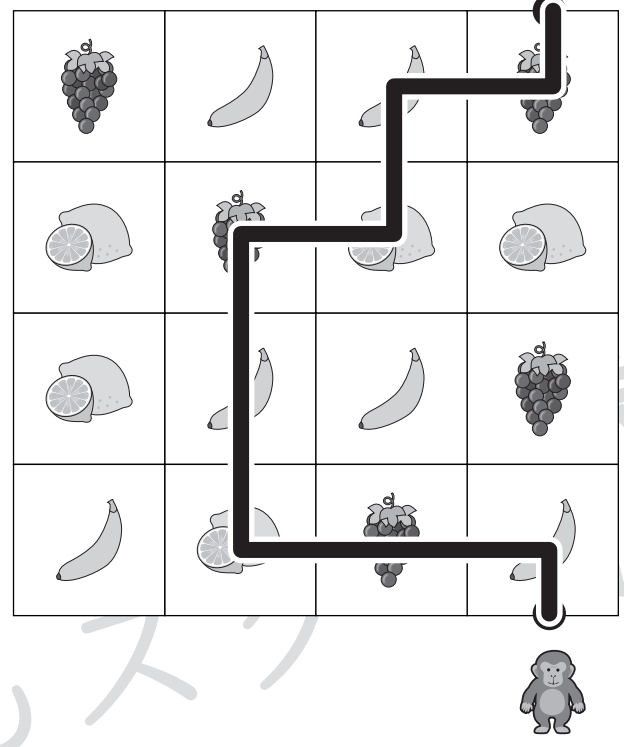
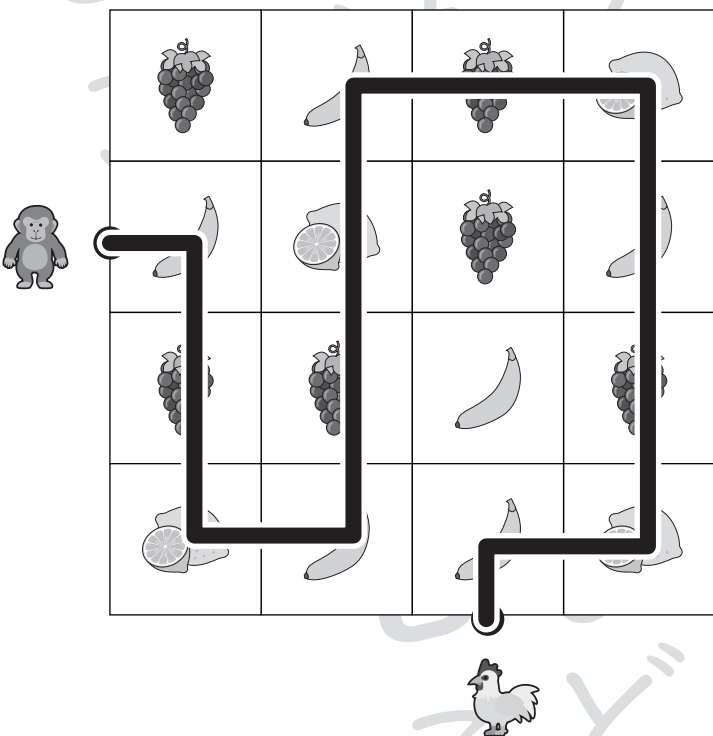
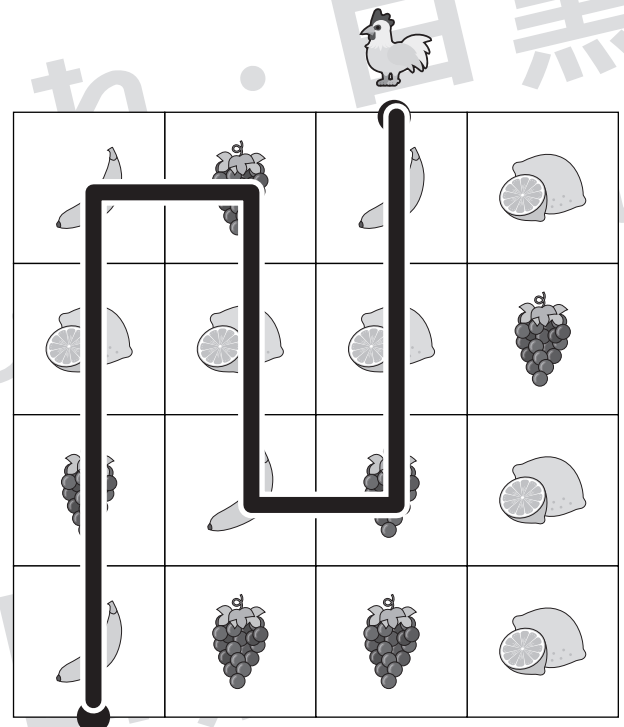
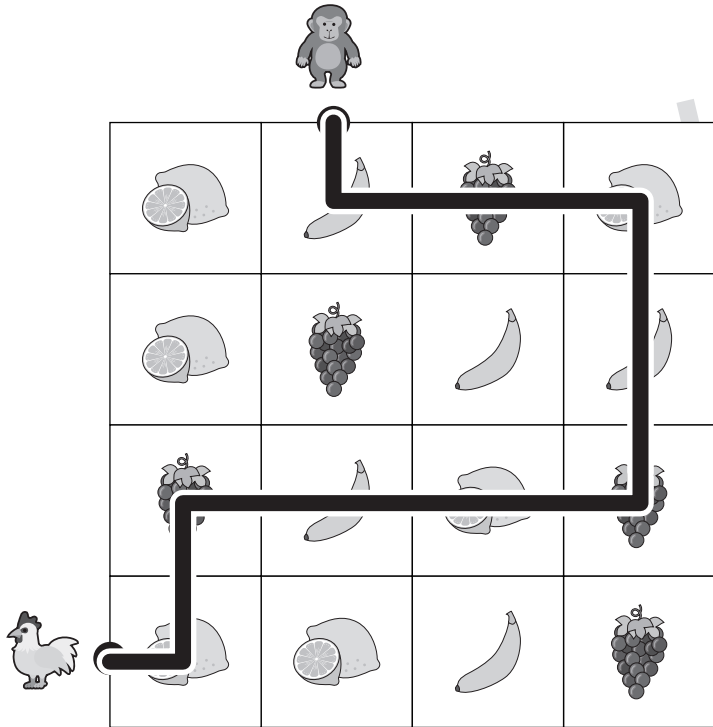


# おうちで、やろう。

Study at home. 小学校受験の家庭学習教材

## 推理：条件迷路 2

サルからニワトリまで【バナナ→ブドウ→レモン】の順で進み線をかきます。  
縦と横には進めますが斜めは進めません。同じ道は進むことはできません。



※1. このプリントは、しながわ・目黒こどもスクールのウェブサイトでダウンロードができます。無断複写・引用はご遠慮ください。  
 ※2. このプリントを活用したオンライン授業のスケジュールは、しながわ・目黒こどもスクールのウェブサイトでご確認ください。

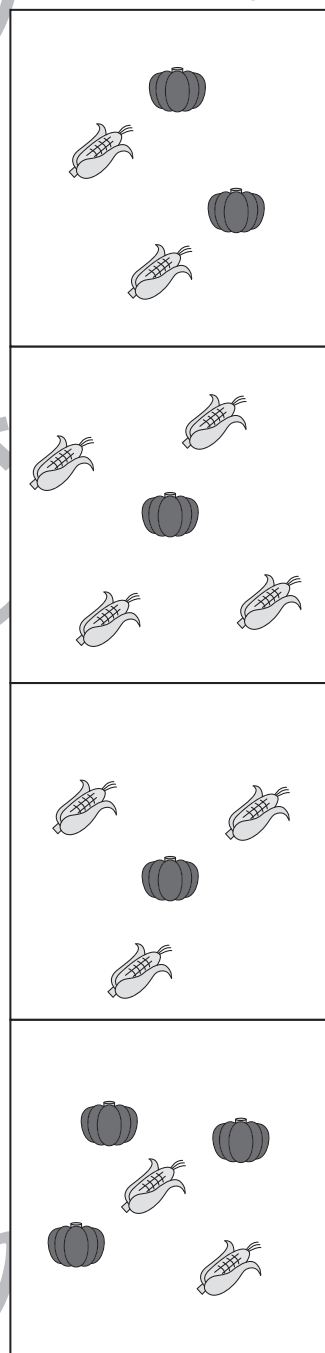




# おうちで、やろう。

Study at home. 小学校受験の家庭学習教材

数量：分割 9

左側の四角の中のかぼちゃととうもろこしを2人で仲良く分けると、1人分はいくつになりますか。  
右側の四角から正しいものを選んで、点と点を線で結びます。



※1. このプリントは、しながわ・目黒こどもスクールのウェブサイトでダウンロードができます。無断複写・引用はご遠慮ください。  
 ※2. このプリントを活用したオンライン授業のスケジュールは、しながわ・目黒こどもスクールのウェブサイトでご確認ください。

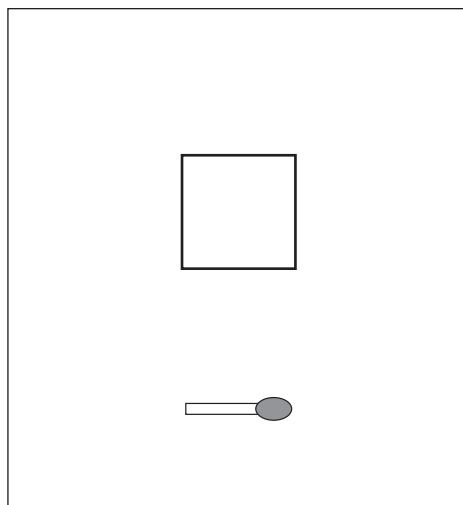


# おうちで、やろう。

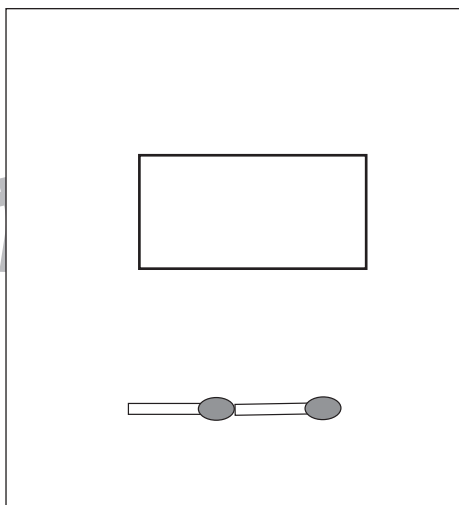
Study at home. 小学校受験の家庭学習教材

図形：マッチ3

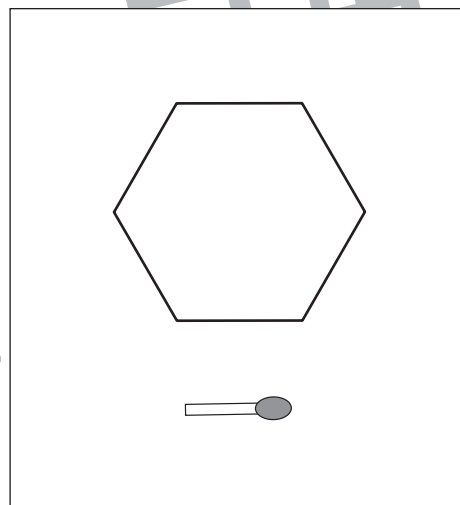
四角の中の形をそれぞれの下にあるマッチで作ります。  
全部で何本あれば上の形ができるのかを考えてその数だけ下の四角に○をかきます。



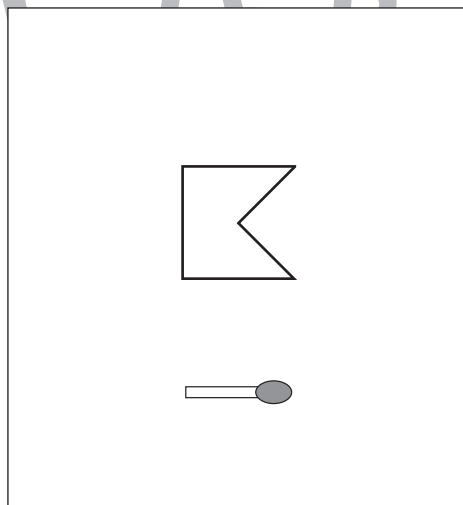
○ × 4



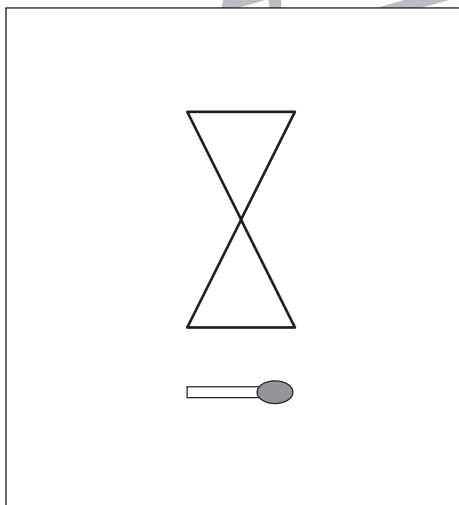
○ × 6



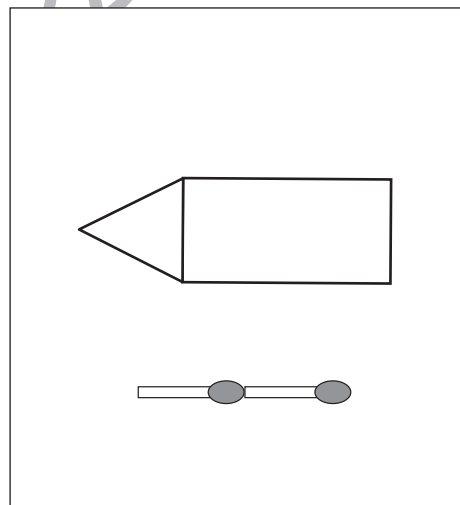
○ × 6



○ × 5



○ × 6



○ × 8

※1. このプリントは、しながわ・目黒こどもスクールのウェブサイトでダウンロードができます。無断複写・引用はご遠慮ください。  
※2. このプリントを活用したオンライン授業のスケジュールは、しながわ・目黒こどもスクールのウェブサイトでご確認ください。





# おうちで、やろう。

Study at home. 小学校受験の家庭学習教材

## まちがいさがし5

上下の絵を見比べて、変わっているところを4つ探します。見つけたら、下の絵の変わっている部分に○をつけます。

