



おうちで、やろう。

Study at home. 小学校受験の家庭学習教材

指示の聞き取り 23

下の四角の中には丸、三角、四角の形があります。①～③の指示通りにすばやくきれいになぞったり、塗ったりしましょう。

- ①一番大きい丸の中を赤のクーピーでなぞってから中を塗ります。
- ②二番目に大きい三角を青のクーピーでなぞり、緑のクーピーで中を塗ります。
- ③それぞれの形の中で一番小さいものを黄色のクーピーでなぞり中を塗ります。

黄色

赤

なぞり：青
塗り：緑

黄色

黄色

※1. このプリントは、しながわ・目黒こどもスクールのウェブサイトでダウンロードができます。無断複写・引用はご遠慮ください。

※2. このプリントを活用したオンライン授業のスケジュールは、しながわ・目黒こどもスクールのウェブサイトでご確認ください。



おうちで、やろう。

Study at home. 小学校受験の家庭学習教材

言語：音の理解 19

- ①はじめてから2番目の音が「ま」の動物に○をつけます。 ②はじめてから2番目の音が「あ」の動物に○をつけます。
 ③はじめてから2番目の音が「さ」の動物に○をつけます。 ④はじめてから2番目の音が「わ」の動物に○をつけます。
 ⑤はじめてから2番目の音が「く」の動物に○をつけます。

①

②

③

④

⑤

※1. このプリントは、しながわ・目黒こどもスクールのウェブサイトでダウンロードができます。無断複写・引用はご遠慮ください。
 ※2. このプリントを活用したオンライン授業のスケジュールは、しながわ・目黒こどもスクールのウェブサイトでご確認ください。



おうちで、やろう。

Study at home. 小学校受験の家庭学習教材

推理：条件推理 7

左の四角の中がお手本です。このお手本はコップの中に水が入っていて、上から丸いボールを入れて落ちていく途中の様子です。このままボールがまっすぐ落ちたときどうなりますか。正しいものを右の4つの中から選んで○をつけます。

※1. このプリントは、しながわ・目黒こどもスクールのウェブサイトからダウンロードできます。無断複写・引用はご遠慮ください。

※2. このプリントを活用したオンライン授業のスケジュールは、しながわ・目黒こどもスクールのウェブサイトでご確認ください。



おうちで、やろう。

Study at home. 小学校受験の家庭学習教材

推理：条件推理 8

左の四角の中がお手本です。このお手本はコップの中に水が入っていて、上から丸いボールを入れて落ちていく途中の様子です。このままボールがまっすぐ落ちたときどうなりますか。正しいものを右の4つの中から選んで○をつけます。

※1. このプリントは、しながわ・目黒こどもスクールのウェブサイトでダウンロードができます。無断複写・引用はご遠慮ください。

※2. このプリントを活用したオンライン授業のスケジュールは、しながわ・目黒こどもスクールのウェブサイトでご確認ください。

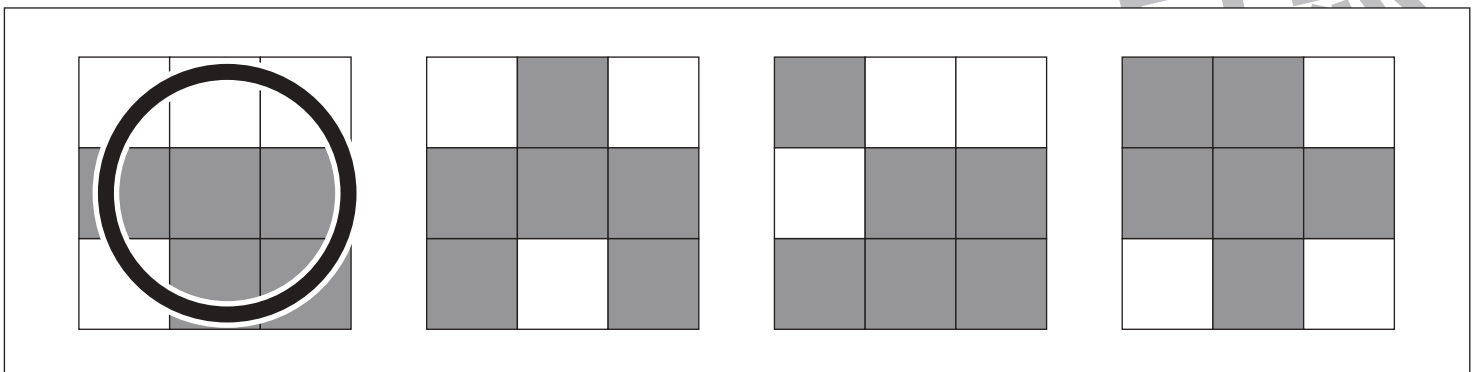
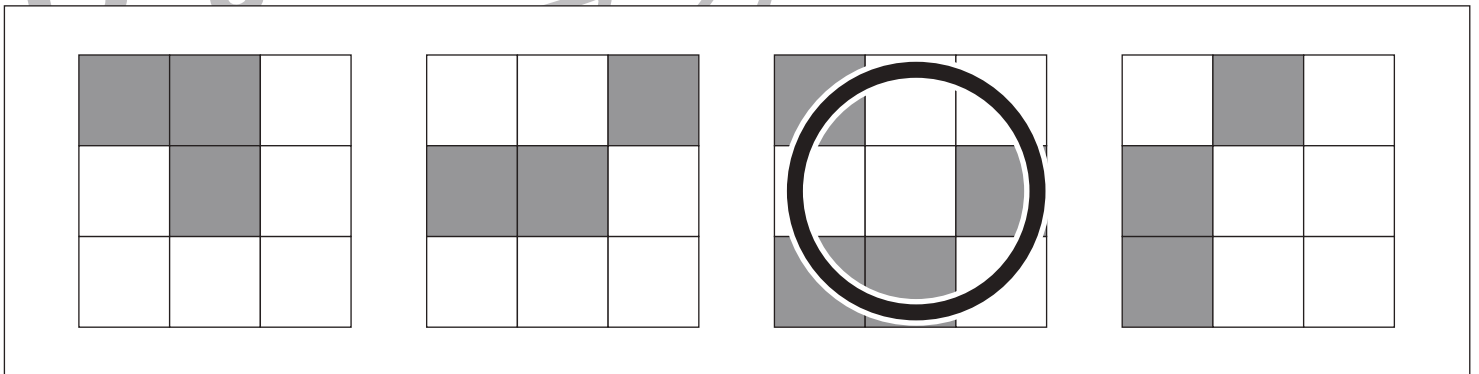
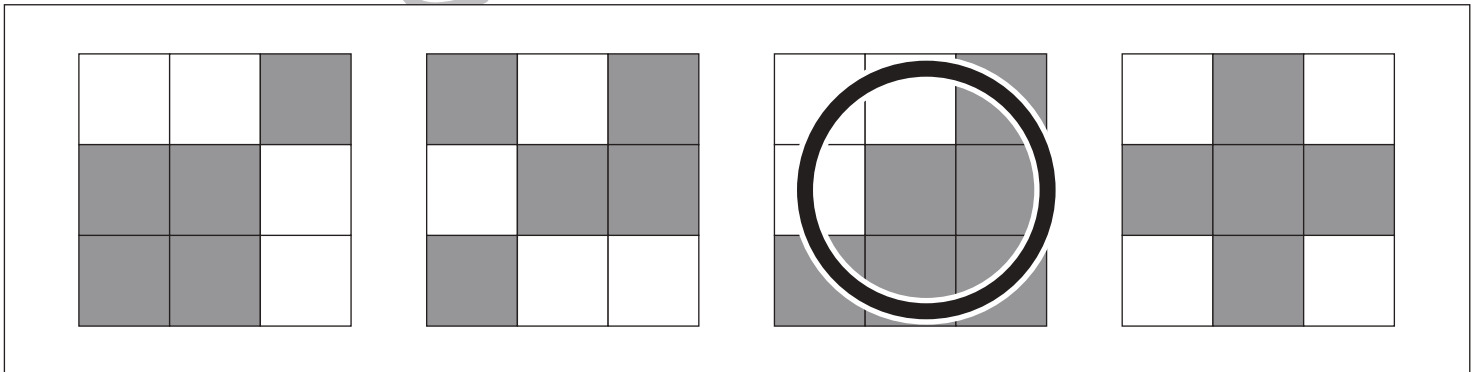
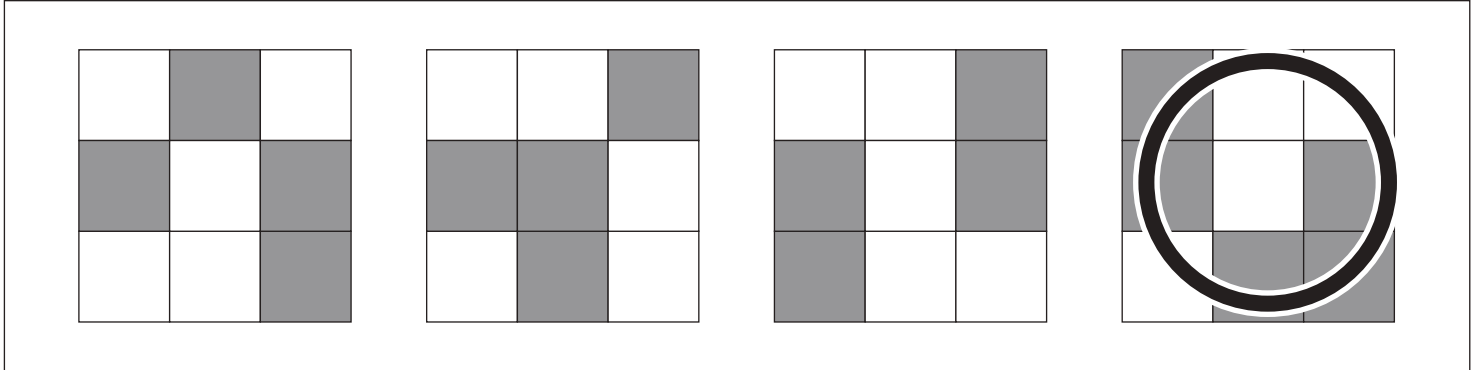


おうちで、やろう。

Study at home. 小学校受験の家庭学習教材

数量：広さ 12

四角の中のマスを見て考えます。灰色のマスが違ってくるものに○をつけます。



※1. このプリントは、しながわ・目黒こどもスクールのウェブサイトでダウンロードができます。無断複写・引用はご遠慮ください。
 ※2. このプリントを活用したオンライン授業のスケジュールは、しながわ・目黒こどもスクールのウェブサイトでご確認ください。

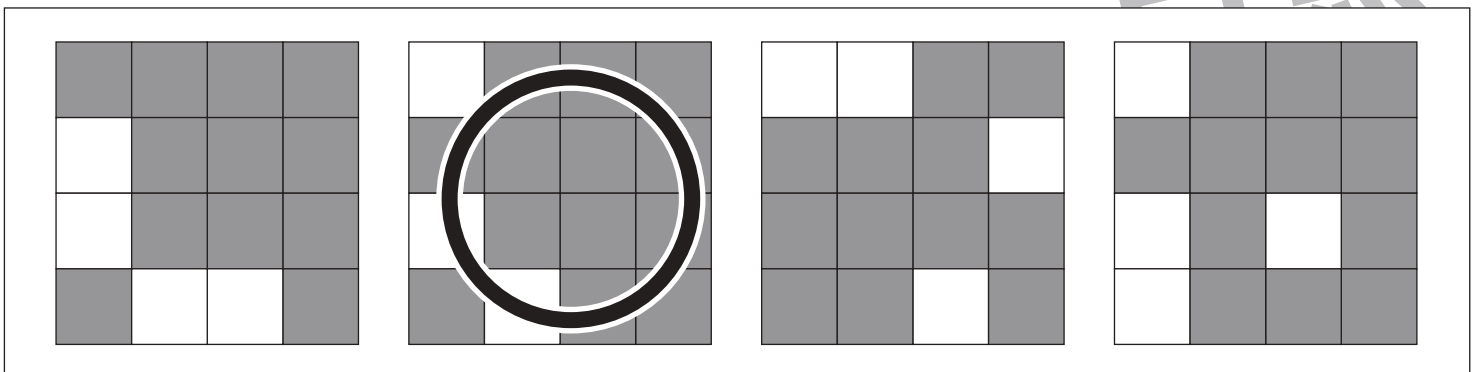
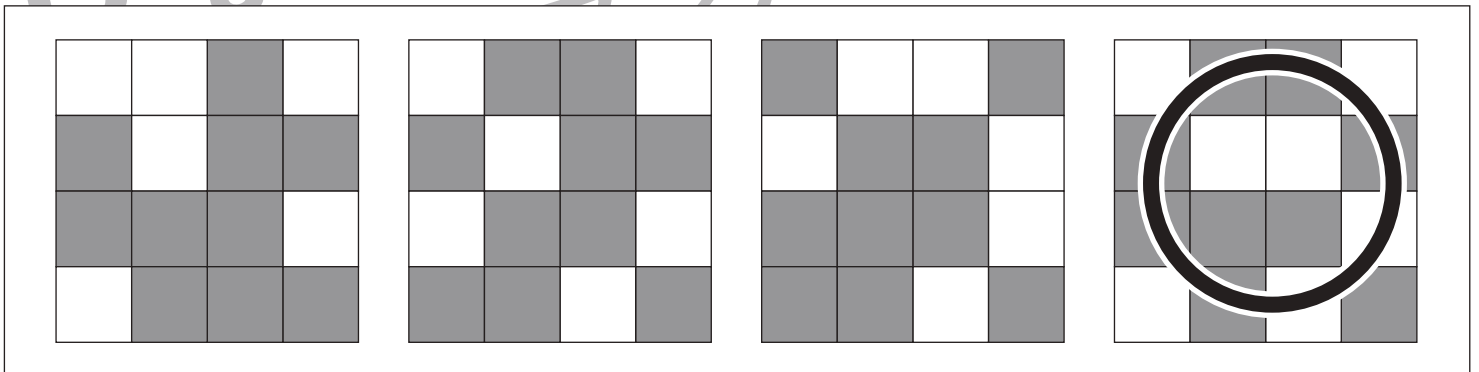
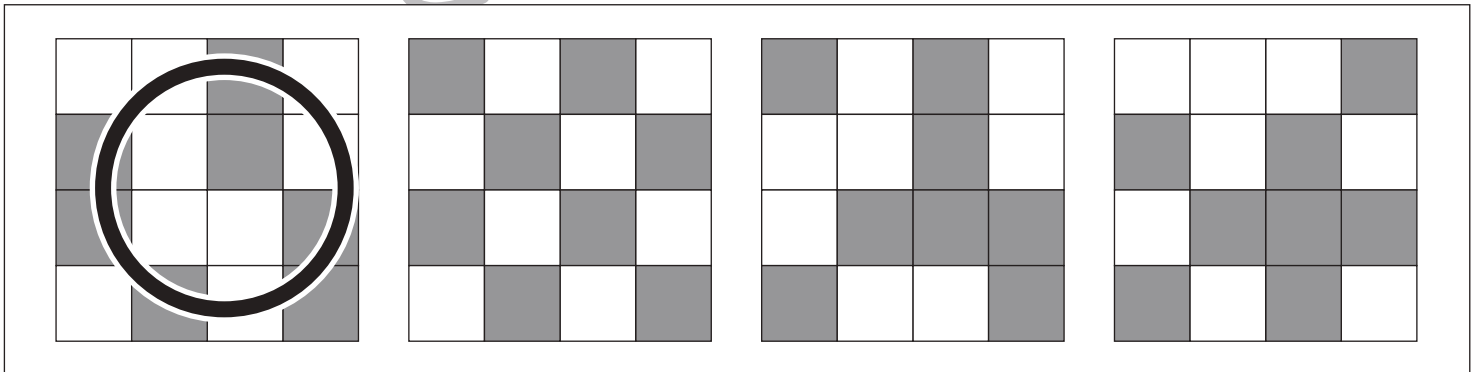
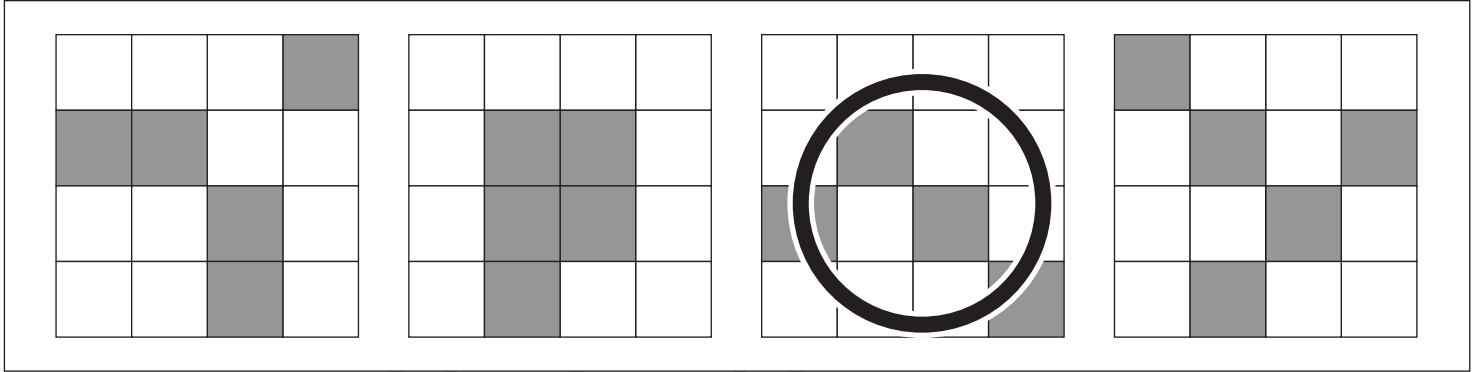


おうちで、やろう。

Study at home. 小学校受験の家庭学習教材

数量：広さ 13

四角の中のマスを見て考えます。灰色のマスが違ってくるものに○をつけます。



※1. このプリントは、しながわ・目黒こどもスクールのウェブサイトでダウンロードができます。無断複写・引用はご遠慮ください。
 ※2. このプリントを活用したオンライン授業のスケジュールは、しながわ・目黒こどもスクールのウェブサイトでご確認ください。



おうちで、やろう。

Study at home. 小学校受験の家庭学習教材

数量：足りない数6

左の太い四角の中が一人分のセットです。右の四角の中の絵を一人分のセットにしたとき、足りない数だけ○をかきます。

		○ × 2

		○ × 1

		○ × 3

		○ × 2

※1. このプリントは、しながわ・目黒こどもスクールのウェブサイトでダウンロードができます。無断複写・引用はご遠慮ください。
 ※2. このプリントを活用したオンライン授業のスケジュールは、しながわ・目黒こどもスクールのウェブサイトでご確認ください。



おうちで、やろう。

Study at home. 小学校受験の家庭学習教材

図形：移動 21

左の四角がお手本です。このお手本の○を上へ1マス、△を右へ1マス動かします。
動かした後の場所を考えて、右の四角の中にそれぞれの記号をかきます。

※1. このプリントは、しながわ・目黒こどもスクールのウェブサイトでダウンロードができます。無断複写・引用はご遠慮ください。
※2. このプリントを活用したオンライン授業のスケジュールは、しながわ・目黒こどもスクールのウェブサイトでご確認ください。



おうちで、やろう。

Study at home. 小学校受験の家庭学習教材

図形：移動 22

左の四角がお手本です。このお手本の○を下に 1 マス、△を左へ 1 マス動かします。
動かした後の場所を考えて、右の四角の中にそれぞれの記号をかきます。

※1. このプリントは、しながわ・目黒こどもスクールのウェブサイトでダウンロードができます。無断複写・引用はご遠慮ください。
※2. このプリントを活用したオンライン授業のスケジュールは、しながわ・目黒こどもスクールのウェブサイトでご確認ください。