






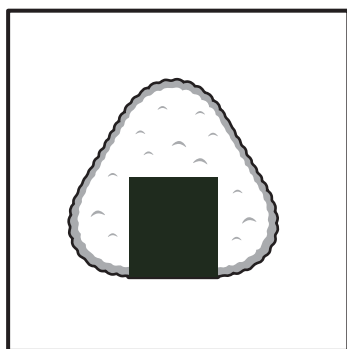




# おうちで、やろう。

Study at home. 小学校受験の家庭学習教材

言語：音の数 27

左の四角の中にある絵と音の数が同じものを、右の四角にある絵の中から選び○をつけます。



※1. このプリントは、しながわ・目黒こどもスクールのウェブサイトでダウンロードができます。無断複写・引用はご遠慮ください。  
※2. このプリントを活用したオンライン授業のスケジュールは、しながわ・目黒こどもスクールのウェブサイトでご確認ください。





# おうちで、やろう。


Study at home. 小学校受験の家庭学習教材

## 常識：生き物 8

大きな四角の中には色々な生き物がいます。

- ①空を飛ぶ生き物に○をつけます。
- ②海で生きている生き物に×をつけます。
- ③卵から生まれる生き物に□をつけます。

目黒



※1. このプリントは、しながわ・目黒こどもスクールのウェブサイトでダウンロードができます。無断複写・引用はご遠慮ください。  
※2. このプリントを活用したオンライン授業のスケジュールは、しながわ・目黒こどもスクールのウェブサイトでご確認ください。





# おうちで、やろう。

Study at home. 小学校受験の家庭学習教材

## 推理：重さの置き換え 5

天秤に果物をのせて重さ比べをしました。上の太い四角の中が約束です。この約束のとき、それぞれの天秤の右側にみかんをいくつのおせばつり合いますか。のせるみかんの数だけ四角の中に○をかきます。


※1. このプリントは、しながわ・目黒こどもスクールのウェブサイトでダウンロードができます。無断複写・引用はご遠慮ください。

※2. このプリントを活用したオンライン授業のスケジュールは、しながわ・目黒こどもスクールのウェブサイトでご確認ください。



# おうちで、やろう。

Study at home. 小学校受験の家庭学習教材

## 推理：重さの置き換え 6

天秤に果物をのせて重さ比べをしました。上の太い四角の中が約束です。この約束のとき、それぞれの天秤の右側にかいてある果物をいくつかのせればつり合いますか。その数だけ四角の中に○をかきます。


※1. このプリントは、しながわ・目黒こどもスクールのウェブサイトでダウンロードができます。無断複写・引用はご遠慮ください。

※2. このプリントを活用したオンライン授業のスケジュールは、しながわ・目黒こどもスクールのウェブサイトでご確認ください。

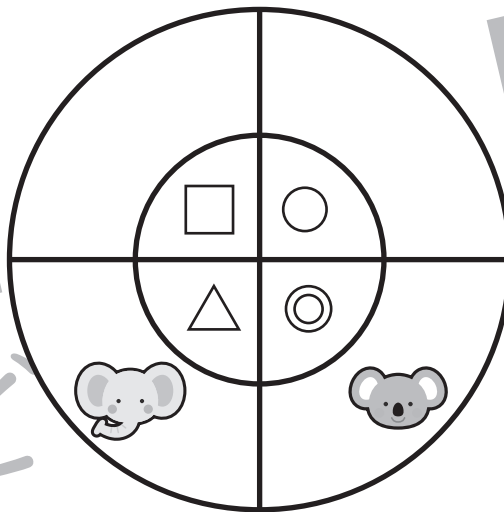
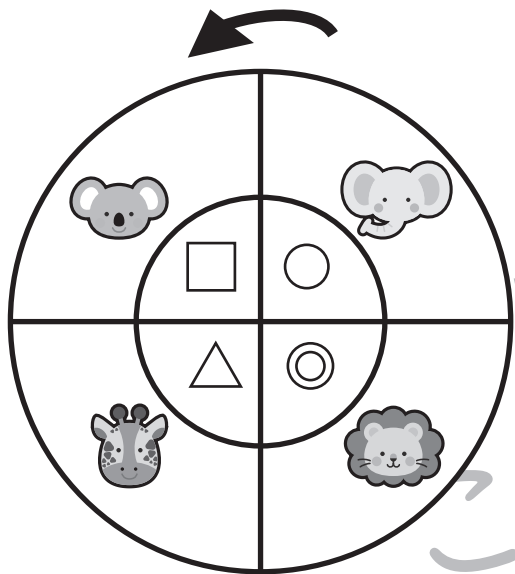
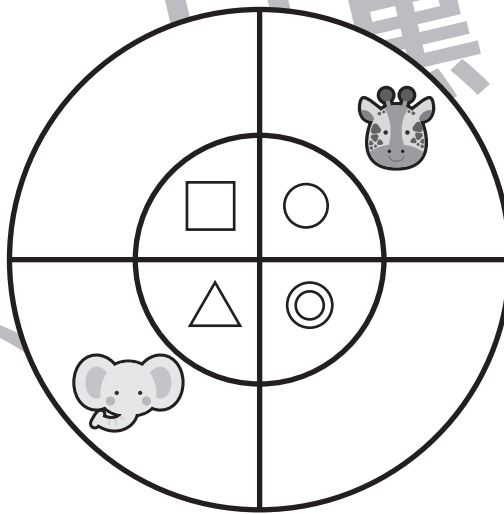
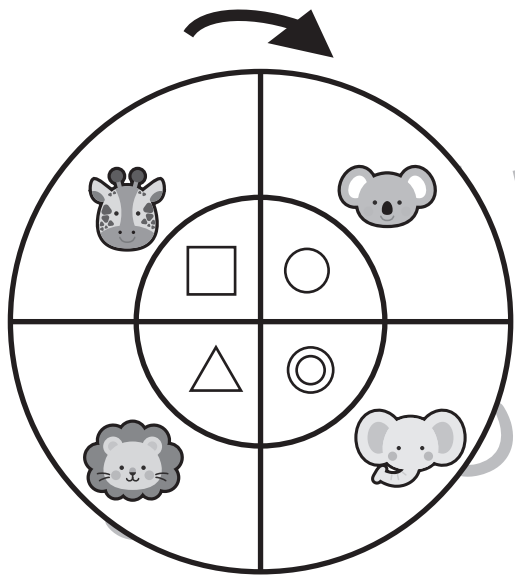

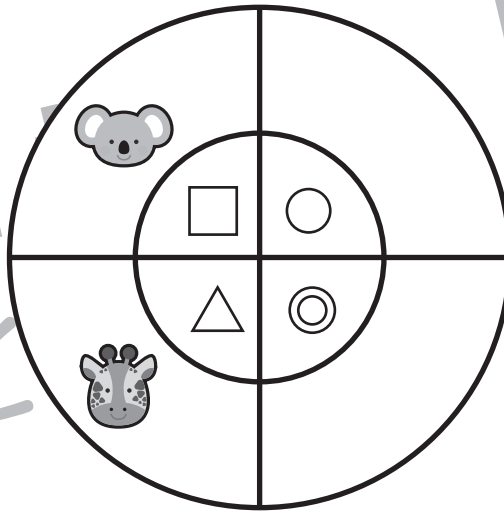



# おうちで、やろう。

Study at home. 小学校受験の家庭学習教材

推理：観覧車 1

大きな丸の中には動物が、その中の小さな丸の中にはマークが描かれています。2匹の動物が矢印の方向に進んだとき、他の動物はどのマークの場所に止まるかを考えて、右の四角の中にマークをかきましょう。



※1. このプリントは、しながわ・目黒こどもスクールのウェブサイトでダウンロードができます。無断複写・引用はご遠慮ください。  
 ※2. このプリントを活用したオンライン授業のスケジュールは、しながわ・目黒こどもスクールのウェブサイトでご確認ください。

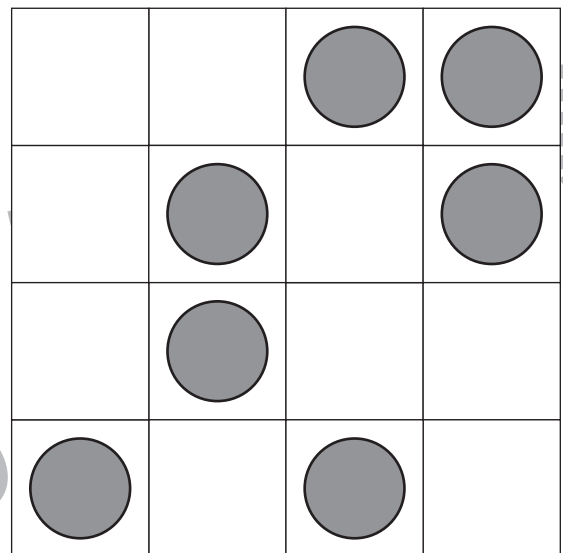
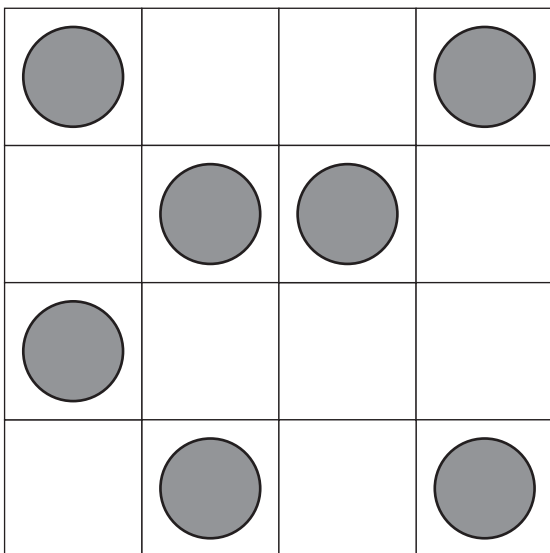
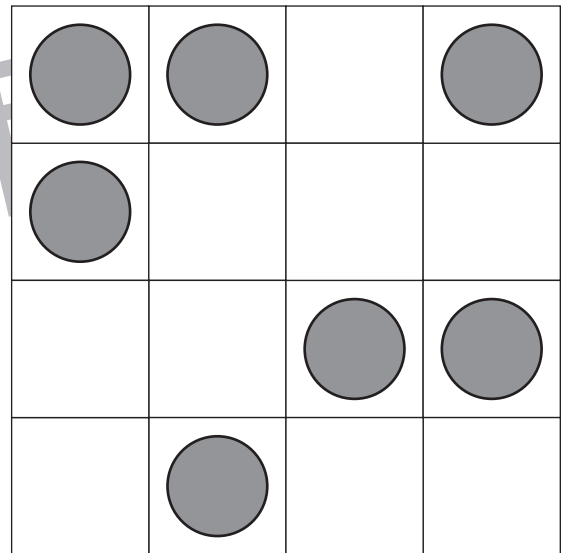
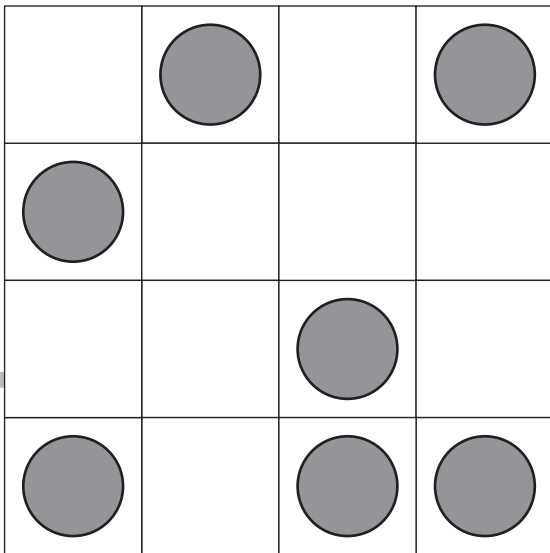
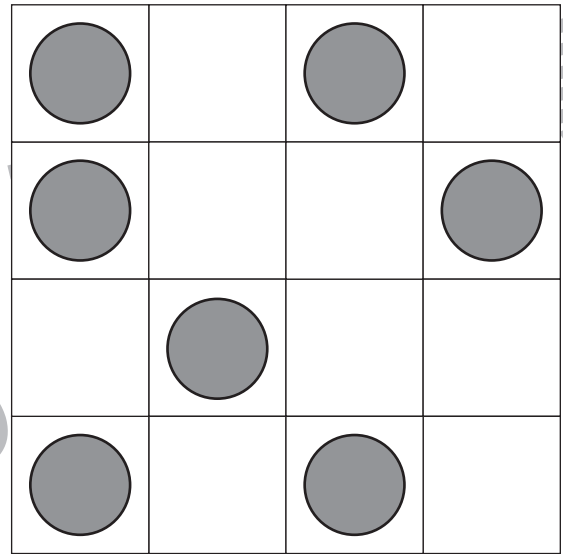
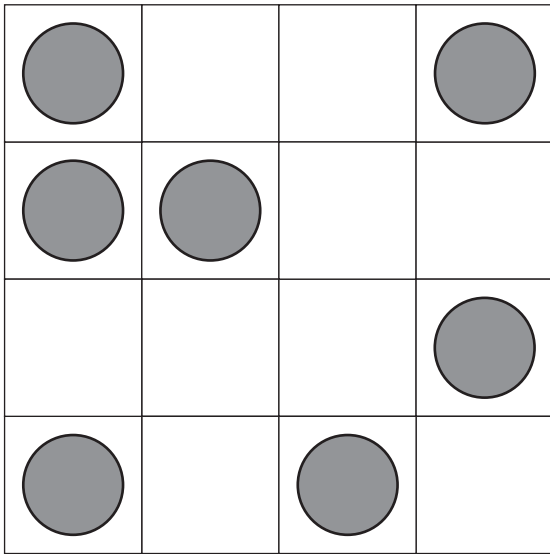


# おうちで、やろう。

Study at home. 小学校受験の家庭学習教材

図形：ビンゴ2

縦、横、斜めのうちどこか1列に○が並ぶように空いているマスにひとつだけ○をかきます。



※1. このプリントは、しながわ・目黒こどもスクールのウェブサイトでダウンロードができます。無断複写・引用はご遠慮ください。  
 ※2. このプリントを活用したオンライン授業のスケジュールは、しながわ・目黒こどもスクールのウェブサイトでご確認ください。

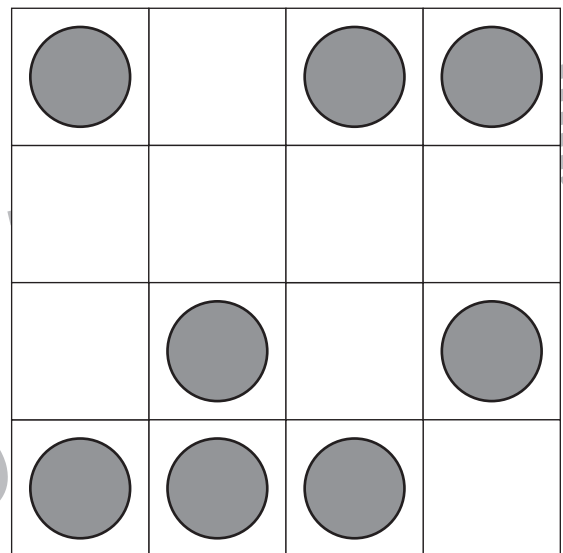
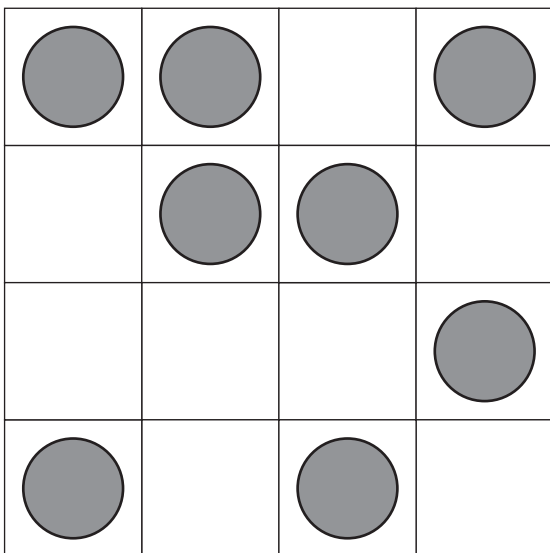
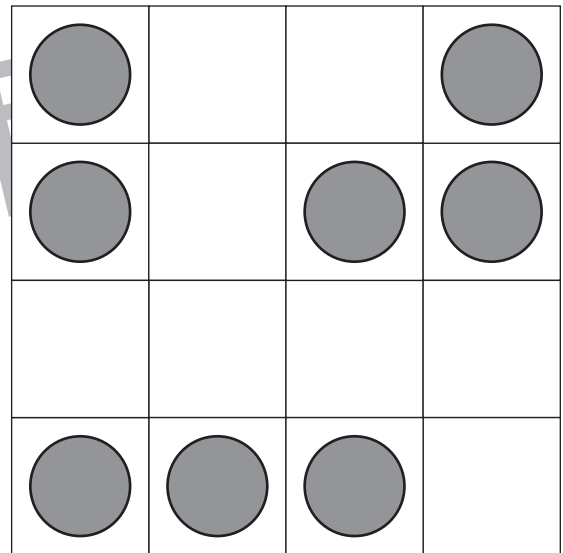
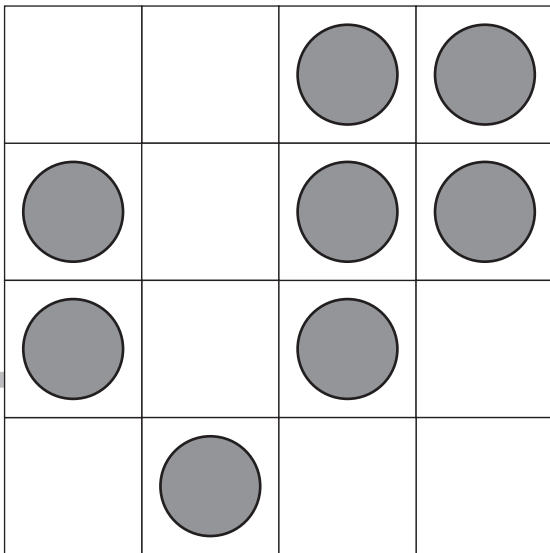
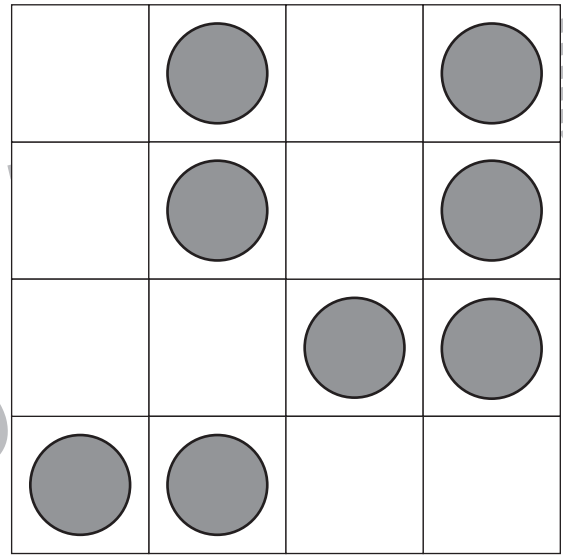
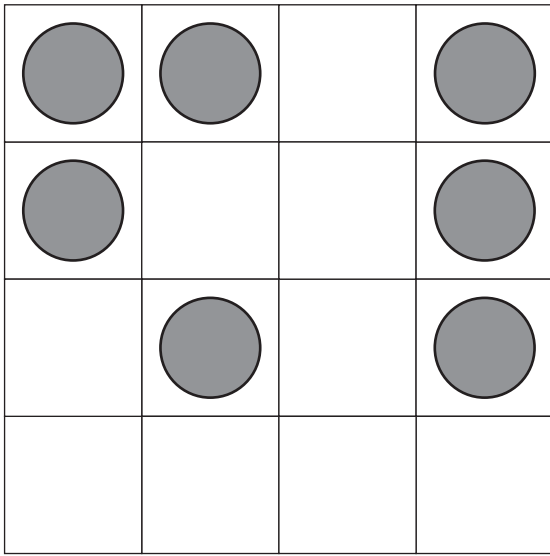


# おうちで、やろう。

Study at home. 小学校受験の家庭学習教材

図形：ビンゴ3

縦、横、斜めのうちどこか2列に○が並ぶように空いているマスに2つ○をかきます。



※1. このプリントは、しながわ・目黒こどもスクールのウェブサイトでダウンロードができます。無断複写・引用はご遠慮ください。  
 ※2. このプリントを活用したオンライン授業のスケジュールは、しながわ・目黒こどもスクールのウェブサイトでご確認ください。






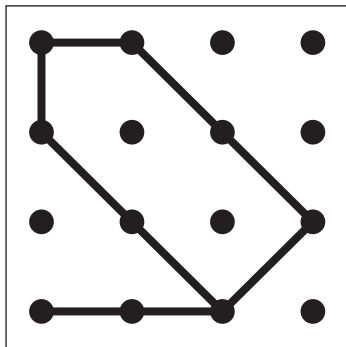
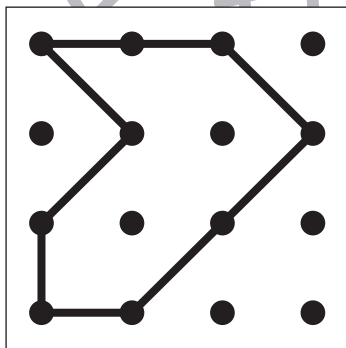
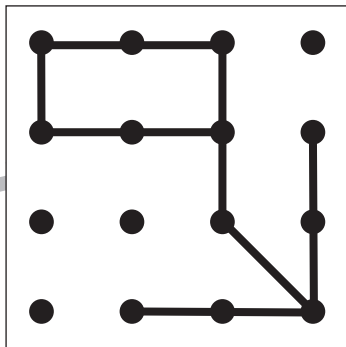
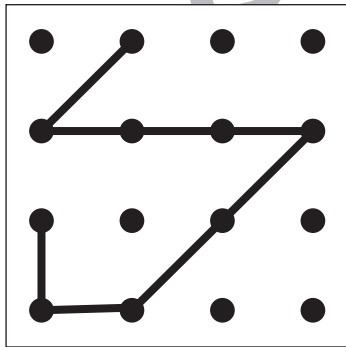
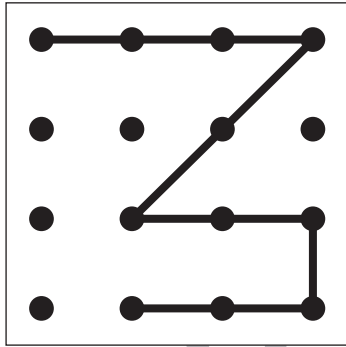


# おうちで、やろう。

Study at home. 小学校受験の家庭学習教材

図形：鏡 19

左の図を黒い線の上に鏡を置いて見た時の見え方を考えて、右の四角にかきます。



黒  
ル

黒  
ル

※1. このプリントは、しながわ・目黒こどもスクールのウェブサイトでダウンロードができます。無断複写・引用はご遠慮ください。  
※2. このプリントを活用したオンライン授業のスケジュールは、しながわ・目黒こどもスクールのウェブサイトでご確認ください。
























# おうちで、やろう。

Study at home. 小学校受験の家庭学習教材

数量：同数 12

左の四角の中の絵と同じ数の星を右の4つの中から見つけて○をつけます。



※1. このプリントは、しながわ・目黒こどもスクールのウェブサイトからダウンロードできます。無断複写・引用はご遠慮ください。

※2. このプリントを活用したオンライン授業のスケジュールは、しながわ・目黒こどもスクールのウェブサイトでご確認ください。






# おうちで、よろう。

Study at home. 小学校受験の家庭学習教材

巧緻性：ちぎり 16

- ①黒い四角の線をハサミで切ります。
- ②黒い太い線の真ん中をちぎります。

目黒



※1. このプリントは、しながわ・目黒こどもスクールのウェブサイトからダウンロードができます。無断複写・引用はご遠慮ください。  
※2. このプリントを活用したオンライン授業のスケジュールは、しながわ・目黒こどもスクールのウェブサイトでご確認ください。

