



おうちで、やろう。

Study at home. 小学校受験の家庭学習教材


指示の聞き取り 24

それぞれの設問に答えましょう。指示は1度ですべて読み上げます。しっかり聞いて取り組みましょう。


- ①左から3番目のイヌに○をつけます。
- ②右から5番目のペンギンに○をつけます。
- ③左から7番目のコアラに○をつけます。
- ④イヌだけかぞえて左から2番目のイヌに○をつけます。

目黒


①




②



③



④



※1. このプリントは、しながわ・目黒こどもスクールのウェブサイトでダウンロードができます。無断複写・引用はご遠慮ください。
※2. このプリントを活用したオンライン授業のスケジュールは、しながわ・目黒こどもスクールのウェブサイトでご確認ください。





おうちで、やろう。





Study at home. 小学校受験の家庭学習教材

四角の中にはそれぞれ絵の音の数と同じ数だけマスがあり、一番上のマスが初めの音です。





①「と」の音が入るマスに○をつけます。

②「り」の音が入るマスに○をつけます。

①

 <div data-bbox="296 728 392 913"> <input type="checkbox"/> <input type="checkbox"/> </div>	 <div data-bbox="635 728 730 1003"> <input type="checkbox"/> <input type="checkbox"/> <input type="checkbox"/> </div>	 <div data-bbox="973 728 1069 1003"> <input type="checkbox"/> <input type="checkbox"/> <input type="checkbox"/> </div>	 <div data-bbox="1311 728 1407 1095"> <input type="checkbox"/> <input type="checkbox"/> <input type="checkbox"/> <input type="checkbox"/> </div>
---	--	--	--

②

 <div data-bbox="296 1579 392 1765"> <input type="checkbox"/> <input type="checkbox"/> </div>	 <div data-bbox="635 1579 730 1765"> <input type="checkbox"/> <input type="checkbox"/> </div>	 <div data-bbox="973 1579 1069 1854"> <input type="checkbox"/> <input type="checkbox"/> <input type="checkbox"/> </div>	 <div data-bbox="1311 1579 1407 1946"> <input type="checkbox"/> <input type="checkbox"/> <input type="checkbox"/> <input type="checkbox"/> </div>
---	---	---	---



おうちで、やろう。





Study at home. 小学校受験の家庭学習教材

四角の中にはそれぞれ絵の音の数と同じ数だけマスがあり、一番上のマスが初めの音です。





①「さ」の音が入るマスに○をつけます。

②「み」の音が入るマスに○をつけます。

①

 <div data-bbox="295 651 392 837"> <input type="checkbox"/> <input type="checkbox"/> </div>	 <div data-bbox="635 651 732 929"> <input type="checkbox"/> <input type="checkbox"/> <input type="checkbox"/> </div>	 <div data-bbox="970 651 1067 1016"> <input type="checkbox"/> <input type="checkbox"/> <input type="checkbox"/> <input type="checkbox"/> </div>	 <div data-bbox="1310 651 1407 1111"> <input type="checkbox"/> <input type="checkbox"/> <input type="checkbox"/> <input type="checkbox"/> <input type="checkbox"/> </div>
---	---	--	--

②

 <div data-bbox="295 1473 392 1659"> <input type="checkbox"/> <input type="checkbox"/> </div>	 <div data-bbox="635 1473 732 1751"> <input type="checkbox"/> <input type="checkbox"/> <input type="checkbox"/> </div>	 <div data-bbox="970 1473 1067 1751"> <input type="checkbox"/> <input type="checkbox"/> <input type="checkbox"/> </div>	 <div data-bbox="1310 1473 1407 1841"> <input type="checkbox"/> <input type="checkbox"/> <input type="checkbox"/> <input type="checkbox"/> </div>
---	---	---	---










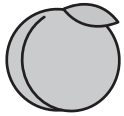












おうちで、やろう。













Study at home. 小学校受験の家庭学習教材

推理：系列完成 15

それぞれの絵と図が、ある順番通りに並んでいます。空いている四角に入る絵と図を、太い枠の中から選んで○をつけます。

※1. このプリントは、しながわ・目黒こどもスクールのウェブサイトからダウンロードできます。無断複写・引用はご遠慮ください。
 ※2. このプリントを活用したオンライン授業のスケジュールは、しながわ・目黒こどもスクールのウェブサイトでご確認ください。



おうちで、やろう。

Study at home. 小学校受験の家庭学習教材

推理：系列完成 16

それぞれの絵と図が、ある順番通りに並んでいます。空いている四角に入る絵と図を、太い枠の中から選んで○をつけます。

↓			↓						

↓			↓						

↓			↓						

※1. このプリントは、しながわ・目黒こどもスクールのウェブサイトからダウンロードできます。無断複写・引用はご遠慮ください。
 ※2. このプリントを活用したオンライン授業のスケジュールは、しながわ・目黒こどもスクールのウェブサイトでご確認ください。

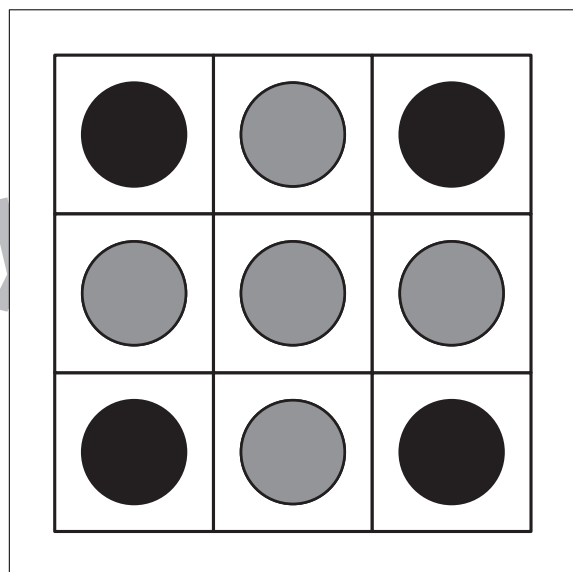
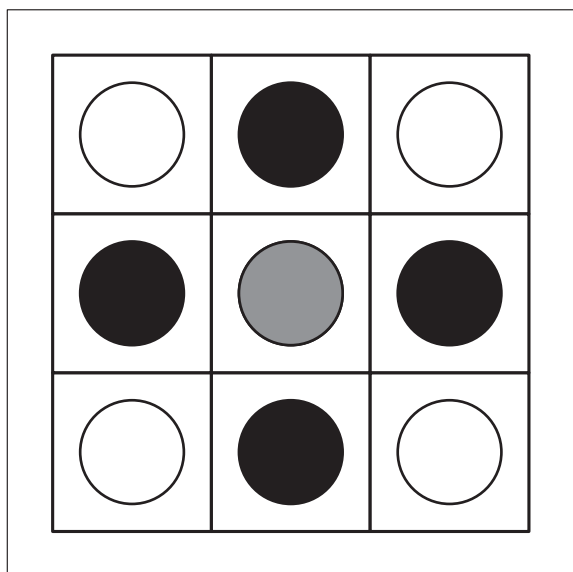
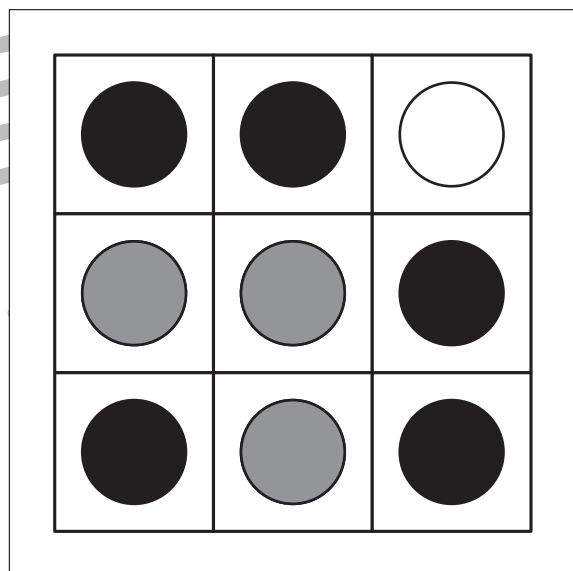
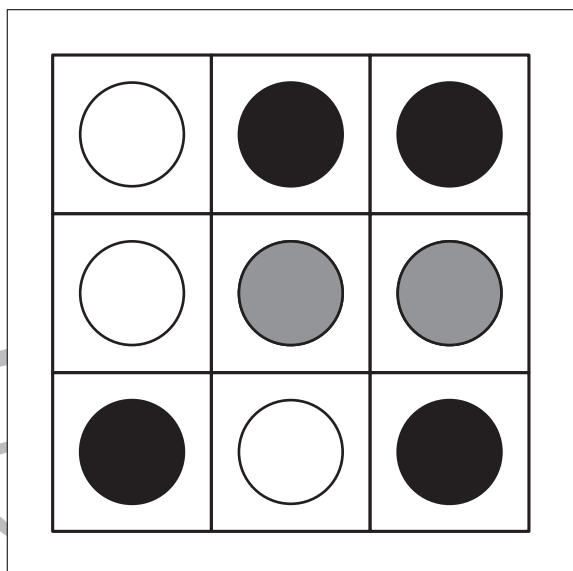
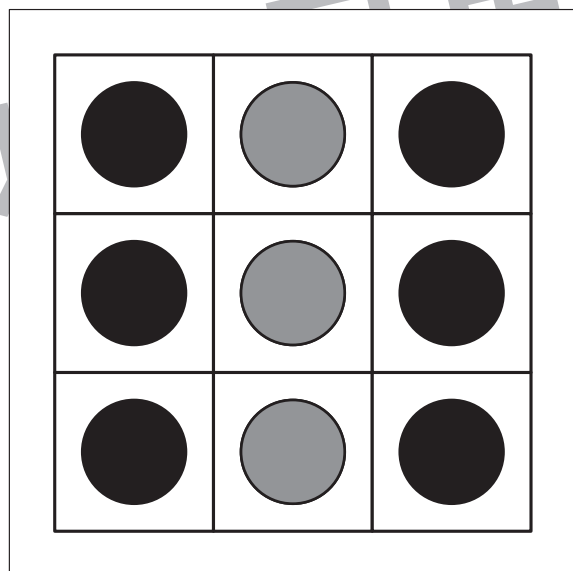
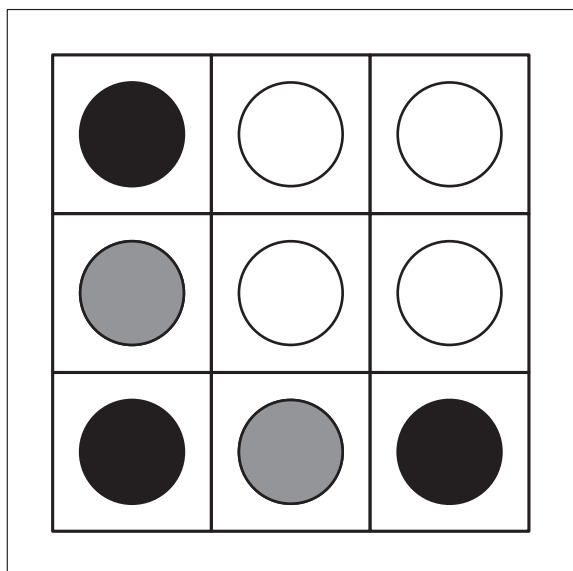


おうちで、よろう。

Study at home. 小学校受験の家庭学習教材

図形：オセロ1

四角の中の●と●で挟まれた○を(たて・よこ・ななめ)すべて塗ります。自分で塗った●で挟まれた箇所は塗らないようにします。



※1. このプリントは、しながわ・目黒こどもスクールのウェブサイトでダウンロードができます。無断複写・引用はご遠慮ください。

※2. このプリントを活用したオンライン授業のスケジュールは、しながわ・目黒こどもスクールのウェブサイトでご確認ください。



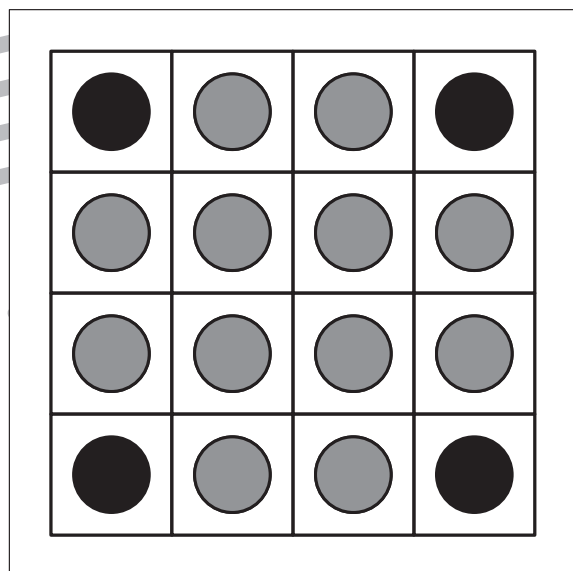
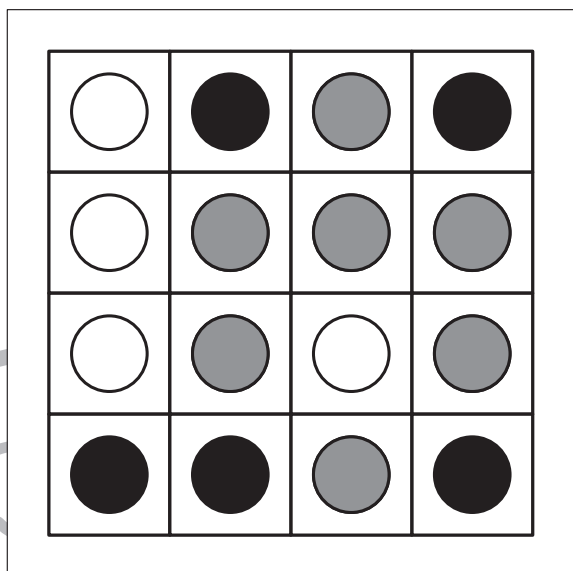

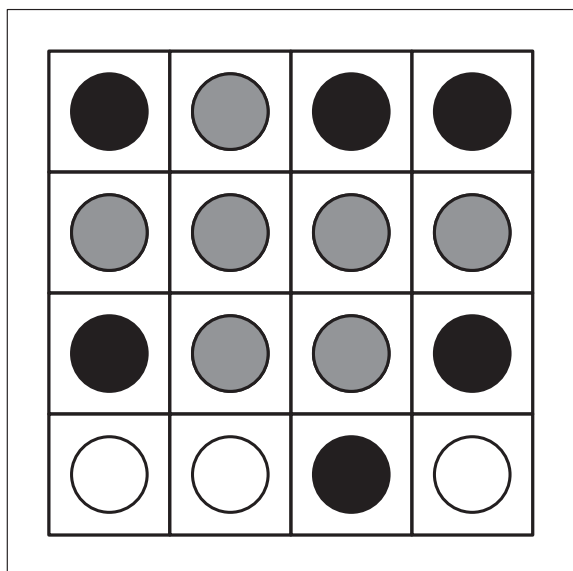


おうちで、やろう。

Study at home. 小学校受験の家庭学習教材

図形：オセロ2

四角の中の●と●で挟まれた○を(たて・よこ・ななめ)すべて塗ります。自分で塗った●で挟まれた箇所は塗らないようにします。



※1. このプリントは、しながわ・目黒こどもスクールのウェブサイトでダウンロードができます。無断複写・引用はご遠慮ください。

※2. このプリントを活用したオンライン授業のスケジュールは、しながわ・目黒こどもスクールのウェブサイトでご確認ください。



おうちで、やろう。

Study at home. 小学校受験の家庭学習教材

数量：分割 10

左の四角の中にあるクッキーを右の四角の中に並んでいるお友だちに分けます。矢印の順番に 1 人に 1 枚ずつ分けたとき、一番最後にもらえる子は誰ですか。その子に○をつけます。

※1. このプリントは、しながわ・目黒こどもスクールのウェブサイトからダウンロードできます。無断複写・引用はご遠慮ください。
 ※2. このプリントを活用したオンライン授業のスケジュールは、しながわ・目黒こどもスクールのウェブサイトでご確認ください。



おうちで、やろう。

Study at home. 小学校受験の家庭学習教材

数量：分割 11

左の四角の中にあるクッキーを右の四角の中に並んでいるお友だちに分けます。矢印の順番に 1 人に 2 枚ずつ分けたとき、一番最後にもらえる子は誰ですか。その子に○をつけます。

10 cookies in a square box. 11 children in a line. Arrow points right. The 4th child from the left has a circle around them.

10 cookies in a square box. 11 children in a line. Arrow points left. The 7th child from the left (3rd from the right) has a circle around them.

15 flowers in a square box. 11 children in a line. Arrow points left. The 4th child from the left has a circle around them.

18 hearts in a square box. 11 children in a line. Arrow points right. The 9th child from the left has a circle around them.

20 stars in a square box. 11 children in a line. Arrow points left. The 2nd child from the left has a circle around them.

※ 1. このプリントは、しながわ・目黒こどもスクールのウェブサイトからダウンロードできます。無断複写・引用はご遠慮ください。
 ※ 2. このプリントを活用したオンライン授業のスケジュールは、しながわ・目黒こどもスクールのウェブサイトでご確認ください。