



# おうちで、やろう。

Study at home. 小学校受験の家庭学習教材



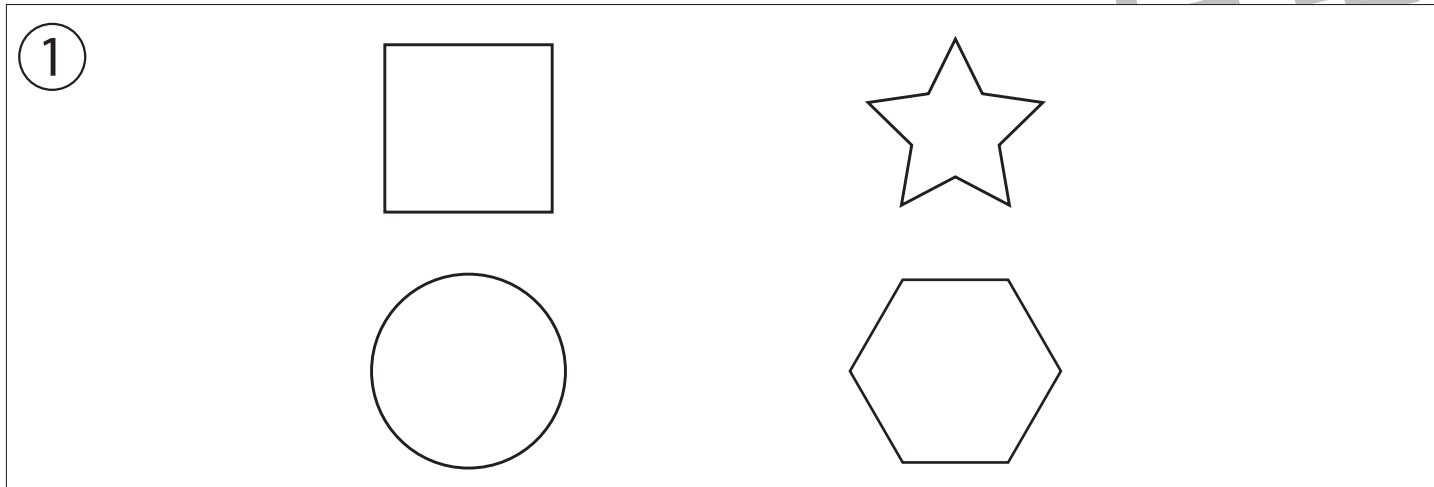
## 指示の聞き取り 26

それぞれのお話通りになるように色を塗ったり、記号をかきます。問題は1度しか読みませんのでしっかり聞きましょう。

①左上の形を赤色のクーピーで塗り、右下の形を紫色のクーピーで塗ります。

②丸を横に2つかき、その間に三角を1つかきます。

③左の灰色の丸から右の黒色の丸まで鉛筆で線をかきます。



※1. このプリントは、しながわ・目黒こどもスクールのウェブサイトダウンロードができます。無断複写・引用はご遠慮ください。

※2. このプリントを活用したオンライン授業のスケジュールは、しながわ・目黒こどもスクールのウェブサイトでご確認ください。




# おうちで、やろう。

Study at home. 小学校受験の家庭学習教材



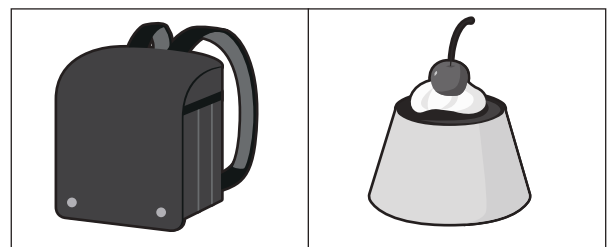



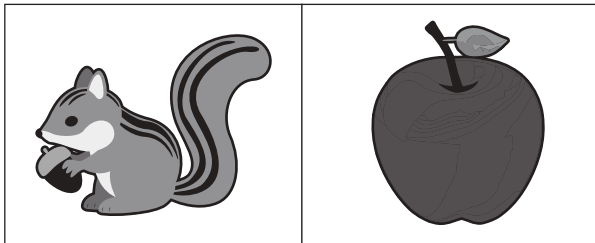

言語：しりとり 19

一番上の段から一番下の段まで、しりとりでつながるものを選び、○をつけます。

①



②



※1. このプリントは、しながわ・目黒こどもスクールのウェブサイトでダウンロードができます。無断複写・引用はご遠慮ください。

※2. このプリントを活用したオンライン授業のスケジュールは、しながわ・目黒こどもスクールのウェブサイトでご確認ください。



# おうちで、やろう。

Study at home. 小学校受験の家庭学習教材

## 図形：重ね 24

透明な板が 2 枚あります。左の 2 枚の板を重ねた時の見え方を考え、右の太い四角の中から同じ形を見つけて、点と点を線で結びます。


※1. このプリントは、しながわ・目黒こどもスクールのウェブサイトでダウンロードができます。無断複写・引用はご遠慮ください。  
 ※2. このプリントを活用したオンライン授業のスケジュールは、しながわ・目黒こどもスクールのウェブサイトでご確認ください。

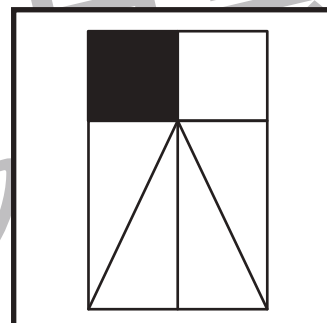
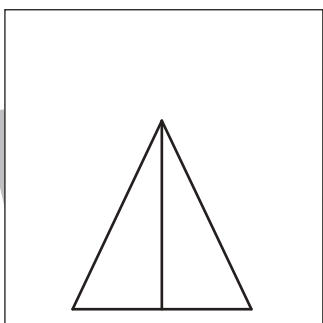
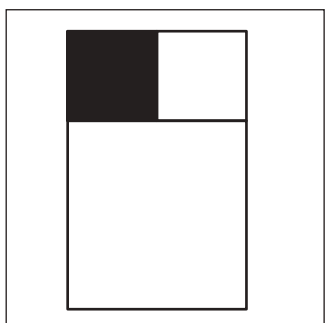
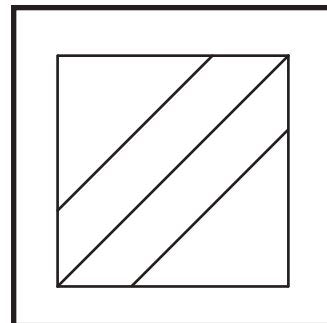


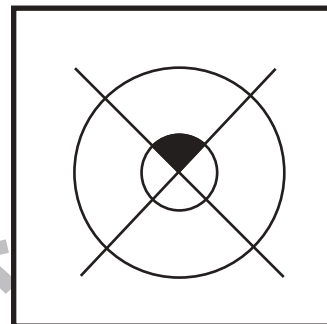


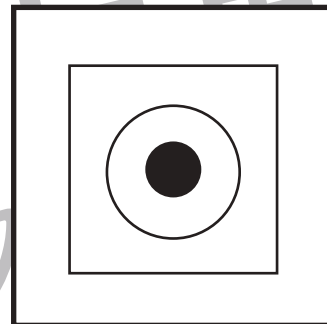
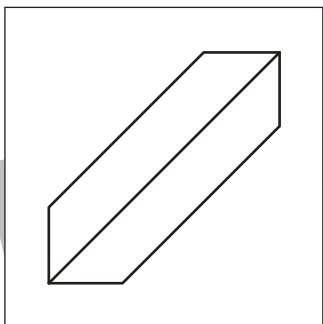



# おうちで、やろう。

Study at home. 小学校受験の家庭学習教材

図形：重ね 25

透明な板が2枚あります。左の2枚の板を重ねた時の見え方を考え、右の太い四角の中から同じ形を見つけて、点と点を線で結びます。



※1. このプリントは、しながわ・目黒こどもスクールのウェブサイトでダウンロードができます。無断複写・引用はご遠慮ください。  
※2. このプリントを活用したオンライン授業のスケジュールは、しながわ・目黒こどもスクールのウェブサイトでご確認ください。







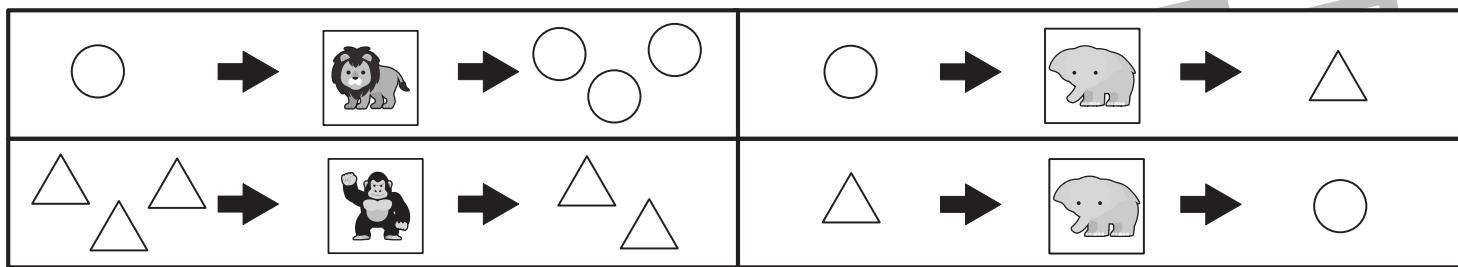


# おうちで、やろう。

Study at home. 小学校受験の家庭学習教材

## 推理：ブラックボックス 10

上の太い四角の中が約束です。ライオンの絵の箱の中に○や△を入れると2つ増えて出てきます。ゴリラの絵の箱の中にや○を入れると1つ減って出てきます。ゾウの絵の箱の中に白い○を入れると△に、△を入れると○に形が変わって出てきます。このお約束の通りに左にある形を矢印の順番に箱の中に入れていきます。最後に出てきた形を考えて右の四角から選び○をつけます。



※1. このプリントは、しながわ・目黒こどもスクールのウェブサイトでダウンロードができます。無断複写・引用はご遠慮ください。  
 ※2. このプリントを活用したオンライン授業のスケジュールは、しながわ・目黒こどもスクールのウェブサイトでご確認ください。





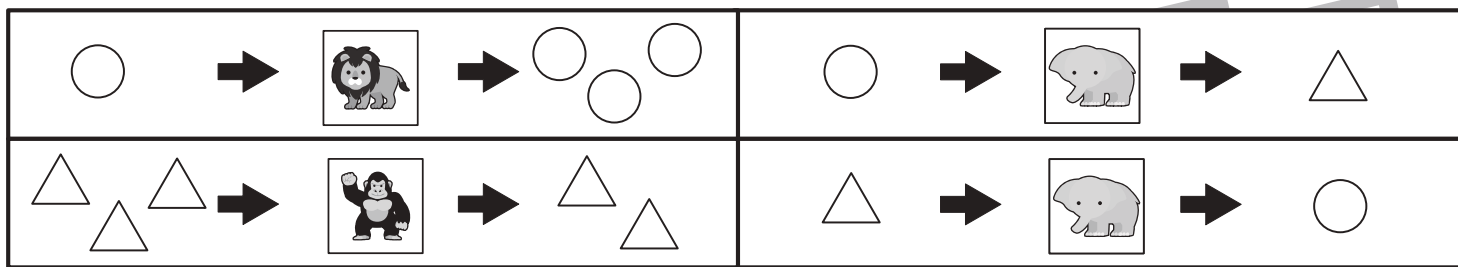


# おうちで、よろう。

Study at home. 小学校受験の家庭学習教材

## 推理：ブラックボックス 11

上の太い四角の中が約束です。ライオンの絵の箱の中に○や△を入れると2つ増えて出てきます。ゴリラの絵の箱の中にや○を△入れると1つ減って出てきます。ゾウの絵の箱の中に白い○を入れると△に、△を入れると○に形が変わって出てきます。このお約束の通りに左にある形を矢印の順番に箱の中に入れていきます。最後に出てきた形を考えて右の四角から選び○をつけます。



※1. このプリントは、しながわ・目黒こどもスクールのウェブサイトからダウンロードできます。無断複写・引用はご遠慮ください。  
 ※2. このプリントを活用したオンライン授業のスケジュールは、しながわ・目黒こどもスクールのウェブサイトでご確認ください。










# おうちで、やろう。

Study at home. 小学校受験の家庭学習教材

推理：影 6

左の四角の中には動物が影になって重なっています。影になっていない動物を右の四角の中から見つけて○をつけます。



※1. このプリントは、しながわ・目黒こどもスクールのウェブサイトでダウンロードができます。無断複写・引用はご遠慮ください。  
※2. このプリントを活用したオンライン授業のスケジュールは、しながわ・目黒こどもスクールのウェブサイトでご確認ください。



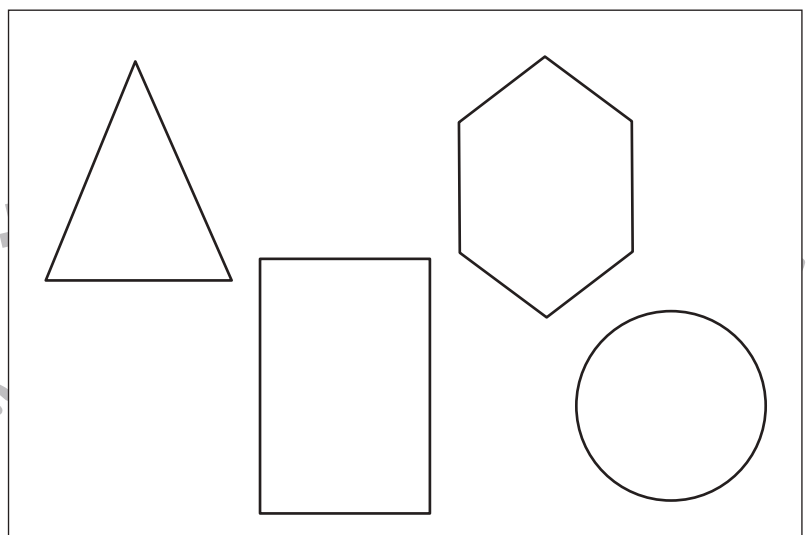
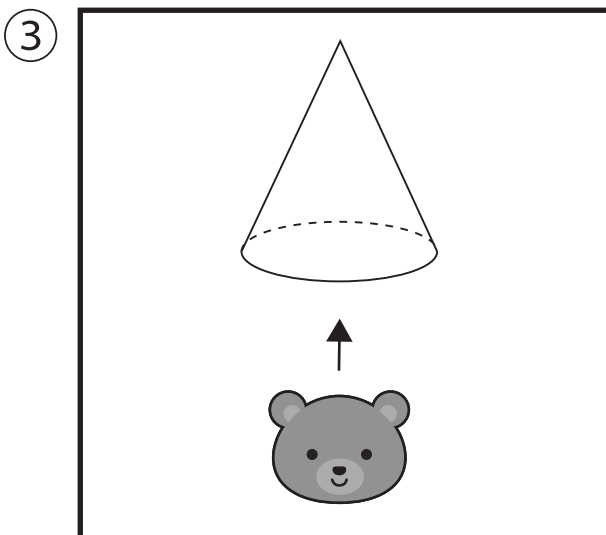

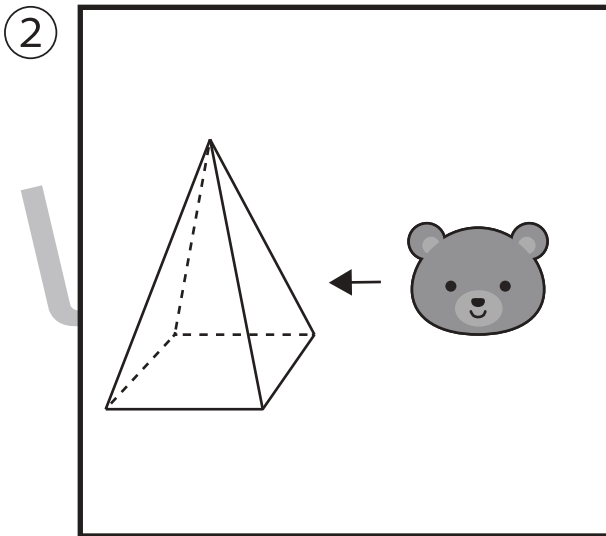
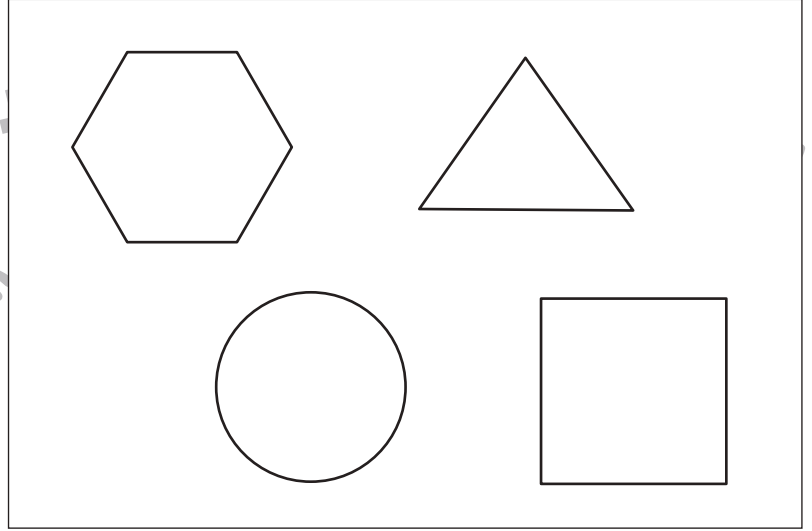
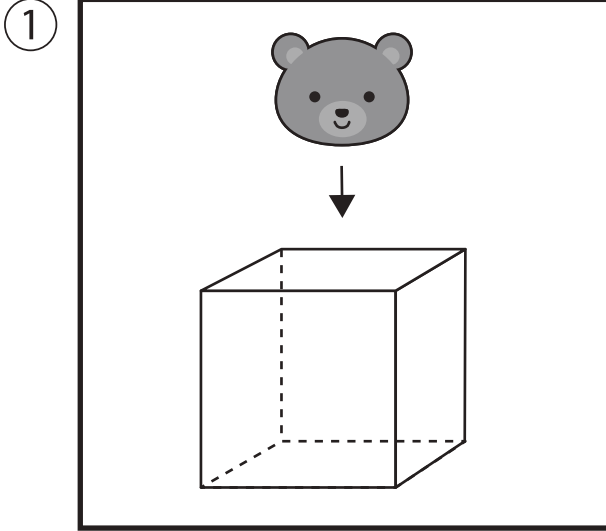


# おうちで、やろう。

Study at home. 小学校受験の家庭学習教材

クマが太い四角の中の形を見ている。矢印の向きからその形を見た時、どのように見えるか。  
正しい形を右の四角の中から選び、○をつけます。

- ①クマは上から形を見ている。
- ②クマは右から形を見ている。
- ③クマは下から形を見ている。



※1. このプリントは、しながわ・目黒こどもスクールのウェブサイトでダウンロードができます。無断複写・引用はご遠慮ください。  
 ※2. このプリントを活用したオンライン授業のスケジュールは、しながわ・目黒こどもスクールのウェブサイトでご確認ください。






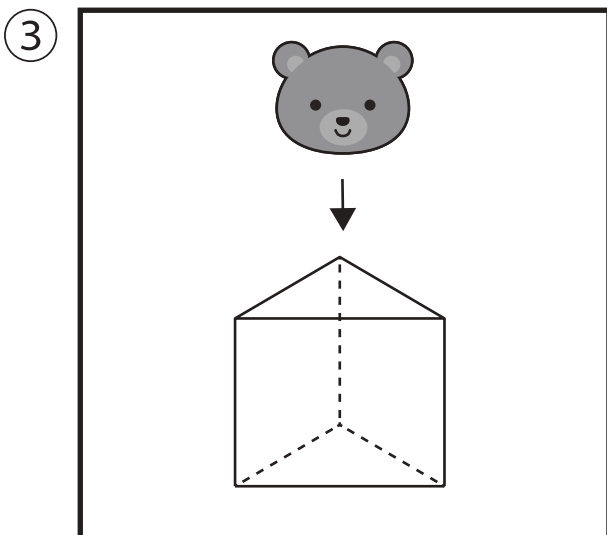
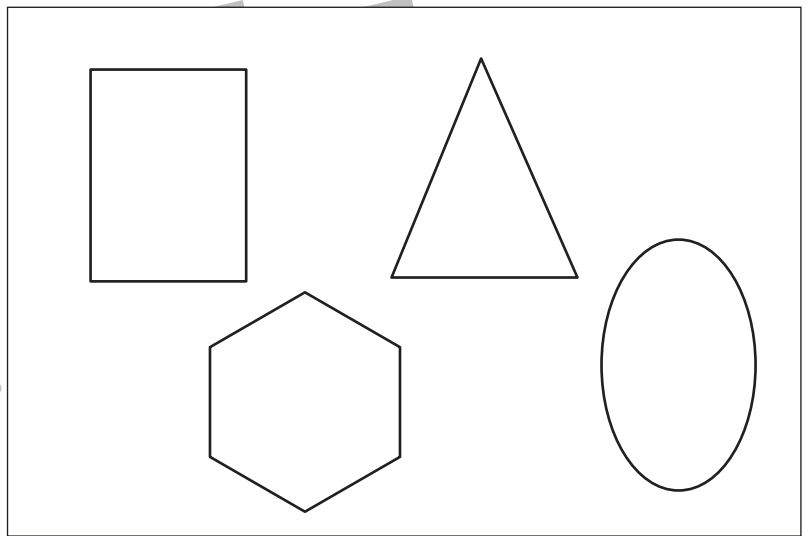
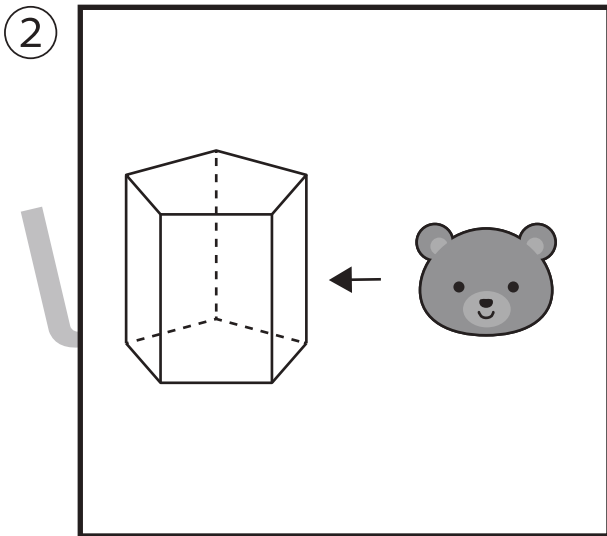
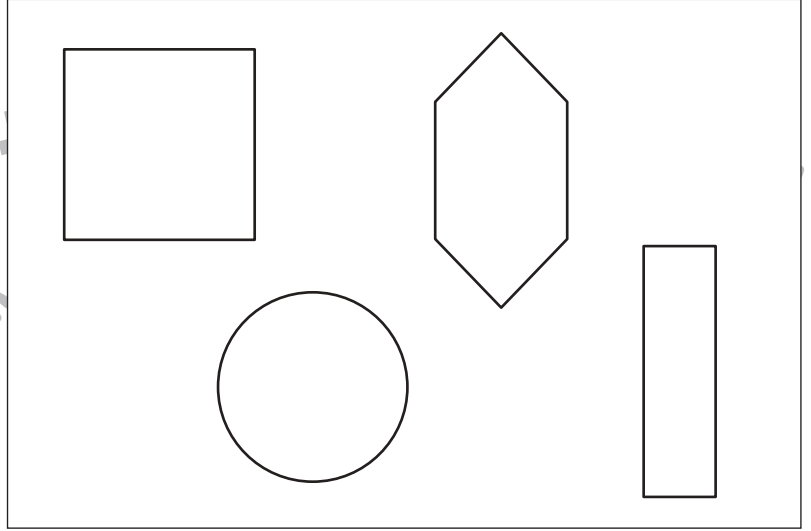

# おうちで、やろう。

Study at home. 小学校受験の家庭学習教材

推理：四方観察12

クマが太い四角の中の形を見ている。矢印の向きからその形を見た時、どのように見えますか。  
正しい形を右の四角の中から選び、○をつけます。

- ①クマは下から形を見ている。
- ②クマは横から形を見ている。
- ③クマは上から形を見ている。



※1. このプリントは、しながわ・目黒こどもスクールのウェブサイトでダウンロードができます。無断複写・引用はご遠慮ください。  
 ※2. このプリントを活用したオンライン授業のスケジュールは、しながわ・目黒こどもスクールのウェブサイトでご確認ください。



# おうちで、やろう。

Study at home. 小学校受験の家庭学習教材

## 図形：点図形 22

左のお手本と同じになるように右の点と点を結びます。 ※このプリントに解答はありません。


※1. このプリントは、しながわ・目黒こどもスクールのウェブサイトでダウンロードができます。無断複写・引用はご遠慮ください。  
 ※2. このプリントを活用したオンライン授業のスケジュールは、しながわ・目黒こどもスクールのウェブサイトでご確認ください。