




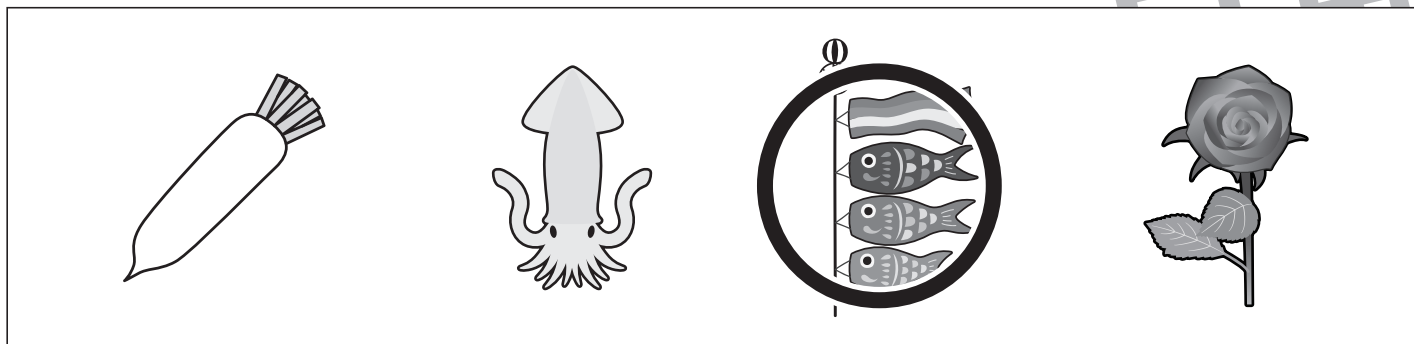


おうちで、やろう。

Study at home. 小学校受験の家庭学習教材

言語：音の数 28

四角の中の絵を見て考えます。4つの中で一番音の数が多い絵に○をつけます。



※1. このプリントは、しながわ・目黒こどもスクールのウェブサイトからダウンロードできます。無断複写・引用はご遠慮ください。

※2. このプリントを活用したオンライン授業のスケジュールは、しながわ・目黒こどもスクールのウェブサイトでご確認ください。



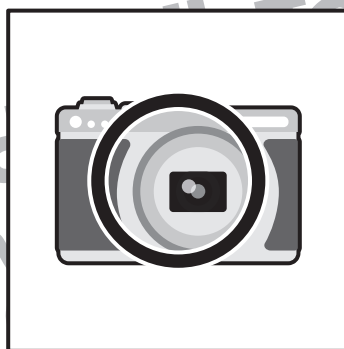




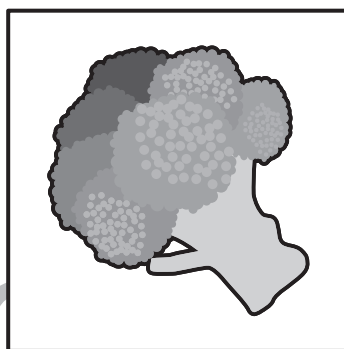





おうちで、やろう。

Study at home. 小学校受験の家庭学習教材

言語：音の数 29

- ①音の数が3になるものに○をつけます。
- ②音の数が4になるものに△をつけます。
- ③音の数が5になるものに×をつけます。



※1. このプリントは、しながわ・目黒こどもスクールのウェブサイトでダウンロードができます。無断複写・引用はご遠慮ください。
 ※2. このプリントを活用したオンライン授業のスケジュールは、しながわ・目黒こどもスクールのウェブサイトでご確認ください。









おうちで、やろう。

Study at home. 小学校受験の家庭学習教材

常識：季節 15

太い四角の中にある花が咲く季節を、右の四角の中から選び○をつけます。



※1. このプリントは、しながわ・目黒こどもスクールのウェブサイトでダウンロードができます。無断複写・引用はご遠慮ください。
※2. このプリントを活用したオンライン授業のスケジュールは、しながわ・目黒こどもスクールのウェブサイトでご確認ください。



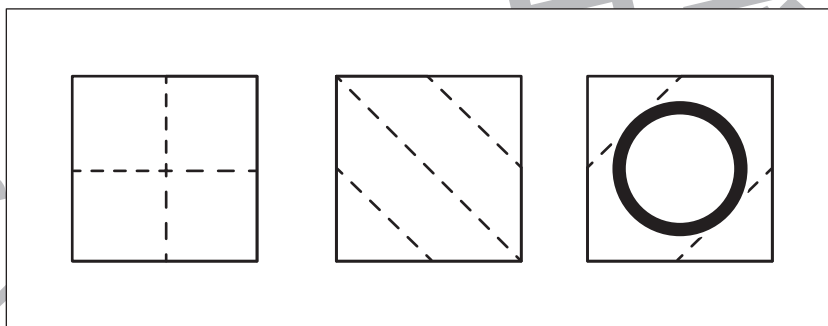
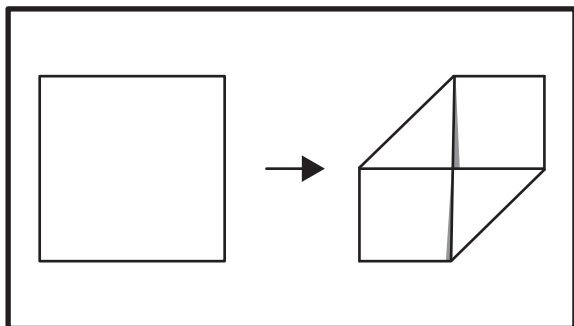
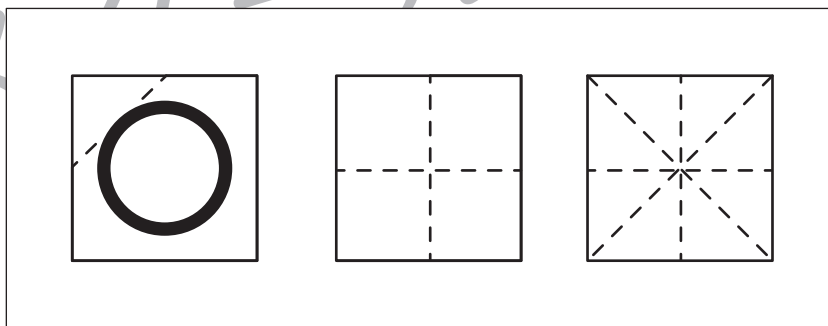
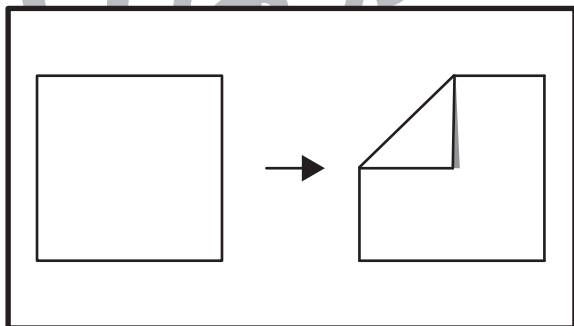
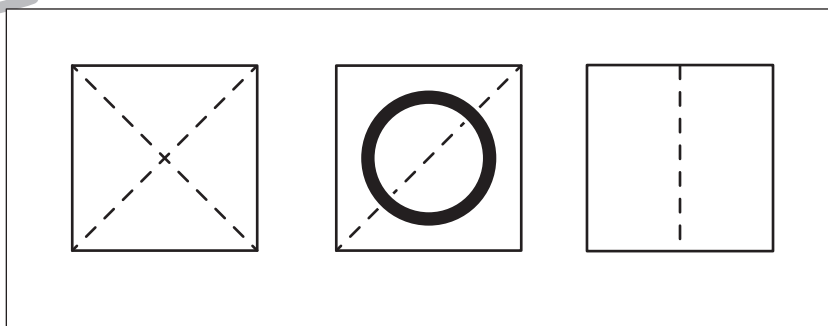
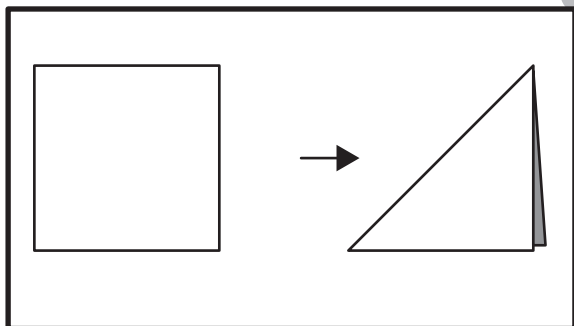
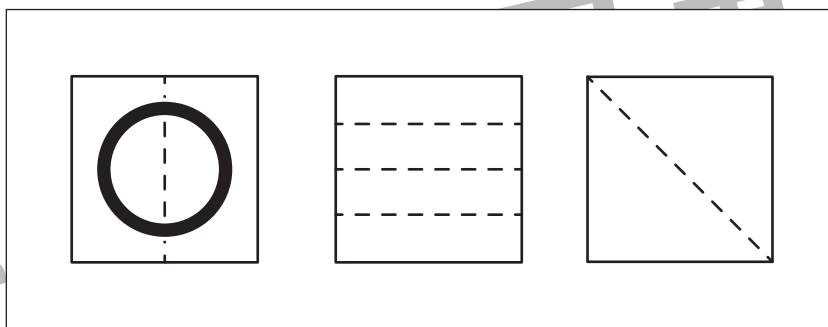
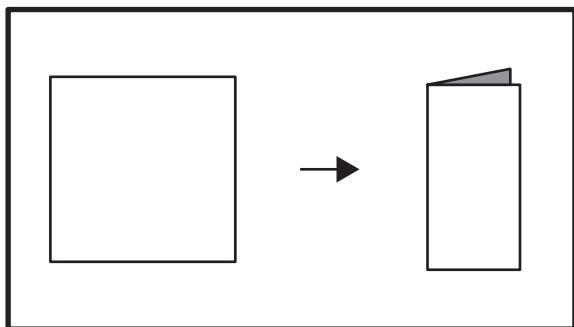


おうちで、やろう。

Study at home. 小学校受験の家庭学習教材

図形：折り紙1

太いの中にある折り紙を、矢印のとおりに折りました。折り紙を開いたときに折り線はどうなっているかを考え、正しいものを選び○をつけます。



※1. このプリントは、しながわ・目黒こどもスクールのウェブサイトからダウンロードができます。無断複写・引用はご遠慮ください。
※2. このプリントを活用したオンライン授業のスケジュールは、しながわ・目黒こどもスクールのウェブサイトでご確認ください。



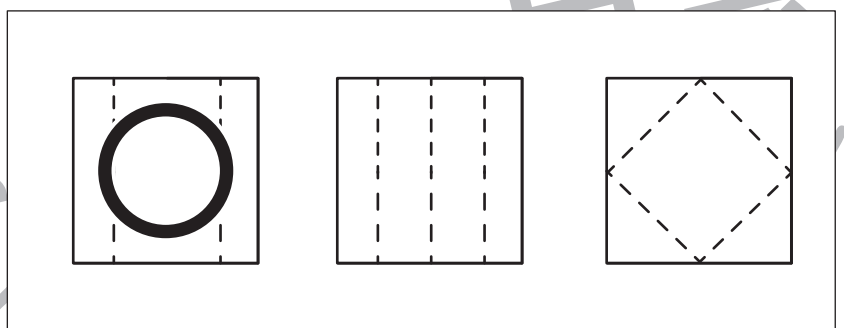
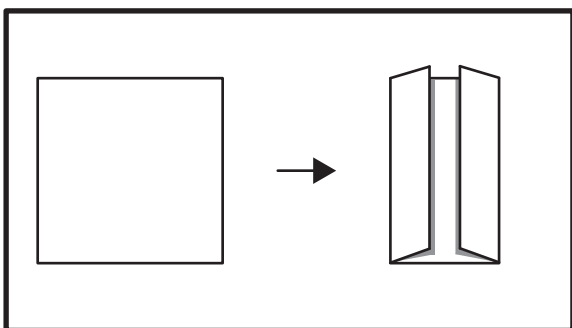
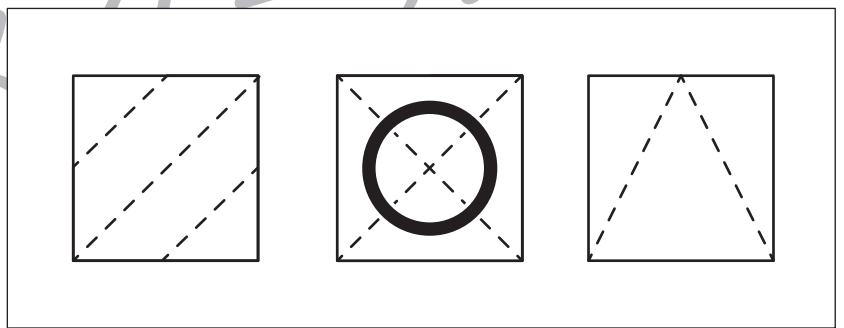
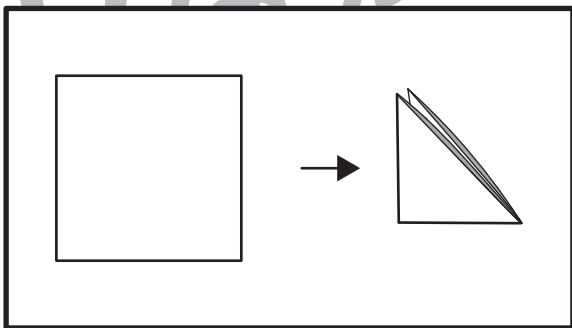
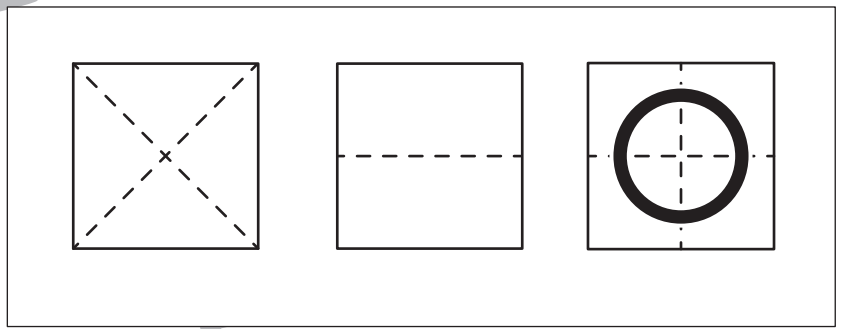
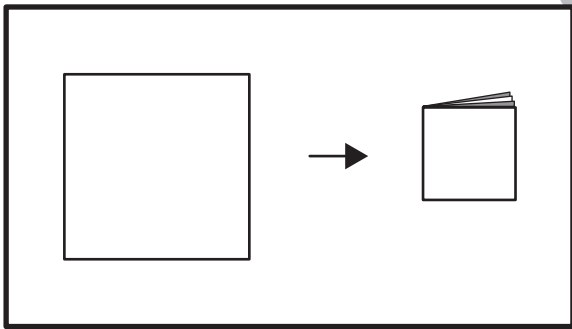
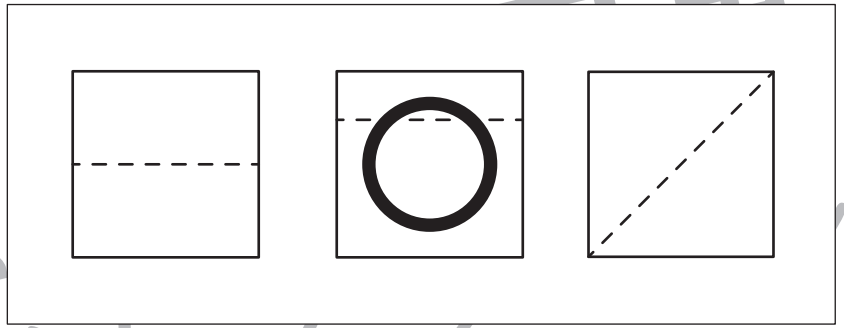
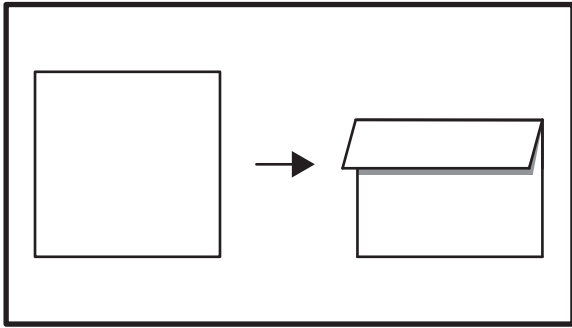


おうちで、やろう。

Study at home. 小学校受験の家庭学習教材

図形：折り紙 2

太い四角の中にある折り紙を、矢印のとおりに折りました。折り紙を開いたときに折り線はどうなっているかを考え、正しいものを選び○をつけます。



※1. このプリントは、しながわ・目黒こどもスクールのウェブサイトでダウンロードができます。無断複写・引用はご遠慮ください。
※2. このプリントを活用したオンライン授業のスケジュールは、しながわ・目黒こどもスクールのウェブサイトでご確認ください。



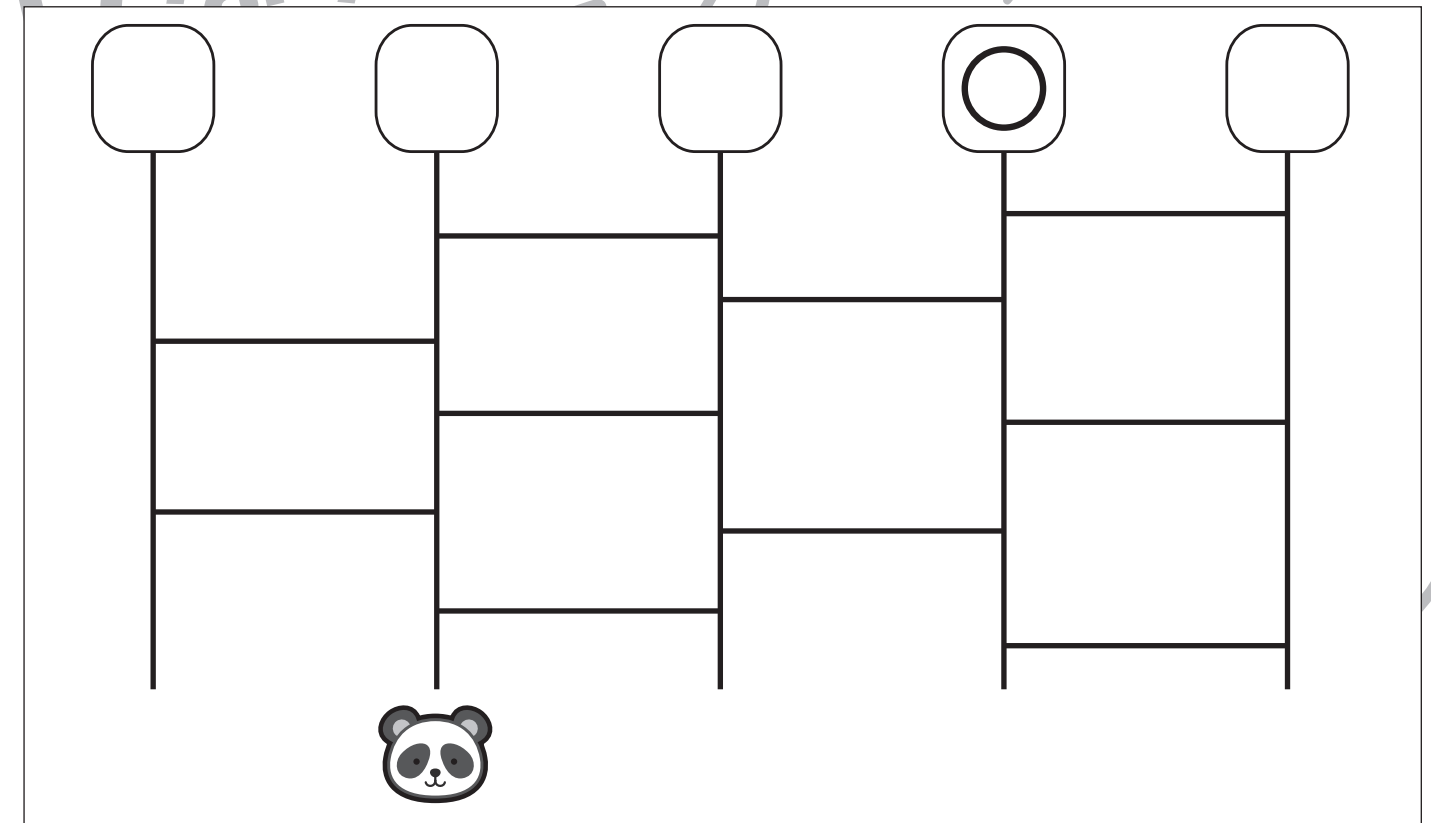
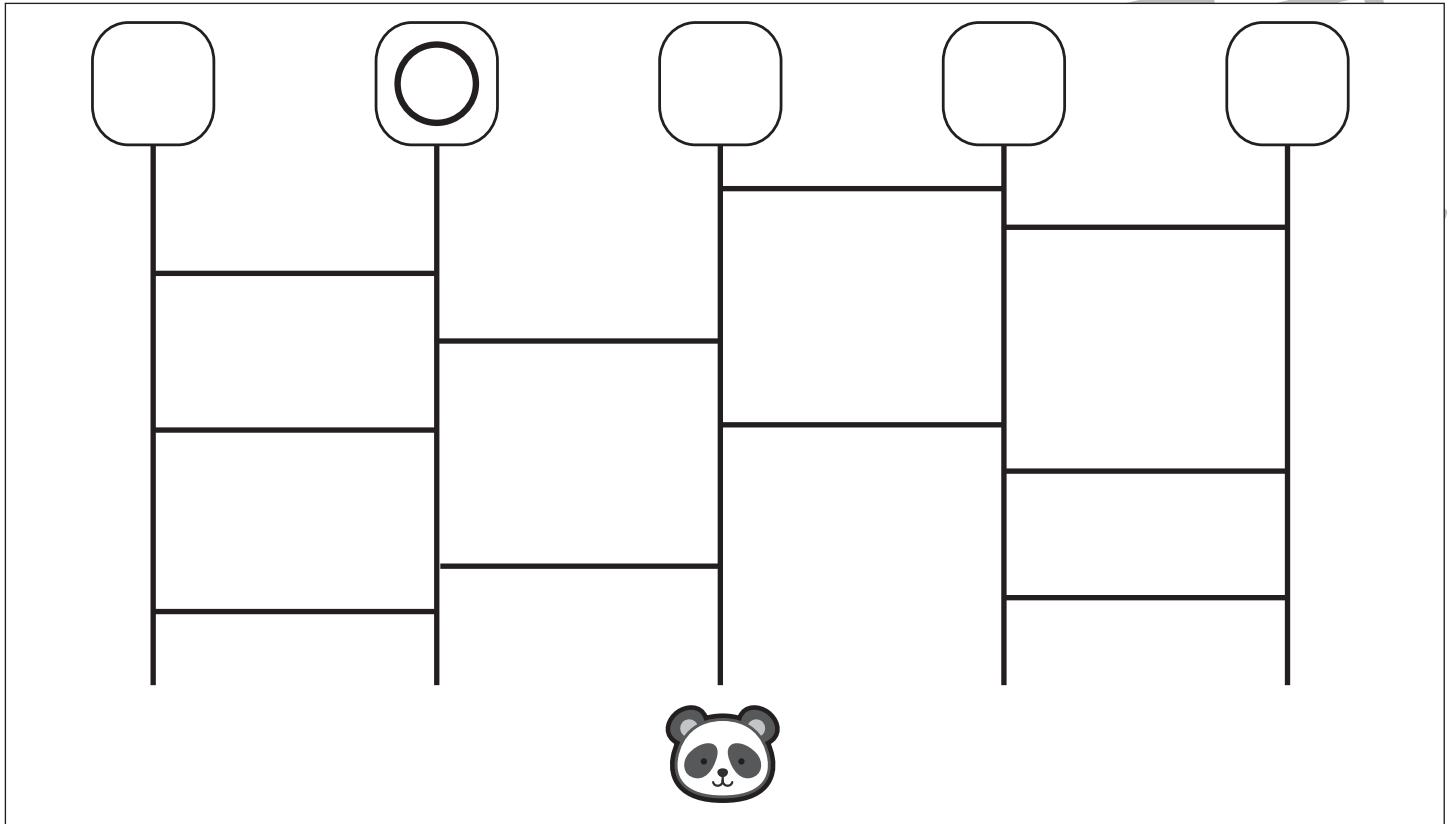
おうちで、やろう。

Study at home. 小学校受験の家庭学習教材

推理：あみだくじ7

パンダは上の四角スタートをして、あみだくじを進みパンダのいる場所につきました。どの四角からスタートしたのかを考えて、その四角の中に○をかきます。

※あみだくじのルール：①上から下へ進みます。道は戻ってはいけません。②途中で曲がり角があったら必ず曲がります。



※1. このプリントは、しながわ・目黒こどもスクールのウェブサイトでダウンロードができます。無断複写・引用はご遠慮ください。
※2. このプリントを活用したオンライン授業のスケジュールは、しながわ・目黒こどもスクールのウェブサイトでご確認ください。



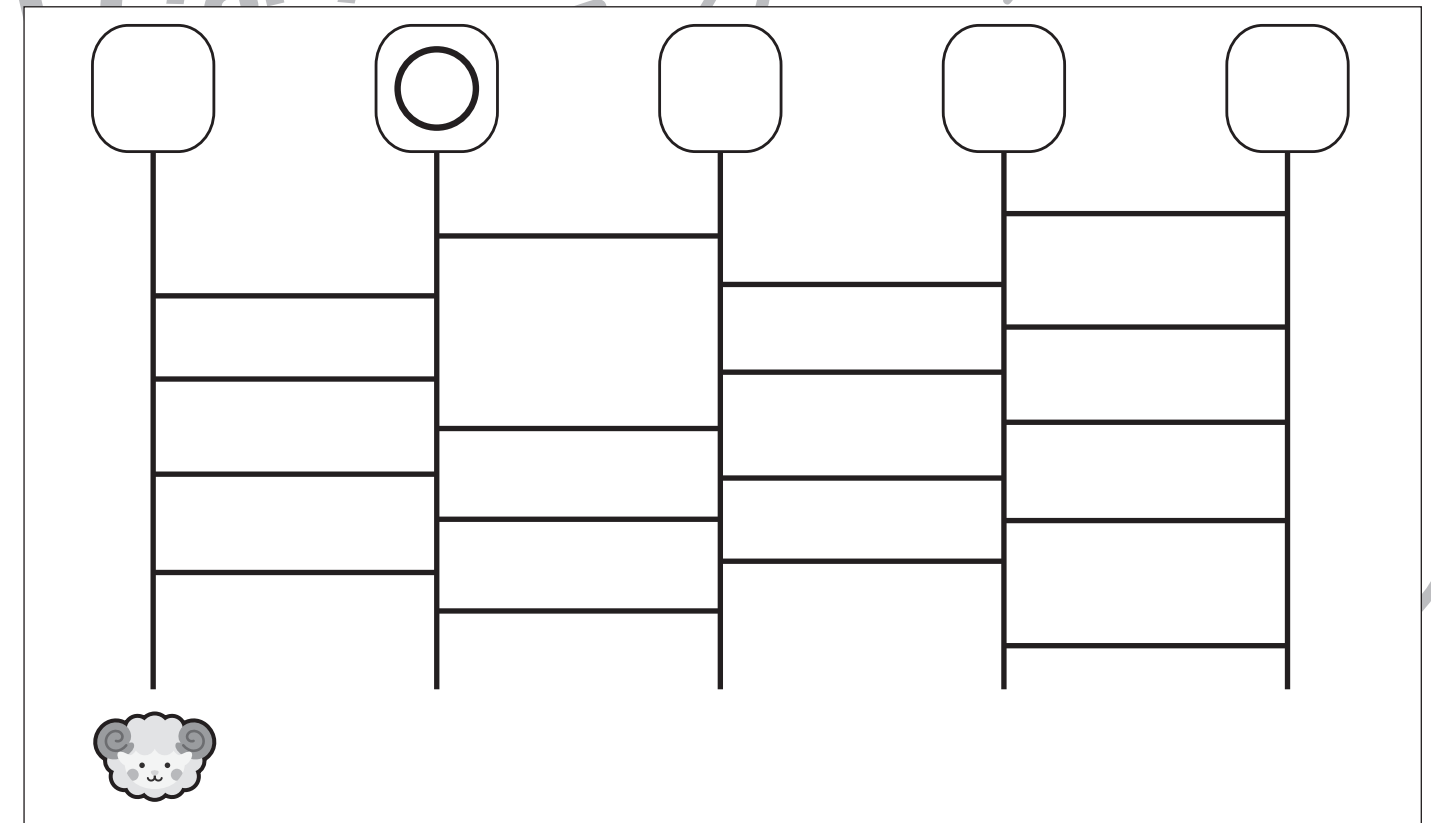
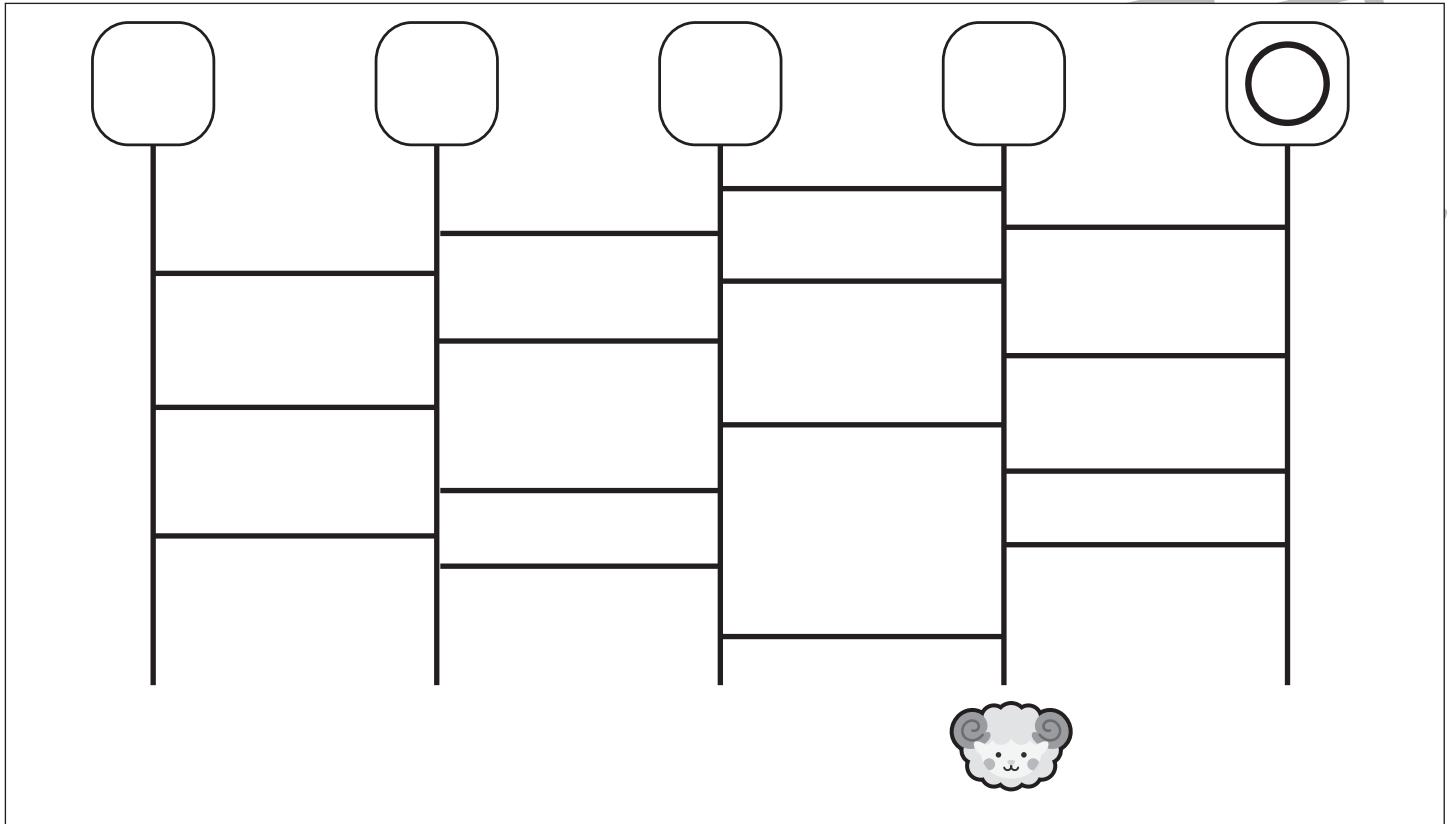
おうちで、やろう。

Study at home. 小学校受験の家庭学習教材

推理：あみだくじ 8

ヒツジが上の四角スタートをして、あみだくじを進みヒツジのいる場所につきました。どの四角からスタートしたのかを考えて、その四角の中に○をかきます。

※あみだくじのルール：①上から下へ進みます。道は戻ってはいけません。②途中で曲がり角があったら必ず曲がります。



※1. このプリントは、しながわ・目黒こどもスクールのウェブサイトでダウンロードができます。無断複写・引用はご遠慮ください。
※2. このプリントを活用したオンライン授業のスケジュールは、しながわ・目黒こどもスクールのウェブサイトでご確認ください。



おうちで、やろう。

Study at home. 小学校受験の家庭学習教材

推理：条件推理 9


上の太い四角が約束です。動物は 1 回で × の数だけマスを進めます。
この約束で星まで進むには何回進めばよいかを考えて、その数だけ下の四角に○をかきます。

	× ×
---	-----


											
---	--	--	--	--	--	--	--	--	--	--	---






○ × 5

											
--	--	--	--	--	--	--	--	--	--	--	--



											
--	--	--	--	--	--	--	--	--	--	---	--

○ × 7

○ × 9

※ 1. このプリントは、しながわ・目黒こどもスクールのウェブサイトでダウンロードができます。無断複写・引用はご遠慮ください。
 ※ 2. このプリントを活用したオンライン授業のスケジュールは、しながわ・目黒こどもスクールのウェブサイトでご確認ください。



おうちで、やろう。

Study at home. 小学校受験の家庭学習教材

推理：条件推理 10

上の太い四角が約束です。動物は 1 回で × の数だけマスを進めます。
この約束で星まで進むには何回進めばよいかを考えて、その数だけ下の四角に○をかきます。

	× × ×
--	-------

--	--	--	--	--	--	--	--	--	--	--	--



○ × 3

--	--	--	--	--	--	--	--	--	--	--	--



--	--	--	--	--	--	--	--	--	--	--	--

○ × 6



○ × 7

※ 1. このプリントは、しながわ・目黒こどもスクールのウェブサイトでダウンロードができます。無断複写・引用はご遠慮ください。
※ 2. このプリントを活用したオンライン授業のスケジュールは、しながわ・目黒こどもスクールのウェブサイトでご確認ください。