



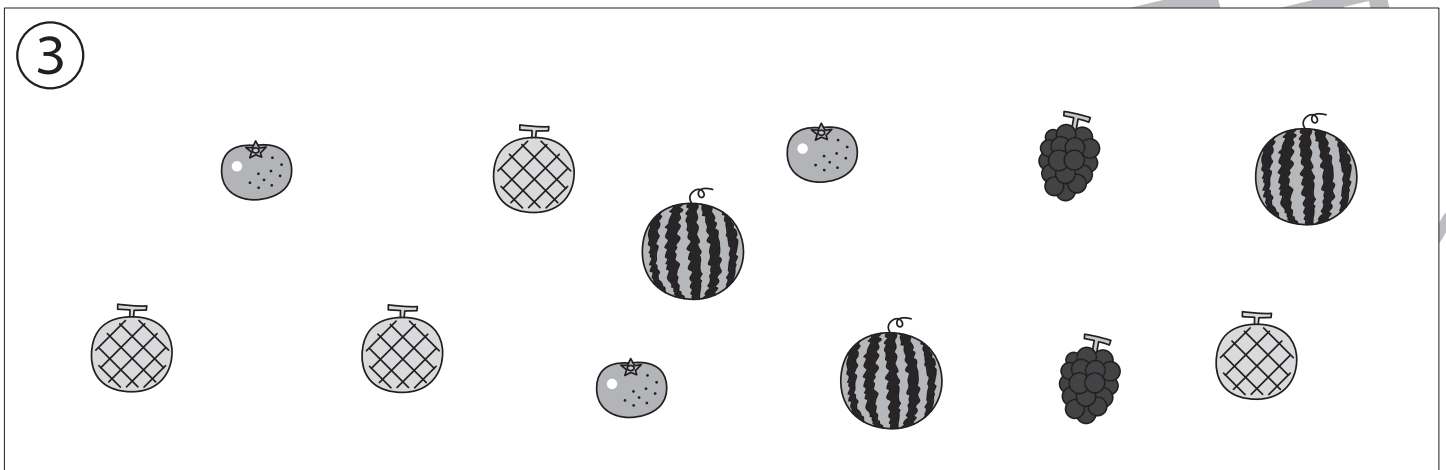


おうちで、やろう。

Study at home. 小学校受験の家庭学習教材

記憶：絵の記憶 19 記憶用紙

別紙『記憶 - 絵の記憶 19』を行う際に使用します。記憶用紙は点線で折って(切って)、①、②、③の問題の際にそれぞれ 20 秒間ずつ記憶させてください。記憶する際は問題用紙は裏返しにします。記憶後①、②、③それぞれの問題に答えましょう。

- ① 一番少ない動物の数だけ○をかきます。
- ② 一番多い野菜に○をつけます。
- ③ 出てきていない果物に○をつけます。



※1. このプリントは、しながわ・目黒こどもスクールのウェブサイトからダウンロードできます。無断複写・引用はご遠慮ください。
 ※2. このプリントを活用したオンライン授業のスケジュールは、しながわ・目黒こどもスクールのウェブサイトでご確認ください。



おうちで、やろう。

Study at home. 小学校受験の家庭学習教材



記憶：絵の記憶 19

別紙『記憶 - 絵の記憶 19 記憶用紙』を使用します。記憶用紙の絵を見た後に①、②、③の問題に取り組みましょう。
※このプリントの解答は記憶用紙で確認してください。

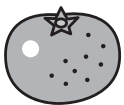
目黒

①

②



③






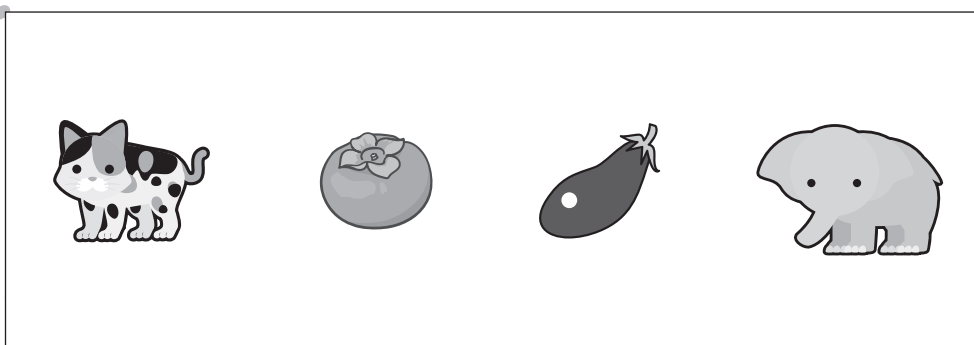





おうちで、やろう。

Study at home. 小学校受験の家庭学習教材

言語：音の理解 25

左の太い四角の中の絵のはじめの音をつなぎ合わせたときにできるものを右の四角から選んで○をつけます。



※1. このプリントは、しながわ・目黒こどもスクールのウェブサイトでダウンロードができます。無断複写・引用はご遠慮ください。
※2. このプリントを活用したオンライン授業のスケジュールは、しながわ・目黒こどもスクールのウェブサイトでご確認ください。



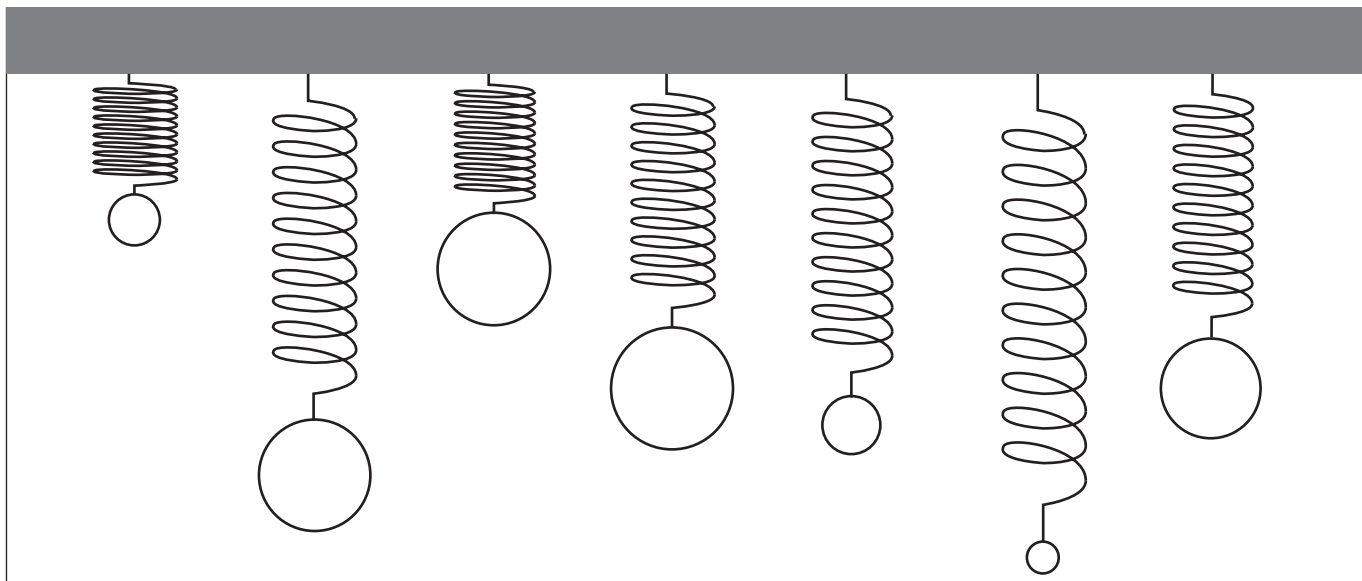
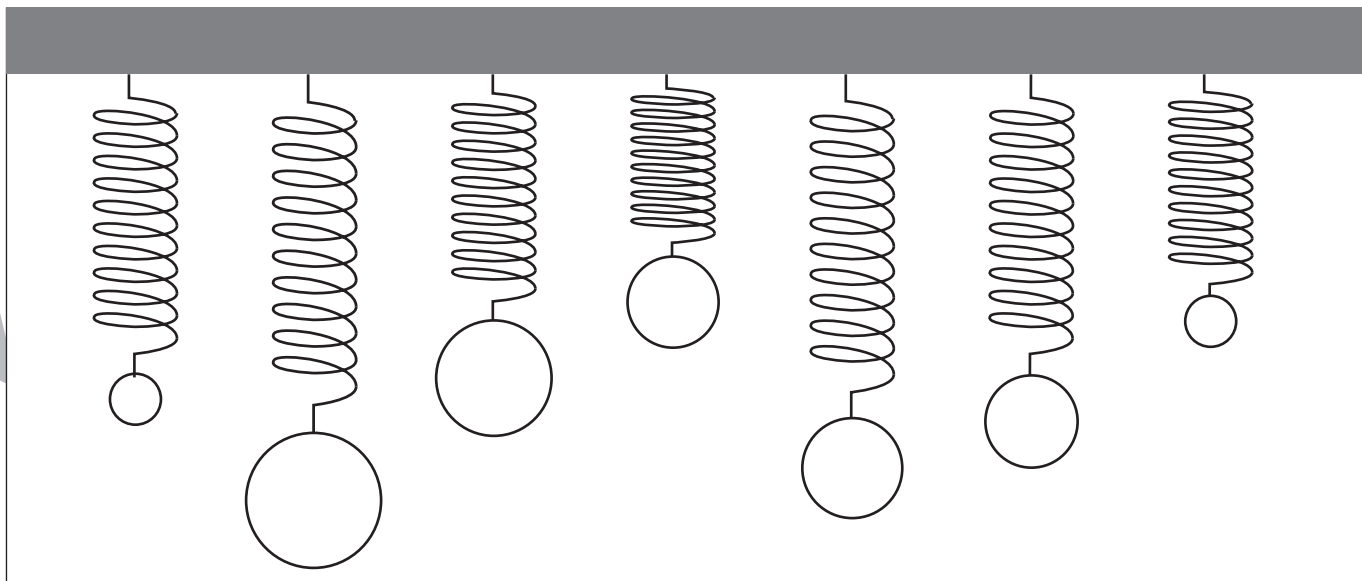
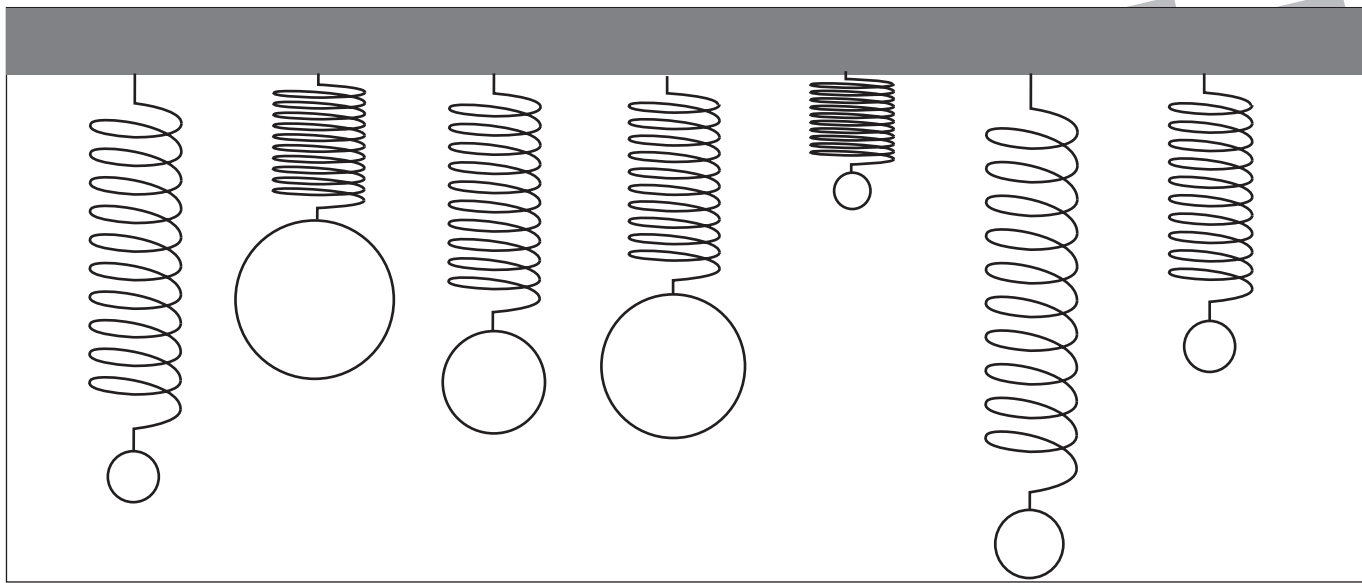


おうちで、やろう。

Study at home. 小学校受験の家庭学習教材

推理：重さ 13

バネにボールをつるして重さ比べをしました。1番重いボールには赤で、2番目に重いボールには紫でボールの中を塗ります。



※1. このプリントは、しながわ・目黒こどもスクールのウェブサイトでダウンロードができます。無断複写・引用はご遠慮ください。

※2. このプリントを活用したオンライン授業のスケジュールは、しながわ・目黒こどもスクールのウェブサイトでご確認ください。

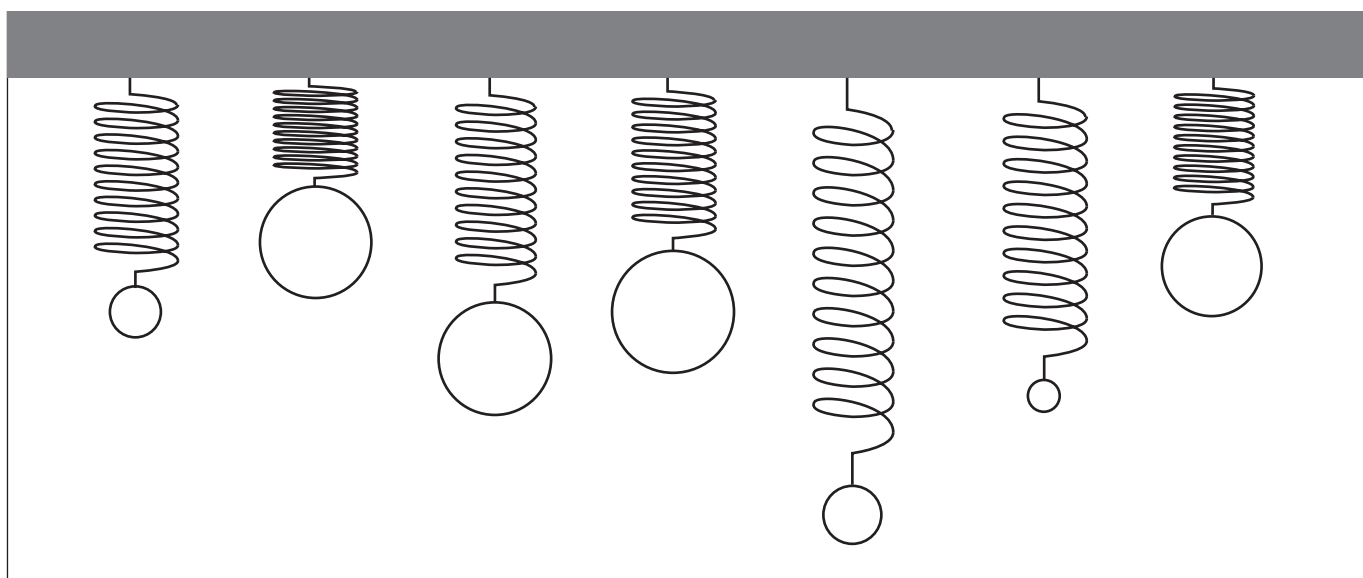
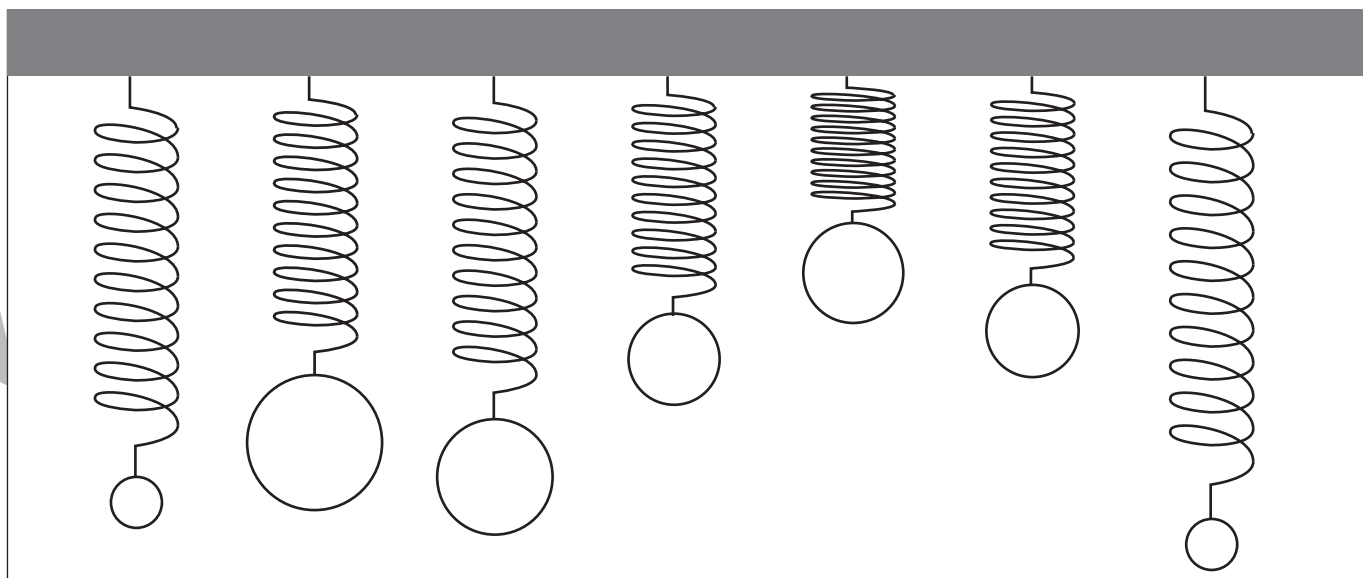
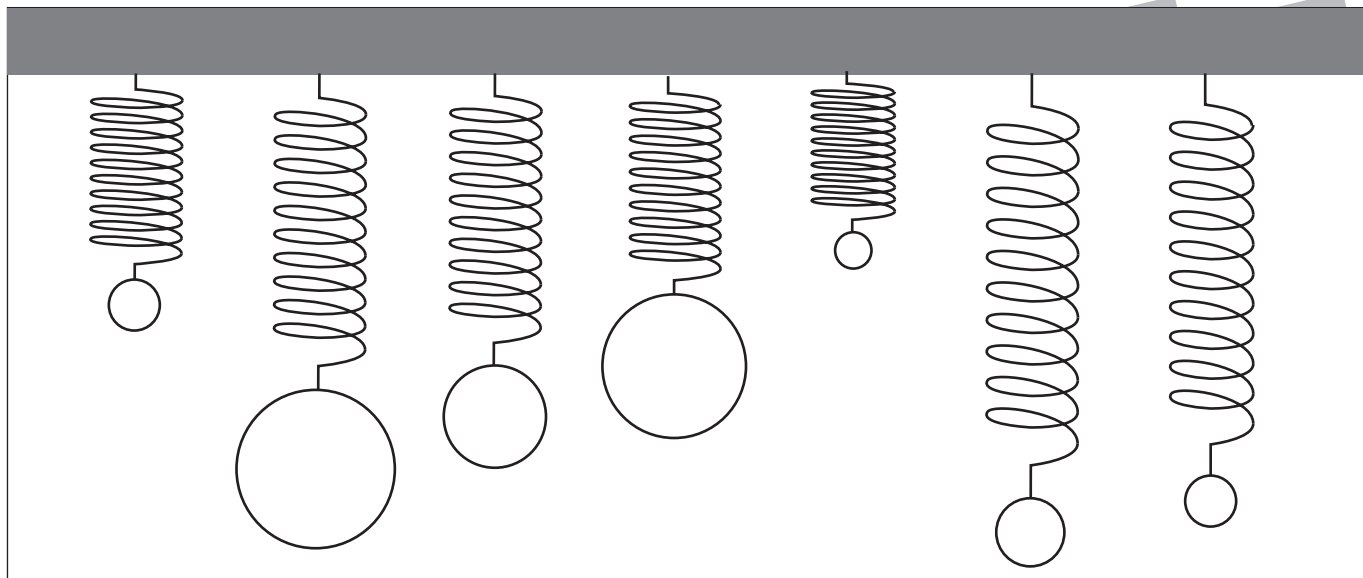


おうちで、やろう。

Study at home. 小学校受験の家庭学習教材

推理：重さ 14

バネにボールをつるして重さ比べをしました。2番目に軽いボールには青で、3番目に重いボールには緑でボールの中を塗ります。



※1. このプリントは、しながわ・目黒こどもスクールのウェブサイトでダウンロードができます。無断複写・引用はご遠慮ください。

※2. このプリントを活用したオンライン授業のスケジュールは、しながわ・目黒こどもスクールのウェブサイトでご確認ください。



おうちで、やろう。

Study at home. 小学校受験の家庭学習教材

図形：回転 32

太い四角の中にある形を、矢印の向きに2回倒した時の見え方を考えて、右の四角にかきます。

このページには、4行2列の図形パズルが掲載されています。各パズルは、左側の「太い四角」に示された図形を、矢印の向きに2回倒した後の状態を、右側の「普通の四角」に描き写すという形式です。

1行目左: 太い四角は2x2のグリッド。上左は白丸、上右は白三角、下左は白同心丸、下右は黒倒三角。矢印は時計回りに90度回転を示す。普通の四角は上左に黒正三角、下右に白丸。

1行目右: 太い四角は2x2のグリッド。上左は黒倒三角、上右は白斜線、下左は黒丸、下右は白倒三角。矢印は時計回りに90度回転を示す。普通の四角は空欄。

2行目左: 太い四角は2x2のグリッド。上左は白斜線、上右は黒丸、下左は白倒三角、下右は白正三角。矢印は時計回りに90度回転を示す。普通の四角は上左に白倒三角、下左に黒丸。

2行目右: 太い四角は2x2のグリッド。上左は白同心丸、上右は白倒三角、下左は白斜線、下右は白斜線。矢印は時計回りに90度回転を示す。普通の四角は空欄。

3行目左: 太い四角は2x2のグリッド。上左は白同心丸、上右は黒丸、下左は白倒三角、下右は白斜線。矢印は時計回りに90度回転を示す。普通の四角は上右に白倒三角、下左に黒丸。

3行目右: 太い四角は2x2のグリッド。上左は黒丸、上右は白丸、下左は白斜線、下右は白倒三角。矢印は時計回りに90度回転を示す。普通の四角は空欄。

4行目左: 太い四角は2x2のグリッド。上左は黒丸、上右は白倒三角、下左は白斜線、下右は白同心丸。矢印は時計回りに90度回転を示す。普通の四角は上左に白同心丸、下右に黒丸。

4行目右: 太い四角は2x2のグリッド。上左は黒倒三角、上右は白斜線、下左は白同心丸、下右は白正三角。矢印は時計回りに90度回転を示す。普通の四角は空欄。

※1. このプリントは、しながわ・目黒こどもスクールのウェブサイトでダウンロードができます。無断複写・引用はご遠慮ください。
 ※2. このプリントを活用したオンライン授業のスケジュールは、しながわ・目黒こどもスクールのウェブサイトでご確認ください。



おうちで、やろう。

Study at home. 小学校受験の家庭学習教材

図形：回転 34

太い四角の中にある形を、矢印の向きに2回倒した時の見え方を考えて、右の四角にかきます。

Figure 1: A 3x3 grid with a thick border. Top-left cell: black triangle pointing up. Middle-right cell: white circle. Bottom-right cell: white circle with a smaller white circle inside. Bottom-left cell: diagonal line from top-left to bottom-right. An arrow in the top-right corner points clockwise.

Figure 2: A 3x3 grid with a thick border. Middle-right cell: white circle with a smaller white circle inside. Bottom-left cell: diagonal line from top-left to bottom-right.

Figure 3: A 3x3 grid with a thick border. Top-right cell: white inverted triangle. Middle-left cell: black triangle pointing up. Bottom-left cell: diagonal line from top-left to bottom-right. An arrow in the top-right corner points clockwise.

Figure 4: A 3x3 grid with a thick border.

Figure 5: A 3x3 grid with a thick border. Middle cell: white triangle pointing up. Top-right cell: white circle. Bottom-left cell: black circle. Bottom-right cell: diagonal line from top-left to bottom-right. An arrow in the top-right corner points clockwise.

Figure 6: A 3x3 grid with a thick border. Bottom-left cell: white circle. Middle-right cell: white inverted triangle.

Figure 7: A 3x3 grid with a thick border. Top-left cell: diagonal line from top-left to bottom-right. Top-right cell: black circle. Middle-right cell: white circle. Bottom-left cell: white triangle pointing right. An arrow in the top-right corner points clockwise.

Figure 8: A 3x3 grid with a thick border. Bottom-left cell: black circle. Middle cell: white triangle pointing up. Bottom-right cell: white inverted triangle.

Figure 9: A 3x3 grid with a thick border. Top-right cell: black circle. Middle cell: white inverted triangle.

Figure 10: A 3x3 grid with a thick border. Top-right cell: diagonal line from top-left to bottom-right. Middle cell: white triangle pointing up. Bottom-left cell: white circle. Bottom-right cell: white triangle pointing right. An arrow in the top-right corner points clockwise.

Figure 11: A 3x3 grid with a thick border. Bottom-left cell: white circle with a smaller white circle inside. Top-right cell: black circle. Middle cell: white triangle pointing left. Bottom-right cell: white circle with a smaller white circle inside. An arrow in the top-right corner points clockwise.

Figure 12: A 3x3 grid with a thick border. Middle-left cell: white triangle pointing right. Bottom-right cell: black triangle pointing up. Bottom-right cell: white circle with a smaller white circle inside. An arrow in the top-right corner points clockwise.

Figure 13: A 3x3 grid with a thick border. Top-left cell: white circle with a smaller white circle inside. Middle cell: white triangle pointing left. Bottom-right cell: white circle with a smaller white circle inside. An arrow in the top-right corner points clockwise.

Figure 14: A 3x3 grid with a thick border. Middle-left cell: white triangle pointing right. Top-right cell: black circle. Bottom-right cell: white circle with a smaller white circle inside. An arrow in the top-right corner points clockwise.

Figure 15: A 3x3 grid with a thick border.

※1. このプリントは、しながわ・目黒こどもスクールのウェブサイトでダウンロードができます。無断複写・引用はご遠慮ください。
 ※2. このプリントを活用したオンライン授業のスケジュールは、しながわ・目黒こどもスクールのウェブサイトでご確認ください。






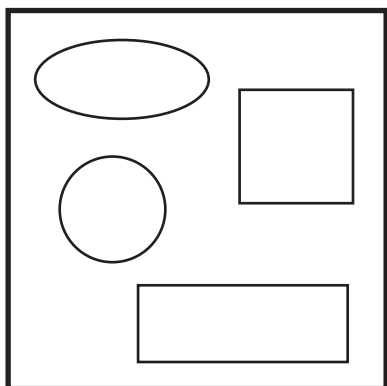
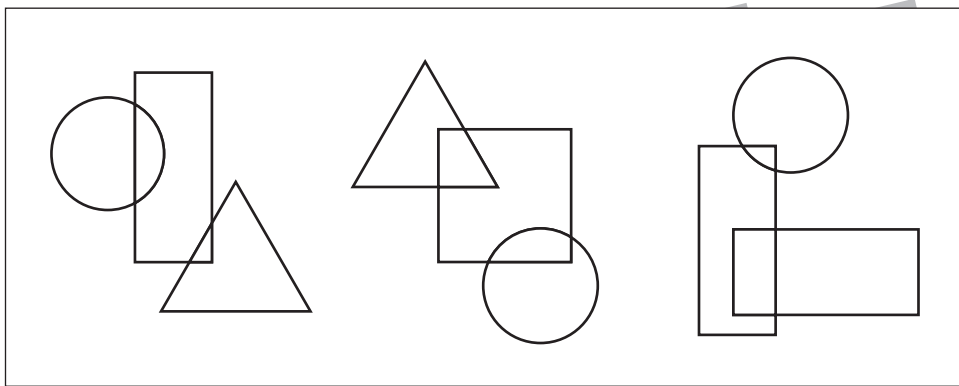
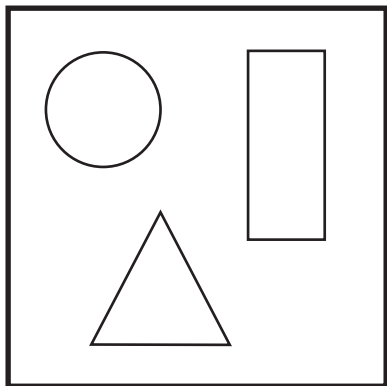


おうちで、やろう。

Study at home. 小学校受験の家庭学習教材

図形：重なり 21

太い四角の中にいくつかの形があります。これらの形を重ねた時のものを右の四角から選び○をつけます。



※1. このプリントは、しながわ・目黒こどもスクールのウェブサイトでダウンロードができます。無断複写・引用はご遠慮ください。
※2. このプリントを活用したオンライン授業のスケジュールは、しながわ・目黒こどもスクールのウェブサイトでご確認ください。

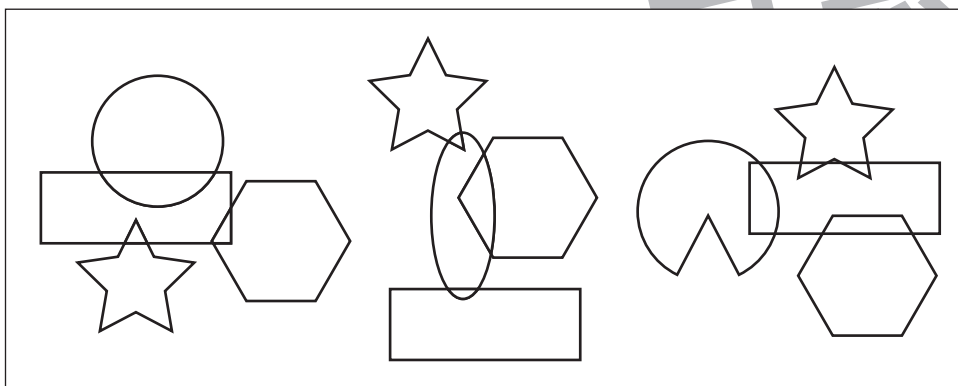

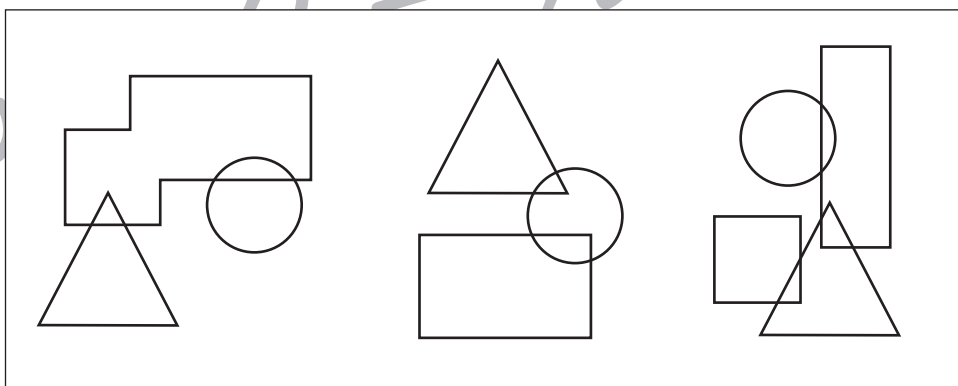

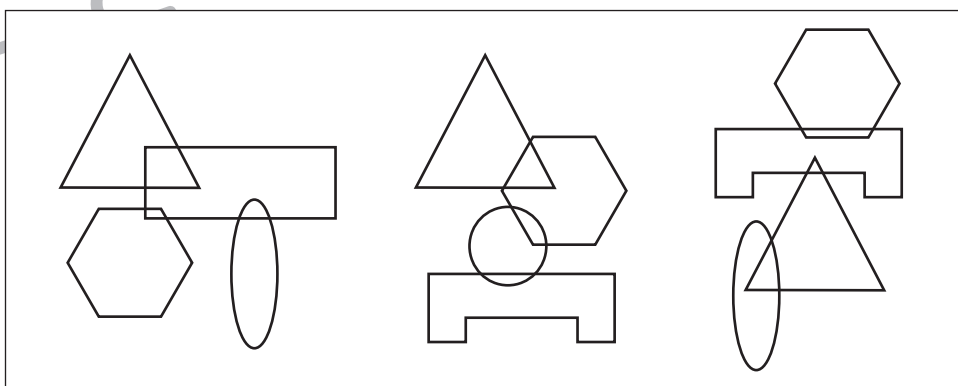
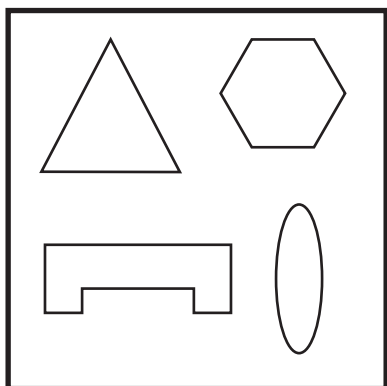
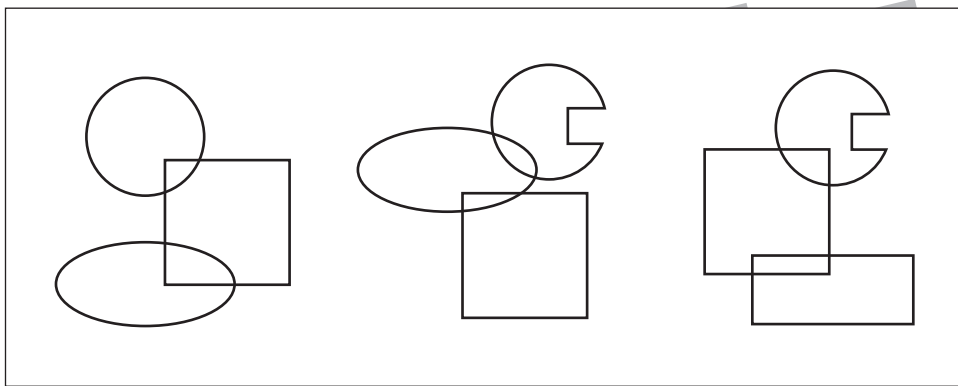
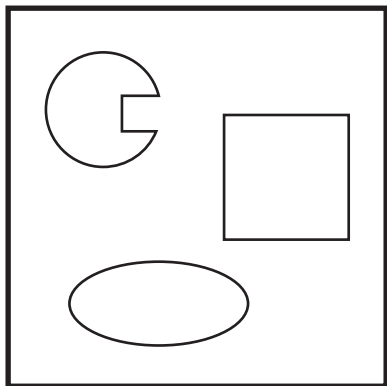


おうちで、やろう。

Study at home. 小学校受験の家庭学習教材

図形：重なり 22

太い四角の中にいくつかの形があります。これらの形を重ねた時のものを右の四角から選び○をつけます。



※1. このプリントは、しながわ・目黒こどもスクールのウェブサイトでダウンロードができます。無断複写・引用はご遠慮ください。
※2. このプリントを活用したオンライン授業のスケジュールは、しながわ・目黒こどもスクールのウェブサイトでご確認ください。



おうちで、やろう。


Study at home. 小学校受験の家庭学習教材

数量：複合 1


①太い四角の中に魚がいます。それぞれの魚が5匹ずつになるには、何匹足りないかを考えその数だけ〇を書きます。余るときは、その数だけ△を書きます。

②太い四角の中に野菜があります。それぞれの野菜が10個ずつになるには、あと何個足りないかを考えその数だけ〇を書きます。余るときは、その数だけ△を書きます。

①



②



※1. このプリントは、しながわ・目黒こどもスクールのウェブサイトでダウンロードができます。無断複写・引用はご遠慮ください。

※2. このプリントを活用したオンライン授業のスケジュールは、しながわ・目黒こどもスクールのウェブサイトでご確認ください。




おうちで、やろう。

Study at home. 小学校受験の家庭学習教材

処理：計数 15

大きな四角の中の絵を数えます。その数だけ下の四角に○をかきます。








※1. このプリントは、しながわ・目黒こどもスクールのウェブサイトからダウンロードができます。無断複写・引用はご遠慮ください。
 ※2. このプリントを活用したオンライン授業のスケジュールは、しながわ・目黒こどもスクールのウェブサイトでご確認ください。