




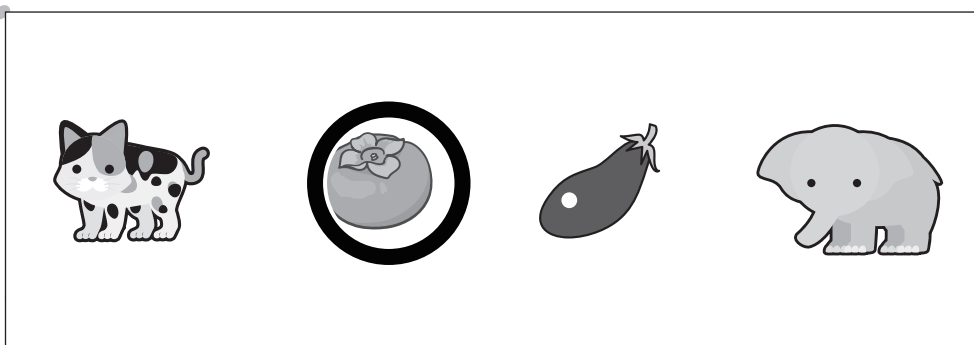





# おうちで、やろう。

Study at home. 小学校受験の家庭学習教材

## 言語：音の理解 25

左の太い四角の中の絵のはじめの音をつなぎ合わせたときにできるものを右の四角から選んで○をつけます。



※1. このプリントは、しながわ・目黒こどもスクールのウェブサイトでダウンロードができます。無断複写・引用はご遠慮ください。  
※2. このプリントを活用したオンライン授業のスケジュールは、しながわ・目黒こどもスクールのウェブサイトでご確認ください。

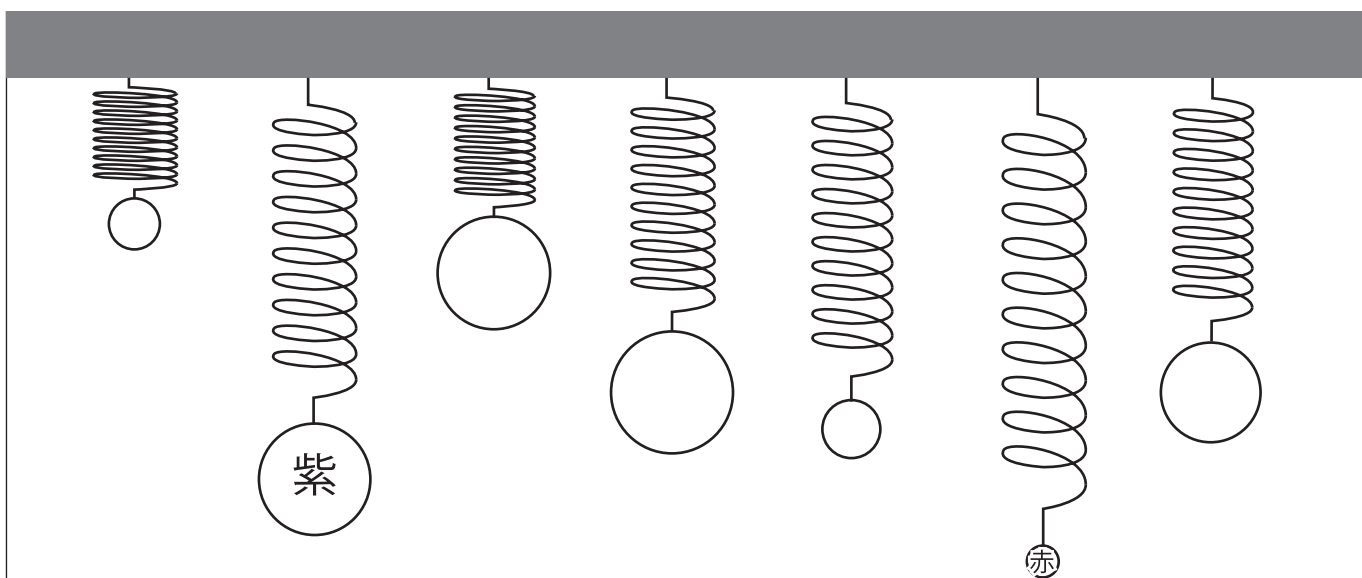
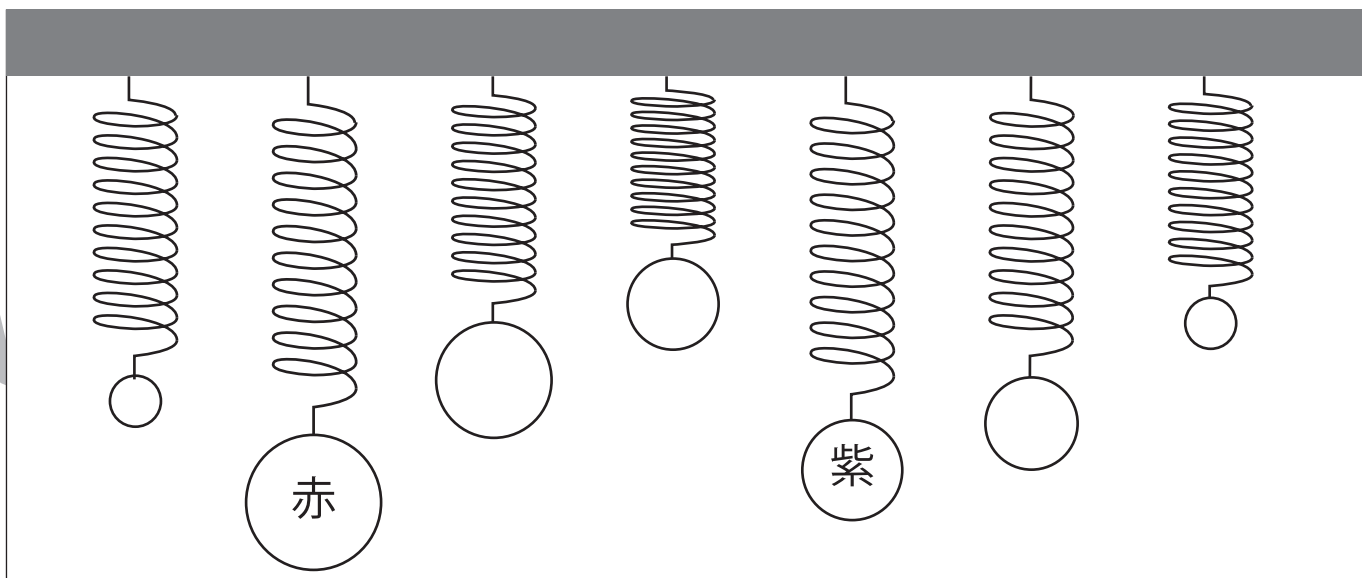
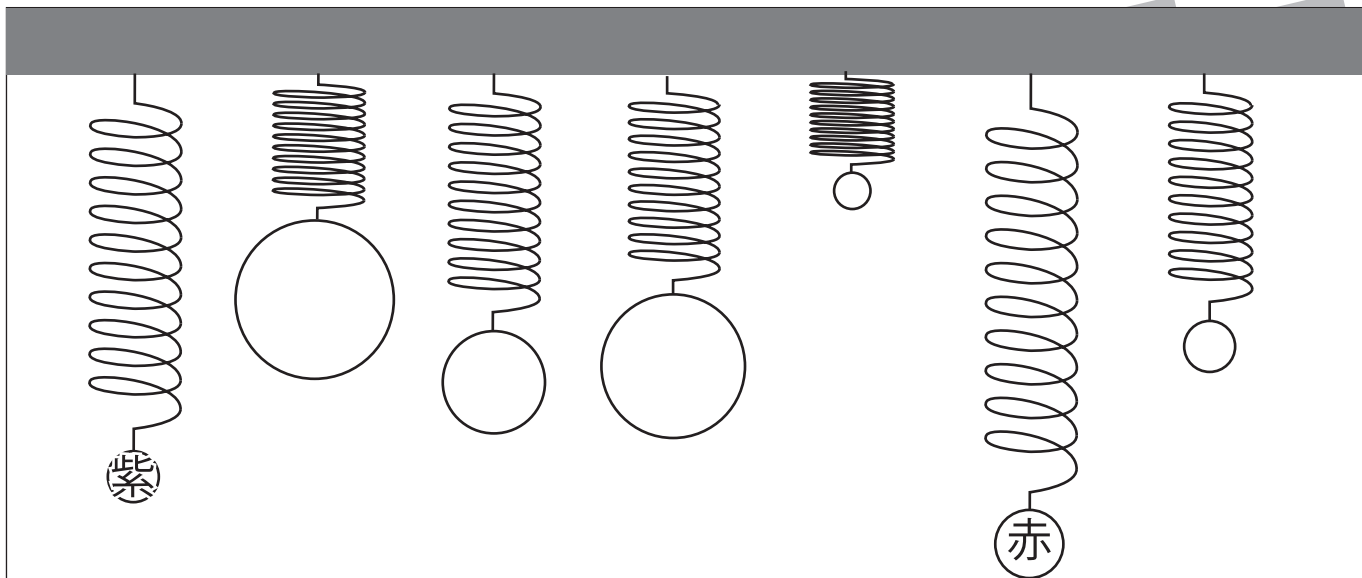


# おうちで、やろう。

Study at home. 小学校受験の家庭学習教材

推理：重さ 13

バネにボールをつるして重さ比べをしました。1番重いボールには赤で、2番目に重いボールには紫でボールの中を塗ります。



※1. このプリントは、しながわ・目黒こどもスクールのウェブサイトでダウンロードができます。無断複写・引用はご遠慮ください。

※2. このプリントを活用したオンライン授業のスケジュールは、しながわ・目黒こどもスクールのウェブサイトでご確認ください。

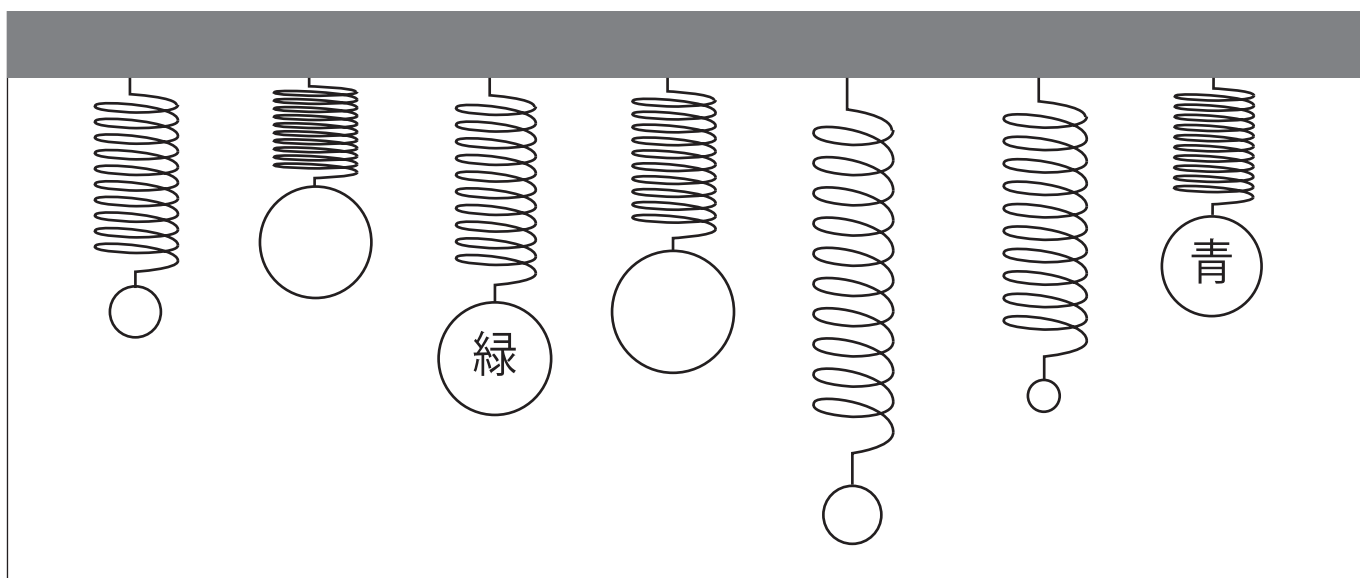
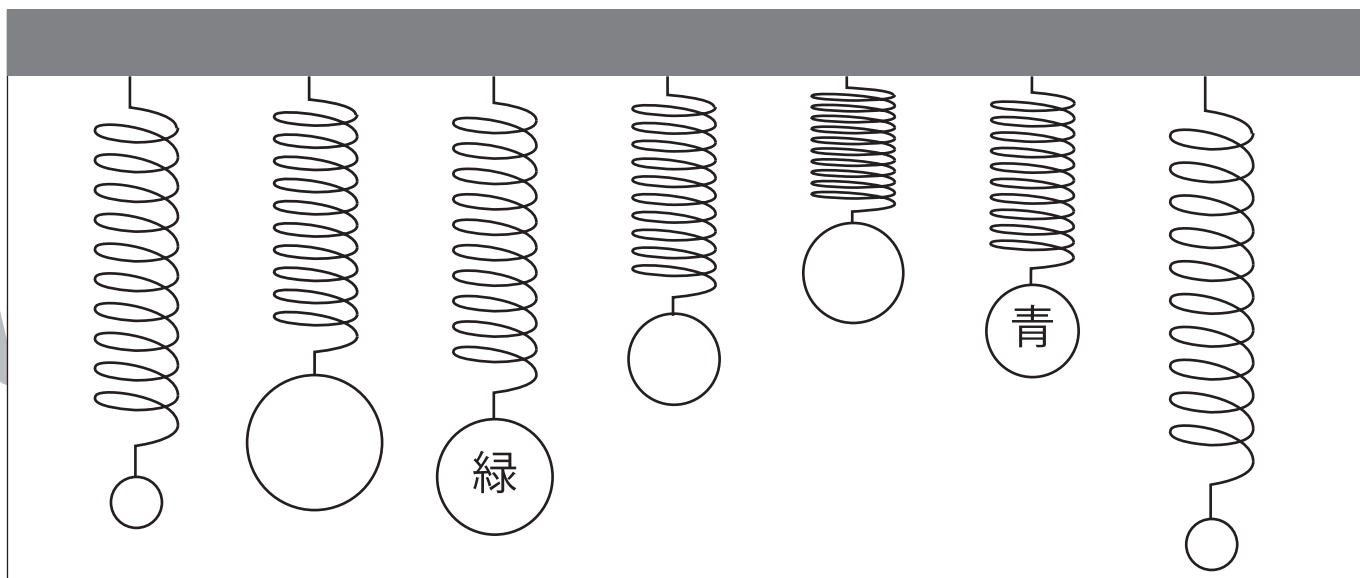
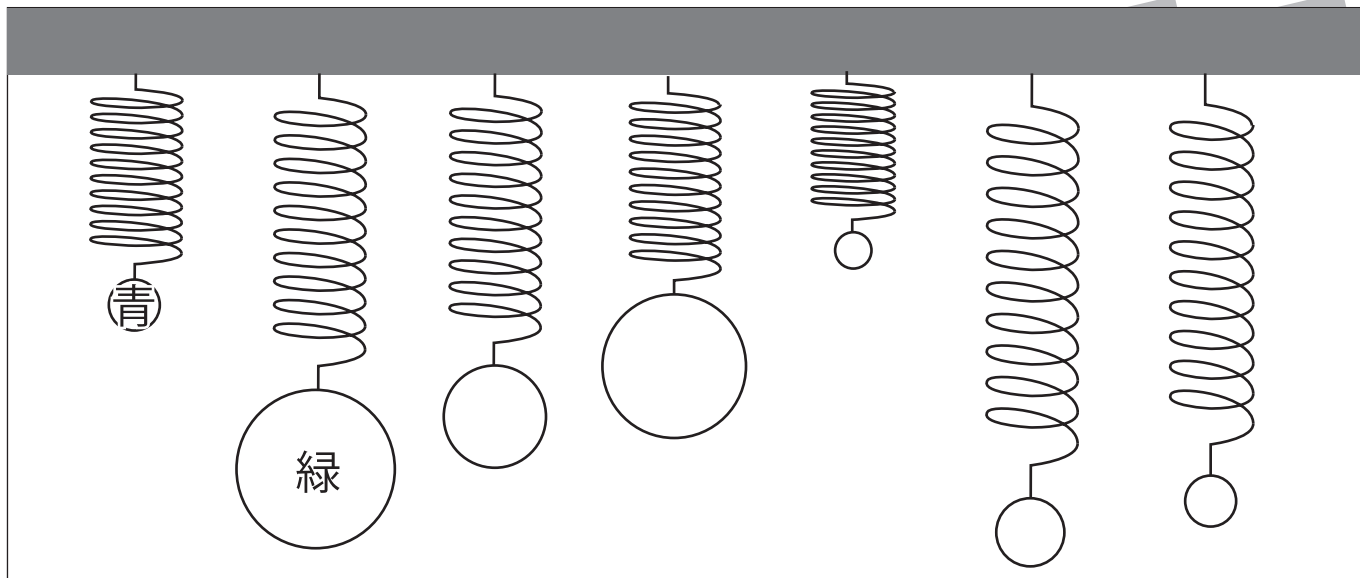


# おうちで、やろう。

Study at home. 小学校受験の家庭学習教材

推理：重さ 14

バネにボールをつるして重さ比べをしました。2 番目に軽いボールには青で、3 番目に重いボールには緑でボールの中を塗ります。



※1. このプリントは、しながわ・目黒こどもスクールのウェブサイトでダウンロードができます。無断複写・引用はご遠慮ください。

※2. このプリントを活用したオンライン授業のスケジュールは、しながわ・目黒こどもスクールのウェブサイトでご確認ください。



# おうちで、やろう。

Study at home. 小学校受験の家庭学習教材

## 図形：回転 32

太い四角の中にある形を、矢印の向きに2回倒した時の見え方を考えて、右の四角にかきます。

※1. このプリントは、しながわ・目黒こどもスクールのウェブサイトでダウンロードができます。無断複写・引用はご遠慮ください。  
 ※2. このプリントを活用したオンライン授業のスケジュールは、しながわ・目黒こどもスクールのウェブサイトでご確認ください。



# おうちで、やろう。

Study at home. 小学校受験の家庭学習教材

## 図形：回転 34

太い四角の中にある形を、矢印の向きに2回倒した時の見え方を考えて、右の四角にかきます。

このページには、4行2列の図形パズルが掲載されています。各パズルは、太い四角の中にある図形を、矢印の向きに2回倒した時の見え方を考えるものです。

1. 太い四角の中にある図形を、矢印の向きに2回倒した時の見え方を考えて、右の四角にかきます。

2. 太い四角の中にある図形を、矢印の向きに2回倒した時の見え方を考えて、右の四角にかきます。

3. 太い四角の中にある図形を、矢印の向きに2回倒した時の見え方を考えて、右の四角にかきます。

4. 太い四角の中にある図形を、矢印の向きに2回倒した時の見え方を考えて、右の四角にかきます。

※1. このプリントは、しながわ・目黒こどもスクールのウェブサイトでダウンロードができます。無断複写・引用はご遠慮ください。  
 ※2. このプリントを活用したオンライン授業のスケジュールは、しながわ・目黒こどもスクールのウェブサイトでご確認ください。






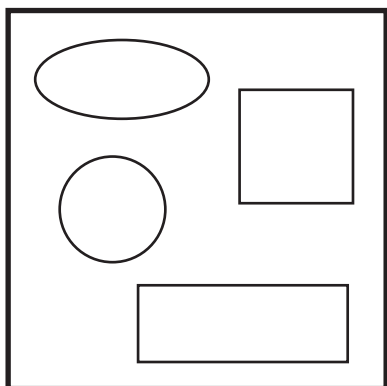
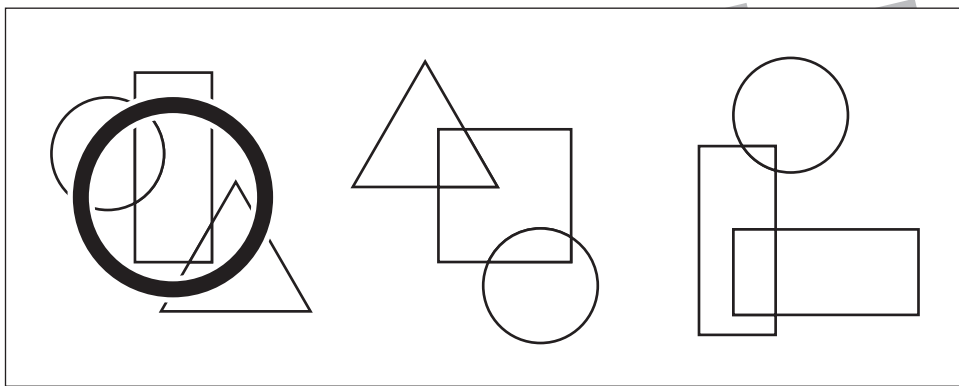
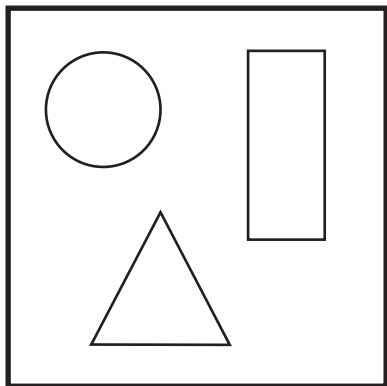


# おうちで、やろう。

Study at home. 小学校受験の家庭学習教材

## 図形：重なり 21

太い四角の中にいくつかの形があります。これらの形を重ねた時のものを右の四角から選び○をつけます。



※1. このプリントは、しながわ・目黒こどもスクールのウェブサイトでダウンロードができます。無断複写・引用はご遠慮ください。  
※2. このプリントを活用したオンライン授業のスケジュールは、しながわ・目黒こどもスクールのウェブサイトでご確認ください。

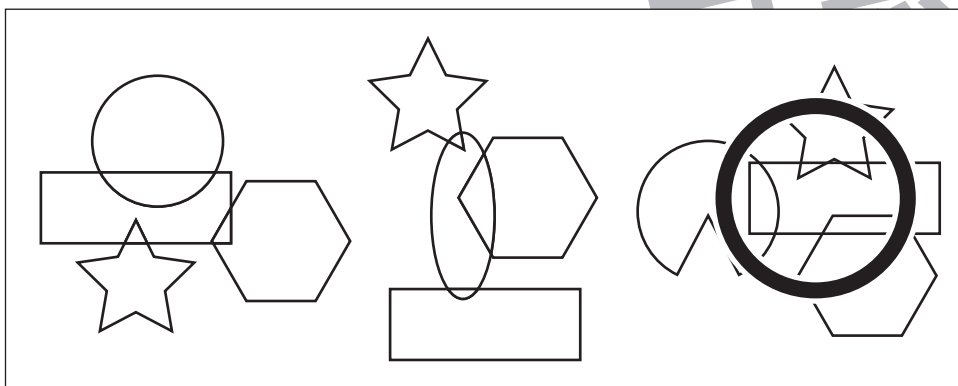

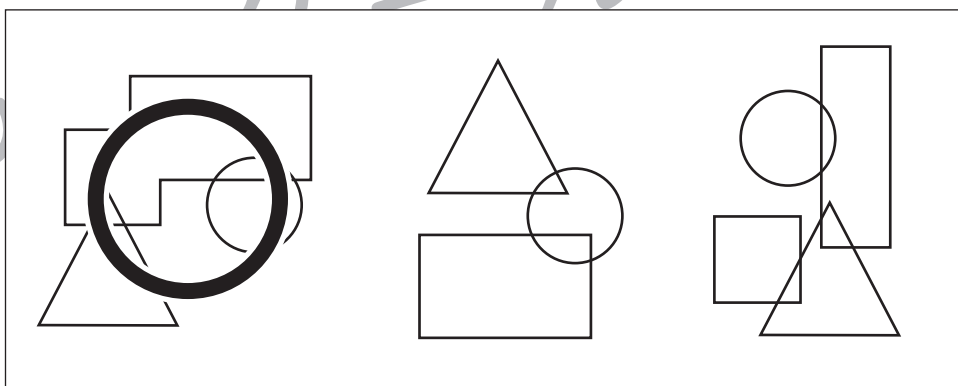

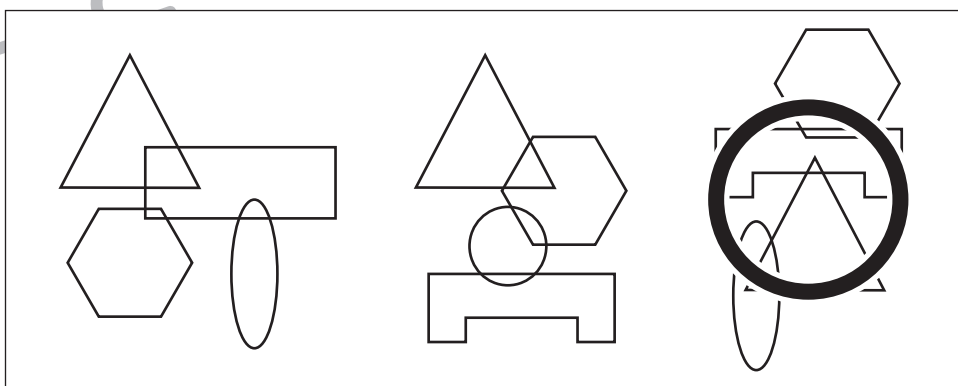
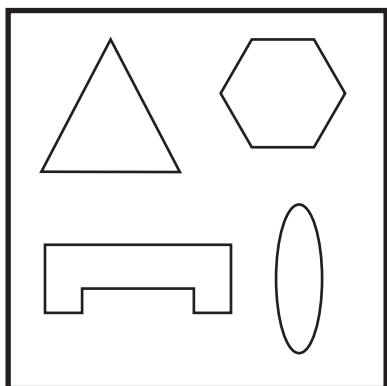
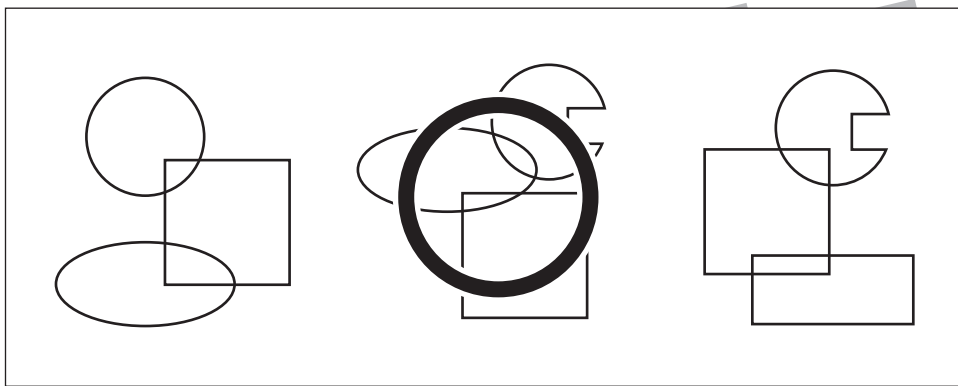
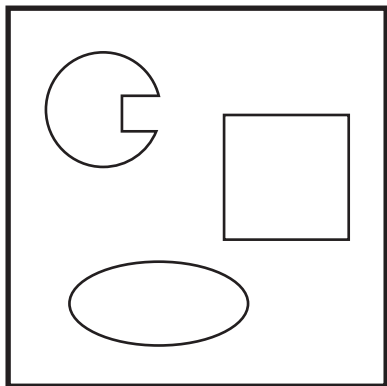


# おうちで、やろう。

Study at home. 小学校受験の家庭学習教材

## 図形：重なり 22

太い四角の中にいくつかの形があります。これらの形を重ねた時のものを右の四角から選び○をつけます。



※1. このプリントは、しながわ・目黒こどもスクールのウェブサイトでダウンロードができます。無断複写・引用はご遠慮ください。  
※2. このプリントを活用したオンライン授業のスケジュールは、しながわ・目黒こどもスクールのウェブサイトでご確認ください。



# おうちで、やろう。


Study at home. 小学校受験の家庭学習教材




数量：複合 1

①太い四角の中に魚がいます。それぞれの魚が5匹ずつになるには、何匹足りないかを考えその数だけ○を書きます。余るときは、その数だけ△を書きます。


②太い四角の中に野菜があります。それぞれの野菜が10個ずつになるには、あと何個足りないかを考えその数だけ○を書きます。余るときは、その数だけ△を書きます。




①



	$\triangle \times 4$
	$\triangle \times 3$
	$\bigcirc \times 1$

②



	$\triangle \times 2$
	$\bigcirc \times 6$
	$\bigcirc \times 3$

※1. このプリントは、しながわ・目黒こどもスクールのウェブサイトでダウンロードができます。無断複写・引用はご遠慮ください。

※2. このプリントを活用したオンライン授業のスケジュールは、しながわ・目黒こどもスクールのウェブサイトでご確認ください。






# おうちで、やろう。

Study at home. 小学校受験の家庭学習教材

処理：計数 15

大きな四角の中の絵を数えます。その数だけ下の四角に○をかきます。



○ × 5



○ × 7



○ × 10



○ × 8