



おうちで、やろう。

Study at home. 小学校受験の家庭学習教材

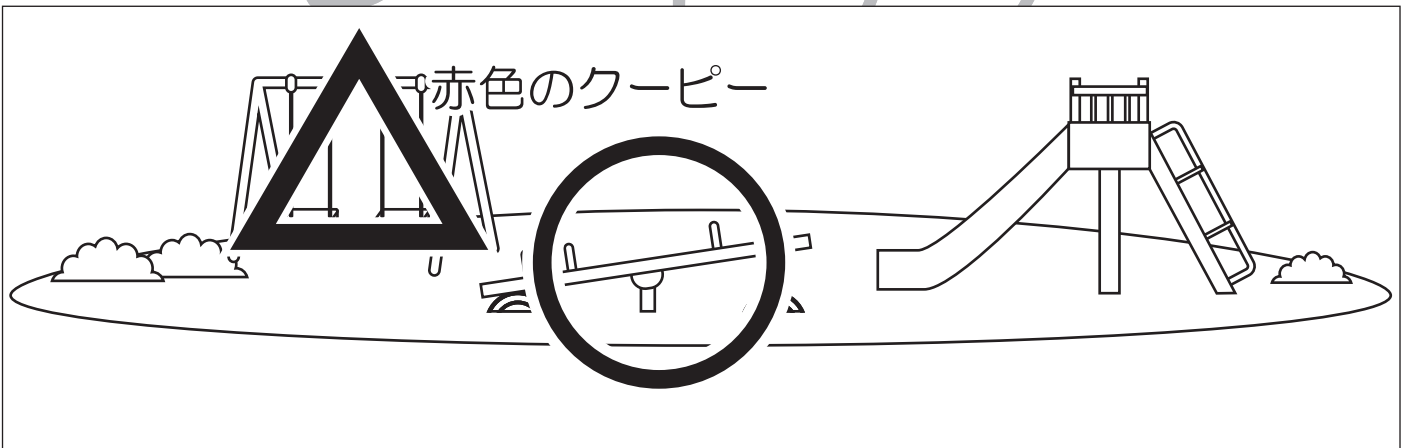
記憶：お話の記憶1

お話を聞いて、問題に答えます。


お話▶ライオンくん、キツネくん、サルくんはさくらが有名な桜公園で遊ぶことになりました。最初にシーソーで遊び、次にブランコで遊ぶことにしました。遊んでいる途中でキツネくんは喉が乾いたので、持ってきていたお茶を飲みました。キツネくんは幸せそうな顔をして「やっぱり、お茶は美味しいな。」と言いました。それを見ていた、ライオンくんが「僕も喉が乾いたけど、水筒を持って来ていないんだ。」というと、キツネくんは「飲んでいいよ。」とお茶を入れたコップを渡してくれました。「ありがとう。」そう言って、ライオンくんは美味しくお茶を飲みました。

- 問題▶①最初に遊んだ遊具に○、二番目に遊んだ遊具に△を赤色のクーピーでつけます。
 ②このお話に登場していない動物に橙色のクーピーで○をつけます。
 ③お話の中でお茶を飲んだ動物に青色のクーピーで□をつけます。


①



②



③





おうちで、やろう。

Study at home. 小学校受験の家庭学習教材

お話の記憶2

お話を聞いて、問題に答えます。


お話▶今日は遠足の日です。朝、クマくんは雨の音で目が覚めました。「昨日、せっかくテルテル坊主を作ったのに。」と悲しそうな顔で言いました。クマくんは階段を降りて、一階のリビングへ向かいました。すると、お母さんが「今日は雨だから、遠足は中止になる、と連絡があったわ。」と言いました。クマくんの目から涙がこぼれました。お母さんはキッチンに戻り、お弁当箱を持ってクマくんの傍に歩いてきました。「雨で出かけることはできないけど、遠足もお弁当も楽しみにしていたでしょう。だから、作っておいたのよ。お昼ご飯に食べなさい。」そう言って、クマくんにお弁当を渡しました。お昼になり、クマくんはテーブルの上でお弁当箱を開けました。「わあ、僕の大好きなオムライスとエビフライだ。」クマくんは笑顔でお弁当を食べました。

問題▶①朝、クマくんは何の音で目が覚めましたか、合う絵に○をつけます。


②お話の中のクマくんの表情の変化で正しい絵に○をつけます。

③お弁当箱に入っていたものに全て、○をつけます


①



②



③



※1. このプリントは、しながわ・目黒こどもスクールのウェブサイトからダウンロードができます。無断複写・引用はご遠慮ください。
※2. このプリントを活用したオンライン授業のスケジュールは、しながわ・目黒こどもスクールのウェブサイトでご確認ください。



おうちで、やろう。

Study at home. 小学校受験の家庭学習教材

推理：じゃんけん 18

太い四角の中は、ウサギとパンダが5回じゃんけんしたときの表です。

5回勝負をして、ウサギが勝った回数が多くなるとき、?の四角に入る手を考えて、それぞれの動物の四角に○をつけます。

	1	2	3	4	5
ウサギ		?			
パンダ					?

ウサギの選択肢:

パンダの選択肢:

	1	2	3	4	5
ウサギ			?		
パンダ				?	

ウサギの選択肢:

パンダの選択肢:

※1. このプリントは、しながわ・目黒こどもスクールのウェブサイトでダウンロードができます。無断複写・引用はご遠慮ください。

※2. このプリントを活用したオンライン授業のスケジュールは、しながわ・目黒こどもスクールのウェブサイトでご確認ください。




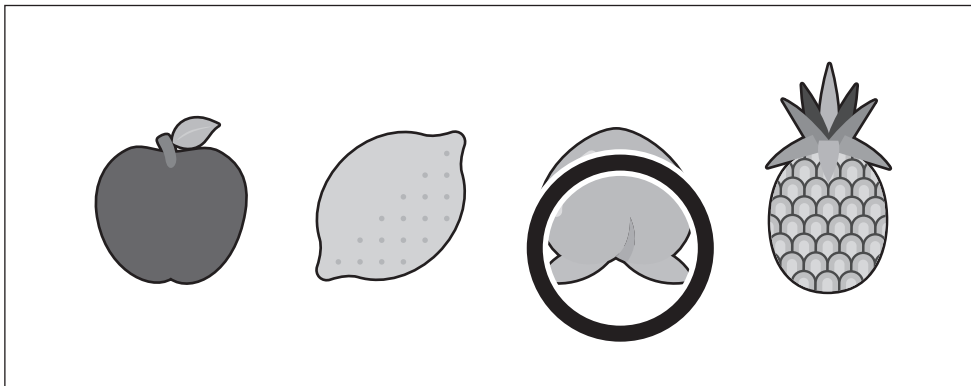



おうちで、よろう。

Study at home. 小学校受験の家庭学習教材

推理：影7

左の四角の中には絵が影になって重なっています。影になっていない絵を右の四角の中から見つけて○をつけます。



※1. このプリントは、しながわ・目黒こどもスクールのウェブサイトからダウンロードできます。無断複写・引用はご遠慮ください。
※2. このプリントを活用したオンライン授業のスケジュールは、しながわ・目黒こどもスクールのウェブサイトでご確認ください。



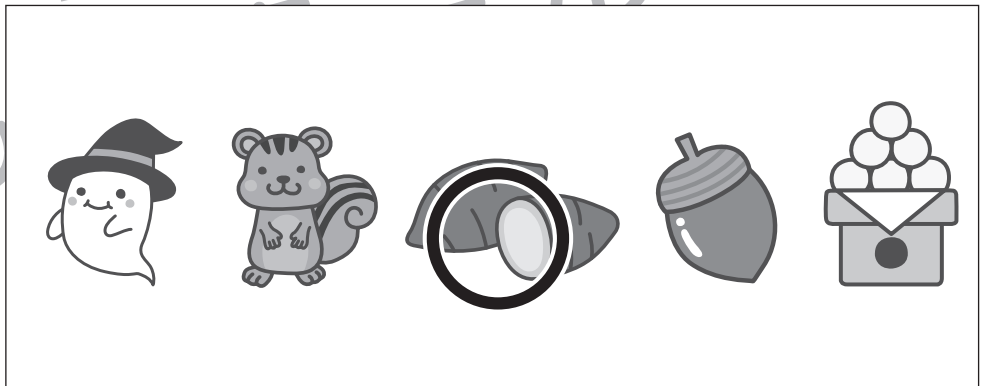





おうちで、やろう。

Study at home. 小学校受験の家庭学習教材

推理：影8

左の四角の中には絵が影になって重なっています。影になっていない絵を右の四角の中から見つけて○をつけます。



※1. このプリントは、しながわ・目黒こどもスクールのウェブサイトでダウンロードができます。無断複写・引用はご遠慮ください。
※2. このプリントを活用したオンライン授業のスケジュールは、しながわ・目黒こどもスクールのウェブサイトでご確認ください。



おうちで、やろう。

Study at home. 小学校受験の家庭学習教材

数量：対応1

ボタンに糸を通していきます。糸は1度にボタンの穴2つつ分、通することができる長さです。
このとき、四角の中にあるボタンの穴すべてに糸を通すには、糸が何本あればいいですか。
その数だけ、太い四角に○をかきます。


おてほん①



おてほん②




①




$\bigcirc \times 1$

②



$\bigcirc \times 2$

③



$\bigcirc \times 3$

※1. このプリントは、しながわ・目黒こどもスクールのウェブサイトからダウンロードができます。無断複写・引用はご遠慮ください。

※2. このプリントを活用したオンライン授業のスケジュールは、しながわ・目黒こどもスクールのウェブサイトでご確認ください。





おうちで、やろう。

Study at home. 小学校受験の家庭学習教材

数量：対応2

ボタンに糸を通していきます。糸は1度にボタンの穴2つ分、通することができる長さです。
このとき、四角の中にあるボタンの穴すべてに糸を通すには、糸が何本あればいいですか。
その数だけ、太い四角に○をかきます。


おてほん①



おてほん②

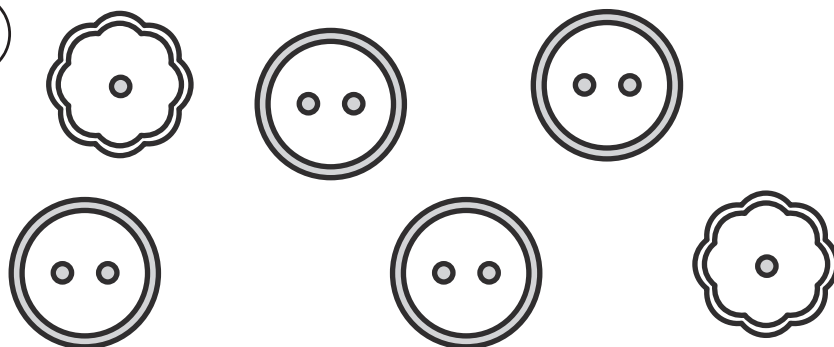


①



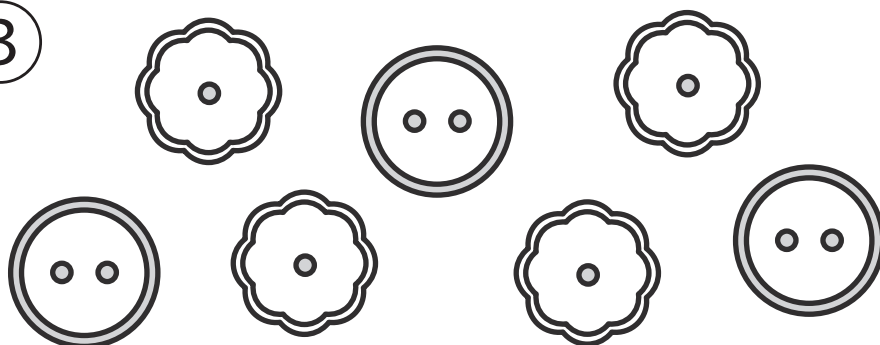
$\bigcirc \times 3$

②



$\bigcirc \times 5$

③



$\bigcirc \times 5$

※1. このプリントは、しながわ・目黒こどもスクールのウェブサイトからダウンロードができます。無断複写・引用はご遠慮ください。

※2. このプリントを活用したオンライン授業のスケジュールは、しながわ・目黒こどもスクールのウェブサイトでご確認ください。





おうちで、やろう。

Study at home. 小学校受験の家庭学習教材

数量：対応3

ボタンに糸を通していきます。糸は1度にボタンの穴3つ分、通することができる長さです。
このとき、四角の中にあるボタンの穴すべてに糸を通すには、糸が何本あればいいですか。
その数だけ、太い四角に○をかきます。

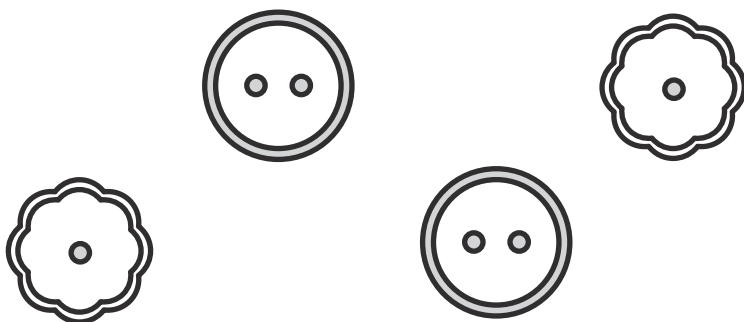
おてほん①



おてほん②

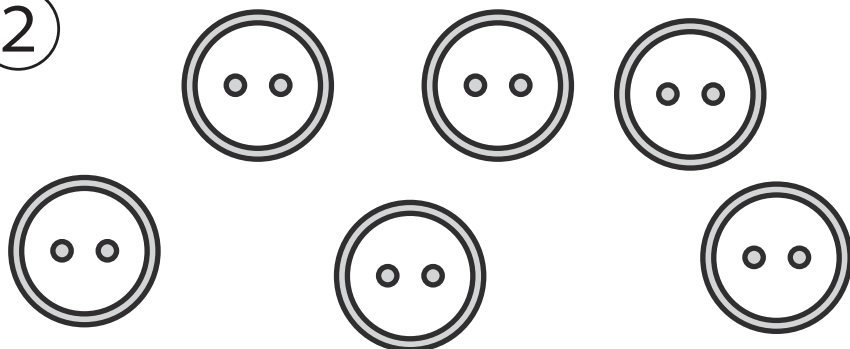


①




$$\bigcirc \times 2$$

②



$$\bigcirc \times 4$$

③



$$\bigcirc \times 4$$

※1. このプリントは、しながわ・目黒こどもスクールのウェブサイトでダウンロードができます。無断複写・引用はご遠慮ください。

※2. このプリントを活用したオンライン授業のスケジュールは、しながわ・目黒こどもスクールのウェブサイトでご確認ください。



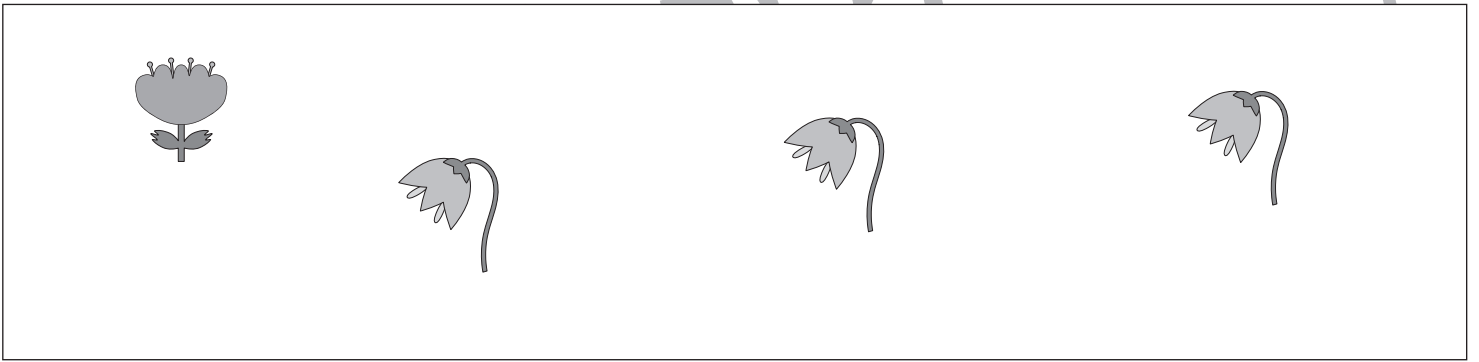




おうちで、やろう。

Study at home. 小学校受験の家庭学習教材

数量：対応4

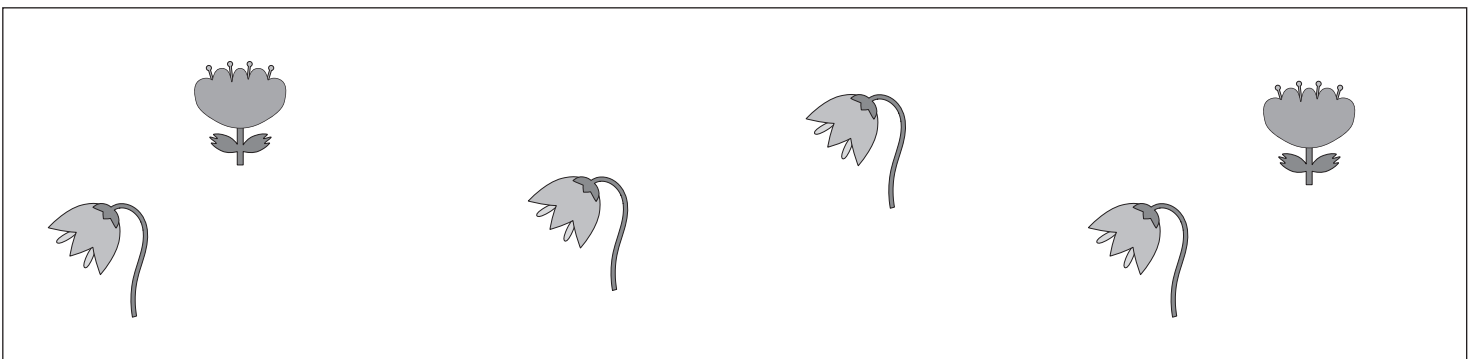
太い四角が約束で、それぞれの花を育てるためにはジョウロの数だけ水が必要です。
このとき、四角の花を全て育てるには、ジョウロがいくつ必要か考えて、その数だけ下の四角に○をかきます。



○ × 9



○ × 11



○ × 14

※1. このプリントは、しながわ・目黒こどもスクールのウェブサイトでダウンロードができます。無断複写・引用はご遠慮ください。
※2. このプリントを活用したオンライン授業のスケジュールは、しながわ・目黒こどもスクールのウェブサイトでご確認ください。





おうちで、やろう。

Study at home. 小学校受験の家庭学習教材

まちがいさがし8

上下の絵を見比べて、変わっているところを4つ探します。見つけたら、下の絵の変わっている部分に○をつけます。

