





# おうちで、やろう。

Study at home. 小学校受験の家庭学習教材

言語：音の数 30

四角の中の絵の音の数を数えます。ひとつだけ音の数が違うものがあります。その絵に○をつけます。



※1. このプリントは、しながわ・目黒こどもスクールのウェブサイトでダウンロードができます。無断複写・引用はご遠慮ください。

※2. このプリントを活用したオンライン授業のスケジュールは、しながわ・目黒こどもスクールのウェブサイトでご確認ください。

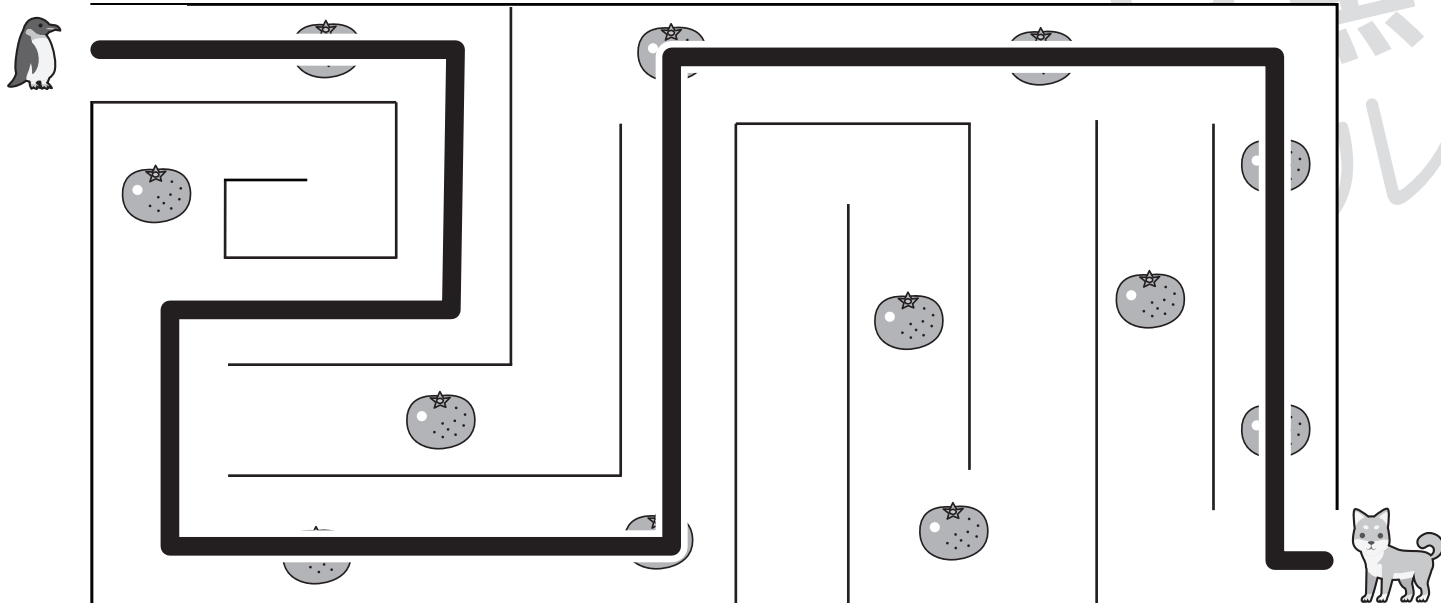


# おうちで、やろう。

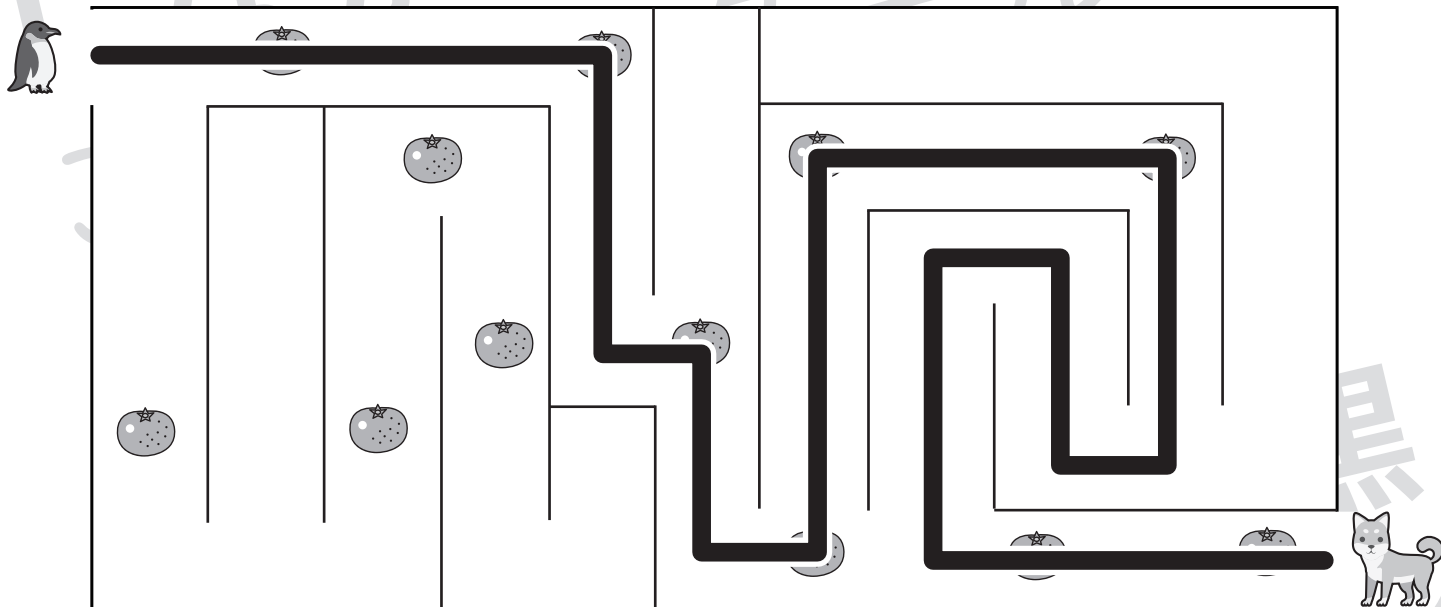
Study at home. 小学校受験の家庭学習教材

## 推理：条件迷路 3

ペンギンからイヌまで、できるだけたくさんのおミカンを取って進みます。下の長い四角にペンギンが取ったおミカンの数だけ○をかきます。一度通った道は戻れません。



○ × 7



○ × 8

※1. このプリントは、しながわ・目黒こどもスクールのウェブサイトからダウンロードできます。無断複写・引用はご遠慮ください。  
 ※2. このプリントを活用したオンライン授業のスケジュールは、しながわ・目黒こどもスクールのウェブサイトでご確認ください。

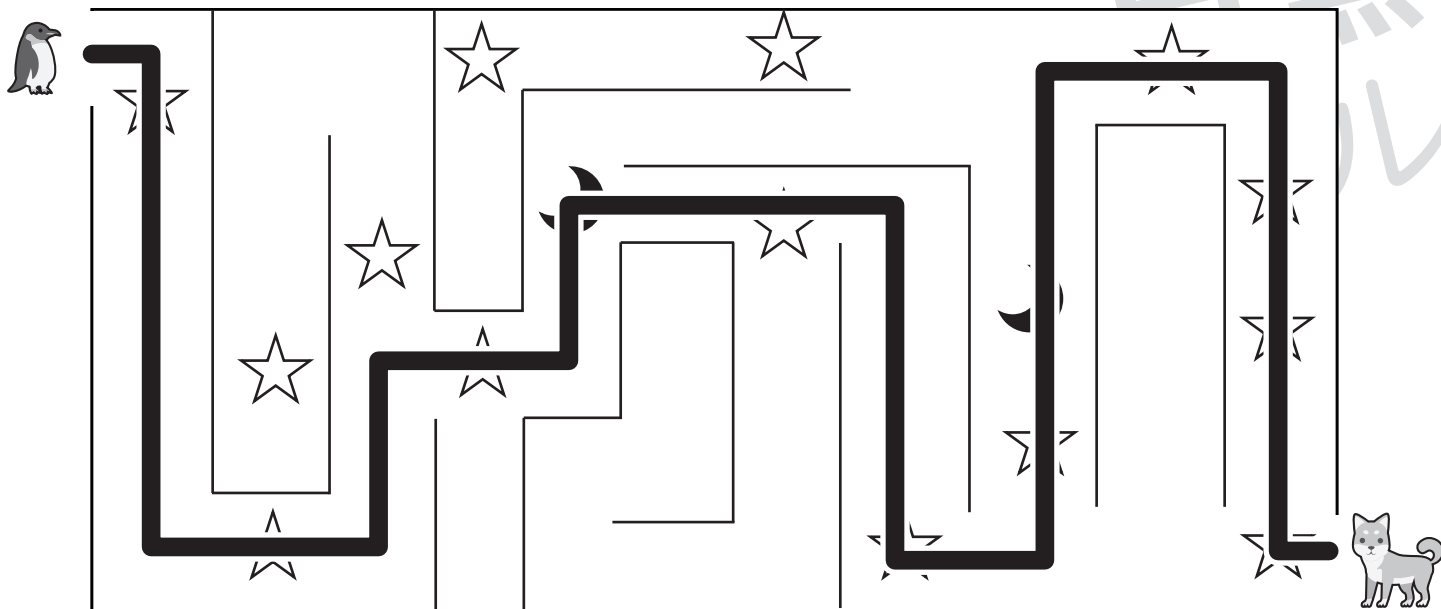


# おうちで、やろう。

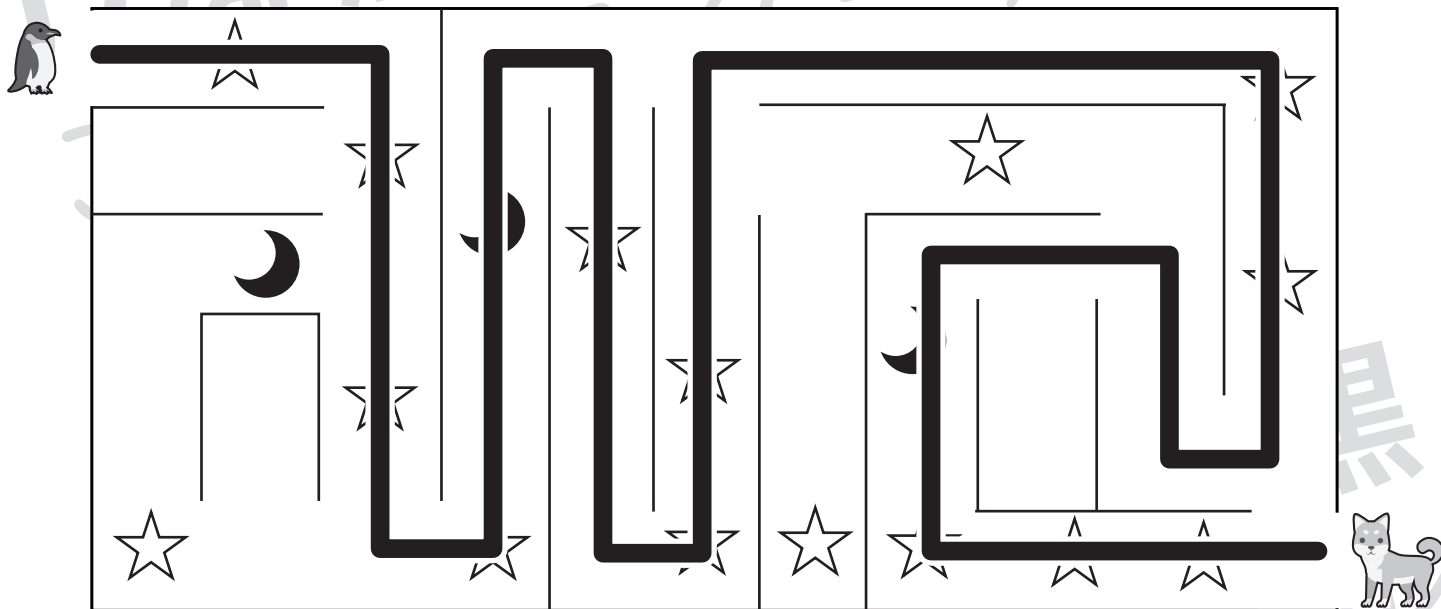
Study at home. 小学校受験の家庭学習教材

## 推理：条件迷路4

ペンギンからイヌまで、できるだけたくさんの星を取って進みます。下の長い四角にペンギンが取った星の数だけ○をかきます。月を通ると星は2つ消えてしまいます。一度通った道は戻れません。



○ × 6



○ × 8

※1. このプリントは、しながわ・目黒こどもスクールのウェブサイトでダウンロードができます。無断複写・引用はご遠慮ください。  
 ※2. このプリントを活用したオンライン授業のスケジュールは、しながわ・目黒こどもスクールのウェブサイトでご確認ください。

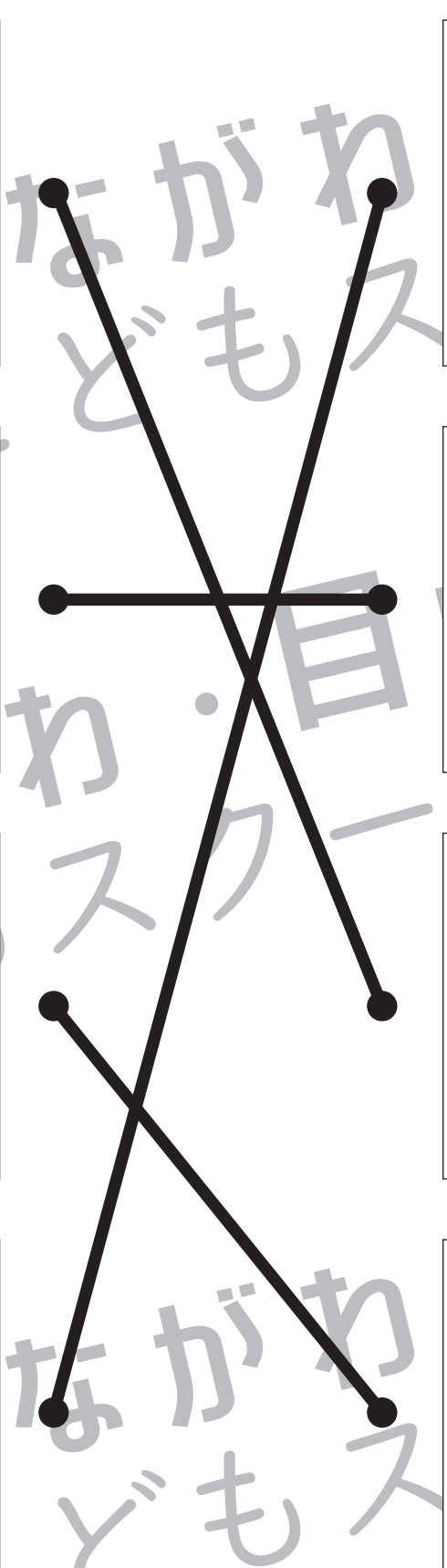
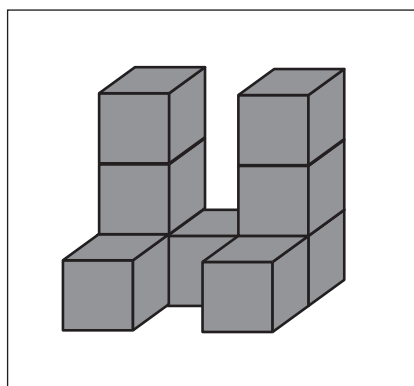

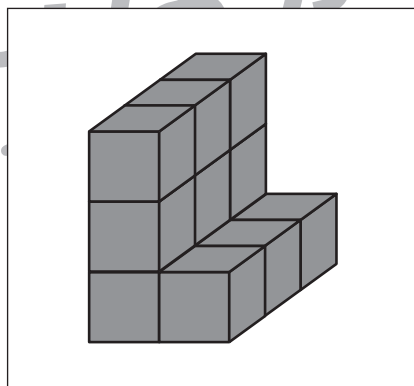

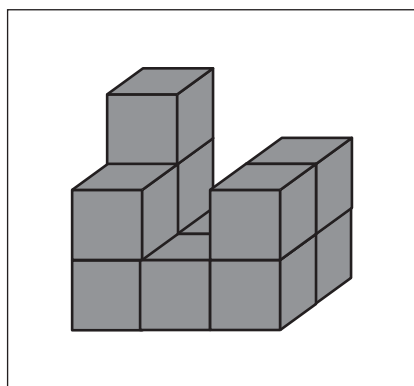
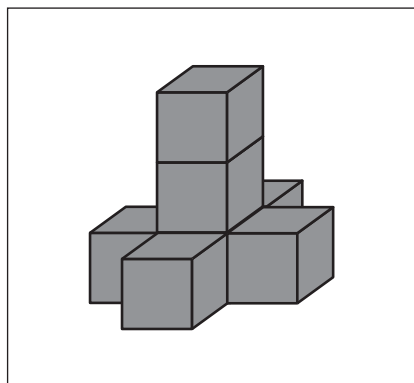


# おうちで、やろう。

Study at home. 小学校受験の家庭学習教材

## 推理：積み木 18

四角の中にある積み木の数と同じ星の数を並び、点と点を線で結びます。



※1. このプリントは、しながわ・目黒こどもスクールのウェブサイトでダウンロードができます。無断複写・引用はご遠慮ください。  
※2. このプリントを活用したオンライン授業のスケジュールは、しながわ・目黒こどもスクールのウェブサイトでご確認ください。



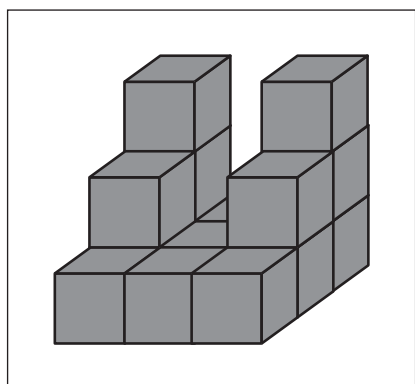
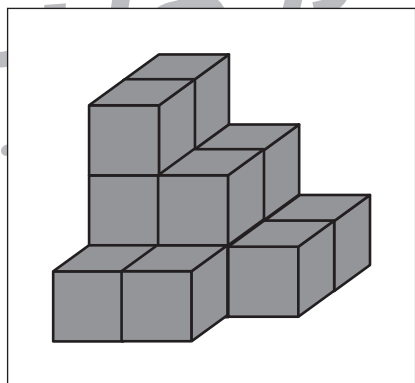

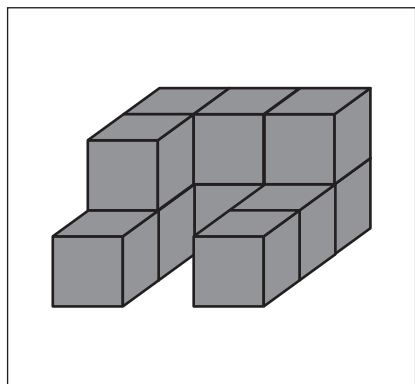

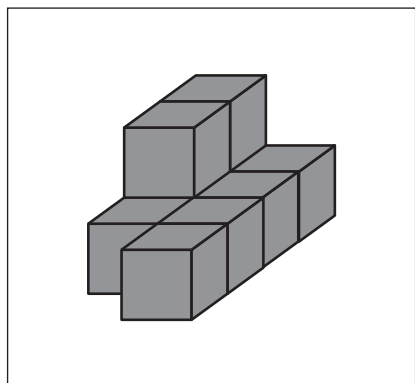


# おうちで、やろう。

Study at home. 小学校受験の家庭学習教材

## 推理：積み木 19

四角の中にある積み木の数よりも2つ多い星の数を選び、点と点を線で結びます。



※1. このプリントは、しながわ・目黒こどもスクールのウェブサイトでダウンロードができます。無断複写・引用はご遠慮ください。  
※2. このプリントを活用したオンライン授業のスケジュールは、しながわ・目黒こどもスクールのウェブサイトでご確認ください。

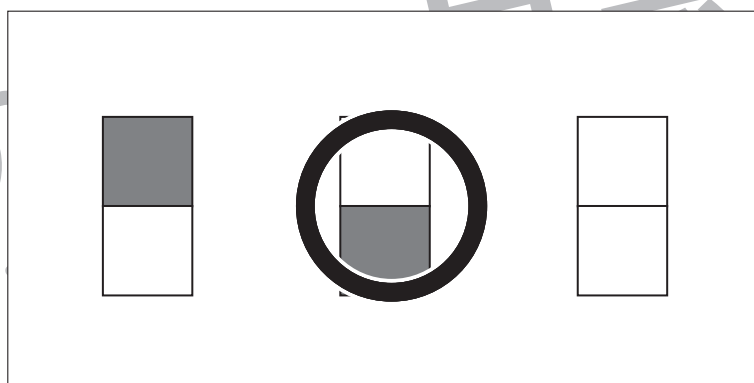
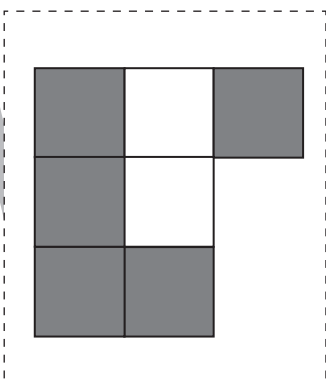
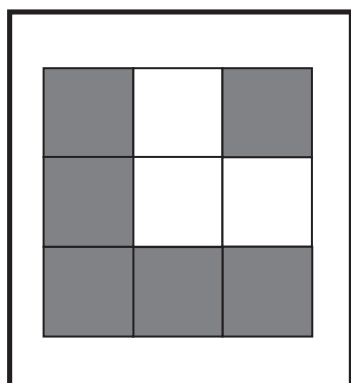
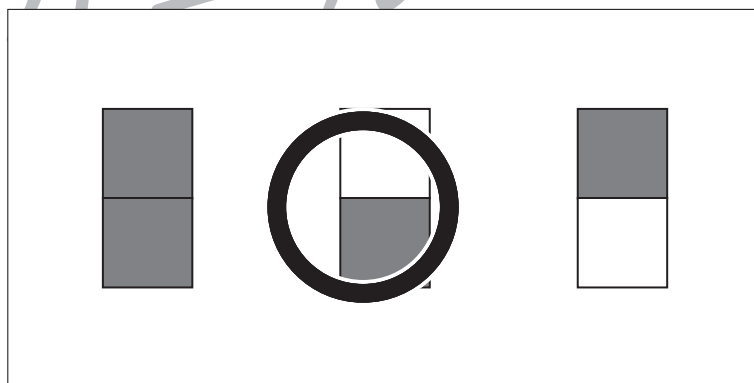
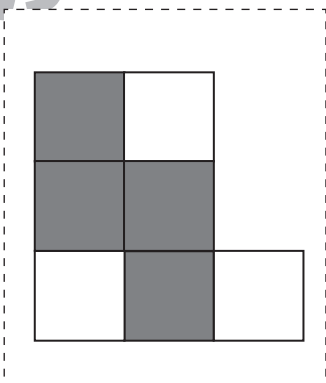
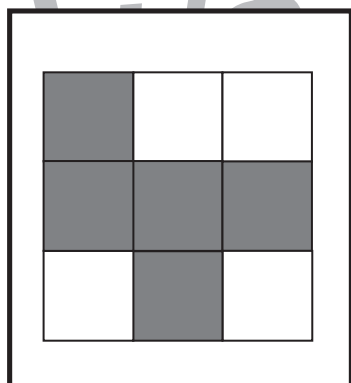
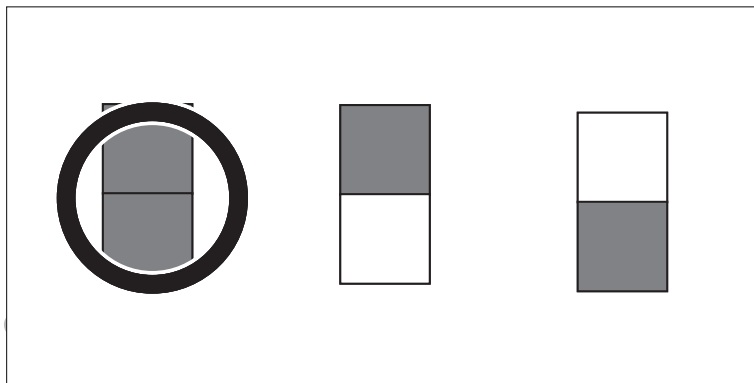
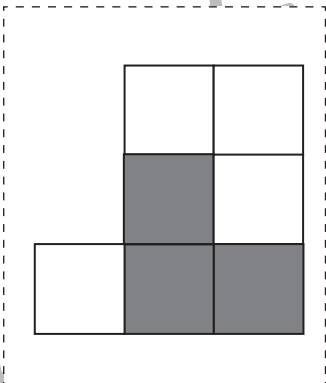
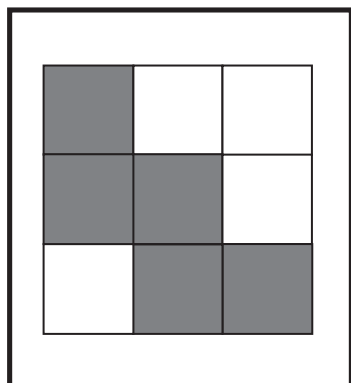
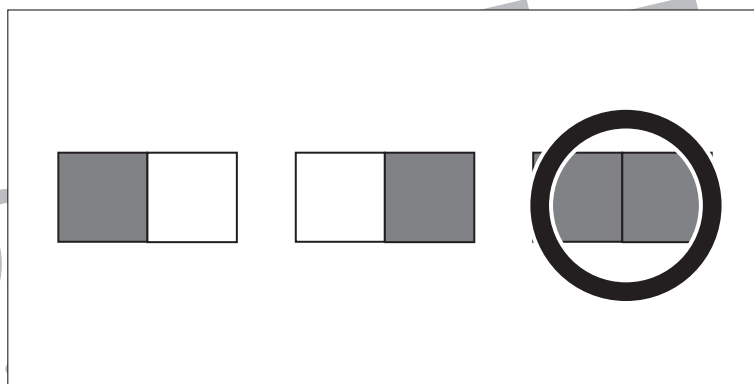
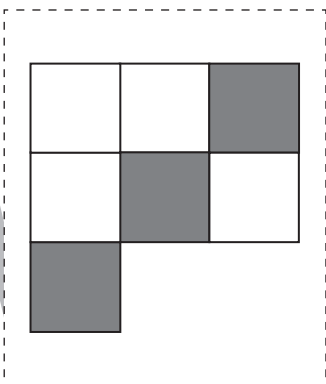
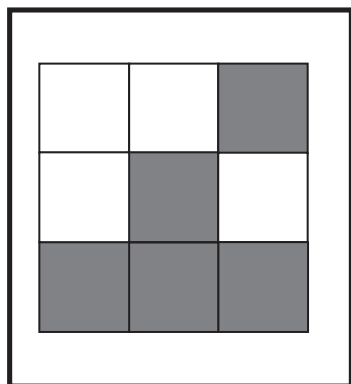


# おうちで、やろう。

Study at home. 小学校受験の家庭学習教材

## 図形：構成 17

左の太い四角の中がお手本です。このお手本の形を真ん中の点線の四角の中の形と右の四角の中の形を組み合わせて作ります。右の四角の中から正しいものを1つ見つけて○をつけます。右の形は向きを変えずにそのまま組み合わせます。



※1. このプリントは、しながわ・目黒こどもスクールのウェブサイトでダウンロードができます。無断複写・引用はご遠慮ください。  
※2. このプリントを活用したオンライン授業のスケジュールは、しながわ・目黒こどもスクールのウェブサイトでご確認ください。



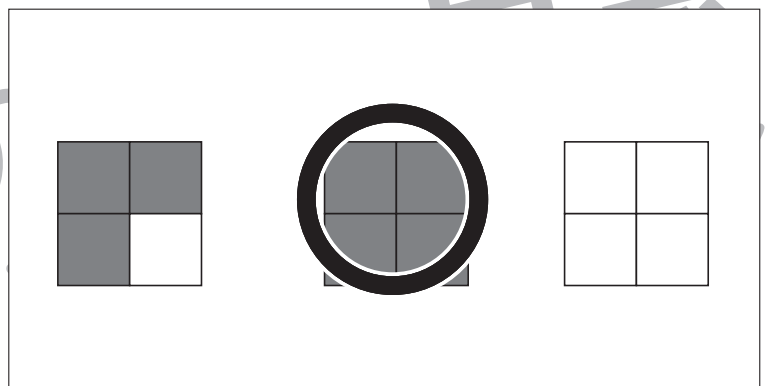
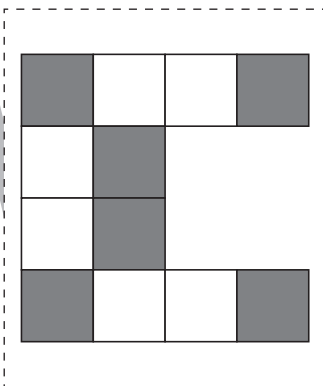
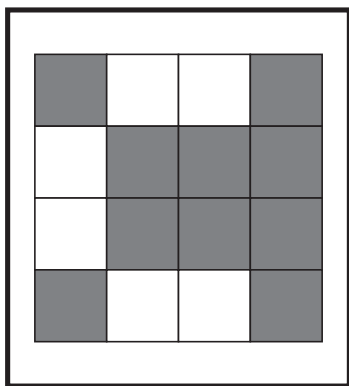
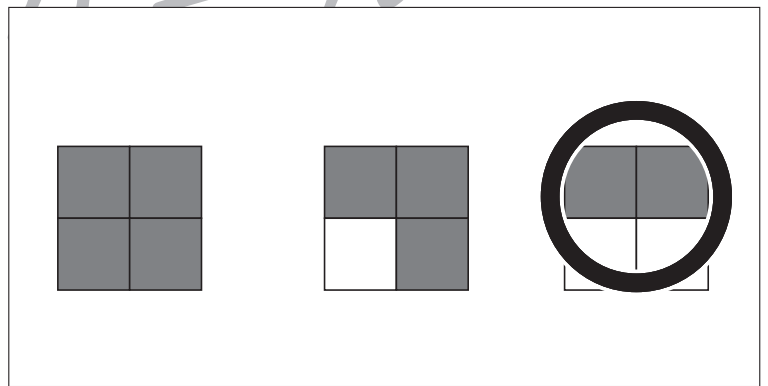
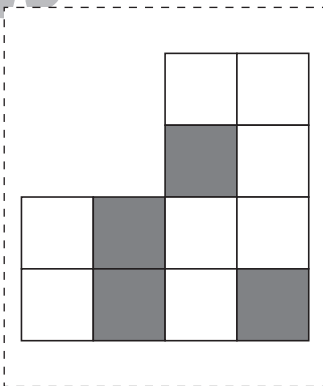
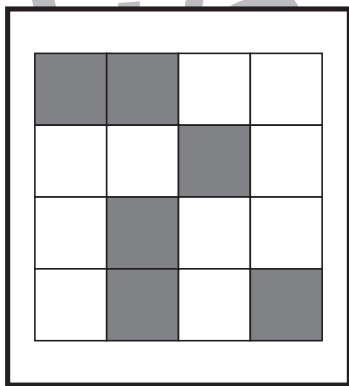
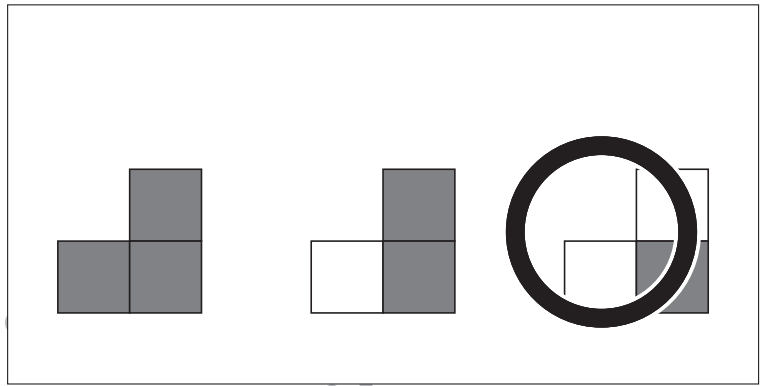
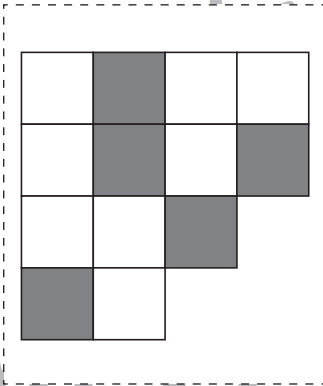
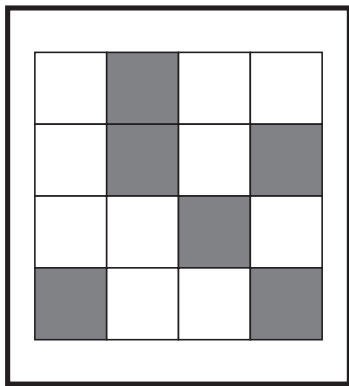
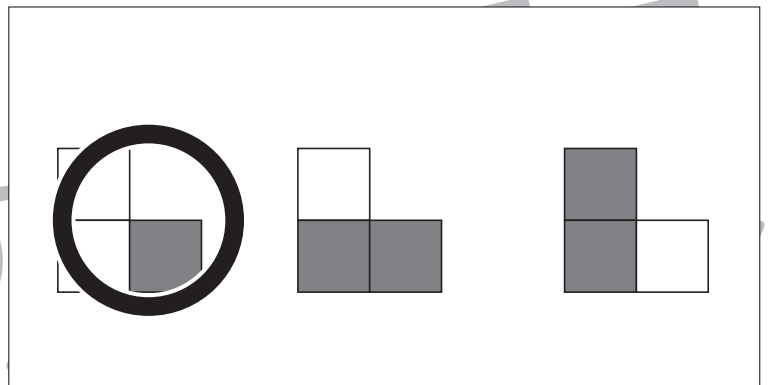
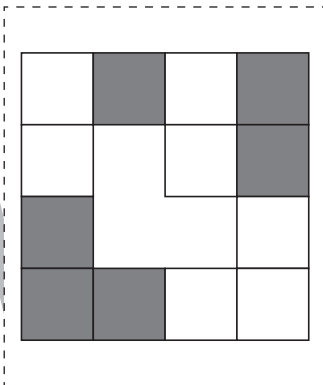
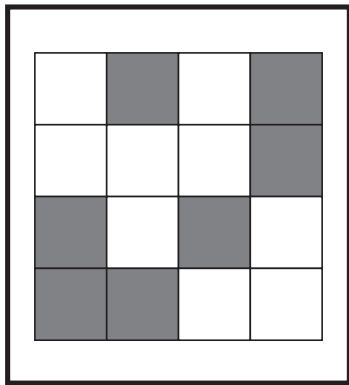


# おうちで、やろう。

Study at home. 小学校受験の家庭学習教材

図形：構成 18

左の太い四角の中がお手本です。このお手本の形を真ん中の点線の四角の中の形と右の四角の中の形を組み合わせて作ります。右の四角の中から正しいものを1つ見つけて○をつけます。右の形は向きを変えずにそのまま組み合わせます。



※1. このプリントは、しながわ・目黒こどもスクールのウェブサイトでダウンロードができます。無断複写・引用はご遠慮ください。  
※2. このプリントを活用したオンライン授業のスケジュールは、しながわ・目黒こどもスクールのウェブサイトでご確認ください。





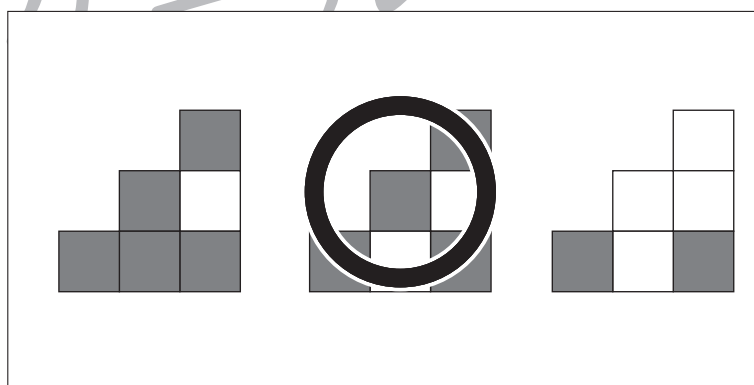
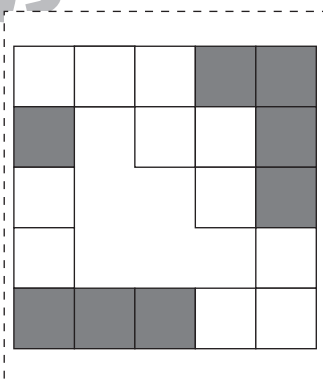

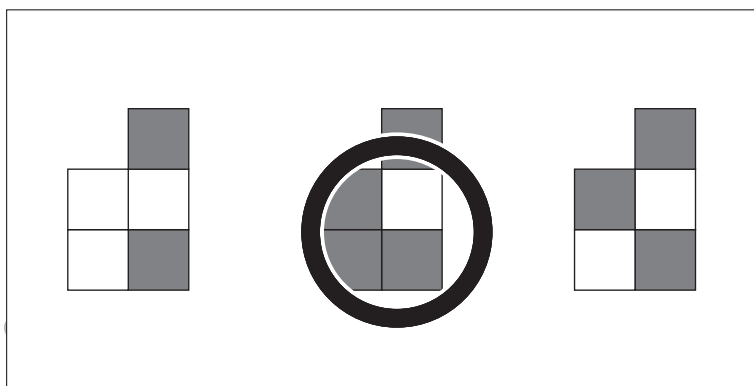
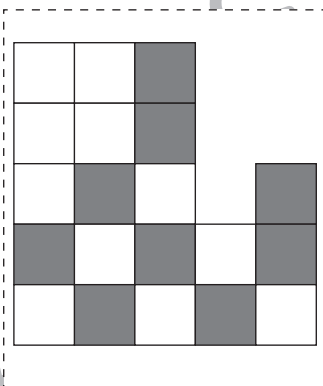
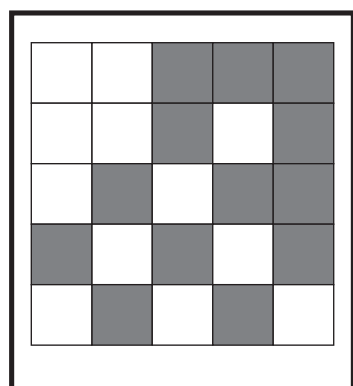
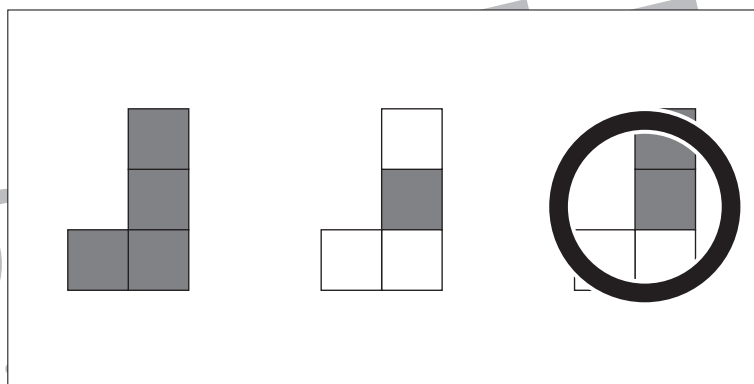

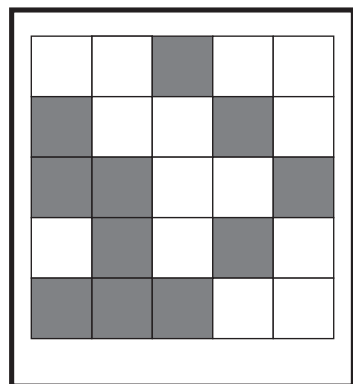


# おうちで、やろう。

Study at home. 小学校受験の家庭学習教材

## 図形：構成 19

左の太い四角の中がお手本です。このお手本の形を真ん中の点線の四角の中の形と右の四角の中の形を組み合わせで作ります。右の四角の中から正しいものを1つ見つけて○をつけます。右の形は向きを変えて組み合わせます。



※1. このプリントは、しながわ・目黒こどもスクールのウェブサイトでダウンロードができます。無断複写・引用はご遠慮ください。  
※2. このプリントを活用したオンライン授業のスケジュールは、しながわ・目黒こどもスクールのウェブサイトでご確認ください。

