





# おうちで、やろう。

Study at home. 小学校受験の家庭学習教材

## 指示の聞き取り 29

それぞれの設問に答えましょう。指示は一度ですべて読み上げます。しっかり聞いて取り組みましょう。

- ①手を伸ばして前ならえをしている男の子に○をつけます。
- ②両手をグーにしている男の子の右にいるお友だちに○をつけます。
- ③眼鏡をかけているお友だちの隣りにいる二つ結びをしていないお友だちに○をつけます。



※1. このプリントは、しながわ・目黒こどもスクールのウェブサイトでダウンロードができます。無断複写・引用はご遠慮ください。

※2. このプリントを活用したオンライン授業のスケジュールは、しながわ・目黒こどもスクールのウェブサイトでご確認ください。

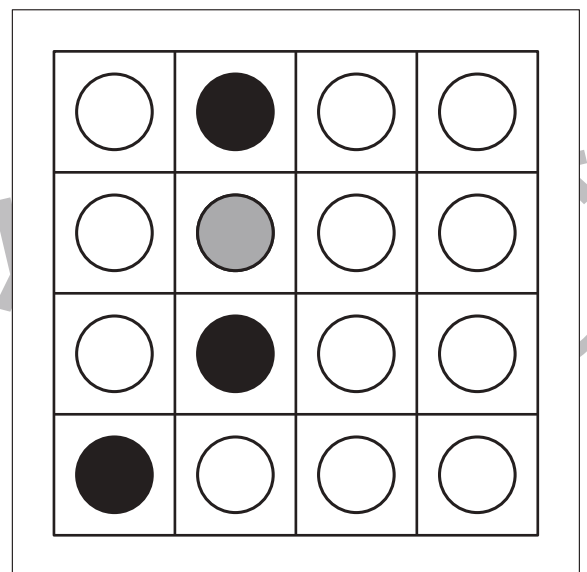
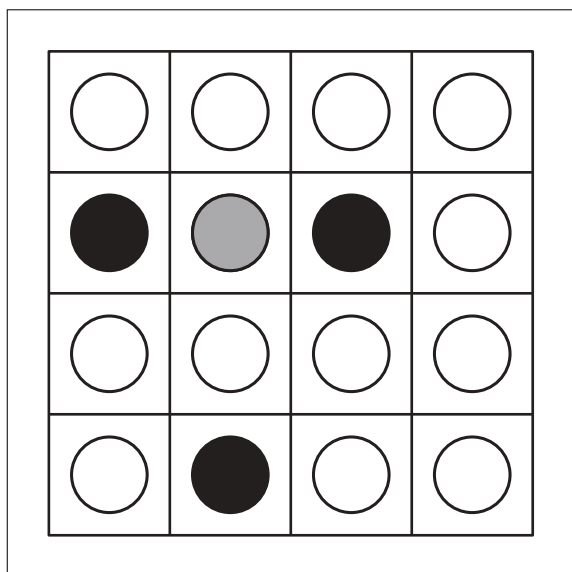
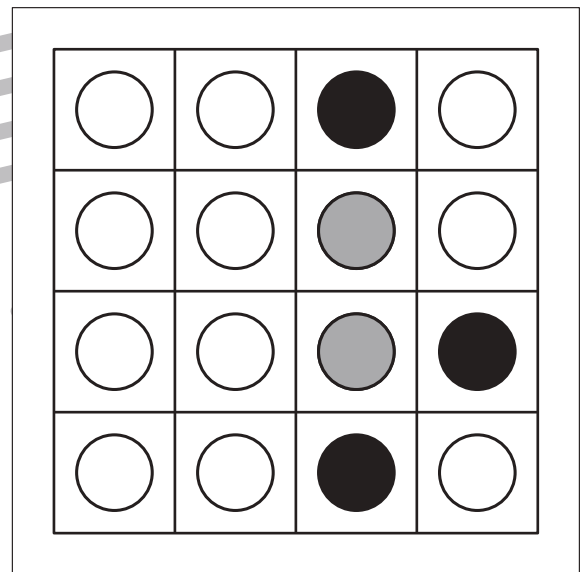
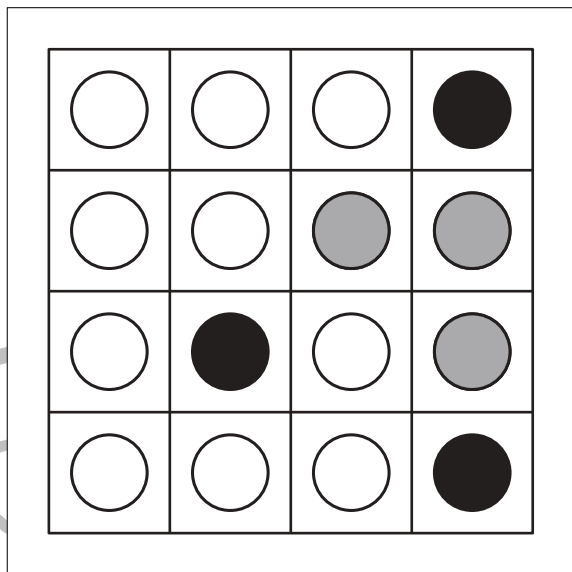

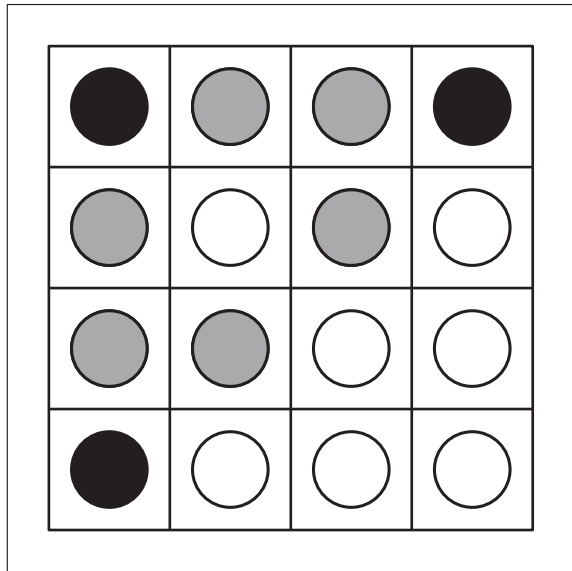


# おうちで、やろう。

Study at home. 小学校受験の家庭学習教材

図形：オセロ3

四角の中の●と●で挟まれた○を（たて・よこ・ななめ）すべて塗ります。自分で塗った●で挟まれた箇所は塗らないようにします。



※1. このプリントは、しながわ・目黒こどもスクールのウェブサイトでダウンロードができます。無断複写・引用はご遠慮ください。

※2. このプリントを活用したオンライン授業のスケジュールは、しながわ・目黒こどもスクールのウェブサイトでご確認ください。







# おうちで、やろう。

Study at home. 小学校受験の家庭学習教材

## 図形：オセロ 4

四角の中の●と●で挟まれた○を（たて・よこ・ななめ）すべて塗ります。自分で塗った●で挟まれた箇所は塗らないようにします。



※1. このプリントは、しながわ・目黒子どもスクールのウェブサイトでダウンロードができます。無断複写・引用はご遠慮ください。  
 ※2. このプリントを活用したオンライン授業のスケジュールは、しながわ・目黒子どもスクールのウェブサイトでご確認ください。

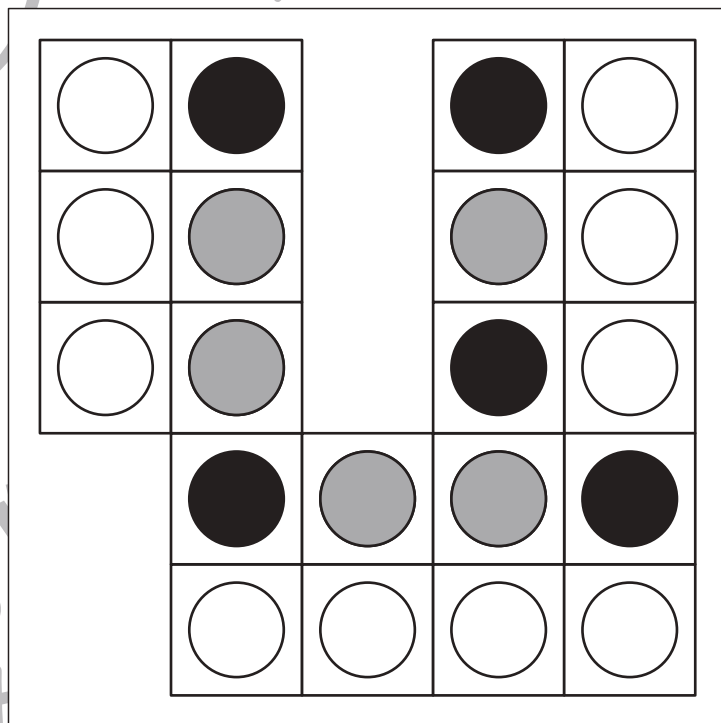

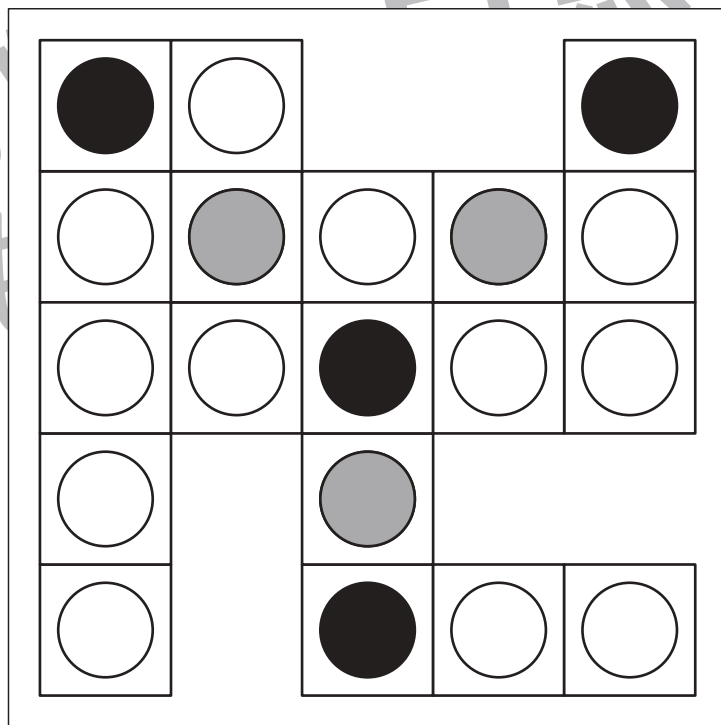
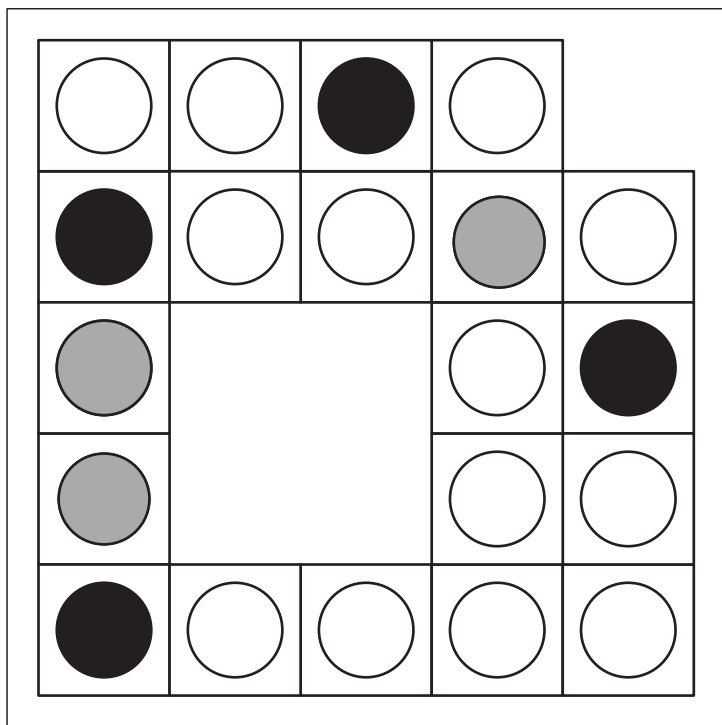


# おうちで、やろう。

Study at home. 小学校受験の家庭学習教材

図形：オセロ5

四角の中の●と●で挟まれた○を（たて・よこ・ななめ）すべて塗ります。自分で塗った●で挟まれた箇所は塗らないようにします。



※1. このプリントは、しながわ・目黒こどもスクールのウェブサイトでダウンロードができます。無断複写・引用はご遠慮ください。  
 ※2. このプリントを活用したオンライン授業のスケジュールは、しながわ・目黒こどもスクールのウェブサイトでご確認ください。



























# おうちで、やろう。

Study at home. 小学校受験の家庭学習教材

## 推理：観覧車 2

観覧車には動物が乗っています。それぞれの動物が矢印の方向に動く観覧車に乗っている時、何回その方向に動くと白い○の場所にくるかを考えて、動物の横の四角に動いた数だけ○をかきます。

※1. このプリントは、しながわ・目黒こどもスクールのウェブサイトでダウンロードができます。無断複写・引用はご遠慮ください。

※2. このプリントを活用したオンライン授業のスケジュールは、しながわ・目黒こどもスクールのウェブサイトでご確認ください。



# おうちで、やろう。

Study at home. 小学校受験の家庭学習教材

## 推理：観覧車 3

観覧車に動物が乗っています。右の上の四角の中は回転する方向が書いてあります。

上の四角の中にいる動物が○の数だけ矢印の方向に動いた時、どの動物の場所に着くかを考えて、口をつけます。

		<input type="radio"/>	<input type="radio"/>	

		<input type="radio"/>	<input type="radio"/>	<input type="radio"/>

		<input type="radio"/>	<input type="radio"/>	<input type="radio"/>

		<input type="radio"/>	<input type="radio"/>	<input type="radio"/>	<input type="radio"/>

※1. このプリントは、しながわ・目黒こどもスクールのウェブサイトでダウンロードができます。無断複写・引用はご遠慮ください。

※2. このプリントを活用したオンライン授業のスケジュールは、しながわ・目黒こどもスクールのウェブサイトでご確認ください。

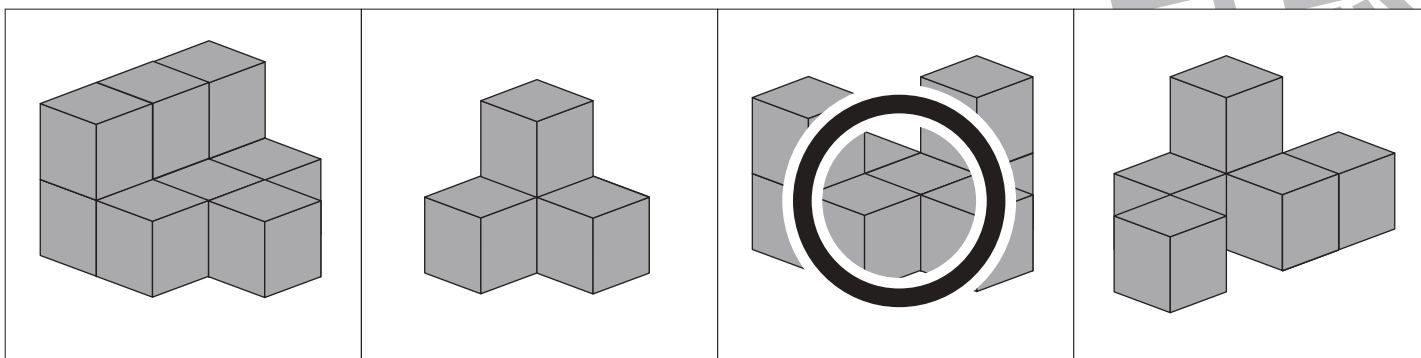
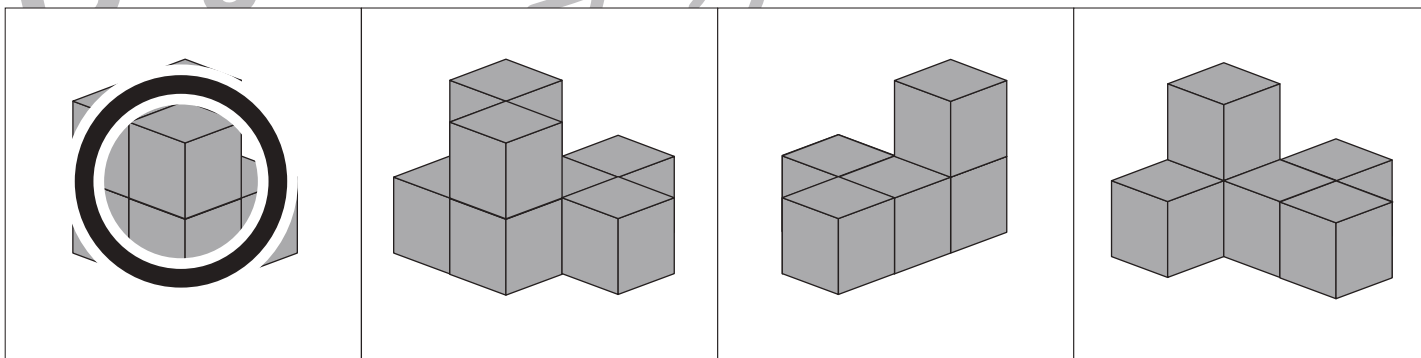
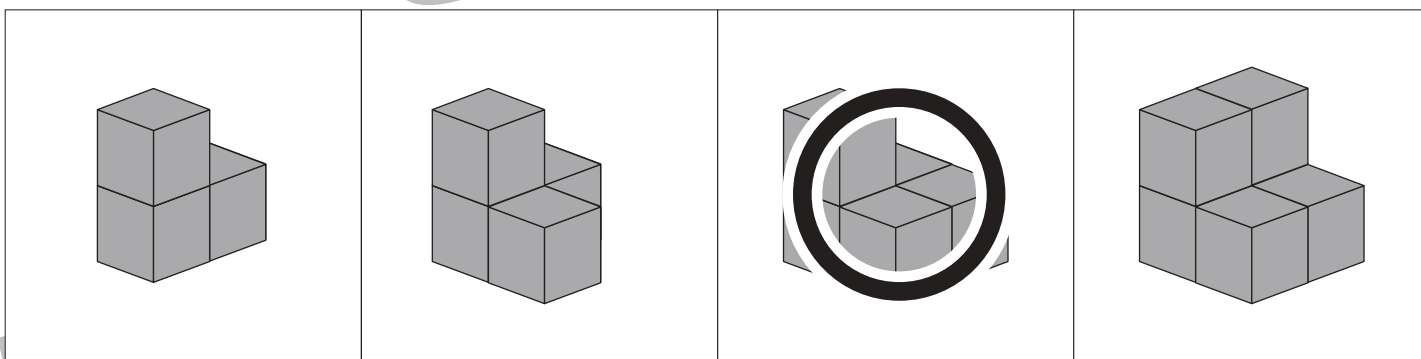
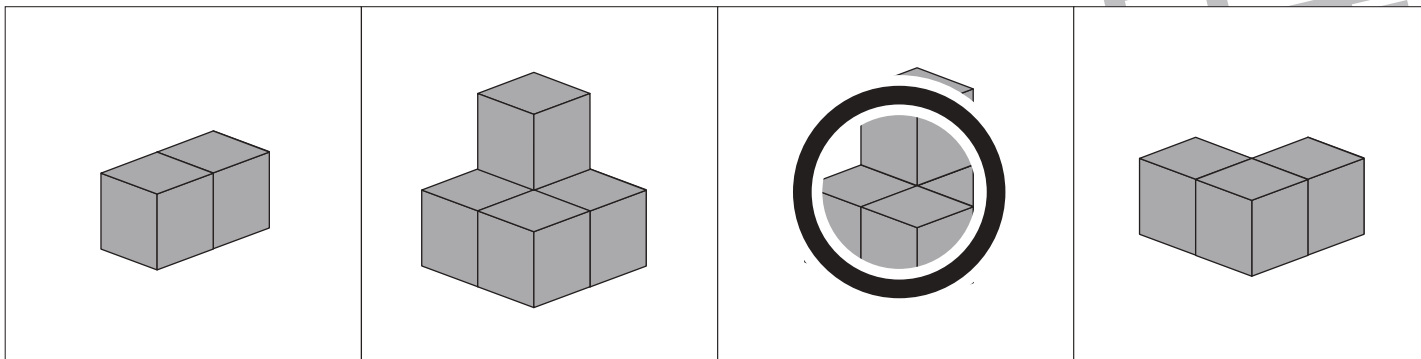


# おうちで、やろう。

Study at home. 小学校受験の家庭学習教材

数量：多少 16

横に並んだ 4 つの四角の中で積み木が二番目に多い四角に○をつけます。



※1. このプリントは、しながわ・目黒こどもスクールのウェブサイトでダウンロードができます。無断複写・引用はご遠慮ください。  
 ※2. このプリントを活用したオンライン授業のスケジュールは、しながわ・目黒こどもスクールのウェブサイトでご確認ください。

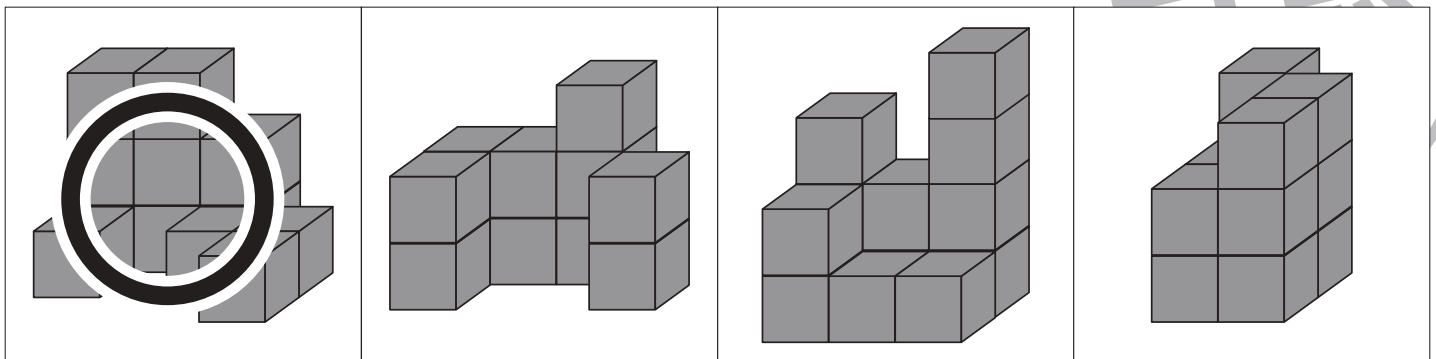
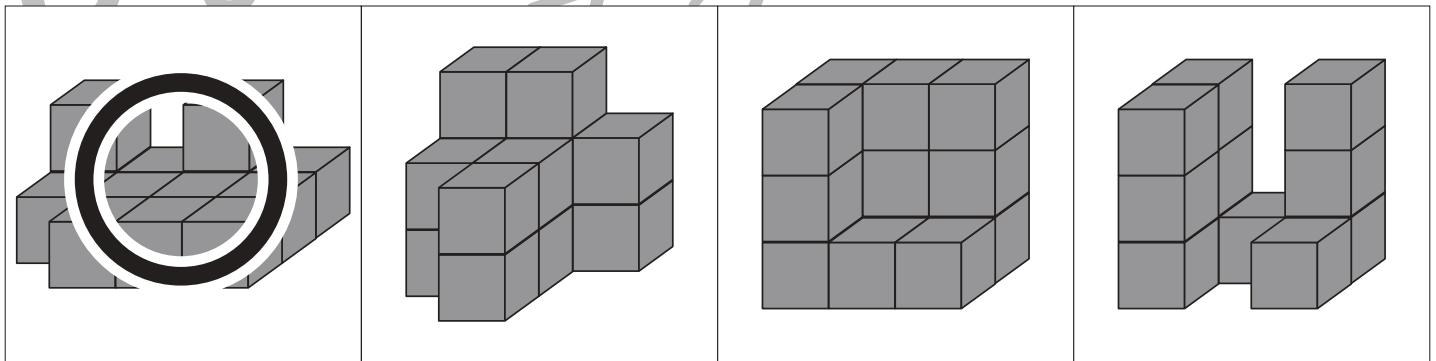
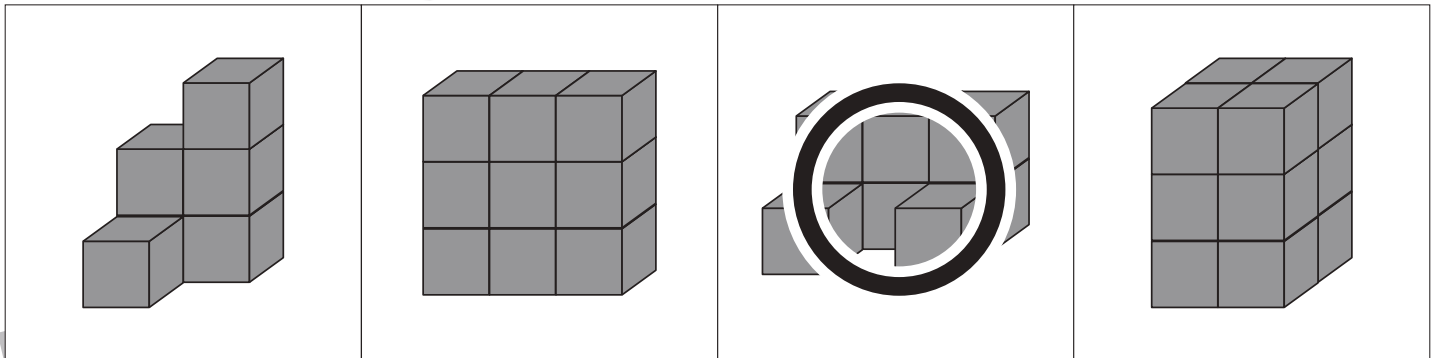
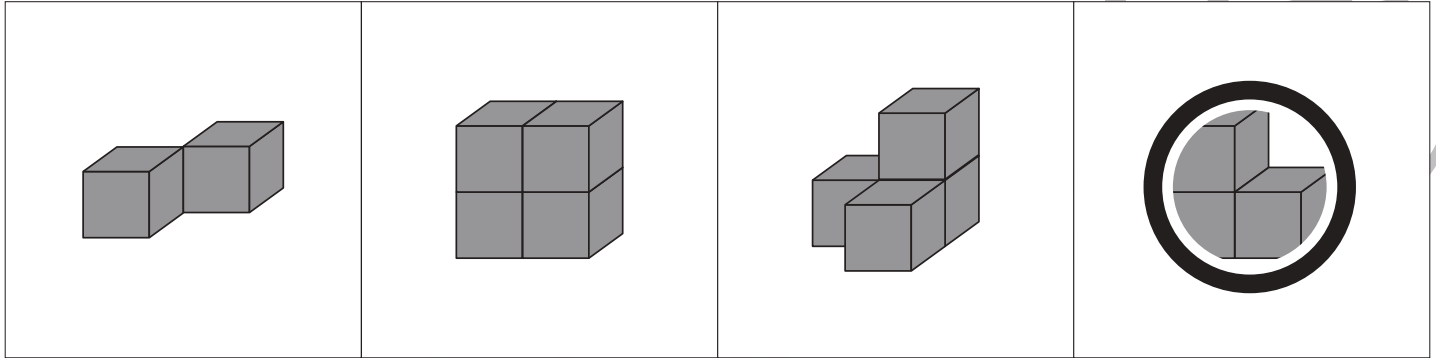


# おうちで、やろう。

Study at home. 小学校受験の家庭学習教材

数量：多少 17

横に並んだ 4 つの四角の中で積み木が二番目に少ない四角に○をつけます。



※1. このプリントは、しながわ・目黒こどもスクールのウェブサイトでダウンロードができます。無断複写・引用はご遠慮ください。  
 ※2. このプリントを活用したオンライン授業のスケジュールは、しながわ・目黒こどもスクールのウェブサイトでご確認ください。





# おうちで、やろう。

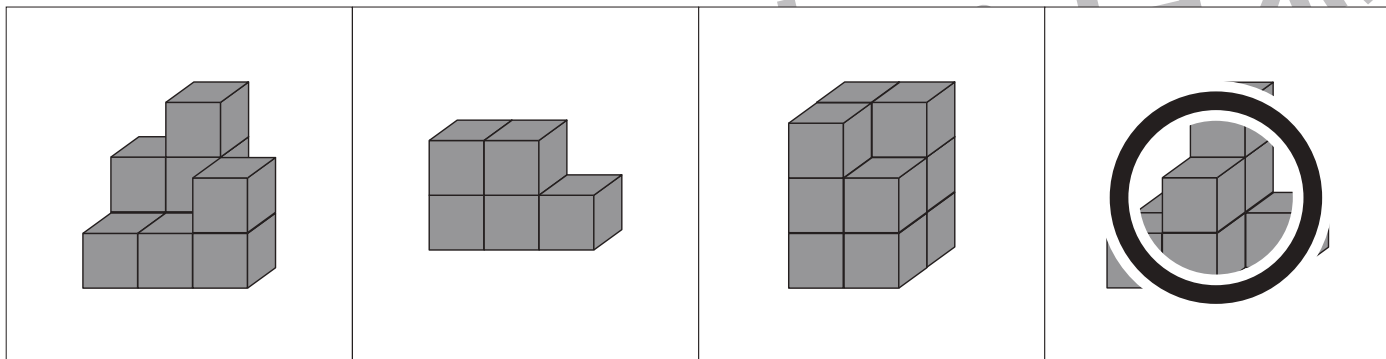
Study at home. 小学校受験の家庭学習教材

数量：多少 18

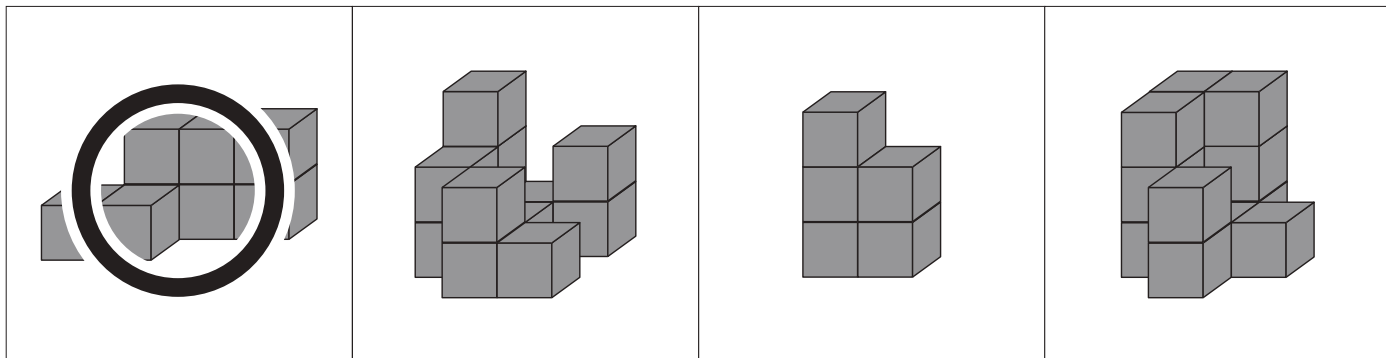
それぞれの問題を聞いて答えます。

- ①積み木の数が2番目に少ないものに○をつけます。
- ②積み木の数が3番目に多いものに○をつけます。
- ③積み木の数が合わせて13個になるもの2つを選んで○をつけます。
- ④積み木の数が合わせて17個になるものを2つ選んで○をつけます。

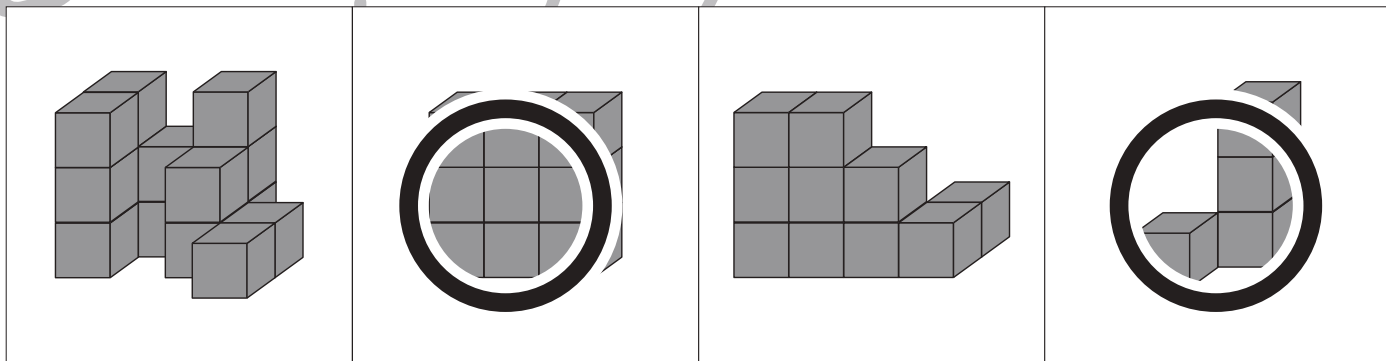
①



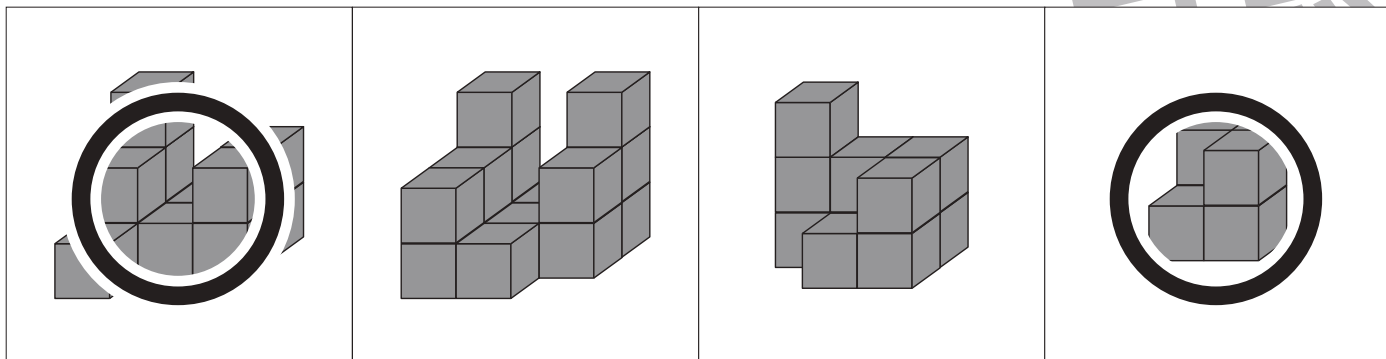
②



③



④



※1. このプリントは、しながわ・目黒こどもスクールのウェブサイトでダウンロードができます。無断複写・引用はご遠慮ください。  
 ※2. このプリントを活用したオンライン授業のスケジュールは、しながわ・目黒こどもスクールのウェブサイトでご確認ください。