



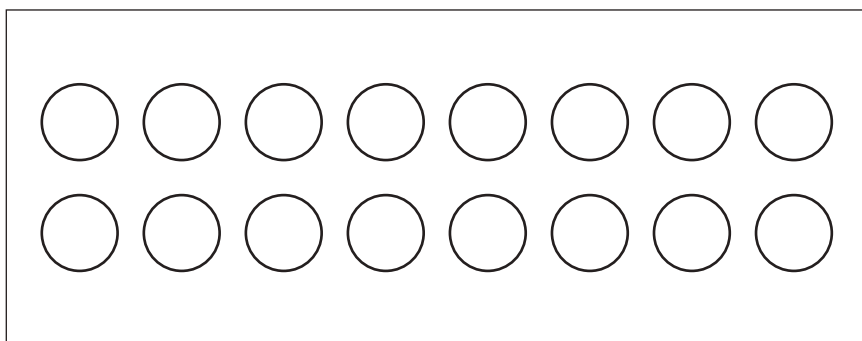
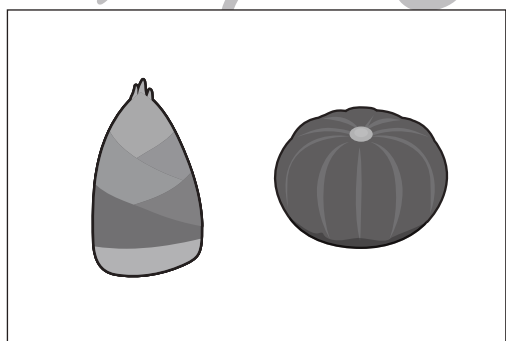

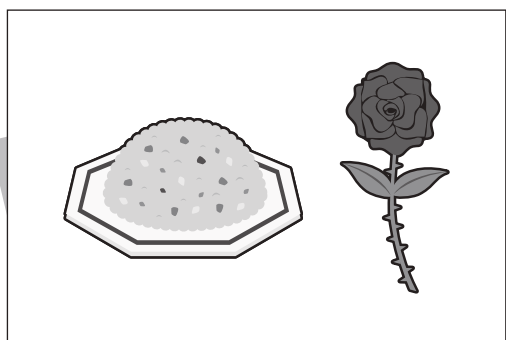


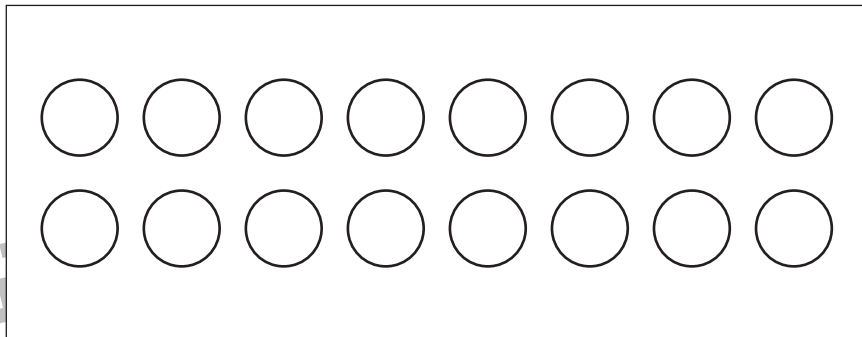
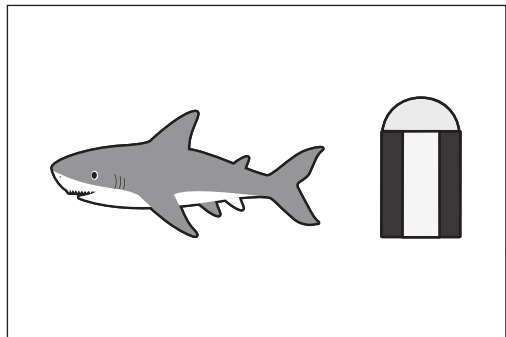


おうちで、やろう。

Study at home. 小学校受験の家庭学習教材

言語：音の数 31

四角の中にある絵の音の数を数えます。その音の数を合わせた数だけ丸を塗ります。



※1. このプリントは、しながわ・目黒こどもスクールのウェブサイトでダウンロードができます。無断複写・引用はご遠慮ください。
※2. このプリントを活用したオンライン授業のスケジュールは、しながわ・目黒こどもスクールのウェブサイトでご確認ください。



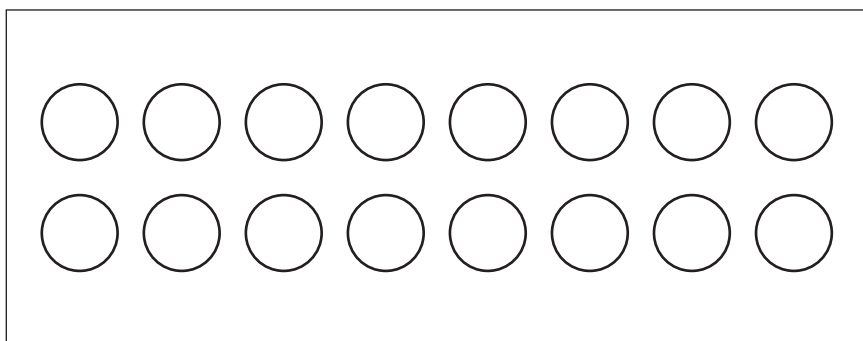



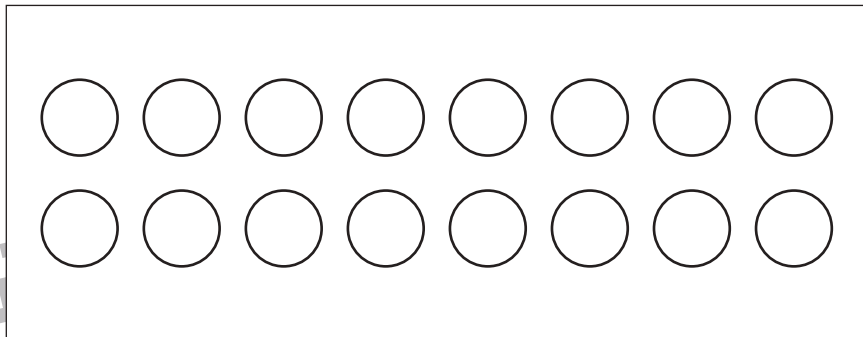



おうちで、やろう。

Study at home. 小学校受験の家庭学習教材

言語：音の数 32

四角の中にある絵の音の数を数えます。その音の数を合わせた数だけ丸を塗ります。



※1. このプリントは、しながわ・目黒こどもスクールのウェブサイトからダウンロードできます。無断複写・引用はご遠慮ください。

※2. このプリントを活用したオンライン授業のスケジュールは、しながわ・目黒こどもスクールのウェブサイトでご確認ください。





おうちで、やろう。

Study at home. 小学校受験の家庭学習教材

推理：あみだくじ 9

ヒツジがいるところからあみだくじをします。☆のついた四角につくためには線が1本足りません。

その場所を考えて1本だけ線を引きます。

※あみだくじのルール：①上から下へ進みます。道は戻ってはいけません。②途中で曲がり角があったら必ず曲がります。

A 5x5 grid for a logic puzzle. A sheep icon is at the top center. A star is in the bottom-left cell. The rest of the cells are empty.

A 5x5 grid for a logic puzzle. A sheep icon is at the top right. A star is in the bottom-middle cell. The rest of the cells are empty.

※1. このプリントは、しながわ・目黒こどもスクールのウェブサイトからダウンロードができます。無断複写・引用はご遠慮ください。

※2. このプリントを活用したオンライン授業のスケジュールは、しながわ・目黒こどもスクールのウェブサイトでご確認ください。



おうちで、やろう。

Study at home. 小学校受験の家庭学習教材

推理：あみだくじ 10

ヒツジがいるところからあみだくじをします。☆のついた四角につくためには線が1本足りません。

その場所を考えて1本だけ線を引きます。

※あみだくじのルール：①上から下へ進みます。道は戻ってはいけません。②途中で曲がり角があったら必ず曲がります。

A 5x5 grid for a logic puzzle. A sheep icon is at the top right. A star is in a rounded square at the bottom left. The rest of the rounded squares are empty.

A 5x5 grid for a logic puzzle. A sheep icon is at the top center. A star is in a rounded square at the bottom right. The rest of the rounded squares are empty.

※1. このプリントは、しながわ・目黒こどもスクールのウェブサイトでダウンロードができます。無断複写・引用はご遠慮ください。
 ※2. このプリントを活用したオンライン授業のスケジュールは、しながわ・目黒こどもスクールのウェブサイトでご確認ください。

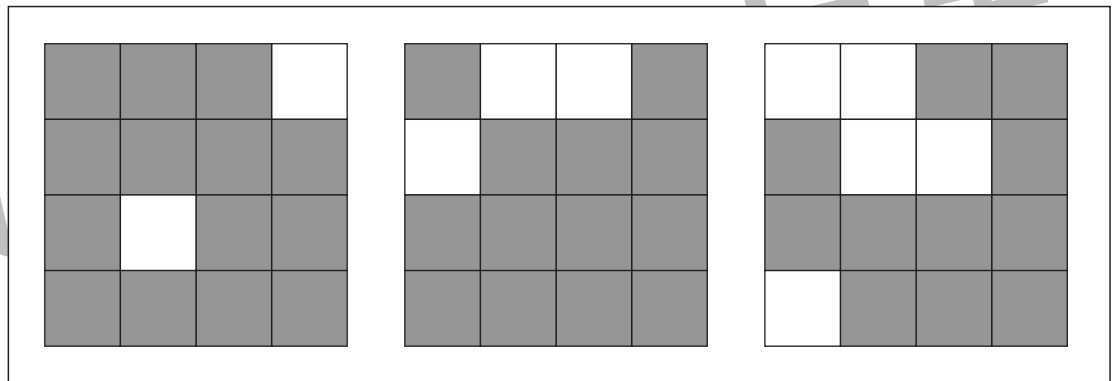
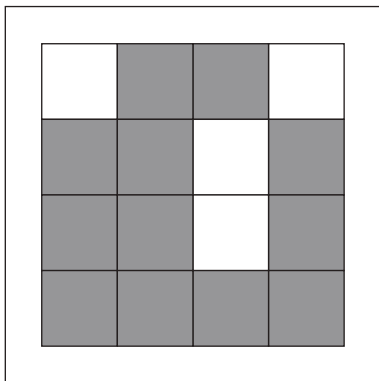
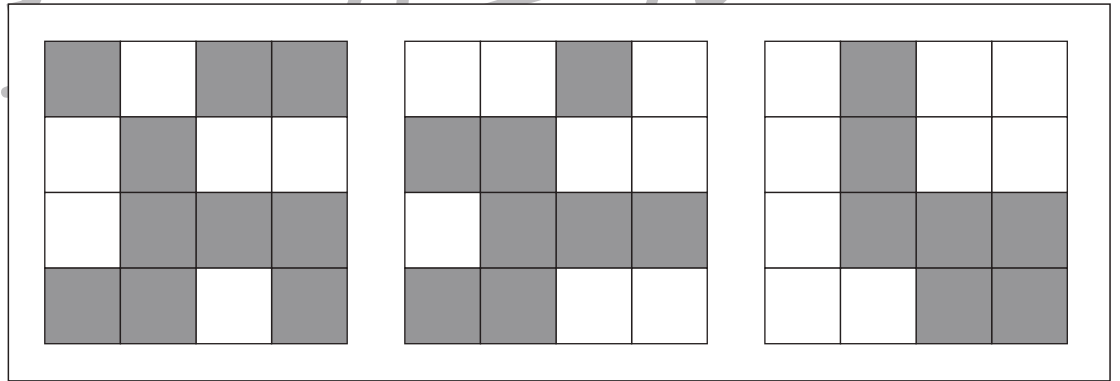

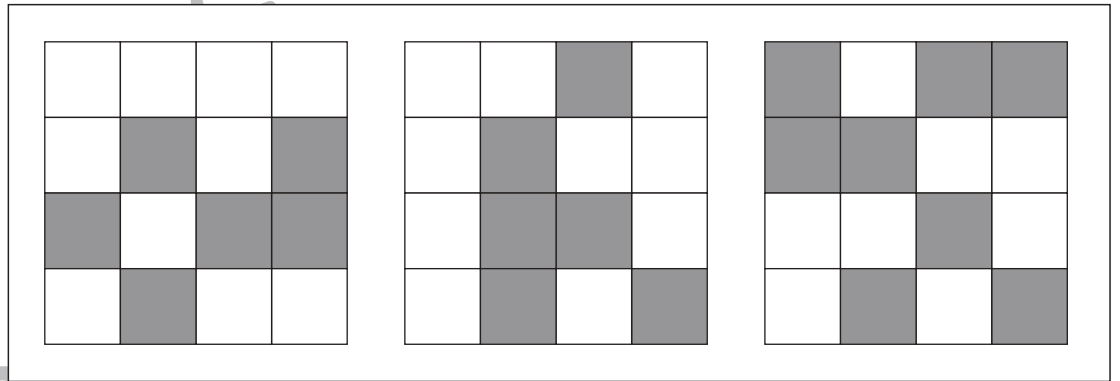
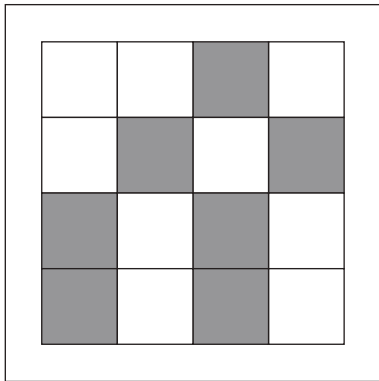
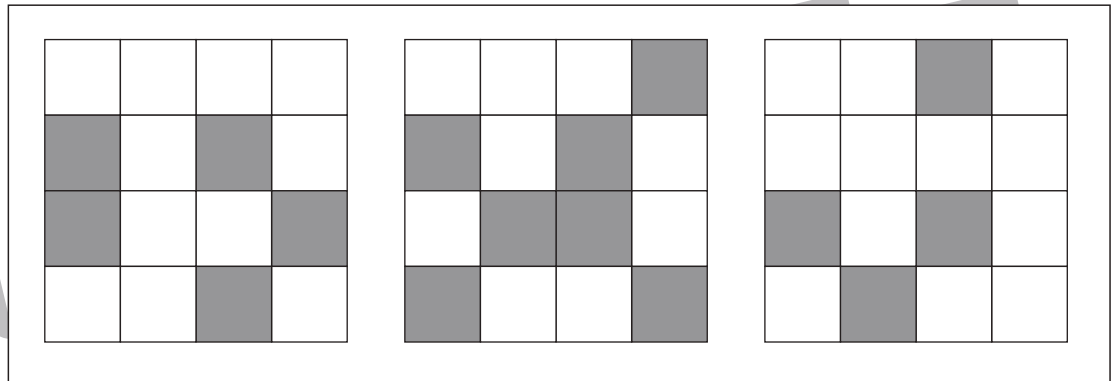
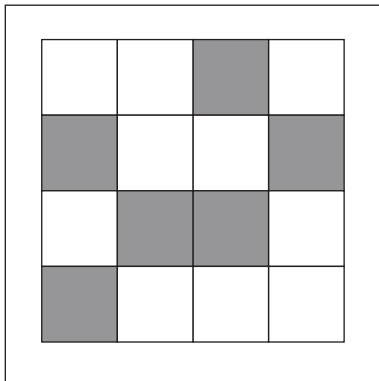


おうちで、やろう。

Study at home. 小学校受験の家庭学習教材

数量：広さ 14

左の四角の中のマスを見て考えます。右の四角の中の灰色のマスが左の四角よりも広いものすべてに○をつけます。



※1. このプリントは、しながわ・目黒こどもスクールのウェブサイトでダウンロードができます。無断複写・引用はご遠慮ください。
※2. このプリントを活用したオンライン授業のスケジュールは、しながわ・目黒こどもスクールのウェブサイトでご確認ください。

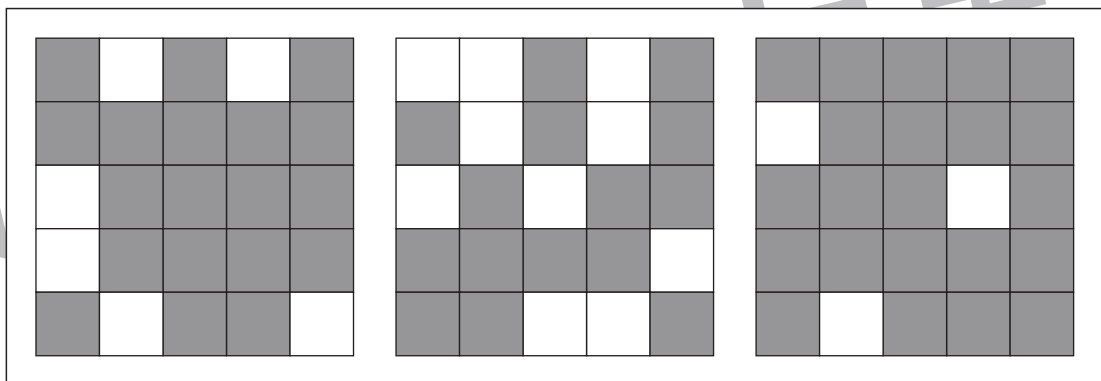
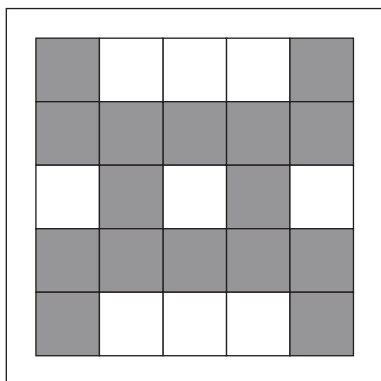
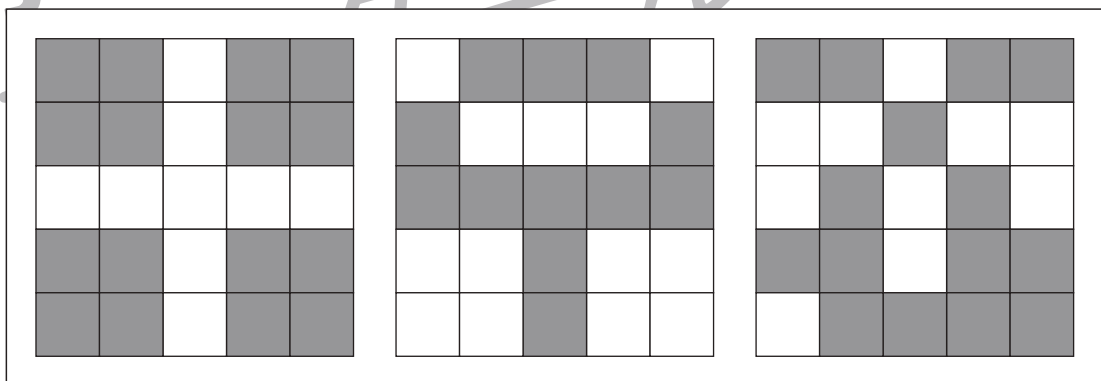
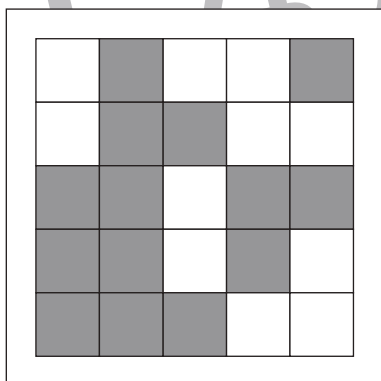
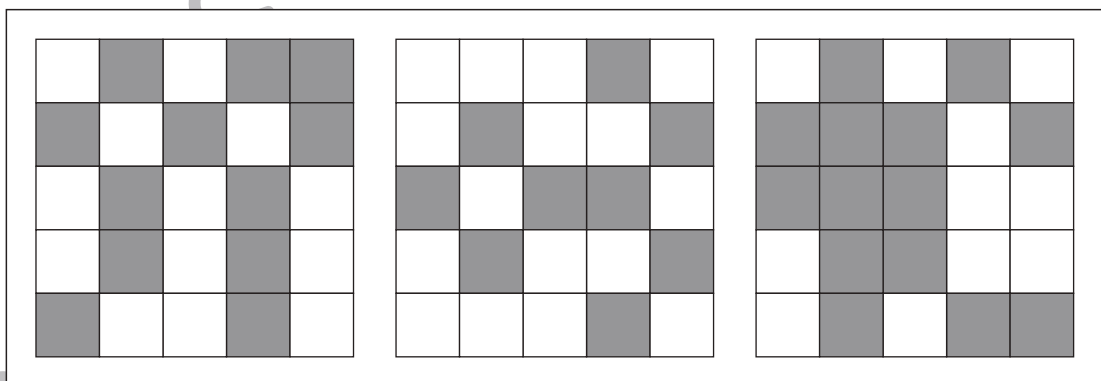
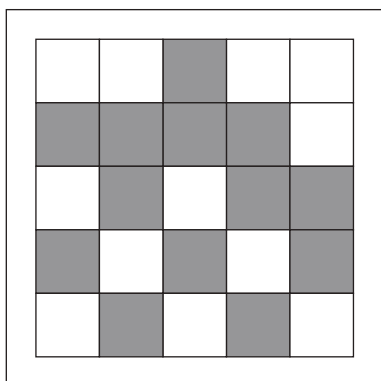
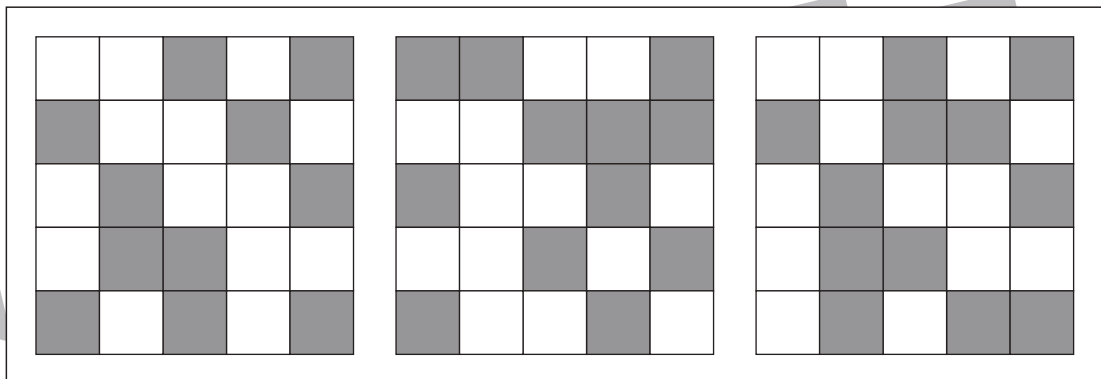
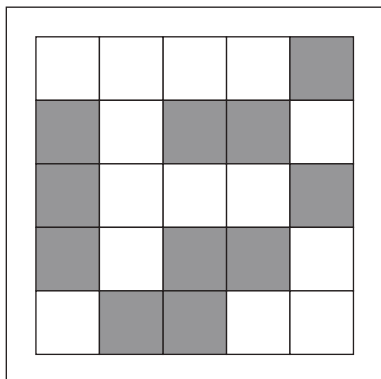


おうちで、やろう。

Study at home. 小学校受験の家庭学習教材

数量：広さ 15

左の四角の中のマスを見て考えます。右の四角の中の灰色のマスが左の四角よりも広いものすべてに○をつけます。



※1. このプリントは、しながわ・目黒こどもスクールのウェブサイトでダウンロードができます。無断複写・引用はご遠慮ください。
※2. このプリントを活用したオンライン授業のスケジュールは、しながわ・目黒こどもスクールのウェブサイトでご確認ください。



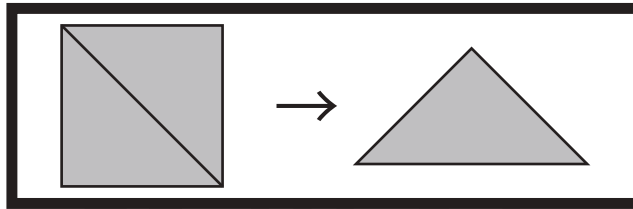


おうちで、やろう。

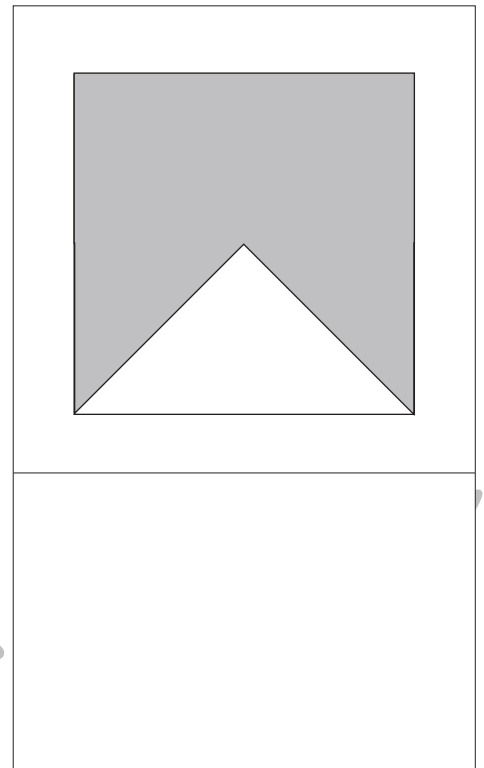
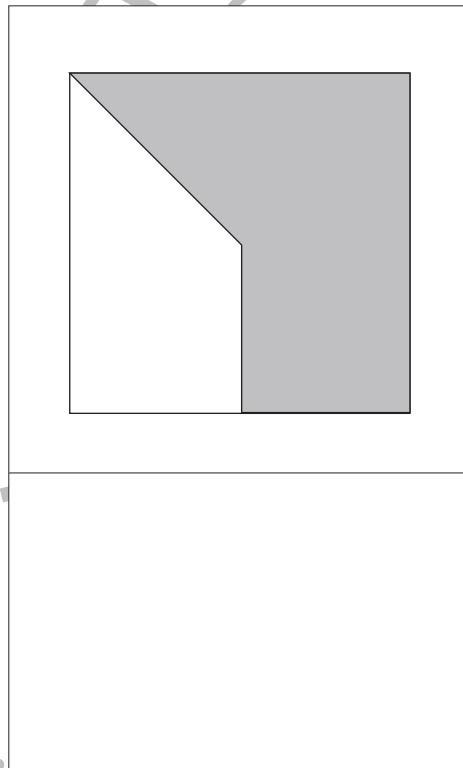
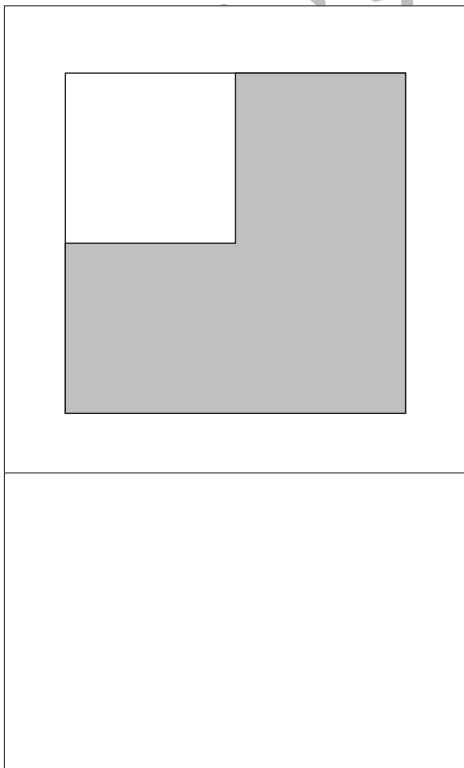
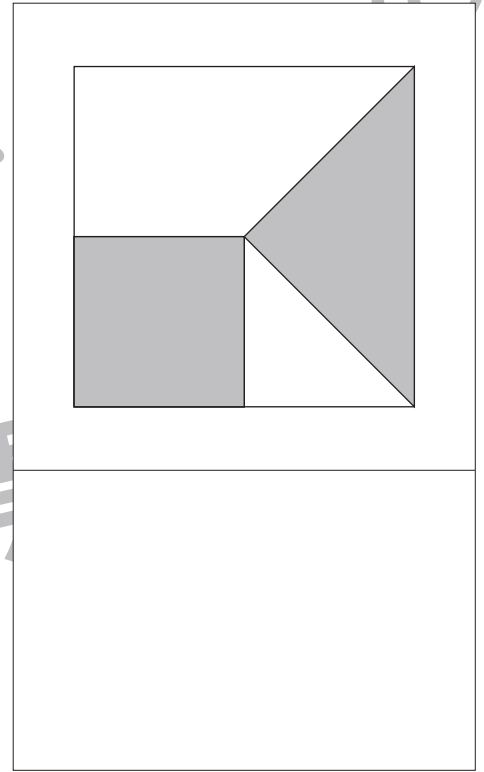
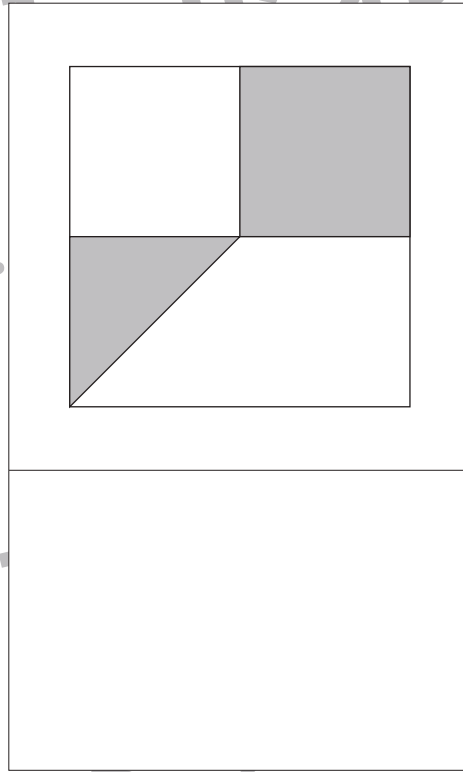
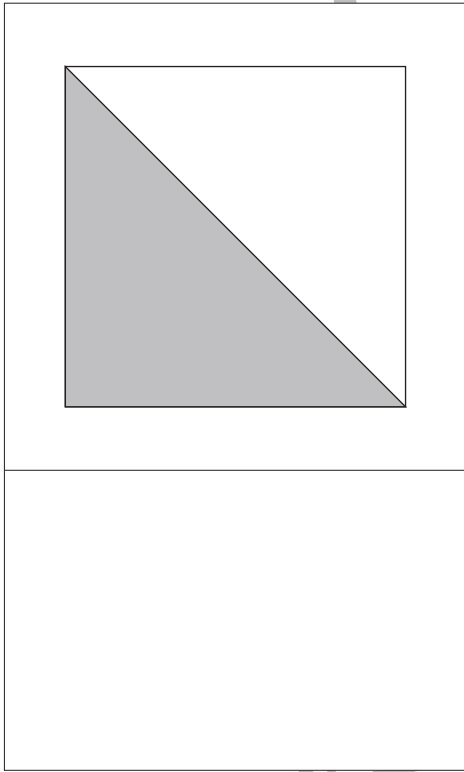
Study at home. 小学校受験の家庭学習教材

図形：三角パズル5

上の太い四角の中の四角を半分にして三角パズルを作りました。この三角パズルを使ってそれぞれの形を作ります。それぞれ形は三角パズルを何枚使えばできるのかを考えて、下の四角の中にその数だけ〇をかきます。



目黒



※1. このプリントは、しながわ・目黒こどもスクールのウェブサイトでダウンロードができます。無断複写・引用はご遠慮ください。
※2. このプリントを活用したオンライン授業のスケジュールは、しながわ・目黒こどもスクールのウェブサイトでご確認ください。


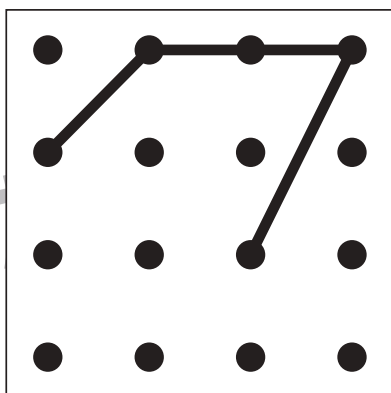
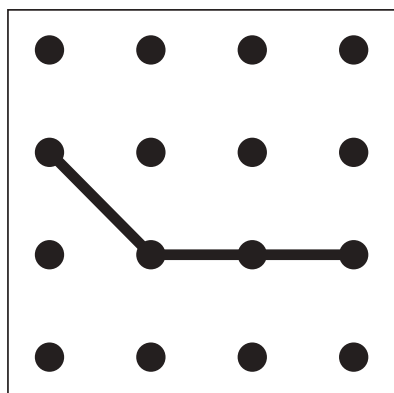

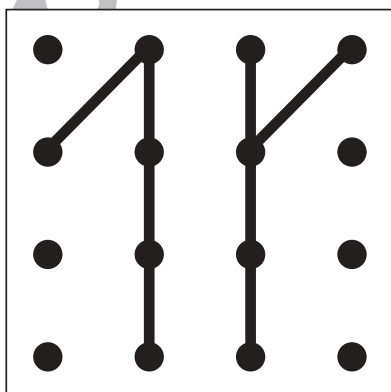
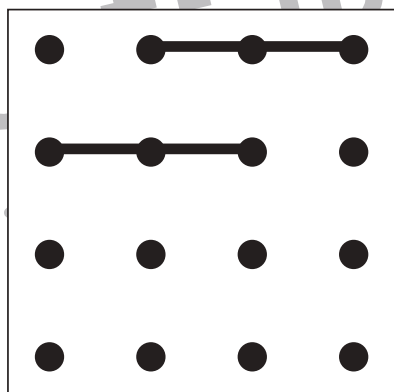

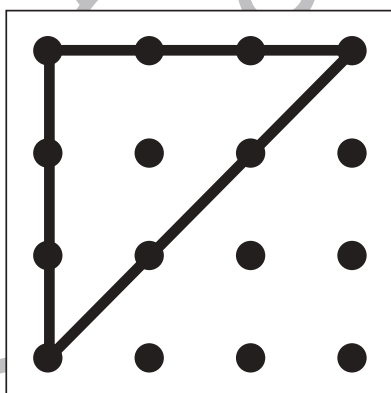
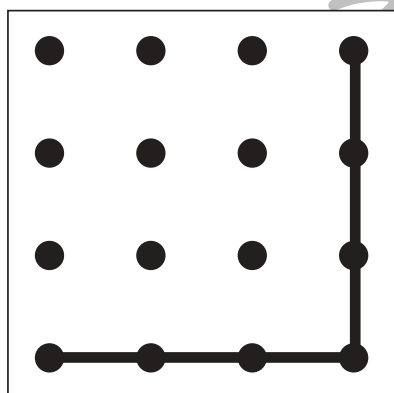

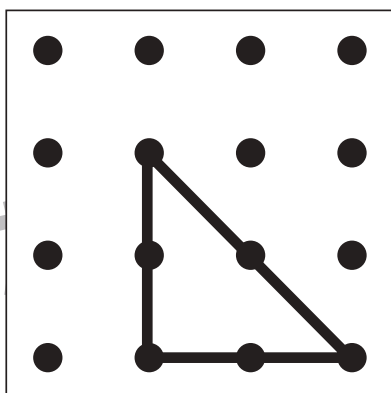
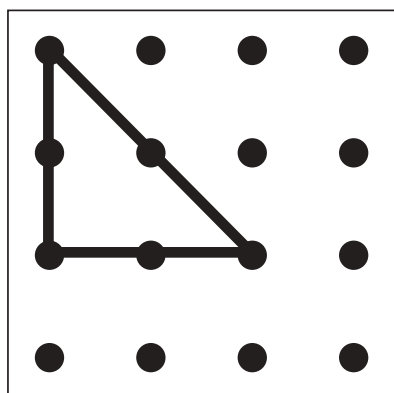


おうちで、やろう。

Study at home. 小学校受験の家庭学習教材

図形：重ね点図形 22

左の2枚の点図形を重ねた形を考えて、右の太い四角にかきます。



※1. このプリントは、しながわ・目黒こどもスクールのウェブサイトでダウンロードができます。無断複写・引用はご遠慮ください。
※2. このプリントを活用したオンライン授業のスケジュールは、しながわ・目黒こどもスクールのウェブサイトでご確認ください。



おうちで、よろう。

Study at home. 小学校受験の家庭学習教材

図形：重ね点図形 23

左の3枚の点図形を重ねた形を考えて、右の太い四角にかきます。

			→	
			→	
			→	
			→	
			→	

※1. このプリントは、しながわ・目黒こどもスクールのウェブサイトでダウンロードができます。無断複写・引用はご遠慮ください。
 ※2. このプリントを活用したオンライン授業のスケジュールは、しながわ・目黒こどもスクールのウェブサイトでご確認ください。









おうちで、やろう。

Study at home. 小学校受験の家庭学習教材

図形：欠所補充 8

左がお手本の形です。右の絵に足りないところを見つけて、そっくりになるようにかきます。

※このプリントに解答はありません。



※1. このプリントは、しながわ・目黒こどもスクールのウェブサイトでダウンロードができます。無断複写・引用はご遠慮ください。

※2. このプリントを活用したオンライン授業のスケジュールは、しながわ・目黒こどもスクールのウェブサイトでご確認ください。

