



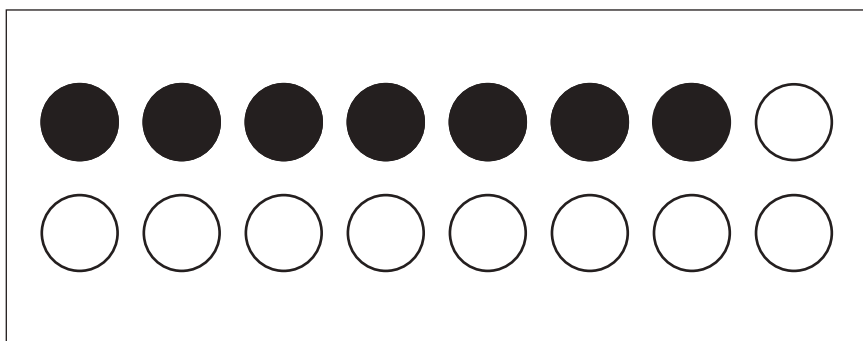
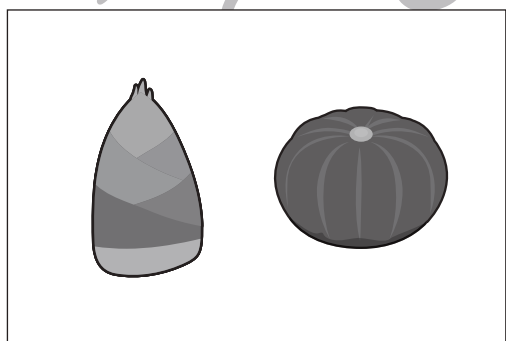

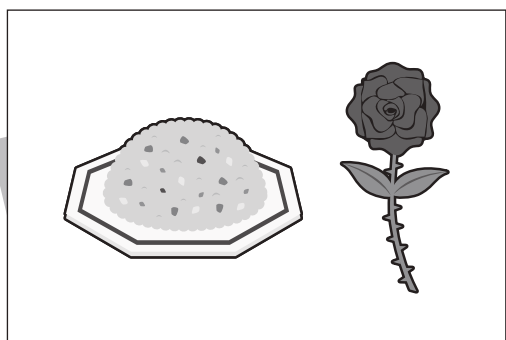


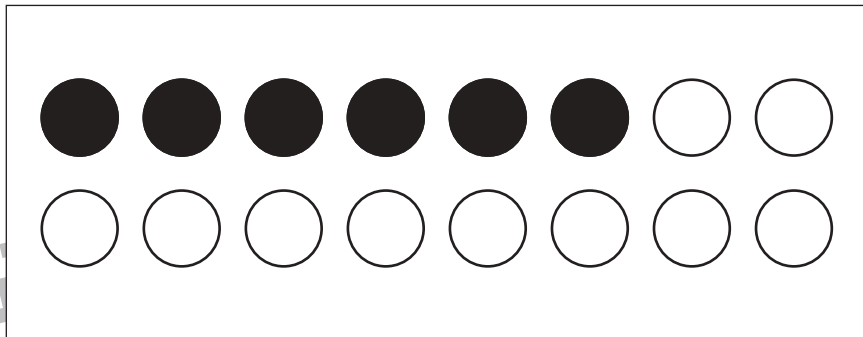
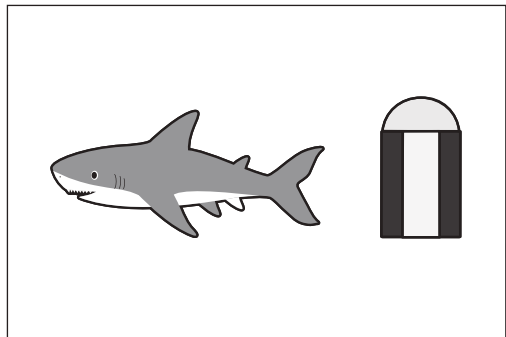


# おうちで、やろう。

Study at home. 小学校受験の家庭学習教材

言語：音の数 31

四角の中にある絵の音の数を数えます。その音の数を合わせた数だけ丸を塗ります。



※1. このプリントは、しながわ・目黒こどもスクールのウェブサイトでダウンロードができます。無断複写・引用はご遠慮ください。

※2. このプリントを活用したオンライン授業のスケジュールは、しながわ・目黒こどもスクールのウェブサイトでご確認ください。














# おうちで、やろう。

Study at home. 小学校受験の家庭学習教材

言語：音の数 32

四角の中にある絵の音の数を数えます。その音の数を合わせた数だけ丸を塗ります。



※1. このプリントは、しながわ・目黒こどもスクールのウェブサイトでダウンロードができます。無断複写・引用はご遠慮ください。

※2. このプリントを活用したオンライン授業のスケジュールは、しながわ・目黒こどもスクールのウェブサイトでご確認ください。





# おうちで、やろう。

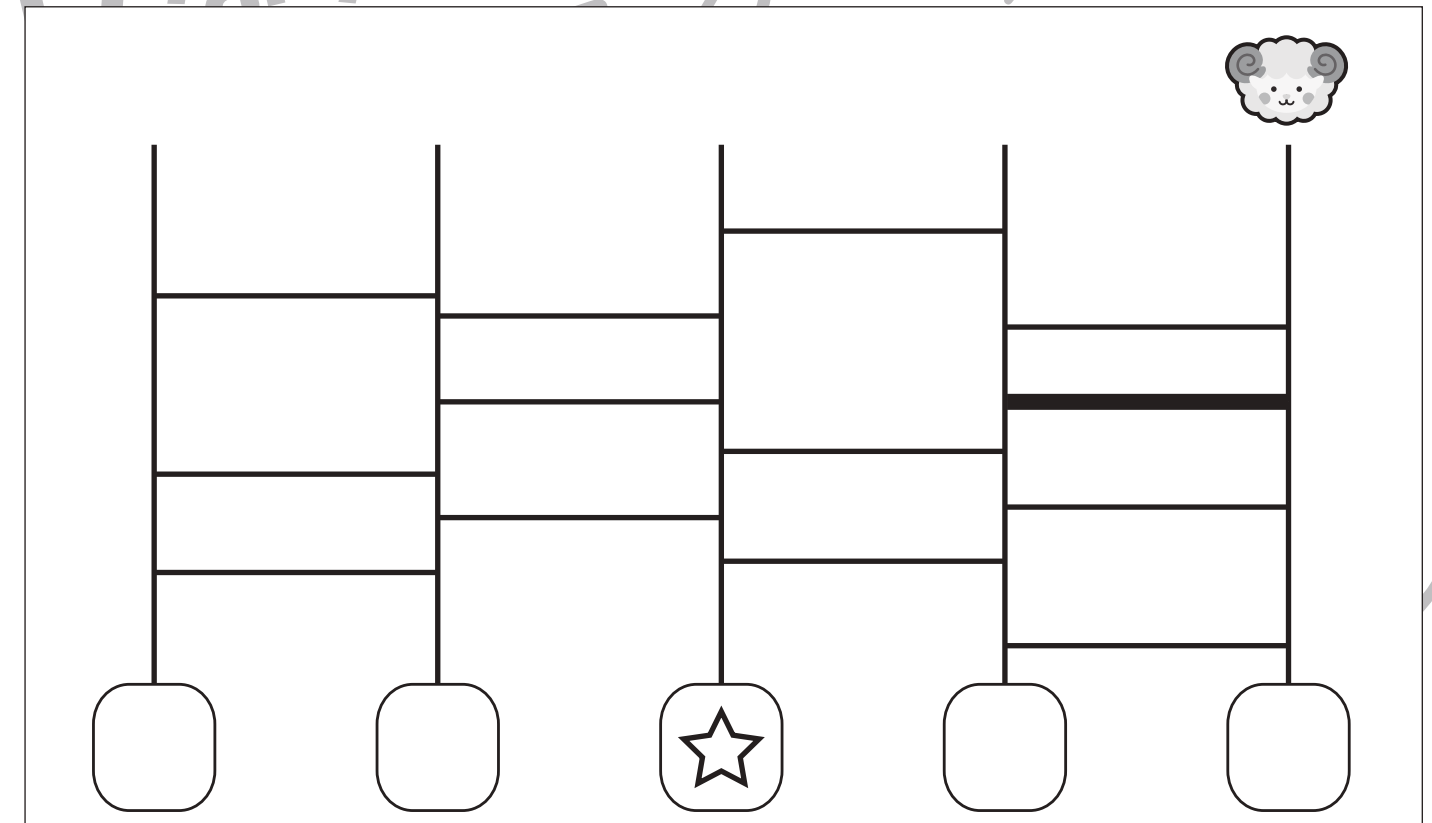
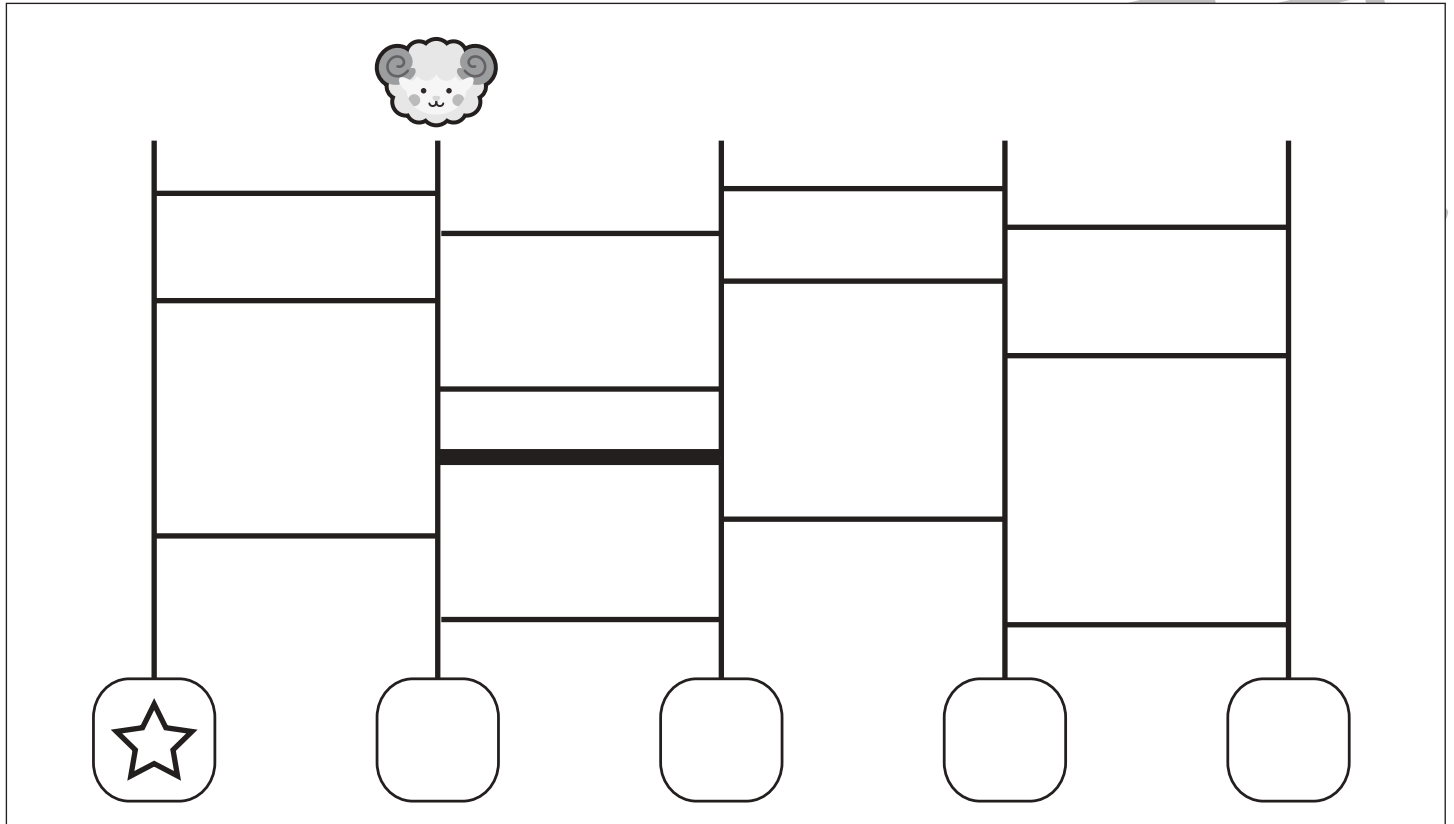
Study at home. 小学校受験の家庭学習教材

推理：あみだくじ 9

ヒツジがいるところからあみだくじをします。☆のついた四角につくためには線が1本足りません。

その場所を考えて1本だけ線を引きます。

※あみだくじのルール：①上から下へ進みます。道は戻ってはいけません。②途中で曲がり角があったら必ず曲がります。



※1. このプリントは、しながわ・目黒こどもスクールのウェブサイトダウンロードができます。無断複写・引用はご遠慮ください。  
 ※2. このプリントを活用したオンライン授業のスケジュールは、しながわ・目黒こどもスクールのウェブサイトでご確認ください。



# おうちで、やろう。

Study at home. 小学校受験の家庭学習教材

推理：あみだくじ 10

ヒツジがいるところからあみだくじをします。☆のついた四角につくためには線が1本足りません。

その場所を考えて1本だけ線を引きます。

※あみだくじのルール：①上から下へ進みます。道は戻ってはいけません。②途中で曲がり角があったら必ず曲がります。

A 5x5 grid for a logic puzzle. A sheep icon is at the top right. A star is in a rounded square at the bottom left. The grid is partially filled with horizontal lines, and one line is highlighted in black.

A 5x5 grid for a logic puzzle. A sheep icon is at the top center. A star is in a rounded square at the bottom right. The grid is partially filled with horizontal lines, and one line is highlighted in black.

※1. このプリントは、しながわ・目黒こどもスクールのウェブサイトでダウンロードができます。無断複写・引用はご遠慮ください。

※2. このプリントを活用したオンライン授業のスケジュールは、しながわ・目黒こどもスクールのウェブサイトでご確認ください。



# おうちで、やろう。

Study at home. 小学校受験の家庭学習教材

数量：広さ 14

左の四角の中のマスを見て考えます。右の四角の中の灰色のマスが左の四角よりも広いものすべてに○をつけます。

--	--	--	--

--	--	--	--

--	--	--	--

--	--	--	--

※1. このプリントは、しながわ・目黒こどもスクールのウェブサイトでダウンロードができます。無断複写・引用はご遠慮ください。  
 ※2. このプリントを活用したオンライン授業のスケジュールは、しながわ・目黒こどもスクールのウェブサイトでご確認ください。



# おうちで、やろう。

Study at home. 小学校受験の家庭学習教材

数量：広さ 15

左の四角の中のマスを見て考えます。右の四角の中の灰色のマスが左の四角よりも広いものすべてに○をつけます。


※1. このプリントは、しながわ・目黒こどもスクールのウェブサイトでダウンロードができます。無断複写・引用はご遠慮ください。  
 ※2. このプリントを活用したオンライン授業のスケジュールは、しながわ・目黒こどもスクールのウェブサイトでご確認ください。

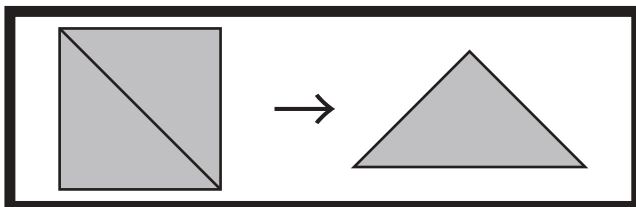


# おうちで、やろう。

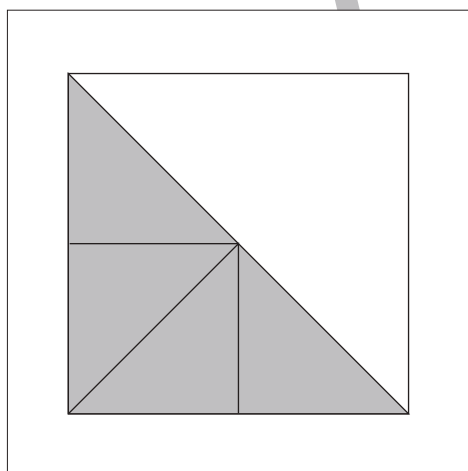
Study at home. 小学校受験の家庭学習教材

## 図形：三角パズル5

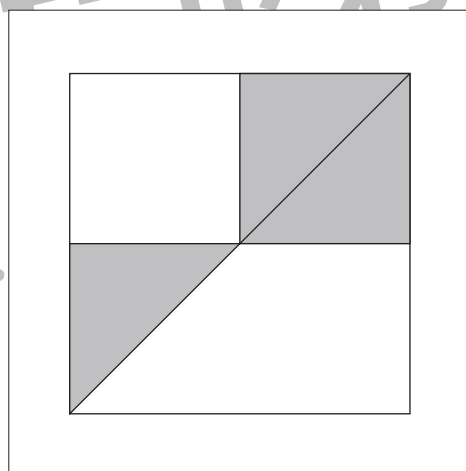
上の太い四角の中の四角を半分にして三角パズルを作りました。この三角パズルを使ってそれぞれの形を作ります。それぞれ形は三角パズルを何枚使えばできるのかを考えて、下の四角の中にその数だけ〇をかきます。



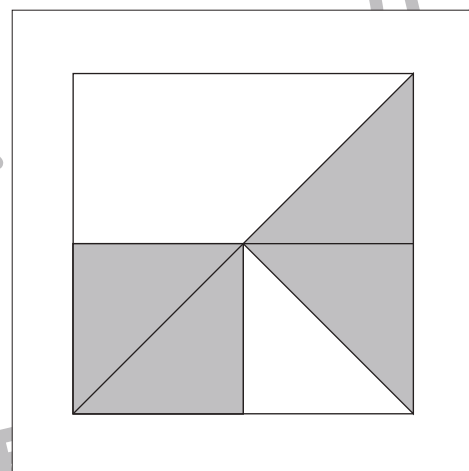
目黒



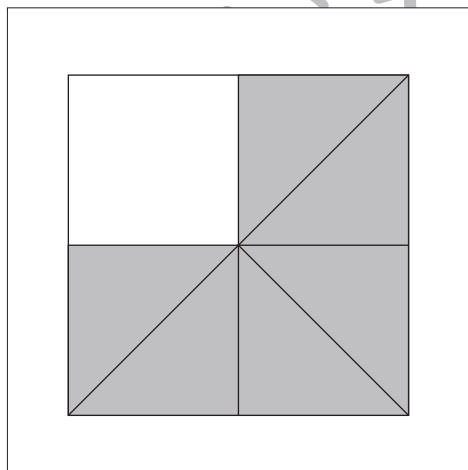
〇 × 4



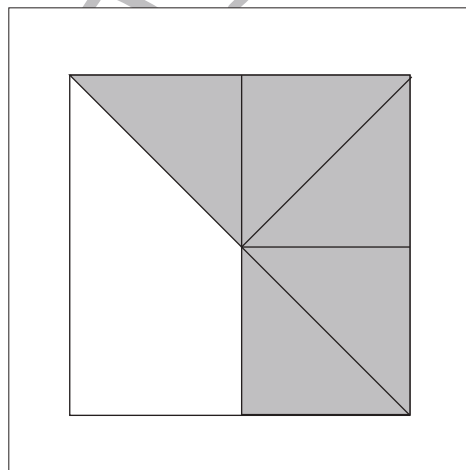
〇 × 3



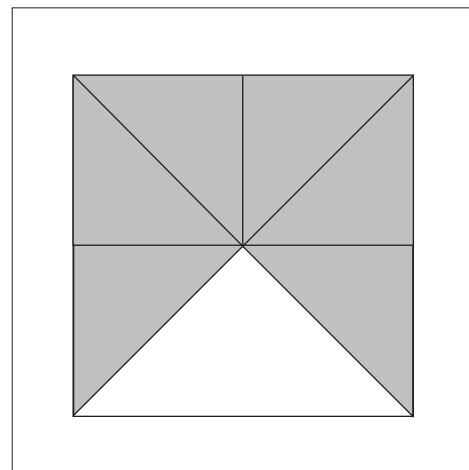
〇 × 4



〇 × 6



〇 × 5



〇 × 6

※1. このプリントは、しながわ・目黒こどもスクールのウェブサイトでダウンロードができます。無断複写・引用はご遠慮ください。  
※2. このプリントを活用したオンライン授業のスケジュールは、しながわ・目黒こどもスクールのウェブサイトでご確認ください。

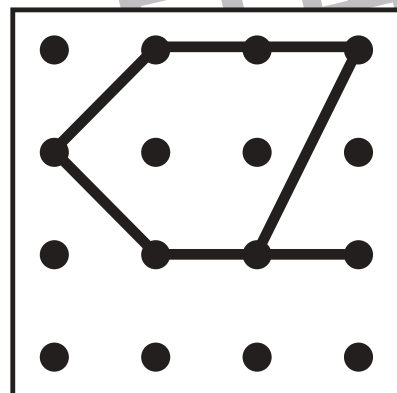
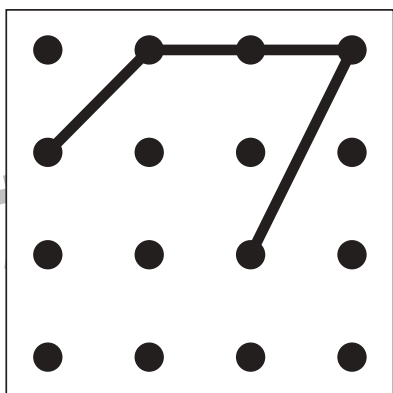
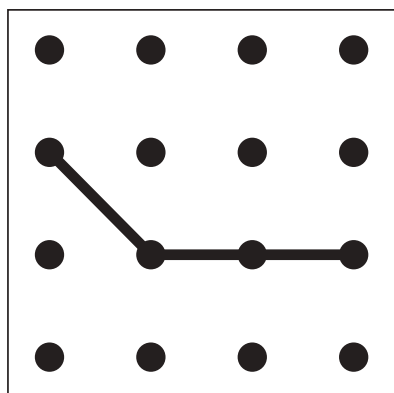
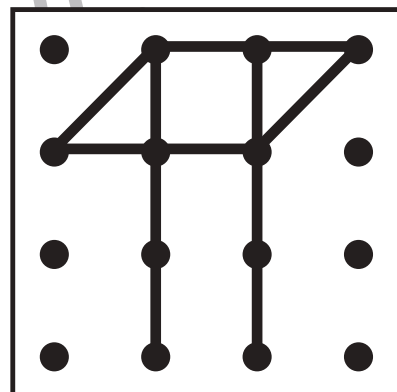
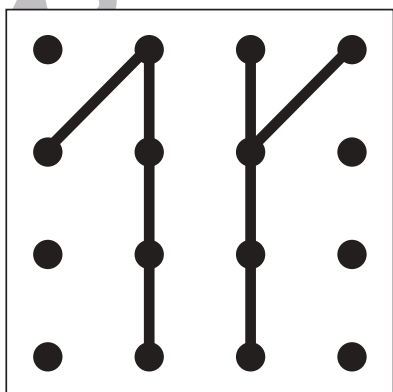
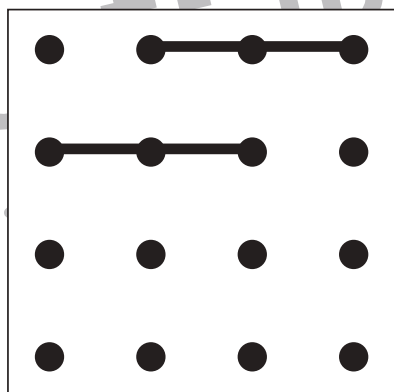
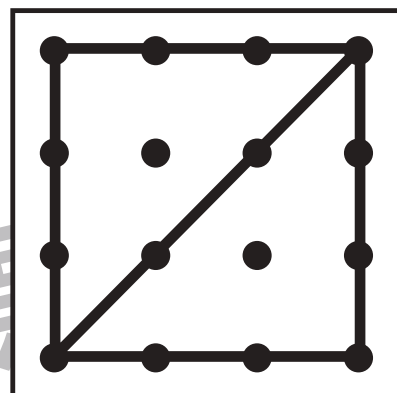
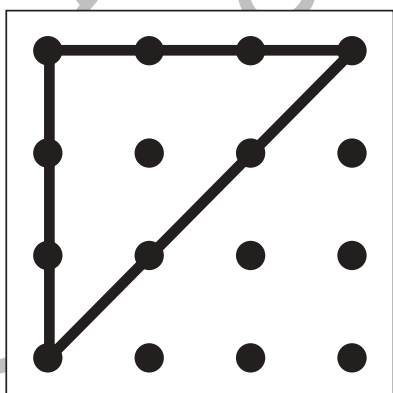
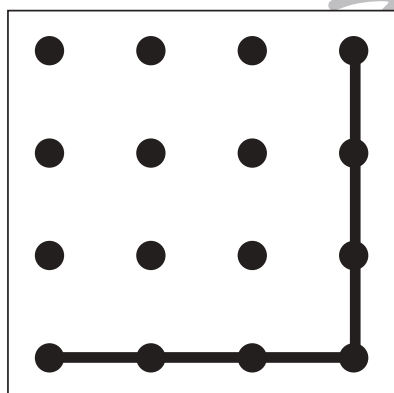
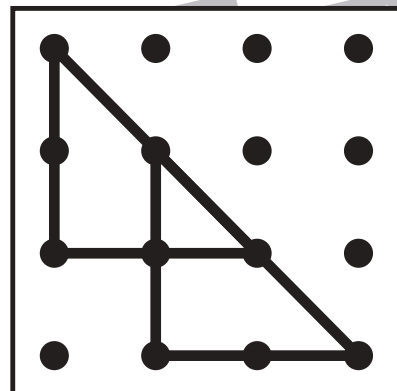
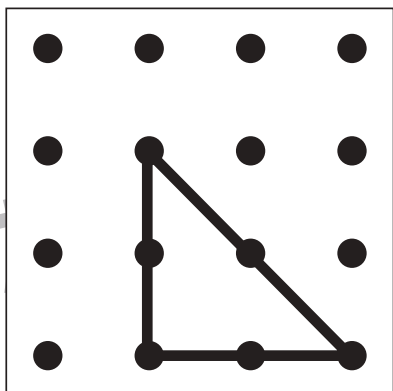
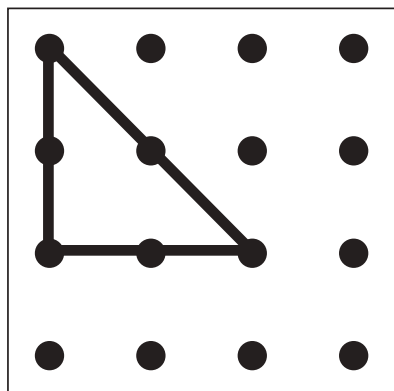


# おうちで、やろう。

Study at home. 小学校受験の家庭学習教材

## 図形：重ね点図形 22

左の2枚の点図形を重ねた形を考えて、右の太い四角にかきます。



※1. このプリントは、しながわ・目黒こどもスクールのウェブサイトでダウンロードができます。無断複写・引用はご遠慮ください。  
※2. このプリントを活用したオンライン授業のスケジュールは、しながわ・目黒こどもスクールのウェブサイトでご確認ください。





左の3枚の点図形を重ねた形を考えて、右の太い四角にかきます。

			→	
			→	
			→	
			→	
			→	

※1. このプリントは、しながわ・目黒こどもスクールのウェブサイトでダウンロードができます。無断複写・引用はご遠慮ください。  
 ※2. このプリントを活用したオンライン授業のスケジュールは、しながわ・目黒こどもスクールのウェブサイトでご確認ください。