



おうちで、やろう。





Study at home. 小学校受験の家庭学習教材

記憶：絵の記憶 21 記憶用紙









別紙『記憶 - 絵の記憶 21』を行う際に使用します。記憶用紙は点線で折って(切って)、①、②、③の問題の際にそれぞれ 20 秒間ずつ記憶させてください。記憶する際は問題用紙は裏返しにします。記憶後①、②、③それぞれの問題に答えましょう。

- ①ライオンのいたマスに赤のクーピーで塗ります。
- ②ゾウのいたマスに緑のクーピーで塗ります。
- ③ゴリラがいたマスは紫、キリンがいたマスは黄色のクーピーで塗ります。










①

②

③

※ 1. このプリントは、しながわ・目黒こどもスクールのウェブサイトからダウンロードができます。無断複写・引用はご遠慮ください。
 ※ 2. このプリントを活用したオンライン授業のスケジュールは、しながわ・目黒こどもスクールのウェブサイトでご確認ください。



おうちで、やろう。

Study at home. 小学校受験の家庭学習教材

記憶：絵の記憶 21

別紙『記憶 - 絵の記憶 21 記憶用紙』を使用します。記憶用紙の形を見た後に①、②、③の問題に取り組みましょう。

①・②・③今見た絵と全く同じになるようにマスの中を塗ります。(この問題に解答はありません。)

①

②

③

※1. このプリントは、しながわ・目黒こどもスクールのウェブサイトダウンロードができます。無断複写・引用はご遠慮ください。

※2. このプリントを活用したオンライン授業のスケジュールは、しながわ・目黒こどもスクールのウェブサイトでご確認ください。

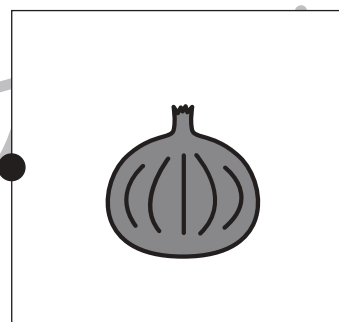



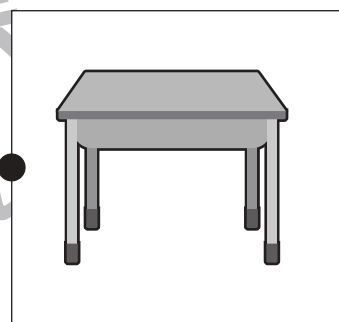







おうちで、やろう。

Study at home. 小学校受験の家庭学習教材

言語：音の理解 26

左の四角の中の絵が初めの音と右の四角の中の絵が終わりの音が同じもの同士を線で結びます。



※1. このプリントは、しながわ・目黒こどもスクールのウェブサイトでダウンロードができます。無断複写・引用はご遠慮ください。
※2. このプリントを活用したオンライン授業のスケジュールは、しながわ・目黒こどもスクールのウェブサイトでご確認ください。




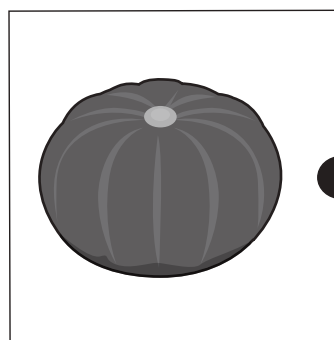

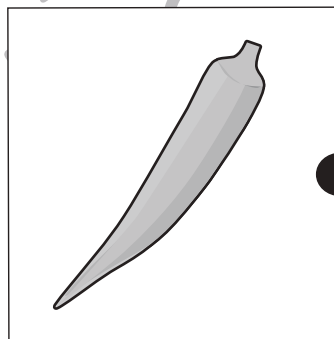
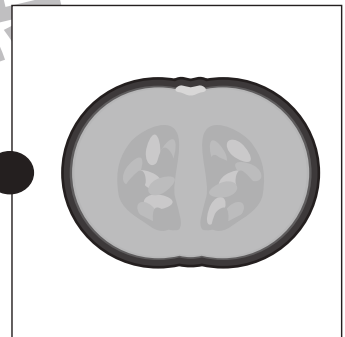
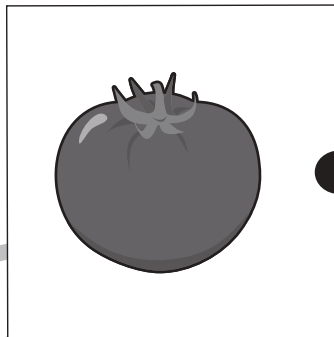
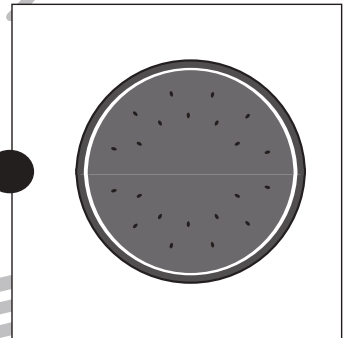
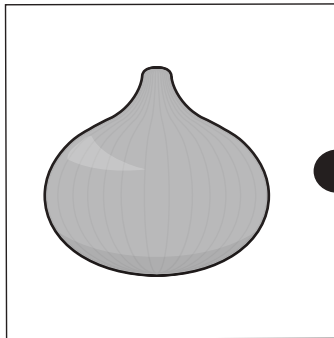
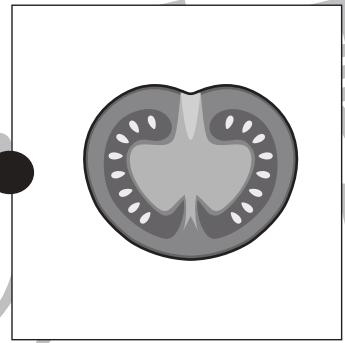



おうちで、やろう。

Study at home. 小学校受験の家庭学習教材

常識：野菜 3

左の四角の中の野菜を半分に切ったときの見え方を考えて点と点を線で結びます。



※1. このプリントは、しながわ・目黒こどもスクールのウェブサイトでダウンロードができます。無断複写・引用はご遠慮ください。
※2. このプリントを活用したオンライン授業のスケジュールは、しながわ・目黒こどもスクールのウェブサイトでご確認ください。



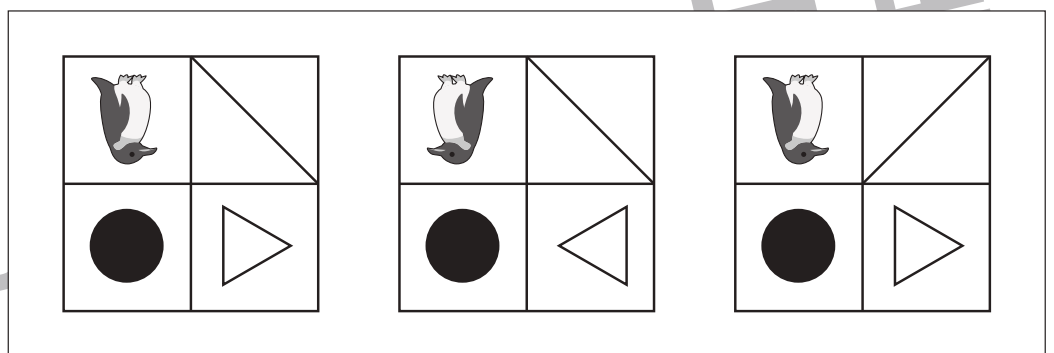

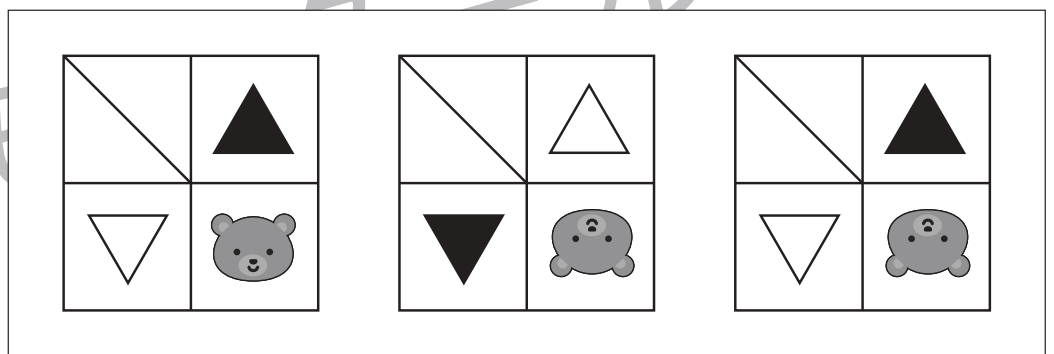

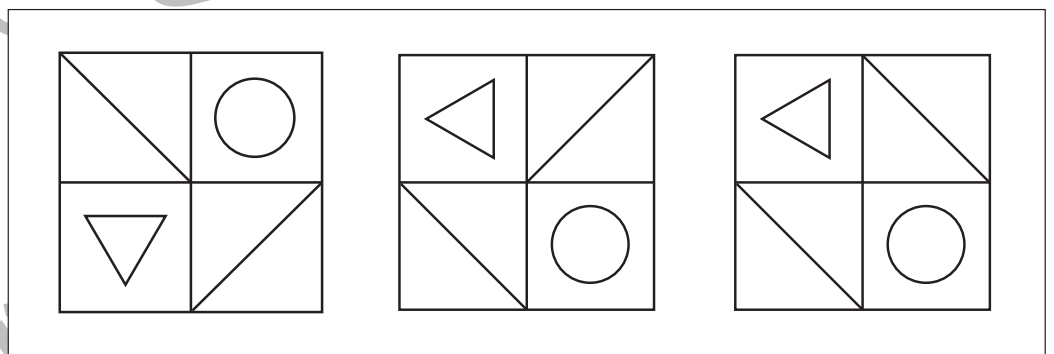
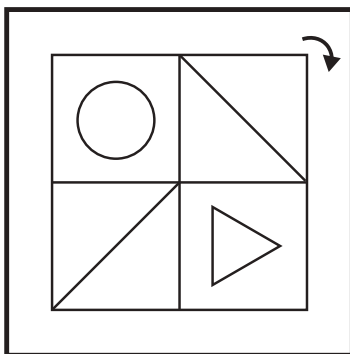
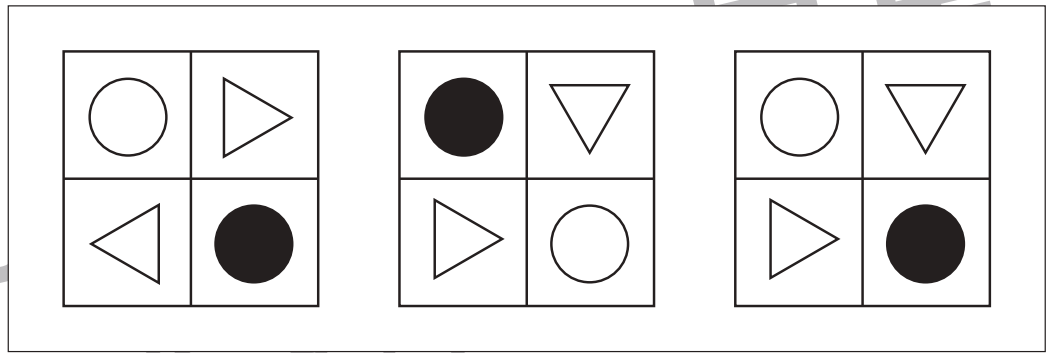
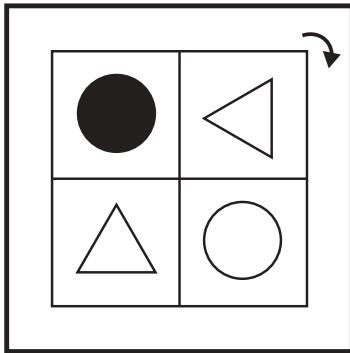


おうちで、やろう。

Study at home. 小学校受験の家庭学習教材

図形：回転 37

太い四角の中の形がお手本です。この形を矢印の向きに2回倒したときの見え方を考えて、右の四角の中から正しいものを見つけて○をつけます。



※1. このプリントは、しながわ・目黒こどもスクールのウェブサイトでダウンロードができます。無断複写・引用はご遠慮ください。
※2. このプリントを活用したオンライン授業のスケジュールは、しながわ・目黒こどもスクールのウェブサイトでご確認ください。



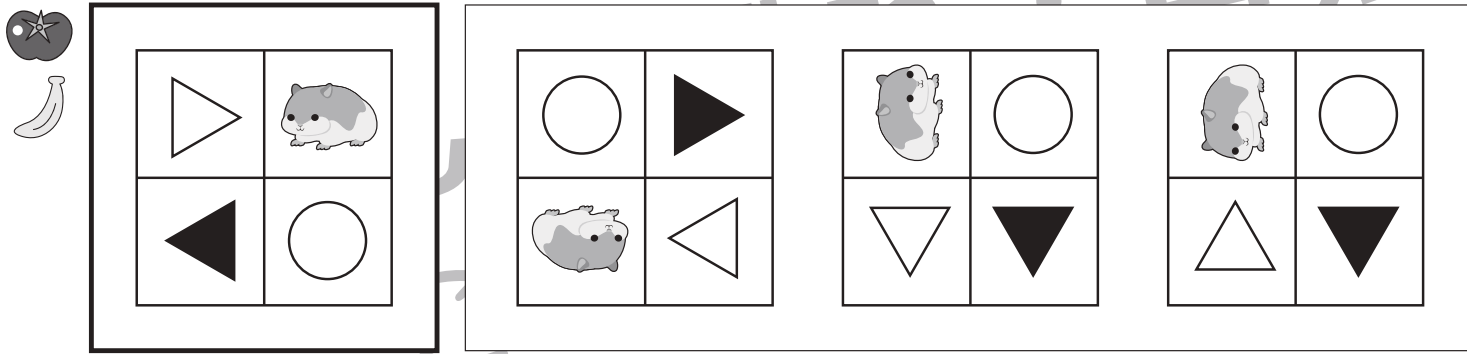
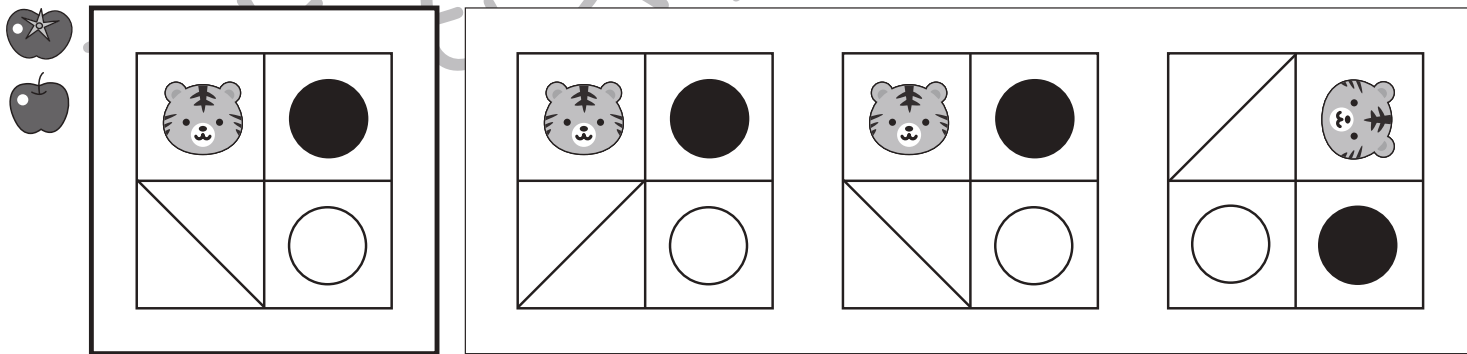
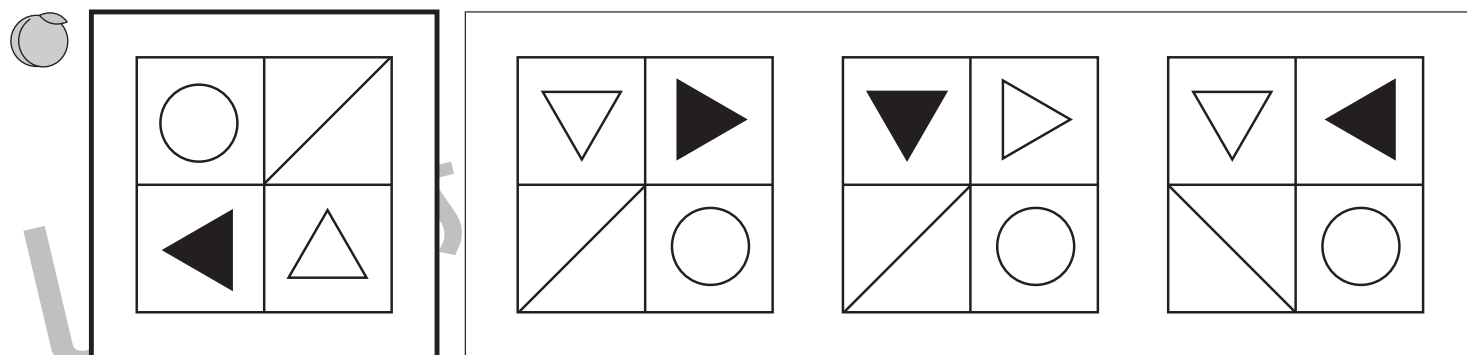

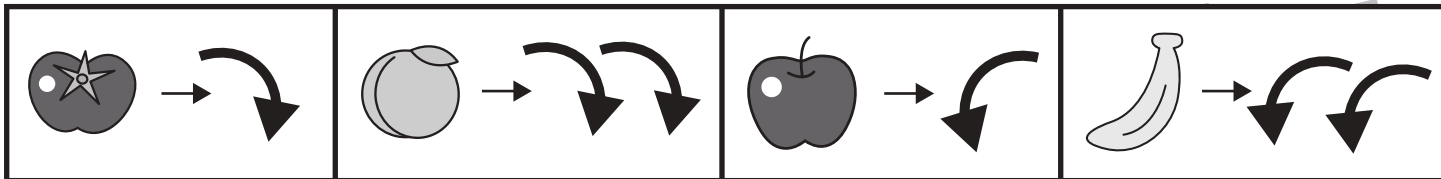
おうちで、やろう。

Study at home. 小学校受験の家庭学習教材

図形：回転 38

上の四角が約束です。それぞれの絵の矢印の向きに倒します。

左の四角の中にあるお手本を約束どおりに倒したときの見え方を考えて、右の四角の中から正しいものを見つけて○をつけます。



※1. このプリントは、しながわ・目黒こどもスクールのウェブサイトでダウンロードができます。無断複写・引用はご遠慮ください。

※2. このプリントを活用したオンライン授業のスケジュールは、しながわ・目黒こどもスクールのウェブサイトでご確認ください。



おうちで、やろう。

Study at home. 小学校受験の家庭学習教材

図形：置き換え 7

上の四角の中がお手本の形です。このお手本の黒いマスには×、白色のマスには○、灰色のマスには●をそれぞれすぐ下の四角の同じマスにかきます。この問題は間違えてしまったらひとつ下のマスにかきます。

※1. このプリントは、しながわ・目黒こどもスクールのウェブサイトでダウンロードができます。無断複写・引用はご遠慮ください。
※2. このプリントを活用したオンライン授業のスケジュールは、しながわ・目黒こどもスクールのウェブサイトでご確認ください。




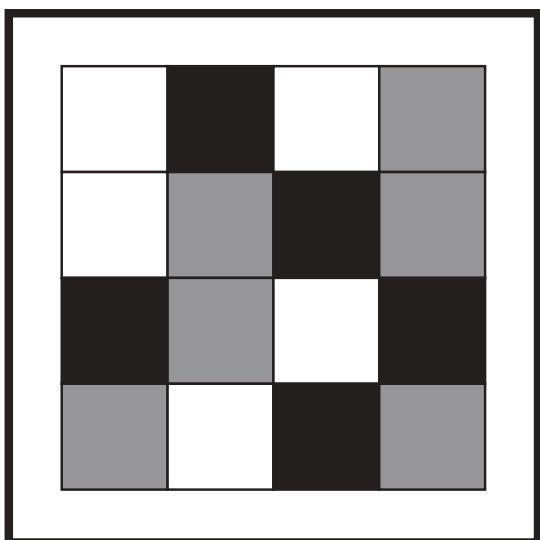




おうちで、やろう。

Study at home. 小学校受験の家庭学習教材

図形：置き換え 8

上の四角の中がお手本の形です。このお手本の黒いマスには×、白色のマスには○、灰色のマスには●をそれぞれすぐ右の四角の同じマスにかきます。この問題は間違えてしまったらひとつ右のマスにかきます。



※1. このプリントは、しながわ・目黒こどもスクールのウェブサイトでダウンロードができます。無断複写・引用はご遠慮ください。

※2. このプリントを活用したオンライン授業のスケジュールは、しながわ・目黒こどもスクールのウェブサイトでご確認ください。





おうちで、やろう。

Study at home. 小学校受験の家庭学習教材

数量：すごろく9



- ① 矢印の向きにライオンが3つ、ゾウが4つ進んだときに間のマスは何マスになるか数えます。その数だけ〇をかきます。
- ② 矢印の向きにライオンが2つ、ゾウが5つ進んだときに間のマスは何マスになるか数えます。その数だけ〇をかきます。

①

							
→							
							
→							

--

②

							
→							
							
→							

--

※1. このプリントは、しながわ・目黒こどもスクールのウェブサイトでダウンロードができます。無断複写・引用はご遠慮ください。
 ※2. このプリントを活用したオンライン授業のスケジュールは、しながわ・目黒こどもスクールのウェブサイトでご確認ください。





おうちで、やろう。

Study at home. 小学校受験の家庭学習教材



数量：すごろく 10

- ① 矢印の向きにライオンが3つ、ゾウが2つずつ順番に進んだときにライオンがゾウに追いつくマスに○をかきます。
- ② 矢印の向きにライオンが4つ、ゾウが3つずつ順番に進んだときにライオンがゾウに追いつくマスに○をかきます。

①

							
→							
							
	←						

②

							
→							
							
	←						

※1. このプリントは、しながわ・目黒こどもスクールのウェブサイトでダウンロードができます。無断複写・引用はご遠慮ください。
 ※2. このプリントを活用したオンライン授業のスケジュールは、しながわ・目黒こどもスクールのウェブサイトでご確認ください。

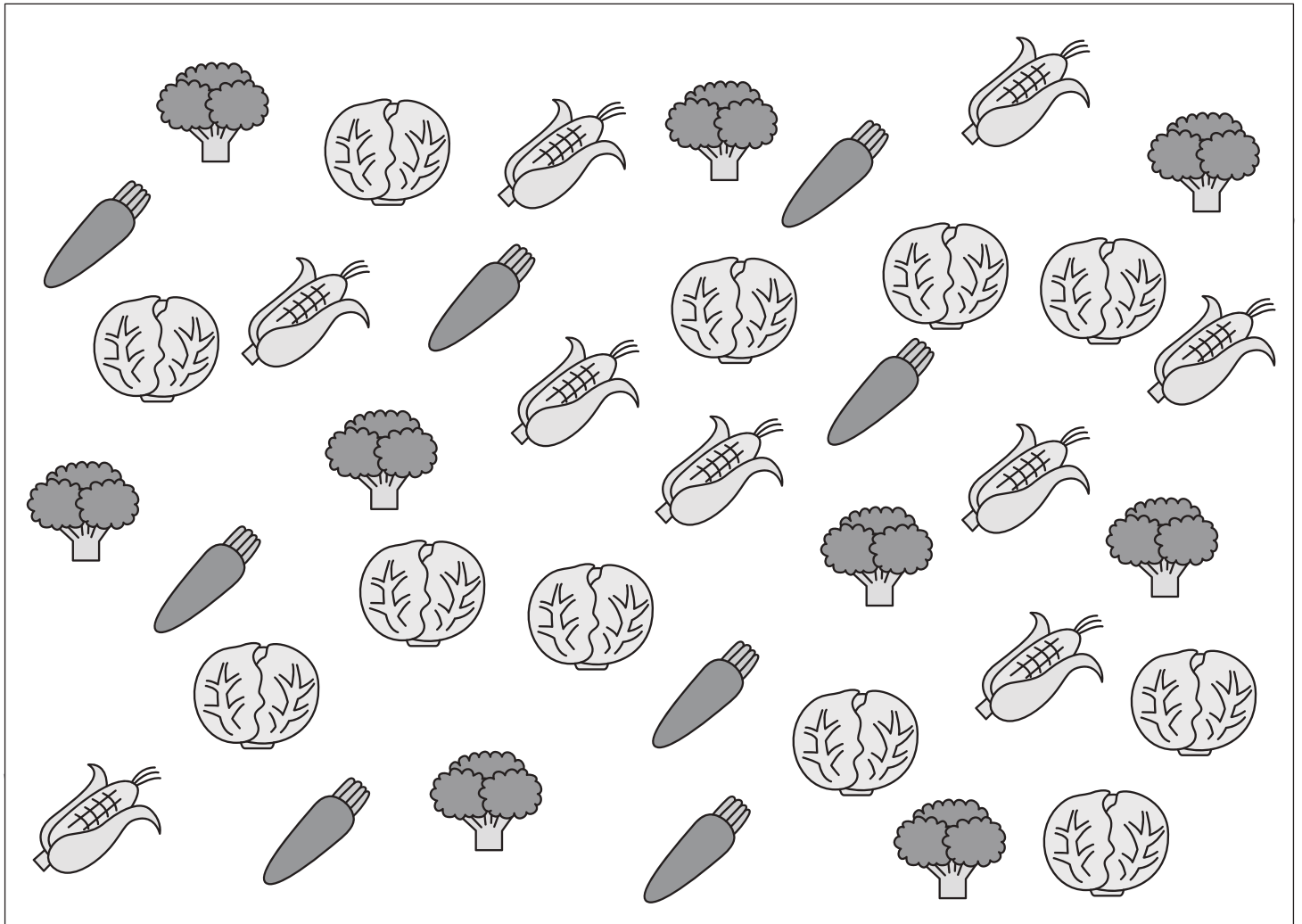


おうちで、やろう。

Study at home. 小学校受験の家庭学習教材

処理：計数 16

大きな四角の中の絵を数えます。その数だけ下の四角に○をかきます。








※1. このプリントは、しながわ・目黒こどもスクールのウェブサイトでダウンロードができます。無断複写・引用はご遠慮ください。
※2. このプリントを活用したオンライン授業のスケジュールは、しながわ・目黒こどもスクールのウェブサイトでご確認ください。