



おうちで、やろう。

Study at home. 小学校受験の家庭学習教材

言語：音の理解 26

左の四角の中の絵が初めの音と右の四角の中の絵が終わりの音が同じもの同士を線で結びます。

※1. このプリントは、しながわ・目黒こどもスクールのウェブサイトでダウンロードができます。無断複写・引用はご遠慮ください。

※2. このプリントを活用したオンライン授業のスケジュールは、しながわ・目黒こどもスクールのウェブサイトでご確認ください。

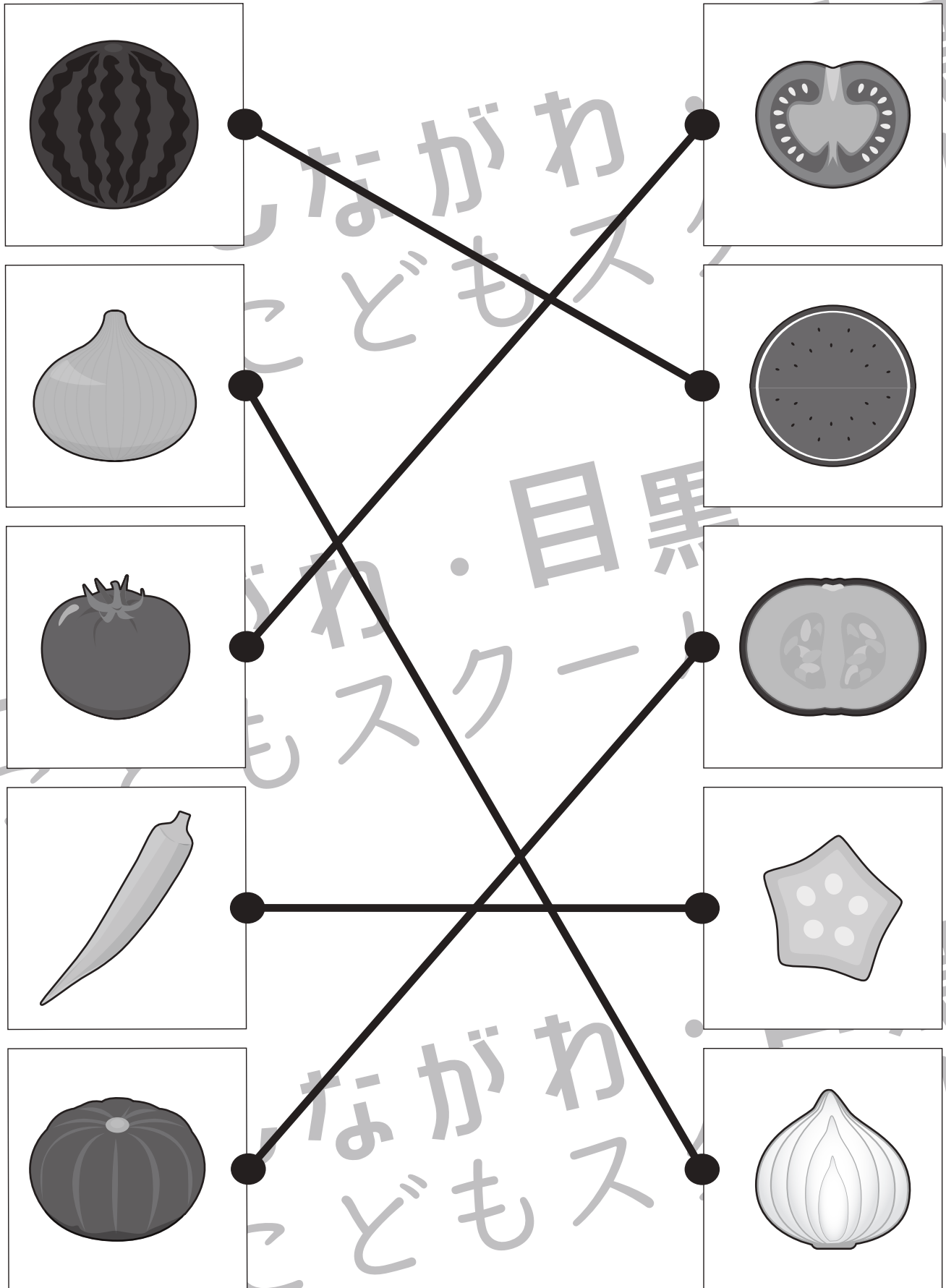


おうちで、やろう。

Study at home. 小学校受験の家庭学習教材

常識：野菜 3

左の四角の中の野菜を半分に切ったときの見え方を考えて点と点を線で結びます。



※1. このプリントは、しながわ・目黒こどもスクールのウェブサイトでダウンロードができます。無断複写・引用はご遠慮ください。

※2. このプリントを活用したオンライン授業のスケジュールは、しながわ・目黒こどもスクールのウェブサイトでご確認ください。

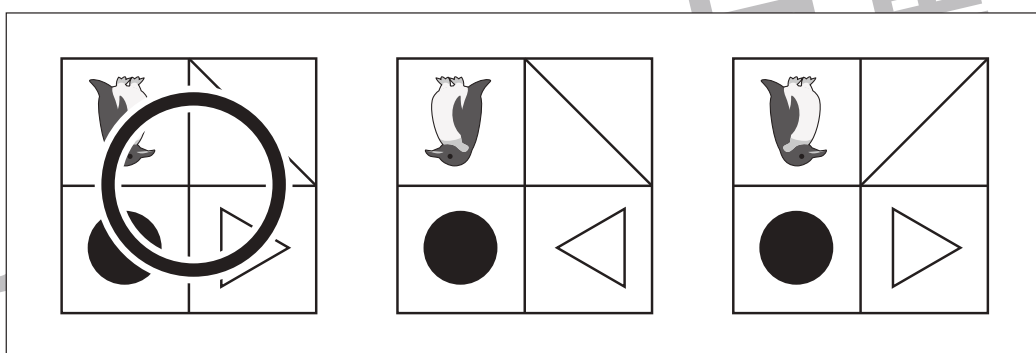



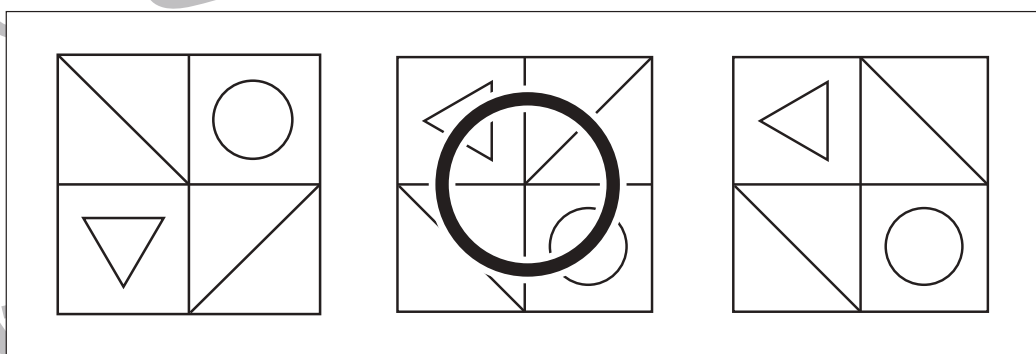
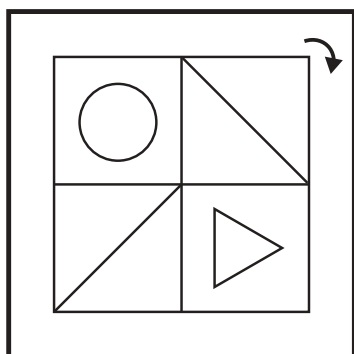
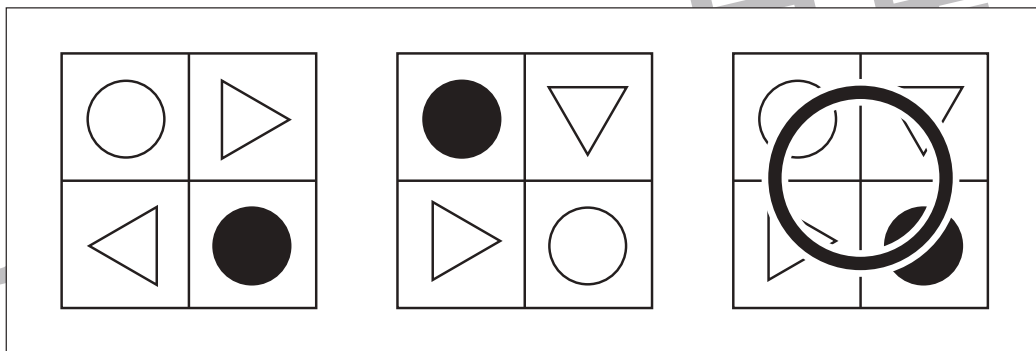
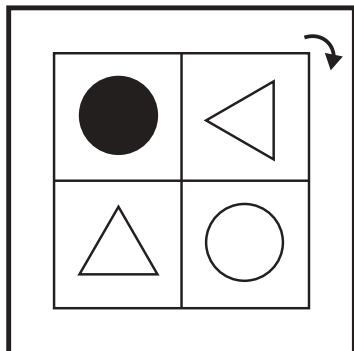


おうちで、やろう。

Study at home. 小学校受験の家庭学習教材

図形：回転 37

太い四角の中の形がお手本です。この形を矢印の向きに2回倒したときの見え方を考えて、右の四角の中から正しいものを見つけて○をつけます。



※1. このプリントは、しながわ・目黒こどもスクールのウェブサイトでダウンロードができます。無断複写・引用はご遠慮ください。
※2. このプリントを活用したオンライン授業のスケジュールは、しながわ・目黒こどもスクールのウェブサイトでご確認ください。



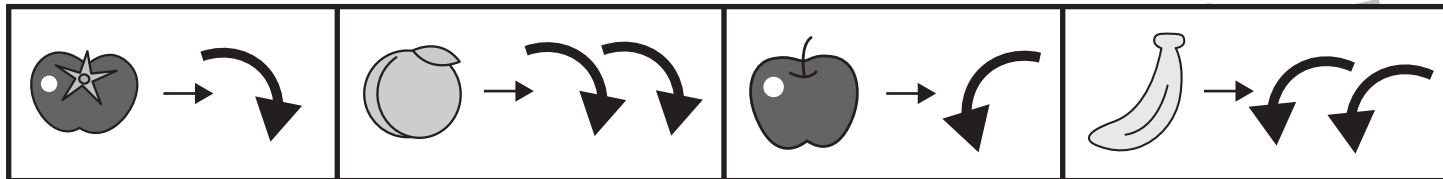
おうちで、やろう。

Study at home. 小学校受験の家庭学習教材

図形：回転 38

上の四角が約束です。それぞれの絵の矢印の向きに倒します。

左の四角の中にあるお手本を約束どおりに倒したときの見え方を考えて、右の四角の中から正しいものを見つけて○をつけます。



※1. このプリントは、しながわ・目黒こどもスクールのウェブサイトでダウンロードができます。無断複写・引用はご遠慮ください。
 ※2. このプリントを活用したオンライン授業のスケジュールは、しながわ・目黒こどもスクールのウェブサイトでご確認ください。



おうちで、よろう。

Study at home. 小学校受験の家庭学習教材

図形：置き換え 7

上の四角の中がお手本の形です。このお手本の黒いマスには×、白色のマスには○、灰色のマスには●をそれぞれすぐ下の四角の同じマスにかきます。この問題は間違えてしまったらひとつ下のマスにかきます。

※1. このプリントは、しながわ・目黒こどもスクールのウェブサイトでダウンロードができます。無断複写・引用はご遠慮ください。
※2. このプリントを活用したオンライン授業のスケジュールは、しながわ・目黒こどもスクールのウェブサイトでご確認ください。

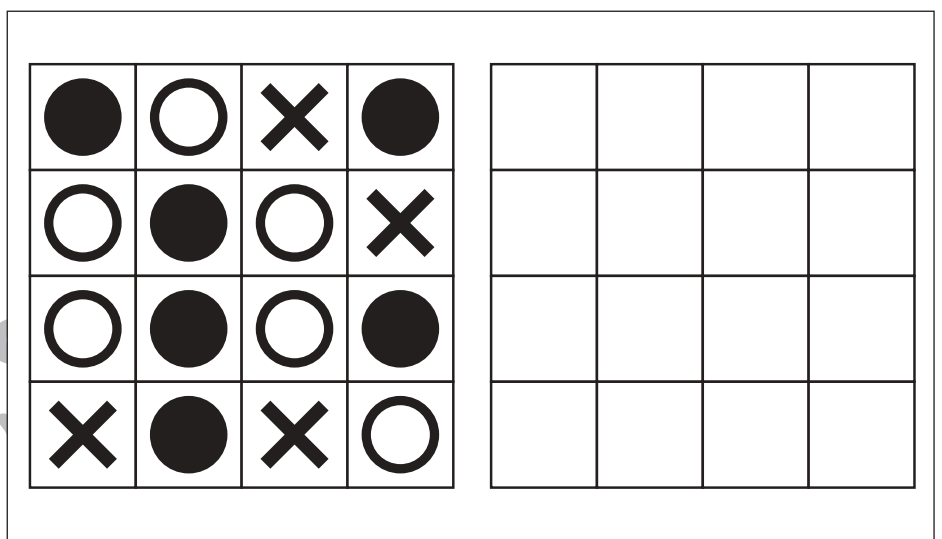

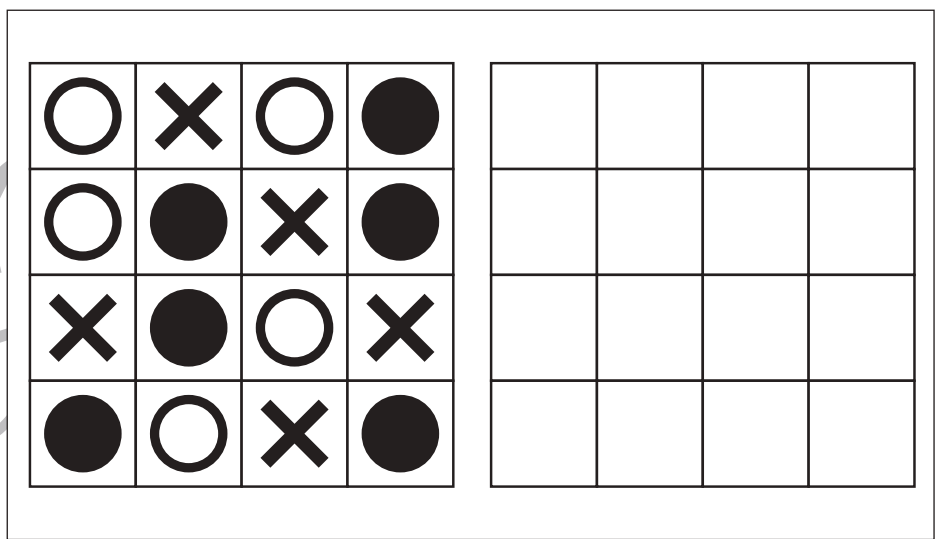
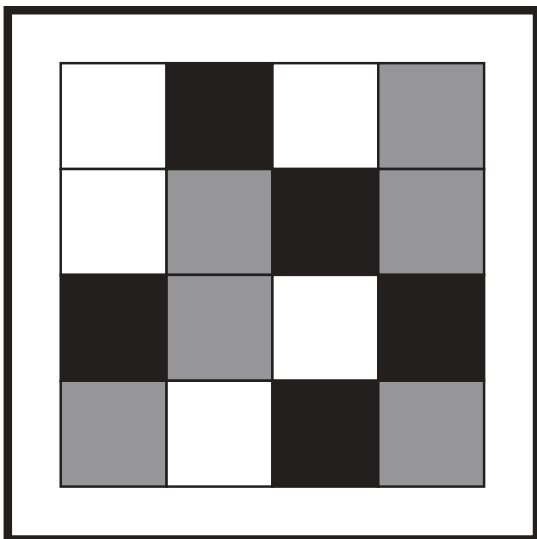
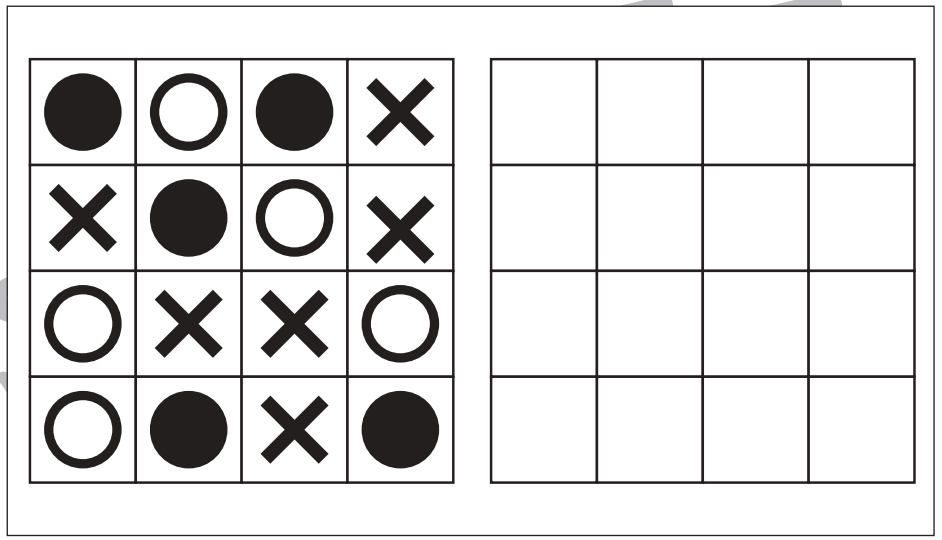



おうちで、やろう。

Study at home. 小学校受験の家庭学習教材

図形：置き換え 8

上の四角の中がお手本の形です。このお手本の黒いマスには×、白色のマスには○、灰色のマスには●をそれぞれすぐ右の四角の同じマスにかきます。この問題は間違えてしまったらひとつ右のマスにかきます。



※1. このプリントは、しながわ・目黒こどもスクールのウェブサイトでダウンロードができます。無断複写・引用はご遠慮ください。
※2. このプリントを活用したオンライン授業のスケジュールは、しながわ・目黒こどもスクールのウェブサイトでご確認ください。





おうちで、やろう。

Study at home. 小学校受験の家庭学習教材

数量：すごろく9



- ① 矢印の向きにライオンが3つ、ゾウが4つ進んだときに間のマスは何マスになるか数えます。その数だけ〇をかきます。
- ② 矢印の向きにライオンが2つ、ゾウが5つ進んだときに間のマスは何マスになるか数えます。その数だけ〇をかきます。

①

							
→							
							
→							

$$○ \times 3$$

②

							
→							
							
→							

$$○ \times 6$$

※1. このプリントは、しながわ・目黒こどもスクールのウェブサイトでダウンロードができます。無断複写・引用はご遠慮ください。
 ※2. このプリントを活用したオンライン授業のスケジュールは、しながわ・目黒こどもスクールのウェブサイトでご確認ください。






おうちで、やろう。

Study at home. 小学校受験の家庭学習教材




数量：すごろく 10

- ① 矢印の向きにライオンが3つ、ゾウが2つずつ順番に進んだときにライオンがゾウに追いつくマスに○をかきます。
- ② 矢印の向きにライオンが4つ、ゾウが3つずつ順番に進んだときにライオンがゾウに追いつくマスに○をかきます。

①

							
→							
							
	←						

②

							
→							
							
	←						
							

※1. このプリントは、しながわ・目黒こどもスクールのウェブサイトでダウンロードができます。無断複写・引用はご遠慮ください。
 ※2. このプリントを活用したオンライン授業のスケジュールは、しながわ・目黒こどもスクールのウェブサイトでご確認ください。

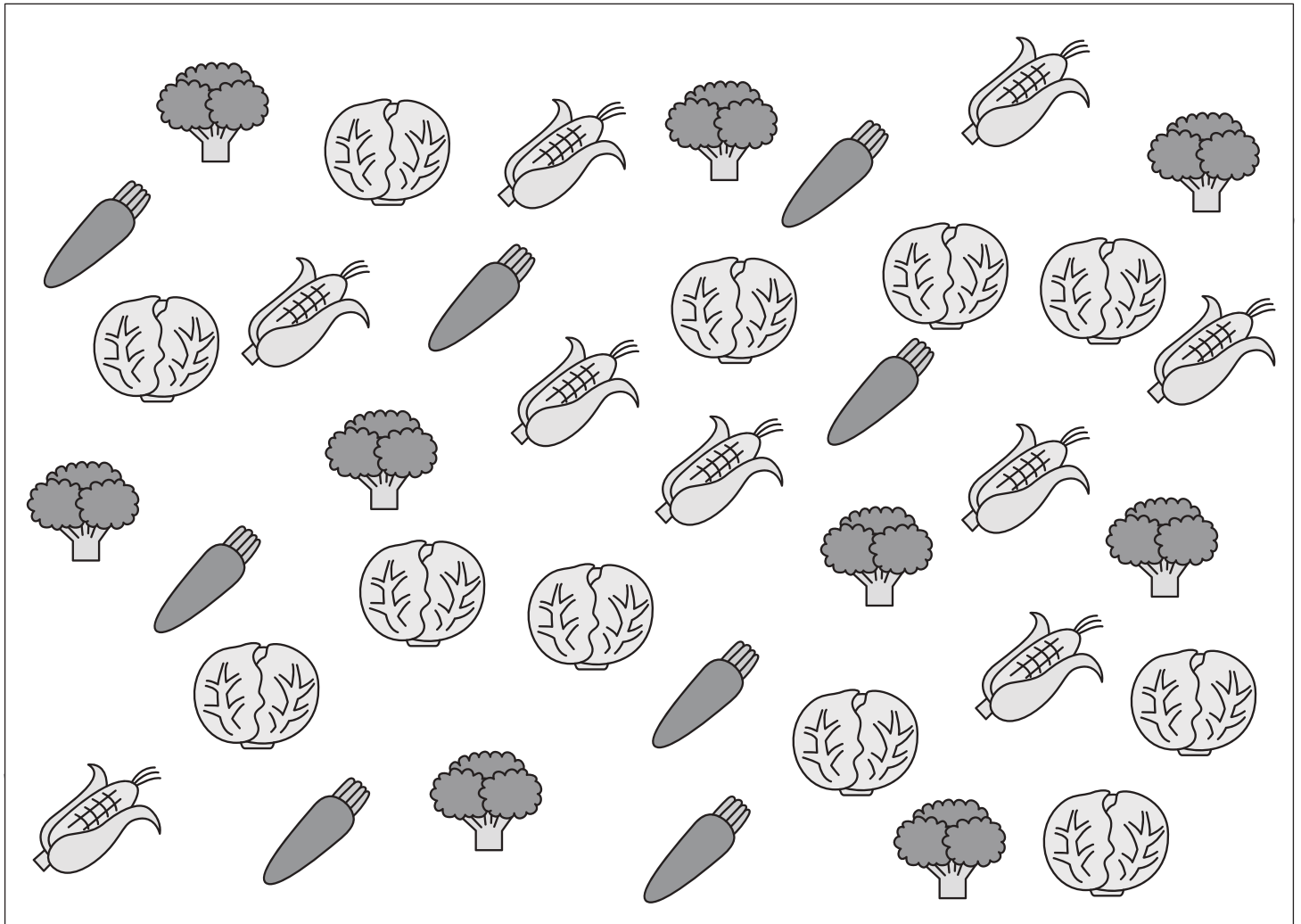


おうちで、やろう。

Study at home. 小学校受験の家庭学習教材

処理：計数 16

大きな四角の中の絵を数えます。その数だけ下の四角に○をかきます。



○ × 11



○ × 8



○ × 9



○ × 9