




# おうちで、やろう。

Study at home. 小学校受験の家庭学習教材

言語：音の理解 28

- ① 2 番目の音が「き」のものに○をつけます。
- ② 2 番目の音が「け」のものに△をつけます。
- ③ 2 番目の音が「な」のものに□をつけます。



※ 1. このプリントは、しながわ・目黒こどもスクールのウェブサイトでダウンロードができます。無断複写・引用はご遠慮ください。  
※ 2. このプリントを活用したオンライン授業のスケジュールは、しながわ・目黒こどもスクールのウェブサイトでご確認ください。






# おうちで、やろう。

Study at home. 小学校受験の家庭学習教材

- ① 最初の音が「う」「に」「り」のものに○をつけます。
- ② 終わりの音が「う」「に」「り」のものに△をつけます。
- ③ 音の中に小さい「っ」が入っているものに□をつけます。



※1. このプリントは、しながわ・目黒こどもスクールのウェブサイトでダウンロードができます。無断複写・引用はご遠慮ください。  
 ※2. このプリントを活用したオンライン授業のスケジュールは、しながわ・目黒こどもスクールのウェブサイトでご確認ください。





# おうちで、やろう。


Study at home. 小学校受験の家庭学習教材

## 推理：ブラックボックス 18

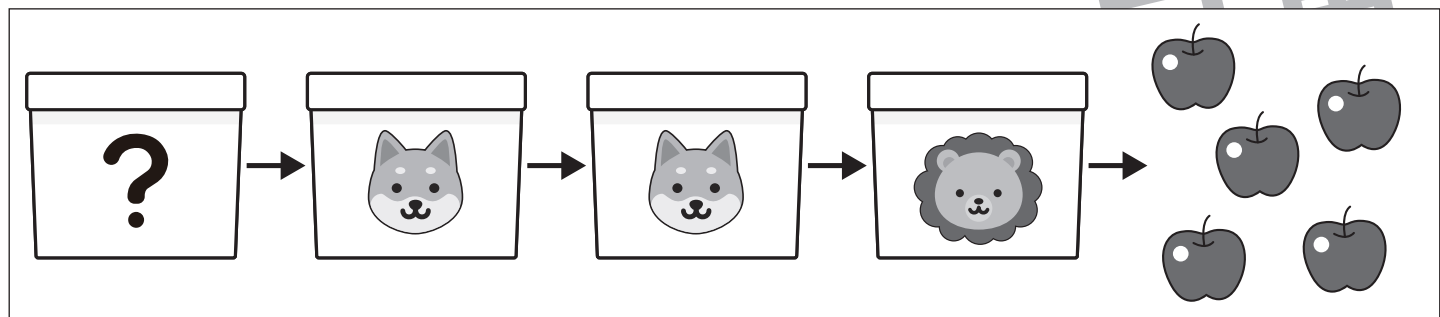
上の四角の中が約束です。それぞれの箱の中にリンゴを入れると数が変わって出てきます。  
最後にリンゴが出てきた数を考えて一番左の箱のリンゴの数だけ下の四角に○をかきます。



○ × 1



○ × 4



○ × 2

※1. このプリントは、しながわ・目黒こどもスクールのウェブサイトでダウンロードができます。無断複写・引用はご遠慮ください。  
 ※2. このプリントを活用したオンライン授業のスケジュールは、しながわ・目黒こどもスクールのウェブサイトでご確認ください。




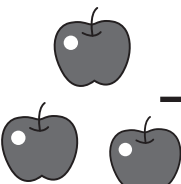














# おうちで、やろう。

Study at home. 小学校受験の家庭学習教材






## 推理：ブラックボックス 19

上の四角の中が約束です。それぞれの箱の中にリンゴを入れると数が変わって出てきます。  
最後にリンゴが出てきた数を考えて一番左の箱のリンゴの数だけ下の四角に○をかきます。






 →  → 	 →  → 
 →  → 	 →  → 

 →  →  → 

○ × 2

 →  →  →  → 

○ × 1

 →  →  →  → 

○ × 3

※1. このプリントは、しながわ・目黒こどもスクールのウェブサイトでダウンロードができます。無断複写・引用はご遠慮ください。  
 ※2. このプリントを活用したオンライン授業のスケジュールは、しながわ・目黒こどもスクールのウェブサイトでご確認ください。

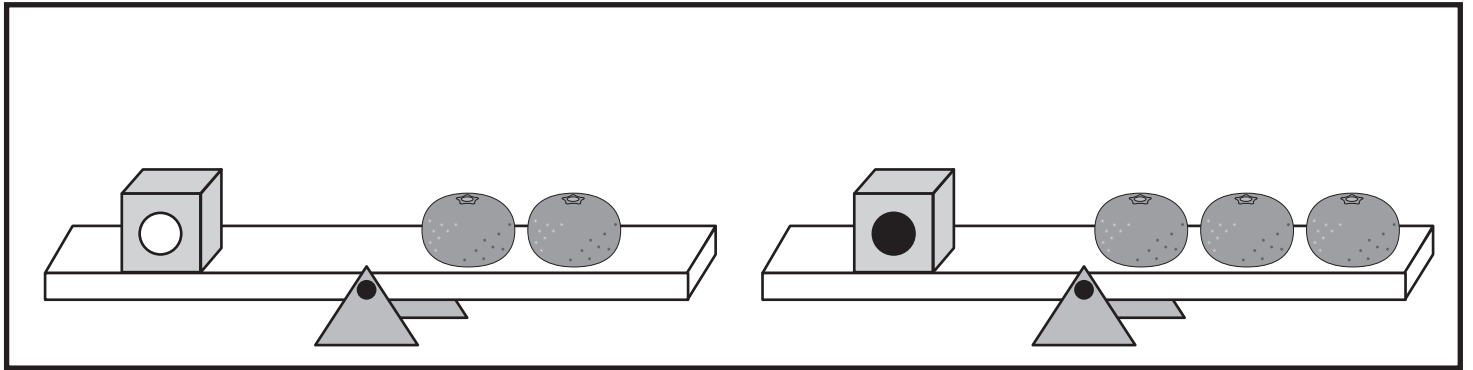


# おうちで、やろう。

Study at home. 小学校受験の家庭学習教材

## 推理：重さの置き換え 7

上の太い四角の中がお約束です。記号のついた箱はいくつかのミカンと同じ重さで吊り合っています。下のシーソーが吊り合うためには右側にあといくつのミカンを乗せればよいかを考えて、その数だけ矢印の右の四角に○をかきます。



	→ ○ × 5
	→ ○ × 4
	→ ○ × 7
	→ ○ × 12

※1. このプリントは、しながわ・目黒こどもスクールのウェブサイトでダウンロードができます。無断複写・引用はご遠慮ください。

※2. このプリントを活用したオンライン授業のスケジュールは、しながわ・目黒こどもスクールのウェブサイトでご確認ください。

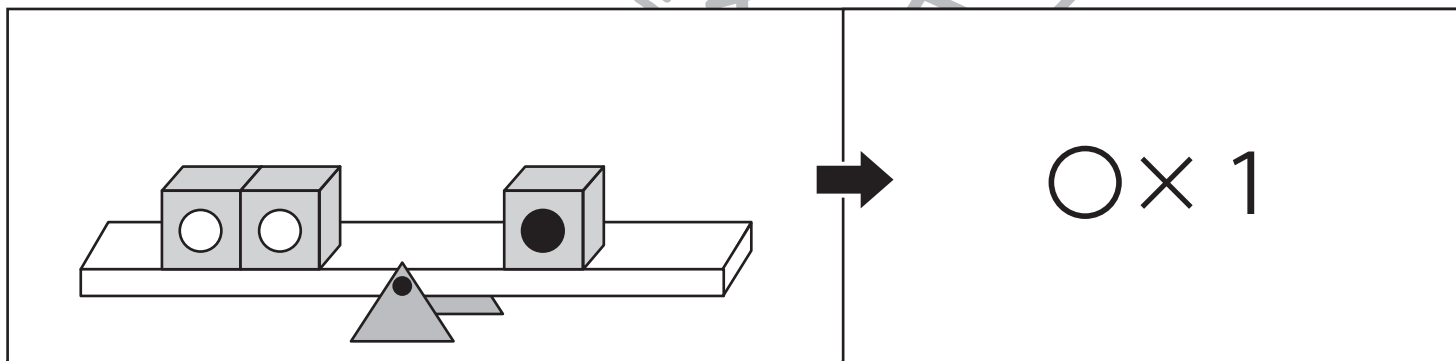
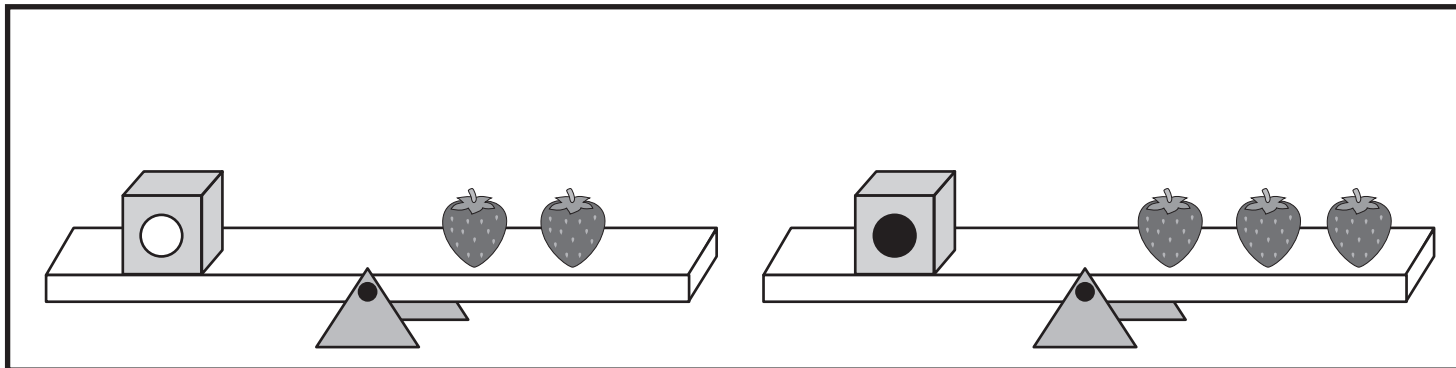


# おうちで、やろう。

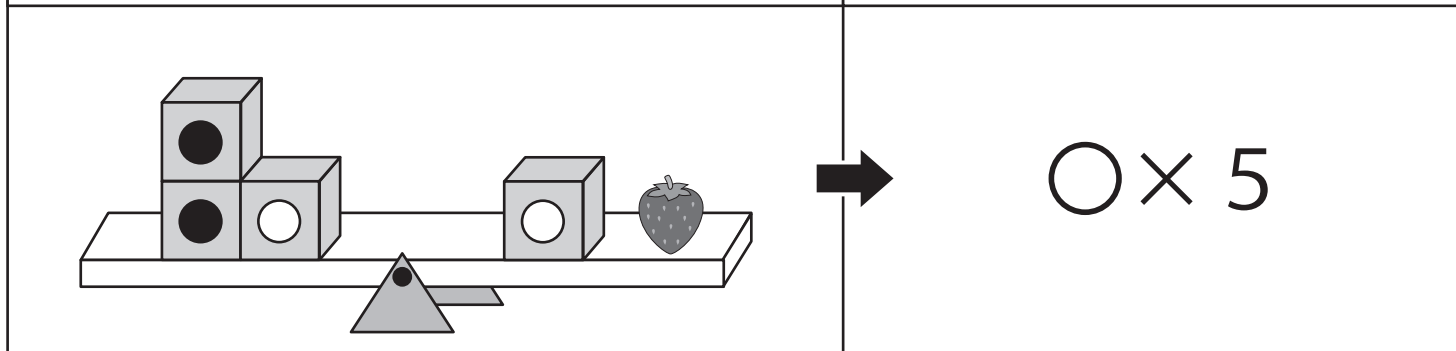
Study at home. 小学校受験の家庭学習教材

## 推理：重さの置き換え 8

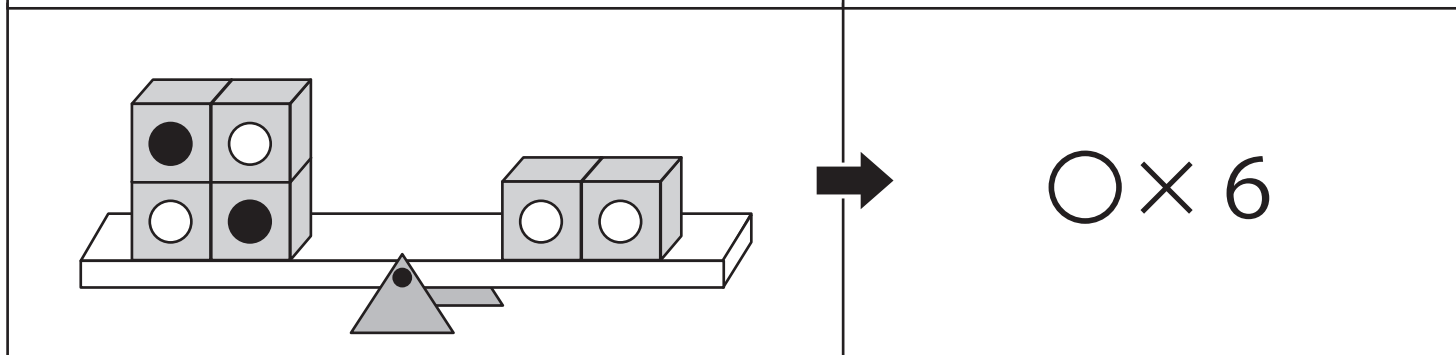
上の太い四角の中がお約束です。記号のついた箱はいくつかのイチゴと同じ重さで吊り合っています。下のシーソーが吊り合うためには右側にあといくつのイチゴを乗せればよいかを考えて、その数だけ矢印の右の四角に○をかきます。



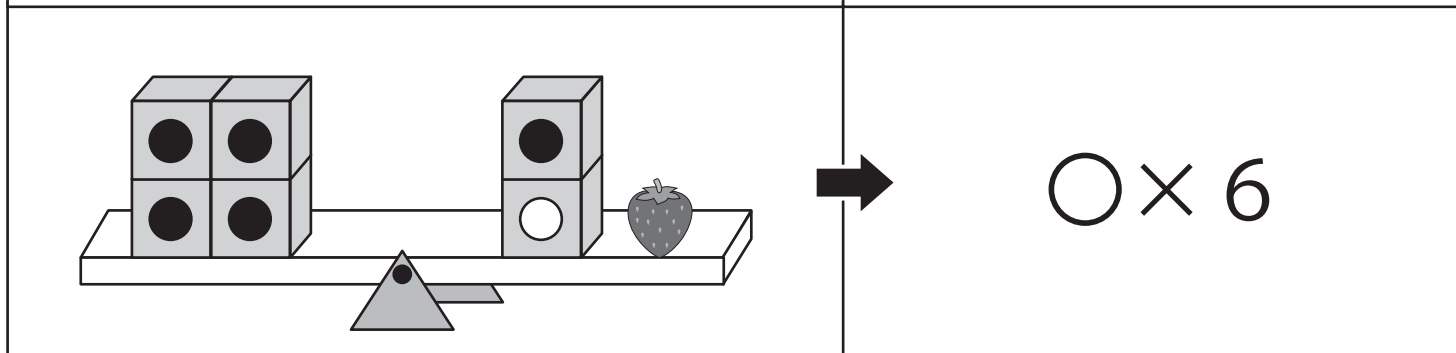
$$\bigcirc \times 1$$



$$\bigcirc \times 5$$



$$\bigcirc \times 6$$



$$\bigcirc \times 6$$

※1. このプリントは、しながわ・目黒こどもスクールのウェブサイトでダウンロードができます。無断複写・引用はご遠慮ください。

※2. このプリントを活用したオンライン授業のスケジュールは、しながわ・目黒こどもスクールのウェブサイトでご確認ください。



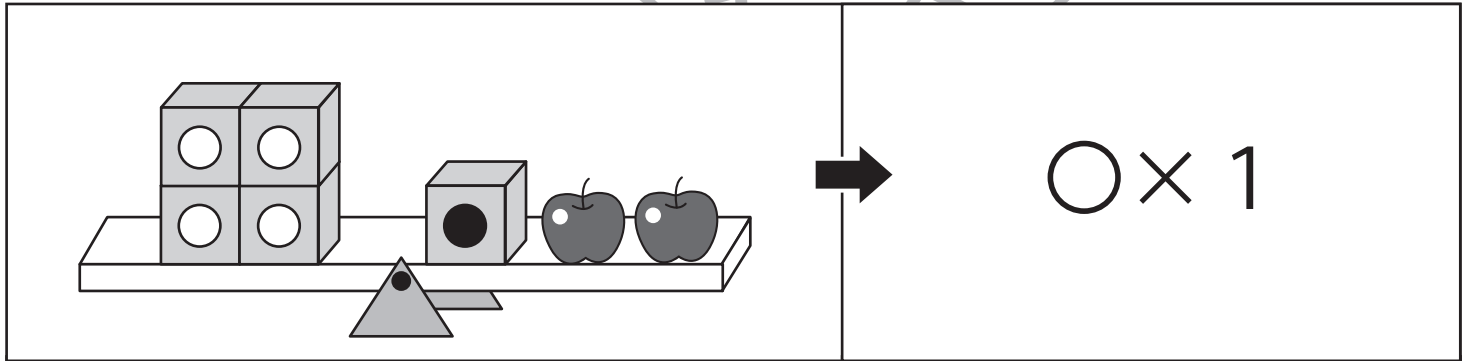
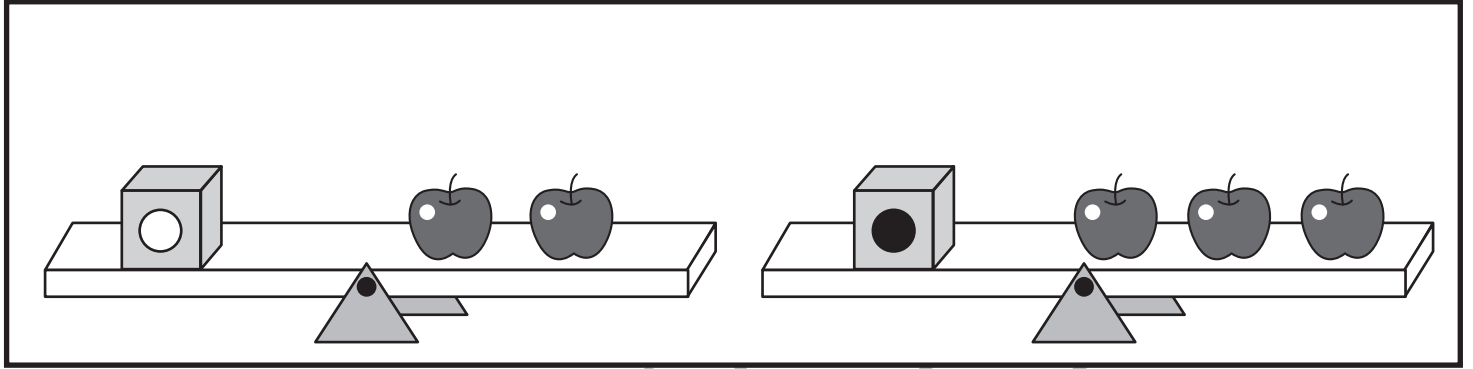


# おうちで、やろう。

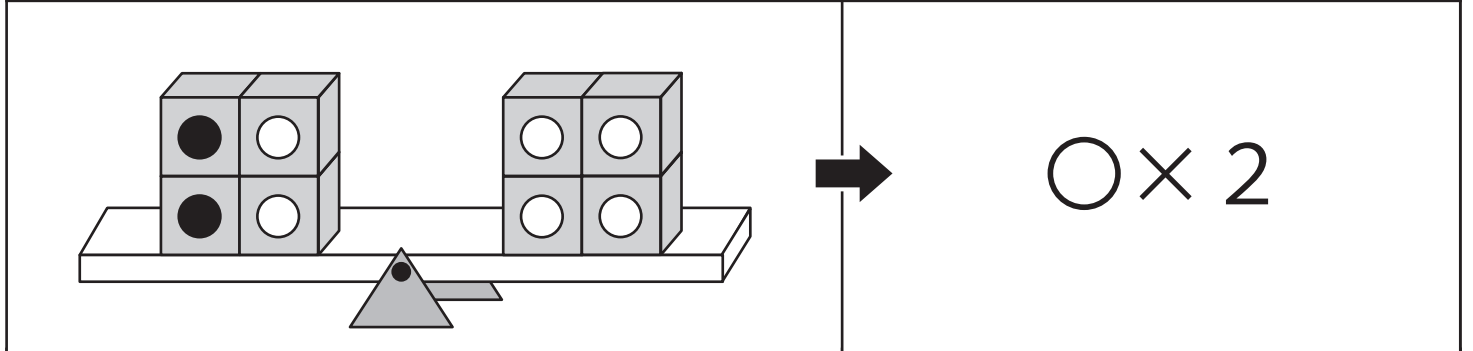
Study at home. 小学校受験の家庭学習教材

## 推理：重さの置き換え 9

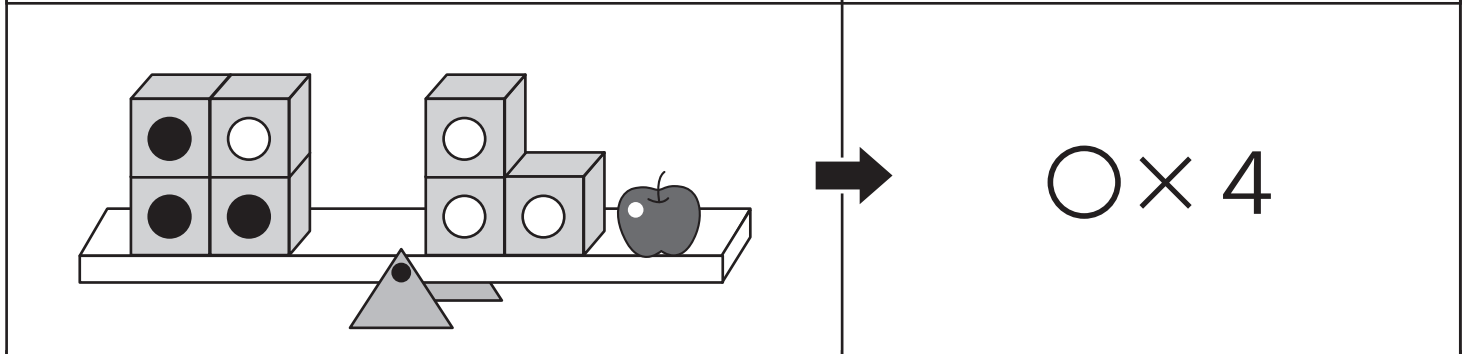
上の太い四角の中がお約束です。記号のついた箱はいくつかのリンゴと同じ重さで吊り合っています。下のシーソーが吊り合うためには右側にあといくつのリンゴを乗せればよいかを考えて、その数だけ矢印の右の四角に○をかきます。



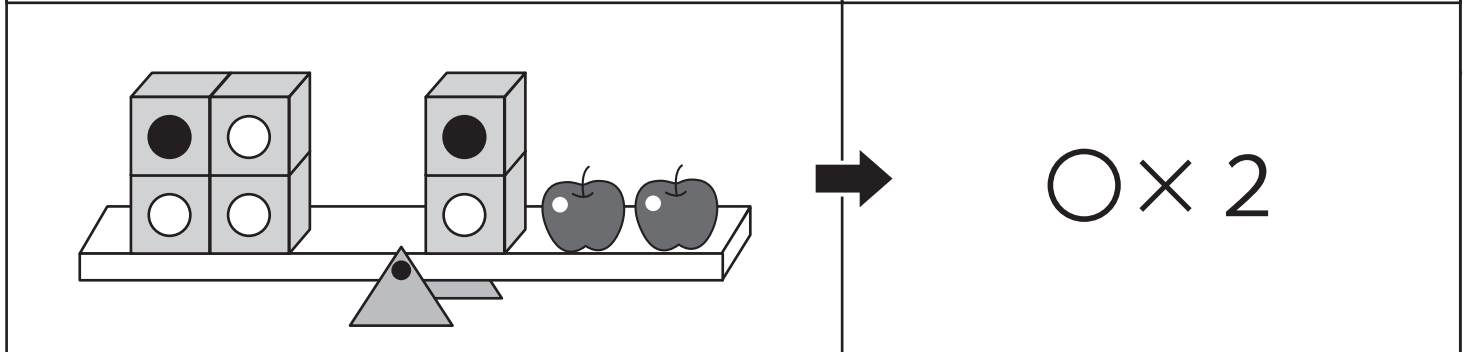
$$\bigcirc \times 1$$



$$\bigcirc \times 2$$



$$\bigcirc \times 4$$



$$\bigcirc \times 2$$

※1. このプリントは、しながわ・目黒こどもスクールのウェブサイトでダウンロードができます。無断複写・引用はご遠慮ください。

※2. このプリントを活用したオンライン授業のスケジュールは、しながわ・目黒こどもスクールのウェブサイトでご確認ください。



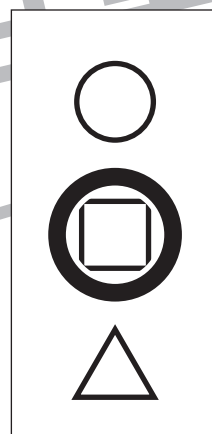
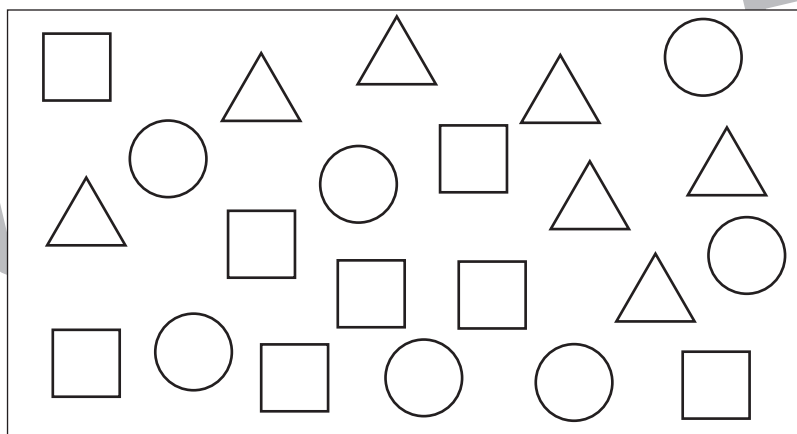

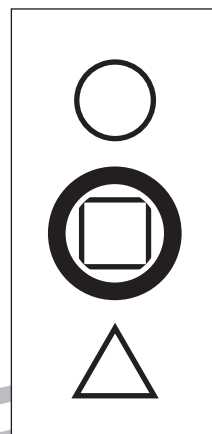





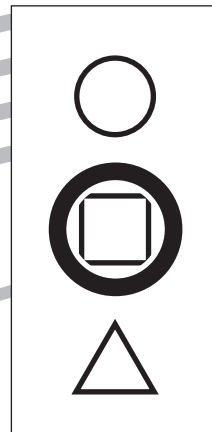
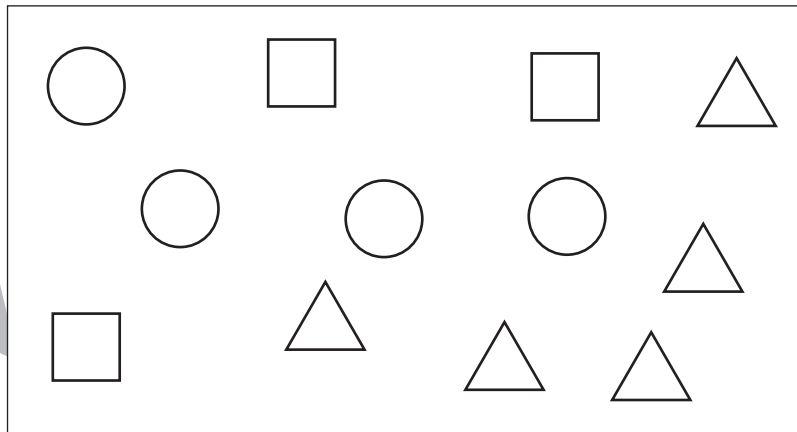
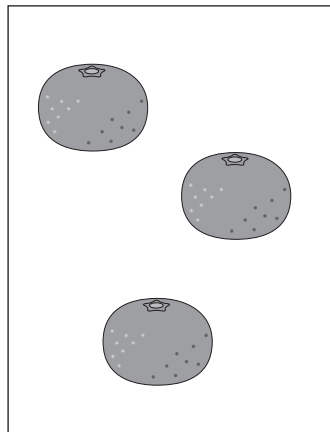


# おうちで、やろう。

Study at home. 小学校受験の家庭学習教材

数量：同数 13

左の四角の中の果物の数と同じ数の記号を真ん中の四角の中から見つけて、右の四角の記号に○をつけます。



※1. このプリントは、しながわ・目黒こどもスクールのウェブサイトでダウンロードができます。無断複写・引用はご遠慮ください。  
※2. このプリントを活用したオンライン授業のスケジュールは、しながわ・目黒こどもスクールのウェブサイトでご確認ください。



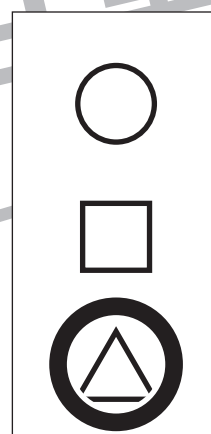
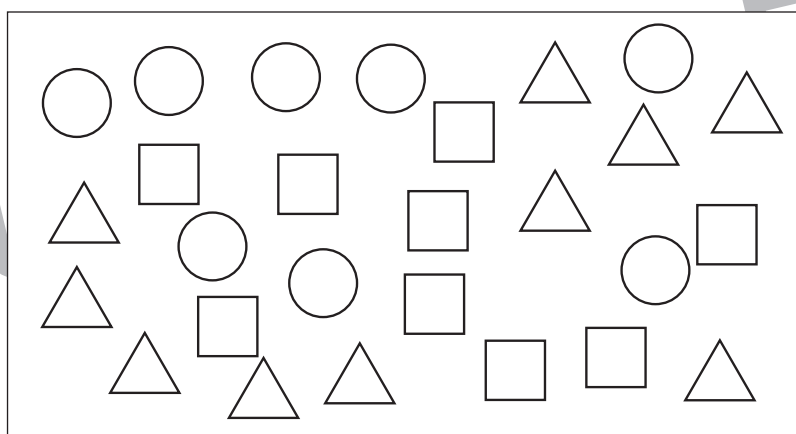

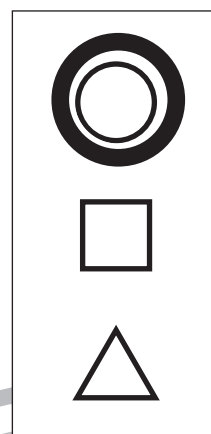
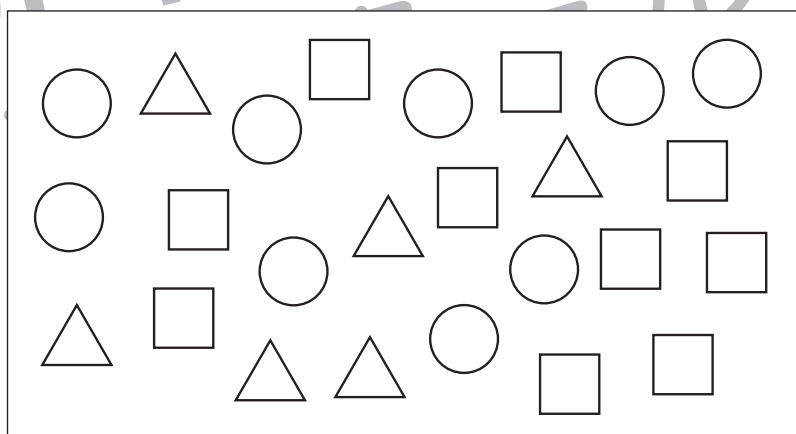

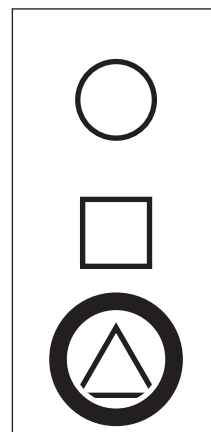
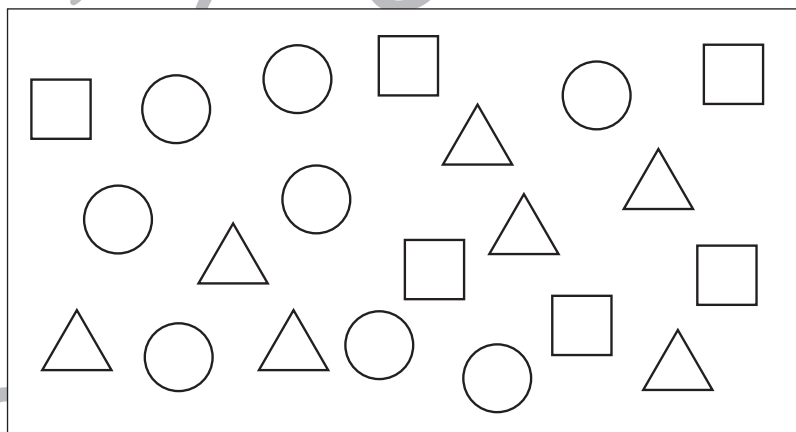

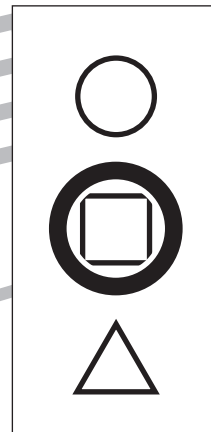
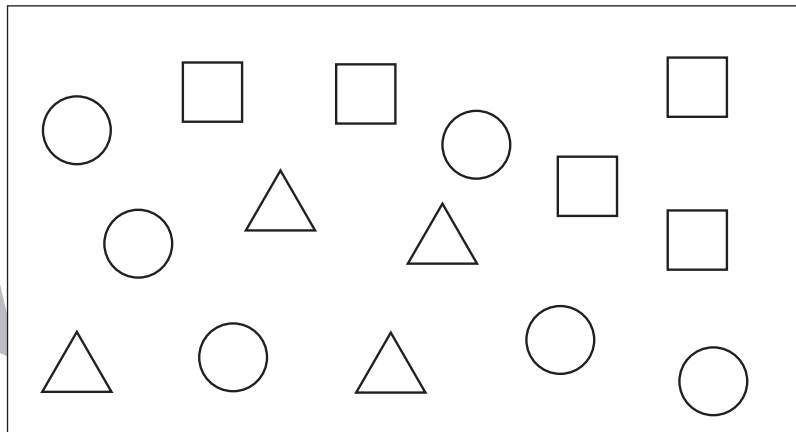
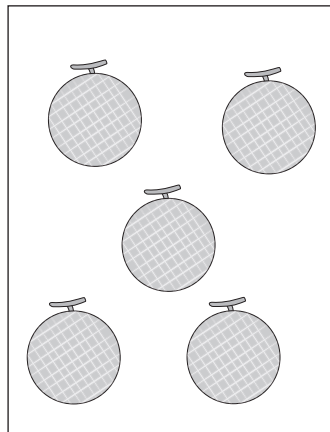


# おうちで、やろう。

Study at home. 小学校受験の家庭学習教材

数量：同数 14

左の四角の中の果物の数と同じ数の記号を真ん中の四角の中から見つけて、右の四角の記号に○をつけます。



※1. このプリントは、しながわ・目黒こどもスクールのウェブサイトでダウンロードができます。無断複写・引用はご遠慮ください。

※2. このプリントを活用したオンライン授業のスケジュールは、しながわ・目黒こどもスクールのウェブサイトでご確認ください。