


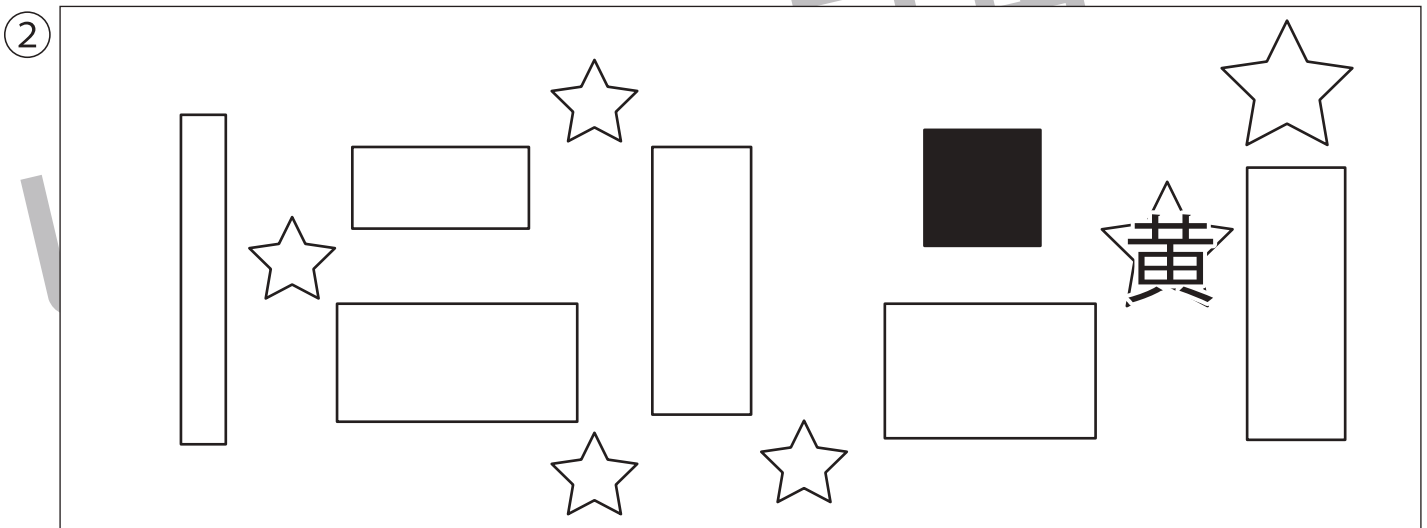



指示を聞いて、それぞれの問題に答えます。

①とんがりが上を向いている黒い三角に緑色のクーピーで○をつけます。

②黒い四角の一番近くにある星の形を黄色のクーピーで塗ります。

③黒い○の一番遠くにある三角を橙色、一番近くにある三角を紫色のクーピーで塗ります。



※1. このプリントは、しながわ・目黒こどもスクールのウェブサイトからダウンロードができます。無断複写・引用はご遠慮ください。

※2. このプリントを活用したオンライン授業のスケジュールは、しながわ・目黒こどもスクールのウェブサイトでご確認ください。



おうちで、やろう。 年中児版

Study at home. 小学校受験の家庭学習教材

言語：音の理解 9

指示を聞いて①、②それぞれの問題に取り組みます。

①「か・き・く・け・こ」のいずれかの音で始まる言葉の絵に○をつけます。

②「ん」の音で終わる言葉の絵に○をつけます。

①

②

※1. このプリントは、しながわ・目黒こどもスクールのウェブサイトでダウンロードができます。無断複写・引用はご遠慮ください。

※2. このプリントを活用したオンライン授業のスケジュールは、しながわ・目黒こどもスクールのウェブサイトでご確認ください。



指示を聞いて①、②それぞれの問題に取り組みます。

①「ま」の音が入る言葉の絵に○をつけます。

②「す」の音が入る言葉の絵に○をつけます。

①

②

※1. このプリントは、しながわ・目黒こどもスクールのウェブサイトからダウンロードできます。無断複写・引用はご遠慮ください。

※2. このプリントを活用したオンライン授業のスケジュールは、しながわ・目黒こどもスクールのウェブサイトでご確認ください。

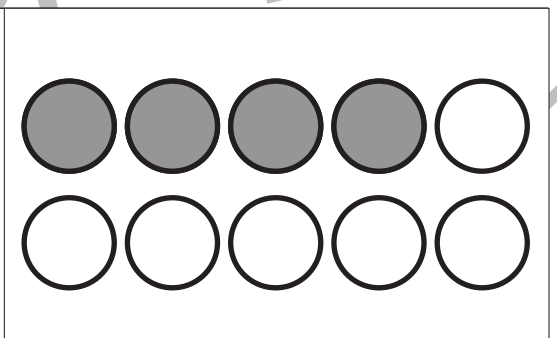
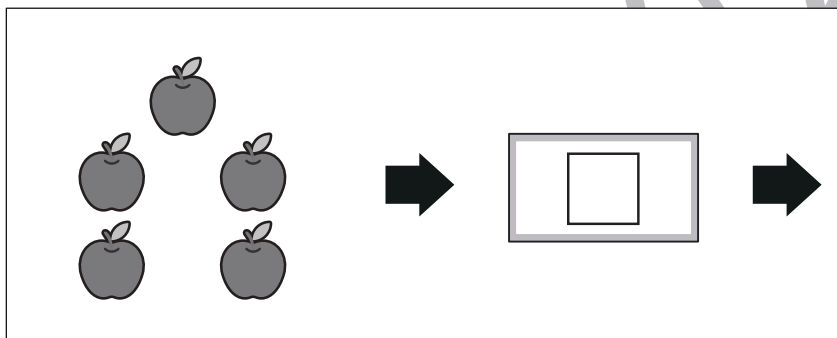
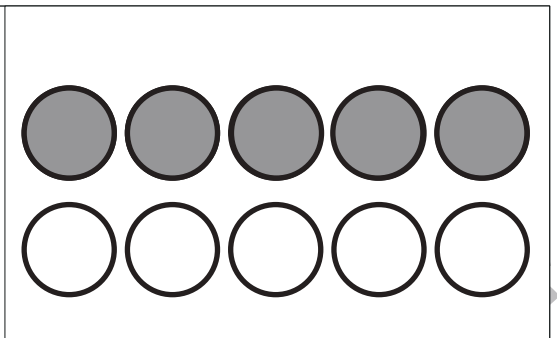


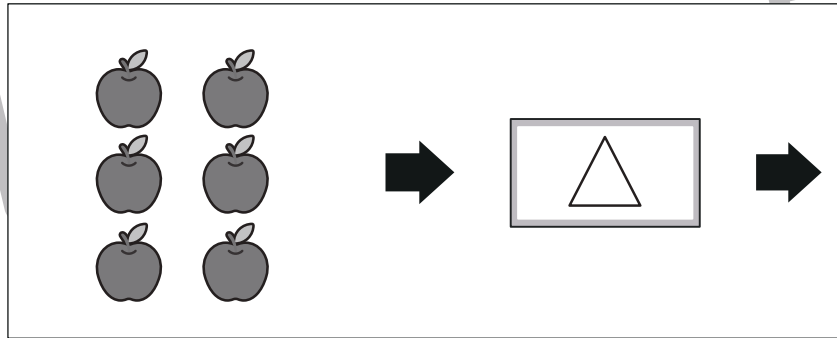
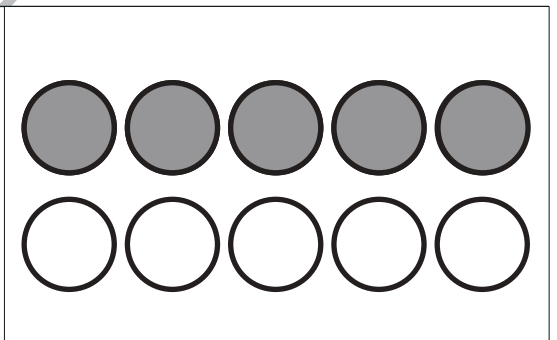
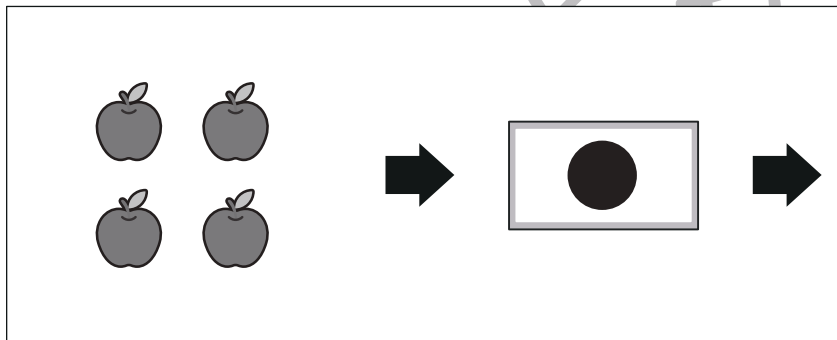

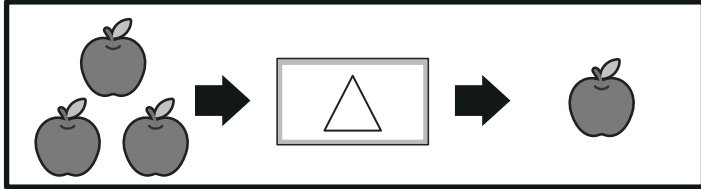
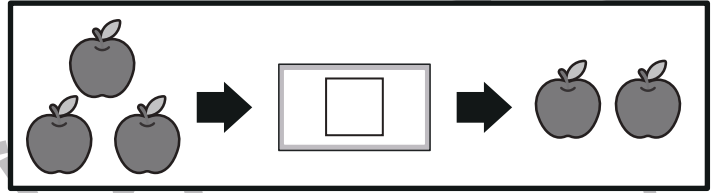



おうちで、やろう。 年中児版 推理：ブラックボックス5

Study at home. 小学校受験の家庭学習教材

一番上の四角の中が約束です。果物が箱の中を通ると、数が変わります。

果物がそれぞれの箱の中を通ると何個になるかを考えて、その数だけ右の四角の中の○を塗ります。



※1. このプリントは、しながわ・目黒こどもスクールのウェブサイトからダウンロードができます。無断複製・引用はご遠慮ください。
※2. このプリントを活用したオンライン授業のスケジュールは、しながわ・目黒こどもスクールのウェブサイトでご確認ください。



おうちで、やろう。年中児版 推理：ブラックボックス6

Study at home. 小学校受験の家庭学習教材

一番上の四角の中が約束です。果物が箱の中を通ると、数が変わります。

このとき、果物がそれぞれの箱の中を通ると、何個になるかを考えてその数だけ右の四角の中の○を塗ります。

Two apples → [Box with a black circle] → Three apples

Three apples → [Box with a white square] → Two apples

Three apples → [Box with a white triangle] → One apple

One apple → [Box with a black star] → Three apples

Three apples → [Box with a white triangle] → [Box with a black circle] → 10 circles (2 rows of 5)

Two apples → [Box with a white square] → [Box with a black star] → 10 circles (2 rows of 5)

Three apples → [Box with a black circle] → [Box with a black star] → 10 circles (2 rows of 5)

Six apples → [Box with a white triangle] → [Box with a white square] → 10 circles (2 rows of 5)

※1. このプリントは、しながわ・目黒こどもスクールのウェブサイトからダウンロードができます。無断複製・引用はご遠慮ください。
 ※2. このプリントを活用したオンライン授業のスケジュールは、しながわ・目黒こどもスクールのウェブサイトでご確認ください。





おうちで、やろう。 年中児版


Study at home. 小学校受験の家庭学習教材


数量 - 分割 3

木に実っているブドウの数を数えて、それぞれの四角の中にあるウサギに同じ数ずつ分けると一匹のウサギはいくつブドウをもらえますか。
正しいブドウの数を下の四角に○をつけます。









※1. このプリントは、しながわ・目黒こどもスクールのウェブサイトからダウンロードできます。無断複写・引用はご遠慮ください。

※2. このプリントを活用したオンライン授業のスケジュールは、しながわ・目黒こどもスクールのウェブサイトでご確認ください。

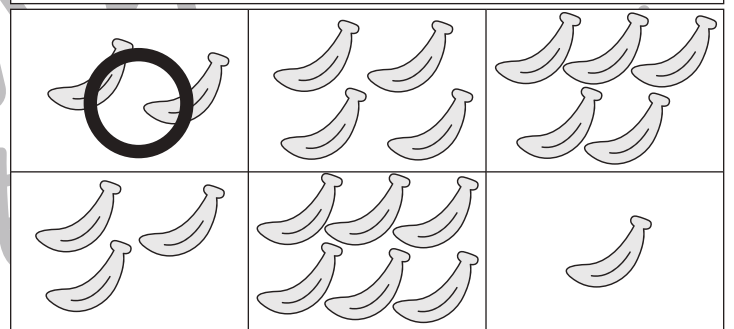

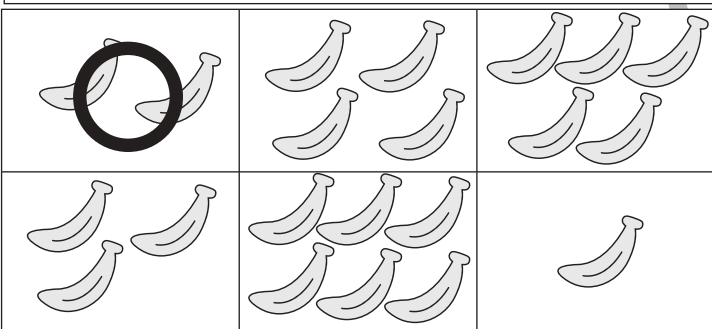

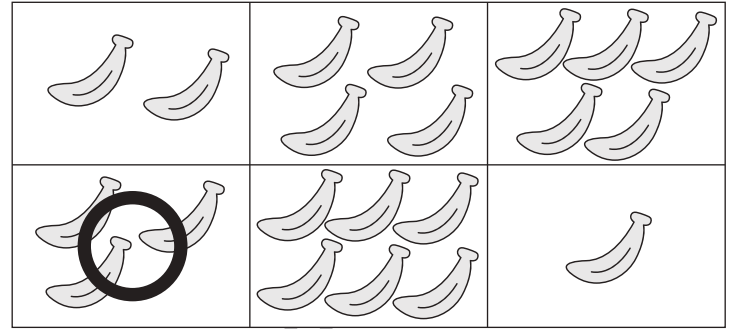

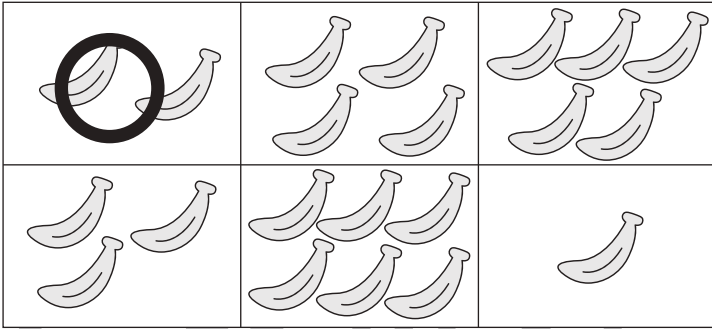



おうちで、やろう。 年中児版

Study at home. 小学校受験の家庭学習教材

数量 - 分割 4

木に実っているバナナの数を数えて、それぞれの四角の中にあるサルに同じ数ずつ仲良く分けると一匹のサルはいくつバナナをもらえますか。
正しいバナナの本数を下の四角に○をつけます。※余りの数は含めません



※1. このプリントは、しながわ・目黒こどもスクールのウェブサイトからダウンロードできます。無断複写・引用はご遠慮ください。

※2. このプリントを活用したオンライン授業のスケジュールは、しながわ・目黒こどもスクールのウェブサイトでご確認ください。







おうちで、やろう。 年中児版

Study at home. 小学校受験の家庭学習教材

数量 - 分割 5

木に実っているリンゴの数を数えて、それぞれの四角の中にあるゾウに同じ数ずつ分けると一頭のゾウはいくつリンゴをもらえますか。その数だけ下の四角に○をかきます。



※1. このプリントは、しながわ・目黒こどもスクールのウェブサイトでダウンロードができます。無断複写・引用はご遠慮ください。
※2. このプリントを活用したオンライン授業のスケジュールは、しながわ・目黒こどもスクールのウェブサイトでご確認ください。

