



おうちで、やろう。

Study at home. 小学校受験の家庭学習教材

言語：音の理解 33

左上の太い四角の中の始めの音と絵の終わりの音が両方とも同じ絵を、大きい四角の中から探して○をつけます。

Illustration of a bear in a thick-bordered box.

Illustrations of a raccoon, two mushrooms, a turtle, a whale, a penguin, and a car with a magnifying glass over it.

Illustration of an octopus in a thick-bordered box.

Illustrations of a watermelon, a broom, a drum with a magnifying glass over it, a penguin, a daisy, and a pumpkin.

※1. このプリントは、しながわ・目黒こどもスクールのウェブサイトからダウンロードができます。無断複写・引用はご遠慮ください。

※2. このプリントを活用したオンライン授業のスケジュールは、しながわ・目黒こどもスクールのウェブサイトでご確認ください。

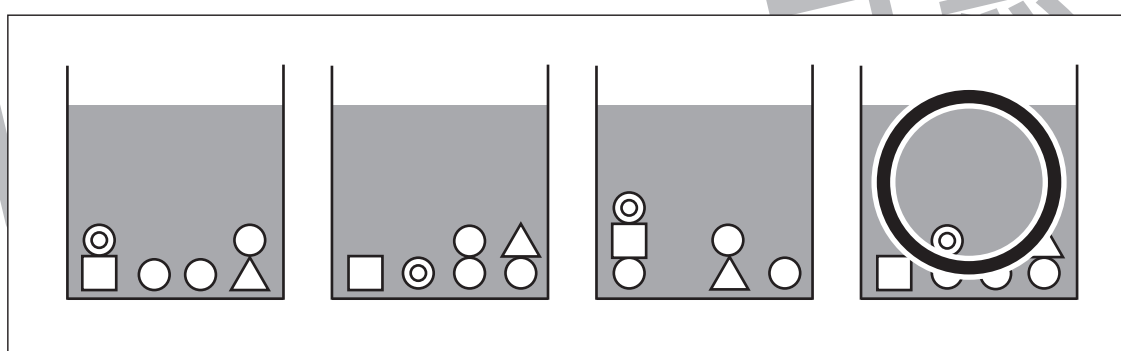
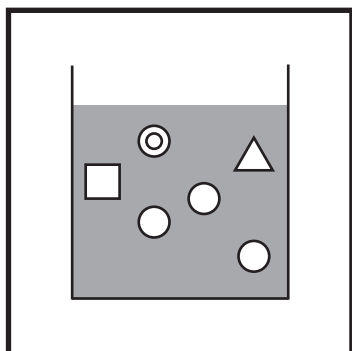
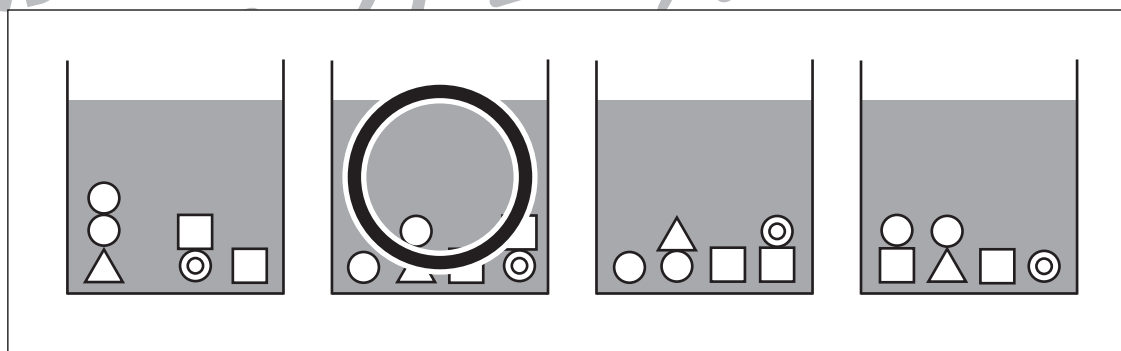
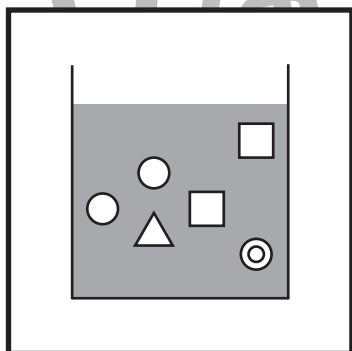
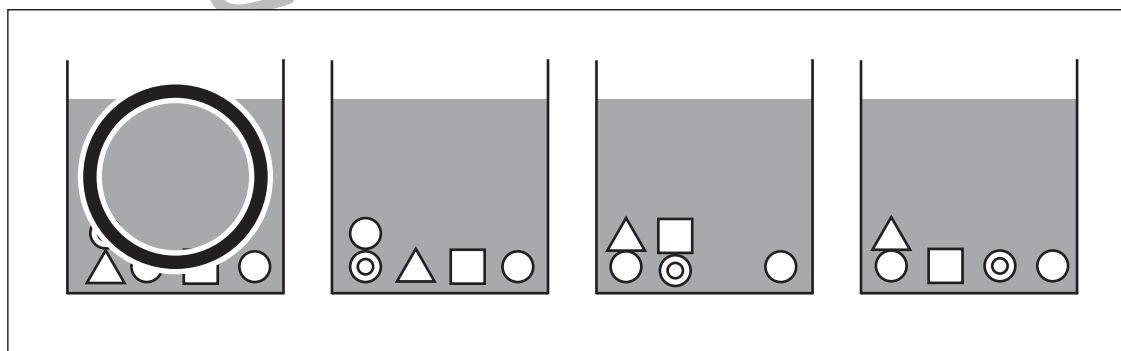
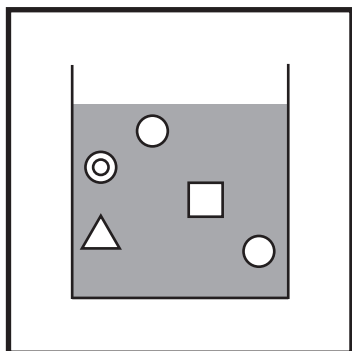
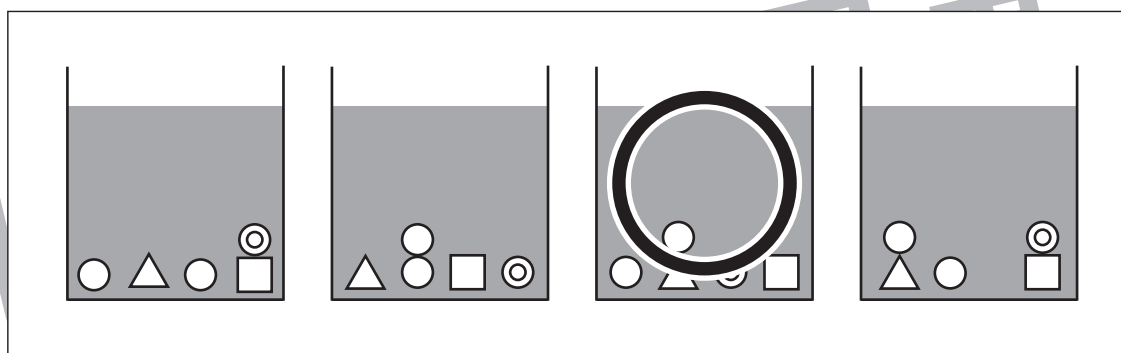
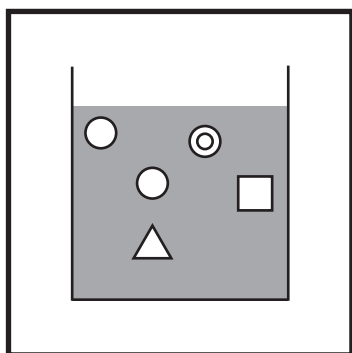


おうちで、やろう。

Study at home. 小学校受験の家庭学習教材

推理：条件推理 14

左の四角の中がお手本です。このお手本はコップの中に水が入っていて、上からいくつかの形を入れて落ちていく途中の様子です。このまま形がまっすぐ落ちたときにどうなるかを考え、正しいものを選び○をつけます。



※1. このプリントは、しながわ・目黒こどもスクールのウェブサイトでダウンロードができます。無断複写・引用はご遠慮ください。
※2. このプリントを活用したオンライン授業のスケジュールは、しながわ・目黒こどもスクールのウェブサイトでご確認ください。

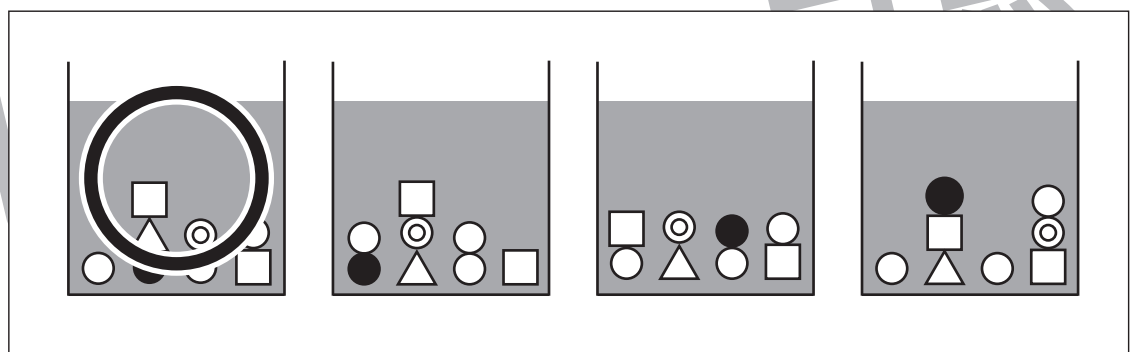
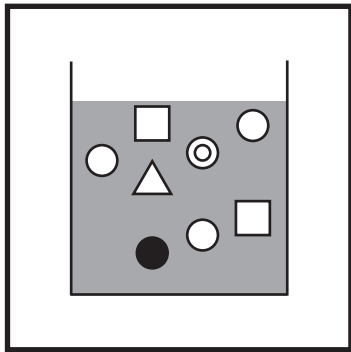
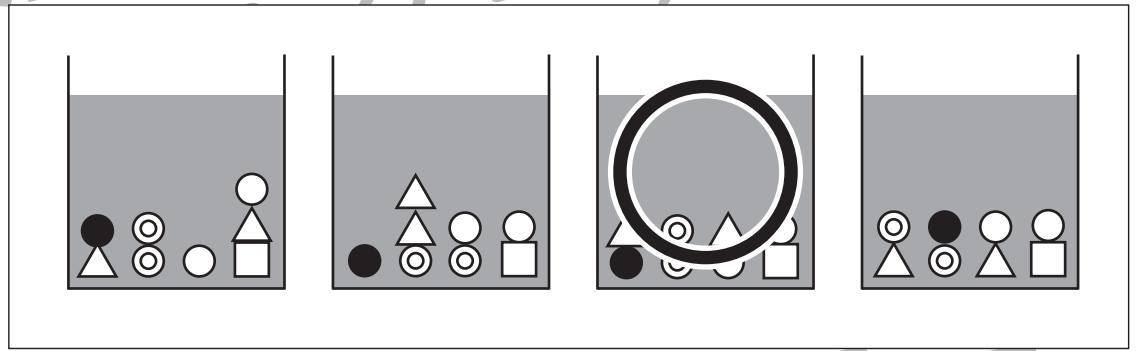
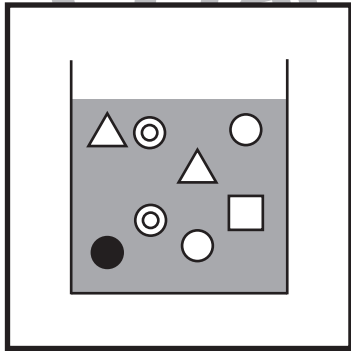
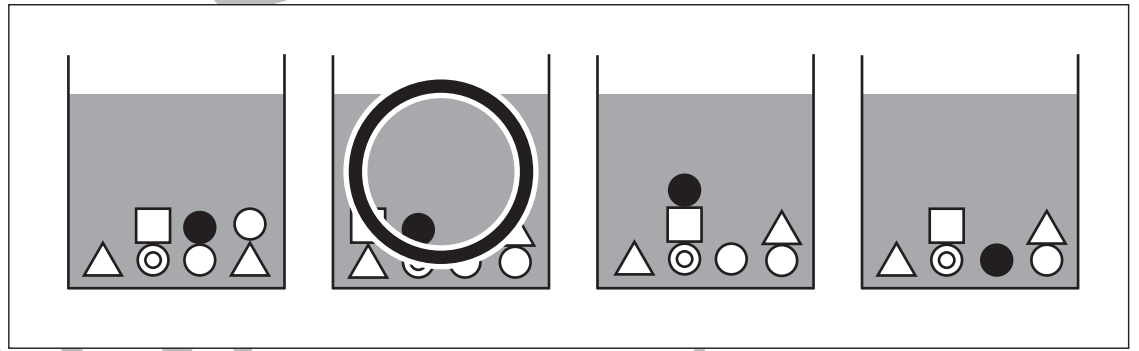
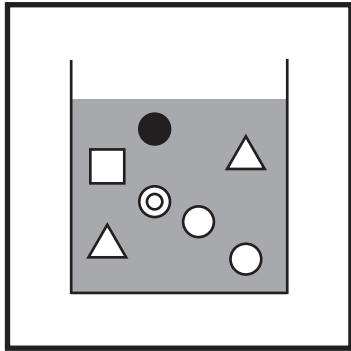
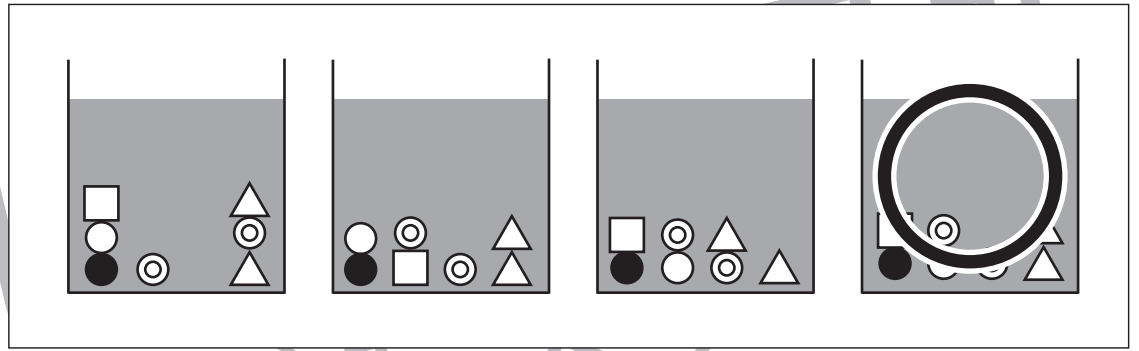
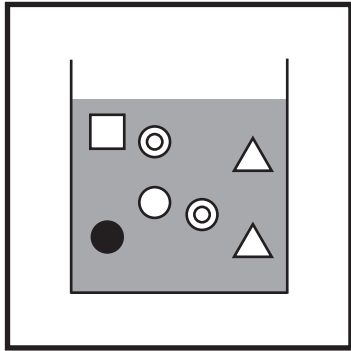


おうちで、やろう。

Study at home. 小学校受験の家庭学習教材

推理：条件推理 15

左の四角の中がお手本です。このお手本はコップの中に水が入っていて、上からいくつかの形を入れて落ちていく途中の様子です。このまま形がまっすぐ落ちたときにどうなるかを考え、正しいものを選び○をつけます。



※1. このプリントは、しながわ・目黒こどもスクールのウェブサイトでダウンロードができます。無断複写・引用はご遠慮ください。
※2. このプリントを活用したオンライン授業のスケジュールは、しながわ・目黒こどもスクールのウェブサイトでご確認ください。

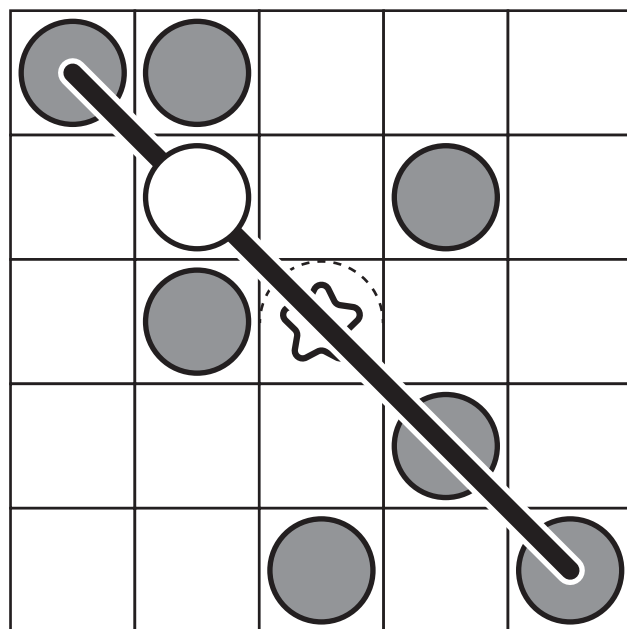
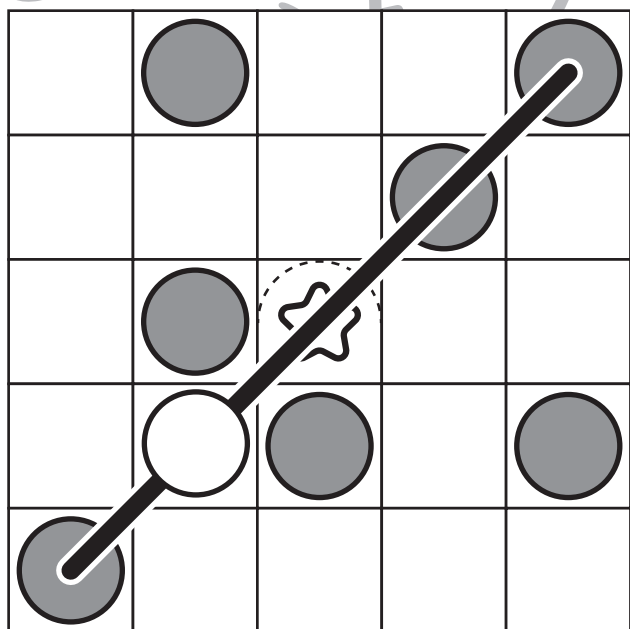
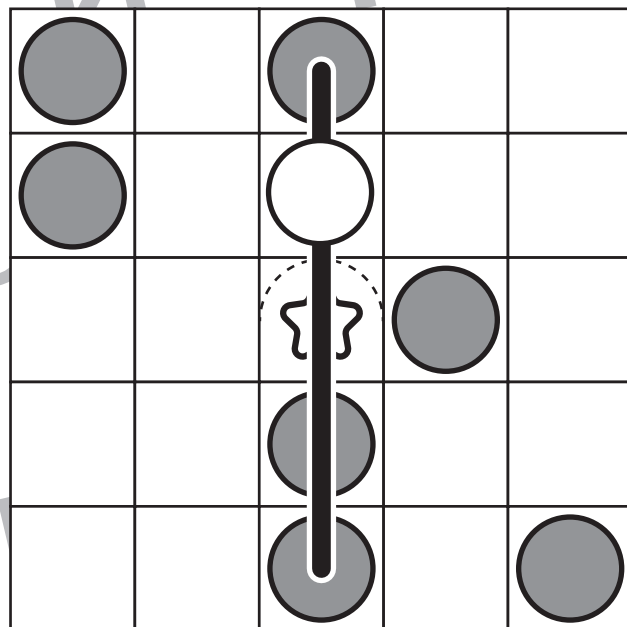
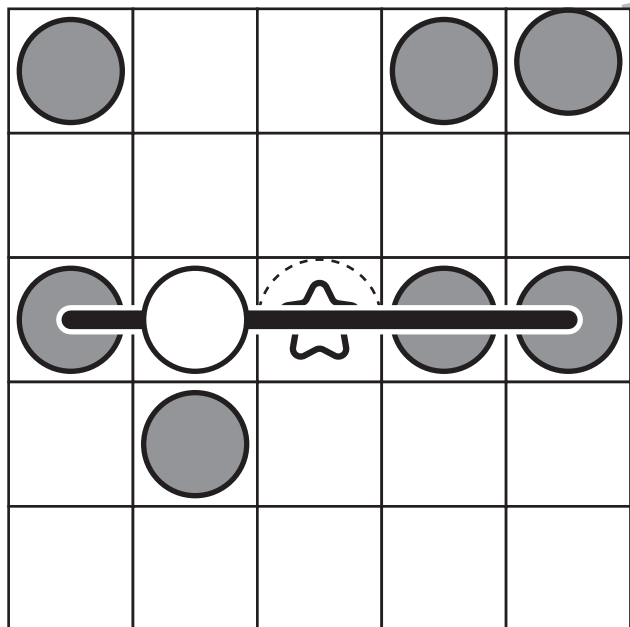


おうちで、やろう。

Study at home. 小学校受験の家庭学習教材

図形：ビンゴ4

真ん中は星のマークで枠が埋まっています。空いているどこかのマスに○を1つかくと、縦・横・斜めのどこかにマークが5つ並び列ができます。どこのマスを考えてそのマスに○をかきます。



※1. このプリントは、しながわ・目黒こどもスクールのウェブサイトでダウンロードができます。無断複写・引用はご遠慮ください。
 ※2. このプリントを活用したオンライン授業のスケジュールは、しながわ・目黒こどもスクールのウェブサイトでご確認ください。

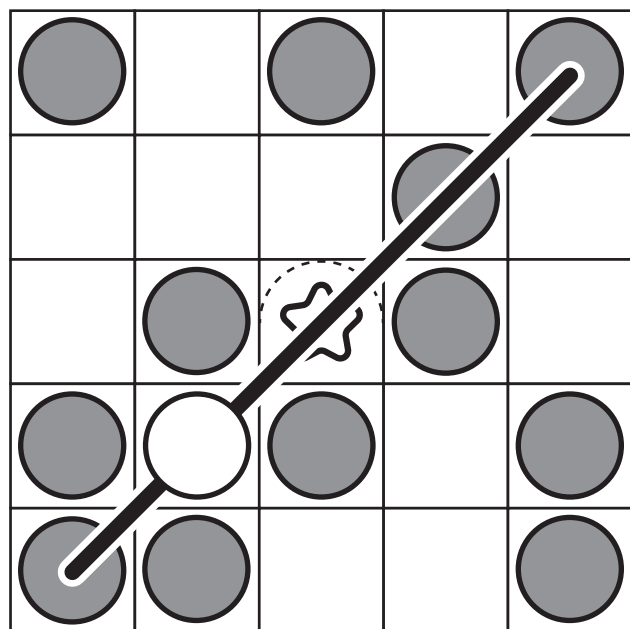
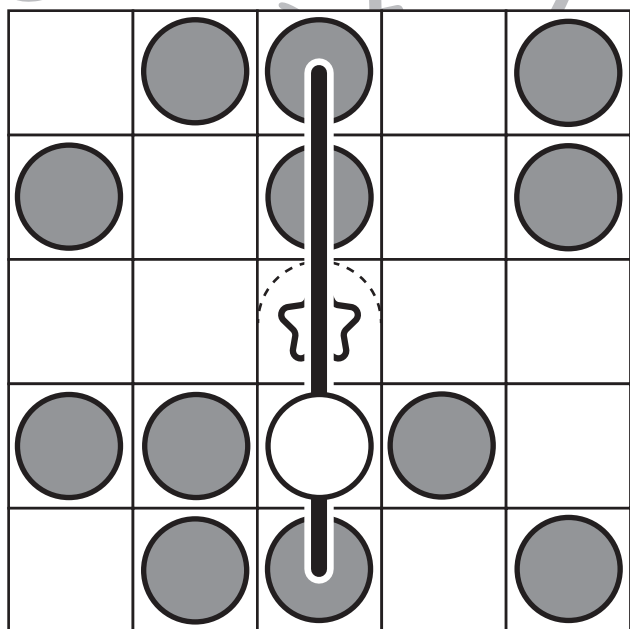
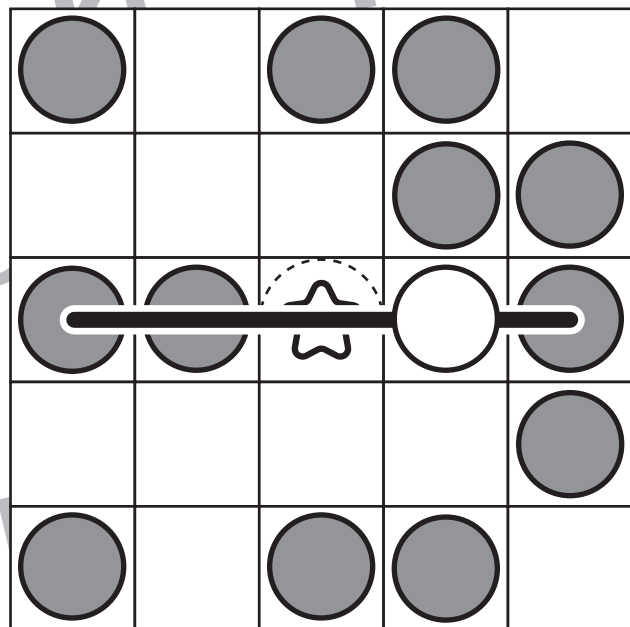
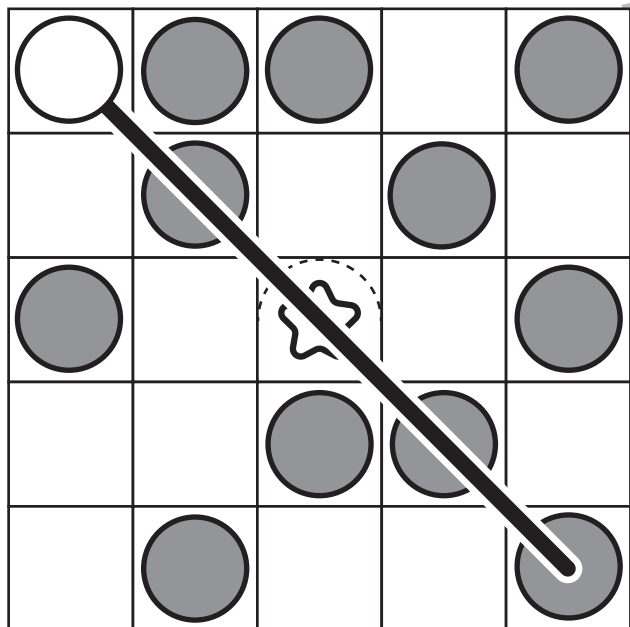


おうちで、やろう。

Study at home. 小学校受験の家庭学習教材

図形：ビンゴ5

真ん中は星のマークで枠が埋まっています。空いているどこかのマスに○を1つかくと、縦・横・斜めのどこかにマークが5つ並び列ができます。どこのマスカを考えてそのマスに○をかきます。



※1. このプリントは、しながわ・目黒こどもスクールのウェブサイトでダウンロードができます。無断複写・引用はご遠慮ください。
 ※2. このプリントを活用したオンライン授業のスケジュールは、しながわ・目黒こどもスクールのウェブサイトでご確認ください。

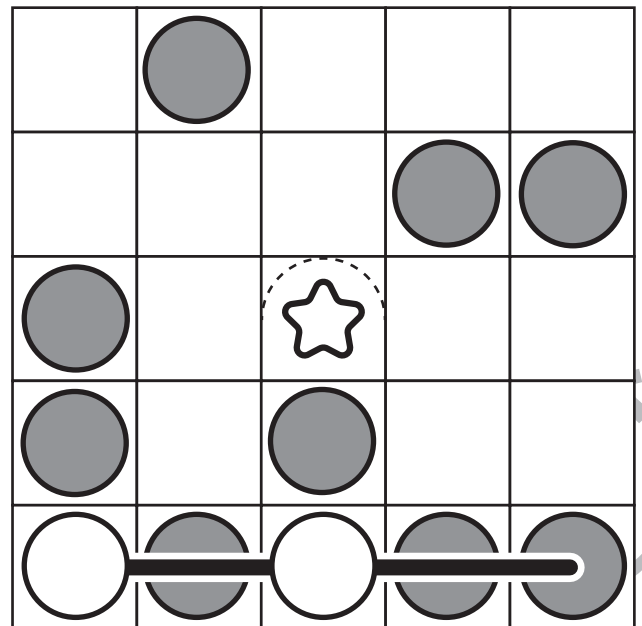
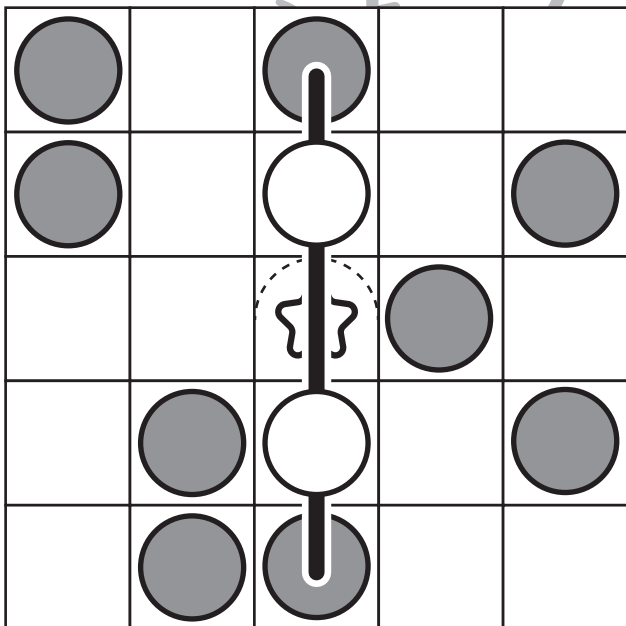
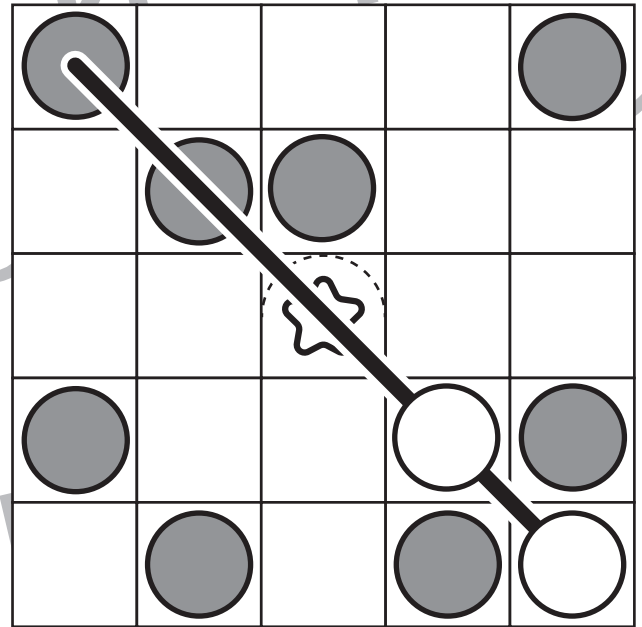
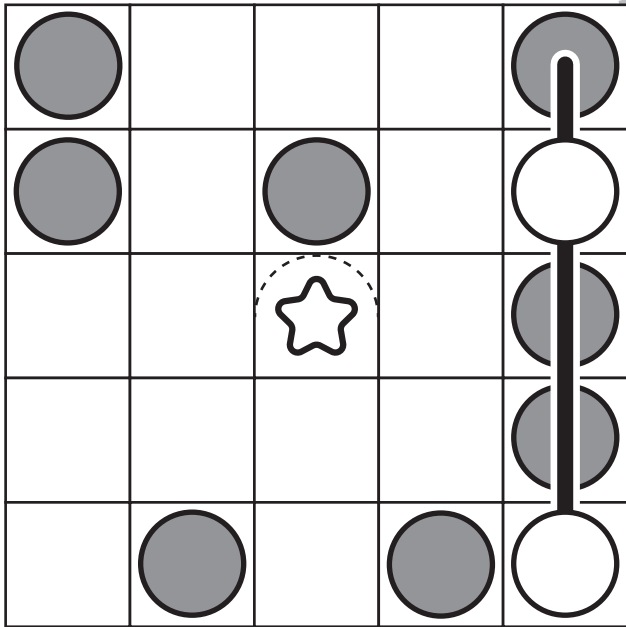


おうちで、やろう。

Study at home. 小学校受験の家庭学習教材

図形：ビンゴ6

真ん中は星のマークで枠が埋まっています。空いているどこかのマスに○を2つかくと、縦・横・斜めのどこかにマークが5つ並び列ができます。どこのマスを考えてそのマスに○をかきます。



※1. このプリントは、しながわ・目黒こどもスクールのウェブサイトでダウンロードができます。無断複写・引用はご遠慮ください。
 ※2. このプリントを活用したオンライン授業のスケジュールは、しながわ・目黒こどもスクールのウェブサイトでご確認ください。

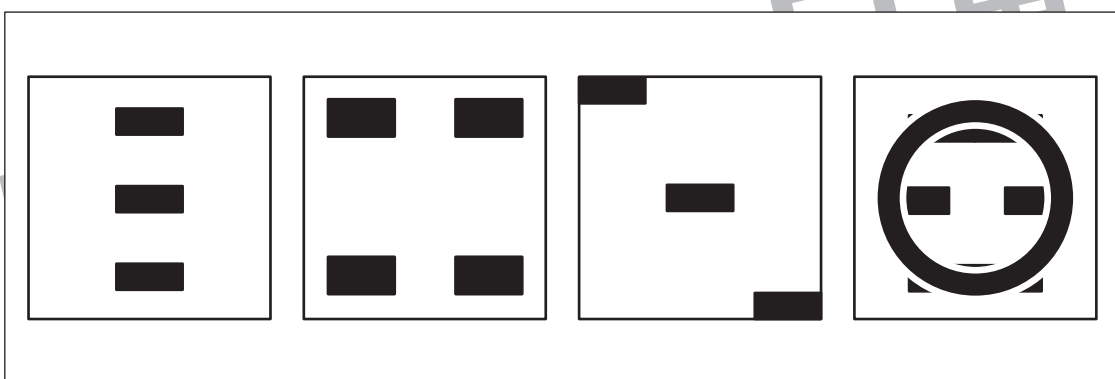

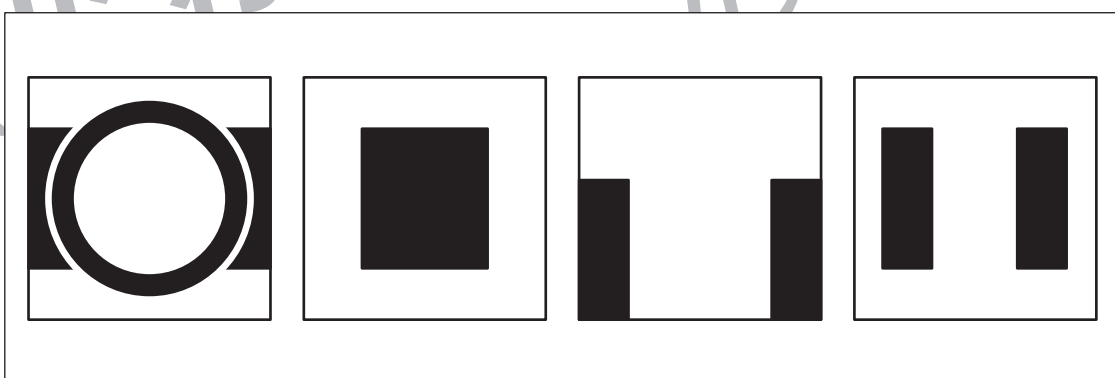


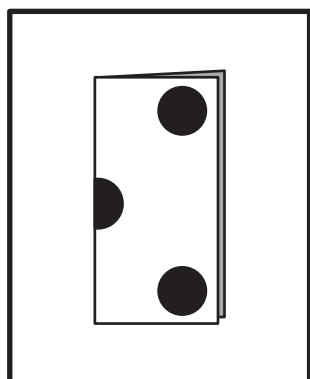
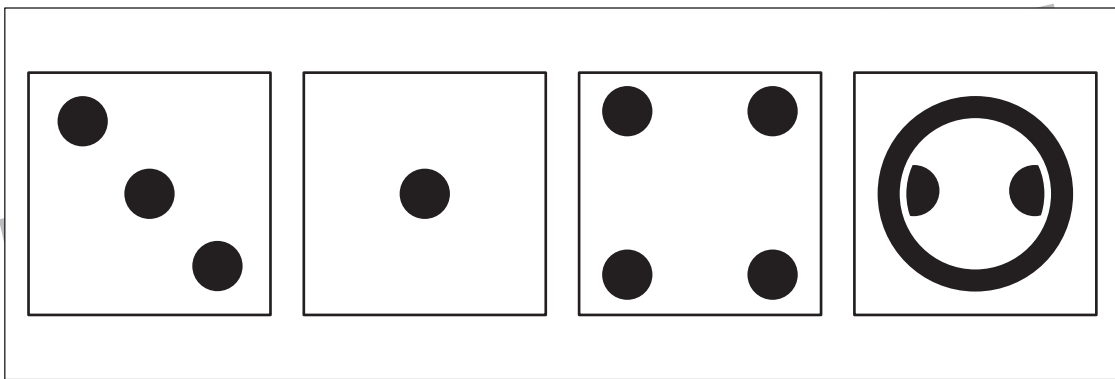
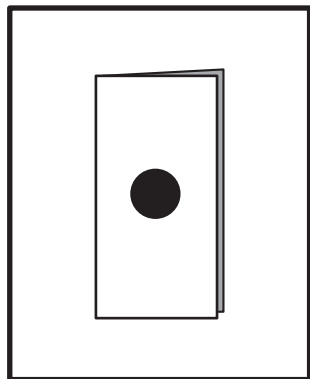


おうちで、やろう。

Study at home. 小学校受験の家庭学習教材

図形：切り抜き 8

太い四角の中の折り紙は半分に折ったもので、この折り紙の黒い部分を切り抜きます。
折り紙を開いた時の見え方を考えて、右の四角の中から選び○をつけます。



※1. このプリントは、しながわ・目黒こどもスクールのウェブサイトでダウンロードができます。無断複写・引用はご遠慮ください。
※2. このプリントを活用したオンライン授業のスケジュールは、しながわ・目黒こどもスクールのウェブサイトでご確認ください。

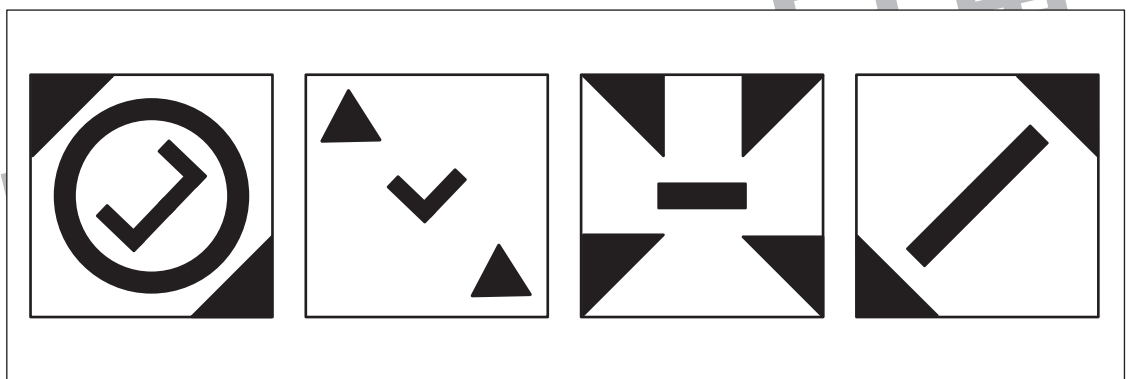
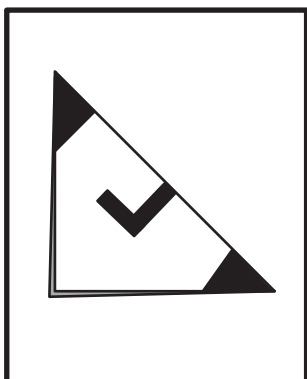
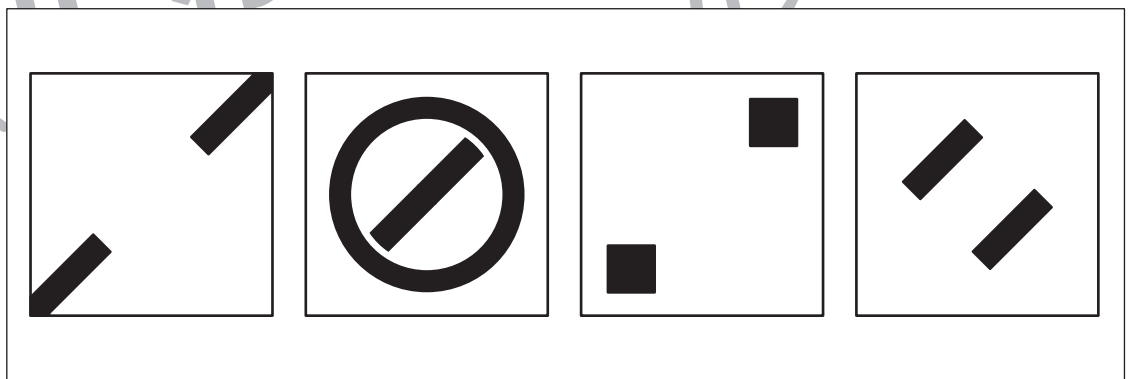
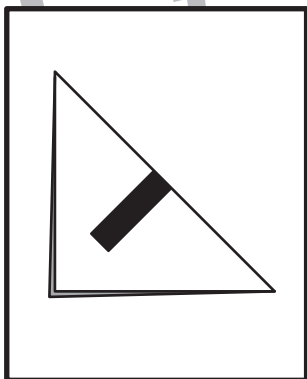
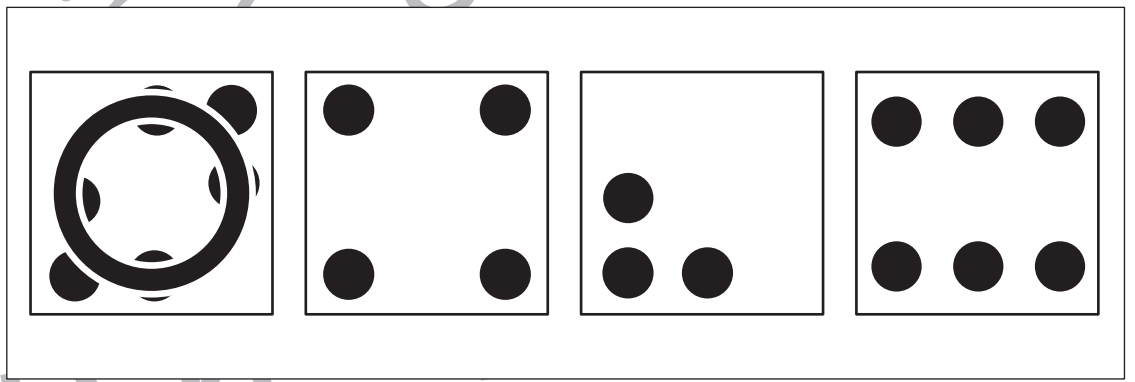
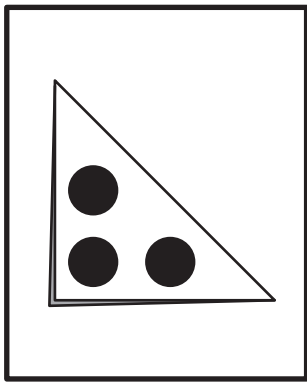
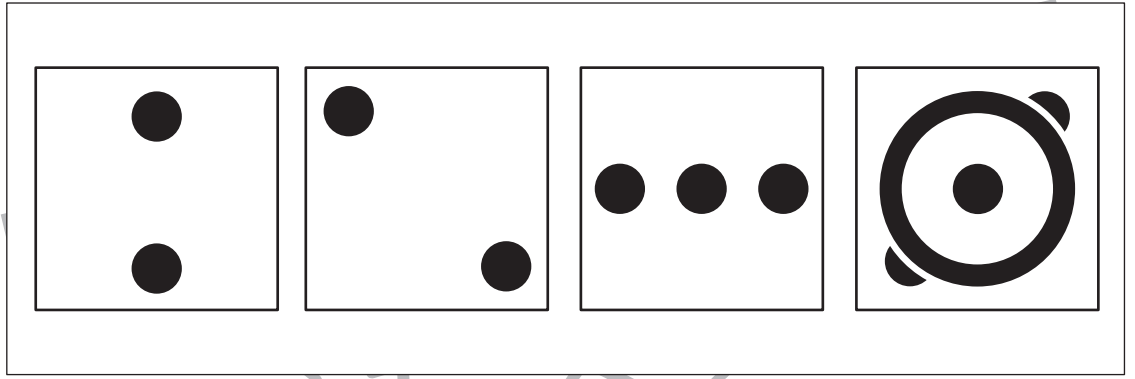
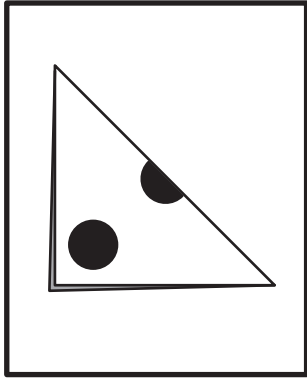


おうちで、やろう。

Study at home. 小学校受験の家庭学習教材

図形：切り抜き 9

太い四角の中の折り紙は半分に折ったもので、この折り紙の黒い部分を切り抜きます。
折り紙を開いた時の見え方を考えて、右の四角の中から選び○をつけます。



※1. このプリントは、しながわ・目黒こどもスクールのウェブサイトでダウンロードができます。無断複写・引用はご遠慮ください。
※2. このプリントを活用したオンライン授業のスケジュールは、しながわ・目黒こどもスクールのウェブサイトでご確認ください。







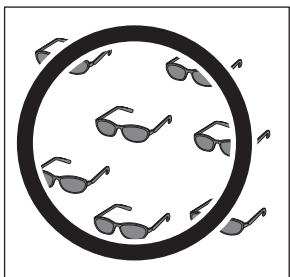




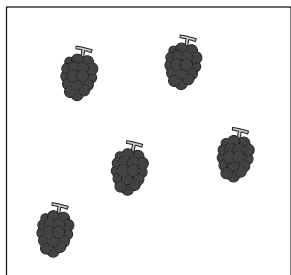






おうちで、やろう。

Study at home. 小学校受験の家庭学習教材

処理：多少3

左の四角と右の四角を比べて、四角の中の絵の数が多い方に○をつけます。ただし、どちらも同じ数のときは両方の四角に△をつけます。この問題は時間を意識して取り組みましょう。(目安時間 1分～1分30秒)



※1. このプリントは、しながわ・目黒こどもスクールのウェブサイトからダウンロードできます。無断複写・引用はご遠慮ください。
※2. このプリントを活用したオンライン授業のスケジュールは、しながわ・目黒こどもスクールのウェブサイトでご確認ください。

