



おうちで、やろう。

Study at home. 小学校受験の家庭学習教材

指示の聞き取り 32

それぞれお話をよく聞いて動物たちが動いたマスを考えます。









(パンダ) 左へ2つ、上に3つ動きました。着いたマスに○をつけます。

(ライオン) 下へ3つ、右へ4つ動きました。着いたマスに×をつけます。

(キツネ) 上へ1つ、左へ3つ、下へ2つ動きました。着いたマスに□をつけます。

(キリン) 下へ3つ、左へ2つ、右へ4つ着いたマスに△をつけます。

しながわ・目黒

※1. このプリントは、しながわ・目黒こどもスクールのウェブサイトからダウンロードできます。無断複写・引用はご遠慮ください。

※2. このプリントを活用したオンライン授業のスケジュールは、しながわ・目黒こどもスクールのウェブサイトでご確認ください。




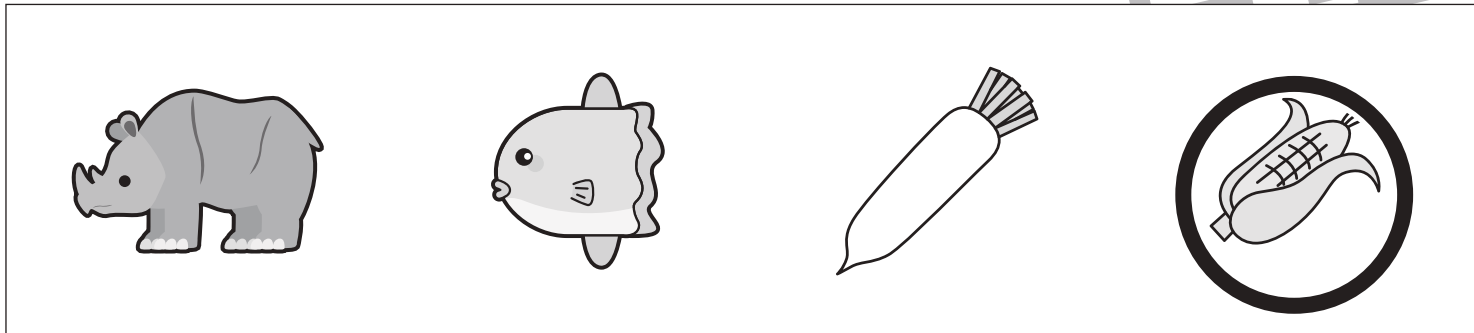


おうちで、やろう。

Study at home. 小学校受験の家庭学習教材

言語：音の数 35

四角の中の絵を見て考えます。音の数が一番多い絵に○をつけます。



※1. このプリントは、しながわ・目黒こどもスクールのウェブサイトでダウンロードができます。無断複写・引用はご遠慮ください。
 ※2. このプリントを活用したオンライン授業のスケジュールは、しながわ・目黒こどもスクールのウェブサイトでご確認ください。



おうちで、やろう。

Study at home. 小学校受験の家庭学習教材

推理：系列完成 17

上の約束どおりに左上の太い四角から順番に右下の太い四角まで進み、進んだ道に線をかきます。
進む道は縦と横には進めますが、斜めに進むことはできません。また、同じ道を通ることもできません。

○ → □ → △

○	△	○	△	△	○	□	△	○	△	□	○
□	□	□	○	□	○	△	□	□	○	△	○
△	○	□	△	□	△	△	△	△	□	○	△
□	△	○	○	△	□	□	□	○	□	△	○

◎ → 六 → □

◎	六	□	六	□	◎	六	六	◎	□	□
◎	六	◎	□	◎	六	□	◎	□	六	◎
六	◎	六	◎	□	六	六	□	六	◎	六
□	□	□	◎	六	◎	◎	六	◎	六	◎

◎ → ☆ → ○

◎	○	☆	☆	◎	◎	☆	◎	☆	○	☆	◎
☆	◎	☆	◎	○	○	◎	◎	○	☆	◎	☆
☆	◎	☆	◎	☆	◎	☆	☆	◎	○	◎	☆
◎	☆	◎	○	◎	☆	◎	☆	○	☆	◎	◎

※1. このプリントは、しながわ・目黒こどもスクールのウェブサイトからダウンロードができます。無断複写・引用はご遠慮ください。
※2. このプリントを活用したオンライン授業のスケジュールは、しながわ・目黒こどもスクールのウェブサイトでご確認ください。





おうちで、やろう。

Study at home. 小学校受験の家庭学習教材

推理：系列完成 18

上の約束どおりに左上の太い四角から順番に右下の太い四角まで進み、進んだ道に線をかきます。
進む道は縦と横には進めますが、斜めに進むことはできません。また、同じ道を通ることもできません。

○ → □ → ☆ → △

○	□	□	△	○	△	□	☆	○	○	△	△
△	☆	△	☆	☆	□	☆	○	○	□	☆	☆
△	□	○	□	○	△	□	△	□	△	○	△
□	△	○	△	☆	○	□	☆	△	□	☆	○

◎ → ☆ → 六 → □

◎	☆	六	六	◎	六	◎	六	◎	□	六	□
◎	◎	□	◎	☆	◎	☆	六	☆	□	□	◎
◎	六	□	◎	六	□	☆	□	□	◎	◎	☆
□	☆	□	◎	六	☆	□	◎	☆	六	□	六

△ → ☆ → ◎ → ○ → □

△	☆	◎	△	☆	□	△	○	☆	◎	□	□
◎	○	◎	□	◎	◎	☆	△	△	☆	◎	○
△	☆	☆	◎	□	△	◎	□	☆	◎	◎	☆
□	◎	○	◎	◎	☆	◎	□	△	△	□	△

※1. このプリントは、しながわ・目黒こどもスクールのウェブサイトからダウンロードできます。無断複写・引用はご遠慮ください。
※2. このプリントを活用したオンライン授業のスケジュールは、しながわ・目黒こどもスクールのウェブサイトでご確認ください。



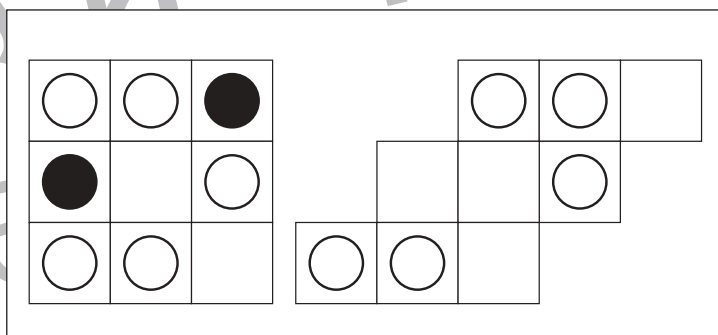
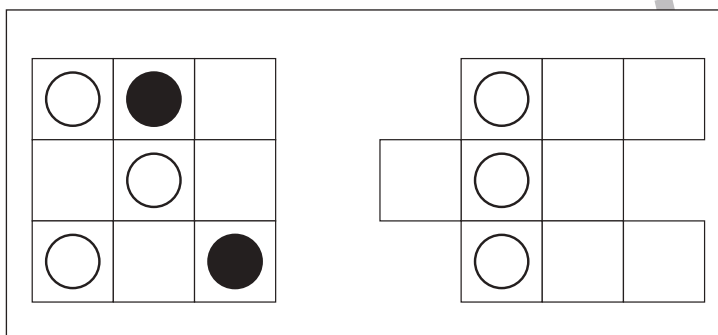
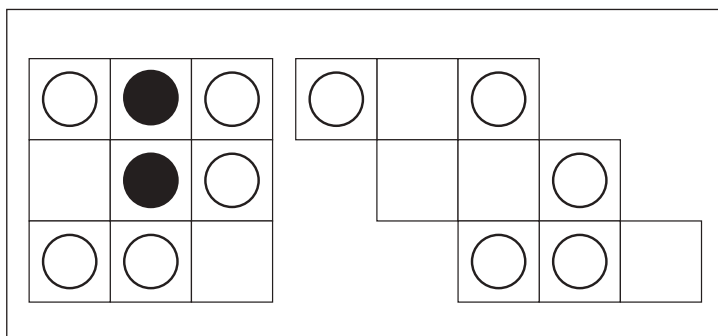
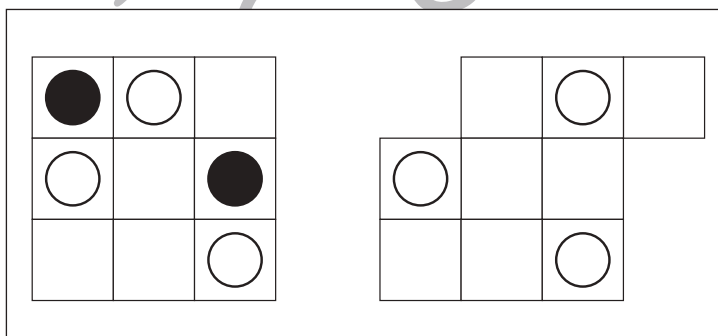
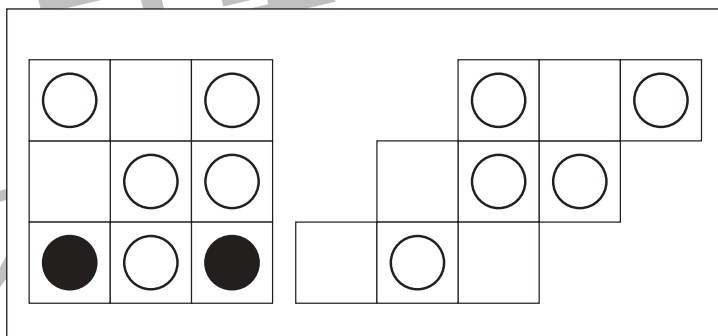
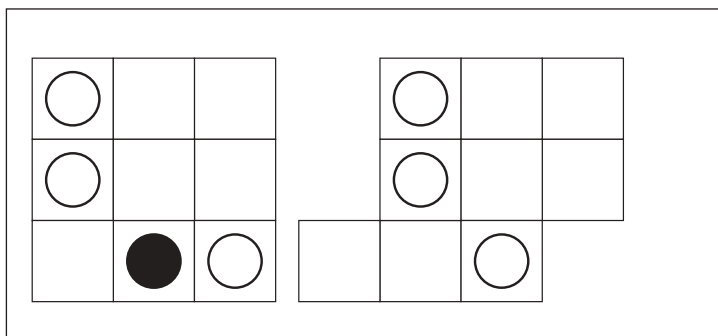
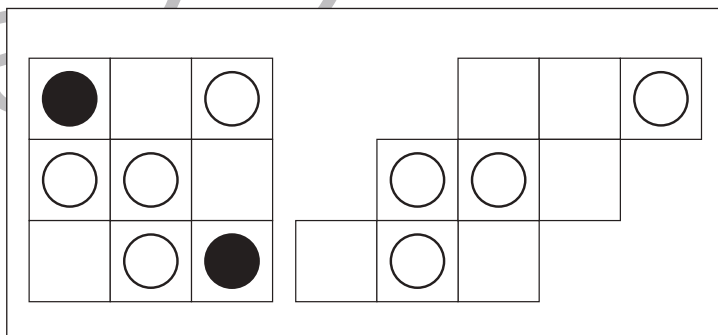
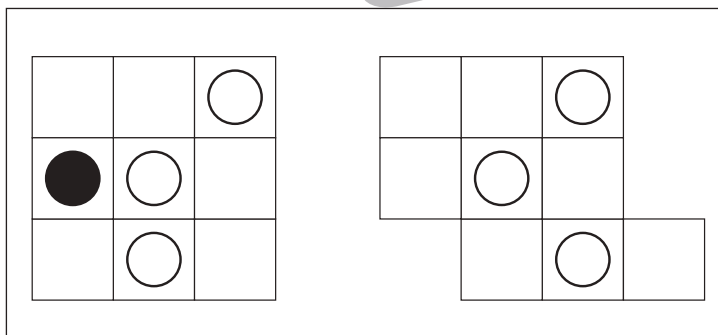
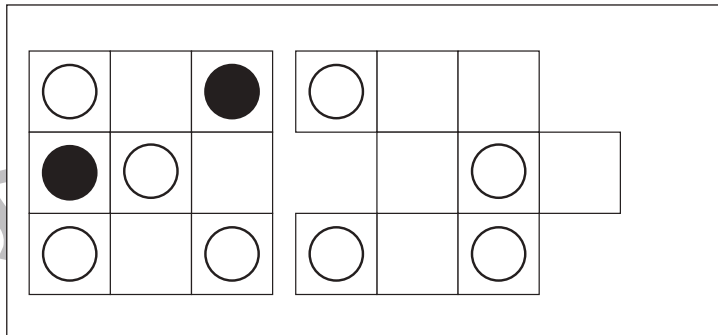
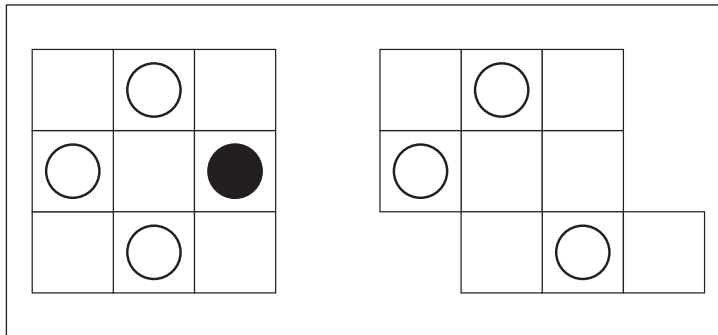


おうちで、やろう。

Study at home. 小学校受験の家庭学習教材

図形：移動 27

左の四角がお手本です。このお手本の白丸だけを右の四角の同じ場所にかきます。
ただし、右の四角はマスがずれています。どのマスにかけばよいのかを考えましょう。



※1. このプリントは、しながわ・目黒こどもスクールのウェブサイトでダウンロードができます。無断複写・引用はご遠慮ください。
※2. このプリントを活用したオンライン授業のスケジュールは、しながわ・目黒こどもスクールのウェブサイトでご確認ください。

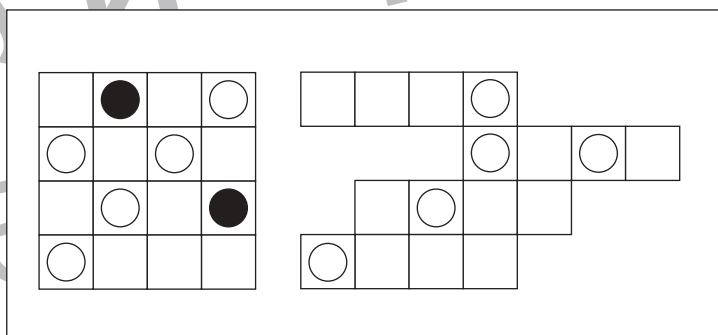
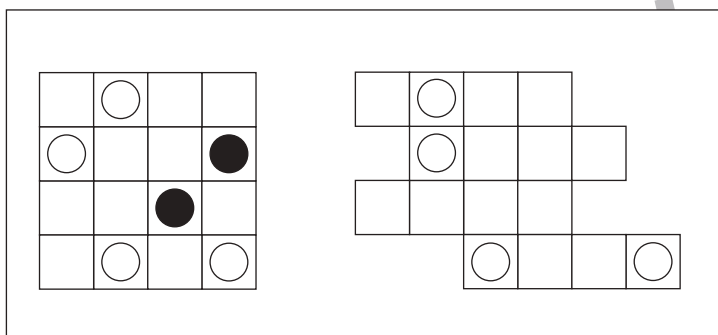
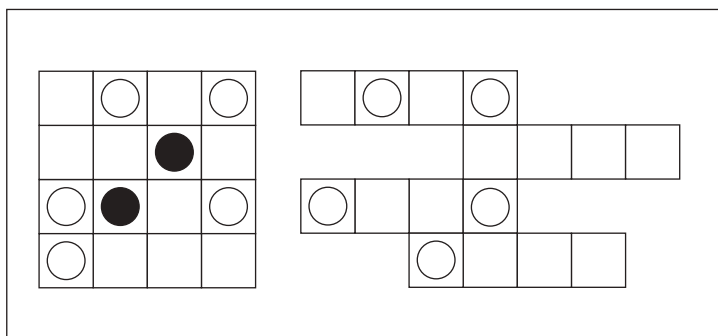
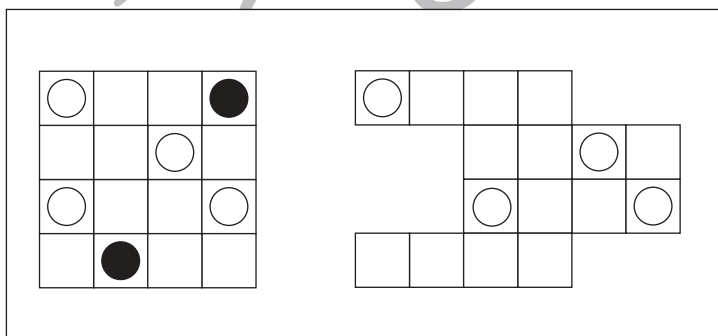
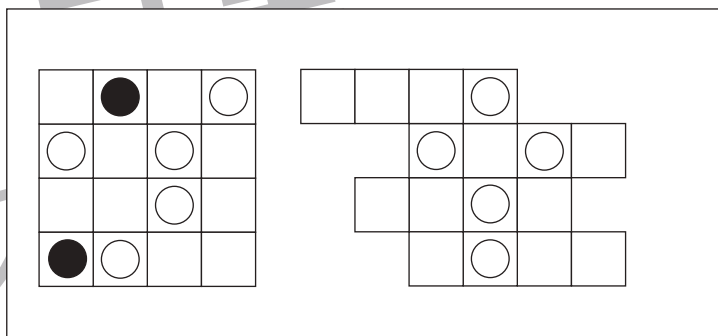
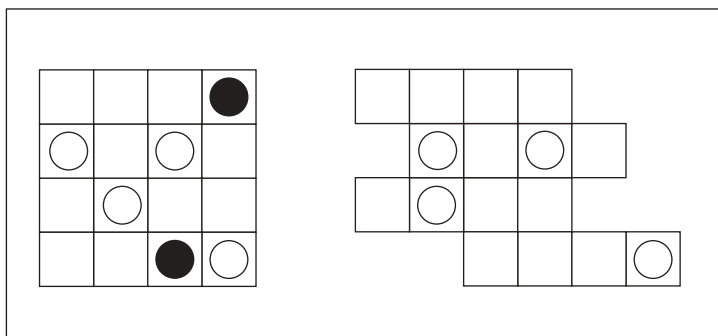
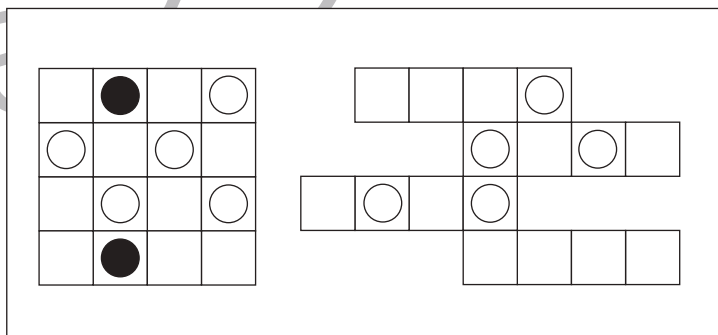
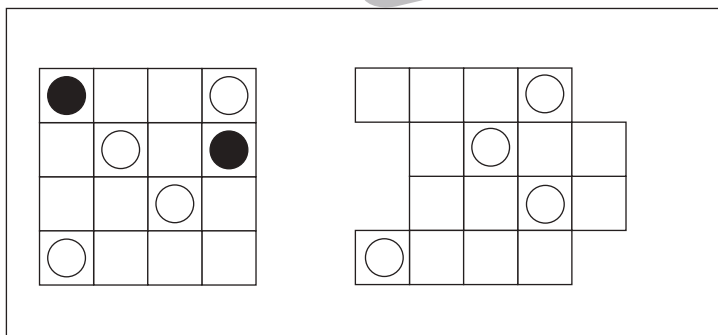
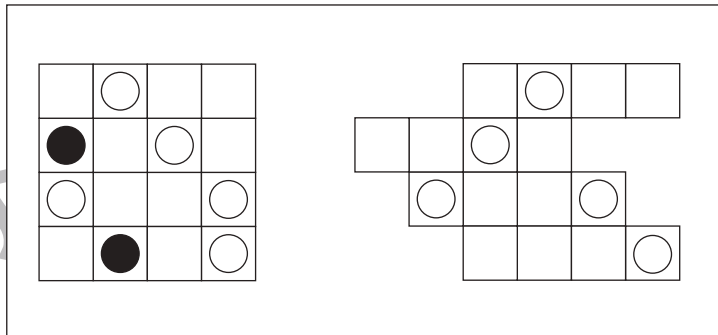
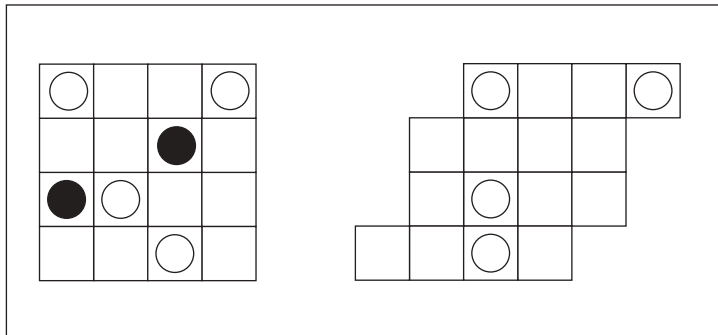


おうちで、やろう。

Study at home. 小学校受験の家庭学習教材

図形：移動 28

左の四角がお手本です。このお手本の白丸だけを右の四角の同じ場所にかきます。
ただし、右の四角はマスがずれています。どのマスにかけばよいのかを考えましょう。



※1. このプリントは、しながわ・目黒こどもスクールのウェブサイトからダウンロードできます。無断複写・引用はご遠慮ください。
※2. このプリントを活用したオンライン授業のスケジュールは、しながわ・目黒こどもスクールのウェブサイトでご確認ください。



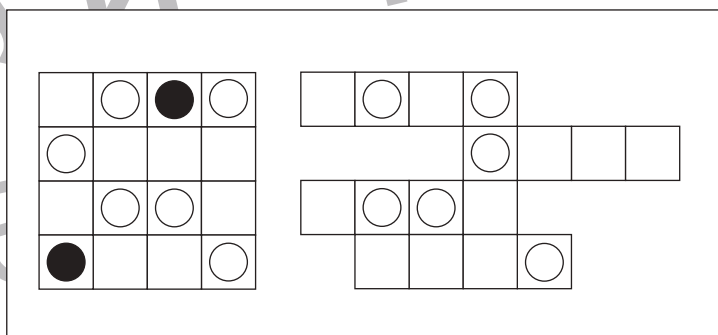
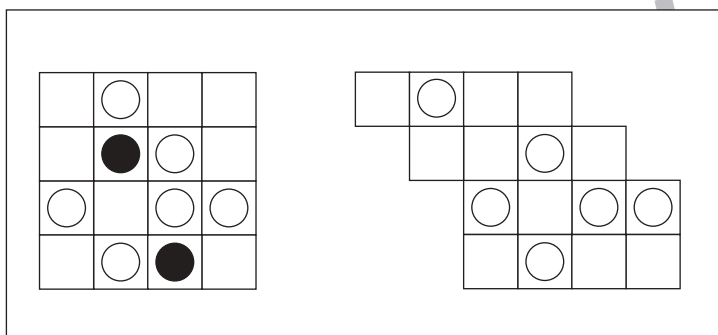
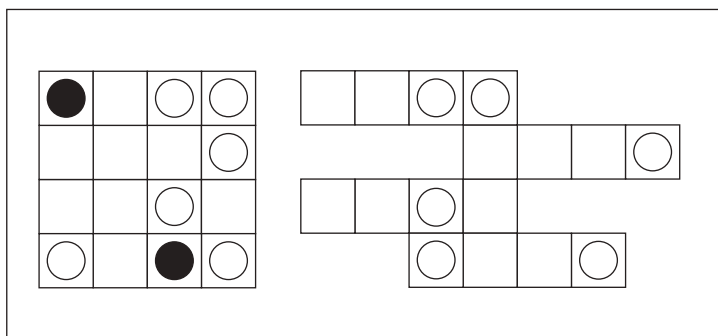
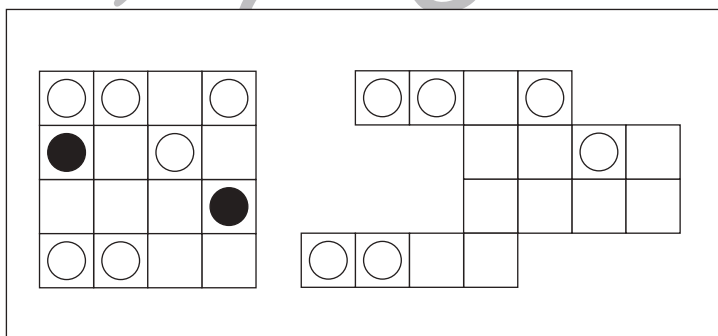
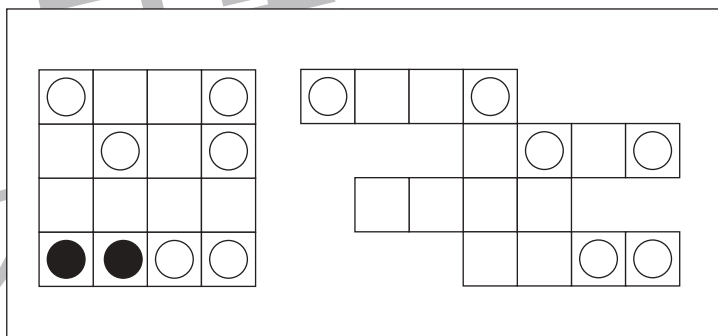
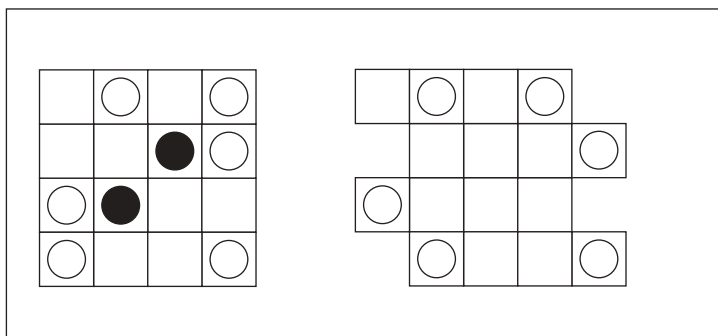
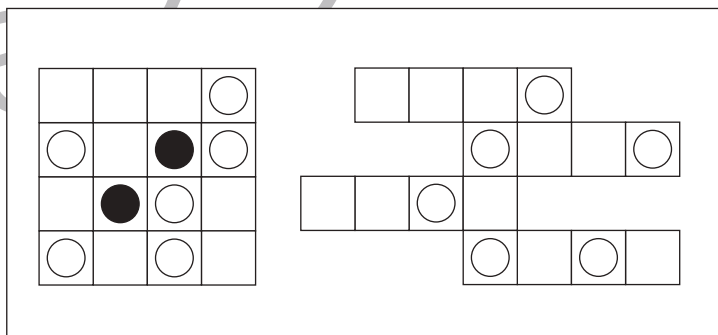
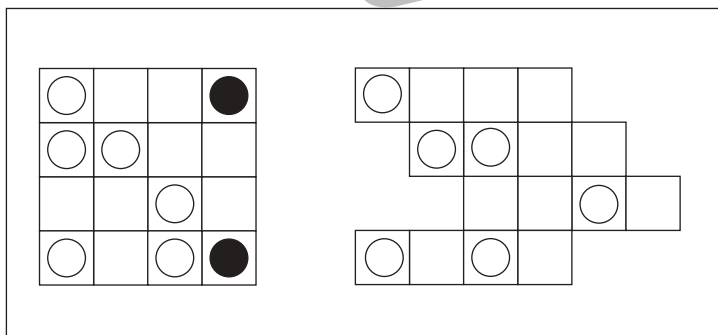
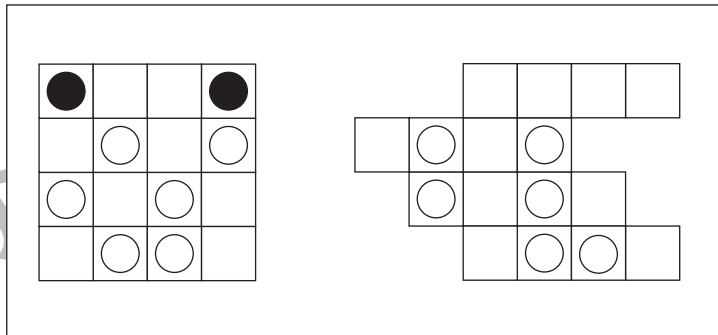
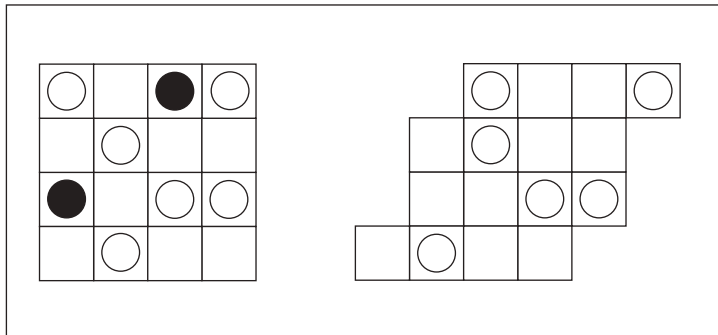


おうちで、やろう。

Study at home. 小学校受験の家庭学習教材

図形：移動 29

左の四角がお手本です。このお手本の白丸だけを右の四角の同じ場所にかきます。
ただし、右の四角はマスがずれています。どのマスにかけばよいのかを考えましょう。



※1. このプリントは、しながわ・目黒こどもスクールのウェブサイトでダウンロードができます。無断複写・引用はご遠慮ください。
※2. このプリントを活用したオンライン授業のスケジュールは、しながわ・目黒こどもスクールのウェブサイトでご確認ください。



おうちで、やろう。

Study at home. 小学校受験の家庭学習教材

数量：加減 20

左のサイコロの目の数より3つ多いもの右の四角の中から選んで○をつけます。

※1. このプリントは、しながわ・目黒こどもスクールのウェブサイトからダウンロードできます。無断複写・引用はご遠慮ください。

※2. このプリントを活用したオンライン授業のスケジュールは、しながわ・目黒こどもスクールのウェブサイトでご確認ください。



おうちで、やろう。

Study at home. 小学校受験の家庭学習教材

数量：加減 21

左の2つのサイコロの目を合わせた数より2つ多いものを右の四角の中から選んで○をつけます。

※1. このプリントは、しながわ・目黒こどもスクールのウェブサイトからダウンロードできます。無断複写・引用はご遠慮ください。

※2. このプリントを活用したオンライン授業のスケジュールは、しながわ・目黒こどもスクールのウェブサイトでご確認ください。








おうちで、やろう。

Study at home. 小学校受験の家庭学習教材

処理：計数 17

大きな四角の中の絵を数えます。その数だけ下の四角に○をかきます。



	$\bigcirc \times 8$
	$\bigcirc \times 11$
	$\bigcirc \times 10$
	$\bigcirc \times 7$