



# おうちで、やろう。

Study at home. 小学校受験の家庭学習教材

常識：道具 3

- ①掃除をするときに使うものに口をつけます。
- ②暑いときに使うものにとんがり右向きの▷をつけます。
- ③料理を作るときに使うものに○をつけます。

只里



※1. このプリントは、しながわ・目黒こどもスクールのウェブサイトからダウンロードできます。無断複写・引用はご遠慮ください。  
※2. このプリントを活用したオンライン授業のスケジュールは、しながわ・目黒こどもスクールのウェブサイトでご確認ください。






# おうちで、やろう。

Study at home. 小学校受験の家庭学習教材

常識：道具 4

- ①電気を使って動くものにとんがり下向きの▽をつけます。
- ②勉強したり工作をしたりするときを使うものに×をつけます。
- ③楽器に◎をつけます。

目黒



※1. このプリントは、しながわ・目黒こどもスクールのウェブサイトからダウンロードできます。無断複写・引用はご遠慮ください。  
※2. このプリントを活用したオンライン授業のスケジュールは、しながわ・目黒こどもスクールのウェブサイトでご確認ください。





# おうちで、やろう。

Study at home. 小学校受験の家庭学習教材

## 図形：移動 30

左の四角がお手本です。このお手本の白丸だけを右の四角の同じ場所にかきます。  
ただし、右の四角はマスがずれています。どのマスにかけばよいのかを考えましょう。

		○	●
○			○
●	○		
○			○


		○	
	○	●	○
●		○	○
○			


○			○
	○		
●		○	○
○			●


●	○	○	
			○
	○		○
○			●


○		●	
		○	○
○			
○	●		○


		○	
○			
●	○		○
○	●	○	


○	○		
●		○	
	○		●
○			○


●			○
	○		○
	○	○	
○			●


○	●	○	
○			
	○		○
	○	●	


○	●		●
		○	○
○			
	○		○


※1. このプリントは、しながわ・目黒こどもスクールのウェブサイトでダウンロードができます。無断複写・引用はご遠慮ください。  
※2. このプリントを活用したオンライン授業のスケジュールは、しながわ・目黒こどもスクールのウェブサイトでご確認ください。



# おうちで、やろう。

Study at home. 小学校受験の家庭学習教材

## 図形：移動 31

左の四角がお手本です。このお手本の白丸だけを右の四角の同じ場所にかきます。  
ただし、右の四角はマスがずれています。どのマスにかけばよいのかを考えましょう。

	●	○	
○			○
	○		
●		○	○


○		○	
○			●
	●		○
	○		○


○		○	
●			○
	○	●	
○			○


	○	●	
○		○	
			○
○	●	○	


	○		●
○			○
	○	○	
○			●


	○		○
●		○	
	○		○
		●	○


○	●		○
			○
○		○	
○			●


	○		
	○	○	
○			●
●		○	○


		○	●
○		○	
			○
●	○		○


○	●		○
			○
	○		●
○		○	


※1. このプリントは、しながわ・目黒こどもスクールのウェブサイトでダウンロードができます。無断複写・引用はご遠慮ください。  
※2. このプリントを活用したオンライン授業のスケジュールは、しながわ・目黒こどもスクールのウェブサイトでご確認ください。



# おうちで、よろう。

Study at home. 小学校受験の家庭学習教材

## 推理：系列完成 19

上の約束どおりに左下の太い四角から順番に右上の太い四角まで進み、進んだ道に線をかきます。  
進む道は縦と横には進めますが、斜めに進むことはできません。また、同じ道を通ることもできません。

○ → □ → ☆ → △ → 六

☆	六	○	□	☆	六	△	☆	△	△	六	○
六	○	六	△	△	☆	六	○	六	☆	○	△
□	☆	△	□	六	☆	□	六	○	□	六	○
○	△	☆	○	○	□	☆	△	☆	○	△	☆

☆ → □ → 六 → △ → ○

☆	六	□	六	○	△	○	☆	六	△	○	☆
△	○	△	□	☆	六	○	□	○	☆	六	○
○	△	△	○	☆	□	☆	六	☆	□	六	△
☆	□	六	☆	△	○	六	△	○	○	△	○

△ → ◎ → □ → 六 → △

六	△	△	◎	□	△	△	六	□	◎	△	□
□	△	六	□	□	◎	□	六	△	六	六	◎
◎	□	六	六	△	△	六	◎	△	□	□	△
△	◎	△	◎	□	△	六	△	◎	□	六	△

※1. このプリントは、しながわ・目黒こどもスクールのウェブサイトでダウンロードができます。無断複写・引用はご遠慮ください。  
※2. このプリントを活用したオンライン授業のスケジュールは、しながわ・目黒こどもスクールのウェブサイトでご確認ください。



# おうちで、やろう。

Study at home. 小学校受験の家庭学習教材

## 推理：系列完成 20

上の約束どおりに左下の太い四角から順番に右上の太い四角まで進み、進んだ道に線をかきます。  
進む道は縦と横には進めますが、斜めに進むことはできません。また、同じ道を通ることもできません。

□ → △ → 六 → ○ → ☆

△	○	☆	□	△	六	○	六	○	□	△	六
☆	△	○	○	△	□	☆	○	△	☆	六	☆
六	☆	六	△	□	△	□	△	六	○	□	△
□	△	六	○	☆	○	☆	六	☆	△	○	六

△ → 六 → ☆ → ○ → □

○	☆	○	△	六	△	六	☆	○	△	○	☆
☆	○	□	☆	△	□	六	☆	□	○	□	六
六	六	△	六	☆	○	△	○	△	○	六	△
△	○	△	○	□	○	☆	☆	六	☆	○	□

◎ → □ → ☆ → 六 → ☆

六	六	□	☆	◎	□	六	◎	六	☆	◎	六
☆	◎	☆	◎	□	☆	□	☆	☆	□	□	☆
六	□	六	□	◎	六	☆	◎	□	☆	◎	六
◎	□	☆	六	☆	□	◎	☆	◎	□	☆	◎

※1. このプリントは、しながわ・目黒こどもスクールのウェブサイトでダウンロードができます。無断複写・引用はご遠慮ください。

※2. このプリントを活用したオンライン授業のスケジュールは、しながわ・目黒こどもスクールのウェブサイトでご確認ください。



# おうちで、やろう。

Study at home. 小学校受験の家庭学習教材

数量：分割 12

左の四角の中のお友だちで真ん中の果物を仲良く同じ数で分けたとき、残りはいくつになるか考えて右の四角から正しいものを選んで○をつけます。何も残らないこともありますのでよく考えて取り組みましょう。





※1. このプリントは、しながわ・目黒こどもスクールのウェブサイトでダウンロードができます。無断複写・引用はご遠慮ください。  
 ※2. このプリントを活用したオンライン授業のスケジュールは、しながわ・目黒こどもスクールのウェブサイトでご確認ください。



# おうちで、やろう。

Study at home. 小学校受験の家庭学習教材

数量：分割 13

左の四角の中のお友だちで真ん中のクッキーを仲良く同じ数で分けます。  
1人いくつずつもらえるかを考えて右の四角に○をつけます。余る数は含めません。


※1. このプリントは、しながわ・目黒こどもスクールのウェブサイトからダウンロードできます。無断複写・引用はご遠慮ください。  
 ※2. このプリントを活用したオンライン授業のスケジュールは、しながわ・目黒こどもスクールのウェブサイトでご確認ください。



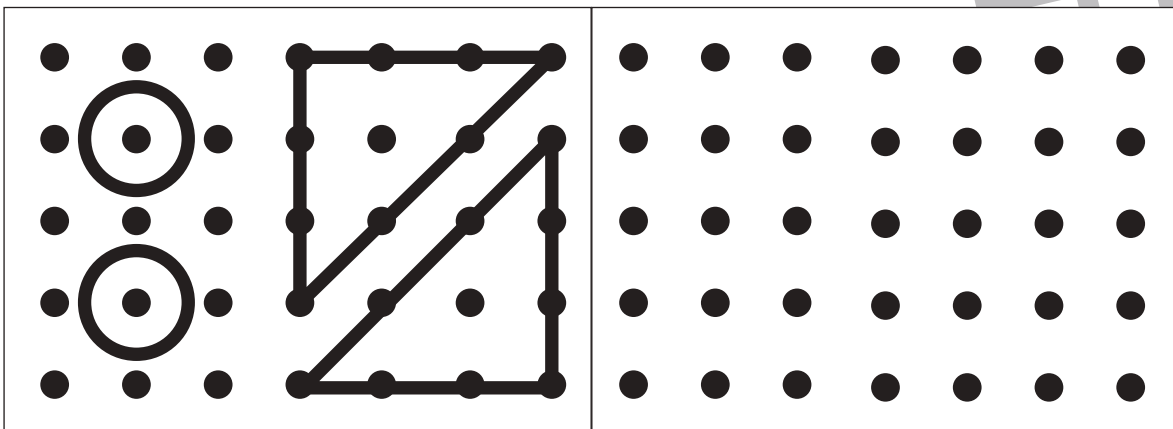
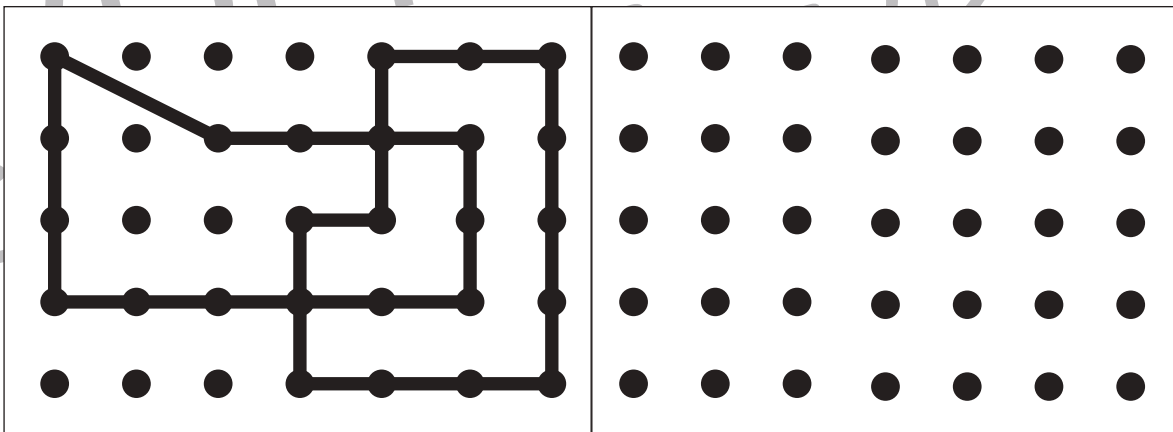
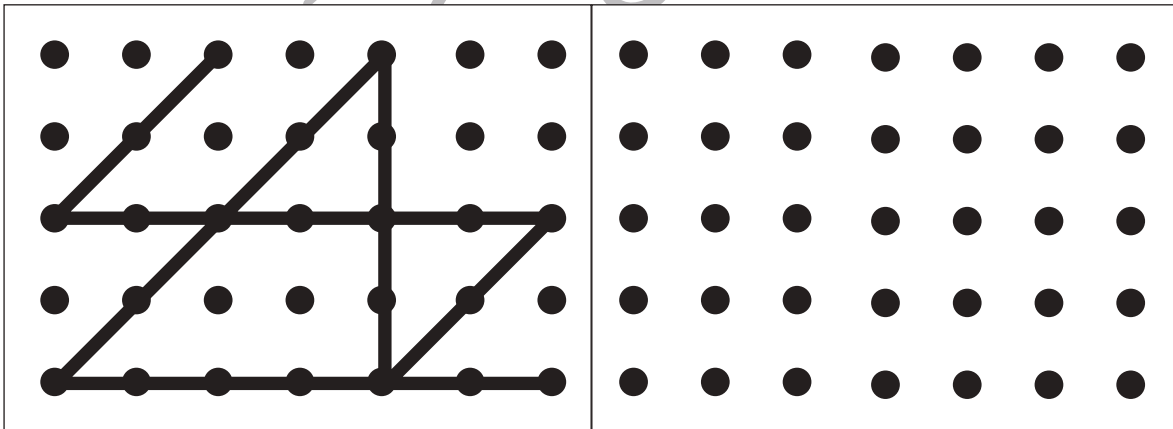
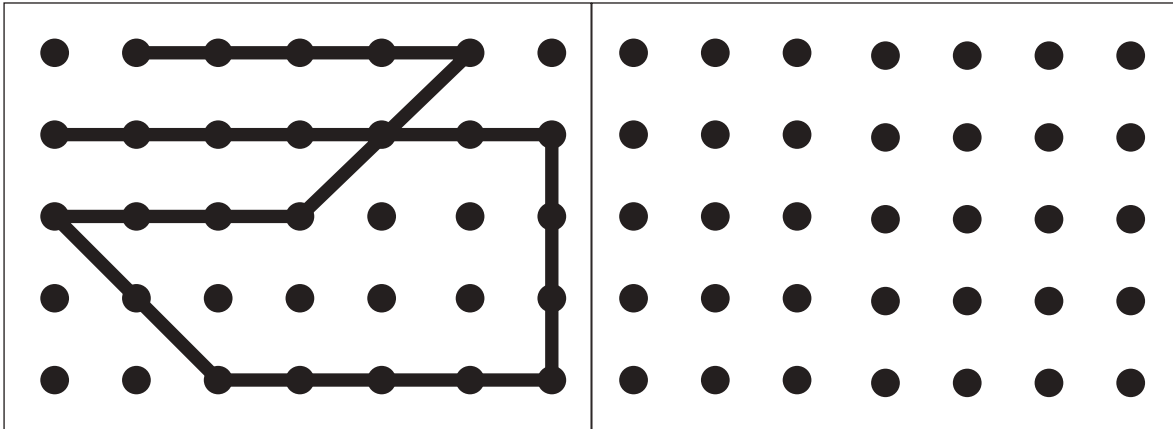


# おうちで、やろう。

Study at home. 小学校受験の家庭学習教材

## 図形：点図形 26

左のお手本と同じになるように右の点と点を結びます。 ※このプリントに解答はありません。



※1. このプリントは、しながわ・目黒こどもスクールのウェブサイトでダウンロードができます。無断複写・引用はご遠慮ください。  
 ※2. このプリントを活用したオンライン授業のスケジュールは、しながわ・目黒こどもスクールのウェブサイトでご確認ください。



# おうちで、やろう。

Study at home. 小学校受験の家庭学習教材

巧緻性：はさみ 3

- ①点線のところをはさみで切ります。
  - ②切った下の部分にある灰色の○、△、□をはさみで切ります。
  - ③切った上の部分にある形の中に左上のお手本と同じになるようにのりで貼ります。
- ※この問題に解答はありません。

