



# おうちで、やろう。

Study at home. 小学校受験の家庭学習教材

## 記憶：絵の記憶 24 記憶用紙

別紙『記憶 - 絵の記憶 24』を行う際に使用します。記憶用紙は点線で折り、①、②、③の問題の際にそれぞれ 20 秒間ずつ記憶させてください。記憶する際は問題用紙は裏返しにします。

それぞれお手本と同じになるようにかきます。

①

○		○	
		○	○
	○		

②

			×
	×		
	×	×	×

③

○				○	
○					○
○				○	

※1. このプリントは、しながわ・目黒こどもスクールのウェブサイトからダウンロードできます。無断複写・引用はご遠慮ください。

※2. このプリントを活用したオンライン授業のスケジュールは、しながわ・目黒こどもスクールのウェブサイトでご確認ください。



# おうちで、やろう。

Study at home. 小学校受験の家庭学習教材

言語：言葉 8

上から読んでも下から読んでも同じ言葉になるものを、四角の中からすべて選んで○をつけます。



※1. このプリントは、しながわ・目黒こどもスクールのウェブサイトダウンロードできます。無断複写・引用はご遠慮ください。

※2. このプリントを活用したオンライン授業のスケジュールは、しながわ・目黒こどもスクールのウェブサイトでご確認ください。



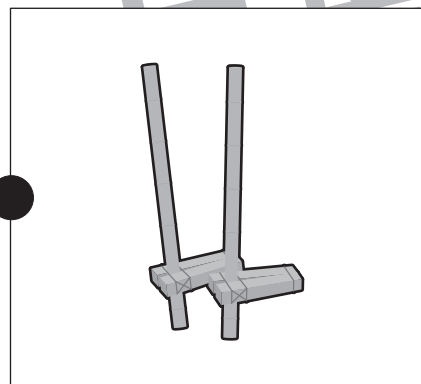









# おうちで、やろう。

Study at home. 小学校受験の家庭学習教材

言語：言葉 9

左側の絵の名前が入っている遊びを右側から見つけ、点と点を線で結びます。



※1. このプリントは、しながわ・目黒こどもスクールのウェブサイトでダウンロードができます。無断複写・引用はご遠慮ください。  
※2. このプリントを活用したオンライン授業のスケジュールは、しながわ・目黒こどもスクールのウェブサイトでご確認ください。





# おうちで、やろう。

Study at home. 小学校受験の家庭学習教材

## 図形：回転 41

左のうちわを右のうちわの向きに回転させた時の見え方を考えて、右のうちわの模様を塗ります。


※1. このプリントは、しながわ・目黒こどもスクールのウェブサイトでダウンロードができます。無断複写・引用はご遠慮ください。  
 ※2. このプリントを活用したオンライン授業のスケジュールは、しながわ・目黒こどもスクールのウェブサイトでご確認ください。

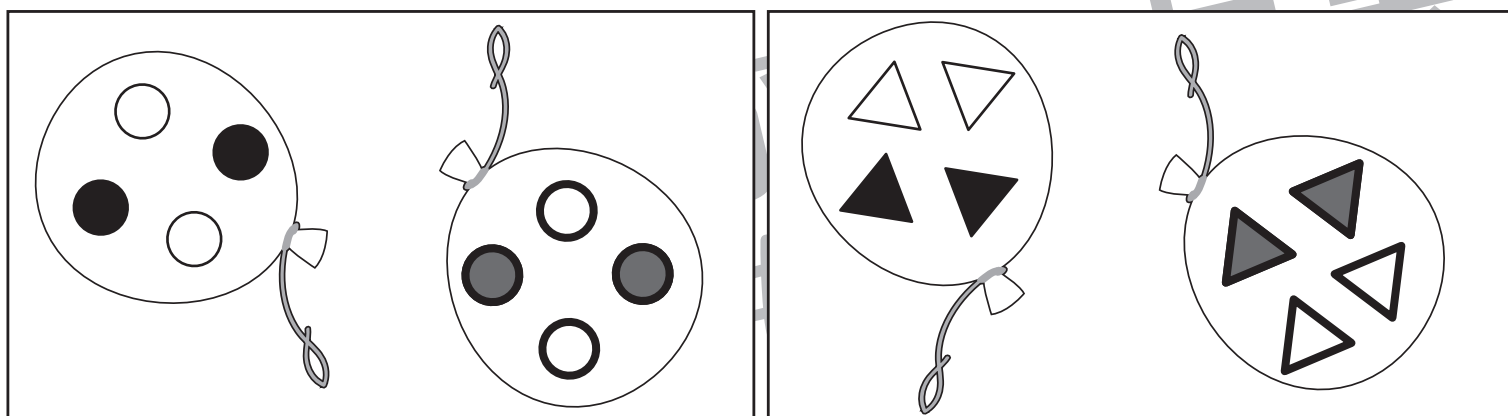

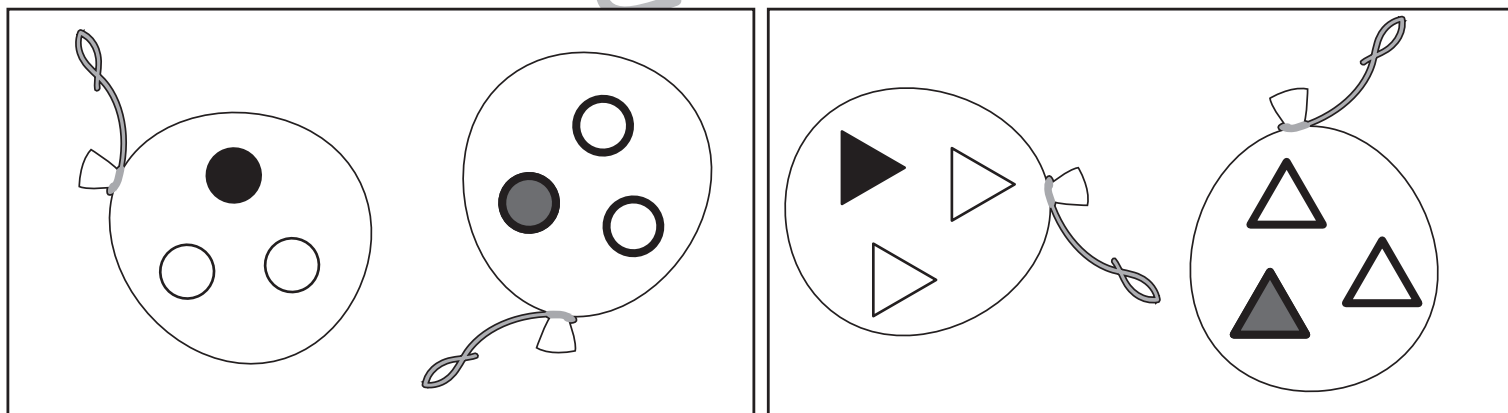
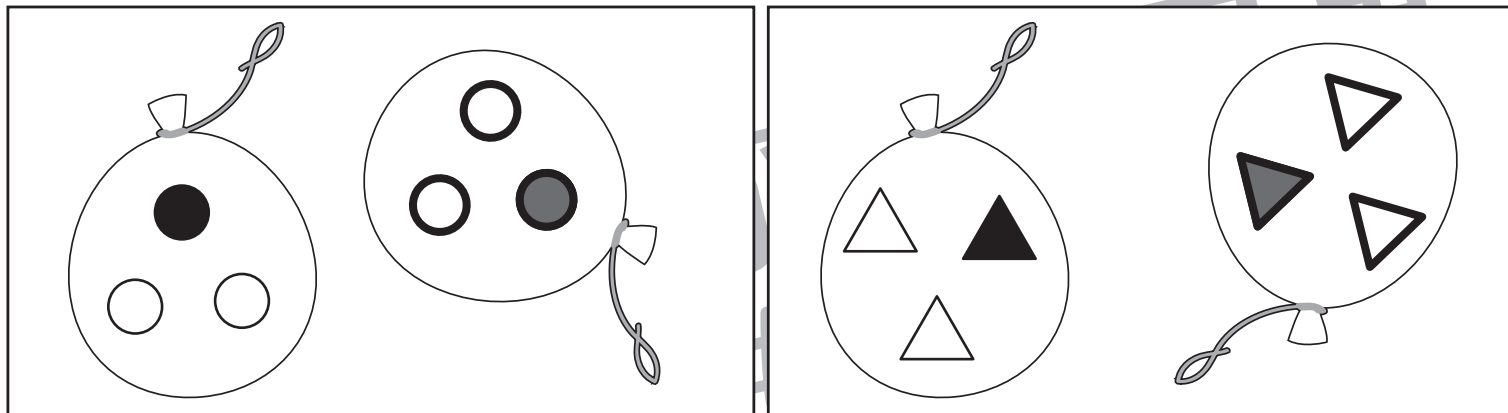


# おうちで、やろう。

Study at home. 小学校受験の家庭学習教材

## 図形：回転 42

左のヨーヨーを右のヨーヨーの向きに回転させた時の見え方を考えて、右のヨーヨーの模様を塗ります。



※1. このプリントは、しながわ・目黒こどもスクールのウェブサイトでダウンロードができます。無断複写・引用はご遠慮ください。  
 ※2. このプリントを活用したオンライン授業のスケジュールは、しながわ・目黒こどもスクールのウェブサイトでご確認ください。


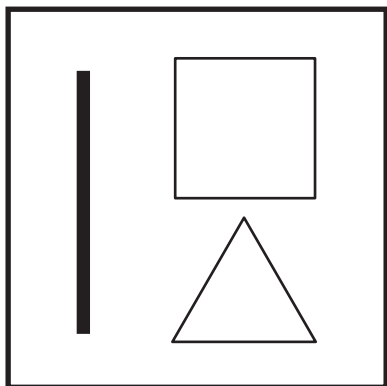
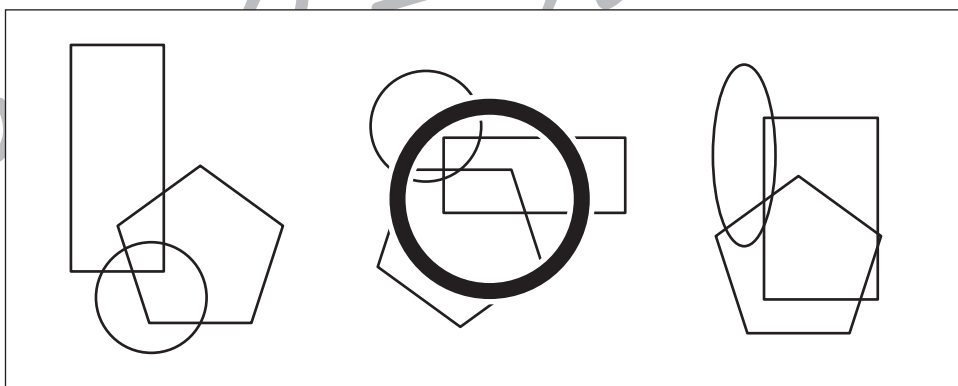
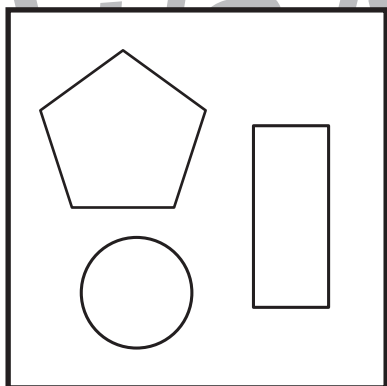


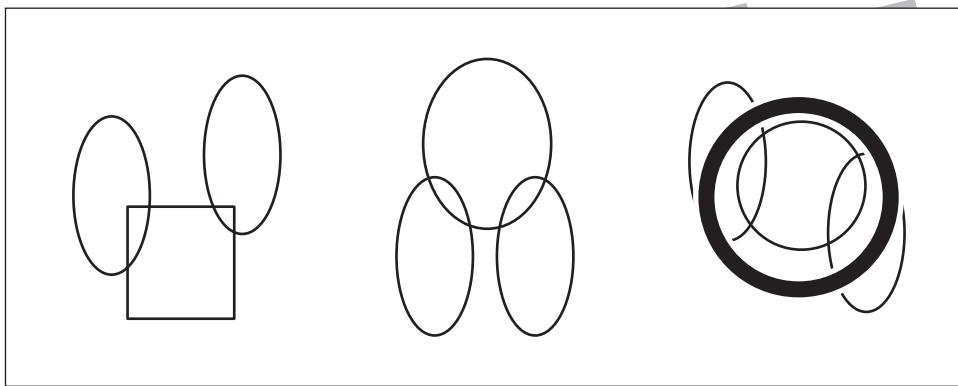



# おうちで、やろう。

Study at home. 小学校受験の家庭学習教材

## 図形：重なり 23

太い四角の中の形だけで作ったものを右の長四角の中から選んで○をつけます。



※1. このプリントは、しながわ・目黒こどもスクールのウェブサイトでダウンロードができます。無断複写・引用はご遠慮ください。  
※2. このプリントを活用したオンライン授業のスケジュールは、しながわ・目黒こどもスクールのウェブサイトでご確認ください。

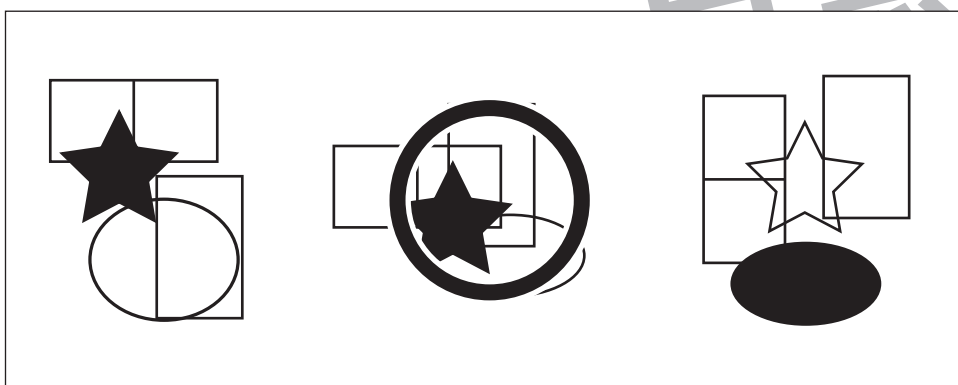
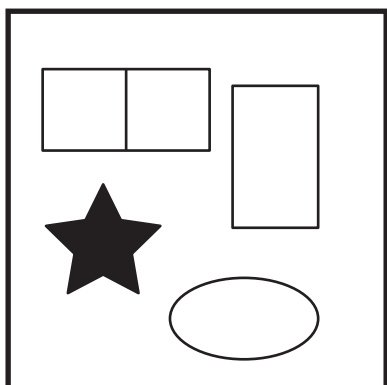
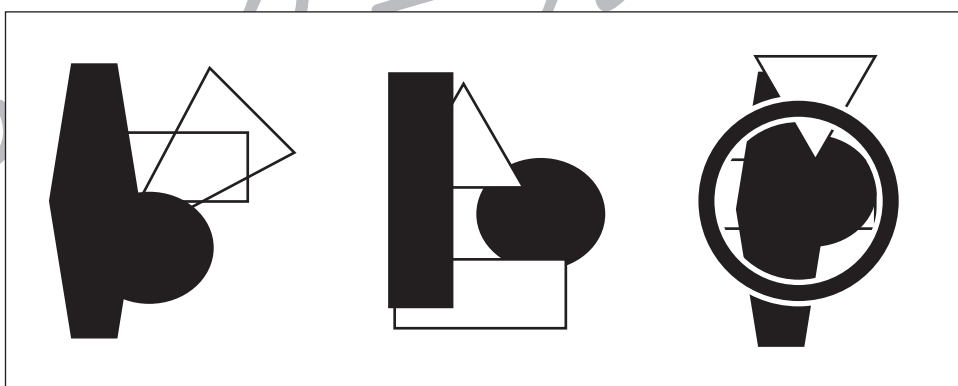
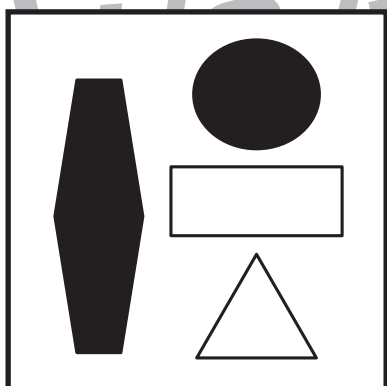
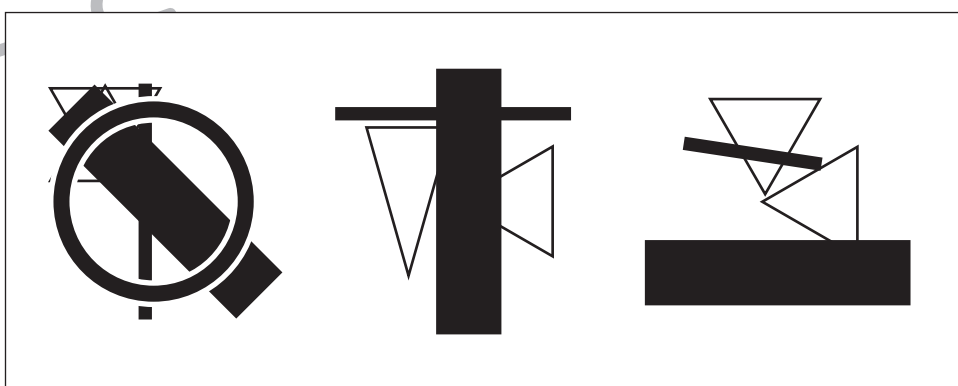
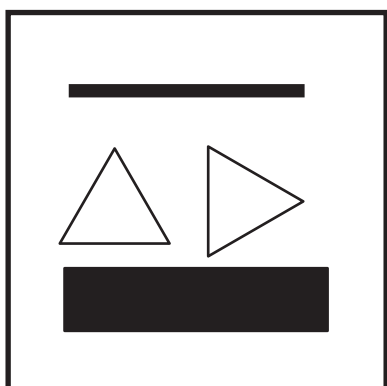
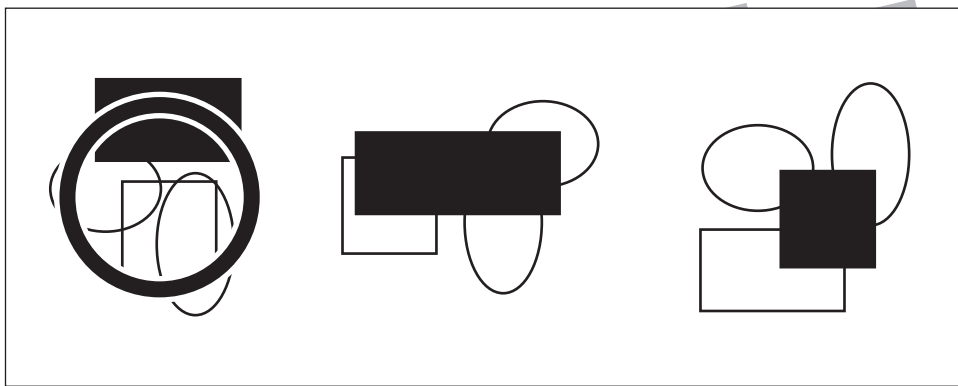
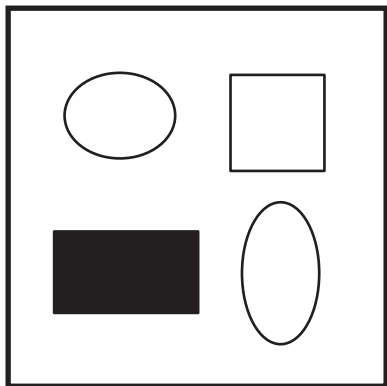


# おうちで、やろう。

Study at home. 小学校受験の家庭学習教材

## 図形：重なり 23

太い四角の中の形だけで作ったものを右の長四角の中から選んで○をつけます。



※1. このプリントは、しながわ・目黒こどもスクールのウェブサイトでダウンロードができます。無断複写・引用はご遠慮ください。  
※2. このプリントを活用したオンライン授業のスケジュールは、しながわ・目黒こどもスクールのウェブサイトでご確認ください。



# おうちで、よろう。

Study at home. 小学校受験の家庭学習教材

数量：多少 19

- ①白のマスと黒のマスが同じものすべてに○をつけます。
- ②白のマスより黒のマスの数の方が多いものすべてに○をつけます。

①


②


※1. このプリントは、しながわ・目黒こどもスクールのウェブサイトでダウンロードができます。無断複写・引用はご遠慮ください。  
 ※2. このプリントを活用したオンライン授業のスケジュールは、しながわ・目黒こどもスクールのウェブサイトでご確認ください。





# おうちで、やろう。

Study at home. 小学校受験の家庭学習教材

数量：多少 20

- ①黒のマスがが一番多いものに○を、二番目に多いものに△をつけます。
- ②黒のマスがが一番少ないものに×を、二番目に少ないものに□をつけます。

①


②


※1. このプリントは、しながわ・目黒こどもスクールのウェブサイトからダウンロードできます。無断複写・引用はご遠慮ください。  
 ※2. このプリントを活用したオンライン授業のスケジュールは、しながわ・目黒こどもスクールのウェブサイトでご確認ください。