



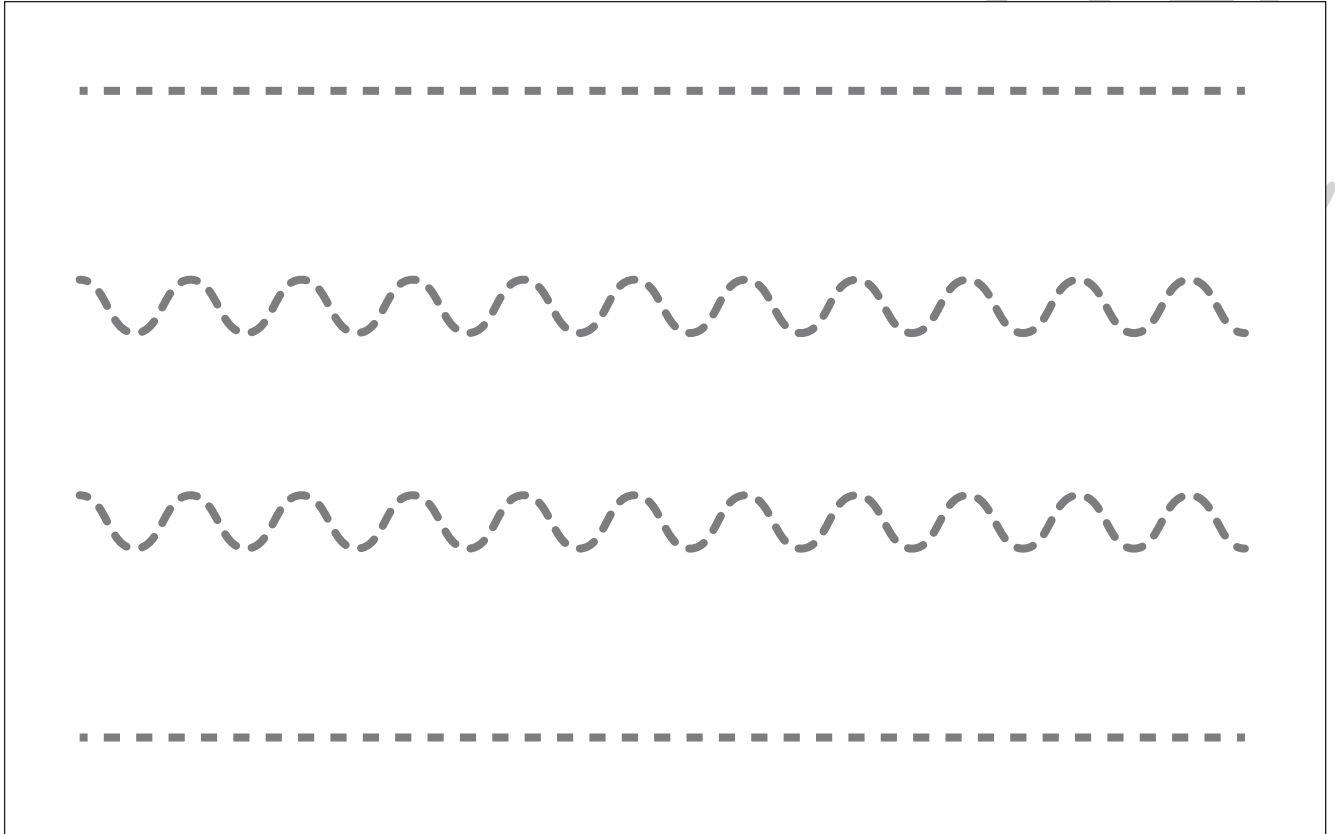
おうちで、やろう。

Study at home. 小学校受験の家庭学習教材


指示の聞き取り 34

- ①まっすぐの線を青色のクーピー、なみなみの線を緑色のクーピーでなぞります。
- ②黒色のクーピーで△を横に並べて同じ大きさで3つかき、真ん中を黄色、右端と左端を橙色のクーピーで塗ります。

①



②



※1. このプリントは、しながわ・目黒こどもスクールのウェブサイトでダウンロードができます。無断複写・引用はご遠慮ください。
※2. このプリントを活用したオンライン授業のスケジュールは、しながわ・目黒こどもスクールのウェブサイトでご確認ください。





おうちで、やろう。

Study at home. 小学校受験の家庭学習教材



常識：仲間探し1

左の四角の中の絵と仲間のもを見つけて○をつけます。どうして仲間なのか理由もお話しましょう。



※答えと違ったときは保護者の方に聞いてもらいましょう。



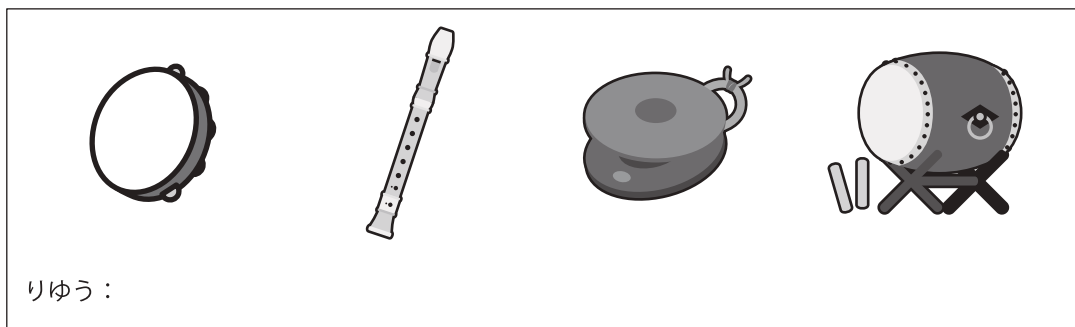

りゆう：




りゆう：



りゆう：



りゆう：



りゆう：

※1. このプリントは、しながわ・目黒こどもスクールのウェブサイトからダウンロードできます。無断複写・引用はご遠慮ください。

※2. このプリントを活用したオンライン授業のスケジュールは、しながわ・目黒こどもスクールのウェブサイトでご確認ください。





おうちで、やろう。

Study at home. 小学校受験の家庭学習教材

図形：移動 32

上の太い四角が約束です。○は右に、△は左に、□は上に、×は下にマス目を1つ進みます。★から始めてマスの左にかかれた記号の通りに上から順番に動かすときに最後に着くマスに○をかきます。



| | | | | | | | | | | | | | | |
|---|---|---|--|---|---|--|---|---|---|---|---|---|---|---|
| ○ | | | | | △ | | | | | × | ★ | | | |
| ○ | ★ | | | | △ | | | | | × | | | | |
| | | | | | × | | | | ★ | ○ | | | | |
| | | | | | | | | | | | | | | |
| □ | | | | | △ | | | | | ○ | | | ★ | |
| △ | | | | | × | | ★ | | | × | | | | |
| ○ | | ★ | | | × | | | | | △ | | | | |
| □ | | | | | ○ | | | | | △ | | | | |
| △ | | | | ★ | ○ | | | | | × | | | | |
| △ | | | | | □ | | | | | △ | | | | ★ |
| × | | | | | △ | | | | | □ | | | | |
| × | | | | | ○ | | | ★ | | □ | | | | |
| ○ | | | | | △ | | | | | ○ | | ★ | | |
| ○ | | | | | □ | | ★ | | | × | | | | |
| □ | | | | | ○ | | | | | ○ | | | | |
| △ | ★ | | | | × | | | | | × | | | | |

※1. このプリントは、しながわ・目黒こどもスクールのウェブサイトでダウンロードができます。無断複写・引用はご遠慮ください。
※2. このプリントを活用したオンライン授業のスケジュールは、しながわ・目黒こどもスクールのウェブサイトでご確認ください。





おうちで、やろう。

Study at home. 小学校受験の家庭学習教材

図形：移動 33

上の太い四角が約束です。○は右に、△は左に、□は上に、×は下にマス目を1つ進みます。★から始めてマスの左にかかれた記号の通りに上から順番に動かすときに最後に着くマスに○をかきます。



| | | | | | | | | | | | | | | |
|---|--|---|---|---|---|---|---|---|---|---|---|--|--|--|
| × | | | | ★ | △ | | | | | ○ | | | | |
| × | | | | | △ | | | | | △ | | | | |
| | | | | | × | | | | ★ | □ | | | | |
| | | | | | | | | | | ★ | | | | |
| □ | | | | | × | | ★ | | | △ | | | | |
| × | | | ★ | | □ | | | | | ○ | | | | |
| △ | | | | | ○ | | | | | × | | | | |
| △ | | | | | ○ | | | | | × | | | | |
| ○ | | | | | ○ | | | | | ○ | | | | |
| × | | ★ | | | △ | | | | | ○ | | | | |
| × | | | | | ○ | | | | | ○ | | | | |
| □ | | | | | □ | ★ | | | | ○ | | | | |
| | | | | | ○ | | | | | △ | | | | |
| △ | | | | | ○ | | | | | □ | ★ | | | |
| × | | | | | △ | | | | | × | | | | |
| ○ | | | | ★ | × | | | ★ | | ○ | | | | |
| ○ | | | | | △ | | | | | △ | | | | |

※1. このプリントは、しながわ・目黒こどもスクールのウェブサイトでダウンロードができます。無断複写・引用はご遠慮ください。
※2. このプリントを活用したオンライン授業のスケジュールは、しながわ・目黒こどもスクールのウェブサイトでご確認ください。



おうちで、やろう。

Study at home. 小学校受験の家庭学習教材

図形：鏡 24

右の形を黒い線の上に鏡を置いて見た時の見え方を考えて、左の丸にかきます。

Figure 24: Mirror Images of a Star. The figure consists of four rows. Each row contains four circles. The first circle in each row is empty, with 10 dots on its circumference. The second circle shows a star shape formed by connecting 10 dots on a circle. The third circle is empty, with 10 dots on its circumference. The fourth circle shows the mirror image of the star in the second circle, as if reflected across a vertical line.

※1. このプリントは、しながわ・目黒こどもスクールのウェブサイトでダウンロードができます。無断複写・引用はご遠慮ください。
 ※2. このプリントを活用したオンライン授業のスケジュールは、しながわ・目黒こどもスクールのウェブサイトでご確認ください。

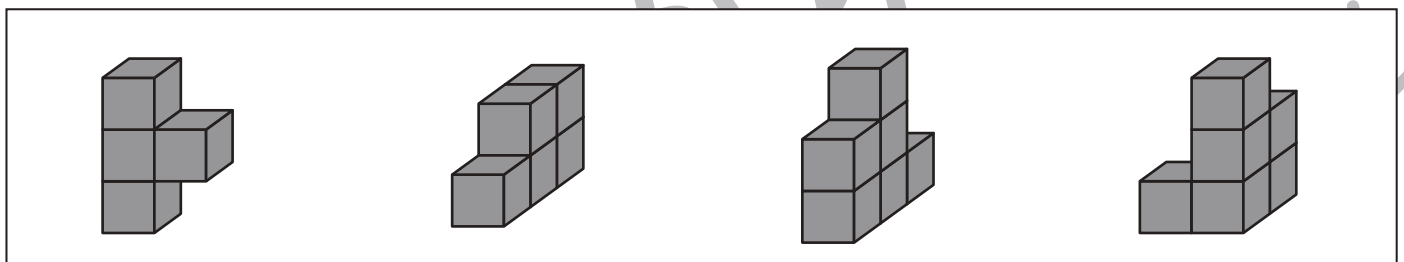
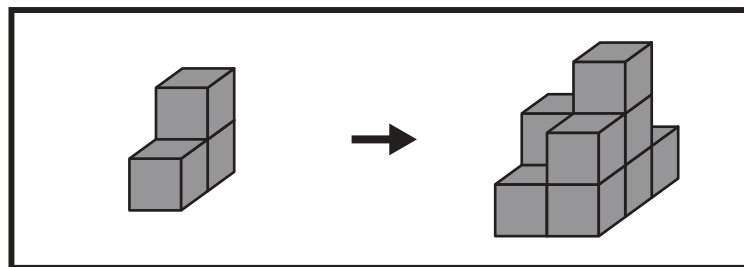
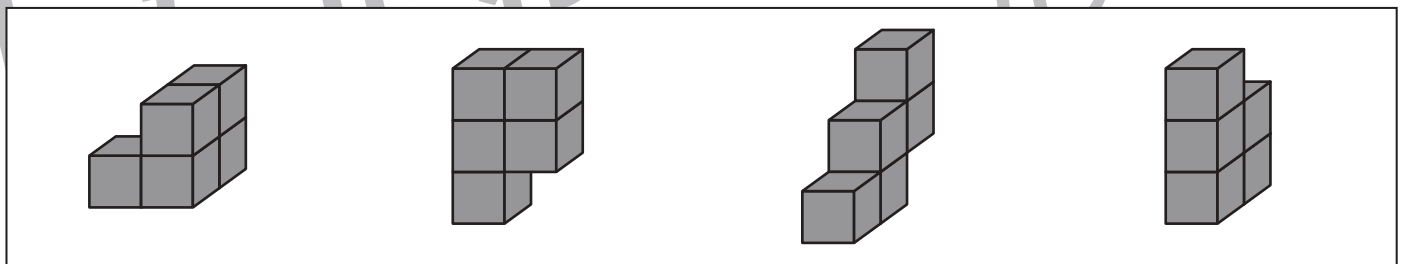

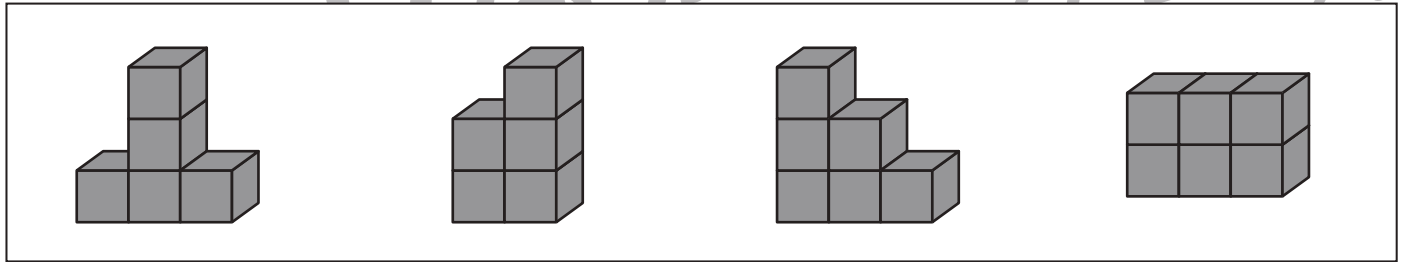
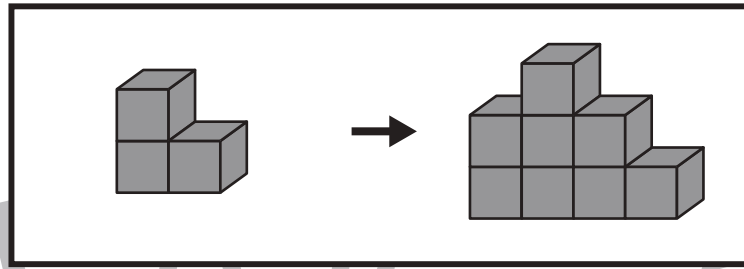


おうちで、やろう。

Study at home. 小学校受験の家庭学習教材

推理：積み木 22

太い四角の中の左にある積み木を、別の積み木と組み合わせて右のように形を変えました。
左の積み木にどの形の積み木を組み合わせたかを考え、下の四角の中から正しいものを選び○をつけます。



※1. このプリントは、しながわ・目黒こどもスクールのウェブサイトでダウンロードができます。無断複写・引用はご遠慮ください。
※2. このプリントを活用したオンライン授業のスケジュールは、しながわ・目黒こどもスクールのウェブサイトでご確認ください。



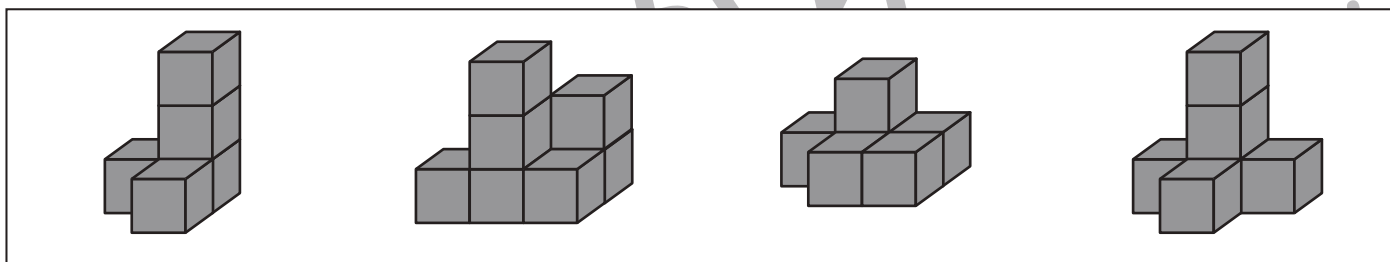
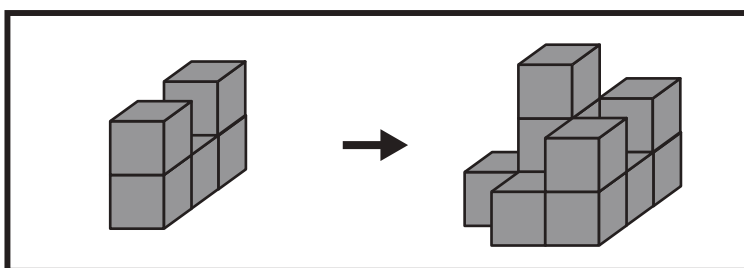
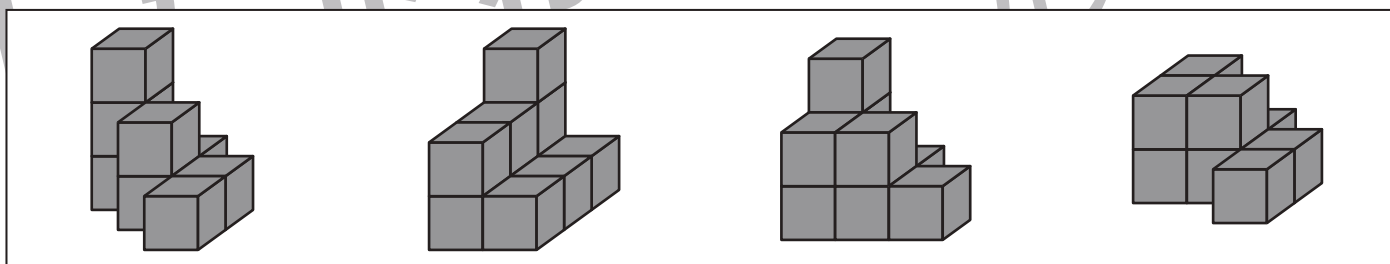
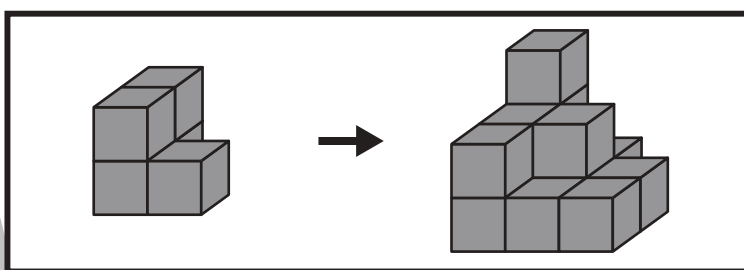
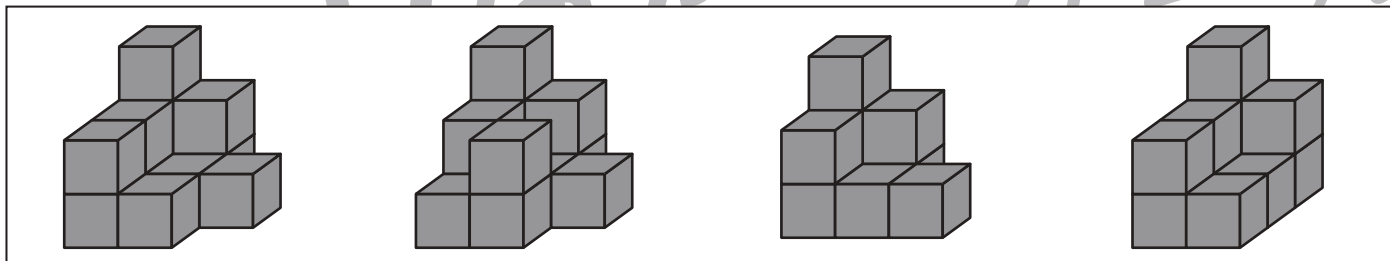
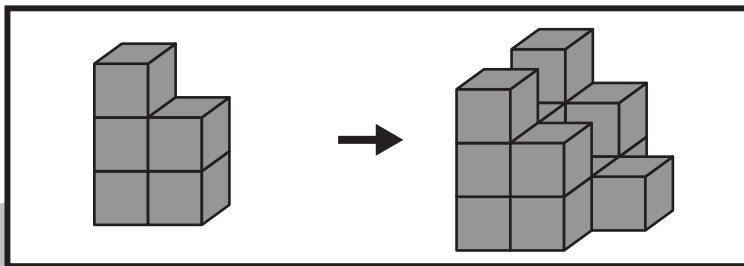


おうちで、やろう。

Study at home. 小学校受験の家庭学習教材

推理：積み木 23

太い四角の中の左にある積み木を、別の積み木と組み合わせて右のように形を変えました。
左の積み木にどの形の積み木を組み合わせたかを考え、下の四角の中から正しいものを選び○をつけます。



※1. このプリントは、しながわ・目黒こどもスクールのウェブサイトでダウンロードができます。無断複写・引用はご遠慮ください。
※2. このプリントを活用したオンライン授業のスケジュールは、しながわ・目黒こどもスクールのウェブサイトでご確認ください。













おうちで、やろう。













Study at home. 小学校受験の家庭学習教材

数量：同数 17

上の果物の数をかぞえます。

それぞれの果物の数と白色の星の数と同じ四角をみつけて、それぞれの果物の四角の左上にある記号をつけます。

| | | | |
|---|---|---|--|
|  |  |  |  |
|  |  |  |  |

| | | |
|---|--|---|
|  |  |  |
|  |  |  |
|  |  |  |
|  |  |  |

※1. このプリントは、しながわ・目黒こどもスクールのウェブサイトでダウンロードができます。無断複写・引用はご遠慮ください。

※2. このプリントを活用したオンライン授業のスケジュールは、しながわ・目黒こどもスクールのウェブサイトでご確認ください。



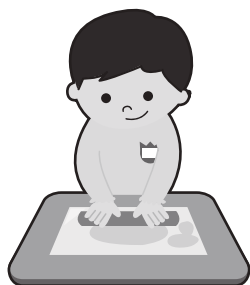




おうちで、やろう。

Study at home. 小学校受験の家庭学習教材

□頭試問3

いろいろな植物の絵を見て下の質問に答えましょう。お子さまが答えたことは保護者の方が記入してください。
※この問題に解答はありません。



①上の絵の中で一番好きな遊びはどれですか。それはどうしてですか。

②上の絵の中で一番好きな遊びを一緒にしたいお友だちは誰ですか。

③上の絵の中でお母さんとしたい遊びは何ですか。それはどうしてですか。





おうちで、やろう。

Study at home. 小学校受験の家庭学習教材

巧緻性：ちぎり 18

- ①点線をはさみで切ります。
- ②スイカの実の部分を実色、皮の部分を実色のクレープで塗った後、太い線をちぎります。
- ③男の子の髪を黒色、顔や手を薄茶色、口を実色のクレープで塗った後、半円の部分にのりをつけてちぎったスイカを貼ります。



※1. このプリントは、しながわ・目黒こどもスクールのウェブサイトからダウンロードができます。無断複写・引用はご遠慮ください。
※2. このプリントを活用したオンライン授業のスケジュールは、しながわ・目黒こどもスクールのウェブサイトでご確認ください。

