



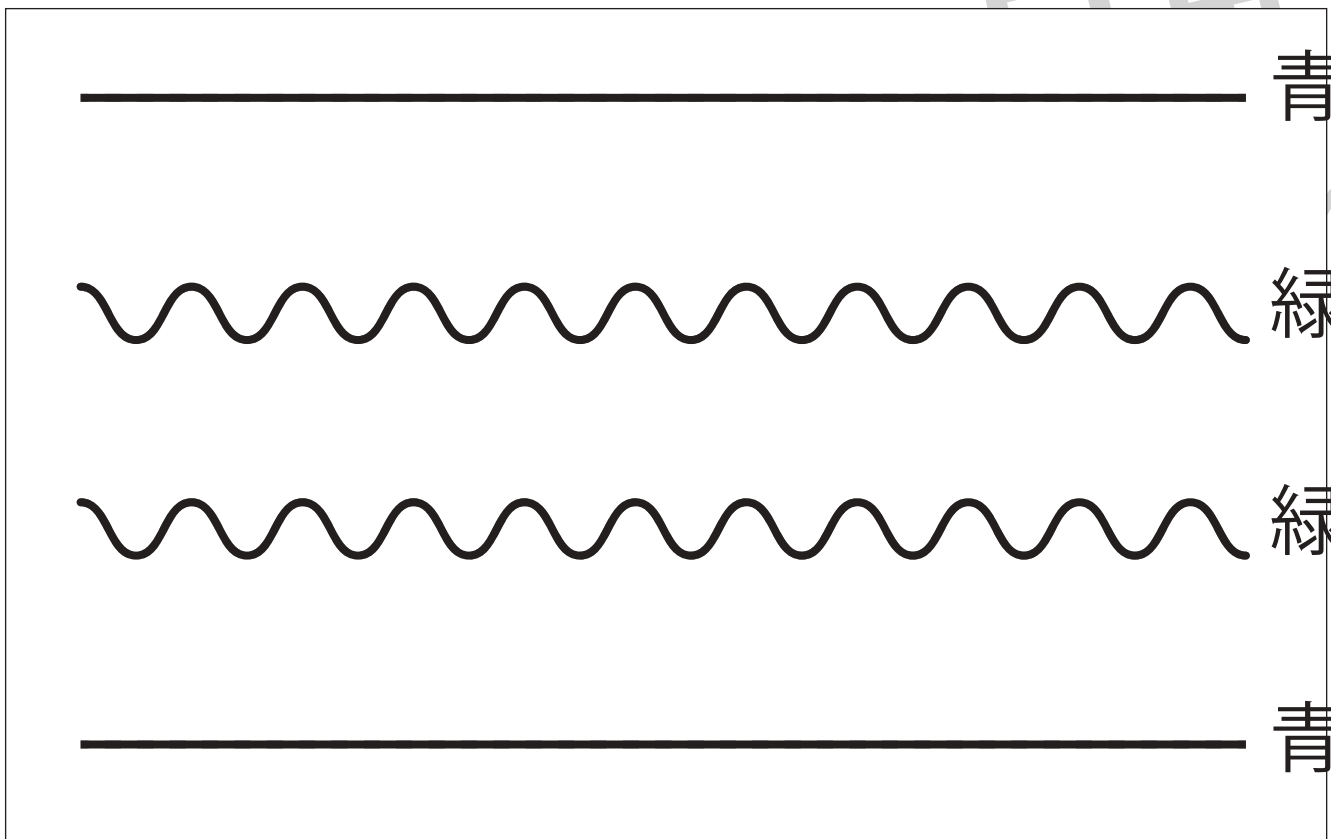
おうちで、やろう。

Study at home. 小学校受験の家庭学習教材

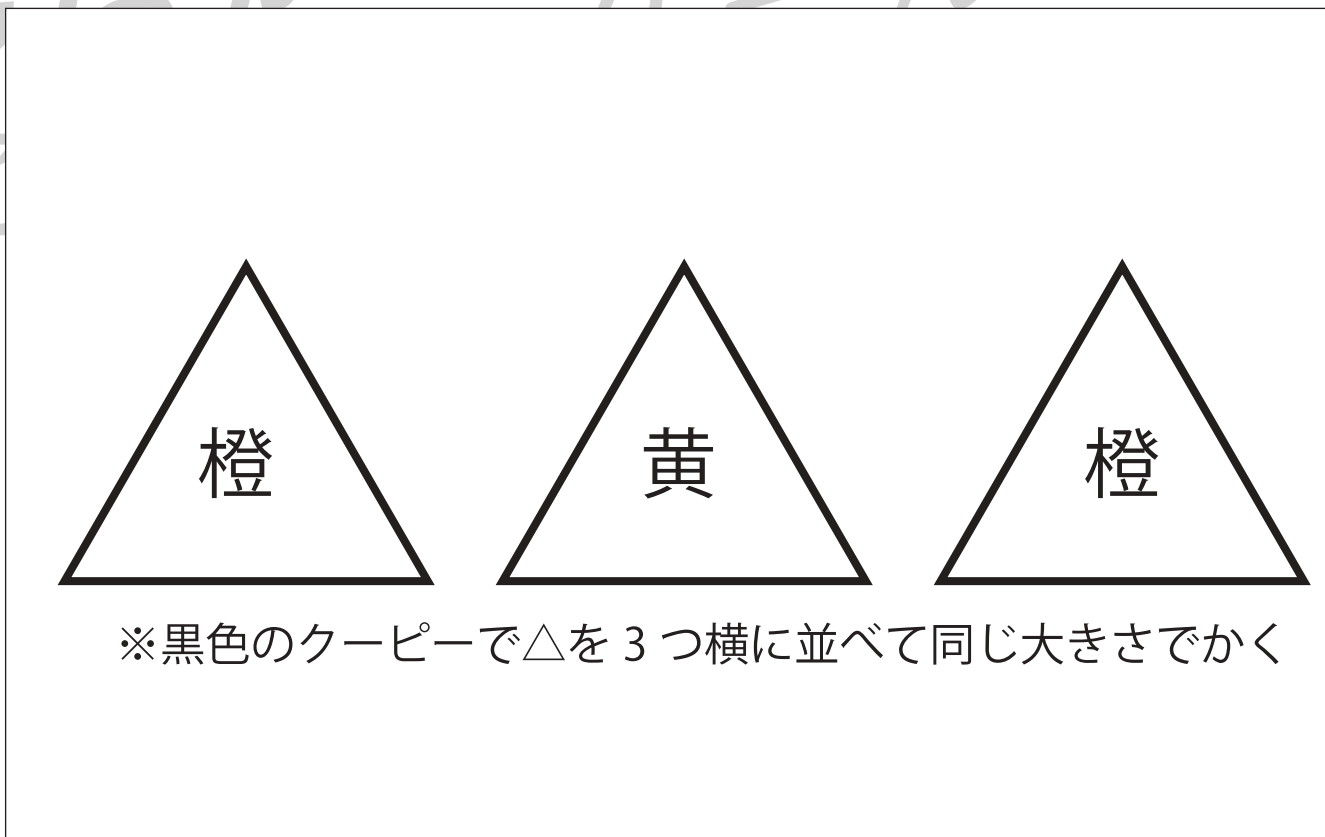
指示の聞き取り 34

- ①まっすぐの線を青色のクーピー、なみなみの線を緑色のクーピーでなぞります。
- ②黒色のクーピーで△を横に並べて同じ大きさで3つかき、真ん中を黄色、右端と左端を橙色のクーピーで塗ります。

①



②



※1. このプリントは、しながわ・目黒こどもスクールのウェブサイトでダウンロードができます。無断複写・引用はご遠慮ください。
 ※2. このプリントを活用したオンライン授業のスケジュールは、しながわ・目黒こどもスクールのウェブサイトでご確認ください。





おうちで、やろう。

Study at home. 小学校受験の家庭学習教材


常識：仲間探し1

左の四角の中の絵と仲間なものを見つけて○をつけます。どうして仲間なのか理由もお話しましょう。


※答えと違ったときは保護者の方に聞いてもらいましょう。



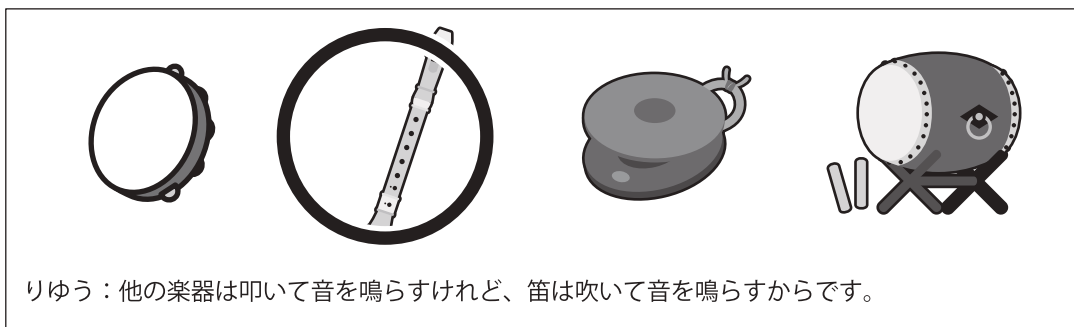

りゆう：ちょうちょは蜂と同じで花の蜜を吸う虫だからです。



りゆう：ちりとりははたきと同じで掃除のときに使う道具だからです。



りゆう：他の野菜は土の中で大きくなるけれど、ピーマンは土の上で大きくなるからです。



りゆう：他の楽器は叩いて音を鳴らすけれど、笛は吹いて音を鳴らすからです。



りゆう：他の動物は草を食べるけれど、ワニは肉を食べるからです。

※1. このプリントは、しながわ・目黒こどもスクールのウェブサイトからダウンロードできます。無断複写・引用はご遠慮ください。

※2. このプリントを活用したオンライン授業のスケジュールは、しながわ・目黒こどもスクールのウェブサイトでご確認ください。



おうちで、やろう。

Study at home. 小学校受験の家庭学習教材

図形：移動 33

上の太い四角が約束です。○は右に、△は左に、□は上に、×は下にマス目を1つ進みます。★から始めてマスの左にかかれた記号の通りに上から順番に動かすときに最後に着くマスに○をかきます。



×				★	△					○				
×					△	○				△				
		○			×				★	□		○		
										★				
□					×		★		○	△				
×	○		★		□					○				
△					○					×	○			
△					○					○				
○					△				○	×				
×		★			○					○				
×					○					○		★		
□		○			□	★				△				
△				○	○	○				□	★			
×					△					×				
○				★	×				★	○				
○					△					△				

※1. このプリントは、しながわ・目黒こどもスクールのウェブサイトでダウンロードができます。無断複写・引用はご遠慮ください。
※2. このプリントを活用したオンライン授業のスケジュールは、しながわ・目黒こどもスクールのウェブサイトでご確認ください。




おうちで、やろう。

Study at home. 小学校受験の家庭学習教材

図形：鏡 24

右の形を黒い線の上に鏡を置いて見た時の見え方を考えて、左の丸にかきます。



※1. このプリントは、しながわ・目黒こどもスクールのウェブサイトでダウンロードができます。無断複写・引用はご遠慮ください。
 ※2. このプリントを活用したオンライン授業のスケジュールは、しながわ・目黒こどもスクールのウェブサイトでご確認ください。

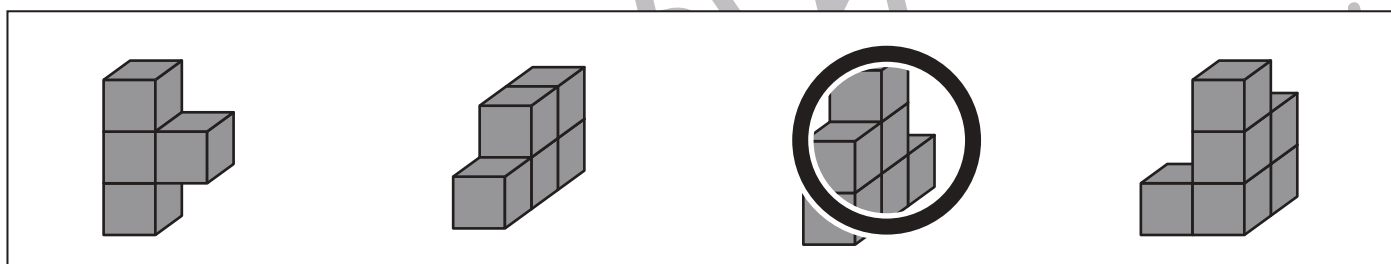
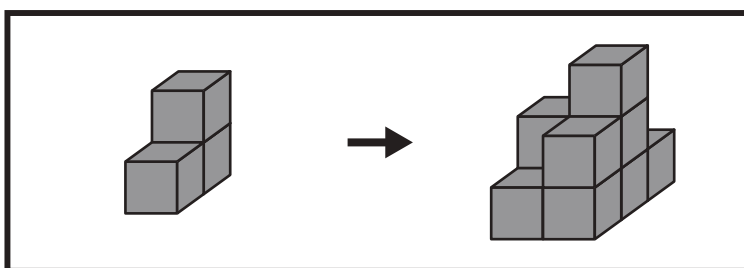
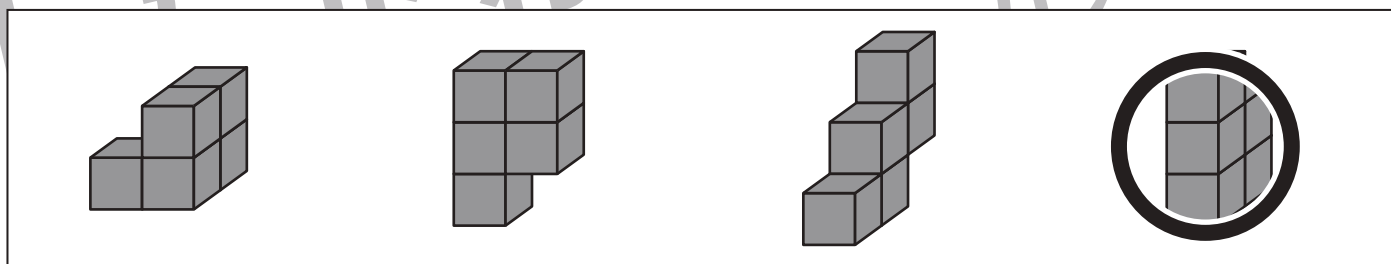
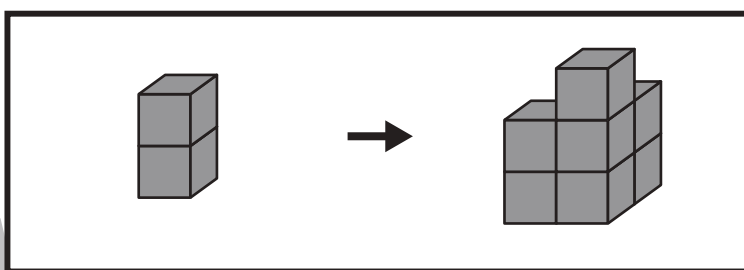
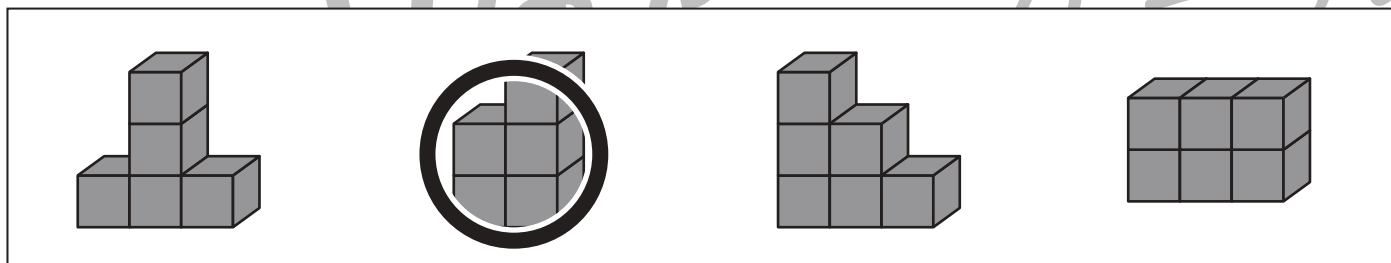
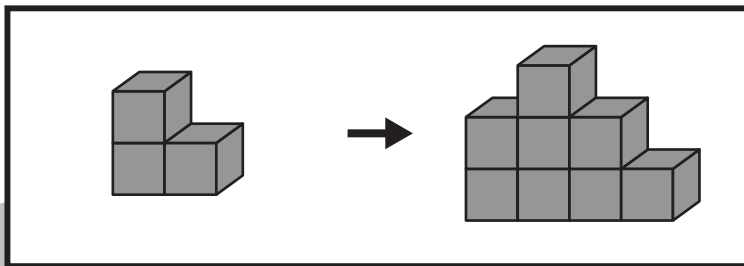


おうちで、やろう。

Study at home. 小学校受験の家庭学習教材

推理：積み木 22

太い四角の中の左にある積み木を、別の積み木と組み合わせて右のように形を変えました。
左の積み木にどの形の積み木を組み合わせたかを考え、下の四角の中から正しいものを選び○をつけます。



※1. このプリントは、しながわ・目黒こどもスクールのウェブサイトでダウンロードができます。無断複写・引用はご遠慮ください。
※2. このプリントを活用したオンライン授業のスケジュールは、しながわ・目黒こどもスクールのウェブサイトでご確認ください。





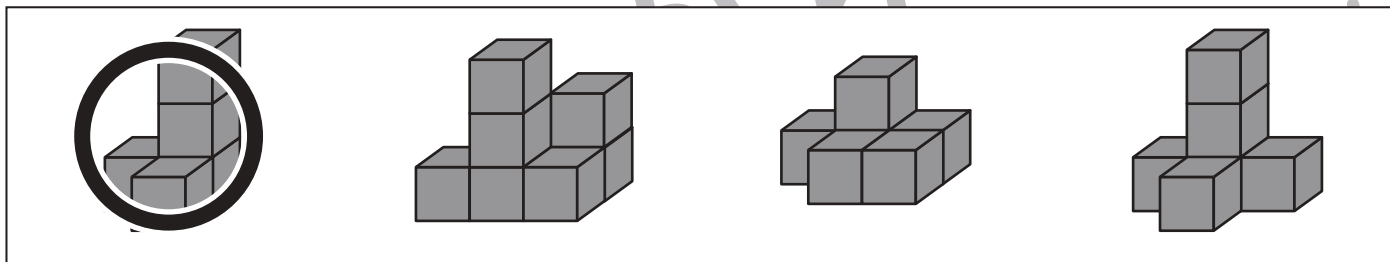
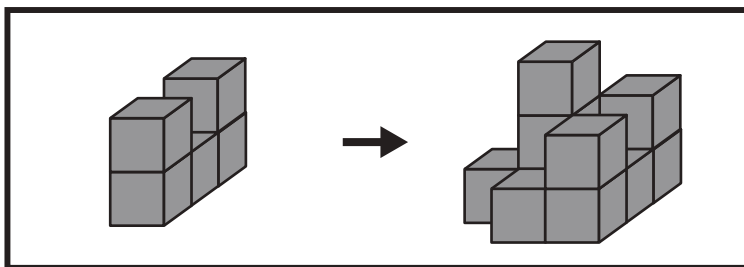
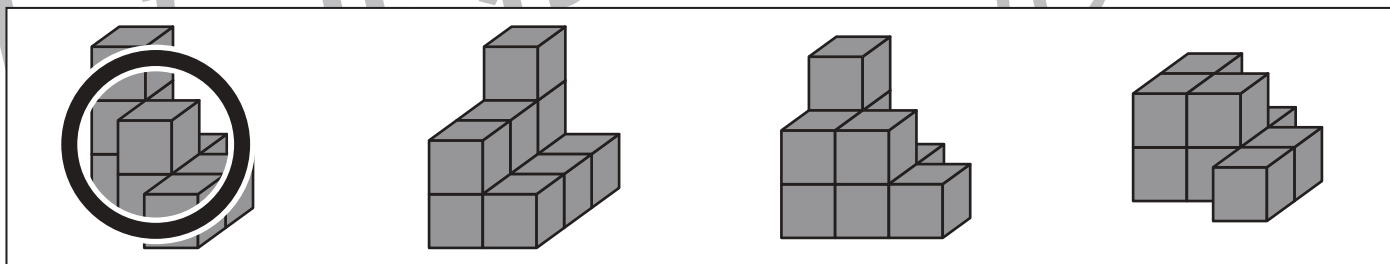
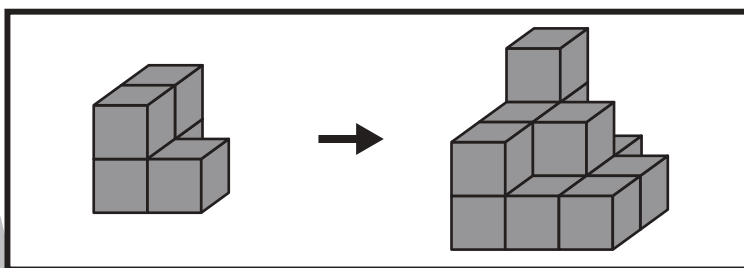
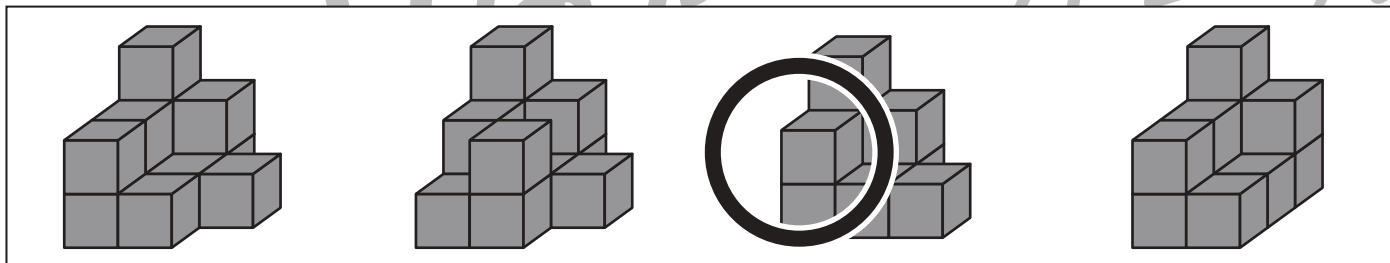
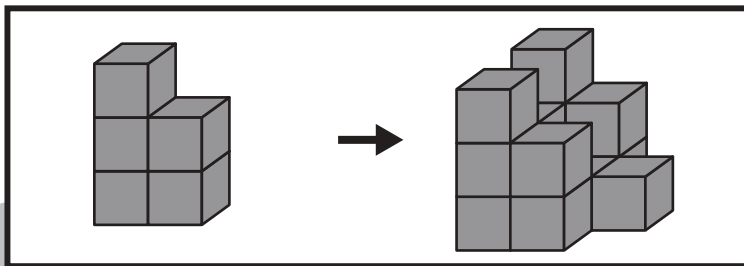
おうちで、やろう。

Study at home. 小学校受験の家庭学習教材

推理：積み木 23

太い四角の中の左にある積み木を、別の積み木と組み合わせて右のように形を変えました。

左の積み木にどの形の積み木を組み合わせたかを考え、下の四角の中から正しいものを選び○をつけます。



※1. このプリントは、しながわ・目黒こどもスクールのウェブサイトでダウンロードができます。無断複写・引用はご遠慮ください。
※2. このプリントを活用したオンライン授業のスケジュールは、しながわ・目黒こどもスクールのウェブサイトでご確認ください。











おうちで、やろう。













Study at home. 小学校受験の家庭学習教材

数量：同数 17

上の果物の数をかぞえます。

それぞれの果物の数と白色の星の数と同じ四角をみつけて、それぞれの果物の四角の左上にある記号をつけます。

※1. このプリントは、しながわ・目黒こどもスクールのウェブサイトでダウンロードができます。無断複写・引用はご遠慮ください。

※2. このプリントを活用したオンライン授業のスケジュールは、しながわ・目黒こどもスクールのウェブサイトでご確認ください。