



# おうちで、やろう。

Study at home. 小学校受験の家庭学習教材

常識：道具 5

- ①寒いときに使うものに○をつけます。
- ②泳ぐときに使うものに×をつけます。
- ③物を切るときに使うものに◎をつけます。

目黒



※1. このプリントは、しながわ・目黒こどもスクールのウェブサイトからダウンロードできます。無断複写・引用はご遠慮ください。  
※2. このプリントを活用したオンライン授業のスケジュールは、しながわ・目黒こどもスクールのウェブサイトでご確認ください。





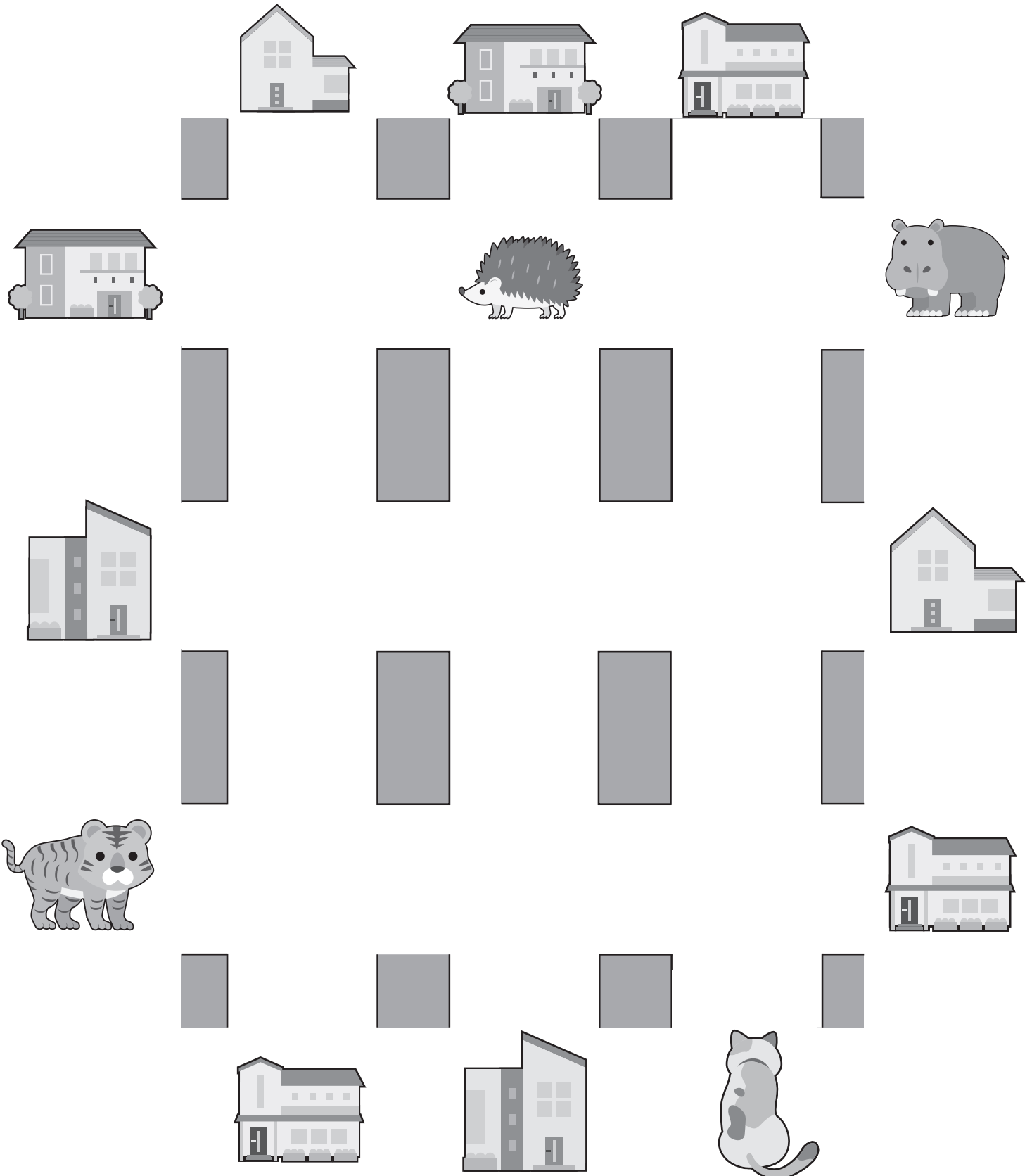
# おうちで、やろう。

Study at home. 小学校受験の家庭学習教材

## 推理：地図の移動 4

動物たちが家に向かって進みます。着いた家にそれぞれ印をつけます。

- ①ネコくんはまっすぐ進んで2つ目の交差点を左に曲がってまっすぐ進んだ先にある家に入りました。その家に○をつけます。
- ②カバさんは1つ目の交差点を左に曲がって2つ目の交差点を右に曲がりました。その後、2つ目の交差点を右に曲がってまっすぐ進んだ先にある家に入りました。その家に×をつけます。
- ③トラくんはまっすぐ進んで2つ目の交差点を左に曲がってまっすぐ進んでハリネズミさんに会いました。ハリネズミさんのいた交差点を右に曲がって、またすぐ1つ目の交差点を左に曲がって家に入りました。その家に△をつけます。



※1. このプリントは、しながわ・目黒こどもスクールのウェブサイトダウンロードができます。無断複写・引用はご遠慮ください。

※2. このプリントを活用したオンライン授業のスケジュールは、しながわ・目黒こどもスクールのウェブサイトでご確認ください。



# おうちで、やろう。

Study at home. 小学校受験の家庭学習教材

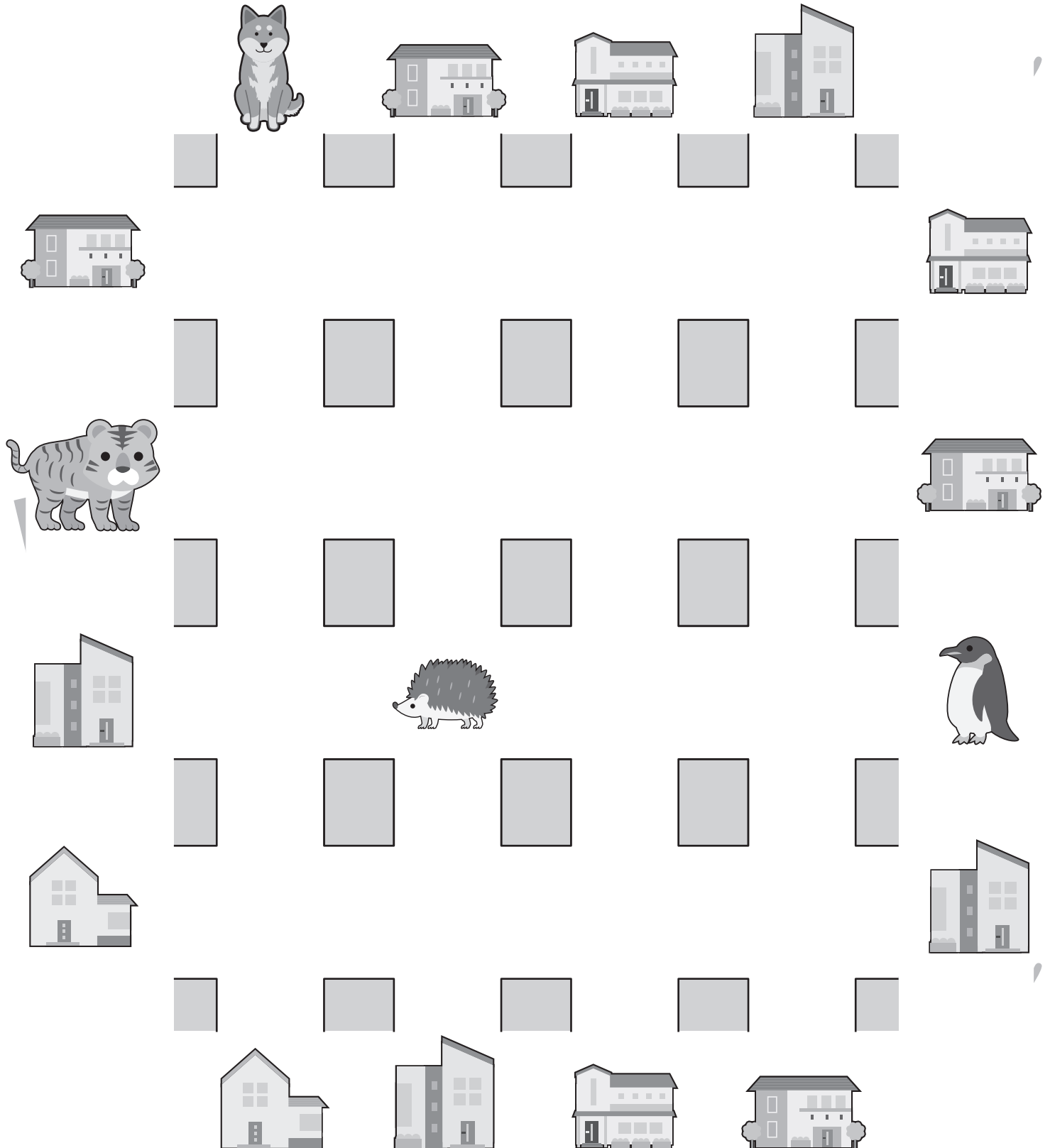
## 推理：地図の移動 5

動物たちが家に向かって進みます。着いた家にそれぞれ印をつけます。

①ペンギンくんはまっすぐ進んで2つ目の交差点を右に曲がって2つ目の交差点を左に曲がってまっすぐ進んだ家に入りました。その家に○をつけます。

②トラくんはまっすぐ進んで3つ目の交差点を右に曲がって2つ目の交差点を左に曲がってまっすぐ進んだ家に入りました。その家に×をつけます。

③イヌさんはまっすぐ進んで3つ目の交差点を左に曲がってハリネズミさんに会いました。ハリネズミさんのいた交差点を右に曲がってまたすぐ1つ目の交差点を右に曲がってまっすぐ進んだ家に入りました。その家に△をつけます。



※1. このプリントは、しながわ・目黒こどもスクールのウェブサイトでダウンロードができます。無断複写・引用はご遠慮ください。

※2. このプリントを活用したオンライン授業のスケジュールは、しながわ・目黒こどもスクールのウェブサイトでご確認ください。





# おうちで、やろう。









Study at home. 小学校受験の家庭学習教材

数量：すごろく 13









太い四角が約束です。○の数だけ前に進んで×の数だけ後ろに戻ります。





黒い星から約束の通りに○の中の順番で進むと白い星があるマスに到着します。白い星に到着するためには空いているマスになんの動物が入ればよいかを考えて、下の四角の中の動物から選び○をつけます。

 → ○○	 → ○○○	 → ×	 → ××
---	---	---	--

	→		→		→		→		→	
										

			
---	---	--	---

	→		→		→		→		→	
										
										

			
---	---	--	---

※1. このプリントは、しながわ・目黒こどもスクールのウェブサイトでダウンロードができます。無断複写・引用はご遠慮ください。

※2. このプリントを活用したオンライン授業のスケジュールは、しながわ・目黒こどもスクールのウェブサイトでご確認ください。













# おうちで、やろう。

Study at home. 小学校受験の家庭学習教材











数量：すごろく 14





太い四角が約束です。○の数だけ前に進んで×の数だけ後ろに戻ります。  
黒い星から約束の通りに○の中の順番で進むと白い星があるマスに到着します。白い星に到着するためには空いているマスになんの動物が入ればよいかを考えて、下の四角の中の動物から選び○をつけます。

 → ○○	 → ○○○	 → ×	 → ××
---	---	---	--

	→		→		→		→		→		→		→	
														
														

			
---	---	--	---

	→		→		→		→		→		→		→	
														
														

			
---	---	--	---

※1. このプリントは、しながわ・目黒こどもスクールのウェブサイトでダウンロードができます。無断複写・引用はご遠慮ください。  
※2. このプリントを活用したオンライン授業のスケジュールは、しながわ・目黒こどもスクールのウェブサイトでご確認ください。

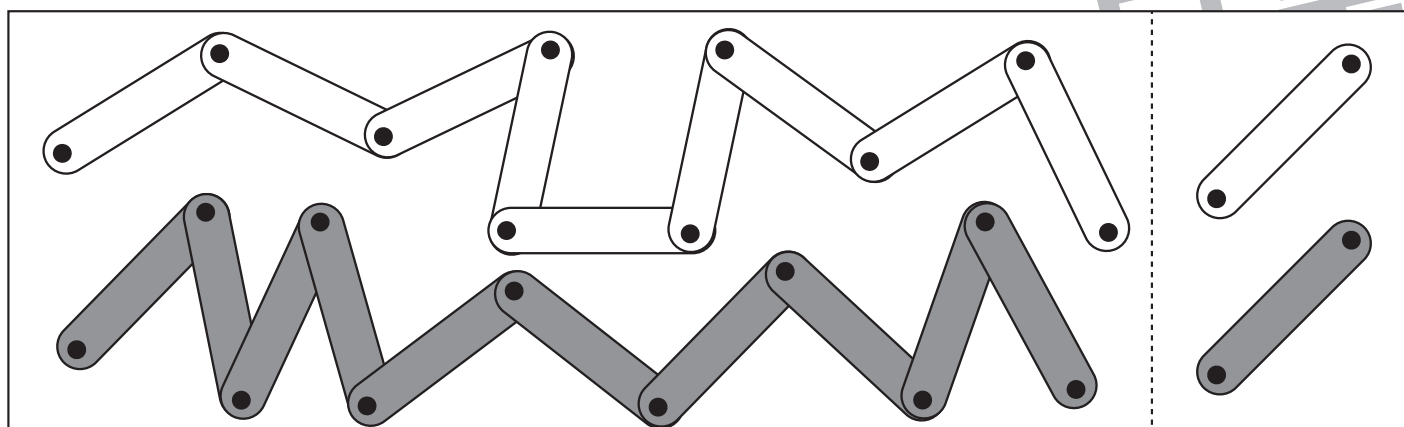
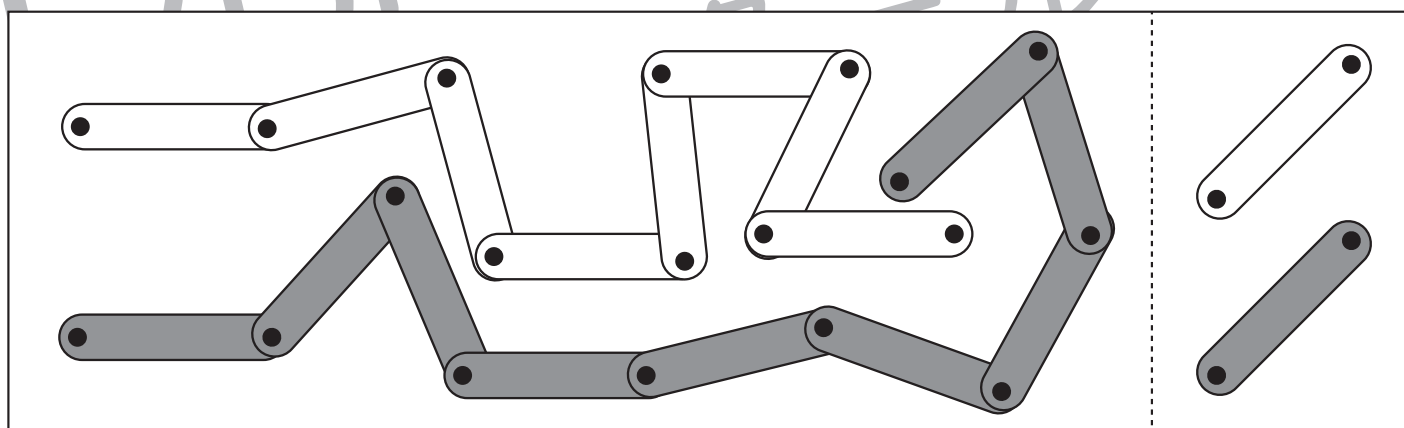
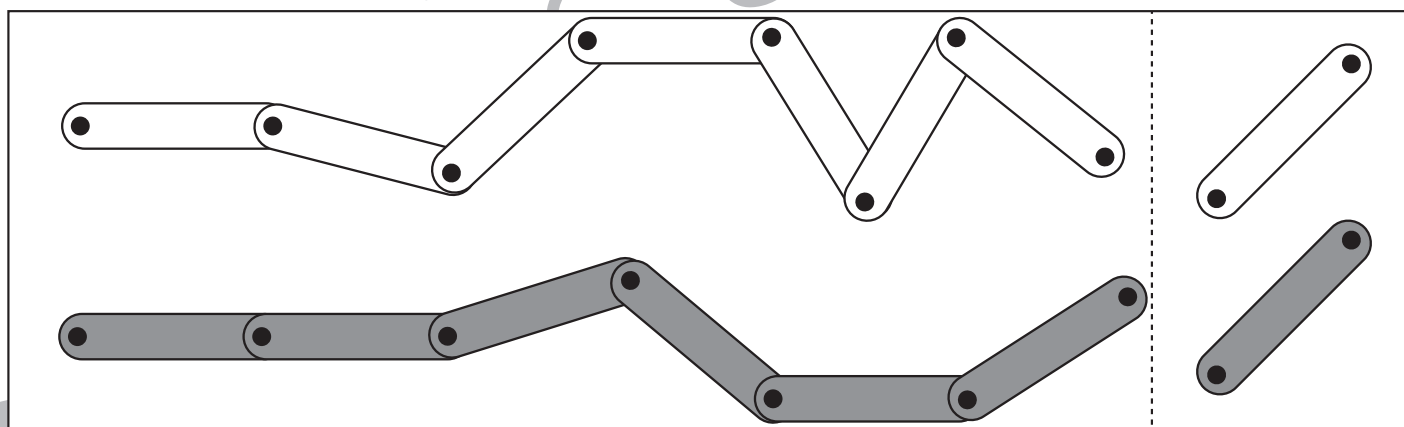
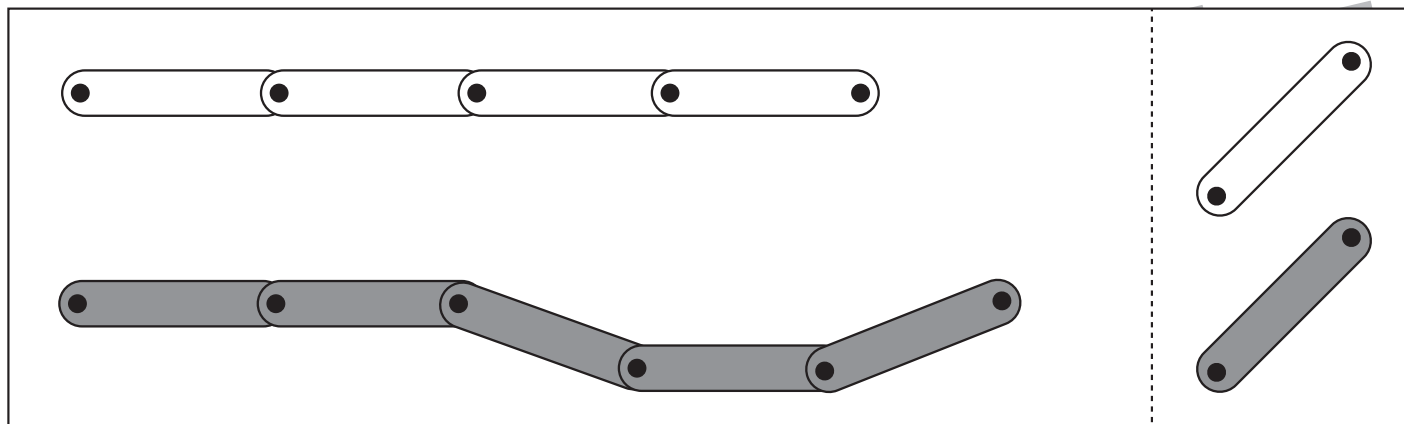


# おうちで、やろう。

Study at home. 小学校受験の家庭学習教材

数量：長さ4

同じ色の部品を組み合わせて長い道をつくりました。どちらの色の方が長いかを考えて、点線の右の部品に○をつけましょう。



※1. このプリントは、しながわ・目黒こどもスクールのウェブサイトでダウンロードができます。無断複写・引用はご遠慮ください。

※2. このプリントを活用したオンライン授業のスケジュールは、しながわ・目黒こどもスクールのウェブサイトでご確認ください。

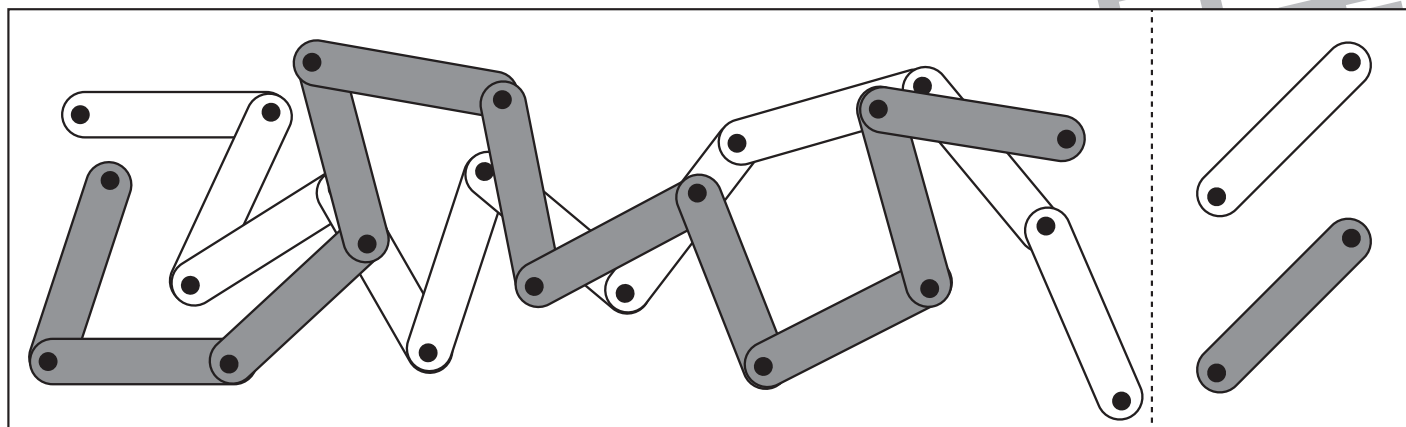
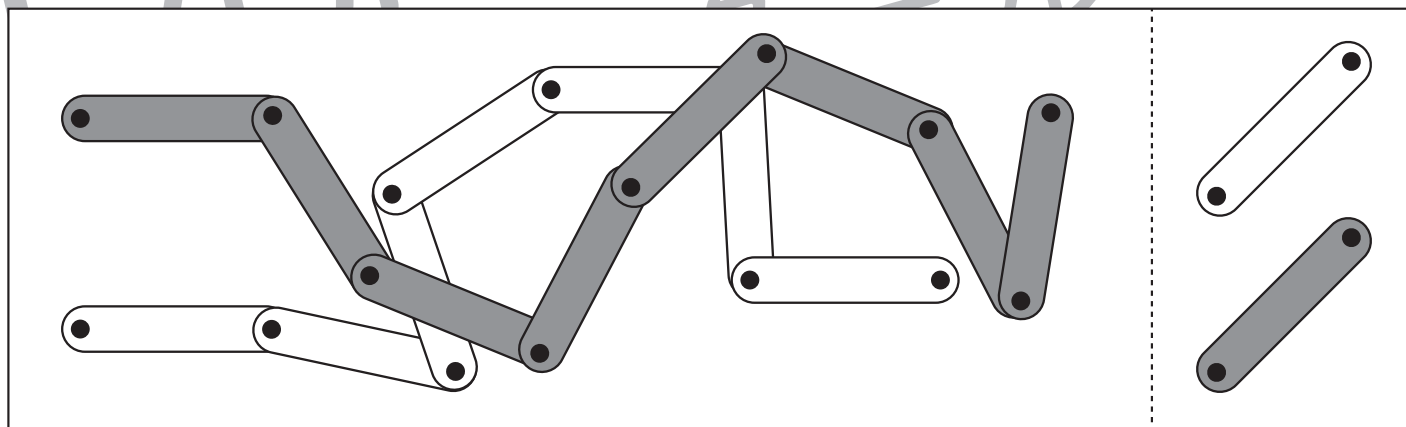
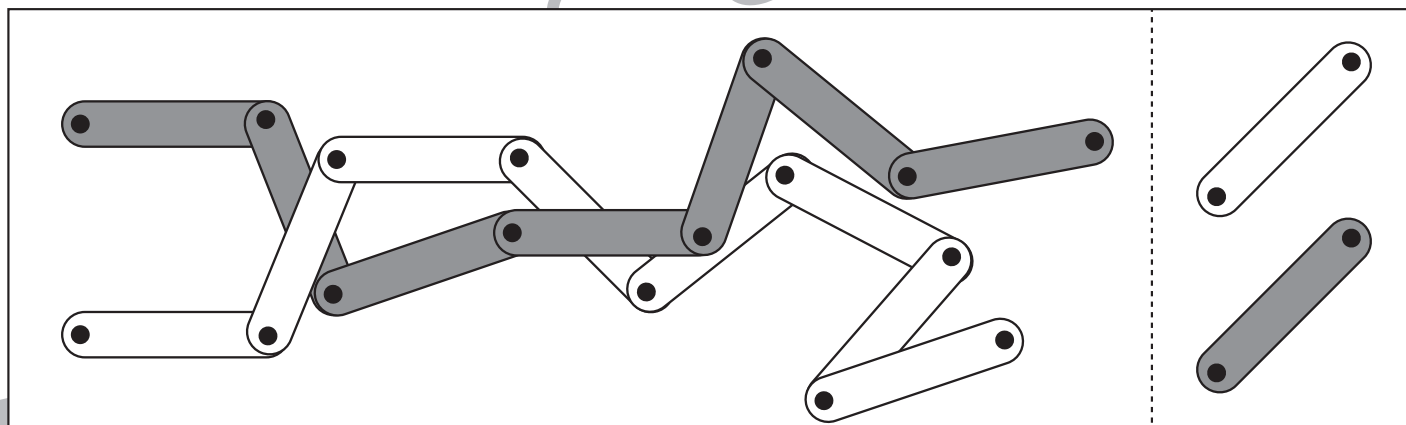
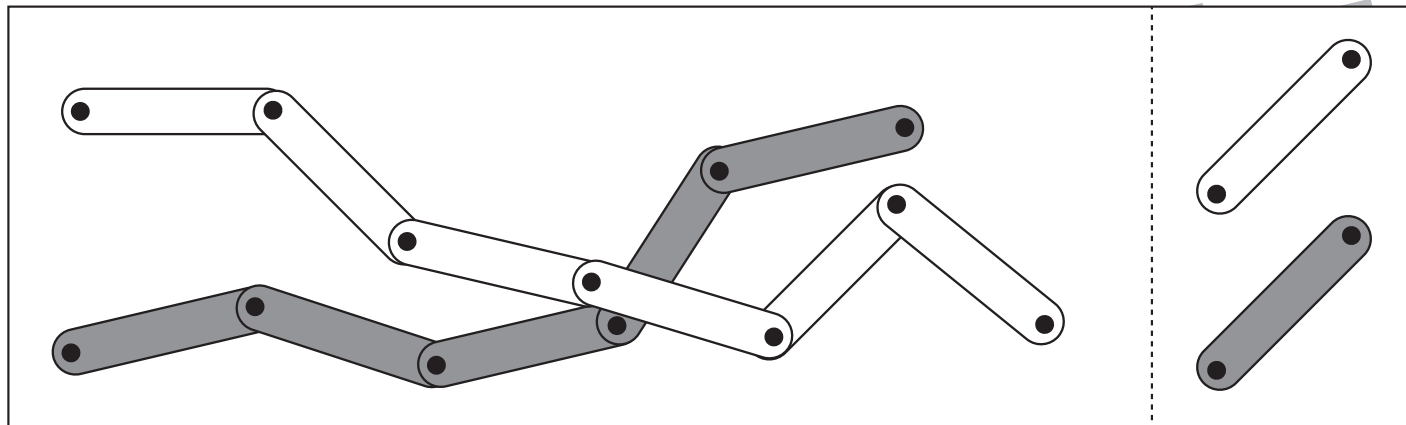


# おうちで、やろう。

Study at home. 小学校受験の家庭学習教材

数量：長さ5

同じ色の部品を組み合わせて長い道をつくりました。どちらの色の方が長いかを考えて、点線の右の部品に○をつけましょう。



※1. このプリントは、しながわ・目黒こどもスクールのウェブサイトからダウンロードできます。無断複写・引用はご遠慮ください。

※2. このプリントを活用したオンライン授業のスケジュールは、しながわ・目黒こどもスクールのウェブサイトでご確認ください。

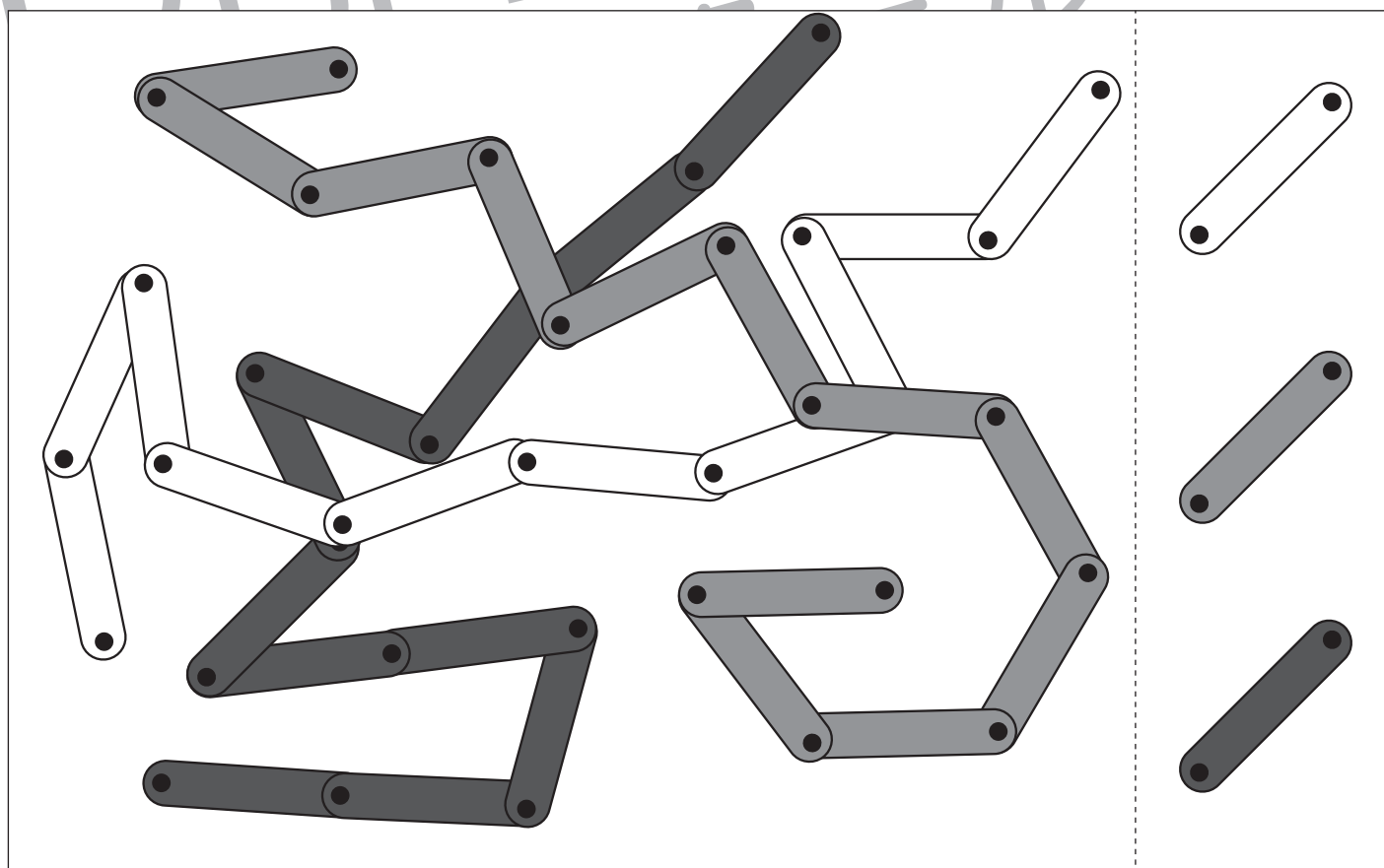
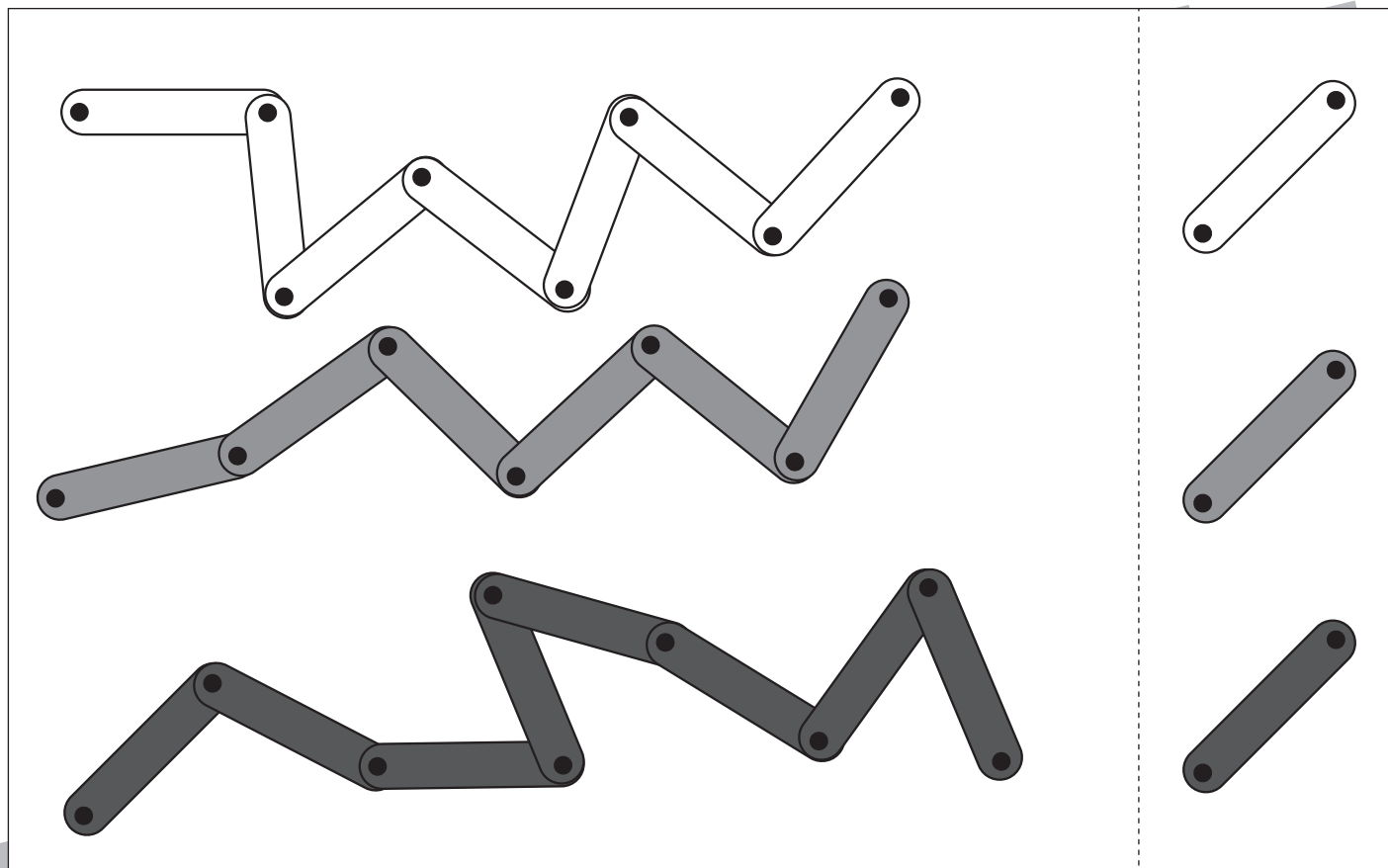


# おうちで、やろう。

Study at home. 小学校受験の家庭学習教材

数量：長さ6

同じ色の部品を組み合わせて長い道をつくりました。一番長い色を覚えて点線の右の部品に○をつけましょう。



※1. このプリントは、しながわ・目黒こどもスクールのウェブサイトからダウンロードできます。無断複写・引用はご遠慮ください。  
※2. このプリントを活用したオンライン授業のスケジュールは、しながわ・目黒こどもスクールのウェブサイトでご確認ください。



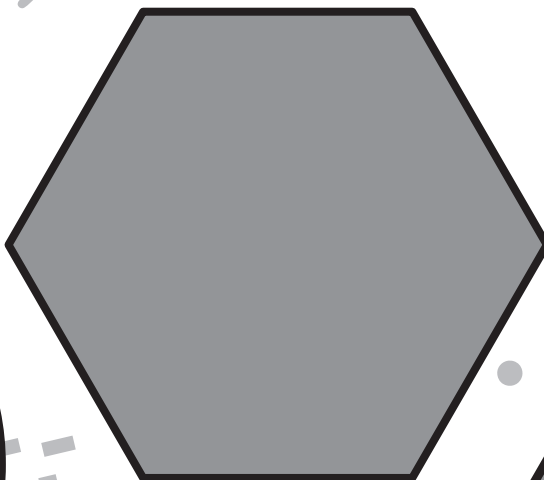

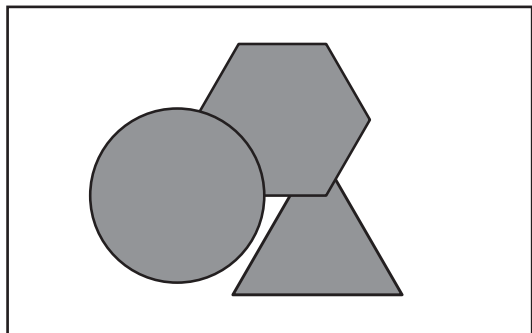


# おうちで、やろう。

Study at home. 小学校受験の家庭学習教材

巧緻性：はさみ 4

- ①点線のところをはさみで切ります。
  - ②切った下の部分にある灰色の○、△、□をはさみで切ります。
  - ③切った上の部分にある形の中に左上のお手本と同じになるようにのりで貼ります。
- ※この問題に解答はありません。



※1. このプリントは、しながわ・目黒こどもスクールのウェブサイトでダウンロードができます。無断複写・引用はご遠慮ください。  
※2. このプリントを活用したオンライン授業のスケジュールは、しながわ・目黒こどもスクールのウェブサイトでご確認ください。



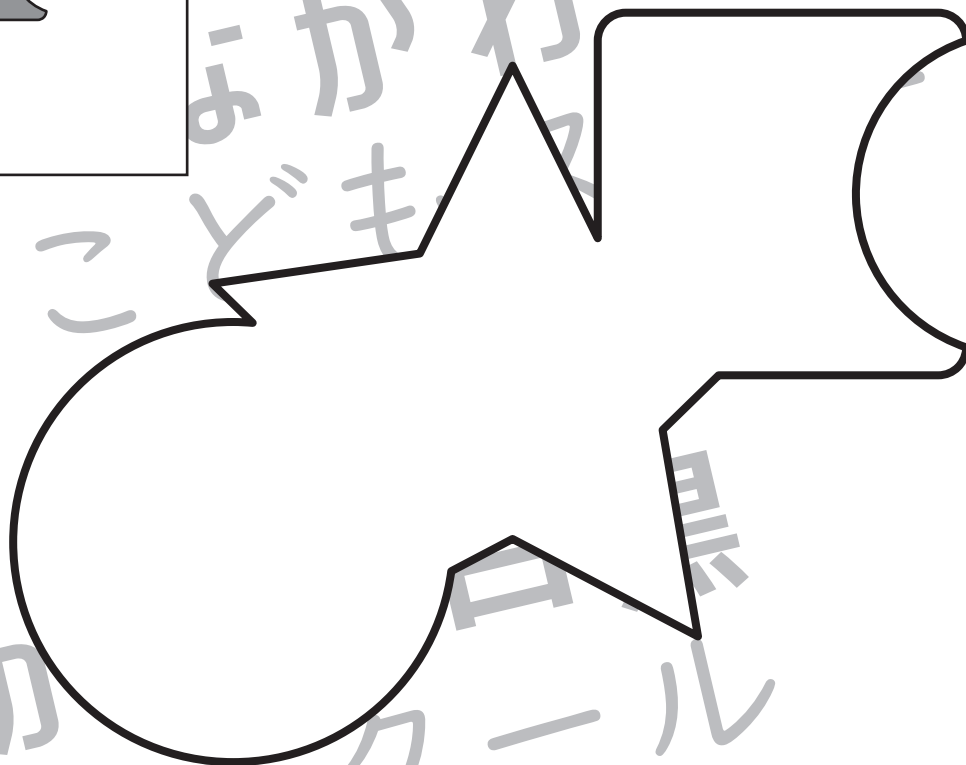
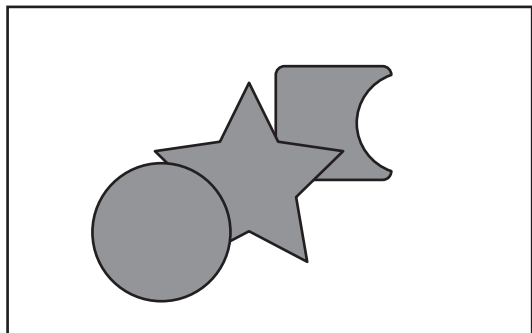


# おうちで、やろう。

Study at home. 小学校受験の家庭学習教材

巧緻性：はさみ5

- ①点線のところをはさみで切ります。
  - ②切った下の部分にある灰色の○、△、□をはさみで切ります。
  - ③切った上の部分にある形の中に左上のお手本と同じになるようにのりで貼ります。
- ※この問題に解答はありません。



※1. このプリントは、しながわ・目黒こどもスクールのウェブサイトでダウンロードができます。無断複写・引用はご遠慮ください。  
※2. このプリントを活用したオンライン授業のスケジュールは、しながわ・目黒こどもスクールのウェブサイトでご確認ください。