



おうちで、やろう。

Study at home. 小学校受験の家庭学習教材

記憶：絵の記憶 25 記憶用紙

別紙『記憶 - 絵の記憶 25』を行う際に使用します。記憶用紙は点線で折り、①、②、③の問題の際にそれぞれ 20 秒間ずつ記憶させてください。記憶する際は問題用紙は裏返しにします。

それぞれお手本と同じになるように足りないところをかきます。

目黒

①

②

--	--

③

--	--	--	--

※ 1. このプリントは、しながわ・目黒こどもスクールのウェブサイトダウンロードができます。無断複写・引用はご遠慮ください。

※ 2. このプリントを活用したオンライン授業のスケジュールは、しながわ・目黒こどもスクールのウェブサイトでご確認ください。



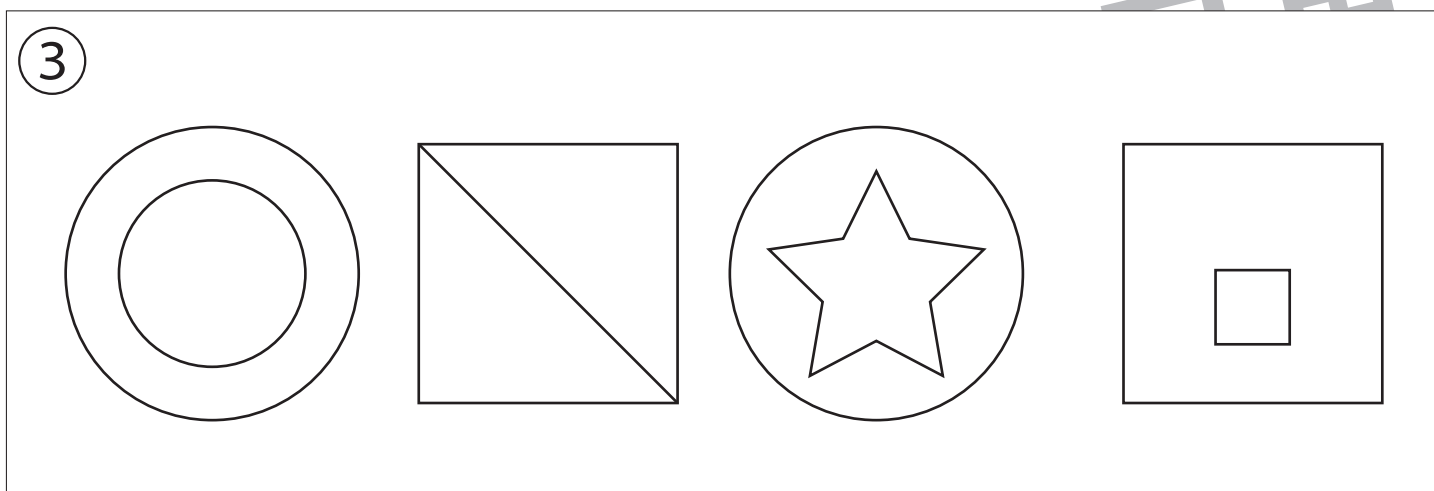
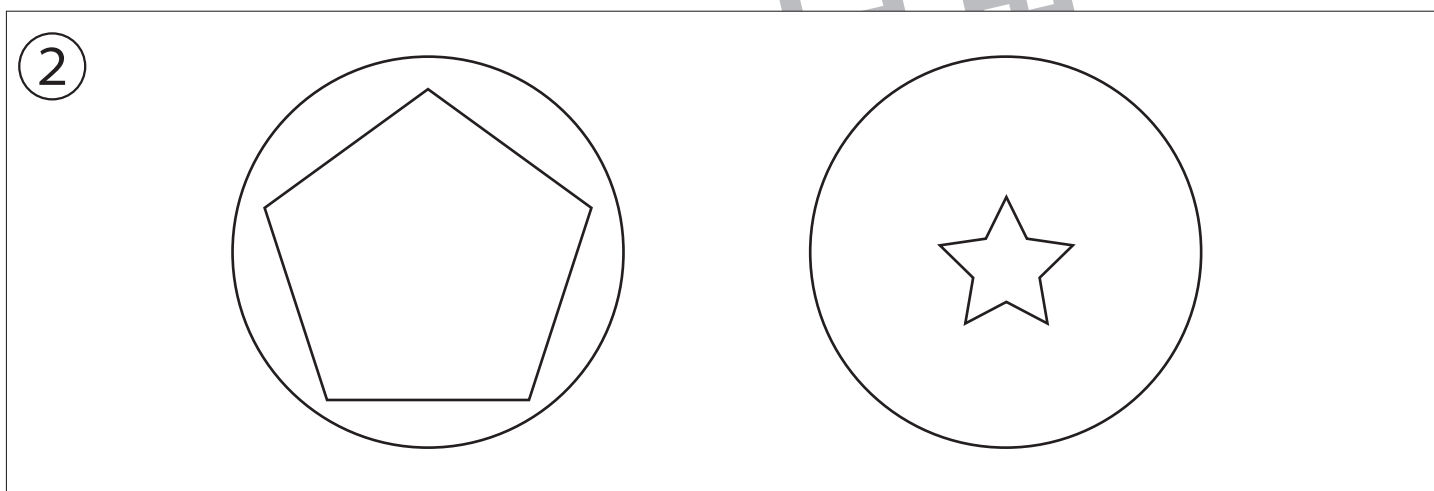
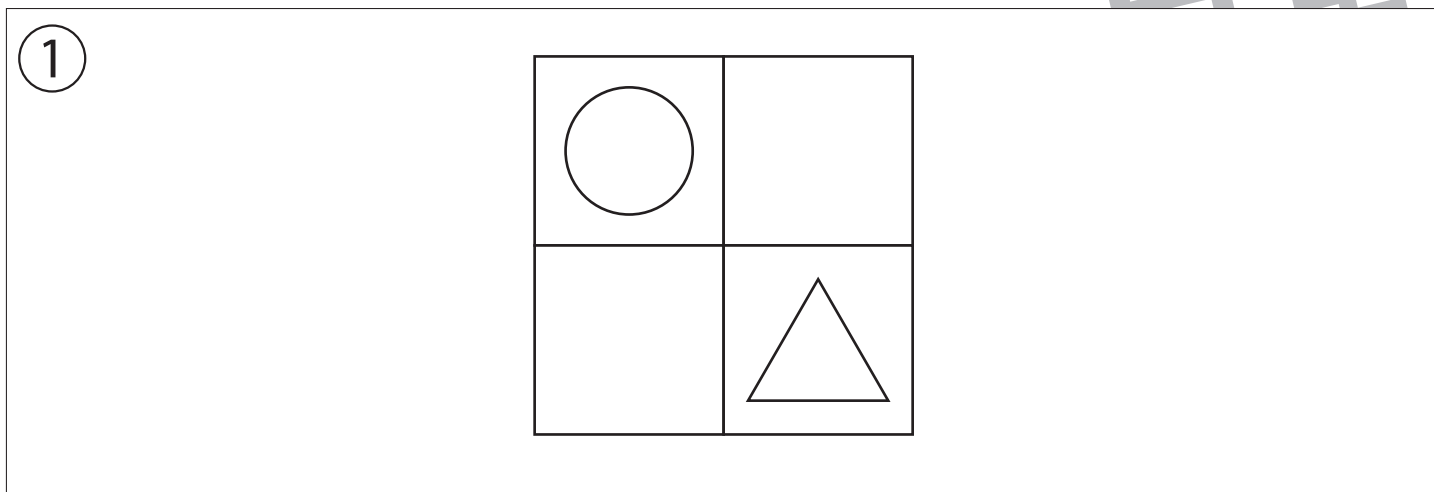
おうちで、やろう。

Study at home. 小学校受験の家庭学習教材

記憶：絵の記憶 25

別紙『記憶 - 絵の記憶 25 (記憶用紙)』を行う際に使用します。記憶用紙の①～③をそれぞれ 20 秒ずつ記憶してから取り組みます。それぞれお手本と同じになるようにかきます。

※この問題の解答は記憶用紙で確認してください。



※1. このプリントは、しながわ・目黒こどもスクールのウェブサイトでダウンロードができます。無断複写・引用はご遠慮ください。

※2. このプリントを活用したオンライン授業のスケジュールは、しながわ・目黒こどもスクールのウェブサイトでご確認ください。







おうちで、やろう。

Study at home. 小学校受験の家庭学習教材

常識：仲間探し2

太い四角の中の絵と仲間のものを見つけて○をつけます。



※1. このプリントは、しながわ・目黒こどもスクールのウェブサイトからダウンロードできます。無断複写・引用はご遠慮ください。
 ※2. このプリントを活用したオンライン授業のスケジュールは、しながわ・目黒こどもスクールのウェブサイトでご確認ください。



おうちで、やろう。

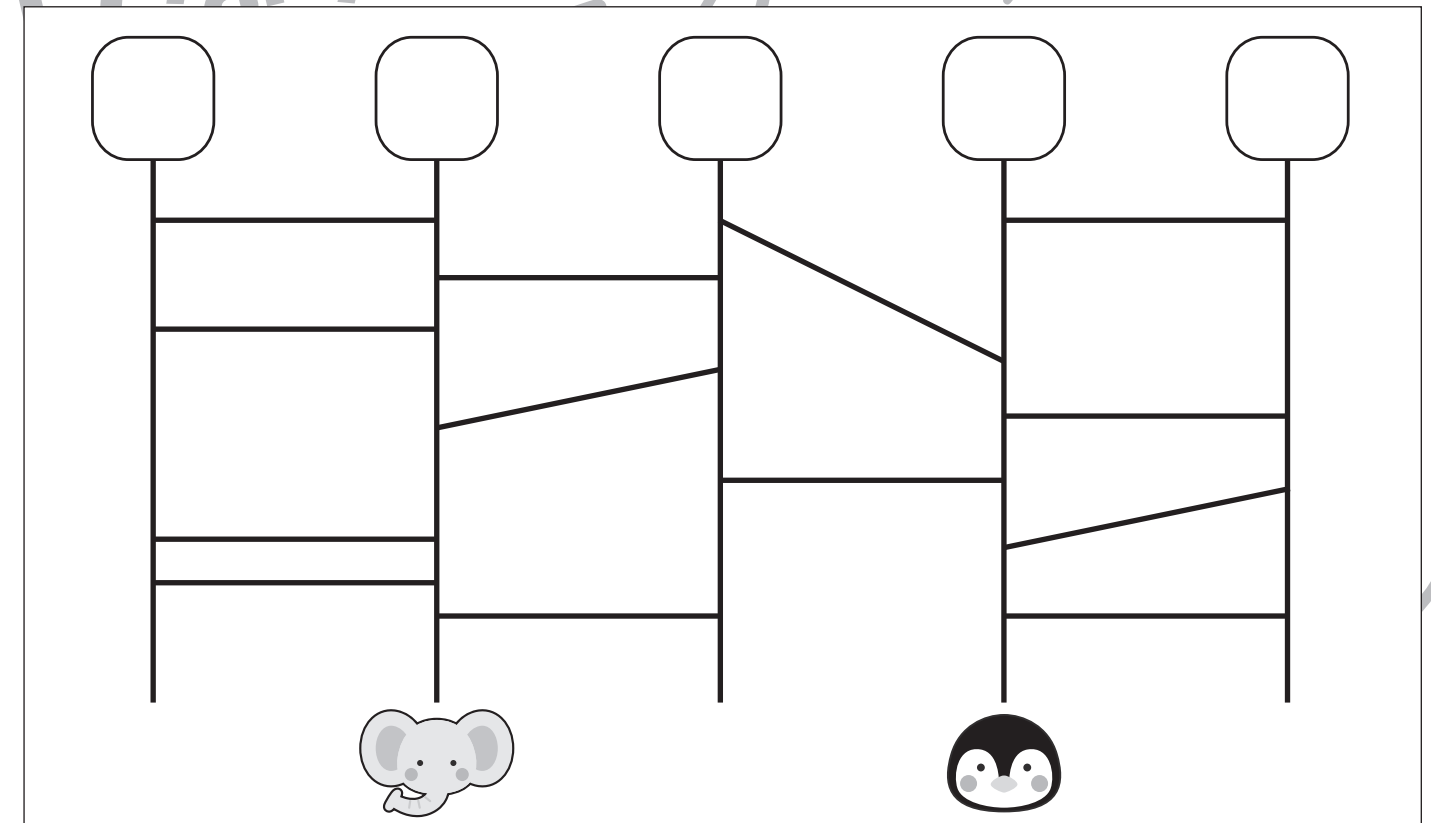
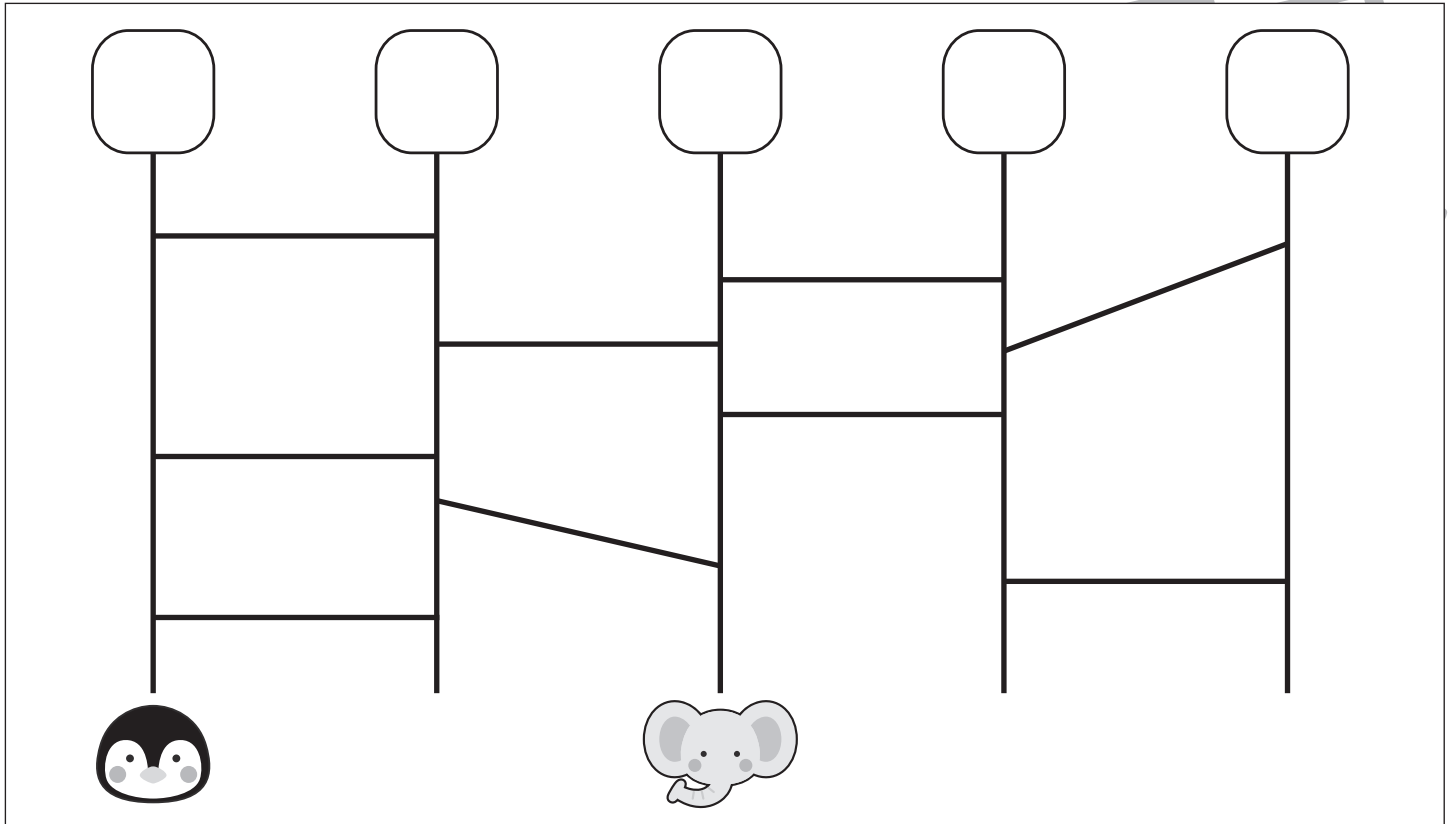
Study at home. 小学校受験の家庭学習教材

推理：あみだくじ 11

ペンギンとゾウは上の四角からスタートをして、あみだくじを進みペンギンとゾウがいる場所につきました。

どの四角から進んだのかを考えて、その四角にペンギンは○を、ゾウは△をかきます。

※あみだくじのルール：①上から下へ進みます。道は戻ってはいけません。②途中で曲がり角があったら必ず曲がります。



※1. このプリントは、しながわ・目黒こどもスクールのウェブサイトでダウンロードができます。無断複写・引用はご遠慮ください。
※2. このプリントを活用したオンライン授業のスケジュールは、しながわ・目黒こどもスクールのウェブサイトでご確認ください。



おうちで、やろう。

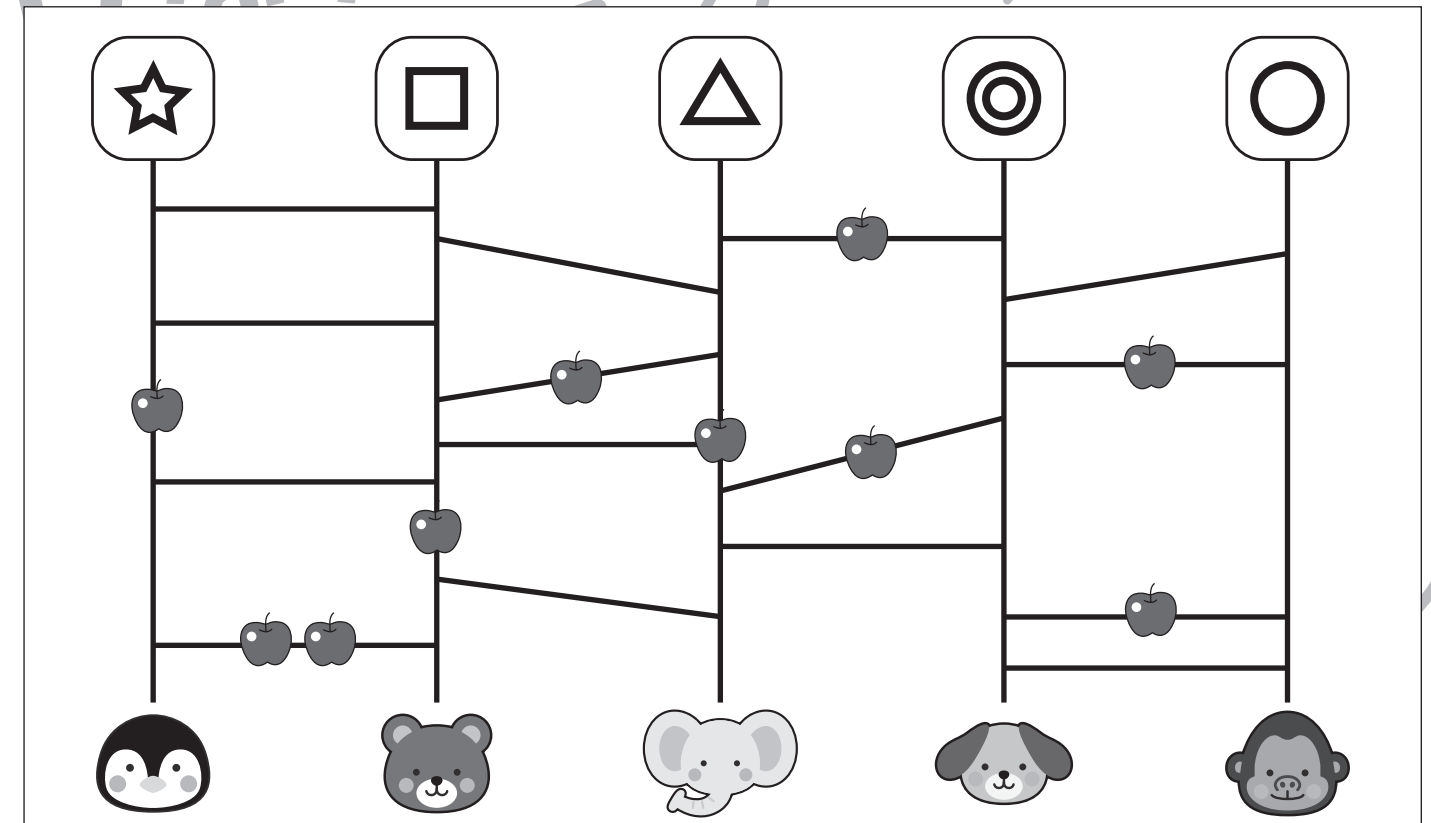
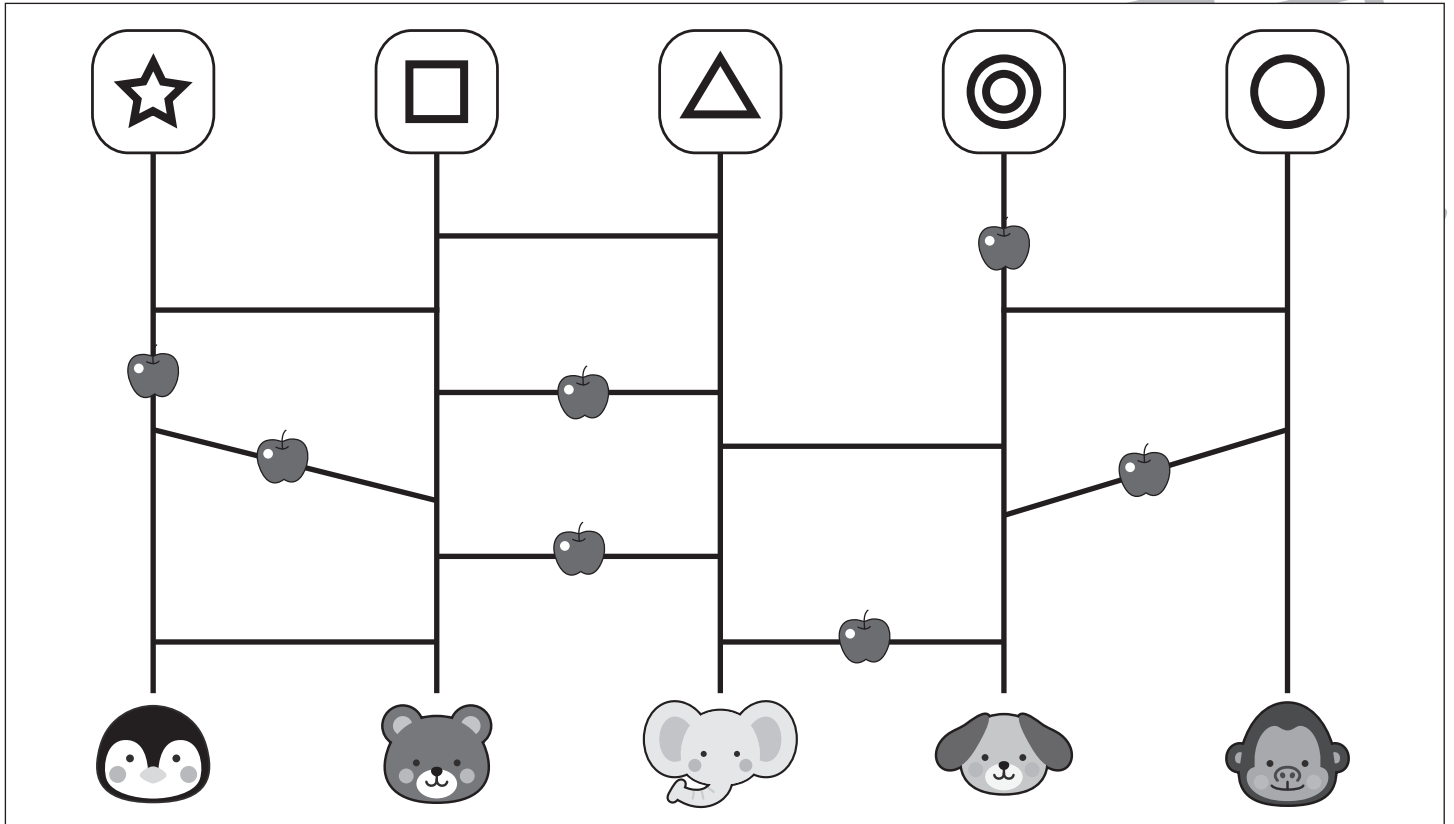
Study at home. 小学校受験の家庭学習教材

推理：あみだくじ 12

動物たちがそれぞれの記号からリンゴを拾いながらあみだくじを進むと、動物の顔があります。

1 番リンゴを多く拾った動物はどれかを考えて、その動物に○をつけます。

※あみだくじのルール：①上から下へ進みます。道は戻ってはいけません。②途中で曲がり角があったら必ず曲がります。



※1. このプリントは、しながわ・目黒こどもスクールのウェブサイトでダウンロードができます。無断複写・引用はご遠慮ください。

※2. このプリントを活用したオンライン授業のスケジュールは、しながわ・目黒こどもスクールのウェブサイトでご確認ください。



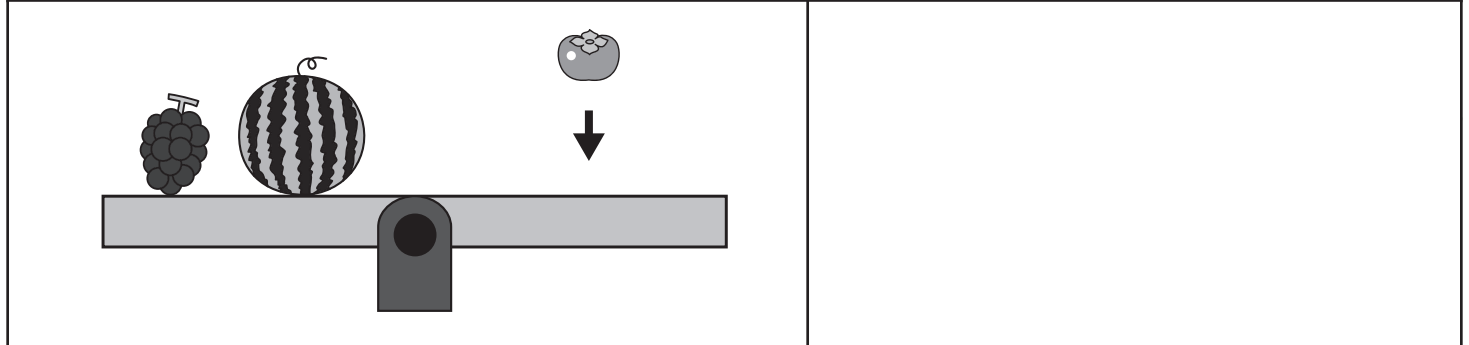
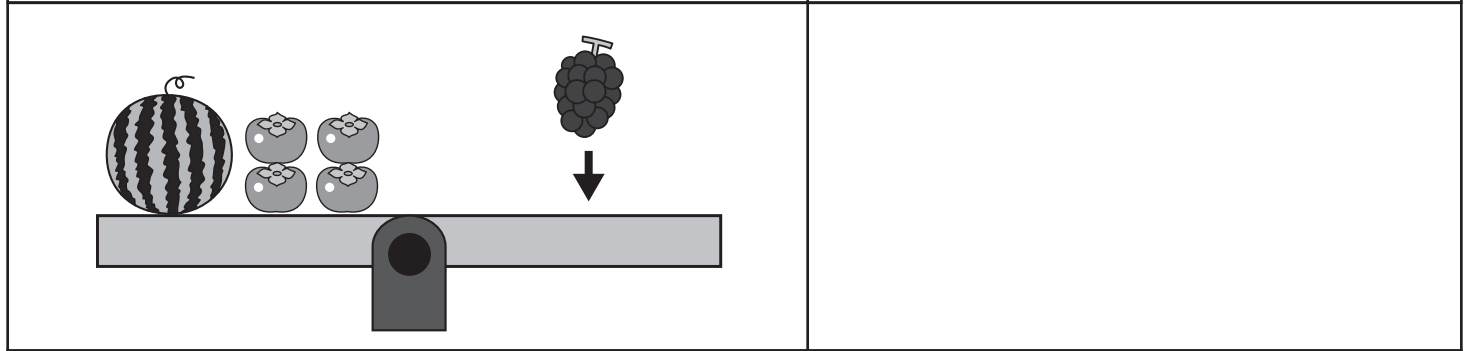
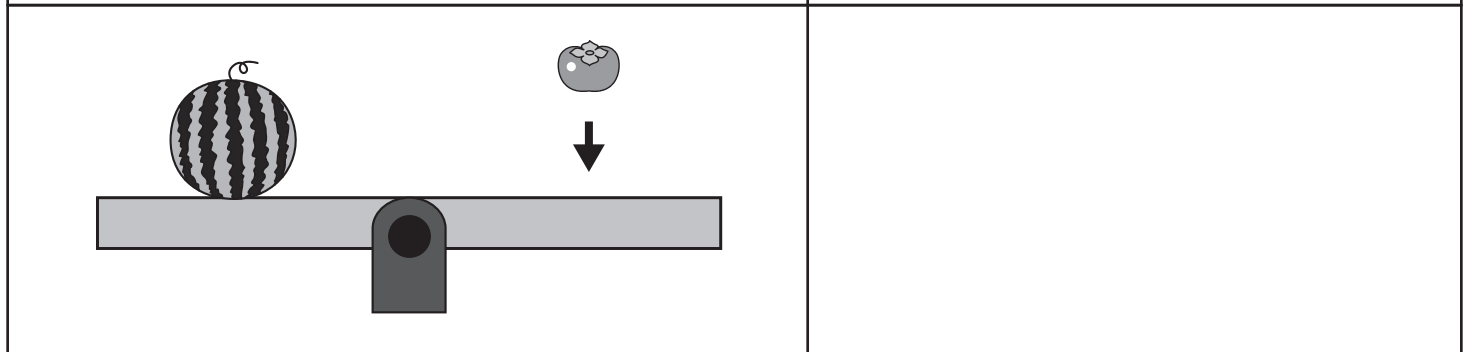
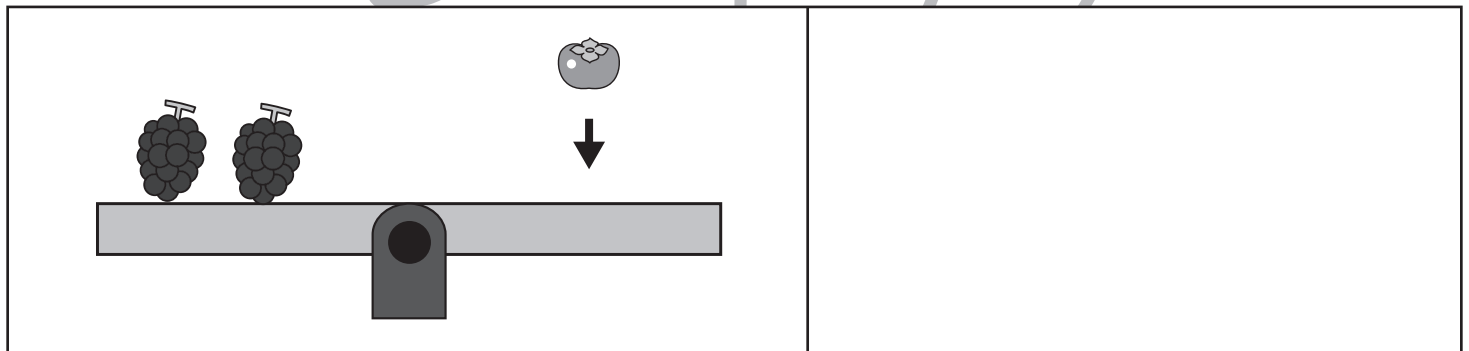
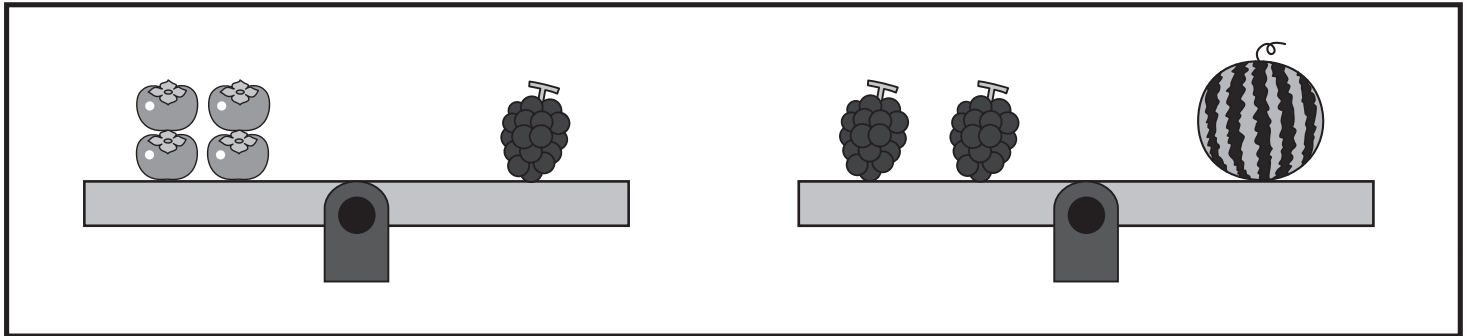
おうちで、やろう。

Study at home. 小学校受験の家庭学習教材

推理：重さの置き換え 14

上の太い四角の中が約束です。

シーソーが釣り合うためには矢印の上の果物をいくつ乗せればよいかを考えて、その数だけ右の四角に○をかきます。



※1. このプリントは、しながわ・目黒こどもスクールのウェブサイトでダウンロードができます。無断複写・引用はご遠慮ください。

※2. このプリントを活用したオンライン授業のスケジュールは、しながわ・目黒こどもスクールのウェブサイトでご確認ください。



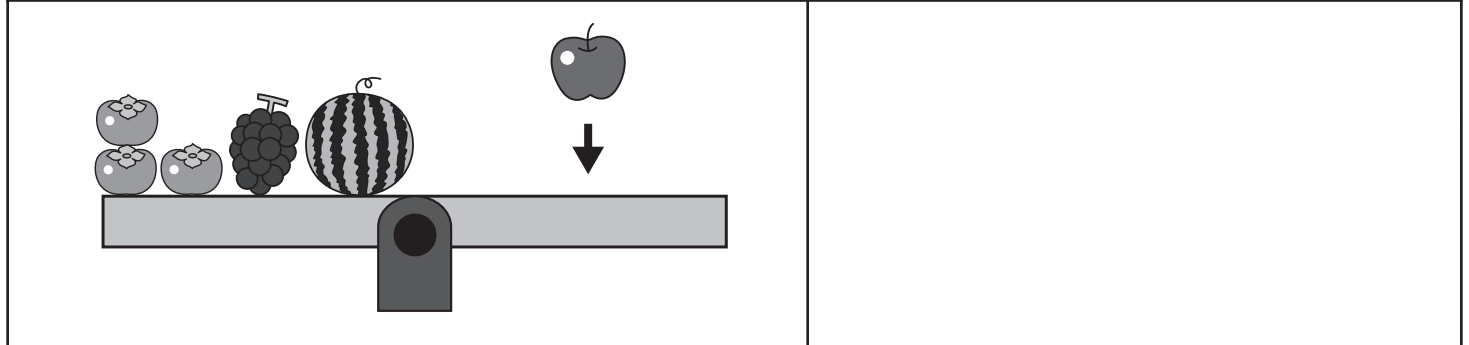
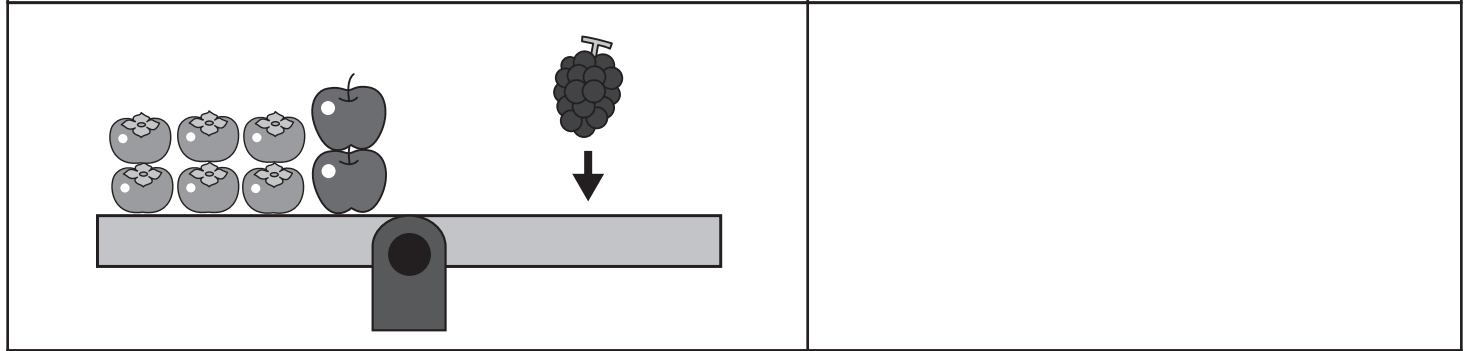
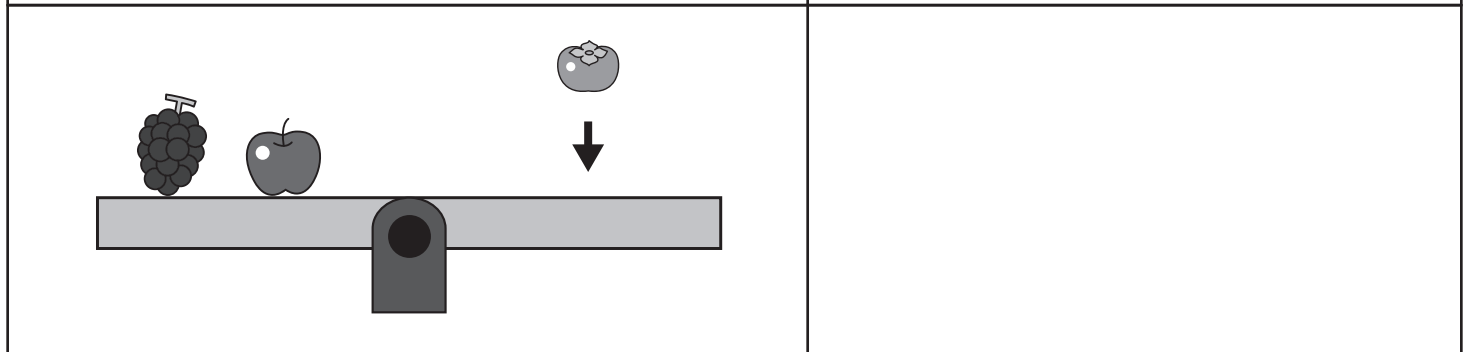
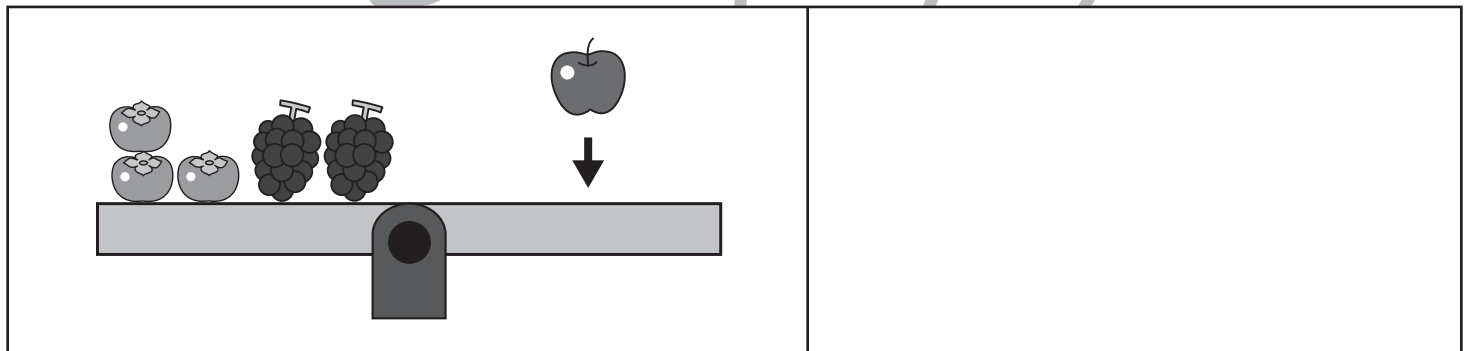

おうちで、やろう。

Study at home. 小学校受験の家庭学習教材

推理：重さの置き換え 15

上の太い四角の中が約束です。

シーソーが釣り合うためには矢印の上の果物をいくつ乗せればよいかを考えて、その数だけ右の四角に○をかきます。



※1. このプリントは、しながわ・目黒こどもスクールのウェブサイトでダウンロードができます。無断複写・引用はご遠慮ください。

※2. このプリントを活用したオンライン授業のスケジュールは、しながわ・目黒こどもスクールのウェブサイトでご確認ください。



おうちで、やろう。

Study at home. 小学校受験の家庭学習教材

推理：条件推理 16

ルールに沿って果物を拾います。拾った果物の数だけ下の四角に○をかきましょう。

<ルール>①縦・横・斜めの直線で矢印の方向に進みます。②進む方向は途中で変えられません。③一度拾った果物をもう一度拾うことはできません。

[]

[]

[]

[]

[]

[]

[]

[]

[]

※1. このプリントは、しながわ・目黒こどもスクールのウェブサイトでダウンロードができます。無断複写・引用はご遠慮ください。

※2. このプリントを活用したオンライン授業のスケジュールは、しながわ・目黒こどもスクールのウェブサイトでご確認ください。





おうちで、やろう。

Study at home. 小学校受験の家庭学習教材

処理：計数 18

大きな四角の中の絵を数えます。その数だけ下の四角に○をかきます。








※1. このプリントは、しながわ・目黒こどもスクールのウェブサイトでダウンロードができます。無断複写・引用はご遠慮ください。
※2. このプリントを活用したオンライン授業のスケジュールは、しながわ・目黒こどもスクールのウェブサイトでご確認ください。